



وزارة
التربية
الإدارة العامة لمنطقة الأحمدية التعليمية
مدرسة هدية الابتدائية بنين

• وسائل الوحدة (١٣)

WWW.KweduFiles.Com

للمصف الأول



• المعلمة : أمل موسى

إعداد

• رئيسة القسم : شيمه المطيري

إشراف

www.KweduFiles.Com


بند (۱۳ - ۱)



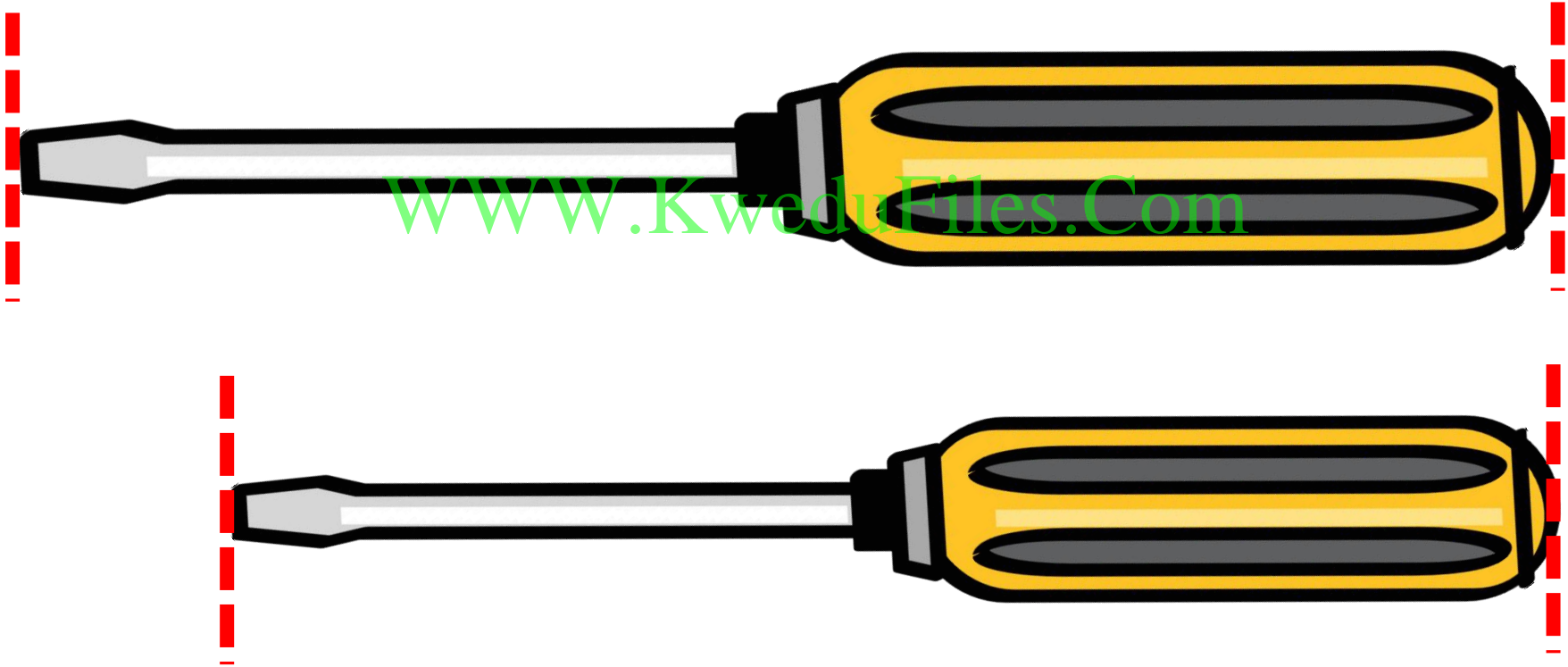
حوط الأَطول



www.kwedufiles.com



حوط الأَقصر



حوظ ما ياتي تاليا لإكمال النمط




قارن بين الأطوال ثم لون :

الأطول باللون و الأقصر باللون



WWW.KweduFiles.Com



حل المسألة

صل كل بطاقة بالشخصية المناسبة :



إذا كانت مي أطول من مها

ومها أقصر من رغد

ورغد أطول من مي

مها

مي

رغد

www.KweduFiles.Com

قياس الطول

بند (۱۳ - ۲)



استخدم أدوات القياس للقياس

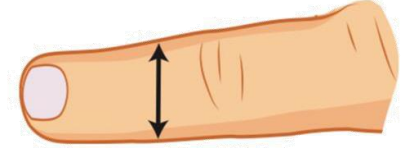


أدوات القياس

www.kwedufiles.com


تقريباً

تقريباً



تقريباً


تقريباً




للقياس



أو

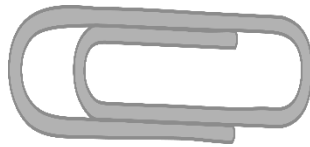


قدر. استخدم



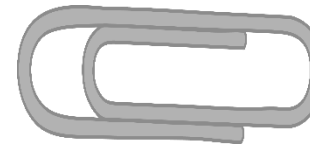
WWW.KweduFiles.Com

تقريباً



القياس —

تقريباً




التقدير —

للقياس



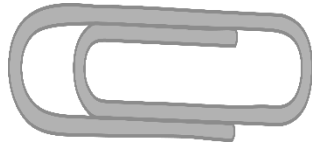
أو



قدر. استخدم

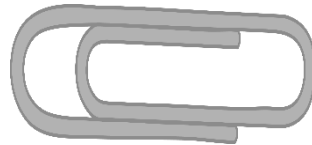


تقريباً




القياس


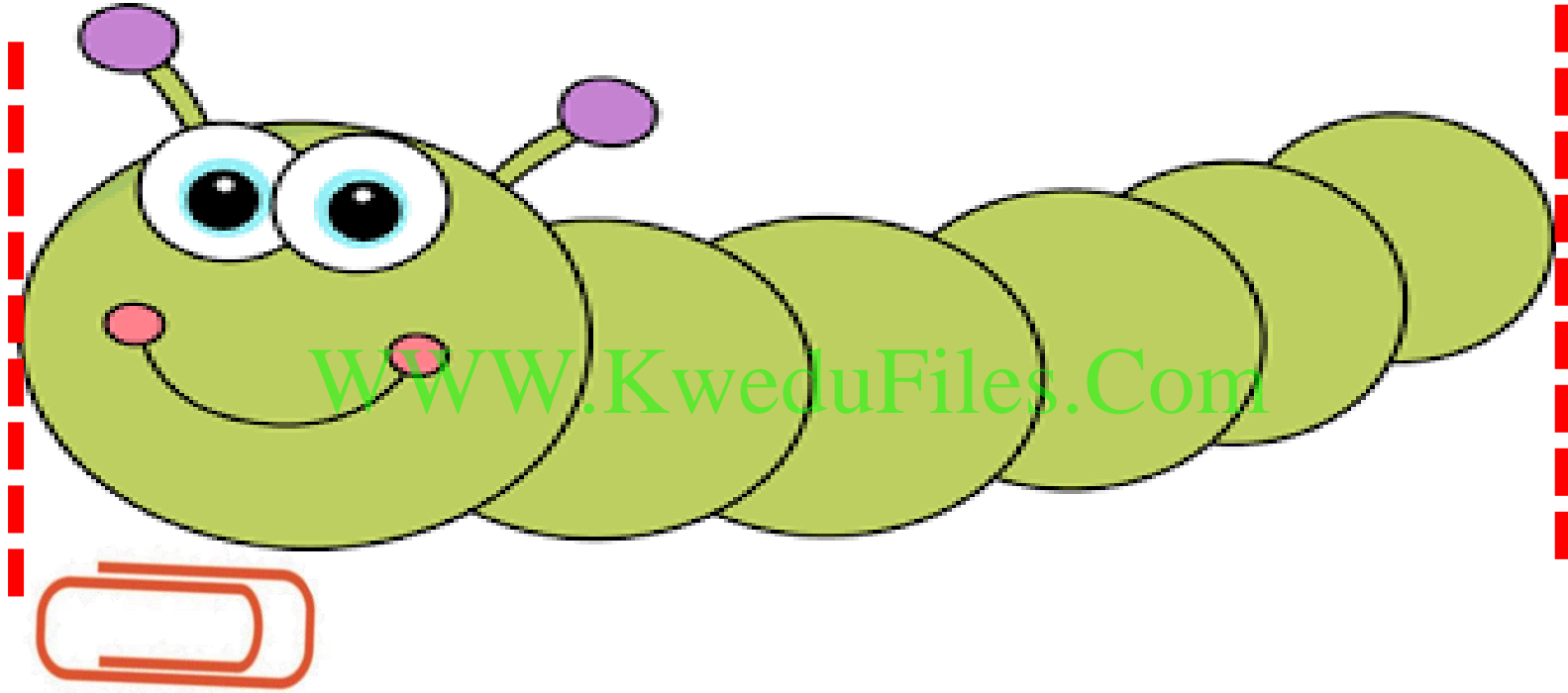
تقريباً




التقدير




حوط التقدير المناسب لقياس طول



١ ٤



٦



٣

• الوزن

WWW.KweduFiles.Com

بند (۳ - ۳)



قارن بين وزن الأشياء باستخدام اليدين

صل (أخف ، أثقل)



WWW.KweduFiles.Com


أثقل

أخف

قارن بين وزن الأشياء باستخدام اليدين



صل (أخف ، أثقل)




أثقل

أخف


WWW.KweduFiles.Com

قارن بين وزن الأشياء باستخدام اليدين

لون الأخرى

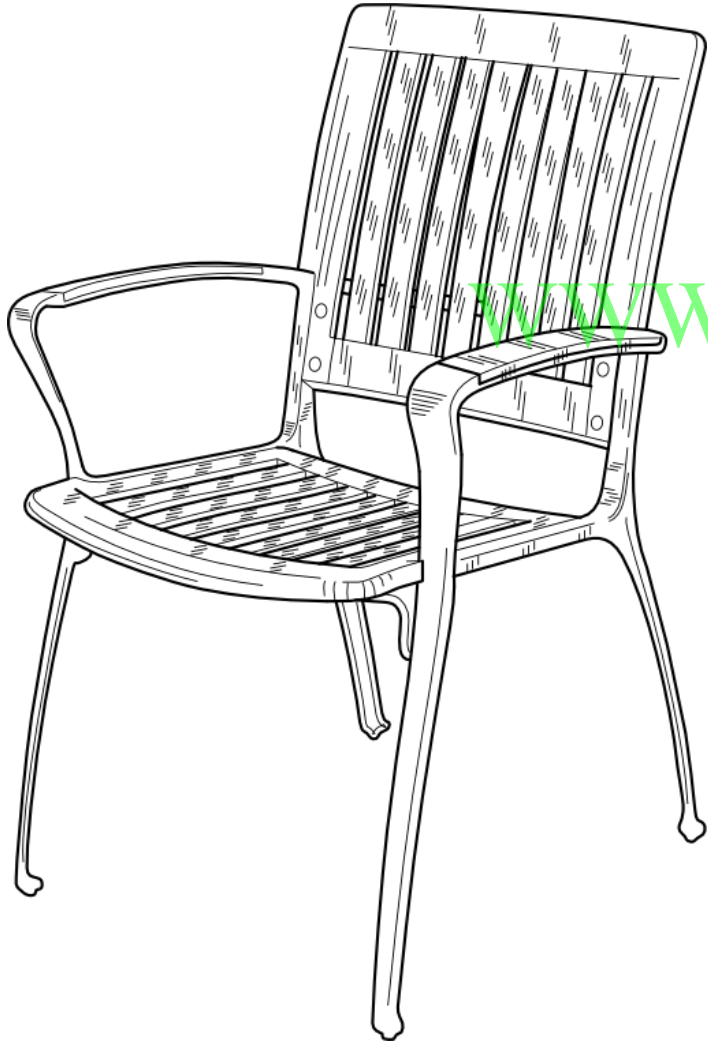


WWW.KweduFiles.Com

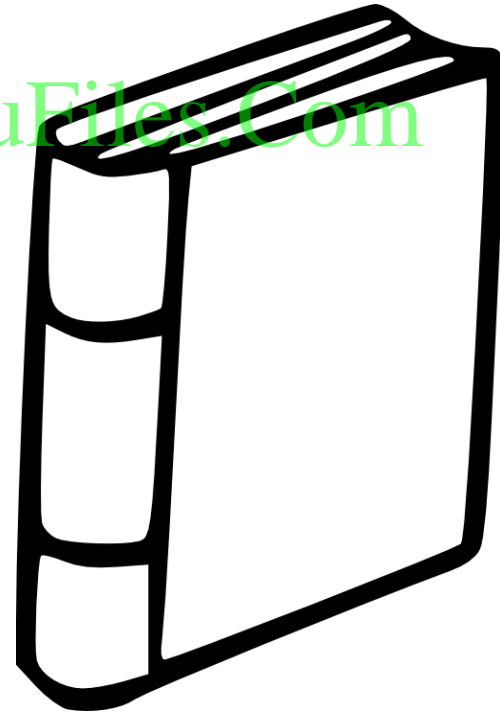


قارن بين وزن الأشياء باستخدام اليدين

نور الأثقل



WWW.KweduFiles.Com



حوط الأثقل



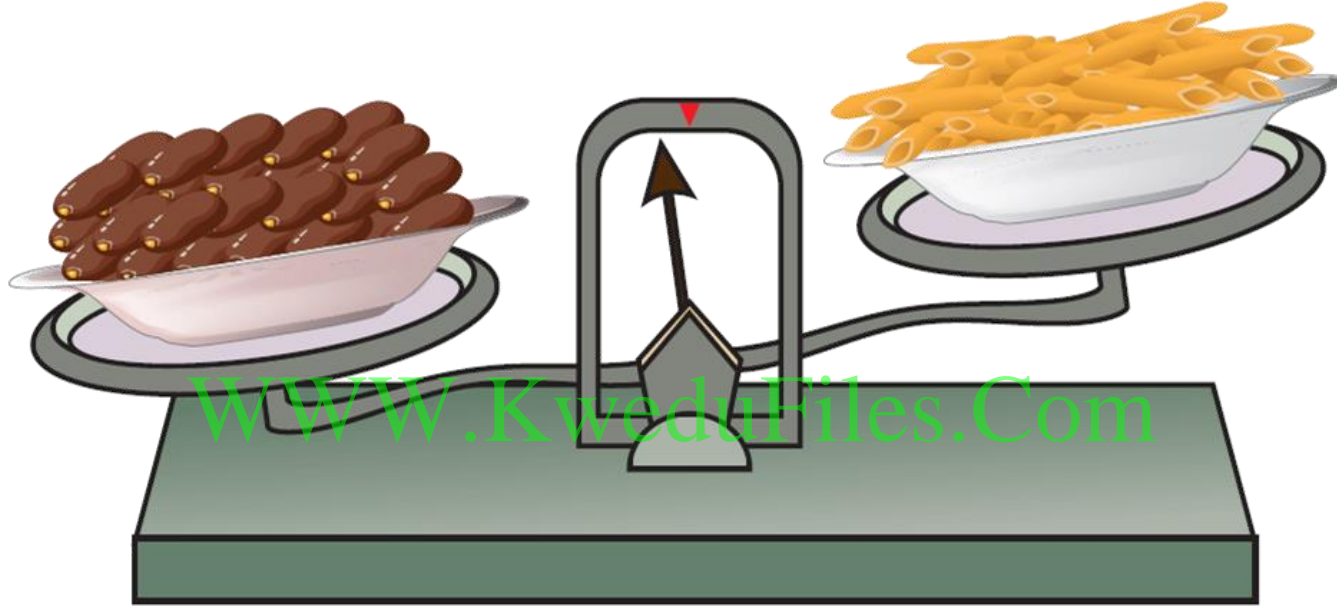
WWW.KweduFiles.Com



حوط أيهما أخف وزناً ، كوب القهوة قبل الشرب أو بعده



لون الكلمة المناسبة



أثقل من

يساوي


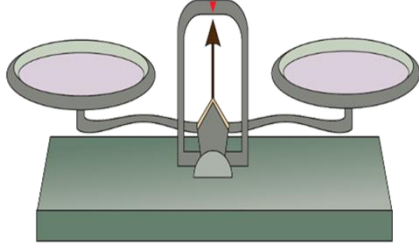
أخف من







قياس الوزن


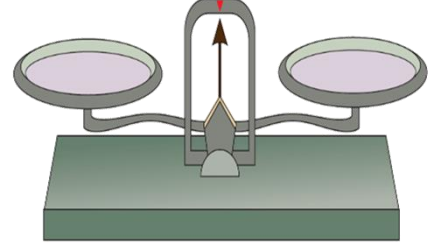
www.KweduFiles.Com

بند (٣ - ٤)









استخدم  و  . قدر ثم قس .

القياس	التقدير	الأشياء
تقريباً  —	تقريباً  —	
تقريباً  —	تقريباً  —	

استخدم  و  . قدر ثم قس .

إلى كم  تقريباً تحتاج للحصول على تكافؤ الميزان

WWW.KweduFiles.Com

القياس	التقدير	الأشياء
تقريباً 	تقريباً  —	
تقريباً 	تقريباً  —	

السعة

WWW.KweduFiles.Com

بند (١٣ - ٥)



لون الوعاء الذي سعته أكثر



لون الوعاء الذي سعته أكثر



www.KweduFiles.Com



حوظ الوعاء الذي سعته أقل



حوظ الوعاء الذي سعته أقل



www.KweduFiles.Com



صل كل وعاء بالكلمة المناسبة

أقل سعة

أكثر سعة

WWW.KweduFiles.Com



WWW.KweduFiles.Com

قياس السعة

بند (۱۳ - ۶)





استخدم . قدر ثم قس .



القياس

التقدير

الأشياء

تقريباً



تقريباً



WWW.KweduFiles.Com



تقريباً



تقريباً



تقريباً




تقريباً




• إيجاد الوحدات المناقصة

بند (١٣ - ٧)





و

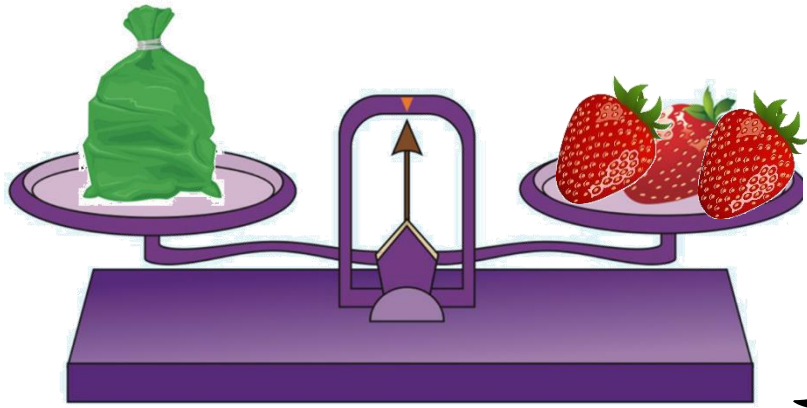


إذا كان

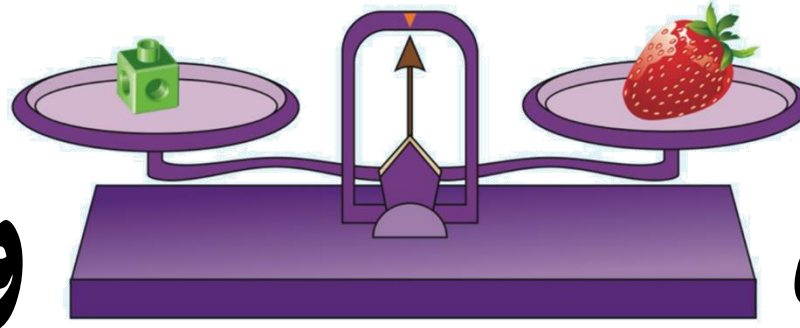
www.kweducations.com

فحوظ عدد المشابك التي تدل على طول الكتاب





و

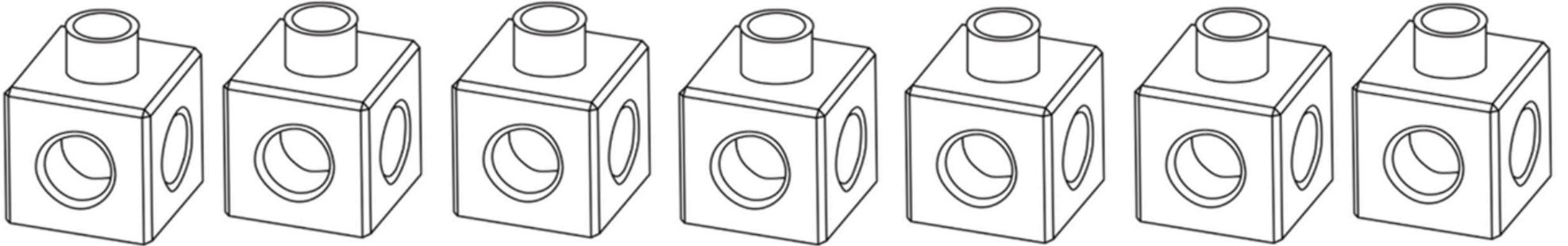


إذا كان

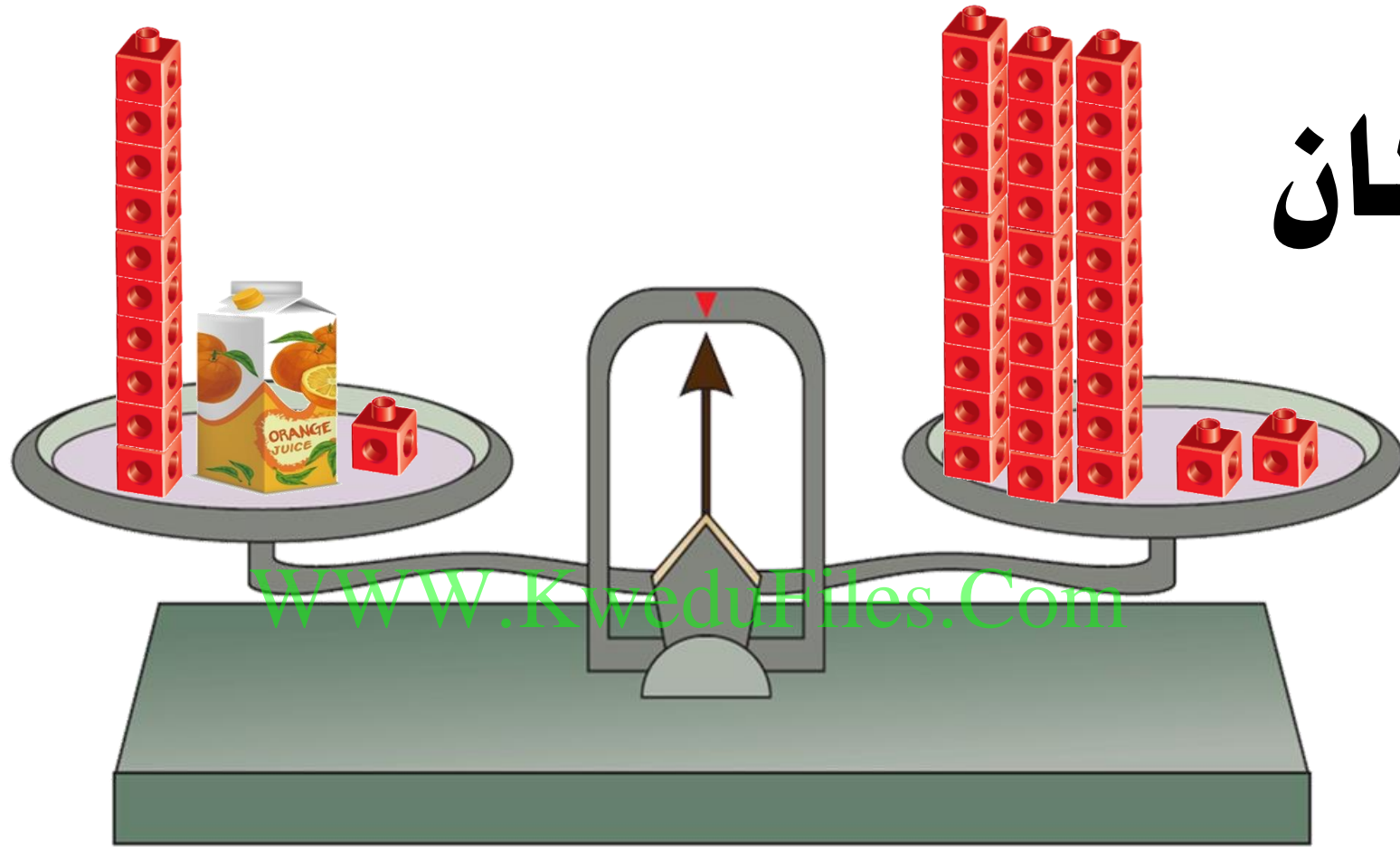


فلون عدد المكعبات التي تساوي وزن

www.kwedufiles.com



إذا كان



قريباً



=



فإن وزن

إذا كان



يسع ٦



لئون المناسبة لملء




من نفس النوع





تنتج



إذا كانت

التي يتم إنتاجها من




فإن عدد

تقريباً



— =



WWW.KweduFiles.Com

قياس الوقت

بند (۱۳-۸)



من خلال الرزنامة أجب عما يلي :

فبراير

الأحد	الاثنين	الثلاثاء	الأربعاء	الخميس	الجمعة	السبت
			١	٢	٣	٤
٥	٦	٧	٨	٩	١٠	١١
١٢	١٣	١٤	١٥	١٦	١٧	١٨
١٩	٢٠	٢١	٢٢	٢٣	٢٤	٢٥
٢٦	٢٧	٢٨				

كم يوماً في هذا الشهر ؟

من خلال الرزنامة أجب عما يلي :

فبراير

الأحد	الاثنين	الثلاثاء	الأربعاء	الخميس	الجمعة	السبت
			١	٢	٣	٤
٥	٦	٧	٨	٩	١٠	١١
١٢	١٣	١٤	١٥	١٦	١٧	١٨
١٩	٢٠	٢١	٢٢	٢٣	٢٤	٢٥
٢٦	٢٧	٢٨				

ما هو اليوم الأول الذي يبدأ به هذا الشهر؟

من خلال الرزنامة أجب عما يلي :

فبراير

الأحد	الاثنين	الثلاثاء	الأربعاء	الخميس	الجمعة	السبت
			١	٢	٣	٤
٥	٦	٧	٨	٩	١٠	١١
١٢	١٣	١٤	١٥	١٦	١٧	١٨
١٩	٢٠	٢١	٢٢	٢٣	٢٤	٢٥
٢٦	٢٧	٢٨				

كم يوم سبت في هذا الشهر ؟

من خلال الرزنامة أجب عما يلي :

فبراير

الأحد	الاثنين	الثلاثاء	الأربعاء	الخميس	الجمعة	السبت
			١	٢	٣	٤
٥	٦	٧	٨	٩	١٠	١١
١٢	١٣	١٤	١٥	١٦	١٧	١٨
١٩	٢٠	٢١	٢٢	٢٣	٢٤	٢٥
٢٦	٢٧	٢٨				

كم يوم أحد في هذا الشهر؟

من خلال الرزنامة أجب عما يلي :

فبراير

الأحد	الاثنين	الثلاثاء	الأربعاء	الخميس	الجمعة	السبت
			١	٢	٣	٤
٥	٦	٧	٨	٩	١٠	١١
١٢	١٣	١٤	١٥	١٦	١٧	١٨
١٩	٢٠	٢١	٢٢	٢٣	٢٤	٢٥
٢٦	٢٧	٢٨				

في أي يوم من أيام الأسبوع يوافق ٦ فبراير؟

من خلال الرزنامة أجب عما يلي :


فبراير

الأحد	الاثنين	الثلاثاء	الأربعاء	الخميس	الجمعة	السبت
			١	٢	٣	٤
٥	٦	٧	٨	٩	١٠	١١
١٢	١٣	١٤	١٥	١٦	١٧	١٨
١٩	٢٠	٢١	٢٢	٢٣	٢٤	٢٥
٢٦	٢٧	٢٨				

في أي يوم من أيام الأسبوع يوافق ٢٦ فبراير (يوم التحرير)؟


www.KweduFiles.Com

بند (۱۳-۹)



ارسم قطع النقود التي ستستخدمها

لشراء الأشياء التالية




لائحة أسعار كل قطعة

السعر

القطعة


٢٥ فلس



٣٥ فلس



٤٠ فلس



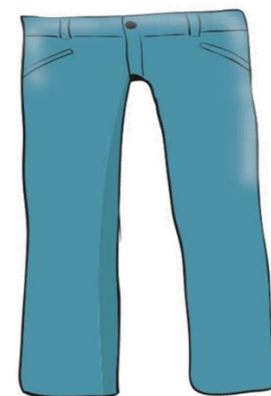
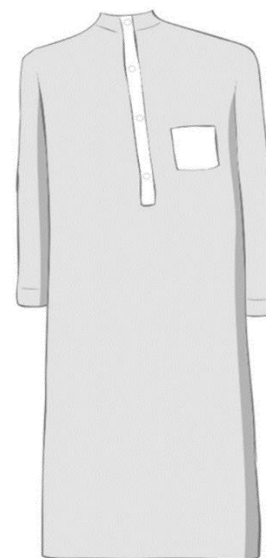
WWW.KweauFiles.Com

حوط كم شيئاً يمكن شراؤه من المحل :

لديك ١٥ دينار

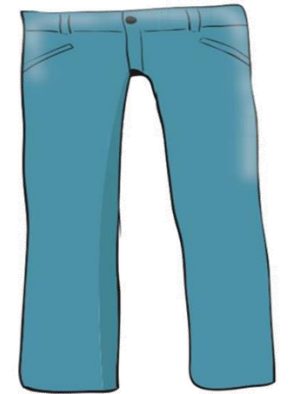



WWW.KweduFiles.Com



حوط كم شيئاً يمكن شراؤه من المحل :

لدى أخاك ٥٢ دينار



WWW.KweduFiles.Com



• مراجعة الوحدة (١٣)

www.KyeduFiles.Com


بند (١٣ - ١٠)



تقريباً طول الفرشاة :

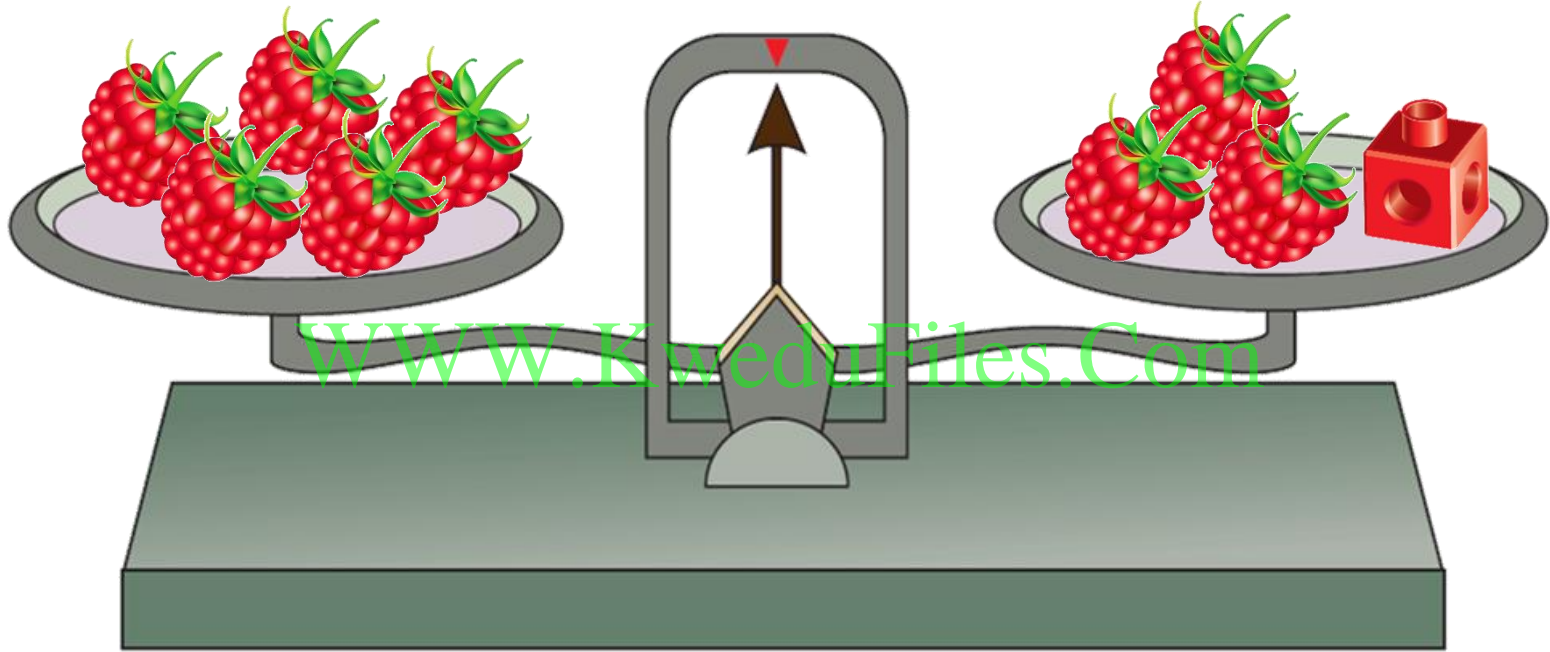


كم



تقريباً  = طول الفرشاة

أكمل



تقريباً



— =



وزن

حوط أيهما استخدم أكثر؟

استخدم ناصر  في القياس واستخدم سالم  في القياس



حوط أيهما استخدم أكثر؟  

حوط الإجابة الصحيحة

النوعاء ذو السعة الأصغر .

WWW.KweduFiles.Com





حوظ الإجابة الصحيحة

المزهريّة الأُخف .



WWW.KweduFiles.Com






حوظ الإجابة الصحيحة

عدد الأسابيع بالشهر الواحد

أسابيع تقريبا _____

www.kwedufiles.com



ارسم قطع النقود التي قيمتها ٣٥ فلس

