

تم تحميل هذا الملف من موقع المناهج الكويتية



الملف نموذج إجابة منطقة الأحمدية

[موقع المناهج](#) ← [المناهج الكويتية](#) ← [الصف الثامن](#) ← [اجتماعيات](#) ← [الفصل الأول](#)

روابط مواقع التواصل الاجتماعي بحسب الصف الثامن



روابط مواد الصف الثامن على تلغرام

[الرياضيات](#)

[اللغة الانجليزية](#)

[اللغة العربية](#)

[التربية الاسلامية](#)

المزيد من الملفات بحسب الصف الثامن والمادة اجتماعيات في الفصل الأول

مسودة كتاب الطالب في مادة الاجتماعيات لعام 2018	1
خطة توزيع منهج العام الجديد في مادة الاجتماعيات	2
حل الوحدة الاولى في مادة الاجتماعيات	3
ورقة عمل في مادة الاجتماعيات	4
ورقة عمل في مادة الاجتماعيات	5



نموذج الإجابة

امتحان نهاية الفترة الدراسية الأولى
للفصل الثامن المتوسط
العام الدراسي
٢٠٢١ - ٢٠٢٢ م

وزارة التربية
الإدارة العامة لمنطقة الأحمدية التعليمية
التوجيه الفني للاجتماعيات

المجال الدراسي: الاجتماعيات
(دولة الكويت والعالم الإسلامي)
الزمن: ساعة وخمس وأربعون دقيقة
عدد الأوراق: ٤

الإجابة النموذجية

أجب على جميع الأسئلة

السؤال الأول: موضوعي يتكون من (أ- ب- ج) (١٥ نقطة × درجة واحدة = ١٥ درجة)

(أ) اختر البديل المناسب من بين البدائل التي تلي كل عبارة وضع تحتها خط:

١. قامت الدولة الإسلامية على يد سيدنا محمد ﷺ في: ص ١٧

أ- المدينة المنورة ب- مكة المكرمة ج- الرياض د- جدة

٢. النبات الذي يصنع منه الحبال والأحذية والحقائب والأقمشة الخشنة يسمى: ص ٧٣

أ- قصب السكر ب- الجوت ج- المطاط د- القطن

٣. أصغر دول العالم الإسلامي مساحة: ص ٥٢

أ- كازاخستان ب- المالديف ج- ألبانيا د- بنغلادش

٤. لقب سمو أمير البلاد الراحل الشيخ صباح الأحمد الصباح بقائد العمل الإنساني في ٩ سبتمبر عام: ص ٢٤

أ- ٢٠١١ م ب- ٢٠١٢ م ج- ٢٠١٣ م د- ٢٠١٤ م

٥. أنشأ ديوان الماء في مدينة تسمى: ص ٢٧

أ- بخارى ب- القاهرة ج- مرو د- بغداد

(ب) أكمل العبارات التالية بما يناسبها مما درست:

١. الداعية الكويتي البارز في العمل الإنساني والخيري اسمه عبدالرحمن السميّط ص ٢٤

٢. انطلقت الحضارة الإسلامية من شبه الجزيرة العربية إلى بقاع الأرض في القرن الثامن الميلادي ص ١٧

٣. المكان الذي اجتمع فيه المسلمون بعد وفاة الرسول ﷺ لاختيار خليفة لهم، يُسمّى سقيفة بني ساعدة ص ٢٥

٤. الدولة الإسلامية الأكثر إنتاجاً لمعدن الذهب لعام ٢٠١٤ م تسمى أوزباكستان ص ٧٠

٥. تم افتتاح المسجد الكبير في دولة الكويت في عهد الشيخ جابر الأحمد الصباح ص ٣١

(ج) اكتب المفاهيم أو المصطلحات الدالة على العبارات التالية:


م	المفهوم	العبارة
١	أهل الذمة ص ٣٦	هم النصارى واليهود الذين ظلوا على دينهم مع دفع الجزية.
٢	الزكاة ص ٢٨	ركن من أركان الإسلام يخرجها المسلمون الأغنياء للمستحقين الفقراء.
٣	الحضارة ص ١٨	كل ما يطرأ على المجتمع من تقدم وتطور ورقي في الجانب المادي أو الجانب الروحي.
٤	الوادي ص ٥٣	حوض أو منخفض طبيعي على سطح الأرض.
٥	الغلات النقدية ص ٧٣	محاصيل تزرع من أجل التصدير.

تابع نموذج إجابة امتحان نهاية الفترة الدراسية الأولى - للصف الثامن - اجتماعيات (دولة الكويت والعالم الإسلامي) للعام الدراسي (2021-2022م)

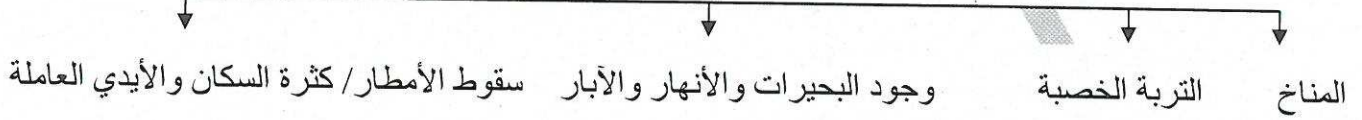
السؤال الثاني: موضوعي يتكون من (أ - ب - ج) (١٥ نقطة × درجة واحدة = ١٥ درجة)

(أ) أكمل المخططات السهمية التالية بما يناسبها مما درست:

١. المناصب الإدارية التي ظهرت في الدولة الإسلامية: ص ٢٥



٢. العوامل التي ساعدت على زيادة الإنتاج الزراعي في دول العالم الإسلامي: ص ٧٢

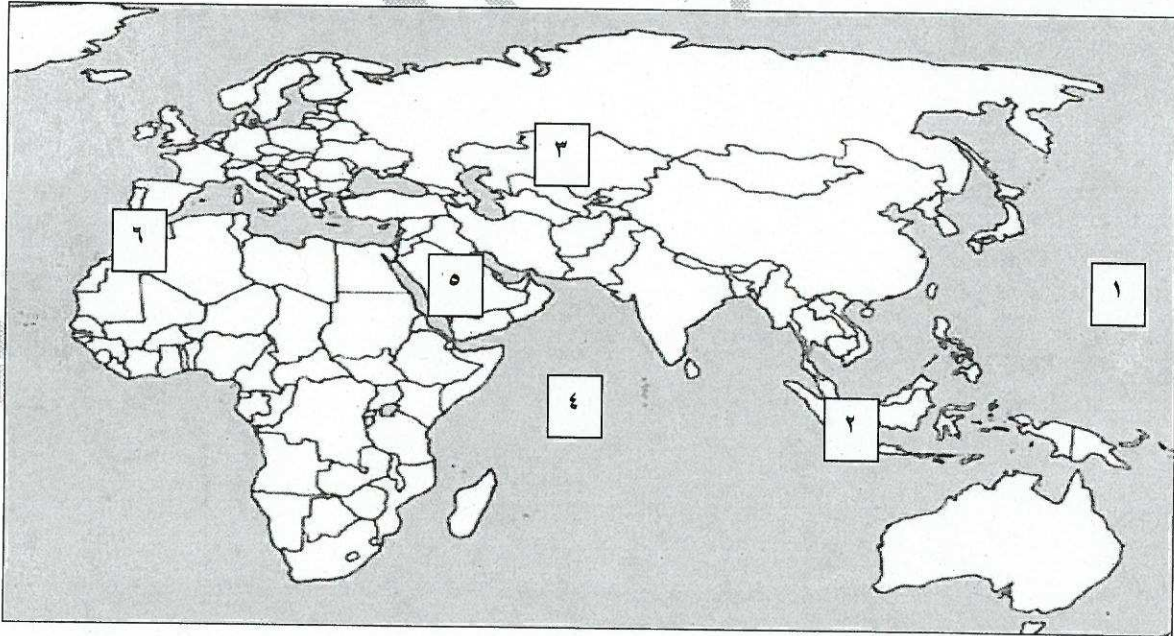


(ب) صنف أسماء العلماء حسب الجدول الذي يليها:

(الجاحظ - الكندي - أبو بكر الرازي - الإدريسي - البيروني)

الحاوي في الطب	الصيدلة في الطب	الحيوان	ألف كتاباً في الهندسة	نزهة المشتاق في اختراق الآفاق
ابو بكر الرازي ص ٤٠	البيروني ص ١٨	الجاحظ ص ٤٠	الكندي ص ٤٠	الإدريسي ص ٤٢

(ج) لاحظ خريطة العالم الإسلامي، وكتب الأرقام الدالة على العبارات التي تليها:



- المسجد الحرام يوجد في دولة إسلامية يمثلها على الخريطة الرقم (٥) ص ٣٨
- الدولة الإسلامية التي تحتل المركز الثاني على مستوى العالم في الإنتاج البحري لعام ٢٠١٤م تمثلها على الخريطة الرقم (٢) ص ٦٨+٥١+٧٤
- أكبر دولة إسلامية من حيث المساحة يمثلها على الخريطة الرقم (٣) ص ٥٢+٦٨+٧٤
- المحيط الهندي يمثلها على الخريطة الرقم (٤) ص ٧٤

السؤال الثالث: مقالي يتكون من (أ- ب - ج) (١٥ نقطة × درجة واحدة = ١٥ درجة)

(أ) عرف المفاهيم والمصطلحات التالية :

١. الفسيفساء: مجموعة من مكعبات الزجاج الملون والشفاف وقطع من الحجر الأبيض والأسود وكذلك القطع الخزفية تثبت فوق طبقة من الجص والإسمنت بشكل منظم لتعطي منظراً جميلاً متناسقاً في اللون والشكل. ص ٣٠
٢. التضاريس: أشكال سطح الأرض ص ٥٣
٣. المساجد: تقام فيها الصلوات والخطبة والتعليم الديني ص ٣٢
٤. الوقف الإسلامي: صدقة جارية يوقفها المرء في حياته لوجوه الخير والبر ويكون أجرها ونفعها ما دامت باقية ويستمر الأجر حتى بعد وفاته. ص ٢٩
٥. احتياطي النفط: هو كمية النفط المخزونة في باطن الأرض ولم تستخرج بعد ص ٦٨

(ب) اكتب في كل ممّا يلي:

(مطلوب النقاط الثلاث)

١. أسس الحضارة الإسلامية. ص ٢٠

- الدين الإسلامي

- اللغة العربية

- الحضارات الأخرى

٢. أهم المحاصيل الزراعية في العالم الإسلامي. ص ٧٢ (مطلوب النقطتين).

- الحبوب

- الغلات النقدية

(ج) علل لما يلي :

١. تسمية الحضارة الإسلامية بهذا الاسم. ص ١٨

تمثل اللغة العربية وسيلة للتعبير عنها والذي يمثل روحها وجوهرها الدين الإسلامي.

٢. ازدهار العلم وظهور العلماء في الحضارة الإسلامية. ص ٣٧ (يكتفي بنقطتين)

- تشجيع العلماء ورعاية وتمويل القيادات السياسية لهم من خلفاء وملوك وسلطين وأمراء / التنافس العلمي

بين الدول الإسلامية / حركة التعريب لترجمة للكتب القديمة اليونانية والهندية والفارسية.

- الرخاء الاقتصادي.

٣. لقيت التجارة تشجيعاً كبيراً في الحضارة الإسلامية. ص ٢٨ (يكتفي بنقطة واحدة)

- دورها في التبادل التجاري مع المناطق المجاورة / أسهمت في نشر الإسلام / يمتلك موقع العالم الإسلامي

إستراتيجي لخطوط التجارة البرية والبحرية ممّا انعكس على صادراته ووارداته.

٤. اهتمام الدولة الإسلامية بالصناعة اهتماماً كبيراً. ص ٢٧

استثمار الموارد الطبيعية المتوفرة فيها

السؤال الرابع: مقالتي يتكون من (أ- ب - ج) (١٥ نقطة × درجة واحدة = ١٥ درجة)

(أ) فرق بين كل من:

موقع العالم الإسلامي بالنسبة لدوائر العرض	١. موقع العالم الإسلامي بالنسبة لخطوط الطول
بين دائرتي عرض ١٣ جنوب خط الاستواء، و ٥٥ شمال خط الاستواء ص ٥٢	بين خطي طول ١٨ غرباً إلى ١٤١ شرقاً
العلوم النقلية	٢. العلوم العقلية
علوم الدين من حديث وفقه وتفسير وتاريخ (نقطة واحدة فقط) ص ١٧	رياضيات / فيزياء / كيمياء / الفلسفة / الفلك (نقطة واحدة فقط)
المصادر غير الطبيعية لإنتاج الأسماك في دول العالم الإسلامي	٣. المصادر الطبيعية لإنتاج الأسماك في دول العالم الإسلامي
الاستزراع السمكي ص ٧٤	- المحيطات والبحار - المياه العذبة (نقطة واحدة) ص ١٧

(ب) لاحظ الجدول الذي أمامك ثم أجب عن ما يلي: ص ٧٠

الدولة	نسبة إنتاج اليورانيوم في دول العالم الإسلامي لعام ٢٠١٤م
كازاخستان	٤١%
أوزباكستان	٤,٣%
النيجر	٧,٢%
باكستان	٠,١%

١. استخراج حقيقة من الجدول.

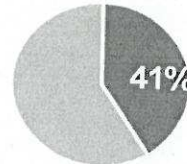
متروك للطالب

٢. ما أسم أقل دولة منتجة لليورانيوم حسب

الجدول؟ باكستان

٣. حول نسبة إنتاج كازاخستان من اليورانيوم إلى

دائرة بيانية وظللها.



(ج) دلل على صحة العبارات التالية

١. بذل المسلمون جهوداً حثيئةً في تطوير الزراعة. ص ٢٦

- شق القنوات المائية والترع
- إقامة السدود / تنظيم وسائل الري

٢. تضمّ قارة أوروبا دولتين إسلاميتين.
- ألبانيا - البوسنة والهرسك.

٣. للمظاهر العمرانية في الدولة الإسلامية مميزات. ص ٣٠

- الأسوار - القباب - المآذن
- المنابر - الزخارف.

(يكتفي بنقطتين)

(يكتفي بنقطتين)

ykuwait_3



امتحان نهاية الفصل الأول في مادة العلوم للصف التاسع للعام الدراسي ٢٠٢١ - ٢٠٢٢ م

السؤال الأول: أختَر الإجابة الصحيحة علمياً لكل من العبارات التالية بوضع علامة (✓) في المربع المقابل لها (٨×٢).

الإجابة النموذجية
المصحح لاسيا
الاحمدية

١- الهرمون المسؤول عن المظاهر الجنسية الانثوية : ص ١٨

البرولاكتين الادرينالين التستوستيرون الأستروجين

٢- تركيب في الجهاز التناسلي الذكري يتم به نمو ونضج الحيوانات المنوية : ص ١٥

القضيب الخصية البربخ البروستاتا

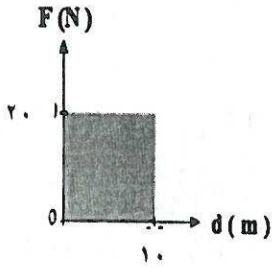
٣- ترتبط القاعدة النيتروجينية (G) في جزيء الـ DNA وتكون زوجاً مع القاعدة النيتروجينية : ص ٤٢

C A T U

٤- تنسخ الصفات الوراثية في الكائنات الحية من جيل الى جيل اخر من خلال عملية : ص ٥١


النمو الاحساس التكاثر التنفس

٥- احسب الشغل المبذول من الشكل المقابل : ص ٦٧



١٠٠ J ٣٠٠ J ٢٠٠ J ١٠٠ J

٦- الرسم البياني الذي يوضح العلاقة بين الشغل و القدرة عند ثبات الزمن : ص ٧٢



٧- تعتمد سعة الخزان النفطي على : ص ٨٤

كثافة الصخور حجم الصخور درجة حرارة الصخور مسامية ونفاذية الصخور

٨- المادة الصلبة المتخلفة بعد عملية التقطير : ص ١٠٣

البيوتان الأسفلت الجازولين

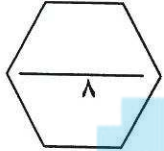
السؤال الثاني: أكتب كلمة (صحيحة) للعبارة الصحيحة وكلمة (خطأ) للعبارة غير الصحيحة في كل مما يلي (٢×٤).

١- الطفرة عملية يتم فيها اختيار صفات مرغوبة ونقلها إلى الأجيال. ص ٥٤ (خطأ)

٢- تقاس القدرة بوحدة الجول (J). ص ٧٢ (خطأ)

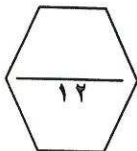
٣- كلما زاد من أداء الشغل قلت القدرة. ص ٧٧ (صحيحة)

٤- يوجد النفط بكميات قليلة في الصخور النارية. ص ٩٨ (صحيحة)



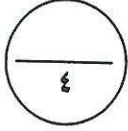
السؤال الثالث: في الجدول التالي اختر عبارة من المجموعة (ب) وأكتب رقمها أمام ما يناسبها من عبارات المجموعة (أ) (٢×٦).

الرقم	المجموعة (أ)	المجموعة (ب)
(٢)	- عضو يتم فيه انتاج البويضات وهرمونات الأثوثة : ص ١٨	١- الرحم
(٣)	- عضو يتم فيه انتاج الحيوانات المنوية وهرمون الذكورة : ص ١٦	٢- المبيضين
		٣- الخصيتين
(٣)	- يتم تبادل قطعتين مختلفتين بين كروموسومين غير متماثلين بسبب طفرة :	١- النقص
(١)	- يفقد جزء من الكروموسوم ما يحمله من جينات بسبب طفرة :	٢- التكرار
	ص ٤٦	٣- الانتقال
(٢)	- عملية فصل الأجزاء بدرجة أكبر إلى منتجات مثل البنزين :	١- تكرير النفط
(٣)	- عملية فصل مكونات مخاليط ممتزجة بحسب درجة غليانها :	٢- التقطير الهدام
	ص ١٠٧	٣- التقطير التجزيئي



السؤال الرابع (أ): قارن بين كلا مما يلي كما هو موضح بالجدول التالي (٢×٢).

وجه المقارنة	الطفرات في الخلايا الجنسية	الطفرات في الخلايا الجسمية
٤٥ ص (تورث - لا تورث)	<u>تورث</u>	<u>لا تورث</u>

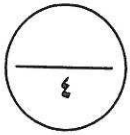


وجه المقارنة	جهاز الجرافيميترات	جهاز الماغنيوميتز
٨٨ ص + ٨٩ ص يستخدم في قياس	<u>التغير في شدة الجاذبية الأرضية</u>	<u>المجال المغناطيسي للأرض</u>

المناهج الكويتية
almanahj.com/kw

السؤال الرابع (ب): علل لما يلي تعليلا علميا دقيقا :

١- الخصية في الجهاز التناسلي الذكري تغلف بكيس الصفن. ص ١٦
- يعمل كيس الصفن على حماية الخصيتين.

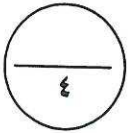


٢- ينصح بشراء الأجهزة الكهربائية ذات قدرة كهربائية عالية.
- الأجهزة ذات قدرة كهربائية عالية تستهلك كهرباء أقل. ص ٧٥

السؤال الرابع (ج): صنف كل مما يلي بما هو موضح بالجدول التالي :

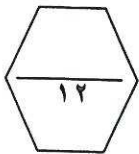
١- الأعضاء (القناة الناقلة - قناة فالوب - غدة كوبر - المبيض). ص ١٦ + ص ١٨

أعضاء الجهاز التناسلي الذكري	أعضاء الجهاز التناسلي الانثوي
<u>غدة كوبر</u>	<u>المبيض</u>
<u>القناة الناقلة</u>	<u>قناة فالوب</u>



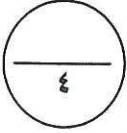
٢- الأمراض (سرطان الرحم - مرض الزهري - حمى النفاس - مرض الايدز). ص ٣٥

أمراض تنشأ دون اتصال جنسي	أمراض تنشأ نتيجة اتصال جنسي
<u>سرطان الرحم</u>	<u>مرض الايدز</u>
<u>حمى النفاس</u>	<u>مرض الزهري</u>




السؤال الخامس (أ) : أي مما يلي لا ينتمي للمجموعة ، مع توضيح السبب (٢×٢).

- ١- من دراستك للتكاثر في الإنسان (نعومة الصوت- اتساع منطقة الحوض- ظهور الشعر في الوجه - الحيض)
- الذي لا ينتمي: ظهور الشعر في الوجه . ص ٣٤
- السبب: ظهور الشعر في الوجه من مظاهر البلوغ عند الفتى ، أما الباقي من مظاهر البلوغ عند الفتاه.



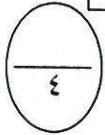
- ٢- من دراستك للنفط (غاز - لزج - رائحة نفاذة - قابل للاشتعال)
- الذي لا ينتمي: غاز ص ٨٧
- السبب: النفط سائل لزج له رائحة نفاذة وقابل للاشتعال.

السؤال الخامس (ب): التفكير الناقد (٢×٢).



- ١- الشكل المقابل يمثل مجموعة من الزرافات تعيش في الغابة : ص ٥١
- الزرافة التي تستطيع البقاء وتورث الجين الأفضل رقم (٣)
- السبب : حدوث انتخاب طبيعي.

(٣) (٢) /kw (١)



القدرة (١٠٠) وات

(٢)




القدرة (٣٠) وات

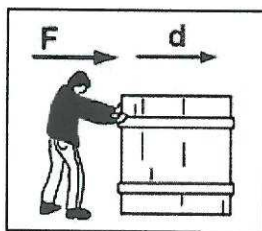
(١)

- ٢- الشكل المقابل أرادت والدتك شراء خلاط كهربائي فأبي الجهازين تختار ؟
- ساعد والدتك في اختيار أفضل خلاط كهربائي ؟ ص ٧٢
- الخلاط الأفضل رقم (٢)
- السبب : كلما زادت القدرة زاد الشغل المبذول (علاقة طردية).

السؤال الخامس(ج): ادرس الرسومات التالية جيدا، ثم أجب عن المطلوب (٢×٢).



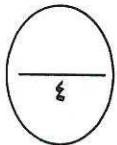
(٢)



(١)

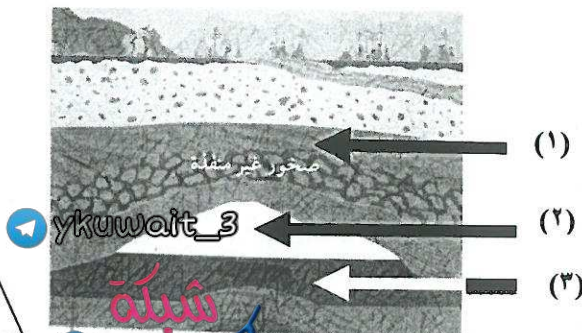
- ١- الرسم المقابل يوضح شروط بذل الشغل: ص ٦٤

- يتم بذل الشغل في الشكل رقم (١)
- السبب : لان الإزاحة والقوة في نفس اتجاه .



- ٢- الشكل المقابل يوضح تركيب الحقل النفطي: ص ٨٣

- مكان تجمع النفط يمثلته رقم (٣) .
- مكان تجمع الغاز يمثلته رقم (٢) .



انتهت الاسئلة

مع تمنياتنا بالتوفيق والنجاح

