

تم تحميل هذا الملف من موقع المناهج الكويتية



منطقة حولي التعليمية

الملف نموذج إجابة منطقة حولي التعليمية

[موقع المناهج](#) ← [المناهج الكويتية](#) ← [الصف السابع](#) ← [اجتماعيات](#) ← [الفصل الأول](#)

روابط مواقع التواصل الاجتماعي بحسب الصف السابع



روابط مواد الصف السابع على تلغرام

[الرياضيات](#)

[اللغة الانجليزية](#)

[اللغة العربية](#)

[التربية الاسلامية](#)

المزيد من الملفات بحسب الصف السابع والمادة اجتماعيات في الفصل الأول

كتاب الطالب في مادة الاجتماعيات للعام الدراسي 2018	1
حل الوحدة الاولى في مادة الاجتماعيات	2
تلخيص رائع في مادة الاجتماعيات	3
حل الوحدة الثانية في مادة الاجتماعيات	4
تلخيص ممتاز في مادة الاجتماعيات	5



قروبات تيمز
@TEAMS4ALL



وزارة التربية
الإدارة العامة لمنطقة حولي التعليمية
مراقبة الامتحانات وشؤون الطلبة



العام الدراسي 2023 / 2024 م
اختبار نهاية الفصل الدراسي الأول

نموذج الإجابة

الإجتماعيات

المرحلة المتوسطة
الصف السابع



وزارة التربية

الإدارة العامة لمنطقة حولي التعليمية

التوجيه الفني للاجتماعيات

نموذج الاجابه

امتحان نهاية الفترة الدراسية الأولى

مقرر/ دولة الكويت والوطن العربي

للسف السابع

العام الدراسي: ٢٠٢٣/٢٠٢٤م

الزمن: ساعة و ٤٥ دقيقة

عدد الصفحات: (٥)

السؤال الأول موضوعي ويتكون من (أ - ب - ج - د - هـ - و) : (٣٠ درجة لكل سؤال درجة)



قروبات تيمز
@TEAMS4ALL

(أ) ظل الخيار الصحيح من بين الخيارات التي تلي كل عبارة :

١- العام الذي انضمت فيه جمهورية جزر القمر إلى جامعة الدول العربية : ص ٢٣

١٩٩٧م	١٩٩٦م	١٩٩٥م	١٩٩٣م
-------	-------	-------	-------

المنهج الكويتية
almanahj.com/kw

٢- العام الذي أنشئت فيه محطة الشويخ لتحلية مياه البحر: ص ٦١

١٩٥٤م	١٩٥٣م	١٩٥٢م	١٩٥١م
-------	-------	-------	-------

٣- أشجار تستخدم في صناعة الفلين : ص ٥٢

الماهو جني	الساج	البلوط	السدر
------------	-------	--------	-------

٤- عدد الشعوب التي سيطرت على بلاد الرافدين خلال تاريخها القديم: ص ٧٩

١١	٩	٧	٥
----	---	---	---

٥- الدولة التي يقع فيها جبل مرة: ص ٣٩

السودان	الجزائر	مصر	تونس
---------	---------	-----	------

(ب) أكمل العبارات التالية بما يناسبها فيما درست :

١- عرفت حضارة دلمون قبل الفتح الإسلامي باسم أوال. ص ٨٨

٢- ملكة اليمن التي ورد ذكرها في القرآن الكريم اسمها بلقيس. ص ٨٦

٣- النبات الذي ينمو تلقائياً عقب سقوط المطر دون تدخل الإنسان يسمى النبات الطبيعي. ص ٥١

٤- حالة الجو خلال فترة زمنية طويلة من حيث درجة الحرارة والرطوبة والأمطار والرياح يسمى المناخ ص ٤٤

٥- المياه التي توجد في جوف الأرض (باطن الأرض) تسمى المياه الجوفية ص ٦٠

تابع السؤال الأول :

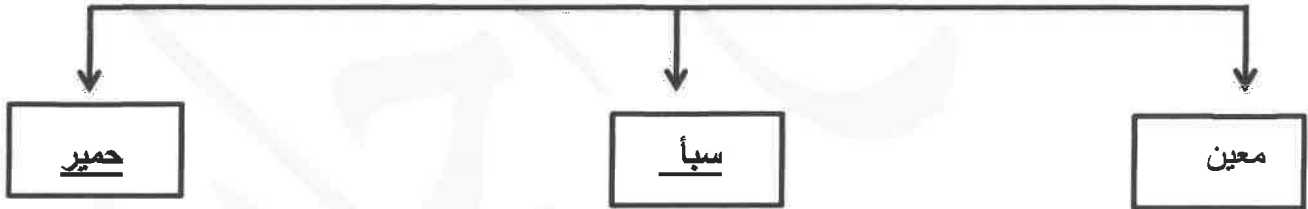
(ج) صوب ما تحته خط في العبارات التالية :

م	العبرة	التصويب
١	نقطة من الكرة الأرضية يتحدد موقعها بخطوط الطول ودوائر العرض تسمى <u>الموقع النسبي</u> ص ٣١	الموقع الفلكي
٢	تهب الرياح الخماسين على <u>المملكة العربية السعودية</u> . ص ٤٨	مصر
٣	من المنسوجات التي اشتهرت بتصديرها بلاد الرافدين هي المنسوجات <u>القطنية</u> . ص ٨١	الصوفية
٤	وزن الهواء فوق أي مكان يسمى <u>الرطوبة</u> ص ٤٤	الضغط الجوي
٥	الملك البابلي الذي وضع أقدم الشرائع القانونية اسمه <u>فرعون</u> . ص ٨٤	حمورابي
٦	تعرف حشائش الاستبس في بلاد المغرب باسم <u>الأبنوس</u> . ص ٥٢	الحلفا

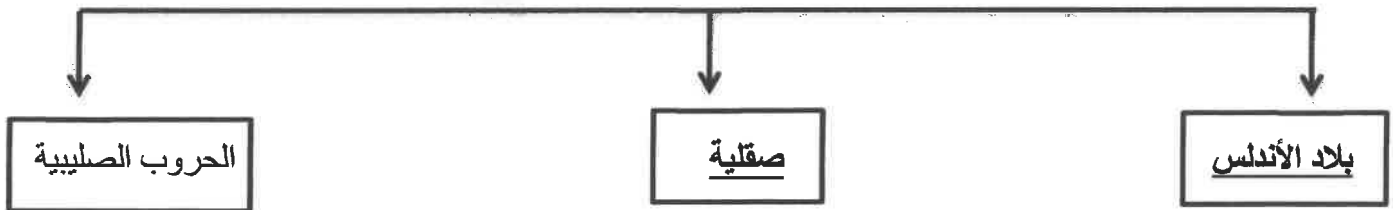


(د) أكمل المخططات السهمية التالية:

١- دويلات حضارة جنوب غرب شبه الجزيرة العربية (بلاد اليمن) : ص ٨٥



٢- مراكز انتقال الحضارة العربية الإسلامية إلى أوروبا : ص ٩٢



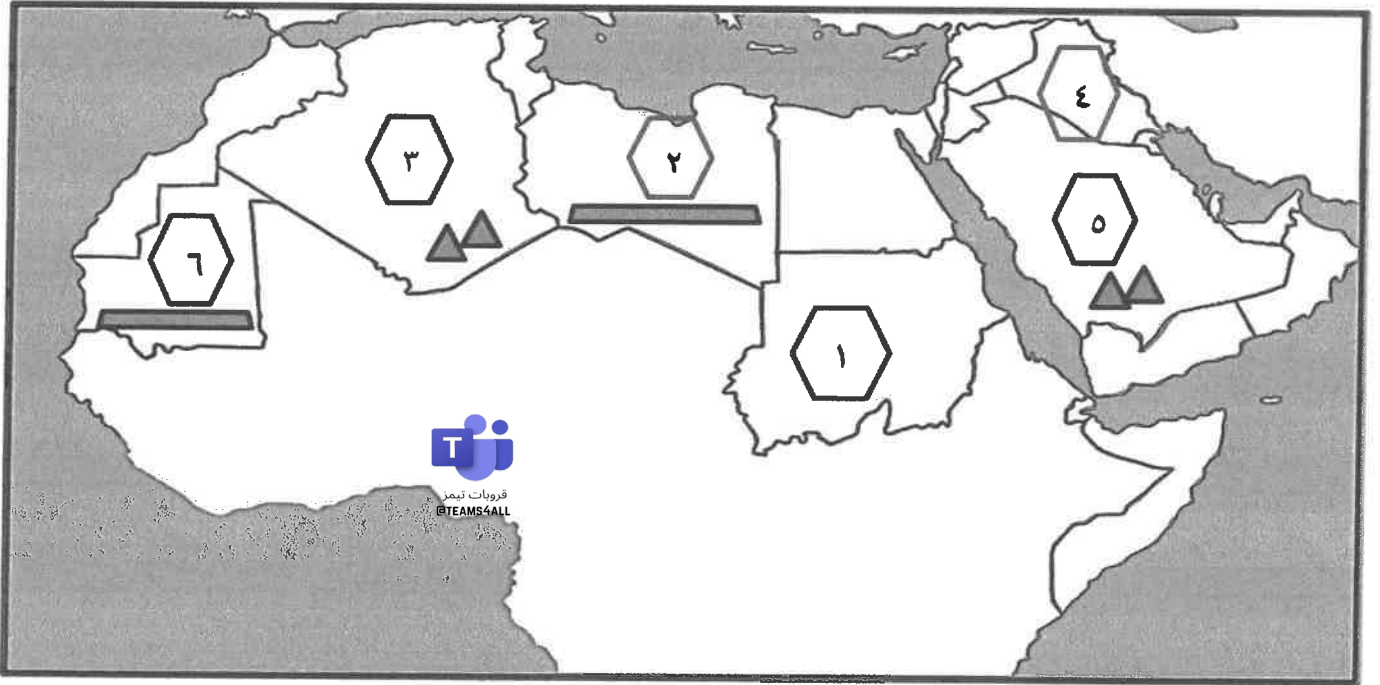
تابع السؤال الأول :

(هـ) صنف الكلمات التالية إلى مكانها المناسب في الجدول الذي يليها :

(صناعة السفن - صناعة الحلي - الأهرامات - الكتابة المسمارية - حدائق بابل المعلقة - الكتابة الهيروغليفية)

حضارة بلاد الرافدين ص ٨١	الحضارة المصرية القديمة ص ٧٦
صناعة الحلي	صناعة السفن
الكتابة المسمارية	الكتابة الهيروغليفية
حدائق بابل المعلقة (ص ٨٢)	الأهرامات (ص ٧٢)

(و) أمامك خريطة الوطن العربي - أكتب مدلولات الأرقام في العبارات التي تليها :



١- الدولة التي تهب عليها رياح الهبوب يمثلها على الخريطة الرقم (١) ص ٤٨

٢- جبل الأحجار يمثلها على الخريطة الرقم (٣) ص ٣٨

٣- الدولة التي ظهرت بها حضارة بلاد الرافدين يمثلها على الخريطة الرقم (٤) ص ٧٩

٤- هضبة أفريقيا الشمالية (الصحراء الكبرى) يمثلها على الخريطة الرقم (٢) ص ٤٠

السؤال الثاني مقالي ويتكون من (أ - ب - ج) :

(أ) فرق بين كل مما يلي من حيث التعريف : (ستة درجات لكل نقطة درجة)

القناة ص ٢٨	المضيق ص ٢٨
مجرى مائي صناعي ضيق يشق لأغراض الري أو النقل.	ممر مائي ضيق يصل بين بحرين أو محيطين أو أي مساحتين كبيرتين نسبياً من الماء.
الجبل ص ٣٨	الهضبة ص ٤٠
كل ما ارتفع من الأرض وله قمة لا يقل ارتفاعها عن ١٠٠٠ متر.	أرض مرتفعة سطحها مستو وتمتد على مساحة كبيرة.
الحشائش الحارة (السافانا) ص ٥٢	الحشائش المعتدلة (الاستبس) ص ٥٢
حشائش طويلة يختلف نوعها حسب كمية الأمطار	حشائش قصيرة نوعاً ما تنمو في فصل الشتاء خلال موسم سقوط الأمطار

(ب) أذكر نقطتين حول كل مما يلي : (ستة درجات لكل نقطة درجة)

- ١- مصادر المياه في الوطن العربي. ص ٥٧
- مياه الأنهار / الأمطار / البحيرات
- المياه الجوفية / مياه البحار والمحيطات والخلجان.

- ٢- العوامل الرئيسية المؤثرة في تنوع النبات الطبيعي في الوطن العربي. ص ٥١
- نوع التربة - المناخ

- ٣- المقومات الأساسية لقيام الحضارات. ص ٧٣

- الموقع الإستراتيجي / توافر مصادر المياه العذبة / اعتدال المناخ / توافر العنصر البشري / توافر الثروات الطبيعية

(ج) علل لما يلي : (ثلاثة درجات لكل نقطة درجة)

- ١- حرص المصريون القدماء على تحنيط جثث موتاهم. ص ٧٦
- لاعتقادهم بالبعث والخلود

- ٢- اشتهر سكان بلاد الرافدين بحرفة الزراعة. ص ٨١

-خصوبة تربتها / سعة سهولها / وفرة مياهها

- ٣- الأهمية الجغرافية للوطن العربي. ص ٣٥

-يتمتع بموقع جغرافي هام وسط قارات العالم القديم / يطل على مسطحات مائية واسعة ذات أهمية كبيرة للملاحة والتجارة العالمية

السؤال الثالث مقالي ويتكون من (أ - ب - ج) :

(أ) اقرأ الفقرة التالية ثم أجب عما يليها من أسئلة: (ثلاثة درجات لكل نقطة درجة) ص ٣٥

يتمتع الوطن العربي بأهمية اقتصادية كبيرة منذ القدم كمنطقة عبور لحركة الملاحة والتجارة العالمية لأنه يربط بين قارات العالم القديم الثلاث ، كما أدى ظهور النفط بكميات كبيرة بمنطقة الخليج العربي وبعض مناطق شمال أفريقيا إلى تزايد هذه الأهمية .

١- استخرج من الفقرة السابقة ما يلي:

أ- الأهمية الاقتصادية للوطن العربي قديماً.

منطقة عبور لحركة الملاحة والتجارة العالمية لأنه يربط بين قارات العالم القديم الثلاث.

ب- الأهمية الاقتصادية للوطن العربي حديثاً.

ظهور النفط بكميات كبيرة بمنطقة الخليج العربي وبعض مناطق شمال أفريقيا.

٢- عرف ما تحته خط . ص ٢٢

مجموعة الدول العربية التي يجمعها عدد من السمات المشتركة (الدين -اللغة) ويمتد ضمن قارتين من أكبر قارات العالم مساحة.

(ب) قارن بين كل من : ص ٩٠ (ستة درجات لكل نقطة درجة)

وجه المقارنة	الديانة اليهودية	الديانة المسيحية	الديانة الإسلامية
النبي المرسل	سيدنا موسى	سيدنا عيسى	سيدنا محمد (ص)
الكتاب المنزل	التوراة	الإنجيل	القرآن الكريم

(ج) أجب عن الأسئلة التالية : (يكتفى بذكر نقطتين) (ستة درجات لكل نقطة درجة)

١- عدد طرق ترشيد استخدام المياه والمحافظة عليها . ص ٦٣

- ترشيد استهلاك المياه والحد من التبذير في المنازل / تطوير استعمال مياه الصرف الصحي المعالجة في الزراعة.
- الحد من هدر المياه في عمليات الري باستخدام الوسائل الحديثة كالرش بالتنقيط والمحوري.
- تنظيم عملية الاستفادة من المياه الجوفية ومنع تسرب الأملاح الملوثة إليها واستثمارها على الوجه الأمثل.
- إقامة البحيرات والسدود لتجميع مياه الأمطار والسيول للاستفادة منها في فصل الجفاف.
- توقيع اتفاقيات مع الدول المشاركة ودول المنبع لتحقيق مصالح الدول العربية المعنية.

٢- أذكر طرق تكيف النباتات الصحراوية مع البيئة الصحراوية الجافة. ص ٥٢

- جنورها طويلة / القدرة على تخزين المياه / تحمي نفسها بلحاء سميك وأوراق إبرية.

٣- أكتب العوامل التي تؤثر في مناخ الوطن العربي. ص ٤٦

-الموقع بالنسبة لدوائر العرض / القرب أو البعد عن المسطحات المائية / التضاريس / الرياح.