

تم تحميل هذا الملف من موقع المناهج الكويتية



منطقة العاصمة التعليمية

الملف نموذج أسئلة اختبار منطقة العاصمة التعليمية

موقع المناهج ← المناهج الكويتية ← الصف السابع ← اجتماعيات ← الفصل الأول

روابط مواقع التواصل الاجتماعي بحسب الصف السابع



روابط مواد الصف السابع على تلغرام

[الرياضيات](#)

[اللغة الانجليزية](#)

[اللغة العربية](#)

[التربية الاسلامية](#)

المزيد من الملفات بحسب الصف السابع والمادة اجتماعيات في الفصل الأول

كتاب الطالب في مادة الاجتماعيات للعام الدراسي 2018	1
حل الوحدة الاولى في مادة الاجتماعيات	2
تلخيص رائع في مادة الاجتماعيات	3
حل الوحدة الثانية في مادة الاجتماعيات	4
تلخيص ممتاز في مادة الاجتماعيات	5

السؤال الأول : (موضوعي) ويتكون من (أ - ب)

(أ) ظل الخيار الصحيح من بين الخيارات التي تلي كل عبارة :

١- الدولة العربية التي يمر بها خط الاستواء :

الصومال	الجزائر	موريتانيا	المغرب
---------	---------	-----------	--------

موقع

المناهج الكويتية

almanhaj.com/kw

المدارية

٢- تعتبر الابل والماعز والضب والأرانب من أهم الحيوانات السانده في المنطقة :

الاستوائية	الباردة	الصحراوية	المدارية
------------	---------	-----------	----------

٣- عدد الشعوب التي سيطرت على بلاد الرافدين خلال تاريخها القديم :

٤	٥	٦	٧
---	---	---	---

٤- محطة تحلية المياه التي أنشئت في دولة الكويت عام ١٩٥٣ م :

الروضتين	الشقايا	أم العيش	الشويخ
----------	---------	----------	--------

٥- حالة الجو خلال فترة زمنية طويلة من حيث درجة الحرارة والرطوبة والأمطار والرياح :

الطقس	الضغط الجوي	المتاخ	الكثافة
-------	-------------	--------	---------

(ب) أكمل العبارات التالية بما يناسبها فيما درست :

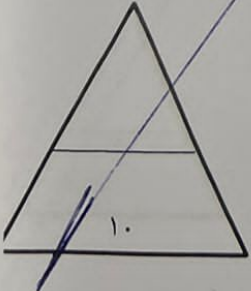
١- من أشهر ملوك الحضارة البابلية في العراق ملك يسمى.....

٢- حرص المصريون القدماء على بناء القبور وإقامة المعابد الفخمة لاعتقادهم بفكرة تسمى.....

٣- المضيق الذي يصل بين البحر الأحمر وخليج عدن اسمه..... باب المندب

٤- نقطة من الكرة الأرضية يتحدد موقعها بخطوط الطول ودوائر العرض تسمى.....

٥- الغابات التي تكثر بها أشجار البلوط والسنديان اسمها..... الغابات



تابع / امتحان نهاية الفترة الدراسية الأولى - لمقرر الكويت والوطن العربي - للصف السابع المتوسط - العام الدراسي ٢٠٢٤/٢٠٢٥ م

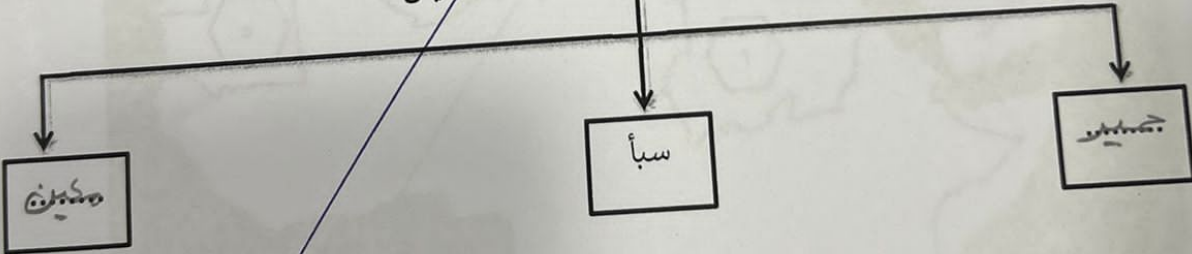
السؤال الثاني : (موضوعي) ويتكون من (أ - ب)

(أ) ظلل الحرف (أ) إذا كانت العبارة صحيحة أو الحرف (ب) إذا كانت العبارة خاطئة :

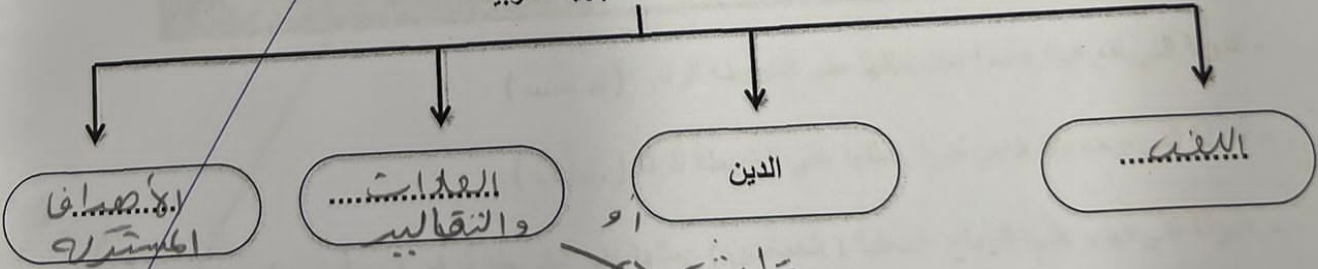
م	العبارة	(أ)	(ب)
١	الدولة العربية التي انضمت الى جامعة الدول العربية عام ١٩٩٣ م هي موريتانيا .		
٢	السهول هي مساحة كبيرة من سطح الأرض تتميز باستوائها وقلة ارتفاعها .		
٣	أطلق على البحرين قديماً اسم أوائل نسبة إلى صنم كانت تعبده قبيلة وائل آنذاك .		
٤	كل ما يطرأ على المجتمع من تقدم وتطور وراقي في جميع نواحي الحياة الدينية والسياسية والاقتصادية والاجتماعية والفكرية يسمى الثقافة .		
٥	المياه الجوفية هي المياه التي توجد في جوف الأرض (باطن الأرض) .		

(ب) أكمل المخططات السهمية التالية بما يناسبها فيما درست :

١- أشهر حضارات بلاد اليمن



٢- مقومات الهوية العربية



تابع / امتحان نهاية الفترة الدراسية الأولى - لمقرر الكويت والوطن العربي - للصف السابع المتوسط - العام الدراسي ٢٠٢٤/٢٠٢٥ م

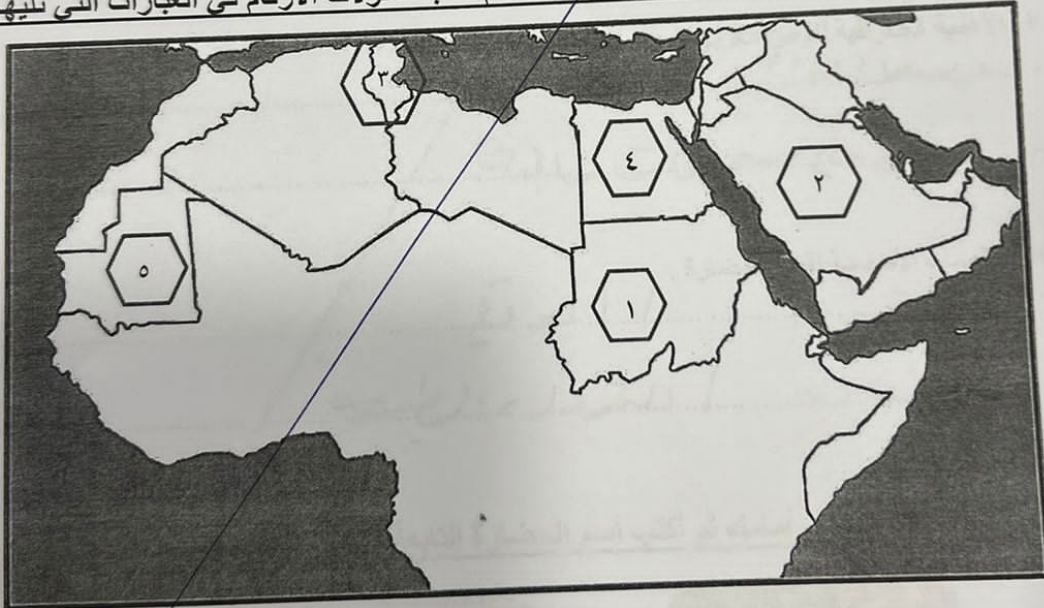
السؤال الثالث : (موضوعي) ويتكون من (أ - ب)

(أ) صنف المظاهر التالية حسب الحضارة التي تناسبها في الجدول التالي :

(صناعة السفن - صناعة الحلي - التحنيط - الكتابة المسمارية - حدائق بابل المعلقة - الكتابة الهيروغليفية)

الحضارة المصرية القديمة	حضارة بلاد الرافدين
..... صناعة السفن كتابة المسمارية
..... التحنيط الحلي
..... الكتابة الهيروغليفية حدائق بابل المعلقة

(ب) لاحظ خريطة الوطن العربي التي امامك ثم اكتب مدلولات الارقام في العبارات التي تليها :



- الدولة التي تقع فيها هضبة نجد يمثلها على الخريطة الرقم (.....)
- الدولة التي يوجد بها جبل مرة يمثلها على الخريطة الرقم (.....)
- الدولة التي تهب عليها الرياح المحلية (الخماسين) يمثلها على الخريطة الرقم (.....)
- الدولة التي يجري فيها نهر مجردة يمثلها على الخريطة الرقم (.....)



السؤال الرابع : (مقالي) ويتكون من (أ - ب - ج)

(أ) فرق بين كل مما يلي من حيث التعريف :

السهول الفيضية (النهرية)	السهول الساحلية
.....
الموقع الاستراتيجي	الموقع النسبي
.....

المنهج الكويتية
almanahj.com/kw

(ب) عدد نقطتين لكل مما يلي :

١- الأهمية الجغرافية للوطن العربي .

.....


.....

٢- المقومات الأساسية لقيام الحضارة .

.....

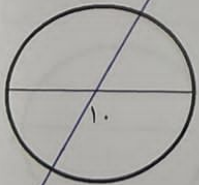
.....

(ج) لاحظ الصور التي أمامك ثم أكتب اسم الحضارة التابعة لها أسفل كل صورة :



.....

.....



تابع / امتحان نهاية الفترة الدراسية الأولى - لمقرر الكويت والوطن العربي - للصف السابع المتوسط - العام الدراسي ٢٠٢٤/٢٠٢٥ م

السؤال الخامس : (مقالي) ويتكون من (أ - ب - ج)

(أ) اقرأ الفقرة التالية ثم أجب عما يليها من أسئلة:

تعتبر بلاد الرافدين من الحضارات القديمة في الوطن العربي وتميزت بموقعها الممتاز وخصوبة تربتها ووفرة مياهها العذبة و كانت موطناً للعديد من الشعوب منها الآشوريون والبابليون والكلدانيون .

١- عرف ما تحته خط : بلاد الرافدين المضمرة

٢- استخرج من الفقرة ثلاث شعوب سيطرت على بلاد الرافدين .

موقع
المنهج الكويتية
almanahj.com/kw

(ب) قارن بين كل مما يلي بالاستعانة بالجدول التالي :

أوجه المقارنة	حشائش السافانا	حشائش الأستبس
التعريف	طويلة تنمو	قصيرة
استخداماتها	تستخدمها الماشية	الورق - الجبان - الدسر

(ج) لاحظ الجدول المقابل والذي يمثل نسبة استخدام المياه المحلاة في الوطن العربي ثم أجب عما يليه من أسئلة:

١- أكثر الدول إنتاجاً للمياه المحلاة .

..... الكويت

٢- أقل الدول إنتاجاً للمياه المحلاة .

..... ليبيا

٣- عدد مصادر المياه في الوطن العربي .

..... جوفية

..... سطحية

..... السماء

..... بحرية

نسبة استخدام المياه المحلاة	
الكويت	%٥٥
قطر	%٣٨
البحرين	%٣١
الامارات	%٢٧
السعودية	%٨
ليبيا	%٥



تابع / امتحان نهاية الفترة الدراسية الأولى - لمقرر الكويت والوطن العربي - للصف السابع المتوسط - العام الدراسي ٢٠٢٤/٢٠٢٥ م

السؤال السادس : (مقالي) ويتكون من (أ - ب - فقط)

(أ) علل لما يلي :

١- كانت تعد حضارة (دلمون) مركزاً مهماً للمواصلات البحرية .
تطل على سطح مائي

٢- تعد منطقة جنوب غرب شبه الجزيرة العربية (اليمن) أكثر مناطق شبه الجزيرة العربية ملائمة لقيام الحضارة .
تتميز بالموارد الطبيعية

المناخ المناسب
تطرح مسطحات مائية

(ج) أذكر نقطتين لكل مما يلي :

١- العوامل التي تؤثر في مناخ الوطن العربي .

دوائري العرض
المسطحات المائية
الرياح

٢- الديانات السماوية التي قامت في الوطن العربي .

الإسلام
اليهودية
المسيحية

٣- وسائل المحافظة على الثروة المائية .

انتهت الأسئلة

