



وزارة التربية
الإدارة العامة لمنطقة الأحمدية التعليمية
مدرسة هدية الابتدائية بنين



www.KweduFiles.Com
الوحدة الثانية

للمصف الرابع



• أ. شيمه صقر المطيري

رئيسة القسم

• التمهيد الكلية إلى الملايين

www.KweduFiles.Com



بند (٧-١)



أَكْمَلْ

١٥٠١١٢٧

١٥٠١١٢٦

١٥٠١١٢٥

www.KweduFiles.Com



أَكْمَل

٤٢٩٩٤٥٢

٤٢٩٩٣٥٢

WWW.KweduFiles.Com

٤٢٩٩٥٥٢



اكتب رمز العدد

ستة و ثلاثون مليوناً و خمسمئة



ألف و سبعمئة و عشرون

www.KweduFiles.Com

اكتب رمز العدد

٨ ♦ ♦ ♦ ♦ ♦ + ١ ♦ ♦ ♦ ♦ ♦ ♦ ♦ ♦ ♦



WWW.KweduFiles.Com

٦ ♦ ♦ ♦ + ٣ ♦ ♦ ♦ ♦ +

A large, empty, rounded rectangular box with a light green background, intended for writing the symbols for the numbers 8 and 6.

اكتب رمز العدد



٩ ملايين + ٩ آلاف + ٩

www.KweduFiles.Com

A large, empty, rounded rectangular box with a light green background, intended for writing the symbol of the number.

اكتب الاسم اللفظي للعدد



١٦ ٣١١ ٢٠٥

WWW.KweduFiles.Com

A large, empty, rounded rectangular box with a light green background, intended for writing the names of the numbers.

اكتب الاسم المطول للعدد



٣٠٠٤١٢٥٦٦

WWW.KweduFiles.Com

A large, empty, rounded rectangular box with a light green background, intended for writing the full name of the number.

اكتب الاسم الموجد للعدد



١ ٣ ٨ ٦ ٠ ٠

WWW.KweduFiles.Com

A large, empty, rounded rectangular box with a light green background, intended for writing the names of the numbers shown above.

في أي عدد يكون للرقم ٢ قيمة



مكانية أكبر :

WWW.KweduFiles.Com

١٦ ٣٤٥ ٢١٩ أم ٢٠٧١ ٠٠٠

فسر إجابتك .

كتب جاسم رمز العدد ستة

ملايين و أربعمئة ألف و واحد و

WWW.KweduFiles.Com

ستون بهذا الشكل ٦٤٠٠٦١

ما الخطأ الذي وقع فيه ؟ صحه .

حوط الأعداد الزوجية فيما يلي

٣١٩ - ١٧٢٠٠

www.kwedufiles.com
٨٦٤٠٠ - ١٠٥

٦٢٠٤١١٣

١٠٠٩٩٤



مفاتيح حل اللغز العددي



العدد أصغر من ١٠٠٠

كل رقم في العدد رقم فردي

كل الأرقام مختلفة

ما أكبر عدد يمكن تكوينه باستعمال

المفاتيح الثلاثة أعلاه ؟

• التمهيد الكمية إلى العمليات الحسابية

www.kwedufiles.com



بند (٧-٢)



اكتب رمز العدد

سبعة وأربعون ملياراً وثلاثة و

خمسون مليوناً وستمئة وتسعون

ألف و سبعمئة وعشرون

www.KweduFiles.Com


اكتب رمز العدد

٢١٢ ملياراً و ٣٠٥ مليوناً و



WWW.KweduFiles.Com

٧٢٠ ألفاً و ٤٢٦



اكتب رمز العدد

٩ ♦ ♦ ♦ ♦ + ٨ ♦ ♦ ♦ ♦ ♦ ♦ ♦ ♦ ♦

WWW.KweduFiles.Com


٢ ♦ ♦ ♦ + ٥ ♦ ♦ ♦ +

Blank area for writing the answer.

اكتب الاسم اللفظي للعدد

٣ . . . ٧ . . . ٥

WWW.KweduFiles.Com



اكتب الاسم المطول للعدد

٤٠٠٦٠٠٠٠٣٠٠

WWW.KweduFiles.Com

اكتب الاسم الموجز للعدد

٧٣


• •

٤

• • •

• ٢٠


WWW.KweduFiles.Com



كم ملياراً في العدد

٤٦٥ ٩٨٤ . ٣٢ ٤١٧

www.kwedufiles.com



اكتب رمز أكبر عدد مكون من ٧

أرقام دون تكرار أي رقم .

WWW.KweduFiles.Com

ما الرقم الذي وضعته في منزلة

آحاد الألوف ؟

اكتب رمز العدد السابق مباشرة

و العدد التالي مباشرة

WWW.KweduFiles.Com

١٢٥٠٠٢٣٩٩

٢٠٠٠٠٠٠٠٠٠٠٠٠

• مقارنته وترتيب الامداد

WWW.KweduFiles.Com



بند (۳-۷)



ضع رمز العلاقة المناسب < أو > أو =


٩٩٩ (.....)

WWW.KweduFiles.Com

٣٠١٢٠٧٧٧ (.....) ٧٠٨١١١٣٠٤


٣٨٨٣٣٣١٠١ (.....) ٤٠٠٢٠٩١٠٠

أَكْمَلْ



٤٥١٢٦٧٧٢.


WWW.KweduFiles.Com



٣٨٠٥٠٢٧٦.


أَكْمَلْ

٢٤٣ · ٤٥٥١٦




WWW.KweduFiles.Com

١ · ٢٤٣٤١ · ٢




رتب الأعداد تصاعدياً


١٢٠ ٥١٧ ٣٠٠ ٤٤




٢٢ ١١٦ ٩٠ ١٠٥



٧٠ ٩٩٩ ١٠٠ ١٥٠




٩ ٦٠٠ ١٠٠ ٩٩٤




رتب الأعداد تنازلياً


١٥ ٢٠٠ ٣٠٥ ٠٠١




٢٢ ١٤٥٩٠ ٧٧٧



١٦ ٨٢٨ ٥٥٥ ٣٠٩



١٠ ٢٢٠ ٤٠٤ ٠٧٠



تفريبات الامتحانات
WWW.KweduFiles.Com



بند (۷-۴)



قرب لأقرب عشرة آلاف

_____ \approx ٧٦ ٢٢٢

WWW.KweduFiles.Com

_____ \approx ٣٠٣ ١٩٩

قرب لأقرب مئة ألف

www.KweduFiles.Com

٨٨٨ ٢٤٢

٧٥٥٥ ٢١٢

قرب لأقرب مليون

≈ ٧٨٢٤٧٠٠٠

WWW.KweduFiles.Com

≈ ٦٢١٠٠٢٠١

قرب العدد ٢٧٢ ١٨٥ ٦ إلى أقرب

عشرة آلاف

عشرة

مئة ألف

مئة

مليون

ألف

www.KweduFiles.Com



يقرب عمر الأعداد إلى أقرب

١٠٠٠ ، اكتب عدداً غير العدد

WWW.KweduFiles.Com

٤٠٠٠ وأكبر من ٢٠٠٠ ويمكن

تقريبه إلى ٤٠٠٠






اختر الإجابة الصحيحة بوضع

العدد ٢٦٧ ٢٤٥ ٢ مقرباً إلى


أقرب عشرة آلاف هو :



٢ ٤٤٠ ٠ ٠ ٠



٢ ٤٥٠ ٠ ٠ ٠



• استخدام البيانات : مضطبات كارول

www.KweduFiles.Com



بند (۷-۵)



تَمَرِّنْ



١

اِسْتِخْدِمِ مُخَطَّطَ كَارُولِ الَّذِي يُصَنَّفُ مَجْمُوعَةً مِنَ الْمُتَعَلِّمِينَ بِحَسَبِ الْوِزْنِ،

وَأَجِبْ عَنِ الْأَسْئَلَةِ التَّالِيَةِ:

أ كم متعلماً وزنه أكبر من ٤ كجم؟

ب ما الخاصية التي تتحقق عند حسين؟

ج كم عدد جميع المتعلمين؟

الوزن	الوزن
أقل من ٤ كجم	أكبر من ٤ كجم
نواف، بدر	حامد، سعد، فواز، حسين



لا يَلْعَبُ كُرَّةَ السَّلَّةِ	يَلْعَبُ كُرَّةَ السَّلَّةِ	
جاسم	عماد	الطول ١٦٠ سم
يعقوب	طارق	الطول ليس ١٦٠ سم

٢ استُخِدمَ مُخَطَّطَ كارول وأجِبْ عَنِ الأَسْئَلَةِ التَّالِيَةِ:

أ مَنْ المُتَعَلِّمُ الَّذِي يَلْعَبُ كُرَّةَ السَّلَّةِ وَطولُهُ لَيْسَ ١٦٠ سم؟

ب مَنْ المُتَعَلِّمُ الَّذِي لا يَلْعَبُ كُرَّةَ السَّلَّةِ وَطولُهُ ١٦٠ سم؟

WWW.KweduFiles.Com

ج ما الخَاصِيَّةُ الَّتِي اتَّفَقَ فِيهَا عِمَادٌ وَجاسِمٌ؟

د إذا كانَ طولُ عَلِيِّ ١٦٠ سم وَيَلْعَبُ كُرَّةَ السَّلَّةِ،
فاكْتُبْ اسْمَهُ فِي المُخَطَّطِ أَعْلَاهُ.



صنف الأعداد التالية في مخطط كارول

٦ ، ٢٠ ، ١٥ ، ٢٢ ، ٩ ، ١٤ ، ١١

WWW.KweduFiles.Com

عددًا ليس زوجياً

عدد زوجي