

تم تحميل هذا الملف من موقع المناهج الكويتية



مدرسة التميز النموذجية

الملف أوراق عمل على الدرس الأول

[موقع المناهج](#) ← [المناهج الكويتية](#) ← [الصف السادس](#) ← [اجتماعيات](#) ← [الفصل الثاني](#)

روابط مواقع التواصل الاجتماعي بحسب الصف السادس



روابط مواد الصف السادس على تلغرام

[الرياضيات](#)

[اللغة الانجليزية](#)

[اللغة العربية](#)

[التربية الاسلامية](#)

المزيد من الملفات بحسب الصف السادس والمادة اجتماعيات في الفصل الثاني

مراجعة	1
مراجعة	2
مراجعة	3
مذكرة في مادة الاجتماعيات	4
مراجعة محلولة ومفيدة في مادة الاجتماعيات	5



اوراق عمل الدرس الاول اجتماعيات

الفصل الدراسي الثاني 2024 – 2025 م

للمصف (السادس)



إعداد
قسم الاجتماعيات



الموارد الاقتصادية لدول الخليج العربية

الثروة النفطية

س / أكمل العبارات التالية بما يناسبها :

1. بدأ التنقيب عن النفط في دولة الكويت عام ____ هـ.
2. الحقل الذي بدأ فيه التنقيب عن النفط شمالي دولة الكويت يسمى ____
3. أعلى دولة خليجية في إنتاج النفط عام 2008م تسمى _____

س / علل لما يأتي :

1. اتجهت عمليات التنقيب عن النفط في الكويت من الحقول الشمالية إلى الجنوب .
2. أهمية التنوع الاقتصادي في دول الخليج العربية .

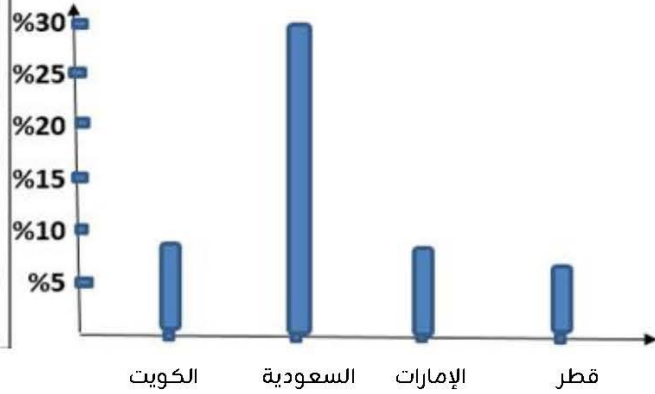
البحث عن مصادر جديدة وبديلة للاقتصاد والطاقة.

س / فرق بين كل من :

احتياطي النفط	إنتاج النفط

س / حول النسب الواردة بالجدول المقابل إلى أعمدة بيانية:

الدولة	إنتاج النفط لشهر أغسطس 2008م
الكويت	%8
السعودية	%29
الإمارات	%8
قطر	%6



س / لاحظ الصورة المقابلة ، ثم أجب عن الأسئلة التالية:

1. ما المناسبة التي تمثلها الصورة المقابلة ؟ وفي أي سنة ؟
2. ما اسم حاكم دولة الكويت الظاهر في الصورة والذي تم في عهده الحدث ؟
3. عدد أهم الدول المستوردة للنفط الكويتي .



س / علل لما يأتي:

(أ) إنشاء العديد من الموانئ النفطية بدول الخليج العربية .

(ب) لا يتم تصدير جميع الإنتاج الكويتي من النفط للخارج .

س/ استعن بالخريطة المقابلة، ثم أكمل الجدول التالي :



شكل (٢٠) خريطة توضح أهم حقول و مرآتى النفط في دول الخليج العربية

الدولة	حقول النفط	ميناء التصدير
الإمارات	بو حصاب، العصب، مريان	
البحرين	عوالي	
السعودية	الغوار، بقيق، خريص	
عمان	ناطح، الخوير، فهود	
قطر	دخان	
الكويت	برقان، الروضتين، الوفرة	

الموارد الزراعية

س/ أكمل : الدولة الخليجية الرائدة في إنتاج محصول القمح تسمى _____

س/ شاهد الخريطة المقابلة ثم أكمل الجدول التالي :



شكل (٢١) خريطة توضح أهم المناطق الزراعية في دول الخليج العربية

أهم المناطق الزراعية في دول الخليج العربية			
الكويت	السعودية	الإمارات	سلطنة عمان
	الأحساء	العين	
	سهل تهامة	ليوا	

س/ ما الصعوبات التي تواجه الزراعة في دول الخليج العربية ؟ وما الحلول المناسبة لها ؟ (نشاط 2 ص 93)

الصعوبات	الحلول والمقترحات

س/ ما أهم المحاصيل الزراعية في دول مجلس التعاون الخليجي ؟ (نشاط 3 ص 93)

س/ فرق بين كل من :

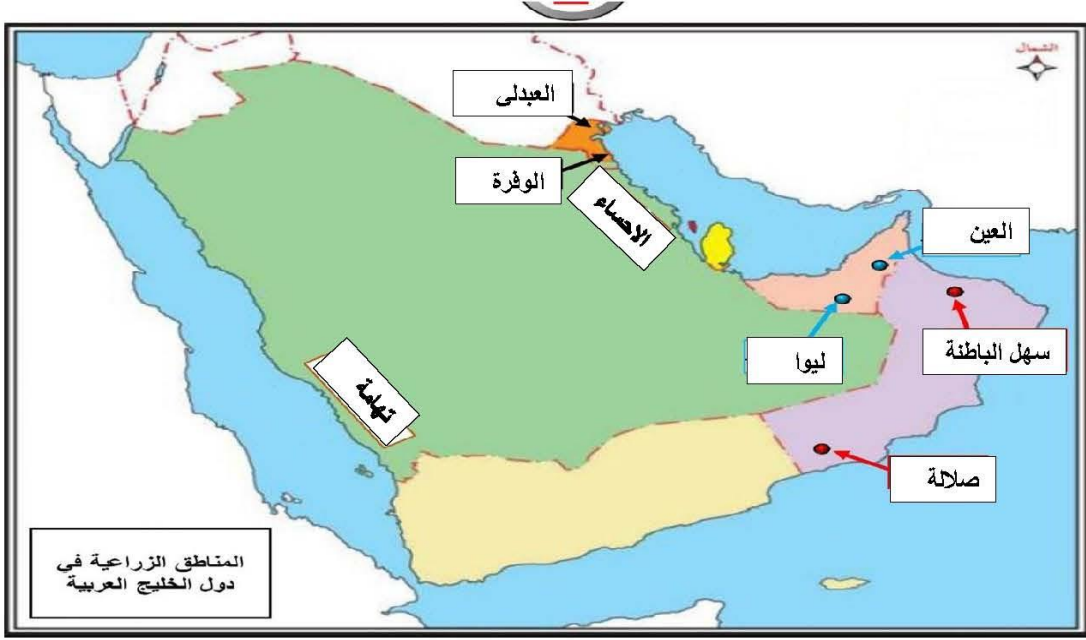
الزراعة بدون تربة	بيوت بلاستيكية

س/ علل / استخدام البيوت البلاستيكية في الزراعة في دول الخليج العربية ؟ (نشاط 4 ص 94)



س/ ما الجهود التي تبذلها حكومات دول الخليج العربية لزيادة إنتاج المحاصيل الزراعية؟ (تقويم الوحدة 1)

س/ لاحظ الخريطة التالية ثم اكتب أسماء المناطق الزراعية في الفراغات المناسبة :



أكمل الجدول الثاني للمناطق الزراعيه بدول الخليج العربية

السعودية	عمان	الامارات	الكويت

الموارد الصناعية

س/ عرف المفاهيم التالية:

1. الصناعة :
2. الدخل القومي :

س/ علل لما يأتي:

1. كان لاكتشاف النفط وتصديره أهمية كبرى في دول الخليج العربية .
2. اهتمام دول الخليج العربية بالتوسع في صناعة التكرير .
3. ازدهار الصناعة في دول الخليج العربية

س/ اكمل المخطط السهمي التالي:



س/ لاحظ الجداول التالية ، ثم أكمل ما بها من فراغات : (لاحظ أن اللون الواحد = نفس الصناعات)

اسم الدولة	الكويت	المملكة العربية السعودية		البحرين
أهم أنواع الصناعات	الشعبية الغاز	الجبيل	الرياض	ينبع شمال سترة

اسم الدولة	قطر	الإمارات العربية المتحدة		سلطنة عمان
أهم أنواع الصناعات	امسيعيد	الرويس	جبل علي	صحار الفحل

س/ أكمل: منطقة صناعية خليجية تنفرد بصناعة النحاس تسمى _____

وزع المناطق الصناعية التالية على حسب مكانها في دول الخليج العربية

— الشعبيه - امسيعيد - الرياض - صحار - حيل علي - سترة

السعودية	البحرين	الكويت	الامارات	طقر	عمان

الموارد التجارية

س / عرف : الترانزيت:

س / فرق بين كل من:

الواردات	الصادرات

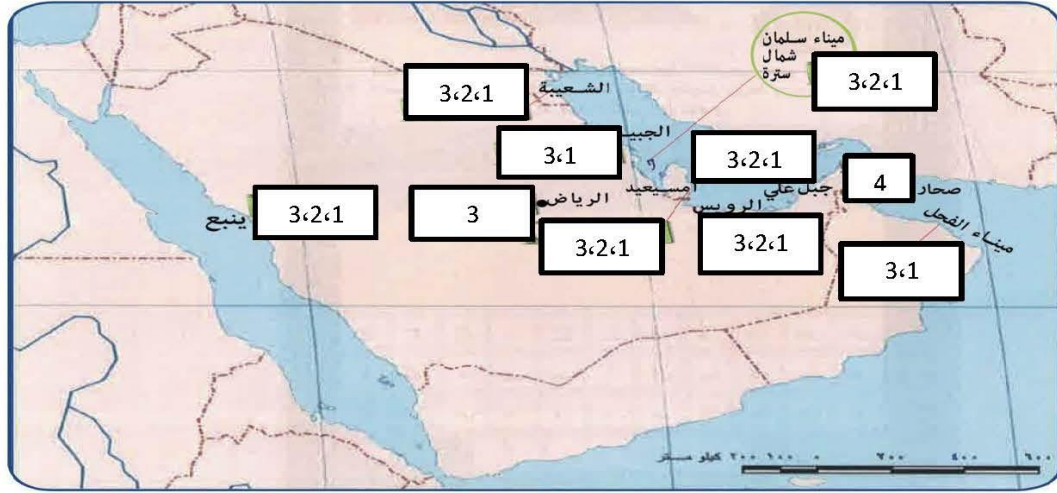
س / علل / انتعاش الموانئ التجارية في دول الخليج العربية

س / عدد أهم الواردات والصادرات الخليجية في الجدول التالي :

الواردات الخليجية	الصادرات الخليجية

س / وزع أرقام الصناعات التالية على الخريطة باستخدام الأرقام : (نشاط ص 97)

1. بتركيماويات . 2. الغاز . 3. تكرير النفط . 4. النحاس . 5. الحديد . 6. المنيوم .



الموارد الاقتصادية لدول الخليج العربية

الثروة النفطية

س / أكمل العبارات التالية بما يناسبها :

1. بدأ التنقيب عن النفط في دولة الكويت عام 1934م.
2. الحقل الذي بدأ فيه التنقيب عن النفط شمالي دولة الكويت يسمى بحرة.
3. أعلى دولة خليجية في إنتاج النفط عام 2008م تسمى السعودية.

س / علل لما يأتي :

1. اتجهت عمليات التنقيب عن النفط في الكويت من الحقول الشمالية إلى الجنوب .
 - لأن كميات النفط التي في الشمال كانت قليلة، أما في الجنوب في حقل برقان فكانت كميات ضخمة.
2. أهمية التنوع الاقتصادي في دول الخليج العربية .
 - التقليل من الاعتماد الكبير على النفط كمصدر رئيسي للدخل القومي.
 - البحث عن مصادر جديدة وبديلة للاقتصاد والطاقة.

س / فرق بين كل من :

إنتاج النفط	احتياطي النفط
كميات النفط التي يتم استخراجها للاستفادة منها	كميات النفط المخزونة في باطن الأرض.

س / حول النسب الواردة بالجدول المقابل إلى أعمدة بيانية:

الدولة	إنتاج النفط لشهر أغسطس 2008م
الكويت	8%
السعودية	29%
الإمارات	8%
قطر	6%



س / لاحظ الصورة المقابلة ، ثم أجب عن الأسئلة التالية:

1. ما المناسبة التي تمثلها الصورة المقابلة ؟ وفي أي سنة ؟
 - تصدير أول شحنة من النفط الخام الكويتي ، عام 1946 م .
2. ما اسم حاكم دولة الكويت الظاهر في الصورة والذي تم في عهده الحدث ؟
 - الشيخ أحمد الجابر الصباح.
3. عدد أهم الدول المستوردة للنفط الكويتي .
 - الولايات المتحدة الأمريكية . - هولندا . - اليابان .

س / علل لما يأتي:

- (أ) إنشاء العديد من الموانئ النفطية بدول الخليج العربية .
 - بسبب تزايد الإنتاج النفطي لدول الخليج العربية.
 - تزايد الطلب العالمي على النفط كمصدر أساسي للطاقة.
- (ب) لا يتم تصدير جميع الإنتاج الكويتي من النفط للخارج .
 - لأنه يحتفظ بجزء منه كاحتياطي للأجيال القادمة.

س/ استعن بالخريطة المقابلة ، ثم أكمل الجدول التالي :



الدولة	حقل النفط	ميناء التصدير
الإمارات	بو حصا، العصب، مريان	جبل الظنة
البحرين	عوالي	سترة
السعودية	الغوار، بقيق، خريص	رأس تنورة
عمان	ناطح، الخوير، فهود	الفحل
قطر	دخان	امسيعيد
الكويت	برقان، الروضتين، الوفرة	الأحمدي

شكل (٢٤) خريطة توضح أهم حقول وبنائ النفط في دول الخليج العربية

الموارد الزراعية

س/ أكمل : الدولة الخليجية الرائدة في إنتاج محصول القمح تسمى المملكة العربية السعودية .

س/ شاهد الخريطة المقابلة ثم أكمل الجدول التالي :



شكل (٢٥) خريطة توضح أهم حقول القمح في دول الخليج العربية

أهم المناطق الزراعية في دول الخليج العربي			
الكويت	السعودية	الإمارات	سلطنة عمان
العبدلي	الأحساء	العين	سهل الباطنة
الوفرة	سهل تهامة	ليوا	صلالة

س/ ما الصعوبات التي تواجه الزراعة في دول الخليج العربية ؟ وما الحلول المناسبة لها ؟ (نشاط 2 ص 93)

الصعوبات	الحلول والمقترحات
1. قلة المياه والأمطار.	1. الزراعة بدون تربة، والزراعة ببيوت بلاستيكية.
2. قسوة المناخ الصحراوي.	2. إدخال أساليب حديثة في الزراعة.

س/ ما أهم المحاصيل الزراعية في دول مجلس التعاون الخليجي ؟ (نشاط 3 ص 93)

– القمح، الطماطم، الخيار، البطاطا، الباذنجان، الورقيات (الخضروات)، وغيرها من المحاصيل.

س/ فرق بين كل من :

الزراعة بدون تربة	بيوت بلاستيكية
هي التي تتم في بيئة مائية أو رملية أو حصى أو نشارة خشب مضافاً إليها المحاليل الغذائية.	يزرع فيها الخضروات في غير مواسمها لحمايتها من تقلبات الطقس.

س/ علل / استخدام البيوت البلاستيكية في الزراعة في دول الخليج العربية ؟ (نشاط 4 ص 94)

1. زراعة المحاصيل الزراعية في غير مواسمها.
2. حماية المحاصيل من تقلبات الطقس .
3. زيادة الإنتاج الزراعي.



س / ما الجهود التي تبذلها حكومات دول الخليج العربية لزيادة إنتاج المحاصيل الزراعية ؟ (تقويم الوحدة 1)

1. التوسع في استصلاح الأراضي الزراعية.
2. استخدام الأساليب الحديثة في الزراعة والري.
3. تشجيع الدراسات والبحوث في المجال الزراعي ودعم الاستثمار الزراعي.

س / لاحظ الخريطة التالية ثم اكتب أسماء المناطق الزراعية في الفراغات المناسبة :



أكمل الجدول الثاني للمناطق الزراعيه بدول الخليج العربية

السعودية	عمان	الامارات	الكويت
1. الاحساء	1. سهل الباطنة	1. العين	1. العبدلي
2. تهامة	2. صلالة	2. ليوا	2. الوفرة

الموارد الصناعية

س / عرف المفاهيم التالية:

1. الصناعة: تحويل المواد الخام إلى مواد مصنعة يمكن الاستفادة منها.
2. الدخل القومي: هو مجموع الدخل التي تحصل عليها الدولة خلال عام.

س / علل لما يأتي:

1. كان لاكتشاف النفط وتصديره أهمية كبرى في دول الخليج العربية .
- لأنه كان سبباً في النمو الاقتصادي لدول الخليج العربية ، واثراً في دخلها القومي .
2. اهتمام دول الخليج العربية بالتوسع في صناعة التكرير .
- لزيادة الكميات المصدرة وبالتالي زيادة الدخل القومي .
3. ازدهار الصناعة في دول الخليج العربية
- بسبب أكتشاف النفط و تصدير

س / اكمل المخطط السهمي التالي:



س / لاحظ الجداول التالية ، ثم أكمل ما بها من فراغات : (لاحظ أن اللون الواحد = نفس الصناعات)

اسم الدولة	الكويت	المملكة العربية السعودية			البحرين
أهم أنواع الصناعات	الشعبية	الجبيل	الرياض	ينبع	شمال سترة
	الغاز تكرير النفط بتروكيماويات	تكرير النفط بتروكيماويات	تكرير النفط	الغاز تكرير النفط بتروكيماويات	الغاز تكرير النفط بتروكيماويات

اسم الدولة	قطر	الإمارات العربية المتحدة		سلطنة عمان
أهم أنواع الصناعات	امسيعيد	الرويس	جبل علي	صحار
	الغاز تكرير النفط بتروكيماويات	الغاز تكرير النفط بتروكيماويات	الغاز تكرير النفط بتروكيماويات	النحاس

س / أكمل: منطقة صناعية خليجية تنفرد بصناعة النحاس تسمى صحار.

وزع المناطق الصناعية التالية على حسب مكانها في دول الخليج العربية

- الشعبيه - امسيعيد - الرياض - صحار - حيل علي - سترة

السعودية	البحرين	الكويت	الامارات	قطر	عمان
الرياض	سترة	الشعبية	حيل علي	امسيعيد	صحار

الموارد التجارية

س / عرف : الترانزيت: إعادة تصدير البضائع المستوردة.

س / فرق بين كل من:

الواردات	الصادرات
البضائع والسلع التي تشتريها دولنا من الخارج.	السلع والمنتجات التي تبيعها دولنا في الخارج.

س / علل / انتعاش الموانئ التجارية في دول الخليج العربية

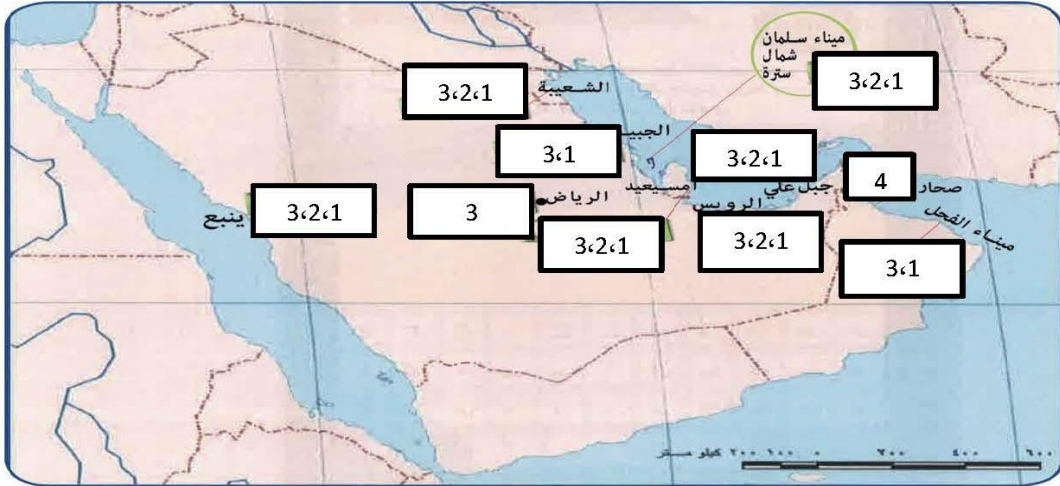
– بسبب ارتباط دول مجلس التعاون بعلاقات تجارية مع دول العالم وأيضاً فيما بينها متمثلة بالصادرات والواردات.

س / عدد أهم الواردات والصادرات الخليجية في الجدول التالي :

الواردات الخليجية	الصادرات الخليجية
- السيارات. - الأثاث. - الأدوات الكهربائية. - المواد الغذائية.	- النفط. - الغاز الطبيعي. - البتروكيماويات

س / وزع أرقام الصناعات التالية على الخريطة باستخدام الأرقام : (نشاط صد 97)

1. بتركيماويات. 2. الغاز. 3. تكرير النفط. 4. النحاس. 5. الحديد. 6. المنيوم.





مدرسة التميز النموذجية
(ابتدائي - متوسط - ثانوي)
الجهاز الفني التربوي

منصات التميز التعليمية

لزيارة منصة التميز التعليمية في اليوتيوب امسح الباركود التالي :



لزيارة منصة التميز التعليمية في تليجرام امسح الباركود الخاص بقناة كل فصل مما يلي :



الصف الرابع



الصف الثالث



الصف الثاني



الصف الأول



الصف التاسع



الصف الثامن



الصف السابع



الصف السادس



الصف الخامس



الصف الثاني عشر
أدبي



الصف الثاني عشر
علمي



الصف الحادي عشر
علمي



الصف الحادي عشر
أدبي



الصف العاشر



لزيارة صفحتنا في تويتر



لزيارة صفحتنا في الإنستقرام

عنواننا : خيطان - ق ٤ - ش ١٠٠