

تم تحميل هذا الملف من موقع المناهج الكويتية



مدرسة التميز النموذجية

الملف الاختبارات التجريبية مادة الجغرافيا

موقع المناهج ← ملفات الكويت التعليمية ← الصف الثاني عشر الأدبي ← جغرافيا ← الفصل الثاني

روابط مواقع التواصل الاجتماعي بحسب الصف الثاني عشر الأدبي



روابط مواد الصف الثاني عشر الأدبي على تلغرام

[الرياضيات](#)

[اللغة الانجليزية](#)

[اللغة العربية](#)

[التربية الاسلامية](#)

المزيد من الملفات بحسب الصف الثاني عشر الأدبي والمادة جغرافيا في الفصل الثاني

مراجعة للفصل الثاني	1
دليل قضايا البيئة والتنمية المعاصرة الالكتروني في مادة الجغرافيا	2
ملخص رائع في مادة الجغرافيا	3
نماذج اسئلة في مادة الجغرافيا	4
اسئلة اختبارات واحاباتها النموذجية في مادة الجغرافيا	5



مدرسة التميز النموذجية ابتدائي - متوسط - ثانوي

الاختبارات التجريبية

مادة الجغرافيا

الصف الثاني عشر أدبي



2026 / 2025
الفصل الدراسي الثاني

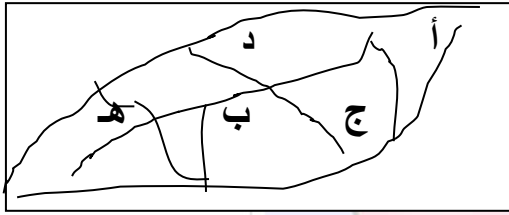
نموذج امتحان تجريبي 2 نهاية الفترة الدراسية الثانية
قضايا البيئة والتنمية المعاصرة
للصف الثاني عشر / الأدبي

*-اجب عن جميع الأسئلة التالية

السؤال الأول ويتكون من (أ-ب-ج)

أ. أكمل العبارات التالية بما يناسبها فيما درست

1. حي المرقاب السكني في مدينة الكويت القديمة يمثل على الخريطة المقابلة الحرف



2. العالم الذي ألف كتاب الجغرافيا السياسية اسمه.....

3. درجة من درجات التلوث التي نعاني منه الدول الصناعية وينتج بالاعتماد على الفحم والبتترول يسمى

4. العام الذي أنشئت فيه حركة السلام الأخضر هو

5. تكمن أهمية طبقة الأوزون في إنها تعمل على امتصاص وترشيع اسمها.....

6. نسبة الاراضي التي غطاها البترول من مساحة الكويت.....

ب- اختر الإجابة الصحيحة من بين البدائل التي تلي كل عبارة وضع خطا تحتها

1. يعيش اقل من 10% من سكان العالم شمالا وجنوبا بين دائرتي عرض

أ-صفر – 20 ب- 20 – 40 ج- 40 – 60 د- 60 – 90

2. الغاز الذي يشكل نسبة 21 % من مكونات الغلاف الجوي اسمه

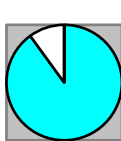
أ- النيتروجين ب- الأوكسجين ج- الميثان د- ثاني أكسيد الكربون

3. شهدت نظم المعلومات الجغرافية تطورا كبيرا منذ منتصف الخمسينيات ونجحت في كثير من الدول

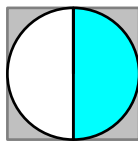
المتقدمة على رأسها دولة تسمى

أ- كندا ب- الصين ج- الولايات المتحدة الأمريكية د- الأرجنتين

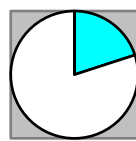
4. الجزء المظلل من الدائرة البيانية لنسبة الغلاف المائي من مساحة الكرة الأرضية يمثل الحرف



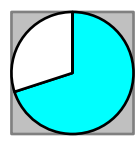
د



ج



ب



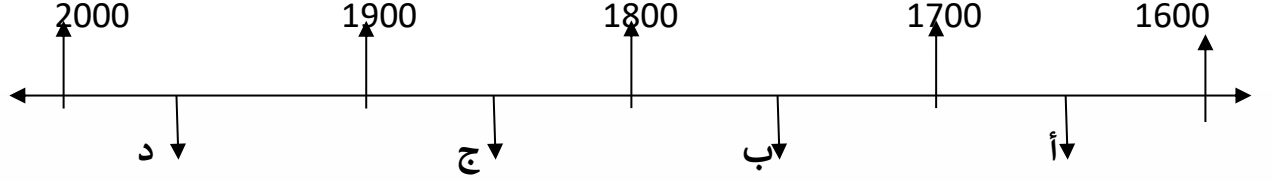
أ



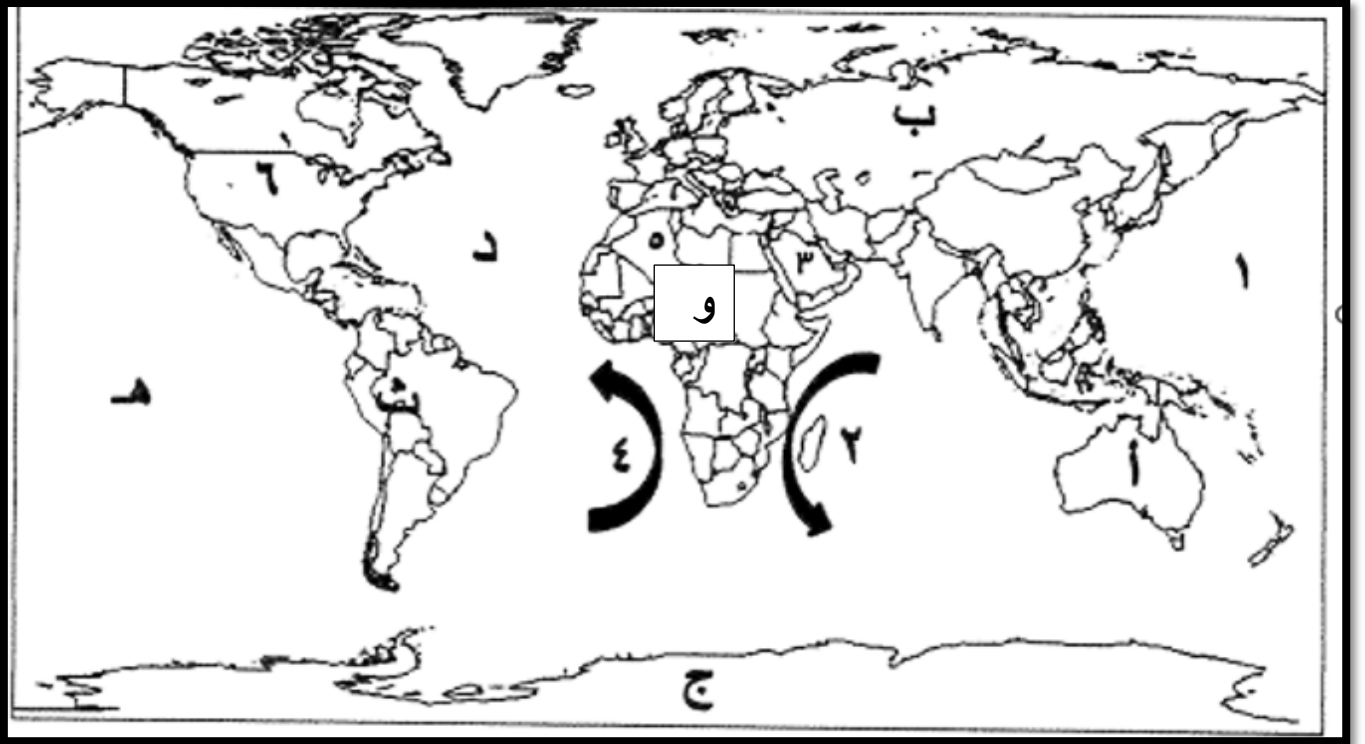
5. الكثافة الناتجة من قسمة جملة عدد السكان على جملة الدخل تسمى

أ-الاقتصادية ب-الزراعية ج-الفيزيولوجية د-العامية

6. الفترة الزمنية التي هدم فيها السور الثالث لمدينة الكويت يمثلها على الخط الزمني التالي الحرف



ج. لاحظ الخريطة التي إمامك ثم استعن بالمدلولات التي تليها لإكمال العبارات التالية



1. القارة التي تم تهجير عمالتها إلى الأمريكتين للعمل والإقامة الدائمة يمثلها على الخريطة الحرف.....
2. المنطقة التي اكتشف العلماء فيها فجوة الأوزون يمثلها على الخريطة الحرف.....
3. المحيط الأطلسي (الأطلنطي) يمثله على الخريطة الحرف.....
4. تيار بنجويلا البارد يمثله على الخريطة الرقم.....
5. الدولة الأولى في الخرائط الرقمية لنظم المعلومات الجغرافية يمثلها على الخريطة الرقم.....



السؤال الثاني: ((اجباري)) ويتكون من (أ - ب - ج)

أ. لاحظ خريطة دولة الكويت التي أمامك ثم اجب عن الأسئلة التالية

1. حدد المطلوب باستخدام الرموز التالية



- حقل برقان



- حقل الروضتين

2. ما الطرق المتبعة لتنظيف التربة من الملوثات الهيدروكربونية

..... -

.....-

ب. فرق بين كل مما يلي من حيث المفهوم

الهجرة الدولية	الهجرة الداخلية
.....
جغرافية العمران	جغرافية السكان
.....

ج. علل لما يلي

1. تلوث مياه البحار والمحيطات

أ.

ب.

ج.

2. ما مخاطر التلوث الضوضائي

أ.

ب.

ج.



السؤال الثالث: ويتكون من (أ - ب - ج)

أ. ادرس الجدول الذي أمامك والذي يمثل (عددا من السمات لعام 2005) ثم اجب عما يليه من أسئلة

1. استخراج حقيقة من الجدول

الأقاليم	معدل المواليد	معدل الوفيات
العالم	21.1	9
البلدان العربية	28.2	6.8
بلدان الاسكوا	29.2	5.9

2. حول معدلات المواليد فقط إلى رسم بياني

ب. قارن بين كل مما يلي حسب ما هو مطلوب منك بالجدول التالي

أوجه المقارنة	العمران الريفي (القرية)	العمران المدني (المدنية)
الوحدات السكنية
الأنشطة الاقتصادية

ج- اكتب فيما يلي

1. تأثير التيارات المالية على انتشار وانتقال الملوثات

(ابتدائي - متوسط - ثانوي)

2. طرق وأساليب معالجة التلوث الهوائي


أ-.....

ب-.....



السؤال الرابع: ويتكون من (أ - ب - ج)

أ) (إن الطبيعة قادرة على التكيف بسهولة فائقة ولكن الطبيعة تعرضت لضربة شديدة فيما يتعلق بالعناصر البرية والبحرية والجوية في دولة الكويت)



1. من قائل هذه العبارة:

-
- 2. الشعار في الصورة المقابلة لمنظمة تسمى**
- 3. كم عدد أبار النفط التي قام النظام العراقي بحرقها ؟**

ب. برهن على صحة العبارات التالية

1. لحقت بالتربة الكويتية عدة أضرار بيئية جراء الغزو العراقي البائد

- أ.
- ب.
2. الدوافع السياسية كانت سببا في نشأة كثير من المدن
-
-

ج- بما تفسر العبارات التالية

1. للتلوث الهوائي آثار اقتصادية

- أ.
- ب.
- ج.
2. البيوت في مدينة الكويت القديمة كانت تبني متقاربة من بعضها
- أ.
- ب.



نموذج اجابة امتحان تجريبي نهاية الفترة الدراسية الثانية

قضايا البيئة والتنمية المعاصرة

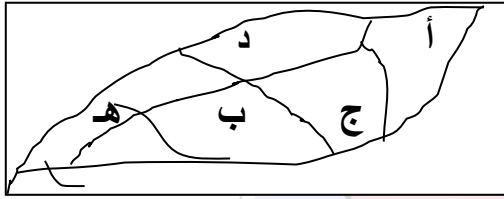
للصف الثاني عشر / الأدبي

*- اجب عن جميع الأسئلة التالية

السؤال الأول يتكون من (أ-ب-ج)

أ- أكمل العبارات التالية بما يناسبها فيما درست

1. حي المرقاب السكني في مدينة الكويت القديمة يمثله على الخريطة المقابلة الحرفب.....



2. العالم الذي ألف كتاب الجغرافيا السياسية اسمه..... راتزل.....

3. درجة من درجات التلوث التي نعاني منه الدول الصناعية بالاعتماد على الفحم والبتروول يسمى التلوث **الخطر**

4. العام الذي أنشئت فيه حركة السلام الأخضر هو **1971م**

5. تكمن أهمية طبقة الأوزون في إنها تعمل على امتصاص وترشيح أشعة اسمها..... **فوق البنفسجية**.....

6. نسبة الاراضي التي غطاها البترول من مساحة الكويت... **60 %**

ب- اختر الإجابة الصحيحة من بين البدائل التي تلي كل عبارة وضع خطا تحتها

1. يعيش اقل من 10% من سكان العالم شمالا وجنوبا بين دائرتي عرض

أ- **صفر - 20** ب- 20 - 40 ج- 40 - 60 د- 60 - 90

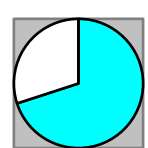
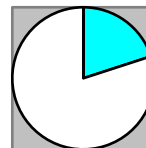
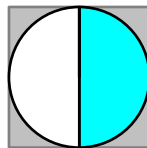
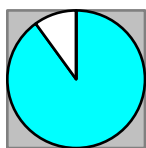
2. الغاز الذي يشكل نسبة 21 % من مكونات الغلاف الجوي اسمه

أ- النيتروجين ب- **الأوكسجين** ج- الميثان د- ثاني أكسيد الكربون

3. شهدت نظم المعلومات الجغرافية تطورا كبيرا منذ منتصف الخمسينيات ونجحت في كثير من الدول المتقدمة على رأسها دولة تسمى

ب- كندا ب- الصين ج- **الولايات المتحدة الأمريكية** د- الأرجنتين

4. الجزء المظلل من الدائرة البيانية لنسبة الغلاف المائي من مساحة الكرة الأرضية يمثله ال



د

ج

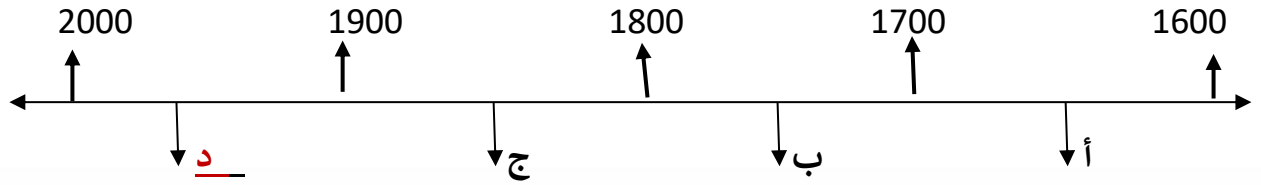
ب

أ

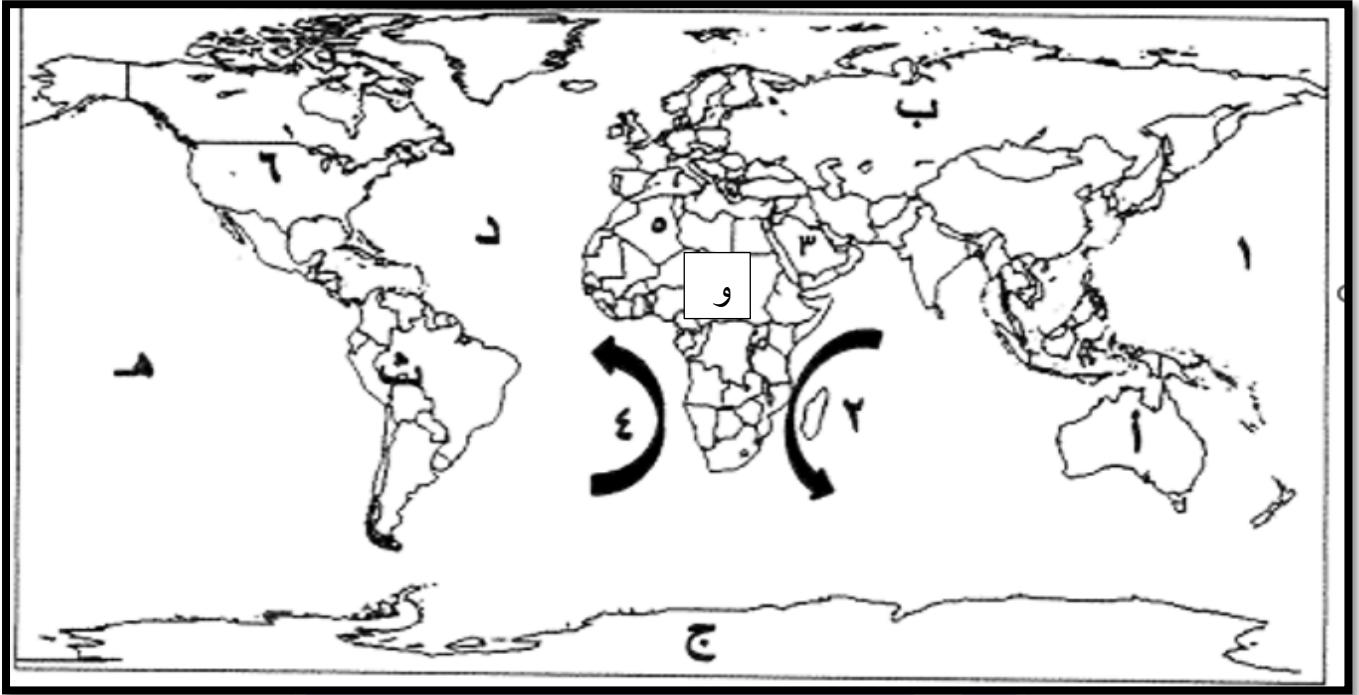
5. الكثافة الناتجة من قسمة جملة عدد السكان على جملة الدخل تسمى

أ-الاقتصادية ب-الزراعية ج-الفيزيولوجية د-العامية

6. لفترة الزمنية التي هدم فيها السور الثالث لمدينة الكويت يمثلها على الخط الزمني التالي الحرف



ج- لاحظ الخريطة التي أمامك ثم استعن بالمدلولات التي تليها لإكمال العبارات التالية



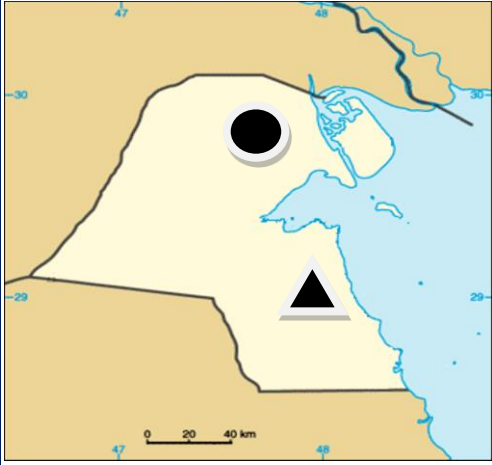
1. القارة التي تم تهجير عمالتها إلى الأمريكتين للعمل والإقامة الدائمة يمثلها على الخريطة الحرف **و**.....

2. المنطقة التي اكتشف العلماء فيها فجوة الأوزون يمثلها على الخريطة الحرف **ج**.....

3. المحيط الأطلسي (الأطلنطي) يمثله على الخريطة الحرف **د**.....

4. تيار بنجويلا البارد يمثله على الخريطة الرقم **4**.....

5. الدولة الأولى في الخرائط الرقمية لنظم المعلومات الجغرافية يمثلها على الخريطة الرقم **6**....



السؤال الثاني: ويتكون من (أ - ب - ج)

(أ) لاحظ خريطة دولة الكويت التي أمامك ثم اجب عن الأسئلة التالية:

1. حدد المطلوب باستخدام الرموز التالية (درجتان)



- حقل برقان



- حقل الروضتين

2. ما الطرق المتبعة لتنظيف التربة من الملوثات الهيدروكربونية (درجة)

1. - نقل التربة ورمها في أماكن خاصة للنفايات.

2. خلط التربة بالمخصبات لإعطاء الفرصة للبكتيريا على تحليل المواد الملوثة.

3. استخدام مذيبات لفصل الملوثات عن التربة.

4. سحب البترول من البحيرات لخزانات خاصة من البحيرات النفطية

(ب) فرق بين كل مما يلي من حيث المفهوم

الهجرة الدولية (درجة)	الهجرة الداخلية (درجة)
تحدث بين دولة وأخرى حيث ينتقل الأفراد من دولة إلى أخرى للعمل	تحدث داخل الدولة نفسها من منطقة إلى أخرى أو محافظة إلى أخرى
جغرافية العمران (درجة)	جغرافية السكان (درجة)
العلم الذي يهتم بدراسة أنماط استخدام الأرض وطبيعة المباني المختلفة	هي أحد فروع الجغرافيا البشرية وتهتم بالدراسة العلمية للسكان من نمو وتوزيع وتركيب وهجرة

(ج) علل لما يلي

1. تلوث مياه البحار والمحيطات (ثلاث درجات) (يكتفى بثلاث إجابات)

- النشاط البشري المتزايد

- معظم الصناعات تطل على السواحل

- حوادث ناقلات النفط

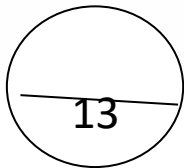
- الملوثات العضوية

2. - ما مخاطر التلوث الضوضائي

1. التعرض الدائم للضوضاء يسبب ضعف في السمع

2. - تأثيرات نفسية تتمثل في القلق والتوتر

3. تأثيرات سيئة على الجهاز العصبي - تؤدي الضوضاء إلى عدم التمييز بين الأصوات



السؤال الثالث: ويتكون من (أ - ب - ج)

أ- ادرس الجدول الذي أمامك والذي يمثل (عددا من السمات لعام 2005) ثم اجب عما يليه من أسئلة

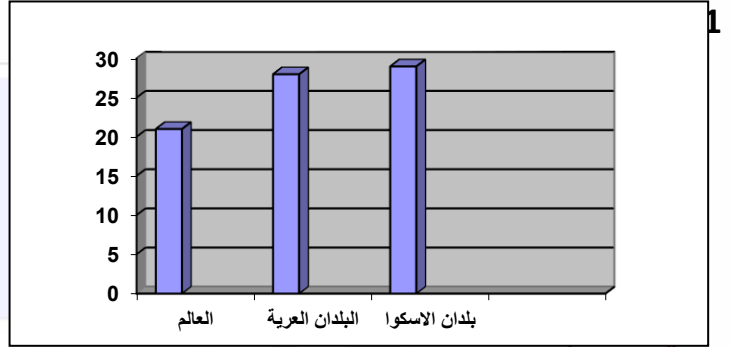
الأقاليم	معدل المواليد	معدل الوفيات
العالم	21.1	9
البلدان العربية	28.2	6.8
بلدان الاسكوا	29.2	5.9

1. استخرج حقيقة من الجدول (درجة)

...ارتفاع معدلات المواليد في الدول العربية..

2. حول معدلات المواليد فقط إلى رسم بياني (أعمدة بيانية)

(أربع درجات) درجة للرسم (كل عمود درجة)



ب- قارن بين كل مما يلي حسب ما هو مطلوب منك بالجدول التالي

أوجه المقارنة	العمران الريفي (القرية) (درجتان)	العمران المدني (المدنية) (درجتان)
الوحدات السكنية	...منفردة وارتفاعها لا يتعدى طابق أو طابقين....	...ارتفاع الوحدات السكنية وتعرف بناطحات السحاب..
الأنشطة الاقتصادية	الزراعة - الرعي (درجة)	الصناعة - التجارة (درجة)

ج- اكتب فيما يلي

1. تأثير التيارات المائية على انتشار وانتقال الملوثات (درجتان)

تلعب التيارات المائية دوراً في نقل الملوثات حيث تساعد الحركة السطحية للمياه في نقل الملوثات على مساحة كبيرة وتلعب الأنهار الدولية دوراً أيضاً في نقل الملوثات من دولة إلى أخرى خصوصاً الأنهار الدولية

2. أذكر أساليب معالجة التلوث الهوائي (درجتان)

1. استخدام مصادر الطاقة البديلة
2. لتوسع في زراعة الأشجار لتنقية الجو
3. تدوير النفايات
4. استخدام مصادر الوقود قليلة التلوث



السؤال الرابع: ويتكون من (أ - ب - ج)

(إن الطبيعة قادرة على التكيف بسهولة فائقة ولكن الطبيعة تعرضت لضربة شديدة فيما يتعلق بالعناصر البرية والبحرية والجوية في دولة الكويت)

1. من قائل هذه العبارة: (كبيرة العلماء في الإدارة البحرية والجوية الأمريكية (N.O.A.A). في وصفها ما حدث للبيئة الكويتية نتيجة لاحتراق آبار البترول. (سيلفيا إيرل) (درجة)
2. الشعار في الصورة المقابلة لمنظمة تسمى الإدارة البحرية والجوية والأمريكية
3. كم عدد آبار النفط التي قام النظام العراقي بحرقها ؟ هو 737 بئر من أصل 1080 بئر

ب- برهن على صحة العبارات التالية

1. لحقت بالتربة الكويتية عدة أضرار بيئية جراء الغزو العراقي البائد (درجتان)
- أ - تلوث التربة بالمواد البترولية
ب- تعرض المحاصيل والمراعي والحيوانات للتسمم
2. لدوافع السياسية كانت سببا في نشأة كثير من المدن (درجتان)
- تحتاج كل دولة إلى مدينة تدير منها شؤون الدولة ويطلق عليها العاصمة السياسية للدولة وقد تكون العاصمة هي الأساس الذي نمت حوله الدولة

ج- بما تفسر العبارات التالية

1. للتلوث الهوائي أثار اقتصادية (ثلاث درجات)
- السيطرة على أضرار التلوث الهوائي صعبة وباهظة التكاليف
- السيطرة على أضرار التلوث الهوائي صعبة وباهظة التكاليف
- الإضرار بالموارد المائية
2. البيوت في مدينة الكويت القديمة كانت تبنى متقاربة من بعضها (درجتان)

- توفير الظل

- منع العواصف الترابية الرملية





مدرسة التميز النموذجية
ابتدائي - متوسط - ثانوي

عندما يكون تعليم أبنائكم
اهتمامكم الأول في الحياة

قنواتنا على تليجرام



الصف الرابع



الصف الثالث



الصف الثاني



الصف الأول



الصف الثامن



الصف السابع



الصف السادس



الصف الخامس



صف ١١ أدبي



صف ١١ علمي



الصف العاشر



الصف التاسع



صف ١٢ أدبي



صف ١٢ علمي

