

تم تحميل هذا الملف من موقع المناهج الكويتية



الملف نموذج إجابة منطقة الجهراء

[موقع المناهج](#) ← [المناهج الكويتية](#) ← [الصف السابع](#) ← [اجتماعيات](#) ← [الفصل الثاني](#)

روابط مواقع التواصل الاجتماعي بحسب الصف السابع



روابط مواد الصف السابع على تلغرام

[الرياضيات](#)

[اللغة الانجليزية](#)

[اللغة العربية](#)

[التربية الاسلامية](#)

المزيد من الملفات بحسب الصف السابع والمادة اجتماعيات في الفصل الثاني

<a href="#">مذكرة موضوعية محلولة</a>	1
<a href="#">حل الكتاب</a>	2
<a href="#">حل الوحدة الرابعة في مادة الاجتماعيات</a>	3
<a href="#">بنك اسئلة التربة سابع</a>	4
<a href="#">مراجعات الصف السابع</a>	5



وزارة التربية

الإدارة العامة لمنطقة الجهراء التعليمية  
التوجيه الفني للاجتماعيات

امتحان نهاية الفترة الدراسية الثانية  
لمقرر الكويت والوطن العربي  
للمصف السابع المتوسط  
نموذج الإجابة

العام الدراسي ٢٠٢١ / ٢٠٢٢ م  
الزمن: ساعة وخمس وأربعون دقيقة  
عدد الأوراق: ٥

أولاً الاسئلة الموضوعية :

السؤال الأول: يتكون من ( أ - ب - ج - د - هـ ) :-

( أ ) أكمل العبارات التالية بما يناسبها فيما درست :- (٦×١) = ٦

- ١ - العام الذي حرقت فيه آبار النفط الكويتية على يد النظام العراقي البائد ١٩٩١م ص ١٦٨
- ٢ - الدولة التي عقد بها المؤتمر الدولي الأول لمانحي سورية تسمى الكويت ص ١٨٨
- ٣ - القطاع الذي يحتل المرتبة الأولى في الاقتصاد العربي يسمى القطاع الزراعي ص ١١٠
- ٤ - الدولة العربية الأولى في إنتاج الغاز الطبيعي تسمى قطر ص ١٢٩
- ٥ - الغاز الناتج بصورة خاصة عن عوادم السيارات يسمى أول أكسيد الكربون ص ١٦٩
- ٦ - الطبقة التي تحمي الأرض من الأشعة فوق البنفسجية الضارة تسمى طبقة الأوزون ص ١٦٩

(ب) - ضع خطأ تحت الخيار الصحيح من بين الخيارات التي تلي كل عبارة : (٦×١) = ٦

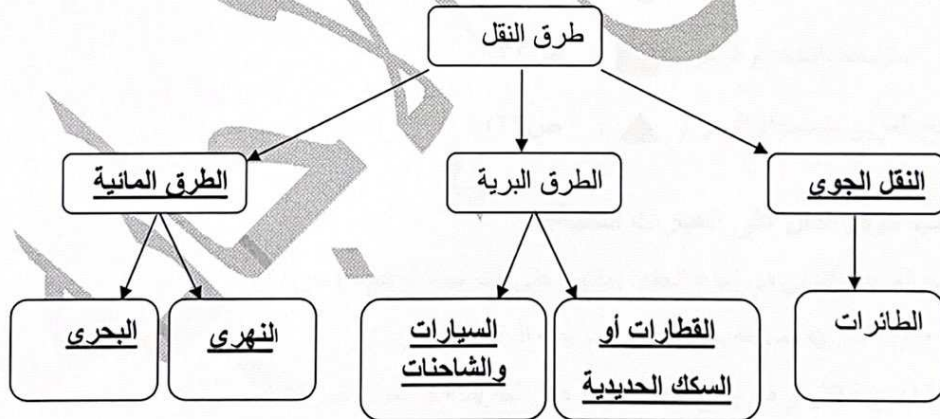
- ١- أكبر الدول العربية من حيث عدد السكان : ص ١٠٠  
( مصر - السعودية - الجزائر - المغرب )
- ٢- العام الذي تم فيه إنشاء الصندوق الكويتي للتنمية الاقتصادية العربية: ص ١٧٩  
( ١٩٦١م - ١٩٦٢م - ١٩٦٣م - ١٩٦٤م )
- ٣- صناعة الخشب والورق من الصناعات: ص ١٤٢  
( التجميعية - التحويلية - الاستخراجية - التجميعية )
- ٤- الدولة التي عقد فيها مؤتمر قمة الأرض عام ١٩٩٢م : ص ١٦٧  
( فرنسا - ألمانيا - البرازيل - الإمارات )
- ٥- اليمن الدولة العربية الأولى في إنتاج محصول: ص ١١٤  
( العنب - البرتقال - البن - التمر )
- ٦ - يبلغ عدد دول الوطن العربي : ص ٩٩  
( ٢٠ دولة - ٢١ دولة - ٢٢ دولة - ٢٣ دولة )

تابع إجابة امتحان مقرر الكويت والوطن العربي- الصف السابع- الفترة الدراسية الثانية- العام الدراسي ٢٠٢١/٢٠٢٢م

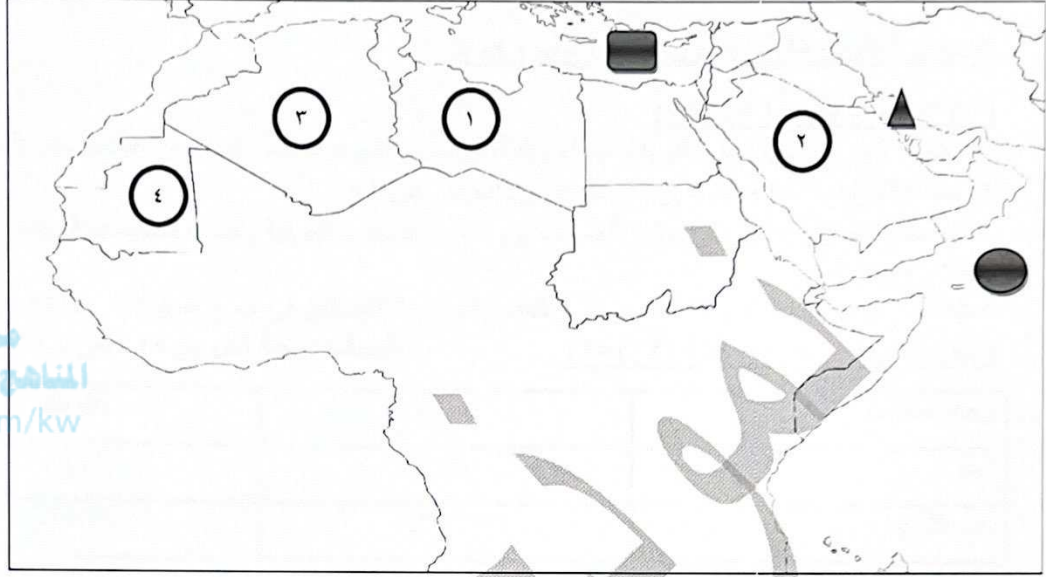
**(ج) صوب ما تحته خط في العبارات التالية: (٦×١)=٦**

١- يعد رأس المال والأسواق من مقومات الصناعة <u>الطبيعية</u>	( البشرية ) ص ١٣٩
٢- الصناعات الأولى في العالم هي الصناعات <u>البتر وكيميائية</u>	( الحرفية ) ص ١٤٣
٣- القمح والأرز والشعير يعتبر نوع من أنواع <u>الفواكه</u>	( الحبوب الغذائية ) ص ١١٣
٤- بقاء العناصر الطبيعية في حالة التوازن تسمى <u>التوازن الطبيعي</u>	( التوازن البيئي ) ص ١٧٠
٥- يفضل السكان العيش في المناطق <u>الجبلية</u>	( السهلية ) ص ١٠٣
٦- أكثر الدول العربية إنتاجاً للابل <u>السعودية</u>	( الصومال ) ص ١١٨

**(د) أملأ الفراغ في المخطط السهمي التالي: (٦×١)=٦ : ص ١٤٧-١٥٠**



( هـ ) لاحظ خريطة الوطن العربي الصماء ثم نفذ المطلوب منك (٦×١) = ٦ :-



موقع  
المناهج الكويتية  
almanahj.com/kw

أولاً: عين على الخريطة باستخدام الرموز التالية :

- ١- المحيط الهندي باستخدام الرمز ( ● ) ص ١٣٣
- ٢- البحر المتوسط باستخدام الرمز ( ■ ) ص ١٣٣
- ٣- الخليج العربي باستخدام الرمز ( ▲ ) ص ١٣٣

ثانياً: اكتب الرقم الدال على العبارات التالية:

- ١- الدولة العربية الأولى في إنتاج الحديد يمثلها على الخريطة الرقم (٤) ص ١٣٢
- ٢- أكبر الدول العربية مساحة يمثلها على الخريطة الرقم (٣) ص ١٠٠
- ٣- الدولة العربية الأولى في إنتاج النفط يمثلها على الخريطة الرقم (٢) ص ١٢٩

تابع إجابة امتحان مقرر الكويت والوطن العربي- الصف السابع- الفترة الدراسية الثانية- العام الدراسي ٢٠٢٢/٢٠٢١ م

### ثانياً الأسئلة المقالية :

السؤال الثاني : مقالتي يتكون من ( أ ، ب ، ج ):

( أ ) عرف ما يلي (٤×١)=٤:

- ١- التلوث: الضرر الذي يلحق بالتربة والهواء والماء، ويصيب التلوث عناصر البيئة من عدة مصادر للتلوث ص ١٦٦
  - ٢- التبادل التجاري: عملية التصدير والاستيراد بين الدول ص ١٥١
  - ٣- التضامن العربي: العمل على توثيق الصلات بين الدول والشعوب العربية وحماية مصالحها السياسية والاقتصادية والثقافية ص ١٧٧
  - ٤- الطاقة: قوى محرركة للألات وعنصر مهم للتقدم والتطور الاقتصادي في جميع المجالات ص ١٢٥
- ( ب ) قارن بين كل من (١/٢×٤)=٢: (نصف درجة لكل جزء) ص ١٣٤-١٣٦

وجه المقارنة	الأوبك	الأوابك
المقر	فيينا	الكويت
عام التأسيس	١٩٦٠م	١٩٦٨م

( ج ) علل لما يلي (الذكر السبب) (٨×١)=٨:

- ١- تحتل الأغنام العربية مكاناً مهماً ضمن الثروة الرعوية ص ١١٨ ثلاث درجات يكتفى بثلاث نقاط  
أ- الأكثر انتشاراً في المراعي العربية ب- أكثر الحيوانات المستأنسة والملائمة لمراعي الوطن العربي وذلك لتحملها الجفاف ج- أهمية منتجاتها بالنسبة للسكان د- مصدر أساسي من مصادر الثروة القومية
- ٢- اختلاف أنواع المنتجات الزراعية من دولة عربية إلى أخرى ص ١١٠ ثلاث درجات  
أ- لاختلاف المناخ . ب- لاختلاف التربة ج- ومدى توافر المياه .
- ٣- تدني وفرة المياه في الوطن العربي ص ١٦٤ درجتان يكتفى بنقطتين  
أ- النمو السريع للسكان ب- ٥٠% من موارده المائية تأتي من خارج حدوده تتحكم فيه دول المنبع في ظل غياب تشريعات دولية تضمن ذلك ج- الطرق التقليدية المستخدمة في استغلال المياه مثل الري بالغمر والاستهلاك الغير مسؤول في مجالات المياه د- الشبكات الغير مؤهلة لنقل المياه شبكات قديمة هـ- افتقار الدول العربية إلي برامج لإدارة المياه ، كما أنها لا تستخدم الأدوات الاقتصادية اللازمة لترشيد الاستخدام المتزايد للمياه .
- ٤- يتمتع النفط العربي بمكانة مهمة على المستوى العالمي ص ١٣١ درجة يكتفى بنقطة  
- نظراً لأهميته للدول الصناعية المتقدمة في أوروبا واليابان والولايات المتحدة الأمريكية .

تابع إجابة امتحان مقرر الكويت والوطن العربي- الصف السابع- الفترة الدراسية الثانية- العام الدراسي ٢٠٢١/٢٠٢٢م

السؤال الثالث :- مقالي يتكون من ( أ ، ب ، ج ):

( أ ) :- أقرأ الفقرة التالية ثم أجب عما يليها من أسئلة: (٥×٥) ص ١٦٢-١٦٣

" تواجه دول الوطن العربي مشكلات وتحديات كثيرة من ضمن هذه التحديات التصحر كونه يقع في المناطق الجافة وشبه الجافة والتي تكونت بسبب عوامل بشرية وطبيعية، لكن الدول العربية تعمل على علاج تلك المشكلة بسياسة تنموية وخططاً إستراتيجية "

١- ضع عنواناً للفقرة السابقة. (درجة)

- (ما يراه المصحح مناسباً)

٢ - عرف ما تحته خط . (درجة)

التصحر: زحف رمال الصحراء على المناطق الجافة وشبه الجافة ص ١٦٢.

٣- استخلص من الفقرة أسباب التصحر . ص ١٦٢ (درجتان)

أ- بشرية ب- طبيعية

٤- اذكر اسماء دولتان عربيتان تعتبران من أكثر الدول العربية تهديداً بالتصحر. ص ١٦٢

أ- السودان ب- الصومال ج- موريتانيا (نصف درجة لكل نقطة)

( ب ) عدد مايلي: (٨×١) ٨ يكتفى بنقطتين

١- وسائل الري الحديثة. ص ١٦٥

أ- الري (الرش) بالتنقيط . ب- الري (الرش) المحوري.

٢- أنواع التنمية في الوطن العربي. ص ١٧٣

أ- تنمية مستدامة ب- تنمية اقتصادية ج- تنمية بشرية

٣- الإحصاءات السكانية في الوطن العربي. ص ٩٩

أ- التعداد السكاني ب- الإحصاء الحيوي

٤- مصادر الطاقة البديلة (المتجددة) ص ١٧١

أ- الشمس ب- المياه ج- الرياح

( ج ) فرق من حيث التعريف بين كل من: (٢×١) ٢=

الموارد البشرية ص ١٠٩	الموارد الطبيعية ص ١٠٩
هي التي ترتبط بالسكان من حيث أعدادهم وتوزيعهم ومناسبة أعدادهم لمساحة الأرض التي يستغلونها .	ثروات منحها الله تعالى للإقليم من دون أن يكون للإنسان أي دور في وجودها مثل الثروات المعدنية والغابات والمراعي والموارد المائية وموقع الإقليم.



العام الدراسي: ٢٠٢١/٢٠٢٢ م  
الزمن : ساعة وخمسة وأربعون دقيقة  
عدد الأوراق : (٦)

امتحان المنهج الكامل  
لمقرر الكويت والوطن العربي  
للمصف السابع المتوسط  
نموذج الإجابة

وزارة التربية  
الإدارة العامة لمنطقة الجهراء التعليمية  
التوجيه الفني للاجتماعيات

أولاً: الأسئلة الموضوعية :-

السؤال الأول: يتكون من ( أ- ب - ج - د - هـ - و )- (٣٠ درجة -درجة واحدة لكل إجابة)

( أ )- اكمل العبارات التالية بما يناسبها فيما درست : (٦=٦×١)

موقع  
المناهج الكويتية  
almanahj.com/kw

١- الدولة التي انضمت حديثاً لجامعة الدول العربية عام ١٩٩٣ تسمى جزر القمر. ص ٢٣

٢- أكثر الأشكال التضاريسية انتشاراً في الوطن العربي تسمى الهضاب ص ٤٠

٣- الدولة العربية التي يقع فيها جبال عسير تسمى السعودية. ص ٣٨

٤- تعرف الحشائش الحارة باسم السافانا. ص ٥٢

٥- تم إنشاء الصندوق الكويتي للتنمية الاقتصادية العربية في عام ١٩٦١م. ص ١٧٩

٦- العام الذي عقد فيه مؤتمر قمة الأرض لمواجهة التلوث البيئي في البرازيل ١٩٩٢م. ص ١٦٧

(ب)- ظلل (أ) إذا كانت العبارة صحيحة وظلل (ب) إذا كانت العبارة خاطئة: (٤=٤×١)

م	العبارة	أ	ب
١	أصبحت الكويت تعتمد اعتماداً كاملاً على تحلية مياه البحر منذ عام ١٩٥٤م ص ٦١		
٢	الإنجيل من الكتب السماوية نزل على سيدنا عيسى بن مريم ص ٩٠		
٣	تعد الحبوب الغذائية من أهم المزروعات في الوطن العربي حيث تشغل مساحة كبيرة من الأراضي المزروعة ص ١١٣		
٤	تنتشر تربية الدواجن والطيور في جميع الدول العربية ص ١٢٠		

(ج) -ضع خطاً تحت الخيار الصحيح من بين الخيارات التي تلي كل عبارة: (5=5×1)

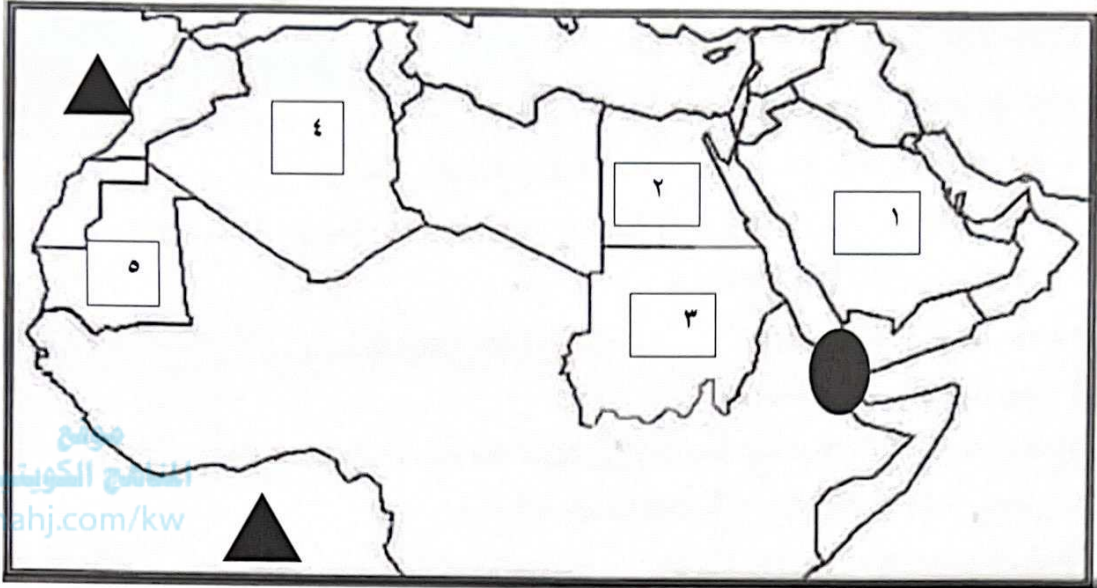
- ١-الدولة العربية التي يمر بها خط الاستواء . ص ٣١
- مصر - السعودية - الصومال - الجزائر
- ٢-صناعة السيارات في الوطن العربي تعتبر من الصناعات . ص ١٤٣
- الحرفية - التجميعة - البتر وكيموية - الاستخراجية
- ٣-العام الذي أنزل فيه القرآن الكريم على سيدنا محمد صلى الله عليه وسلم . ص ٩٠
- ٦١٠م - ٦٢٠م - ٦٣٠م - ٦٤٠م
- ٤- أكثر مصادر الملوثات انتشاراً في الوطن العربي. ص ١٦٦
- الفيزيائي - الصناعي - الكيميائي - الزراعي
- ٥- تشكل نسبة القطاع الزراعي من الاقتصاد العربي . ص ١١٠
- ٢٠% - ٣٠% - ٤٠% - ٥٠%

(د) اكتب المفاهيم و المصطلحات الدالة على العبارات التالية: (5=5×1)

م	المفهوم او المصطلح	العبارة
1	الموقع الاستراتيجي ص ٢٨	أي موقع ذي مكانة مهمة بين دول العالم.
2	الحضارة ص ٧١	كل ما يطرأ على المجتمع من تقدم ورقي في جميع نواحي الحياة الدينية والسياسية والاقتصادية والفكرية.
3	التلوث ص ١٦٦	هو الضرر الذي يلحق بالتربة والهواء والماء ويصيب التلوث عناصر البيئة من عدة مصادر للملوثات .
4	الطاقة ص ١٢٥	قوى محركة للألات وعنصر مهم للتقدم والتطور الاقتصادي في جميع المجالات.
5	كثافة السكان ص ١٠٢	نسبة عدد السكان الكلي في دولة ما أو منطقة ما إلى المساحة الكلية لهذه الدولة أو المنطقة .



(هـ) - لاحظ خريطة الوطن العربي الصماء ثم نفذ عليها المطلوب : (٥=٥×١)



(١) - أكتب الرقم الدال على العبارات التالية :-


- الدولة العربية الأولى في إنتاج الأغنام يمثلها على الخريطة الرقم ( ٣ ) ص ١١٨
- أولى الدول العربية في إنتاج معدن الحديد يمثلها على الخريطة الرقم ( ٥ ) ص ١٣٢
- الدولة العربية الأولى في إنتاج واحتياط النفط يمثلها على الخريطة الرقم ( ١ ) ص ١٢٩

(٢) - حدد على الخريطة باستخدام الرموز التالية :-

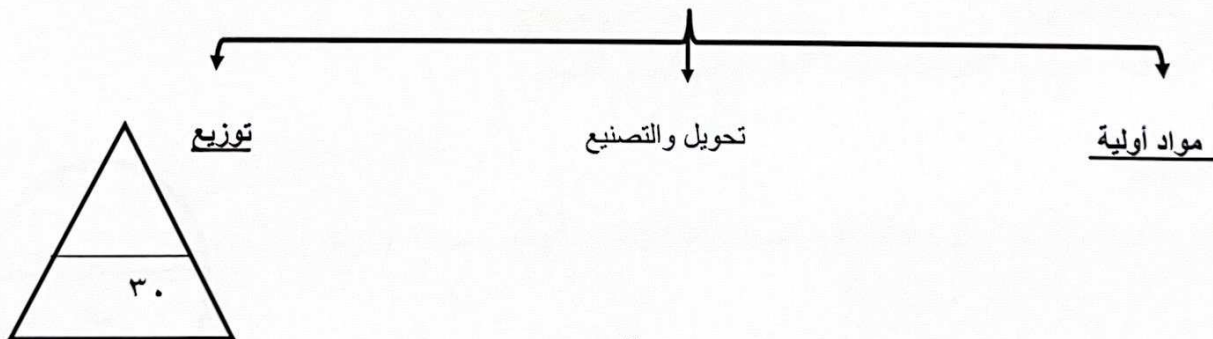
- مضيق باب المندب باستخدام الرمز ( ● ) ص ٢٨
- المحيط الأطلسي باستخدام الرمز ( ▲ ) ص ٣٣

(و) - اكمل المخطط السهمي التالي : (٥=٥×١)

١- مقومات الهوية العربية ص ٢٦



٢- مراحل عملية التصنيع ص ١٣٧



**ثانياً: الأسئلة المقالية :**

**السؤال الثاني : يتكون من ( أ - ب - ج ) :**

( أ ) - عدد ما يلي : (  $4=2 \times 2$  )

١- مصادر المياه في الوطن العربي. ص ٥٧ ( درجتان يكتفي بنقطتين )

أ ( مياه الأنهار . ب) الأمطار . ج) البحيرات . د) المياه الجوفية العيون - الينابيع - الأفلاج .  
هـ) مياه البحار والمحيطان والخلجان .

٢- أهداف الصناعة البتروكيميائية. ص ١٤٥ ( درجتان يكتفي بنقطتين )

أ) تنويع مصادر الدخل للدولة المنتجة .

ب) توفير الموارد الأولية لصناعات التحويلة لتأمين حاجات القطاعات الاستهلاكية خاصة في مجال البناء .

ج ) تطوير الصناعات البتروكيميائية إلى تقنيات متخصصة عالية.

**(ب) - فرق بين كل من : (  $4=4 \times 1$  )**

المناخ ص ٤٤	الطقس ص ٤٤
حالة الجو خلال فترة زمنية طويلة من حيث درجة الحرارة والرطوبة والأمطار والرياح .	حالة الجو في مكان لمدة قصيرة تتراوح بين يوم او عدة أيام من حيث درجة الحرارة والرطوبة والأمطار والرياح والضغط الجوي .
الموارد البشرية ص ١٠٩	الموارد الطبيعية ص ١٠٩
هي التي ترتبط بالسكان من حيث أعدادهم وتوزيعهم ومناسبة أعدادهم لمساحة الأرض التي يستغلونها .	الثروات التي منحها الله لإقليم من دون أن يكون للإنسان أي دور في وجودها .

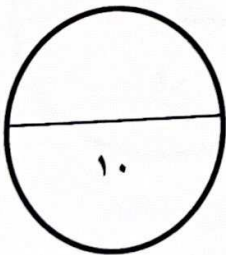
**(ج) - عرف المفاهيم والمصطلحات التالية : (  $2=2 \times 1$  )**

١- النبات الطبيعي. ص ٥١ (درجة)

هو النبات الذي ينمو تلقائياً عقب سقوط المطر دون تدخل من الإنسان.

٢- التنمية .

تعني التطور والتطوير وهي عملية تتطلب التخطيط والمشاركة من الجميع . ص ١٧٢ (درجة)



**السؤال الثالث : يتكون من ( أ - ب - ج ) :**

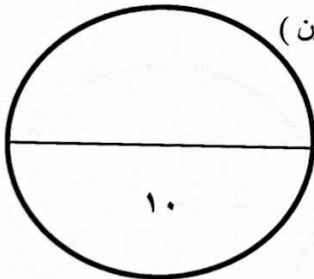
**( أ ) - قارن بين كل من: ( 5=5×1 )**

أوجه المقارنة	الغابات المدارية ص ٥٢	الغابات المعتدلة
مميزاتها ( درجة لكل نقطة )	*تمتاز بضخامة أشجارها وجذوعها. *تشابك أغصانها *أوراقها عريضة. * ارتفاعها كبير ( يكتفي بنقطة واحدة )	*تتسم بعدم كثافتها * بعضها يكون دائم الخضرة وبعضها الآخر تتساقط أوراقه في فصل الشتاء ( يكتفي بنقطة واحدة )
أسماء أهم الأشجار ( نصف درجة لكل نقطة )	*الساج * الماهوجني * الأبنوس *السدر * الأثل * السنط ( يكتفي بنقطة واحدة )	*الأرز * العرعر * الصنوبر الحلبي * البلوط * السنديان *أشجار التفاح والزيتون والحمضيات والفواكه الأخرى البرية . ( يكتفي بنقطة واحدة )
استخداماتها ( درجة لكل نقطة )	*البناء * صناعة الأثاث ( يكتفي بنقطة واحدة )	*يستخدم لحاء البلوط والسنديان في صناعة الفلين ( يكتفي بنقطة واحدة )

(ب) - علل لما يأتي (انكر السبب) : ( 3= 3× 1 ) درجة لكل إجابة )

- تسمى الغلات الصناعية والتجارية بالغلات النقدية . ص ١١٣
    - تدخل في الصناعة وتزرع بغرض التجارة والحصول على نقد .
  - يتمتع النفط العربي بمكانة مهمة على المستوى العالمي . ص ١٣١
    - نظراً لأهميته للدول الصناعية المتقدمة في أوروبا واليابان والولايات المتحدة الأمريكية .
  - تختلف أنواع المنتجات من دولة عربية إلى أخرى . ص ١١٠
    - بسبب اختلاف المناخ والتربة ومدى توافر المياه في هذه الدول .
- (ج) - عدد المشكلات التي تواجه التنمية البشرية . ص ١٧٥ . (درجتان يكتفي بنقطتين )

- ضعف الاستفادة من القدرات البشرية في المنطقة العربية .
- مشكلة الأمية .
- نقص ومحدودية مشاركة المرأة في المنظمات السياسية .
- الاختلاف الكبير في مستويات المعيشة بين دولة وأخرى .



**السؤال الرابع : يتكون من ( أ- ب ) :**

**(أ) اقرأ الفقرة التالية ثم اجب عما يليها من الاسئلة :**

(موقع الوطن العربي في المناطق الجافة وشبه الجافة يعرضه بشكل أساسي لمشكلة التصحّر حيث تتحول الأراضي الزراعية إلى أراضٍ صحراوية غير منتجة وتعتبر السودان والصومال وموريتانيا أكثر الدول العربية تهديداً بالتصحّر ) .

١- عرف ما تحته خط . ص ١٦٢ (درجة)

التصحّر: هو زحف رمال الصحراء على المناطق الجافة وشبه الجافة .

٢- عدد أسباب التصحر. ص ١٦٢ . (درجتان)

\* بشرية  
\* طبيعية

٣- ما العقبات التي تواجه الإنتاج الزراعي في الوطن العربي . ص ١٦١ (درجتان يكتفي بنقطتين)

- \* عدم استغلال الأراضي القابلة للزراعة لندرة مياه الري أو تذبذب الأمطار أو قلة الأيدي العاملة .
- \* اتباع طرق الزراعة التقليدية في معظم أجزاء الوطن العربي .
- \* تلوث التربة نتيجة للإسراف في استخدام المبيدات الحشرية .
- \* زحف الرمال التصحر وانجراف التربة .
- \* الرعي الجائر .

**(ب) - قارن بين كل من :**

معايير المقارنة	منظمة الأوبك ص ١٣٤	منظمة الأوبك ص ١٣٥
التعريف	منظمة عالمية تعتمد علي تصدير النفط (درجة)	منظمة الدول العربية المصدرة للنفط (درجة)
سنة التأسيس	١٩٦٠ م (درجة)	١٩٦٨ م (درجة)
مقر المنظمة	فيينا ( نص درجة )	الكويت ( نص درجة )

