

تم تحميل هذا الملف من موقع ملفات الكويت التعليمية



[com.kwedufiles.www//:https](https://www.kwedufiles.com)

*للحصول على أوراق عمل لجميع الصفوف وجميع المواد اضغط هنا

* للحصول على أوراق عمل لجميع مواد الصف السابع اضغط هنا

<https://kwedufiles.com/7>

* للحصول على جميع أوراق الصف السابع في مادة اجتماعيات ولجميع الفصول, اضغط هنا

<https://kwedufiles.com/7social>

* للحصول على أوراق عمل لجميع مواد الصف السابع في مادة اجتماعيات الخاصة بـ الفصل الأول اضغط هنا

<https://www.kwedufiles.com/7social1>

* لتحميل كتب جميع المواد في جميع الفصول للصف السابع اضغط هنا

<https://www.kwedufiles.com/grade7>

* لتحميل جميع ملفات المدرس منطقة مبارك الكبير التعليمية اضغط هنا

[bot_kwlinks/me.t//:https](https://me.t/bot_kwlinks)

للحصول على جميع روابط الصفوف على تلغرام وفيسبوك من قنوات وصفحات: اضغط هنا

الروابط التالية هي روابط الصف السابع على مواقع التواصل الاجتماعي

مجموعة الفيسبوك

صفحة الفيسبوك

مجموعة التلغرام

بوت التلغرام

قناة التلغرام

رياضيات على التلغرام



وزارة التربية

الإدارة العامة لمنطقة مبارك الكبير التعليمية

كنترول مبارك الكبير

امتحانات الفصل الدراسي الأول
٢٠٢٠ / ٢٠١٩

الصف	السابع
المادة	الاجتماعيات





وزارة التربية

امتحان نهاية الفصل الدراسي الأول

العام الدراسي : ٢٠١٩/٢٠٢٠م

الزمن : ساعة و ٤٥ دقيقة

مقرر / الدراسات الاجتماعية الكويت والوطن العربي

الإدارة العامة لمنطقة مبارك الكبير التعليمية

عدد الأوراق : (٦)

للفص السابع المتوسط

التوجيه الفني للاجتماعيات

السؤال الأول (موضوعي) : يتكون من (أ - ب - ج - د - هـ - و) : (لكل إجابة درجة ١ × ٣٦ = ٣٦ درجة)

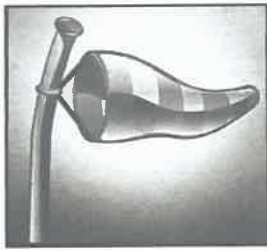
(أ) ضع خطأً تحت الخيار الصحيح من بين الخيارات التي تلي كل عبارة مما يأتي :

١- نسبة مساحة الوطن العربي من جملة مساحة العالم يمثلها الدائرة البيانية التي تحمل الحرف : ص ٢٣



٢- الدولة العربية التي يمر بها خط الاستواء : ص ٣١

أ- تونس ب- ليبيا ج- المغرب د- الصومال



٣- الصورة التي أمامك تمثل عنصر من عناصر المناخ : ص ٤٥

أ- الرياح ب- الأمطار
ج- الرطوبة د- درجة الحرارة

٤- عدد الحروف في الكتابة المسمارية : ص ٨٣

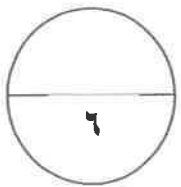
أ- ٥٠٠ حرف ب- ٦٠٠ حرف ج- ٧٠٠ حرف د- ٨٠٠ حرف

٥- يطلق على البحرين قديماً : ص ٨٩

أ- بابل ب- سبأ ج- أوال د- تدمر

٦- العام الذي أنزل فيه القرآن الكريم على سيدنا محمد صلى الله عليه وسلم : ص ٩٠

أ- ٦١٠ م ب- ٦٢٠ م ج- ٦٣٠ م د- ٦٤٠ م

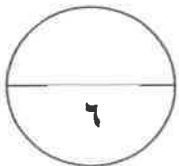
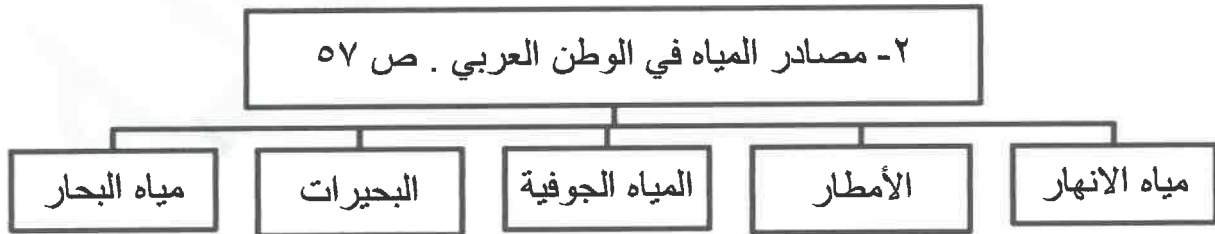
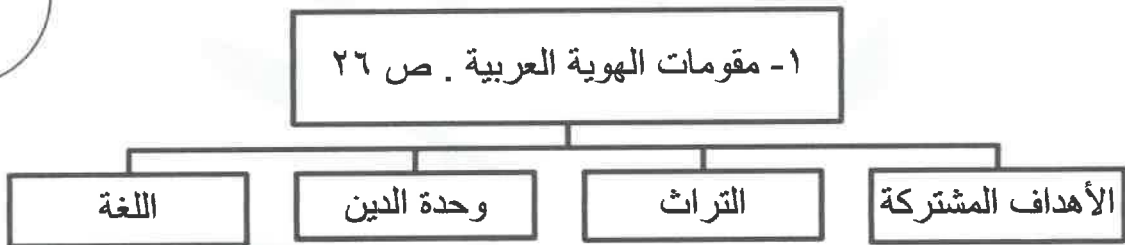
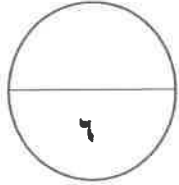


تابع / السؤال الأول :

(ب) أكمل العبارات الآتية بما يناسبها :

- ١- الدولة التي انضمت حديثا لجامعة الدول العربية عام ١٩٩٣م تسمى : **جزر القمر** . ص ٢٣
- ٢- تشرف على قناة السويس دولة عربية تسمى . **مصر** ص ٢٨
- ٣- الدولة العربية التي يقع فيها جبال الحجاز تسمى : **السعودية** ص ٣٨
- ٤- عرفت الكتابة المصرية القديمة باسم : **الكتابة الهيروغليفية** . ص ٧٧
- ٥- يطلق اسم بلاد الرافدين أو بلاد ما بين النهرين على دولة عربية تسمى : **العراق** . ص ٧٩
- ٦- الصورة التي أمامك تمثل معلم ديني يسمى : **مكة المكرمة - الكعبة** . ص ٩١

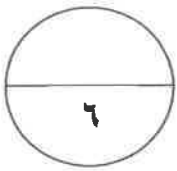
(ج) أكمل المخططات السهمية التالية :



تابع / السؤال الأول :

(د) أكتب المفاهيم أو المصطلحات الدالة على العبارات التالية :

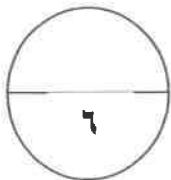
م	المفهوم أو المصطلح	العبرة
١	الوطن العربي ص ٢٢	- مجموعة الدول العربية التي يجمعها عدد من السمات المشتركة (الدين واللغة) ويمتد ضمن قارتين من أكبر قارات العالم مساحة .
٢	الموقع الاستراتيجي ص ٢٨	- أي موقع ذي مكانة مهمة بين دول العالم .
٣	النبات الطبيعي ص ٥١	- النبات الذي ينمو تلقائيا عقب سقوط المطر دون تدخل من الانسان .
٤	الحضارة ص ٧١	- كل ما يطرأ على المجتمع من تقدم ورقي في جميع نواحي الحياة الدينية والسياسية والاقتصادية والفكرية.
٥	البحيرة ص ٦٠	- مسطح مائي تحيط به اليابسة من جميع الاتجاهات .
٦	الضغط الجوي ص ٤٤	- وزن الهواء فوق أي مكان .



(هـ) صنف الجبال في الوطن العربي حسب الجدول التالي :

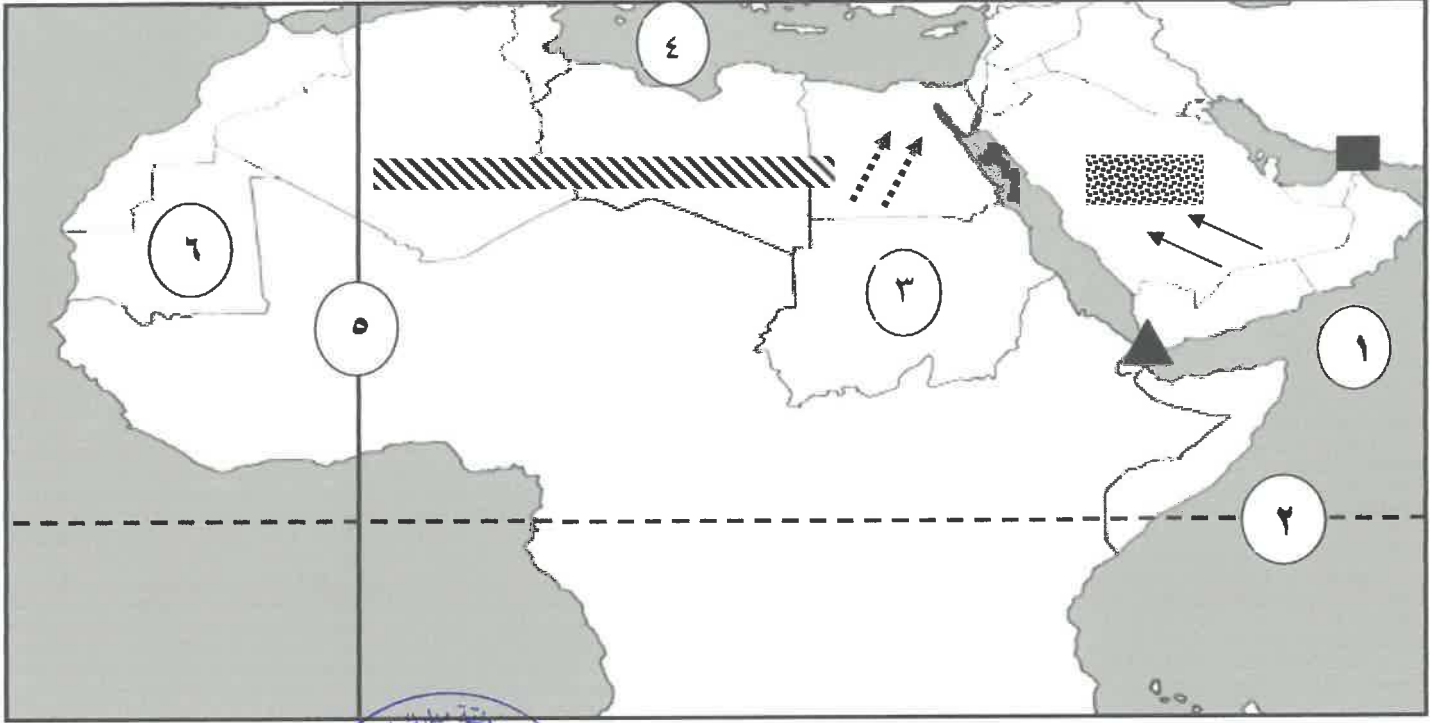
(جبال عسير - جبل مرة - جبال البحر الاحمر - جبل قاسيون - جبال أطلس - جبال الأحجار)

الجناح الآسيوي ص ٣٨	الجناح الأفريقي ص ٣٨
جبال عسير - جبل قاسيون	جبل مرة - جبال البحر الاحمر - جبال أطلس - جبال الأحجار

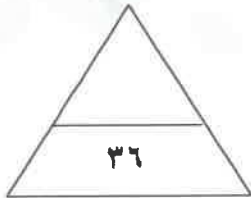


تابع / السؤال الأول :

(و) أمامك خريطة الوطن العربي الصماء أكتب الرقم أو الرمز الدال على الأسئلة التالية :



- بحر العرب يمثله على الخريطة الرقم (١) ص ٥٨
- دولة السودان يمثّلها على الخريطة الرقم (٣) ص ٣٣
- مضيق باب المندب يمثله في الخريطة الرمز (▲) ص ٢٨
- رياح السموم يمثّلها على الخريطة الرمز (↖) ص ٤٨
- هضبة نجد يمثّلها على الخريطة الرمز (■) ص ٤٠
- خط غرينتش يمثله على الخريطة الرقم (٥) ص ٣١



الدرجة بالحروف :

السؤال الثاني (المقال) يتكون من (أ - ب - ج) :

(أ) اقرأ الفقرة الآتية ثم أجب عن الأسئلة التي تليها :

" يمتد الوطن العربي من المحيط الأطلسي غربا إلى بحر العرب والخليج العربي شرقا ومن خط الاستواء إلى البحر المتوسط شمالا ، هذا الاتساع الكبير لمساحة الوطن العربي ترتب عليه تنوع في أشكال سطح الأرض أو كما تعرف باسم التضاريس والتي من أهم أشكالها (السهول - الجبال - الهضاب) ."

- ١- عرف - ما تحته خط .
 * مساحة كبيرة من سطح الأرض تتميز باستوائها وقلة ارتفاعها . ص ٤٢ (درجة)
 ٢- فرق بين كلا من .

السهول الساحلية ص ٤٢	السهول الفيضية ص ٤٢
هي الأراضي المنبسطة التي تجاوز سواحل البحار والمحيطات . (درجة)	هي الأراضي المنخفضة التي تكونت من التربة التي حملتها مياه الأنهار . (درجة)

(ب) قارن بين كلا مما يلي :

الإستبس ص ٥٢	السافانا ص ٥٢	وجه المقارنة
- حشائش قصيرة نوعا ما تنمو في الشتاء خلال موسم سقوط الأمطار (درجة)	- حشائش طويلة يختلف نوعها حسب كمية الامطار (درجة)	المميزات
- الأغنام - الأبل الخيل - الحمير . (درجة)	- الماشية (درجة)	الحيوانات التي تربي في الاقليم

(ج) عدد مايلي :

- ١- مراكز انتقال الحضارة العربية الإسلامية إلى أوروبا . (درجتان يكتفي بإجابتين) ص ٩٢
 * بلاد الاندلس . * صقلية . * الاحتلال الصليبي لبلاد الشام .
 ٢- الديانات السماوية التي انتشرت في أنحاء العالم . (٣ درجات) ص ٩٠
 * الديانة اليهودية . الديانة المسيحية . * الديانة الإسلامية .





السؤال الثالث (المقالى) يتكون من (أ - ب - ج) :

(أ) لاحظ الصورة التي أمامك ثم أجب عما يلي :

١- أكتب - اسم الشخصية في الصورة . (درجة) ص ٨٤
* حمورابي .

٢- أكمل - الحضارة التي ظهر فيها تسمى :

* بلاد الرافدين - بلاد ما بين النهرين (درجة) ص ٧٩

٣- دلل - انتشار الامن والأمان في البلاد في عهده . ص ٨٤

* احتوت الشريعة على ٢٨٢ مادة قانونية إعتمدت على مبدأ السن بالسن و العين بالعين في التطبيق . (درجة)

(ب) فرّق بين كل مما يلي :

المضيق ص ٢٨	القناه ص ٢٨
ممر مائي ضيق يصل بين بحرين أو محيطين أو أي مساحتين كبيرتين نسبيا من الماء . (درجة)	مجرى مائي صناعي ضيق يشق لأغراض الري أو النقل . (درجة)
الطقس ص ٤٤	المناخ ص ٤٤
حالة الجو في مكان لمدة قصيرة تتراوح بين عدة أيام من حيث درجة الحرارة والرطوبة والأمطار والرياح والضغط الجوي . (درجة)	حالة الجو خلال فترة زمنية طويلة من حيث درجة الحرارة والرطوبة والأمطار . (درجة)

(ج) أكتب فيما يلي :

١- تعد منطقة جنوب غرب شبة الجزيرة العربية من أكثر المناطق ملائمة لقيام الحضارة. ص ٨٥ (درجتان)

* توافر المياه العذبة والمناخ المناسب لقيام الزراعة . * الموقع الذي يسمح بقيام النشاط التجاري فيها .

٢- مقومات الحضارة الأساسية . ص ٧٣ (٣ درجات - يكتفى ٣ إجابات)

* الموقع الاستراتيجي . * توافر مصادر المياه العذبة . * اعتدال المناخ . * توافر الثروات الطبيعي .

* توافر العنصر البشري .