

تم تحميل هذا الملف من موقع المناهج الكويتية



الملف وسائل ومراجعات وأوراق عمل على الوحدة الخامسة

[موقع المناهج](#) ← [المناهج الكويتية](#) ← [الصف الثاني](#) ← [رياضيات](#) ← [الفصل الأول](#)

روابط مواقع التواصل الاجتماعي بحسب الصف الثاني



روابط مواد الصف الثاني على تلغرام

[الرياضيات](#)

[اللغة الانجليزية](#)

[اللغة العربية](#)

[التربية الاسلامية](#)

المزيد من الملفات بحسب الصف الثاني والمادة رياضيات في الفصل الأول

[التقريب الى اقرب عشرة في مادة الرياضيات](#)

1

[التقريب الى اقرب عشرة في مادة الرياضيات 4](#)

2

[ورقة عمل في مادة الرياضيات](#)

3

[ورقة عمل المكعبات 1 في مادة الرياضيات](#)

4

[ورقة عمل مقارنة في مادة الرياضيات](#)

5




وزارة التربية
الإدارة العامة لمنطقة الأحمدية التعليمية
مدرسة هدية الابتدائية بنين



موقع
المناهج الكويتية
almanahj.com/kw

• الوحدة (5)



للمصف الثاني



• أ. عزة علي

إعداد المعلمة

• أ. شيمه المطيري

إشراف رئيسة القسم



• استكشاف الجسومات

بند (٥-١)


موقع
المنهج الكويتية
almanah



صنف الاجسام ثم صل




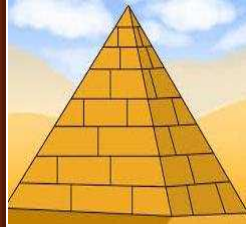
موقع
المنهج الكويتية
almanahj.com/kw



لا تندرج

تندرج

حدد أي الأشكال التالية (تتدحرج – لا تتدحرج)




الأشكال

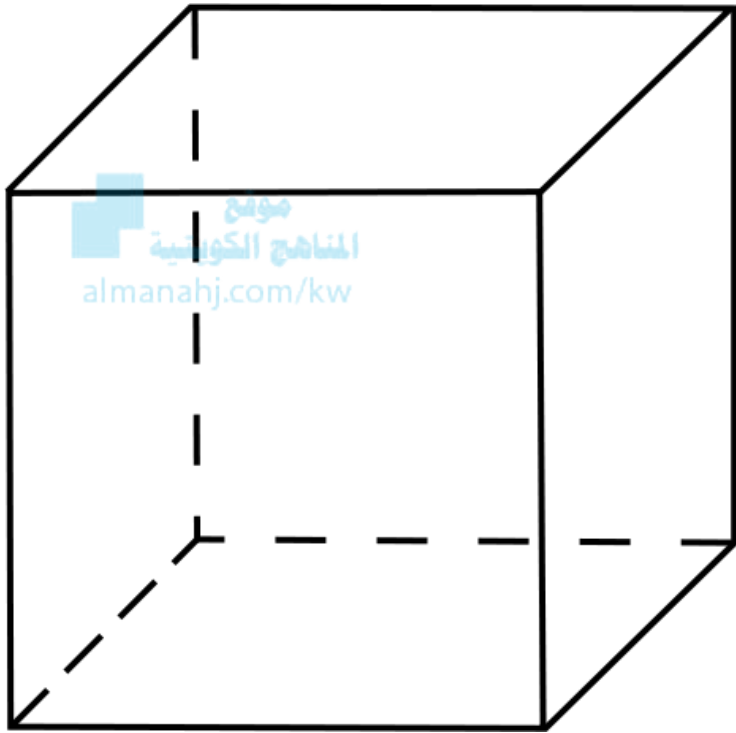
تتدحرج

نعم


لا



أكمل



- اسم الجسم —————
- عدد الأوجه —————
- عدد الأحرف —————
- عدد الرؤوس —————



أكمل


● اسم الجسم —————

● عدد الأوجه —————

● عدد الأحرف —————

● عدد الرؤوس —————





أكمل

● اسم الجسم —————

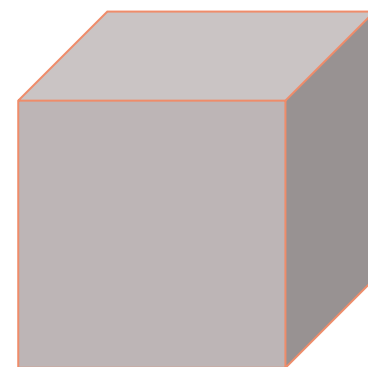


● عدد الأوجه —————

● عدد الأحرف —————


● عدد الرؤوس —————



حوط الجسم المناسب لكل الوجوه المعروضة





موقع
المناهج الكويتية
almanahj.com/kw



حوط الجسم المناسب لكل الوجوه المعروضة



موقع
المنهاج الكويتية
almanahj.com/kw



• الأشكال المستوية والمنحنيات

بند (٥-٢)






أكمل

موقع
المناهج الكويتية
almanahj.com/kw

● اسم الشكل —————

● عدد الرؤوس —————

● عدد الأضلاع —————



أكمل



● اسم الشكل —————

● عدد الرؤوس —————

● عدد الأضلاع —————




أكمل



● اسم الشكل —————

● عدد الرؤوس —————

● عدد الأضلاع —————



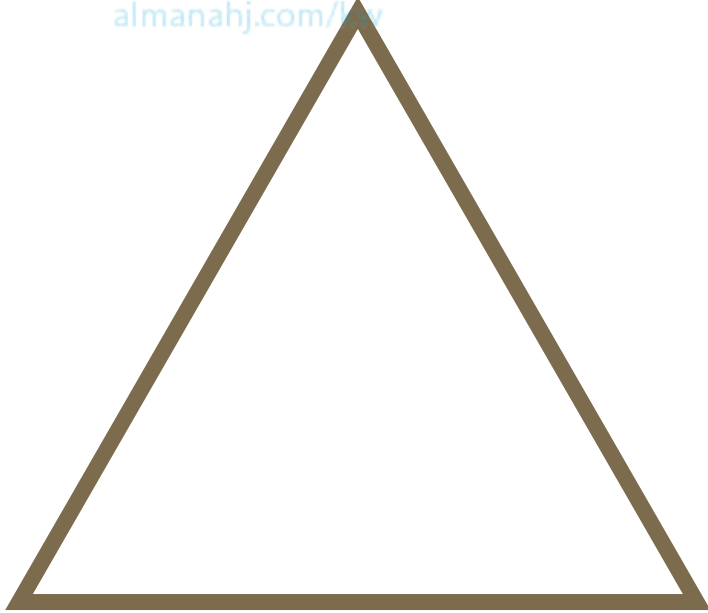
أكمل

● اسم الشكل _____

● عدد الرؤوس _____

● عدد الأضلاع _____

موقع
المنهج الكويتية
almanahj.com/ky




ارسم خطأً حول الوجه الذي تركز
عليه إحدى أدواتك . أكمل


موقع
المنهج الكويتية
almanahj.com/kw




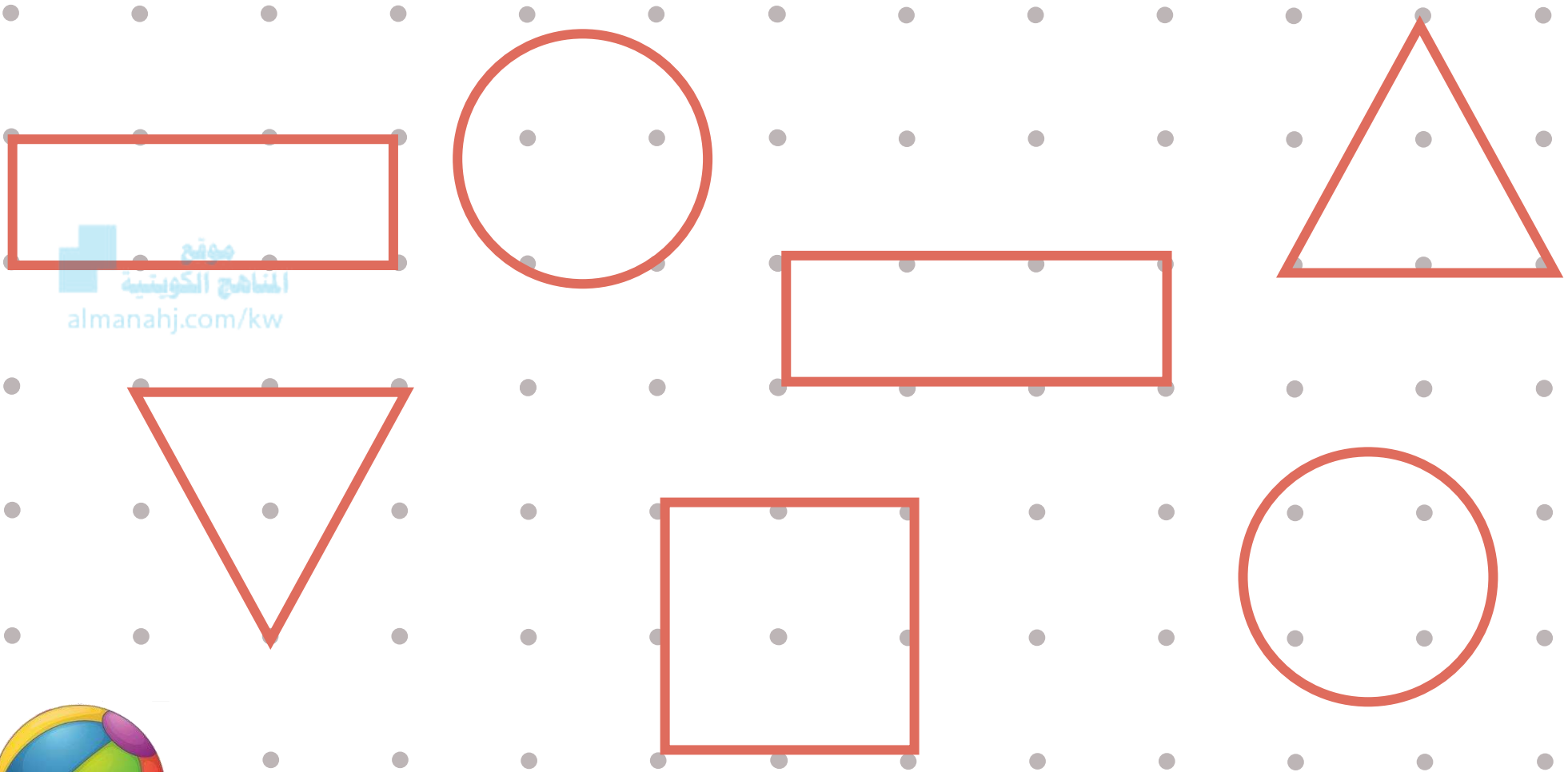
أشكال متطابقة




بند (٣-٥)





لون كل شكلين متطابقين بالشكل نفسه











حوظ الشكل الذي يطابق الشكل الأول




موقع
المنهج الكويتي
almanahj.com/kw






ارسم شكلاً مطابقاً الشكل المرسوم



تكوين أشكال





بند (٤-٥)



استخدم الأشكال الهندسية البسيطة للحصول على المربع





موقع
المنهج الكويتية
almanahj.com/kw



استخدم الأشكال الهندسية البسيطة للحصول على المربع




موقع
المنهج الكويتية
almanahj.com/kw





في أي من المجموعات التالية يمكن تكوين المربع ؟

فسر ذلك باستخدام الشبكة.



المناهج الكويتية
almanahi.com/kw





أجب عن الأسئلة التالية من خلال الرسم الموضح

كم عدد كل  ؟

كم عدد كل  ؟


كم عدد كل  ؟

كم عدد كل  ؟




كون شكلاً جميلاً باستخدام الأشكال الهندسية البسيطة (مستطيل – مثلث

– مربع – دائرة) بالقياسات التي تريدها، ويمكن التكرار.



• مراجعة الوحدة الخامسة


المنهج الكويتي
almanahj.com/kw


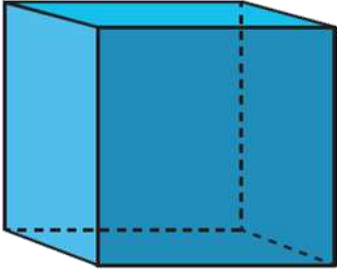




بند (٥-٥)



استخدم المجسمات . أكمل



			
			اسم الجسم
			عدد الأوجه
			عدد الرؤوس
			عدد الأضلاع








اختر الإجابة الصحيحة بوضع

شكل هندسي ليس له حروف ولا أوجه ولا

رؤوس، هو:


موقع
المنهج الكويتية
almanahj.com/kw





اختر الإجابة الصحيحة بوضع





عدد المربعات في هذا الشكل هو :



٥

٣

٤





اختر الإجابة الصحيحة بوضع

الشكلان المتطابقان هما:

