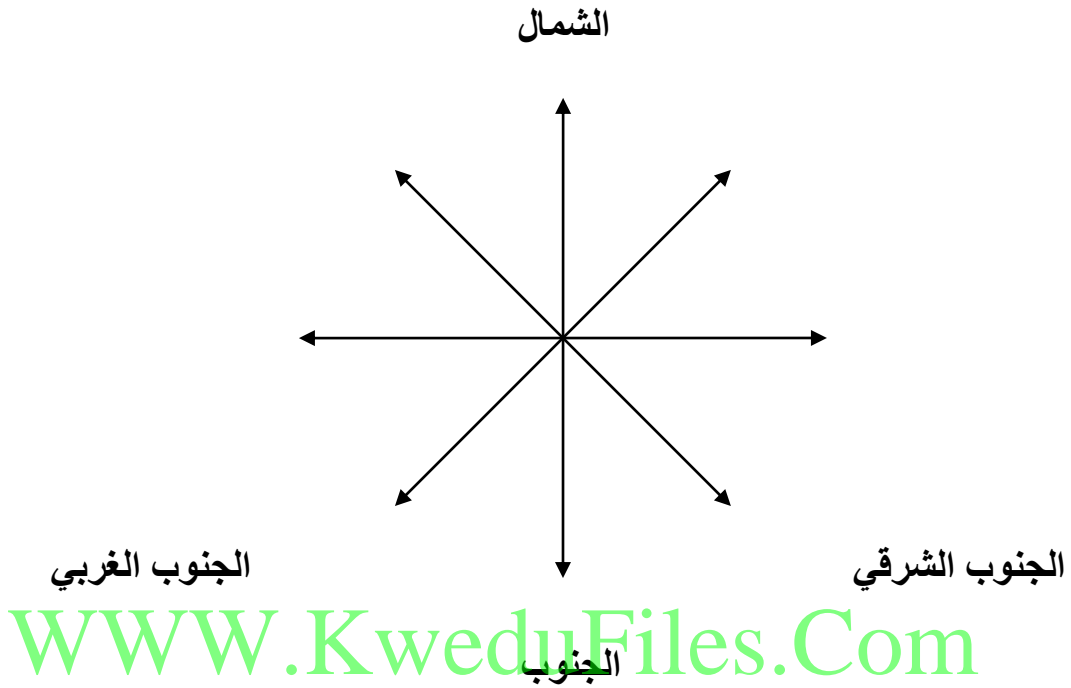


تطبيقات الفصل الأول (الفترة ١ – الفترة ٢)

أكمل المخطط السهمي :



ص ٨

اختر الإجابة الصحيحة :

- ١ من الجهات الأصلية (الشمال الشرقي – الغرب – الجنوب الغربي) ص ٨
- ٢ من الجهات الفرعية (الشمال – الشرق – الجنوب الشرقي) ص ٨

ضع علامة () أمام العبارات الصحيحة وعلامة (X) أمام العبارات الخاطئة :

- ١- الجهات الأصلية أربع هي الشمال والجنوب والشرق والجنوب الغربي . ()
- ٢- الجهات الفرعية أربع الشمال الشرقي والشمال الغربي والجنوب الشرقي والجنوب . ()

ص ٨

ارسم على خريطة دولة الكويت الجهات الأصلية والجهات الفرعية :



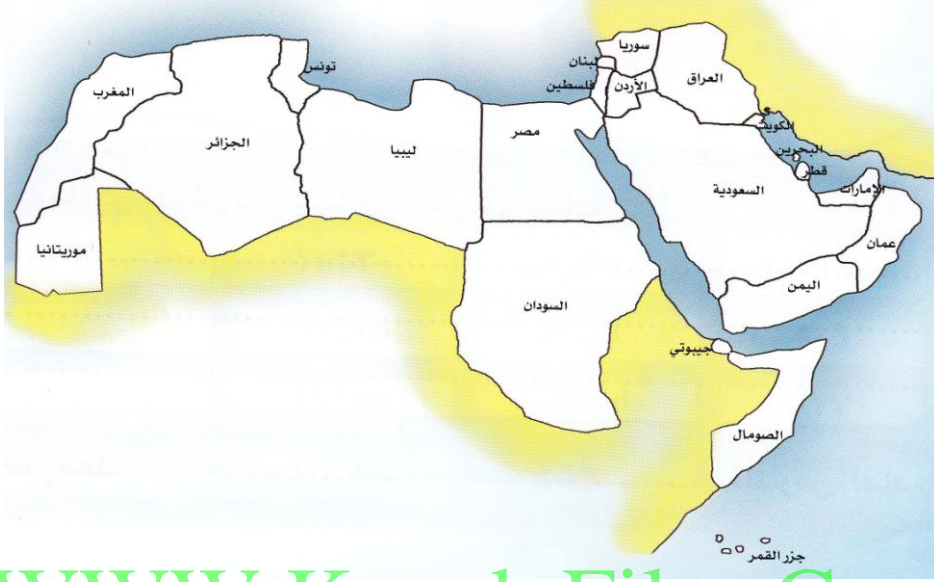
أكمل الفراغات التالية بما يناسبها :

- ١- الدولة التي تحد دولة الكويت من الشمال والشمال الغربي هي
- ٢- الدولة التي تحد دولة الكويت من الجنوب والجنوب الغربي هي

ص ١٢



بالاستعانة بخريطة الوطن العربي أجب عما يلي :



WWW.KweduFiles.Com

- ١ تقع دولة الكويت في جهة _____ بالنسبة للخليج العربي .
 - ٢ تقع دولة الكويت في جهة _____ بالنسبة لشبه الجزيرة العربية .
 - ٣ تقع دولة الكويت في جهة _____ بالنسبة للوطن العربي .
 - ٤ تقع سوريا في جهة _____ بالنسبة لدولة الكويت .
 - ٥ تقع السودان في جهة _____ بالنسبة لدولة الكويت .
- ص ١٢

ضع علامة () أمام العبارات الصحيحة وعلامة (X) أمام العبارات الخاطئة :

- ١ دولة الكويت تعتبر من الدول كبيرة المساحة حيث تبلغ مساحتها ١٧,٨١٨ كيلومتر مربع ()
- ٢ تبلغ مساحة دولة الكويت ٨١٨,١٧ كيلومتر مربع ()
- ٣ أكبر الدول الخليجية من حيث المساحة هي الإمارات ()
- ٤ أصغر الدول الخليجية مساحة هي دولة الكويت ()

ص ١٥

اختر الإجابة الصحيحة :

- ١ - تبلغ مساحة دولة الكويت (١٧,٨١٨ كيلومتر مربع - ٢٢,٩١٩ كيلومتر مربع - ٨٣,٦٠٠ كيلومتر مربع)
 - ٢ - أكبر الدول الخليجية مساحة هي (الإمارات - عمان - السعودية)
 - ٣ - أصغر الدول الخليجية مساحة هي (البحرين - الكويت - قطر)
- ص ١٥

اذكر المصطلحات التالية :

- ١ - هي وصف لسطح الأرض . ()
 - ٢ - جزء من اليابس داخل الماء . ()
 - ٣ - لسان من الماء داخل اليابس . ()
 - ٤ - مكان محاط بالصخور ترسو فيه السفن حيث يتم أيضا إصلاحها وتنظيفها أثناء ظاهرة الجزر . ()
- ص ١٨ - ص ١٩

حدد على الخريطة مايلي :

WWW.KweduFiles.Com

- رأس الأرض - خور العمي - خور المفتاح - جون الكويت - رأس الصبية - جزيرة أم النمل -
خور عبدالله - رأس عجوزة - رأس عشيرج



أجب عن الأسئلة التالية :

- ١ ما مميزات ساحل دولة الكويت الرملي ؟
أ-
ب-


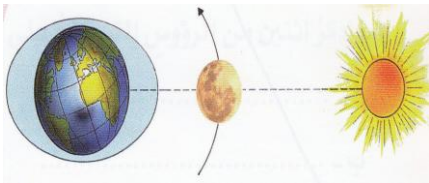
"لجون الكويت دور أساسي في نشأة الكويت واستقرارها"
فسر العبارة السابقة.

ص ١٩

أكمل الفراغات بما يناسبها :

- ١ يقع اللجون بالنسبة لدولة الكويت في جهة _____
٢ تتضح ظاهرة المد والجزر في جزيرة _____ ص ٢٢
٣ خور الصبية يفصل بين ساحل دولة الكويت وجزيرة _____
٤ -الخور الذي يقع بين جزيرة بوبيان والحدود البحرية الكويتية هو _____
٥ -المد والجزر ظاهرة كونية ثابتة تتمثل في قوة جذب _____ للأرض
للمياه على سطح

صل بين الكلمات وما يناسبها من صور :



الجزر - الرأس - الخور - المد

اذكر المصطلحات التالية :

- ١- تقدم المياه نحو الساحل . ()
٢- تراجع المياه عن الساحل . () ص ٢٢

ضع علامة () أمام العبارات الصحيحة وعلامة (X) أمام العبارات الخاطئة :

- ١ للبحر مدان وجزران في اليوم الواحد الهجري وباللهجة الكويتية يسمى المد ثبر والجزر سجي. ()
٢ للبحر مدان وجزران في الشهر الواحد الهجري وباللهجة الكويتية يسمى المد فساد والجزر حمل. () ص ٢٤

أكمل المخطط التالي :



أكمل الفراغات بما يناسبها :

- ١- الأيام التي يرتفع بها مستوى ماء البحر وتكون صالحة لممارسة هواية السباحة ويقل فيها صيد الأسماك تسمى
٢- الأيام التي يقل بها مستوى ماء البحر ويزداد فيها صيد الأسماك تسمى
ص

السؤال الاول:

(١) اكمل الجمل التالية بما يناسبها من كلمات :

- ١ - استفاد الكويتيون من المد والجزر من خلال ص ٢٦
٢ من الاحياء البحرية المدجزرية ص ٢٧
٣ تعتبر دولة الكويت ضمن منطقة المناخ ص ٣٢
٤ تسقط اشعة الشمس في فصل الصيف بشكل ص ٣٤

- (ب) ضعي علامة \surd او علامة \times امام العبارات التالية ؟
- ١ - مناخ الكويت في فصل الصيف حار () ص ٣٤
 - ٢ - تتم الارض دورتها حول الشمس خلال سنة واحدة () ص ٣٤
 - ٣ - درجة الحرارة في فصل الصيف أقل منها في فصل الشتاء () ص ٣٥
 - ٤ - درجة الحرارة تتغير نهارا عنها ليلا () ص ٣٥
 - ٥ - دراسة الاحوال الجوية لا تفيدنا في حياتنا () ص ٣٥
 - ٦ - الرياح الجنوبية الشرقية في فصل الشتاء تؤدي الى هطول الامطار () ص ٣٦

(ج) علل مايلي :-

- ١ - اختلاف درجة الحرارة في الكويت في فصل الصيف عنها في فصل الشتاء ؟
..... ص ٣٤
- ٢ - هبوب غبار وعواصف ترابية في فصل الصيف ؟
..... ص ٣٥
- ٣ - ارتفاع نسبة الرطوبة في فصل الصيف ؟
..... ص ٣٥
- ٤ - هطول الامطار في فصل الشتاء ؟
..... ص ٣٥
- ٥ - اشعة الدفء في فصل الشتاء ؟
..... ص ٣٥

السؤال الثاني:

- (أ) ضع علامة \surd او علامة \times امام العبارات التالية :
- ١ - النباتات الطبيعي لا يتأثر بالمناخ السائد ص ٤١
 - ٢ - النباتات الطبيعي متنوع في دولة الكويت ص ٤١
 - ٣ - تنتشر نباتات التندب جهة شمال الكويت ص ٤٠
 - ٤ - يعتبر الجمل والماعز من الطيور التي تعيش في دولة الكويت ص ٤٢
 - ٥ - تم بناء المدرسة المباركية في عهد الشيخ جابر الاحمد الصباح ص ٤٧
- (ب) أكمل الفراغات التالية :-
- ١ - اختير الشيخ عام أول حاكم لدولة الكويت ص ٤٦
 - ٢ - ثاني حكام دولة الكويت هو ص ٤٦
 - ٣ - وقعت معركة الرقة في عهد الشيخ ص ٤٨
 - ٤ - تم بناء السور الاول والثاني في عهد الشيخ ص ٤٧
 - ٥ - تم بناء المدرسة المباركية في عهد الشيخ ص ٤٧
 - ٦ - تم بناء السور الثالث في عهد الشيخ ص ٤٦

- ٧- وقعت معركة الجهراء في عهد الشيخ ص ٥٢ .
٨- حدثت معركة الرقة البحرية في عام بالقرب من جزيرة
..... ص ٤٨

السؤال الثالث:

امامك خريطة دولة الكويت نفذ منها ما هو مطلوب منك ؟

- ١ - اتجاه الرياح الشمالية الغربية
- ٢ - اتجاه الرياح الجنوبية الشرقية
- ٣ - لون الجزيرة التي تتأثر بالمد والجزر
- ٤ - موقع معركة الرقة البحرية

السؤال الأول: ضع علامة (صح) أمام العبارة الصحيحة وعلامة (خطأ) أمام العبارة غير صحيحة فيما يلي

- ١- تسمى المسافة الواقعة بين جهة الشمال وجهة الشرق بجهة الشمال الغربي (خطأ)
- ٢- عدد الجهات الفرعية ٤ جهات فرعية (صح)
- ٣- دول الخليج تتشابه جميعها من حيث المساحة (خطأ)
- ٤- تتضح ظاهرة المد والجزر طبيعياً في جزيرة بوبيان (صح)
- ٥- يسمى الجزر باليوم الواحد باللهجة الكويتية ثبر (صح)

السؤال الثاني: اختر الإجابة الصحيحة من بين البدائل التالية وضع دائرة حولها

- ١- تسمى المسافة الواقعة بين جهة الجنوب وجهة الغرب بجهة :
(جنوب شرقي - شمال - جنوب غربي - شرق)
- ٢- الدولة الخليجية التي تحد دولة الكويت من جهة الجنوب والجنوب الغربي :
(السعودية - مصر - العراق - الجزائر)
- ٣- أصغر الدول الخليجية من حيث المساحة هي :
(السعودية - البحرين - الكويت - قطر)

- ٤- من الجزر التي تقع داخل جون الكويت :
 (أم المرادم -مسكان -أم النمل -وربة)
 ٥-تتم الأرض دورتها حول الشمس خلال :
 (٣ سنوات -سنة واحدة -٤ سنوات -٧ سنوات)

السؤال الثالث: أكمل العبارات التالية بما يناسبها {٥ درجات }

- ١ مكان محاط بالصخور ترسو فيه السفن (النقعة) .
 ٢ لسان من الماء داخل اليابس يسمى (الخور) .
 ٣ يقع الجون بالنسبة لدولة الكويت في جهة (الشرق) .
 ٤ تراجع الماء عن الساحل يسمى (جزر) .
 ٥ تعتبر الكويت ذات مناخ (صحراوي) .

WWW.KweduFiles.Com

السؤال الرابع: صل بين مجموعة (أ) ومجموعة (ب) بما يناسبهما {٥ درجات }

مجموعة (أ)		مجموعة (ب)
١- خور .	٢	فيلكا
٢- جزيرة .	١	العمي
٣- تقدم المياه نحو الساحل .	٤	الحويتة
٤- قوقعة	٣	المد
حلزونية .		
٥- مد في الشهر الواحد.	٥	حمل

السؤال الخامس: أجب عن مايلي { ١٠ درجات }

١- عدد الجهات الفرعية ؟

١...-الشمال الغربي .

٢...-الشمال الشرقي .

٣...-الجنوب الشرقي .

٤-الجنوب الغربي .

WWW.KweduFiles.Com

٢- ما مميزات ساحل دولة الكويت الرملي ؟

١ -منبسط قليل التعاريج .

٢ -ضحل المياه .

٣-أذكر أهمية كل من ظاهرة :

أ- المد : (للسباحة)

ب-الجزر (جمع القواقع -صيد السمك)

٣ -عرف مايلي :

أ-جون الكويت (جزء من الماء داخل اليابس).

ب-الرأس (جزء من اليابس داخل الماء).