




وزارة التربية والتعليم
الإدارة العامة لمنطقة الأحمدية التعليمية
مدرسة هدية الابتدائية بنين

• وسائل الوحدة (١١) WWW.KweduFiles.Com

للفيف الثالث




رئيسة القسم : أ. شيمه المطيري

• الوقت لأقرب دقيقة

WWW.KweduFiles.Com

بند (١١-١)



اكتب الوقت بطريقتين مختلفتين



WWW.KweduFiles.Com

اكتب الوقت بطريقتين مختلفتين



WWW.KweduFiles.Com

اكتب الوقت بطريقتين مختلفتين



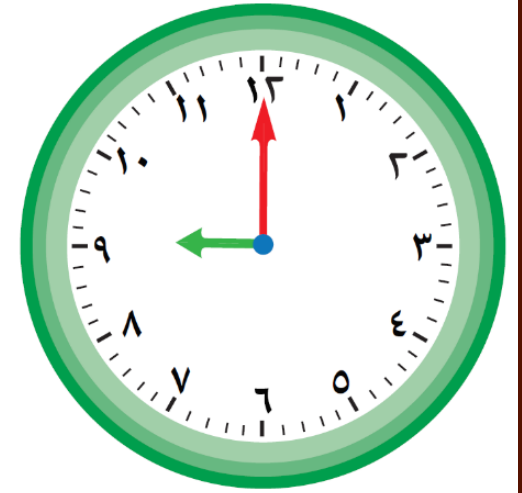

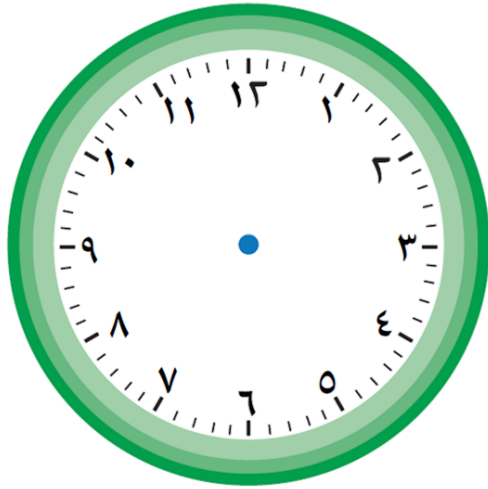
اكتب الوقت بطريقتين مختلفتين



اكتب الوقت . أكمل النمط .



ارسم عقري الساعة



❖ كم مر من الوقت ليتحرك عقرب الدقائق

٤ إشارات على قرص الساعة ؟

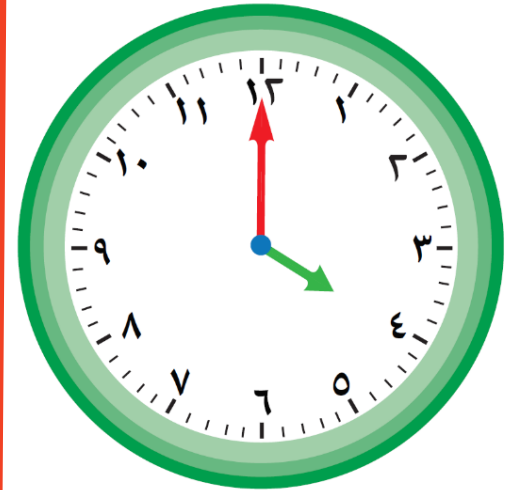


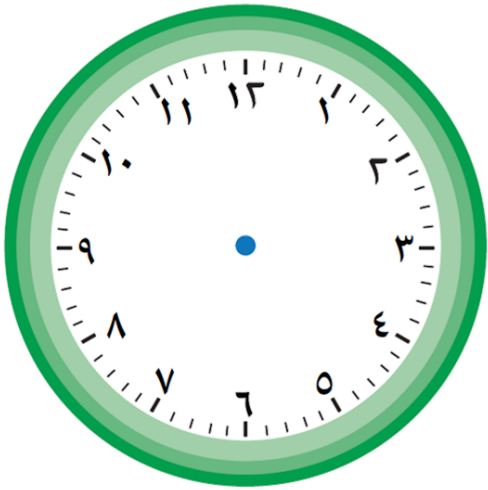
WWW.KweduFiles.Com

ارسم عقرب الدقائق بعد مرور :



٢ دقائق ، ١ قائق ، ١٥ دقيقة .

WWW.KweduFiles.Com



❖ موعد خالد مع طبيب الأسنان

الساعة ٥:٣٠ ، وصل خالد إلى

www.kwedufiles.com العيادة الساعة ٥:٤٥

هل وصل خالد مبكرا أو متأخرا ؟

فسر إجابتك .

❖ بعد دقيقتين ستشير الساعة إلى

تمام ٣:٠٠ . ما هو الوقت الذي تدل

عليه الساعة الآن؟
WWW.KweduFiles.Com

• قراءۃ الساعۃ

WWW.KweduFiles.Com

بند (۱۱-۲)



أكمل النمط الذي يظهر الوقت



□ ، ٧:٠٠ ، ٦:٣٠ ، ٦:٠٠

□ ، □ ، □ ،

اكتب الوقت بطريقتين مختلفتين



WWW.KweduFiles.Com

اكتب الوقت بطريقتين مختلفتين



WWW.KweduFiles.Com

اكتب الوقت بطريقتين مختلفتين



WWW.KweduFiles.Com

ارسم عقارب الساعة، ثم اكتب الوقت

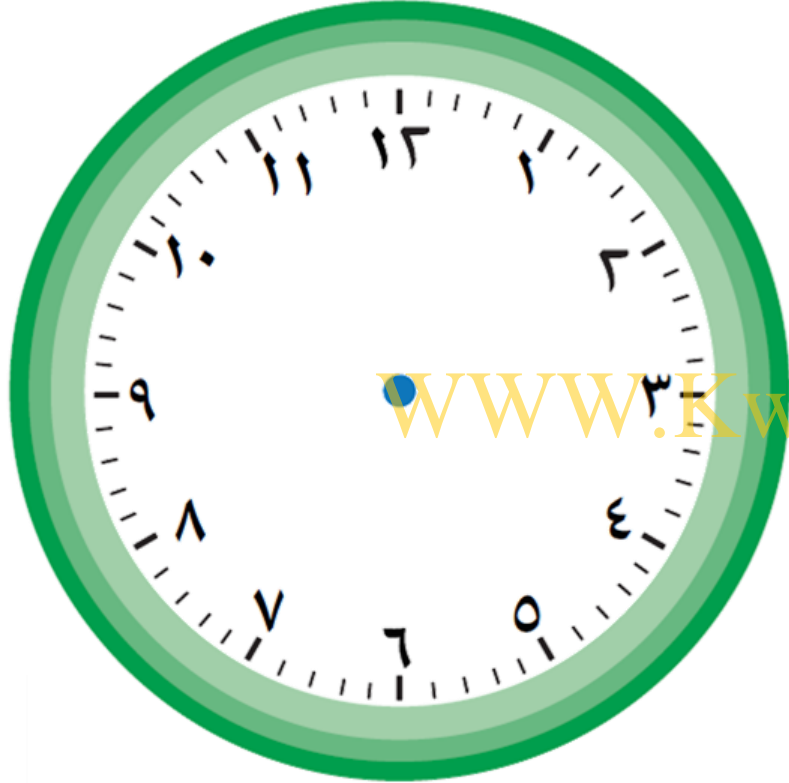


WWW.KweduFiles.Com

الساعة الخامسة



ارسم عقارب الساعة، ثم اكتب الوقت



www.KweduFiles.Com

الساعة الثامنة

إلا ربعاً



ارسم عقارب الساعة، ثم اكتب الوقت



www.KweduFiles.com

الساعة السادسة

و الثلث



أكمل



١ ساعة = _____ دقيقة

ساعة و نصف = _____ دقيقة

أكمل



١٢٠ دقيقة = ساعة

٨٠ دقيقة = ساعة

❖ تحتاج إلى ٤٠ دقيقة للاستعداد

إلى الذهاب للمدرسة و ٢٠ دقيقة

للوصول إلى المدرسة . في أي ساعة


يمكن أن تستيقظ إذا أردت الوصول

في الساعة ٧:٣٠ ؟


• قراءة الوقت إلى ١٢ ساعة / ٢٤ ساعة

WWW.KweduFiles.Com

بند (١١-٣)



اكتب الوقت مستخدماً (ق. ظ أوب. ظ)



WWW.KweduFiles.Com

وقت الذهاب للنوم


اكتب الوقت مستخدماً (ق.ظ أوب.ظ)



WWW.KweduFiles.Com

بدء حصة الرياضيات

اكتب الوقت مستخدماً (ق. ظ أوب. ظ)



WWW.KweduFiles.Com

تناول وجبة الغداء

أكمل كما في المثال



العودة من المدرسة

بدء الفرصة الأولى


تناول طعام الغداء

٢:٠٠ ب.ظ

١٤:٠٠

WWW.KweduFiles.Com


ارسم عقارب الساعة حسب الوقت المبين



WWW.KweduFiles.Com

٢٢:٠٠

ارسم عقارب الساعة حسب الوقت المبين



١٤:١٥

ارسم عقارب الساعة حسب الوقت المبين




١٥:٣٠

• حل المسائل : استخدم التعليل السليم - المدة

WWW.KweduFiles.Com

بند (١١ - ٤)



حل المسألة



يشارك محمد و علي في سباق الدراجات الهوائية . بدأ السباق الساعة ٠٠ : ٤ ب.ظ .
وصل محمد الساعة ١٥ : ٢ ب.ظ و وصل علي
الساعة ٥٧ : ٣ ب.ظ . يحتاج المتسابق إلى ١٠ دقائق
لتبديل ملابسه . من سيكون مستعداً
للمسابقة في الوقت المحدد ؟ فسر إجابتك .

 مَوْعِدُ الطَّائِرَةِ	الرَّحَلَاتُ
٢:٠٠	السُّعُودِيَّةُ
٢٣:٠٠	القَاهِرَةُ
١٣:٠٠	البَحْرَيْنُ
تُونِسُ	

قالت سارة إن موعد الطائرة القادمة من تونس الساعة

٨:٠٠ ق . ظ

هل توافقها الرأي ؟ وضح إجابتك .

حل المسألة



تلعب سحر مع صديقاتها في الحديقة ،
عليها أن تكون في المنزل الساعة ٥:٣٠ ب.ظ .
كم من الوقت بإمكانها اللعب إذا كانت قد
بدأت اللعب الساعة ٤:٠٠ ب.ظ ؟ و يستغرق
وصولها إلى منزلها نصف ساعة .

وَقْتُ النِّهَايَةِ	وَقْتُ الْبَدءِ	النَّشَاطُ
 ٦:٢٠ ب.ظ	 ٤:١٥ ب.ظ	زِيَارَةُ الْأَقَارِبِ
 ١١:٣٠ ق.ظ	 ٩:٠٠ ق.ظ	مُمَارَسَةُ الرِّيَاضَةِ
 ٧:٢٥ ب.ظ	 ٦:٤٥ ب.ظ	المُطَالَعَةُ

حل المسألة



يوضح الجدول بعض الأنشطة التي قا

بها ناصر في أحد الأيام.


انظر الجدول ، ثم أجب عن الأسئلة .

ما المدة التي قضاها ناصر في المطالعة ؟

أي نشاط استغرق ساعتين و نصف ؟

• مراجعة الوحدة الحادية عشر

بند (١١-٥)

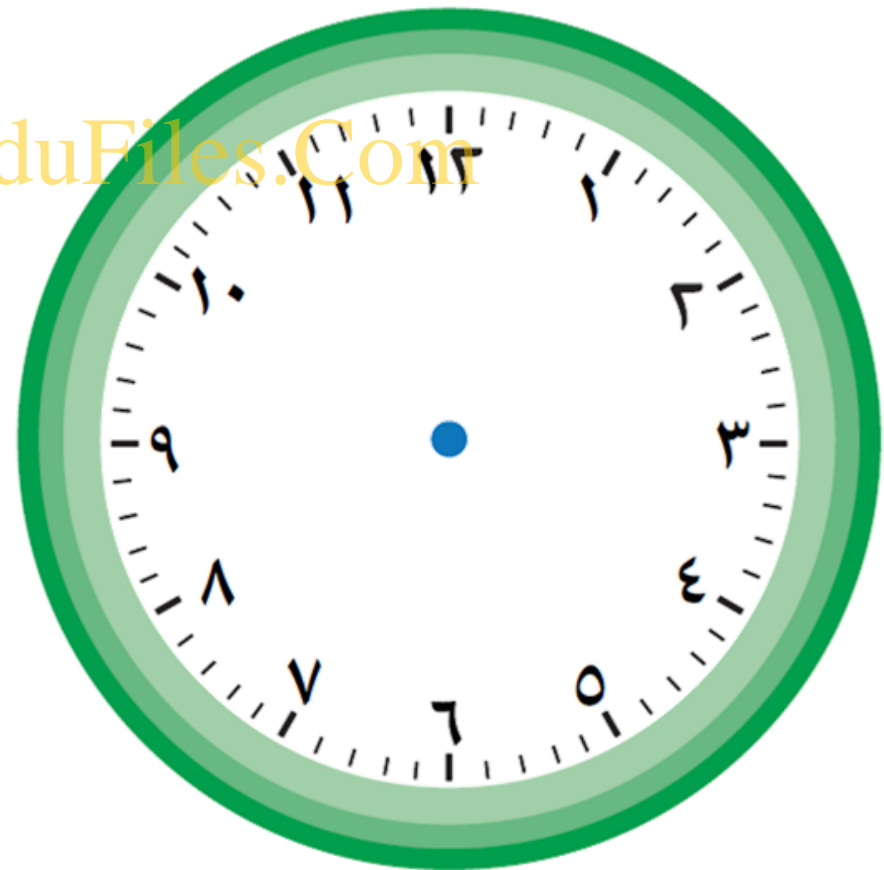



ارسم عقارب الساعة ثم اكتب الوقت



الساعة الثالثة و ٢٥ دقيقة

WWW.KweduFiles.Com

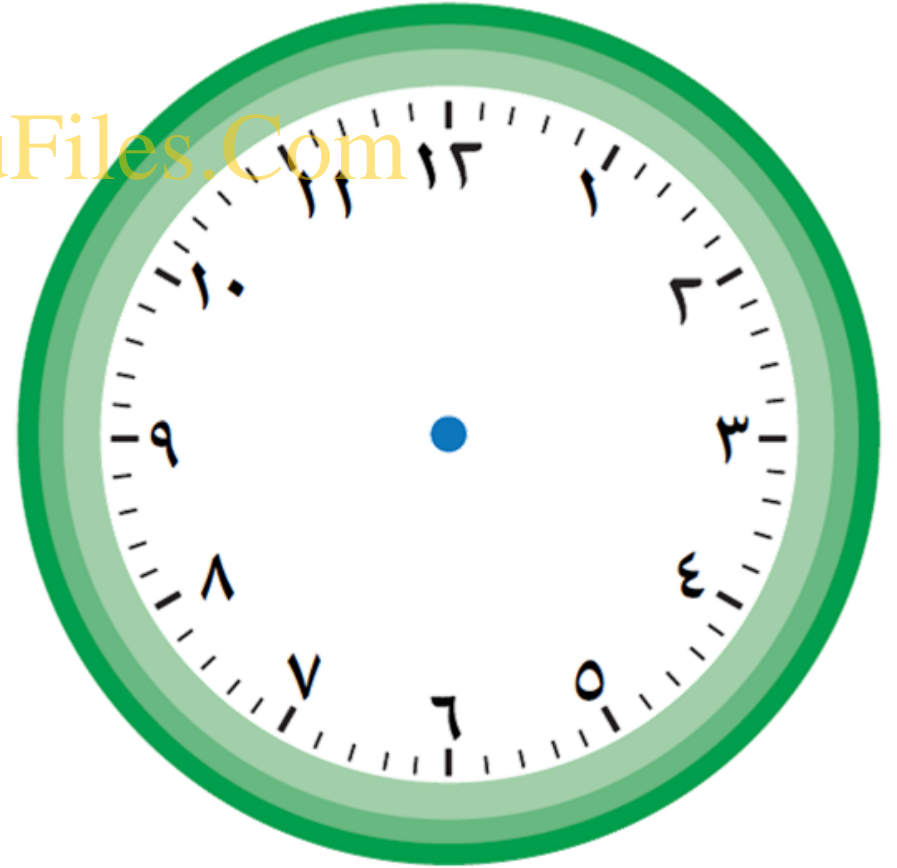


ارسم عقارب الساعة ثم اكتب الوقت



الساعة العاشرة و النصف

WWW.KweduFiles.Com



اكتب الوقت بطريقتين مختلفتين



WWW.KweduFiles.Com

اكتب الوقت بطريقتين مختلفتين



WWW.KweduFiles.Com

اكتب الوقت بطريقتين مختلفتين



WWW.KweduFiles.Com

اكتب (ق.ظ. أو ب.ظ.)



الذهاب إلى المدرسة.

WWW.KweduFiles.Com

اكتب (ق.ظ. أو ب.ظ.)



وقت صلاة العشاء.

WWW.KweduFiles.Com

اكتب (ق.ظ. أو ب.ظ.)



وقت حل الواجبات

WWW.KweduFiles.Com

أكمل النمط الذي يظهر الوقت



7:30 ← 7:15 ← 7:00

WWW.KweduFiles.Com

7:00 ← 7:00 ← 7:00



اختر الإجابة الصحيحة بوضع




الوقت الذي تشير إليه الساعة




WWW.KweduFiles.Com

الموضحة هو


٩ : ٠٢



٩ : ١٠



٩ : ٠٥





اختر الإجابة الصحيحة بوضع






جرت مباراة كرة القدم بين

فريقي الساعة ١٩:٠٠ ، ذلك

يعني أنها جرت الساعة:

١٠:٠٠ ب.ظ ٧:٠٠ ق.ظ ٧:٠٠ ب.ظ








اختر الإجابة الصحيحة بوضع



إذا كان الوقت الآن هو منتصف

اليوم ، فإن الوقت قبل ساعتين هو

١٠ : ١٠ ب.ظ ١٠ : ١٠ ق.ظ ١٠ : ١٠ ب.ظ





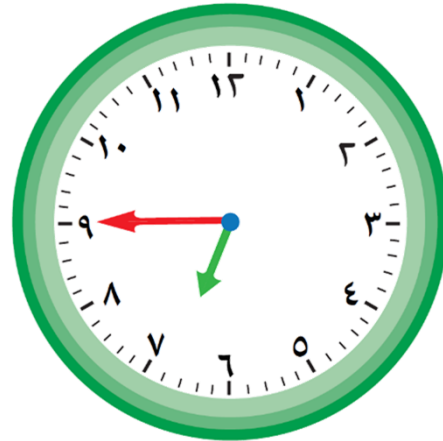



اختر الإجابة الصحيحة بوضع



الساعة التي تشير عقاربها إلى

السابعة إلا ثلثًا في ما يلي هي :





اختر الإجابة الصحيحة بوضع



بدأ فهد المذاكرة في

واستغرق ٢٠ دقيقة لإنهاءها

ذلك يعني أنه انتهى الساعة

الرابعة و الربع

الرابعة إلا ثلث

الرابعة و الثلث

