

تم تحميل هذا الملف من موقع المناهج الكويتية



سالم الحسينان

الملف ورقة مراجعة إثرائية شاملة للوحدات

موقع المناهج ← المناهج الكويتية ← الصف الثامن ← اجتماعيات ← الفصل الثاني

روابط مواقع التواصل الاجتماعي بحسب الصف الثامن



روابط مواد الصف الثامن على تلغرام

[الرياضيات](#)

[اللغة الانجليزية](#)

[اللغة العربية](#)

[التربية الاسلامية](#)

المزيد من الملفات بحسب الصف الثامن والمادة اجتماعيات في الفصل الثاني

تلخيص	1
امتحان دولة الكويت والعالم الاسلامي	2
حل التقويم لمادة الاجتماعيات	3
نموذج احابة اختبار في مادة الاجتماعيات لنهاية الفترة الدراسية الثانية	4
نموذج الاحابة لامتحان الاجتماعيات فرواتية	5



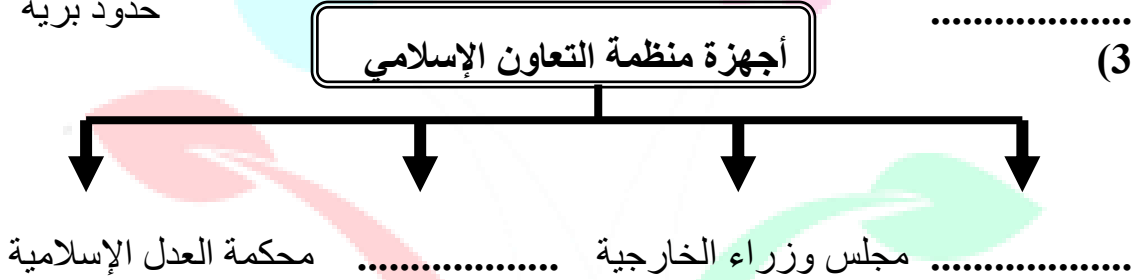
ورقة مراجعة للصف الثامن
(الفصل الدراسي الثاني)

وزارة التربية
الإدارة العامة لمنطقة العاصمة التعليمية
مدرسة سالم الحسينان المتوسطة بنين

السؤال الأول:- عرف المفاهيم التالية :-

.....	التلوث البيئي	1
.....	التصحّر	2
.....	الاحتباس الحراري	3
.....	النفايات	4
.....	التدوير	5
.....	التنمية المستدامة	6
.....	الانفجار السكاني	7
.....	الفقر	8
.....	خط الفقر	9
.....	العولمة	10
.....	التكامل الاقتصادي	11
.....	البلدان النامية	12
.....	الدخل القومي	13
.....	الميزان التجاري	14
.....	الحدود	15
.....	الأمية	16
.....	الدولة الإسلامية	17
.....	منظمة التعاون الإسلامي	18
.....	وكالة الأنباء (إينا)	19
.....	منظمة الإيسسكو	20
.....	الصندوق الكويتي للتنمية	21

السؤال الثاني : - (أ) أكمل المخططات السهمية التالية :-



(ب) : صل بين المجموعة (أ) ما يناسبها من المجموعة (ب) بوضع الرقم المناسب :

(1)

م	المجموعة (أ)	الرقم المناسب	المجموعة (أ)
1	المؤتمر الإسلامي الأول	(.....)	الكويت
2	المؤتمر الإسلامي الخامس	(.....)	اسطنبول
3	المؤتمر الإسلامي الثالث عشر	(.....)	الرباط

(2)

م	المجموعة (أ)	الرقم المناسب	المجموعة (أ)
1	إعادة استخدام المخلفات لإنتاج منتجات أخرى أقل جودة من المنتج الأصلي	(.....)	الاحتباس الحراري
2	إنشاء مدن صناعية	(.....)	التدوير
3	ارتفاع حرارة الأرض عن معدلها الطبيعي	(.....)	أهداف التنمية المستدامة

السؤال الثالث : - علل لما يأتي (اذكر السبب):-

1- يعتبر تلوث الهواء من أخطر أنواع التلوث البيئي؟

2- يمثل التلوث الهوائي في ماليزيا خطراً على الشعب؟

3- بلغت نسبة التلوث الهوائي في باكستان 40 %؟

4- التلوث المائي من أخطر أشكال التلوث البيئي؟

5- عانت موريتانيا من شدة التلوث المائي عام 2017 م؟

6- تعرضت الكويت للتلوث في عام 1990 م؟

7- تعتبر التربة عنصراً مهماً من عناصر البيئة الطبيعية؟

8- حدوث الاحتباس الحراري؟

9- زيادة كمية المخلفات الصناعية والمنزلية والزراعية والبنائية؟

10- زيادة عدد السكان في العالم الإسلامي؟

11- حدوث المشكلة السكانية؟

12- اعتداء العراق على مركز الصامطة الحدودي الكويتي عام 1973 م؟

13- إنشاء منظمة التعاون الإسلامي؟

14- إنشاء بيت الزكاة الكويتي؟

السؤال الرابع : - أجب عن الأسئلة التالية :-

1- ما هي مصادر التلوث البيئي؟

أ-
ب-

2- أثر التلوث الهوائي؟

.....
.....

3- أثر التلوث المائي؟

.....
.....

4- أسباب التلوث الضوضائي؟

.....
.....

5- نتائج التلوث الضوضائي؟

.....
.....

6- أسباب تلوث التربة؟

.....
.....

7- نتائج تلوث التربة؟

.....
.....

8- النتائج المتوقعة للاحتباس الحراري؟

.....
.....

9- ماذا تعرف عن إعصار جونو أو غونو عام 2007 م؟

.....
.....

10- أسباب الفقر في الدول الإسلامية؟

.....
.....

11- ما هو الهدف من مؤتمر العقير عام 1922 م؟

.....
.....

12- ما هي ادعاءات مؤتمر عبد الكريم قاسم 25 يونيو 1961 م؟

.....
.....

13 - ما هو دور الجيش الكويتي في 2 أغسطس عام 1990 م ؟

أ-
ب-

14 - أسباب الإدمان ؟

.....
.....

15 - ما مبادئ منظمة التعاون الإسلامي ؟

.....
.....

16 - ما هي قرارات المؤتمر الإسلامي الأول ؟

.....
.....
.....

17 - ما هي قرارات المؤتمر الإسلامي الخامس ؟

.....
.....

18 - ما الجهات الحكومية التي تشرف على تقديم المساعدات الخارجية الإسلامية ؟

.....
.....

19 - اكتب أهداف البنك الإسلامي للتنمية ؟

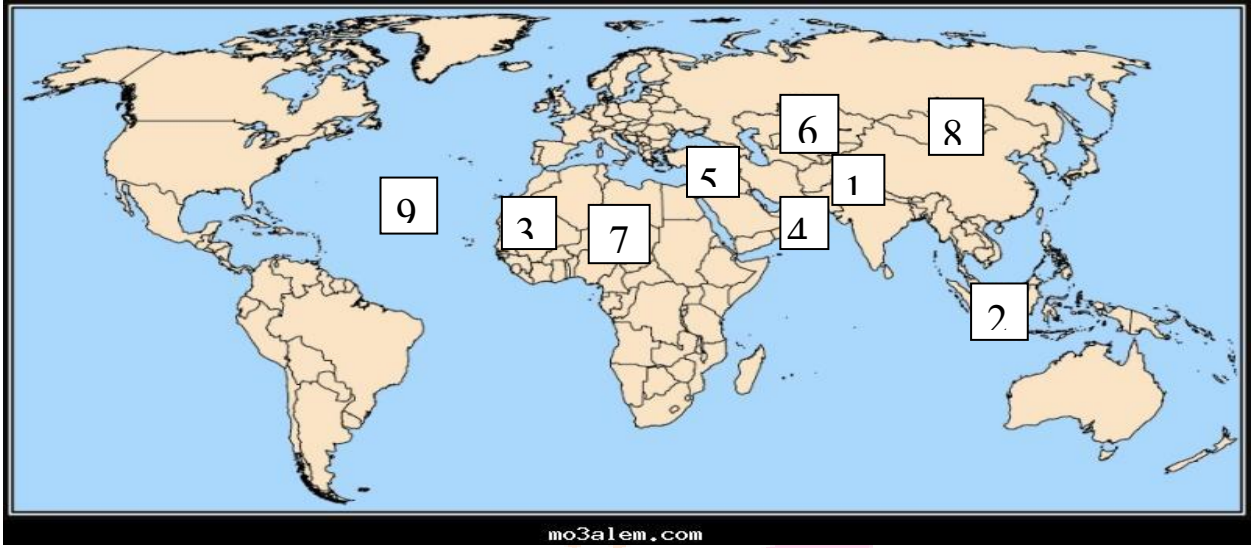
.....
.....

السؤال الخامس : - أكمل ما يأتي :-

- 1- الغاز الأول المسئول عن الاحتباس الحراري يسمى
- 2- زحف رمال الصحراء في المناطق الجافة وشبه الجافة يسمى
- 3- تصل نسبة التصحر في دول الخليج العربية حوالي 90 % عدا.....
- 4- أعلى الدول الإسلامية في معدل محو الأمية دولة تسمى
- 5- تم الاعتداء على مركز الصامطة الحدودي في عام م
- 6- تم إنشاء شرطة البيئة في دولة الكويت في عام م
- 7- تعرضت سواحل سلطنة عمان الشرقية لإعصار جونو أو غونو عام م
- 8- تم تشغيل أول محطة كهرباء تعمل بالطاقة الشمسية في الكويت عام م
- 9- نظام عالمي جديد يقوم على الإبداع العلمي والتطور التقني تسمى
- 10- حاكم الكويت الذي رفض ادعاءات عبد الكريم قاسم عام 1961 م هو الشيخ

- 11- سوف يتم توليد الكهرباء لكافة مناطق المملكة العربية السعودية بحلول عام
- 12- في عام 1993 م صدر قرار مجلس الأمن رقم بترسيم الحدود بين الكويت والعراق واعترفت به الكويت بينما العراق اعترفت بالقرار عام
- 13- عقدت اتفاقية الحماية عام 1899 م بين دولة الكويت و
- 14- أصدرت الجمعية العامة للأمم المتحدة قرارها رقم..... في عام م والذي يهدف الى خطة لتقسيم فلسطين الى قسمين عربي ويهودي
- 15- توسع المحتل الصهيوني الاسرائيلي بعد حرب 1948 م في أراضي فلسطين لتحتل حوالي % من الأراضي الفلسطينية
- 16- عقدت القمة العربية الاقتصادية والتنمية والاجتماعية في دولة في عام م وسميت قمة التضامن مع الشعب الفلسطيني في غزة
- 17- تم إطفاء آبار النفط الكويتي في عهد الشيخ
- 18- عدد آبار النفط الكويتي المشتعلة بئراً تم السيطرة عليها خلال يوماً
- 19- أعلى دولة إسلامية في معدل محو الأمية هي وأقلها هي
- 20- أنشئ مجمع الفقه الإسلامي عام والهيئة الخيرية الإسلامية عام
- 21- عقد المؤتمر الإسلامي الأول عام م والمؤتمر الخامس عام
- 22- عقد المؤتمر الإسلامي الرابع عام م في مدينة
- 23- حضر المؤتمر الإسلامي الخامس بالكويت دولة برئاسة الشيخ
- 24- من بطلات إطفاء آبار النفط الكويتي المشتعلة هي الكويتية
- 25- دعا الملك السعودي الملك في مؤتمر القمة العربية لإنشاء تجمع يضم الدول الإسلامية و رأت الدعوة النور بعد حريق

السؤال السادس : - أمامك خريطة العالم صماء اكتب ما تدل عليه الأرقام التالية :-



- الرقم (1) دولة اسلامية بلغت نسبة التلوث الهوائي فيها 40 % بسبب عوادم السيارات
(.....)
- الرقم (2) دولة اسلامية يمثل التلوث الهوائي خطراً كبيراً بسبب التلوث الدخاني أو الضبابي
(.....)
- الرقم (3) دولة اسلامية عانت من التلوث المائي لتسرب كميات كبيرة من بقع الزيت من
البواخر
(.....)
- الرقم (4) يشير الى دولة اسلامية تعرضت الى إعصار جونو أو غونو عام 2007 م
(.....)
- الرقم (5) يشير الى دولة اسلامية صدر قرار بتقسيمها الى قسمين عربي ويهودي عام 1947
(.....)
- الرقم (6) يشير الى أولى الدول الاسلامية في معدل محو الأمية
(.....)
- الرقم (7) يشير الى أقل الدول الاسلامية في معدل محو الأمية
(.....)
- الرقم (8) يشير الى قارة تسمى (.....)
- الرقم (9) يشير الى محيط يسمى (.....)
- 10- ظلل على الخريطة دولة الكويت



ورقة مراجعة للصف الثامن
(الفصل الدراسي الثاني)

وزارة التربية
الإدارة العامة لمنطقة العاصمة التعليمية
مدرسة سالم الحسينان المتوسطة بنين

السؤال الأول:- عرف المفاهيم التالية :-

1	التلوث البيئي	أي تغير غير مرغوب به في خواص البيئة المحيطة والذي يتسبب في أضرار بحياة الإنسان والكائنات الأخرى .
2	التصحّر	انجراف التربة في المدن والمناطق الزراعية .
3	الاحتباس الحراري	ارتفاع درجات حرارة الأرض عن معدلها الطبيعي مما يؤدي الى تغيرات مناخية
4	النفايات	أي مواد زائدة وغير مرغوبة من مخلفات البيئة أو الفضلات.
5	التدوير	إعادة استخدام المخلفات لإنتاج منتجات أقل جودة من المنتج الأصلي .
6	التنمية المستدامة	برامج تحسين نوعية الحياة ولا تتحقق إلا بمشاركة جميع المواطنين .
7	الانفجار السكاني	الزيادة الكبيرة في أعداد السكان .
8	الفقر	الحالة الاقتصادية التي يفتقد فيها الفرد الى الدخل الكافي للحصول على المستويات الدنيا من الغذاء والملبس والتعليم وكل الاحتياجات الضرورية.
9	خط الفقر	أدنى مستوى من الدخل يحتاجه المرء أو الأسرة حتى يكون بالإمكان توفير مستوى معيشي ملائم في بلد ما .
10	العولمة	نظام عالمي جديد يقوم على الإبداع العلمي والتطور التكنولوجي بحيث تزول الحدود الثقافية بين الشعوب بالعالم ويصبح العالم كقرية واحدة .
11	التكامل الاقتصادي	عملية اقتصادية واجتماعية يتم بموجبها إزالة جميع الحواجز بين الوحدات المختلفة وتؤدي لتحقيق تكافؤ الفرص أما جميع عناصر الإنتاج في دول التكامل .
12	البلدان النامية	الدول التي ما زالت أقل تقدماً في الاقتصاد والعلم والتكنولوجيا .
13	الدخل القومي	مجموع الدخل المكتسب في بلد ما خلال فترة زمنية معينة عادة سنة واحدة.
14	الميزان التجاري	الفرق بين قيمة الصادرات وقيمة الواردات بالدولة .
15	الحدود	خطوط حددت بواسطة الإنسان ورسمت حتى تفصل بين دولة ودولة أخرى
16	الأمية	الإنسان الذي بلغ الثانية عشرة من عمره ولم يتعلم مبادئ القراءة والكتابة والحساب
17	الدولة الإسلامية	التي يكون فيها نسبة المسلمين 50 % أو أكثر من سكانها ويحكمها حاكم مسلم
18	منظمة التعاون الإسلامي	هي منظمة تضم في عضويتها 57 دولة إسلامية مستقلة ومقرها مدينة جدة
19	وكالة الأنباء (إينا)	وكالة الأنباء الإسلامية الدولية تأسست في عام 1972 م ومقرها جدة بالسعودية
20	منظمة الإيسسكو	المنظمة الإسلامية للتربية والعلوم والثقافة تأسست 1979 مقرها الرباط بالمغرب
21	الصندوق الكويتي للتنمية	صندوق مالي كويتي تأسس في 31 ديسمبر عام 1961 م وكانت الفكرة والمبادرة من الشيخ الراحل جابر الأحمد الصباح ويعد أول مؤسسة تنموية في المنطقة

السؤال الثاني : - (أ) أكمل المخططات السهمية التالية :-



القمة الإسلامية مجلس وزراء الخارجية الأمانة العامة محكمة العدل الإسلامية

(ب) : صل بين المجموعة (أ) ما يناسبها من المجموعة (ب) بوضع الرقم المناسب :

(1)

م	المجموعة (أ)	الرقم المناسب	المجموعة (أ)
1	المؤتمر الإسلامي الأول	(2)	الكويت
2	المؤتمر الإسلامي الخامس	(3)	اسطنبول
3	المؤتمر الإسلامي الثالث عشر	(1)	الرباط

(2)

م	المجموعة (أ)	الرقم المناسب	المجموعة (أ)
1	إعادة استخدام المخلفات لإنتاج منتجات أخرى أقل جودة من المنتج الأصلي	(3)	الاحتباس الحراري
2	إنشاء مدن صناعية	(1)	التدوير
3	ارتفاع حرارة الأرض عن معدلها الطبيعي	(2)	أهداف التنمية المستدامة

السؤال الثالث : - علل لما يأتي (اذكر السبب) :-

- 1- يعتبر تلوث الهواء من أخطر أنواع التلوث البيئي ؟
لوجود الاكسجين في الهواء الذي بدونه لا توجد حياة على الأرض .
- 2- يمثل التلوث الهوائي في ماليزيا خطراً على الشعب ؟
بسبب التلوث الدخاني أو الضبابي .
- 3- بلغت نسبة التلوث الهوائي في باكستان 40 % ؟
بسبب عوادم السيارات .
- 4- التلوث المائي من أخطر أشكال التلوث البيئي ؟
لأن الماء هو المادة الضرورية لبقاء الحياة على سطح الأرض .
- 5- عانت موريتانيا من شدة التلوث المائي عام 2017 م ؟
نتيجة لتسرب كميات كبيرة من بقع الزيت من البواخر مما أدى لنفوق كميات كبيرة من الأسماك .
- 6- تعرضت الكويت للتلوث في عام 1990 م ؟
بسبب الغزو العراقي حيث قامت القوات العراقية بسكب كميات كبيرة من النفط الكويتي بمياه الخليج العربي مكونة بقعة نفطية كبيرة وتكونت سحابة دخانية كثيفة بسبب احتراق آبار النفط الكويتية لمدة 7 شهور .
- 7- تعتبر التربة عنصراً مهماً من عناصر البيئة الطبيعية ؟
لأنها المصدر الرئيسي لإنتاج الغذاء .
- 8- حدوث الاحتباس الحراري ؟
نتيجة الزيادة المستمرة في غاز ثاني أكسيد الكربون في الهواء الجوي بسبب نشاطات الإنسان الملوثة للبيئة .
- 9- زيادة كمية المخلفات الصناعية والمنزلية والزراعية والبنائية ؟
بسبب سرعة التقدم الصناعي والسلوك الاستهلاكي للإنسان .
- 10- زيادة عدد السكان في العالم الإسلامي ؟
بسبب الزيادة الطبيعية وغير الطبيعية .
- 11- حدوث المشكلة السكانية ؟
بسبب عدم التوازن بين عدد السكان والموارد والخدمات وفرص العمل وارتفاع المستوى المعيشي .
- 12- اعتداء العراق على مركز الصامطة الحدودي الكويتي عام 1973 م ؟
رفض الكويت حصول العراق على منفذ بحري جديد على الخليج العربي من خلال عقد اتفاق بين الطرفين .

- 13- إنشاء منظمة التعاون الإسلامي؟
قيام المحتل الإسرائيلي بإحراق المسجد الأقصى في فلسطين 1969/8/21 م .
- 14- إنشاء بيت الزكاة الكويتي؟
إحياء ركن من أركان الإسلام وتيسير أدائه والعمل على جمع وتوزيع الزكاة بأفضل وأجود الطرق المشروعة .

السؤال الرابع : - أجب عن الأسئلة التالية :-

- 1- ما هي مصادر التلوث البيئي؟
أ- مصادر طبيعية (البراكين والغبار وغيرها)
ب- مصادر بشرية (النفايات الناتجة من التطور الصناعي – الحروب) .
- 2- أثر التلوث الهوائي؟
أمراض القلب والرئة وضيق التنفس / اضطراب الجهاز العصبي / تلف المباني .
- 3- أثر التلوث المائي؟
هلاك الكائنات البحرية والحيوانية والنباتية / التأثير على صحة الإنسان لاعتماده على الغذاء البحري / فقدان السواحل لقيمتها الاقتصادية والسياحية .
- 4- أسباب التلوث الضوضائي؟
وسائل النقل مثل السيارات / عمليات البناء والهدم وأصوات الآت الحفر .
- 5- نتائج التلوث الضوضائي؟
ضرر خطير في الجهاز السمعي / التوتر العصبي لدى الإنسان .
- 6- أسباب تلوث التربة؟
الإفراط في استخدام المبيدات الحشرية / الأمطار الحمضية / المخلفات الصناعية والبشرية (النفايات) .
- 7- نتائج تلوث التربة؟
الإخلال بالتوازن البيئي / انحسار الغطاء النباتي / ضعف عمليات البناء الضوئي
- 8- النتائج المتوقعة للاحتباس الحراري؟
ارتفاعاً تدريجياً في معدل درجات الحرارة مما يؤدي الى تغيير المناخ مثل ذوبان الجليد في القطبين وغرق مناطق كثيرة من العالم .
- 9- ماذا تعرف عن إعصار جونو أو غونو عام 2007 م؟
إعصار ضرب سواحل سلطنة عمان الشرقية باتجاه سواحل الإمارات الشرقية وسواحل إيران الجنوبية الشرقية وكان نتيجة لظاهرة الاحتباس الحراري .
- 10- أسباب الفقر في الدول الإسلامية؟
أ- عدم توفر فرص العمل ب- انتشار البطالة
ج- ضعف اقتصاد الدولة د - تضخم أسعار السلع والخدمات
هـ - قلة التبرعات والصدقات في المجتمع .
- 11- ما هو الهدف من مؤتمر العقير عام 1922 م؟
إيجاد حل لمشاكل الحدود بين نجد والعراق من جهة والكويت والعراق ونجد من جهة أخرى .

12- ما هي ادعاءات مؤتمر عبد الكريم قاسم 25 يونيو 1961 م ؟

اتضحت الأطماع في مؤتمر عبد الكريم قاسم عندما أشار الى الحقوق التاريخية للعراق في الكويت وأنها تابعة لولاية البصرة / رفض عبد الله السالم حاكم الكويت هذه الادعاءات / وجدت الكويت دعماً من الدول الخليجية والعربية والإسلامية / انضمت الكويت لاتفاقية الدفاع العربي المشترك .

13 – ما هو دور الجيش الكويتي في 2 أغسطس عام 1990 م ؟

أ- تكبد خسائر فادحة من خلال عدة معارك متفرقة داخل البلاد وعلى حدودها
ب- قام بأروع البطولات وقامت القوات الجوية (صقور الجو) بتدمير عدد من الدبابات العراقية وأكثر من 18 طائرة مقاتلة مما أدى لتأخير عملياتهم الهجومية.

14 – أسباب الإدمان ؟

أ- ضعف الوازع الديني ب- ضعف الرقابة من الأسرة ج- رفاق السوء
هـ - التقليد الأعمى و- انتشار التدخين م – قضاء وقت الفراغ في أمور تافهة

15 – ما مبادئ منظمة التعاون الإسلامي ؟

أ- المساواة بين الدول الأعضاء ب - تسوية المنازعات بالطرق السلمية بين الدول

16 – ما هي قرارات المؤتمر الإسلامي الأول ؟

أ- تمسك المسلمين بالقدس ب - رفض أي حل لقضية فلسطين لا يكفل للقدس وضعها السابق لأحداث يونيو 1967 ج - بذل الجهود المشتركة لتحقيق الانسحاب السريع للقوات الإسرائيلية .

17 - ما هي قرارات المؤتمر الإسلامي الخامس ؟

أ- دعم قضية فلسطين ب – الحرص التام على استقلال لبنان ج- الوقف الفوري للحرب بين العراق وإيران د- الموافقة على مشروع محكمة العدل الإسلامية.

18 - ما الجهات الحكومية التي تشرف على تقديم المساعدات الخارجية الإسلامية ؟

وزارة المالية/الصندوق الكويتي/بيت الزكاة/جمعية الهلال الأحمر/الهيئة الخيرية

19 – اكتب أهداف البنك الإسلامي للتنمية ؟

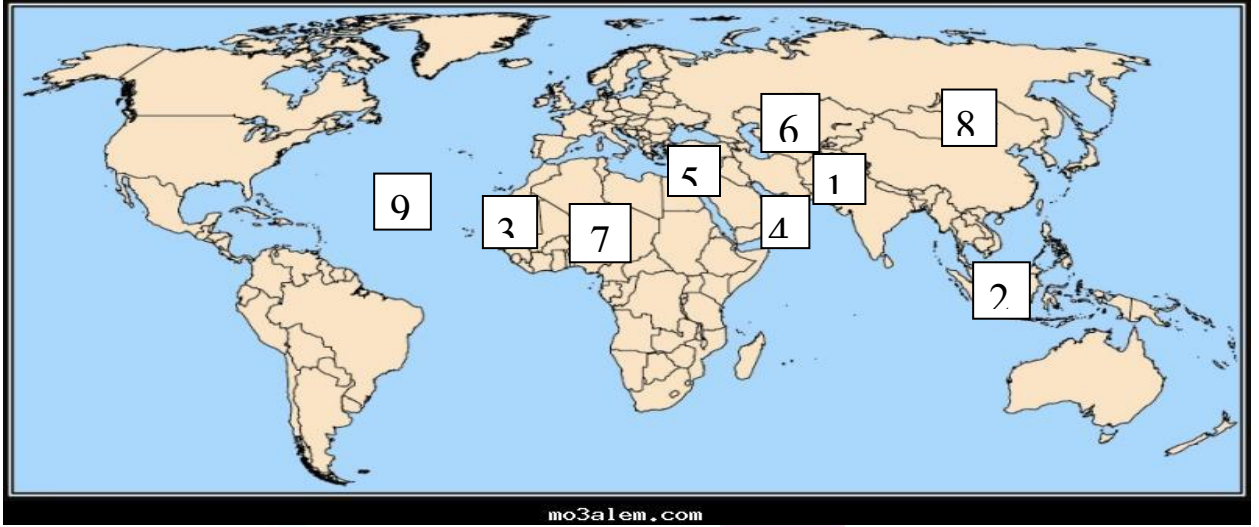
أ- دعم التنمية الاقتصادية والتقدم الاجتماعي للشعوب الإسلامية
ب- تنمية التجارة الخارجية للدول الأعضاء والتبادل التجاري

السؤال الخامس : - أكمل ما يأتي :-

- 1- الغاز الأول المسئول عن الاحتباس الحراري يسمى ثاني أكسيد الكربون
- 2- زحف رمال الصحراء في المناطق الجافة وشبه الجافة يسمى التصحّر
- 3- تصل نسبة التصحر في دول الخليج العربية حوالي 90 % عدا سلطنة عمان
- 4- أعلى الدول الإسلامية في معدل محو الأمية دولة تسمى كازاخستان
- 5- تم الاعتداء على مركز الصامته الحدودي في عام 1973 م
- 6- تم إنشاء شرطة البيئة في دولة الكويت في عام 2015 م
- 7- تعرضت سواحل سلطنة عمان الشرقية لإعصار جونو أو غونو عام 2007 م

- 8- تم تشغيل أول محطة كهرباء تعمل بالطاقة الشمسية في الكويت عام **2017** م
- 9- نظام عالمي جديد يقوم على الإبداع العلمي والتطور التقني تسمى **العولمة**
- 10- حاكم الكويت الذي رفض ادعاءات عبد الكريم قاسم عام 1961 م هو الشيخ **عبد الله السالم الصباح**
- 11- سوف يتم توليد الكهرباء لكافة مناطق المملكة العربية السعودية بحلول عام **2040** م
- 12- في عام 1993 م صدر قرار مجلس الأمن رقم **833** بترسيم الحدود بين الكويت والعراق واعترفت به الكويت بينما العراق اعترفت بالقرار عام **1994** م
- 13- عقدت اتفاقية الحماية عام 1899 م بين دولة الكويت و **بريطانيا**
- 14- أصدرت الجمعية العامة للأمم المتحدة قرارها رقم **181** في عم **1947** م والذي يهدف الى خطة لتقسيم فلسطين الى قسمين عربي ويهودي
- 15- توسع المحتل الصهيوني الاسرائيلي بعد حرب 1948 م في أراضي فلسطين لتحتل حوالي 80 % من الأراضي الفلسطينية
- 16- عقدت القمة العربية الاقتصادية والتنمية والاجتماعية في دولة **الكويت** في عام **2009** م وسميت قمة التضامن مع الشعب الفلسطيني في غزة
- 17- تم إطفاء آبار النفط الكويتي في عهد الشيخ **جابر الأحمد الصباح** .
- 18- عدد آبار النفط الكويتي المشتعلة **737** بئراً تم السيطرة عليها خلال **240** يوماً
- 19- أعلى دولة إسلامية في معدل محو الأمية هي **كازاخستان** وأقلها هي **النيجر** .
- 20- أنشئ مجمع الفقه الإسلامي عام **1983** والهيئة الخيرية الإسلامية عام **1984**
- 21- عقد المؤتمر الإسلامي الأول عم **1969** م والمؤتمر الخامس عام **1987** م .
- 22- عقد المؤتمر الإسلامي الرابع عام **1984** م في مدينة **الدار البيضاء** .
- 23- حضر المؤتمر الإسلامي الخامس بالكويت **44** دولة برئاسة الشيخ **جابر الأحمد**
- 24- من بطلات إطفاء آبار النفط الكويتي المشتعلة هي الكويتية **سارة أكبر**
- 25- دعا الملك السعودي الملك **فيصل بن عبد العزيز** في مؤتمر القمة العربية **الثالثة** لإنشاء تجمع يضم الدول الإسلامية و رأت الدعوة النور بعد حريق **المسجد الأقصى**

السؤال السادس : - أمامك خريطة العالم صماء اكتب ما تدل عليه الأرقام التالية :-



- الرقم (1) دولة اسلامية بلغت نسبة التلوث الهوائي فيها 40 % بسبب عوادم السيارات
(باكستان)
- الرقم (2) دولة اسلامية يمثل التلوث الهوائي خطراً كبيراً بسبب التلوث الدخاني أو الضبابي
(ماليزيا)
- الرقم (3) دولة اسلامية عانت من التلوث المائي لتسرب كميات كبيرة من بقع الزيت من
البواخر (موريتانيا)
- الرقم (4) يشير الى دولة اسلامية تعرضت الى إعصار جونو أو غونو عام 2007 م
(سلطنة عمان)
- الرقم (5) يشير الى دولة اسلامية صدر قرار بتقسيمها الى قسمين عربي ويهودي عام 1947
(فلسطين)
- الرقم (6) يشير الى أولى الدول الاسلامية في معدل محو الأمية (كازاخستان)
- الرقم (7) يشير الى أقل الدول الاسلامية في معدل محو الأمية (النيجر)
- الرقم (8) يشير الى قارة تسمى (آسيا)
- الرقم (9) يشير الى محيط يسمى (الأطلسي) -10 ظلل على الخريطة دولة الكويت