

تم تحميل هذا الملف من موقع المناهج الكويتية



منطقة العاصمة التعليمية

الملف نموذج إجابة منطقة العاصمة التعليمية

موقع المناهج ← المناهج الكويتية ← الصف السابع ← اجتماعيات ← الفصل الأول

روابط مواقع التواصل الاجتماعي بحسب الصف السابع



روابط مواد الصف السابع على تلغرام

[الرياضيات](#)

[اللغة الانجليزية](#)

[اللغة العربية](#)


[التربية الاسلامية](#)

المزيد من الملفات بحسب الصف السابع والمادة اجتماعيات في الفصل الأول

| | |
|--|---|
| كتاب الطالب في مادة الاجتماعيات للعام الدراسي 2018 | 1 |
| حل الوحدة الاولى في مادة الاجتماعيات | 2 |
| تلخيص رائع في مادة الاجتماعيات | 3 |
| حل الوحدة الثانية في مادة الاجتماعيات | 4 |
| تلخيص ممتاز في مادة الاجتماعيات | 5 |



قروبات تيمز
@TEAMS4ALL



موقع
المناهج الكويتية
almanahj.com/kw

منطقة العاصمة التعليمية

التنمؤ وازجائية الاجابة



وزارة التربية

الإدارة العامة لمنطقة العاصمة التعليمية

التوجيه الفني للاجتماعيات

نموذج الإجابة

امتحان نهاية الفترة الدراسية الأولى

لمقرر الكويت والوطن العربي

للمصف السابع المتوسط

أجب عن جميع الاسئلة التالية

العام الدراسي ٢٠٢٣ / ٢٠٢٤

الزمن : ساعة وخمس وأربعون دقيقة

عدد الصفحات : (٦) صفحة



قروبات تيمز

@TEAMS4ALL

موقع
المناهج الكويتية
almanahj.com/kw

السؤال الأول : (موضوعي) ويتكون من (أ - ب) (كل إجابة درجة = ١٠ درجات)

أ- أكمل العبارات التالية بما يناسبها :

- ١- نسبة مساحة الوطن العربي من جملة مساحة العالم تبلغ ١٠ % . ص ٢٣
- ٢- أكثر الأشكال التضاريسية انتشارا في الوطن العربي تسمى الهضاب . ص ٤٠
- ٣- الفصل الذي تكون فيه الشمس عمودية على المنطقة الواقعة بين خط الاستواء ومدار السرطان اسمه الصيف . ص ٤٩
- ٤- مسطح مائي تحيط به اليابسة من جميع الاتجاهات يعرف باسم البحيرة . ص ٦٠
- ٥- الديانة التي نزلت على سيدنا عيسى بن مريم وكتابتها الإنجيل اسمها المسيحية . ص ٩٠

ب- اكتب المفهوم أو المصطلح الدال على كل عبارة مما يلي :

| المفهوم / المصطلح | العبارات |
|-------------------|--|
| أوال | اسم أطلق على البحرين قديما نسبة إلى صنم كانت تعبده قبيلة وائل . ص ٨٩ |
| المسطحات المائية | جميع أشكال المياه على سطح الأرض مثل البحار والخلجان والمحيطات والبحيرات والأنهار . ص ٢٨ |
| الموقع النسبي | موقع الدولة بالنسبة لليابسة والماء . ص ٣٣ |
| النبات الطبيعي | نبات ينمو تلقائيا عقب سقوط المطر دون تدخل من الانسان . ص ٥١ |
| الحضارة | كل ما يطرأ على المجتمع من تقدم وتطور ورقي في جميع نواحي الحياة الدينية والسياسية والاقتصادية والاجتماعية والفكرية . ص ٧١ |

السؤال الثاني: (موضوعي) ويتكون من (أ - ب) (كل إجابة درجة = ١٠ درجات)

أ- اختر البديل الصحيح من بين البدائل التي تلي كل عبارة مما يلي وضع خطا تحتها :

١- الدولة العربية التي يقع فيها نهر المجردة : ص ٥٨

| | | | |
|-------|---------|--------|-------------|
| ليبيا | الجزائر | المغرب | <u>تونس</u> |
|-------|---------|--------|-------------|

٢- وزن الهواء فوق أي مكان يسمى : ص ٤٤

| | | | |
|--------------------|---------|--------|---------|
| <u>الضغط الجوي</u> | الرطوبة | الرياح | الامطار |
|--------------------|---------|--------|---------|

٣- البحر الذي يحد الوطن العربي من ناحية الشمال اسمه : ص ٣٤

| | | | |
|--------|----------------|--------|-------|
| الأحمر | <u>المتوسط</u> | الأسود | العرب |
|--------|----------------|--------|-------|

٤- عدد المواد القانونية في شريعة حمورابي : ص ٨٤

| | | | |
|----------|----------|-----------------|----------|
| ٢٦٢ مادة | ٢٧٢ مادة | <u>٢٨٢ مادة</u> | ٢٩٢ مادة |
|----------|----------|-----------------|----------|

٥- أهم الحيوانات السائدة بالمنطقة الصحراوية في الوطن العربي : ص ٥٥

| | | | |
|-------|--------------|------|-------|
| الأسد | <u>الإبل</u> | الدب | الفيل |
|-------|--------------|------|-------|

ب- صحح ما تحته خط في كل عبارة مما يلي بوضع الإجابة الصحيحة في الفراغ المقابل :

| الإجابة | العبارات |
|-----------------|--|
| المصرية القديمة | ١- الحضارة التي اشتهرت بالكتابة على ورق البردي اسمها <u>دلمون</u> . ص ٧٤ |
| ١٩٩٣ م | ٢- العام الذي انضمت فيه جمهورية جزر القمر الاتحادية الإسلامية إلى جامعة الدول العربية . ص ٢٣ |
| الجبل | ٣- كل ما ارتفع من الأرض وله قمة لا يقل ارتفاعها عن ١٠٠٠ متر يسمى <u>الهضبة</u> . ص ٣٨ |
| مأرب | ٤- أشهر سدود حضارة جنوب غرب شبه الجزيرة العربية (بلاد اليمن) سد اسمه <u>العالى</u> . ص ٨٦ |
| خمسة | ٥- عدد الشعوب التي سيطرت على بلاد الرافدين خلال تاريخها القديم <u>أربعة</u> . ص ٧٩ |

السؤال الثالث: (موضوعي) ويتكون من (أ - ب - ج) (كل إجابة درجة = ١٠ درجات)

أ - أكمل المخطط السهمي التالي :

١- أشكال المياه الجوفية في الوطن العربي . ص ٥٩

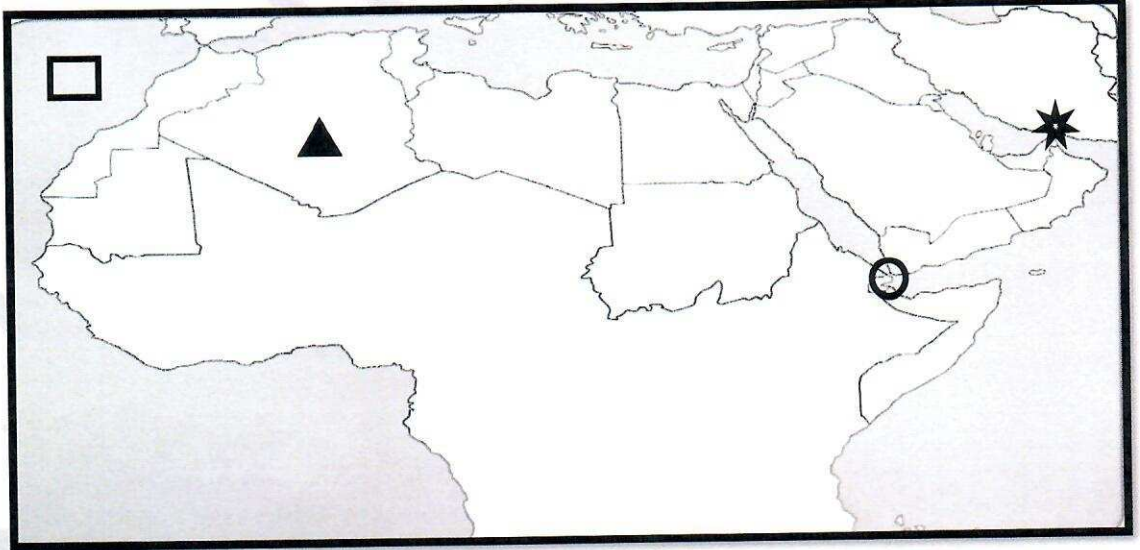


ب - صنف ملامح السطح في الوطن العربي حسب مكانها الصحيح في الجدول التالي:

جوبا - الشطوط - الحجاز - ام الربيع - أطلس

| السهول | الهضاب | الجبال |
|-------------------------|-------------|--------------------|
| جوبا / - ام الربيع ص ٤٢ | الشطوط ص ٤٠ | الحجاز / أطلس ص ٣٨ |

ج- لاحظ خريطة دول الوطن العربي، ثم استعن بالأشكال التي عليها لإكمال العبارات التالية:



- الدولة التي تحمل الشكل ▲ على الخريطة اسمها الجزائر ص ٣٣

- مضيق باب المندب يحمل على الخريطة الشكل ○ ص ٢٩

- المسطح المائي الذي يحمل الشكل □ على الخريطة اسمه المحيط الأطلسي ص ٢٣

السؤال الرابع: (مقال) ويتكون من (أ - ب - ج):

أ- علل ما يلي : كل إجابة درجة / ٤ درجات (يكتفى بنقطتين فقط)

١- عرف سكان بلاد الرافدين الزراعة. ص ٨١

- خصوبة التربة

- سعة السهول

- وفرة المياه .

٢- قيام الحضارة المصرية القديمة. ص ٧٥

- تنوع الصخور والمعادن.

- امتداد الصحراء - نهر النيل - اعتدال المناخ وجفافه.

ب- عدد (اثنين) لكل مما يلي : كل إجابة درجة / ٤ درجات (يكتفى بنقطتين فقط)

١- مصادر المياه في الوطن العربي. ص ٥٧

- الامطار

- المياه الجوفية

- البحيرات

- مياه الأنهار

- مياه البحار و المحيطات والخلجان .

٢- أهم الممالك التي ظهرت في حضارة جنوب غرب شبه الجزيرة العربية (بلاد اليمن القديمة). ص ٨٥

- معين

- سبأ

- حمير .

ج - فرق بين كل مما يلي من حيث (التعريف) : كل إجابة درجة / درجتان

| الطقس | المناخ |
|---|--|
| ص ٤٤ | ص ٤٤ |
| حالة الجو في مكان لمدة قصيرة تتراوح بين يوم أو عدة أيام من حيث درجة الحرارة والرطوبة والامطار والرياح والضغط الجوي. | حالة الجو خلال فترة زمنية طويلة من حيث درجة الحرارة والرطوبة والامطار والرياح. |

السؤال الخامس: (مقال) ويتكون من (أ - ب - ج) :

أ- اقرأ الفقرة التالية ثم أجب عن الأسئلة التي تليها : كل إجابة درجة / ٤ درجات .

(كونت شعوب منطقة الوطن العربي وطنا كبيرا له عاداته وتقاليده وقيمه، وتربط بين أبنائه وحدة الدين واللغة والتراث والأهداف المشتركة ، وهذه الهوية هي التي أجمعت عليها دول الوطن العربي على امتداده الجغرافي)

١- ضع عنوان للفقرة السابقة. ص ٢٦

- هوية الوطن العربي (أو ما يراه المصحح مناسباً) .

٢- استخرج من الفقرة السابقة :

- اثنتين من (مقومات الهوية العربية) (يكتفى بنقطتين) ص ٢٦

- وحدة الدين - وحدة اللغة .

- وحدة التراث - وحدة الأهداف المشتركة .

٣- عرف ما تحته خط . ص ٢٢

الوطن العربي : مجموعة الدول العربية التي يجمعها عدد من السمات المشتركة (الدين واللغة) ويمتد

ضمن قارتين من أكبر قارات العالم مساحة .


ب- عرف ما يلي : كل إجابة درجة / ٣ درجات

١-الموقع الإستراتيجي : أي موقع ذي مكانة مهمة بين دول العالم . ص ٢٨

٢-السهول : مساحة كبيرة من سطح الأرض تتميز باستوائها وقلة ارتفاعها ومفردها سهل . ص ٤٢

٣-الأفلاج : الماء الجاري (مجرى صغير مائي في الأرض) . ص ٦٠

ج- ضع عنوانا مناسباً لكل صورة مما يلي : كل إجابة درجة / ٣ درجات



٣- الكتابة المسمارية


او حضارة بلاد الرافدين. ص ٨٣



٢- ختم حضارة دلمون (البحرين) .

ص ٨٨

(أو ما يراه المصحح مناسباً)



١- الحضارة المصرية / بناء الأهرامات

ص ٧٧

السؤال السادس : (مقالي) ويتكون من (أ - ب)

أ- اكتب اثنين لكل مما يلي : كل إجابة درجة / ٦ درجات (يكتفى بنقطتين)

١- العوامل المؤثرة في مناخ الوطن العربي . ص ٦٤

- الموقع بالنسبة لدوائر العرض
- القرب او البعد عن المسطحات المائية
- التضاريس
- الرياح .

٢- أهم الصناعات التي تستخرج من نبات الحلفا . ص ٥٢

- الورق

- الحبال - الحصر.

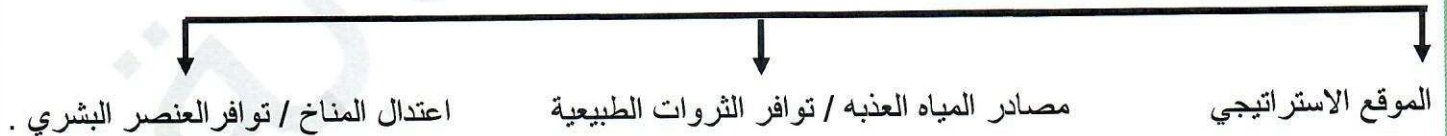
٣- كيفية المحافظة على ثروة المياه . ص ٦٣

- ترشيد استخدام المياه والحد من التبذير في المنازل .
- الحد من هدر المياه في عمليات الري باستخدام الوسائل الحديثة كالرش بالتنقيط والمحوري.
- تنظيم عملية الاستفادة من المياه الجوفية ومنع تسرب الاملاح الملوثة اليها واستثمارها على الوجه الأمثل.
- إقامة البحيرات والسدود لتجميع مياه الامطار والسيول للاستفادة منها في فصل الجفاف.
- توقيع اتفاقيات مع الدول المشاركة ودول المنبع لتحقيق مصالح الدول العربية المعنية .
- تطوير استعمال مياه الصرف الصحي المعالجة في الزراعة. (أو ما يراه المصحح مناسباً)

ب - ارسم مخططاً سهماً عن :

٤ درجات / كل إجابة درجة + درجة لرسم المخطط . (يكتفى ب ٣ نقاط)

- المقومات الأساسية لقيام الحضارة. ص ٧٣



انتهت الأسئلة ،،