

تم تحميل هذا الملف من موقع ملفات الكويت التعليمية



[com.kwedufiles.www//:https](https://www.kwedufiles.com)

*للحصول على أوراق عمل لجميع الصفوف وجميع المواد اضغط هنا

* للحصول على أوراق عمل لجميع مواد الصف السابع اضغط هنا

<https://kwedufiles.com/7>

* للحصول على جميع أوراق الصف السابع في مادة اجتماعيات وجميع الفصول, اضغط هنا

<https://kwedufiles.com/7social>

* للحصول على أوراق عمل لجميع مواد الصف السابع في مادة اجتماعيات الخاصة بـ الفصل الأول اضغط هنا

<https://www.kwedufiles.com/7social1>

* لتحميل كتب جميع المواد في جميع الفصول للصف السابع اضغط هنا

<https://www.kwedufiles.com/grade7>

[bot_kwlinks/me.t//:https](https://t.me/bot_kwlinks)

للحصول على جميع روابط الصفوف على تلغرام وفيسبوك من قنوات وصفحات: اضغط هنا

الروابط التالية هي روابط الصف السابع على مواقع التواصل الاجتماعي

مجموعة الفيسبوك

صفحة الفيسبوك

مجموعة التلغرام

بوت التلغرام

قناة التلغرام

رياضيات على التلغرام



مراجعة الاجتماعيات

الفصل الدراسي الأول

2019/2018م

الصف السابع

مراجعة الفصل الاول مادة الاجتماعيات

الصف سابع 2018م

السؤال الأول : أكمل الفراغات التالية :

1- مساحة واسعة من الأرض تمتد ضمن قارة آسيا وأفريقيا تسمى



- 2- أنزل القرآن الكريم باللغة
- 3- القارة المجاورة لقارة أفريقيا من جهة الشرق تسمى
- 4- يفصل بين قارة أفريقيا وقارة أوروبا البحر
- 5- الدولة العربية التي تقع بعيدا عن الوطن العربي تسمى
- 6- يفصل بين الجناح العربي الآسيوي والجناح الأفريقي البحر
- 7- يبلغ عدد دول الوطن العربي..... دولة .
- 8- تبلغ مساحة الوطن العربي..... مليون كم2 .
- 9- مجرى مائي ضيق يشق لأغراض الري والنقل
- 10- الموقع بالنسبة لخطوط الطول ودوائر العرض يسمى
- 11- يحد الوطن العربي من الشمال البحر .. دولة
- 12- يربط مضيق باب المندب بين البحر .. وخليج
- 13- أرض مستوية ومساحتها كبيرة تسمى
- 14- تمتد في بلاد المغرب العربي سلسلة جبال تسمى
- 15- يوجد جبل الشيخ في مرتفعات.....
- 16- هضبة نجد تقع في دولة عربية تسمى
- 17- تقسم السهول في الوطن العربي إلى هي سهول وسهول
- 18- أكبر هضبة عربية في الجناح الأفريقي تسمى
- 19- الرياح المحلية التي تهب على مصر تسمى.....
- 20- الحشائش الحارة في الوطن العربي تسمى..... والمعتدلة تسمى
- 21- اهم العوامل المؤثرة في تنوع النبات الطبيعي
- 22- النباتات التي لديها القدرة على تخزين المياه في سيقانها هي
- 23- النباتات التي لديها جذور طويلة وعميقة هي
- 24- تستخدم أخشاب أشجار الغابات المدارية في صناعة
- 25- يعتمد على حشائش الأستبس في تربية
- 26- من أهم النباتات الصحراوية في البيئة الكويتية
- 27- الحملة الكويتية التطوعية لترشيد استهلاك المياه تسمى
- 28- يجري في العراق نهرين هما
- 29- كل ما يطرأ على المجتمع من تقدم وتطور في جميع نواحي الحياة يسمى
- 30- عرفت الكتابة عند القدماء المصريين باسم الكتابة
- 31- أول هرم تم بنائه في تاريخ الحضارة المصرية بشكله المدرج هو هرم.....

- 32- إشتهر المصريون القدماء بعدد من الصناعات اهمها،.....
- 33- تقدم المصريين القدماء في عديد من العلوم مثل،.....
- 34- يطلق اسم الرافدين أو ما بين النهرين علي دولة عربية اسمها
- 35- من أشهر ملوك حضارة بابل ملك اسمه.....
- 36- اخترع السومريون كتابة عرفت بالكتابة وسميت نسبة الى
- 37- الكتابة المسمارية عند السومريون تألفت منحرف .
- 38- تعددت الصناعات في بلاد الرافدين منها،.....،.....
- 39- قامت حضارات في شبه الجزيرة العربية في منطقتين هما،.....
- 40- عاصمة مملكة سبأ مدينة تسمى
- 41- عرف أهل اليمن الأبجدية وكانت تتألف من.....حرفاً ، وكانت تكتب بالخط
- 42- اسم أطلق علي البحرين قديماً في مرحلة النفوذ الفارسي هو
- 43- عرفت دلمون عند الشعوب القديمة بأنها الارض
- 44- اشتهرت حضارة دلمون بصناعة
- 45- قامت الحضارة العربية والإسلامية على،.....
- 46- من أهم مظاهر الحضارة الإسلامية في أوروبا جامعة

السؤال الثاني: ضع علامة (√) أمام العبارات الصحيحة وعلامة (X) أمام العبارات غير الصحيحة

1. يمتد الوطن العربي في قارة آسيا و أفريقيا. ()
2. يقع الوطن العربي في موقع متوسط بالنسبة للعالم. ()
3. عاصمة جمهورية جزر القمر مدينة مروني . ()
4. مساحة الوطن العربي تبلغ 14 مليون كم2 . ()
5. انزل القرآن الكريم باللغة الفرنسية . ()
6. يمتد الجزء الاكبر من الوطن العربي في شمال قارة افريقيا . ()
7. يطل الوطن العربي من الغرب على المحيط الهندي. ()
8. الدولة العربية التي يمر بها خط الاستواء هي الصومال . ()
9. الدولة العربية التي يمر بها خط جرينيتش هي المغرب . ()
10. يعتبر الصقر من طيور البيئة الصحراوية . ()
11. يربط بين الخليج العربي وخليج عمان قناة السويس . ()
12. يقع الوطن العربي بالنسبة لقارة أفريقيا في جهة الشمال. ()

13. تنافست الدول الاستعمارية للسيطرة على الوطن العربي منذ القرن 18م. ()
14. توجد جبال أطلس في بلاد المغرب العربي. ()
15. الجبل الاخضر يقع في دولة عمان و ليبيا . ()
16. جبل الشيخ يقع في مرتفعات البحر الاحمر الشرقية . ()
17. جبال اطلس تقع في ثلاث دول تونس والجزائر والمغرب . ()
18. جبال مرة تقع في دولة الصومال . ()
19. جبال البحر الاحمر الغربية تقع في مصر والسودان . ()
20. توجد مرتفعات الأحجار في السعودية. ()
21. توجد هضبة نجد في وسط قارة أفريقيا. ()
22. من اهم السهول النهرية في الجناح العربي الافريقي سهول نهر النيل . ()
23. اهم السهول في الجناح العربي الاسيوي سهول نهري دجلة والفرات . ()
24. حالة الجو لفترة زمنية قصيرة تسمى الطقس. ()
25. الرياح المحلية التي تهب على شبه الجزيرة العربية تسمى السموم. ()
26. تختلف نوع حشائش السافانا حسب كمية الأمطار. ()
- 35- اختر السومريون كتابة عرفت باسم الكتابة المسمارية . ()
- 36- ظهرت الشرائع القانونية في بلاد الرافدين في عهد حمورابي . ()
- 37- تحتوي شريعة حمورابي على 180 مادة قانونية . ()
- 38- النهر مجرى مائي مالح ينحدر على الدوام وينتهي الي بحر . ()
- 39- عاصمة مملكة معين مدينة ريدان . ()
- 40- من أشهر ملوك مملكة حمير الملكة بلقيس . ()
- 41- اشتهرت حضارة دلمون بصناعة الأختام . ()
- 42- أول نزول الوحي على الرسول صلى الله عليه وسلم في المدينة المنورة . ()
- 43- عرفت دلمون قديماً باسم الارض المقدسة . ()
- 44- تم العثور على بقايا لمعبد قديمة في البحرين أهمها معبد ابوسمبل . ()
- 45- أرسل النبي عيسى عليه السلام بدعوة إلي الديانة اليهودية . ()

السؤال الثالث : اختر الاجابة الصحيحة من بين الاقواس وضع خطا تحتها :-

- 1- تتكون جمهورية جزر القمر من عدة جزر عددها
 (2 - 3 - 4 - 5)
- 2- انضمت جمهورية جزر القمر للجامعة العربية عام

- (1991 - 1992 - 1993 - 1994)
- 3- عدد الدول العربية يبلغ
- (8 - 15 - 18 - 22)
- 4- عدد الدول العربية في الجناح الافريقي دولة .
- (6 - 7 - 9 - 10)
- 5- عدد الدول العربية في الجناح الآسيوي دولة .
- (10 - 11 - 12 - 13)
- 6- تبلغ مساحة الوطن العربي م كم 2 .
- (13,5 - 15,5 - 16,5 - 17,5)
- 7- تبلغ مساحة الوطن العربي بالنسبة لمساحة العالم %
- (6 - 8 - 10 - 11)
- 8- عرفت الابجدية في بلاد اليمن وكانت تتألف من حرف .
- (27 - 28 - 29 - 30)
- 9- موقع حضارة دلمون الخليج .
- (شمال - وسط - غرب - شرق)
- 10- سميت دلمون قبل الفتح الاسلامي باسم
- (سبأ - معين - أوال - حمير)
- 11- عاصمة الكلدانيون تسمى
- (أكد - بابل - آشور - أور)
- 12- تعرف الرياح المحلية في الكويت باسم
- (السموم - الخماسين - الهبوب - الطوز)

السؤال الرابع : عرف المفاهيم التالية :-

1. الوطن العربي :
2. المضيق :
3. القناة :

4. الموقع الاستراتيجي :
5. الموقع الفلكي :
6. خطوط الطول :
7. دوائر العرض :
8. الموقع النسبي :
9. المياه الجوفية :
10. الجبل :
11. الهضبة :
12. السهل :
13. السهول الفيضية (النهرية) :
14. السهول الساحلية :
15. التضاريس :
16. الضغط الجوي :
17. الطقس :
18. المناخ :
19. المسطحات المائية :
20. الاقليم :
21. النبات الطبيعي :
22. الحشائش الحارة :
23. الحشائش المعتدلة :
24. النهر :
25. البحيرة :
26. الافلاج :
27. الحضارة :
28. هرم سقارة المدرج :
- 23- حمورابي :
- 24- أوال :

السؤال الخامس : علل لما يأتي :-

1 - للوطن العربي أهمية جغرافية.

أ-
ب-

2 - للوطن العربي أهمية اقتصادية.

أ-
ب-

3 - الأهمية الحضارية و الثقافية للوطن العربي .

أ-
ب-

4- الأماكن القريبة من خط الاستواء تتميز بارتفاع حرارتها على مدار السنة.

*

5- فصل الشتاء في شمال الوطن العربي تنخفض درجة الحرارة .

.....

6- تنوع المناخ في الوطن العربي .

**

7- تعتبر تربة السهول الفيضية من أكثر أنواع التربة خصوبة .

.....

8- تنخفض درجة الحرارة في بعض المدن العربية صيفا .

.....

9- تعد الهضاب أكثر الأشكال التضاريسية انتشارا في الوطن العربي.

.....

10- الأهمية الحضارية و الثقافية للوطن العربي .

أ-

ب -

11- قيام المصريين القدماء بتحنيط الموتى .

.....

12 - اهتمام المصريين القدماء بالزراعة .

.....

13- تعتبر قناة السويس أهم شريان ملاحى في العالم.

.....
14- تنافس الدول الاستعمارية للسيطرة على الوطن العربي.
.....

15- الأماكن القريبة من خط الاستواء تتميز بارتفاع حرارتها على مدار السنة.
.....

16- كانت حرفة الزراعة عند السومريون هي الحرفة الرئيسية .
.....

17- معرفة سكان بلاد الرافدين للزراعة .
.....

18- اشتغال الاشوريون بالرعي .
.....

19- قيام الحضارات في بلاد الرافدين .
.....

20- عدم ظهور التماثيل في فنون العرب .
.....

السؤال السادس :- أجب عن الاسئلة التالية :-

1- ما أهمية المياه في حياة الانسان ؟
.....

2- اكتب أهم الأنهار في الوطن العربي ؟
.....

3- عدد خصائص الأنهار في الوطن العربي ؟
.....

4- ما أهمية موقع الوطن العربي ؟
.....

5- ما أهم الصفات الأساسية التي يتميز بها موقع الوطن العربي ؟
.....*

6- ما الدول العربية المطلة على المحيط الاطلسي ؟
.....*

7- يقع الجبل الاخضر في دولتين . ما هما ؟

8- تقسم الجبال في الوطن العربي إلى عدة أنواع اكتبهم ؟

9- تنقسم الهضاب في الوطن العربي إلى قسمين اكتبهم ؟

10- اكتب أهم السهول الساحلية الوطن العربي في الجناح الآسيوي ؟

11- ما العوامل المؤثرة في مناخ الوطن العربي؟

أ- ب -

ج- د-

12- ما تأثير المسطحات المائية في المناخ؟

13- تسمى الرياح المحلية في مصر باسم، وفي الكويت باسم

وفي السعودية باسم

14- اهمية قناة السويس بالنسبة للوطن العربي ؟

15- ما العوامل الرئيسية المؤثرة في تنوع النبات الطبيعي في الوطن العربي؟

16- أهم خصائص السهول الفيضية (النهرية) .

17- ما أثر تعدد المناخات وأشكال التضاريس في نباتات الوطن العربي ؟

18- الخصائص النباتية للنباتات الصحراوية ؟

19- اذكر أهم محطات تحليه المياه في الكويت ؟

.....*

20- اذكر أهم عوامل قيام الحضارة ؟

.....

22- أهم عوامل قيام الحضارة المصرية القديمة ؟


.....

23- أهم عوامل قيام الحضارة في شبه الجزيرة العربية ؟

.....*

السؤال السابع : - أكمل المخططات السهمية التالية :-

1- عناصر المناخ هي :



2- مقومات الهوية العربية هي :



3- الحيوانات السائدة في البيئة الصحراوية




4- أشجار الغابات المعتدلة هي :



5- اشجار الغابات الحارة هي :



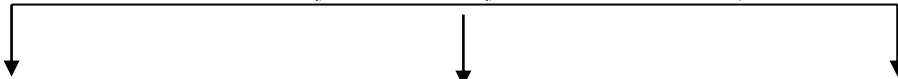
6- عوامل قيام الحضارات



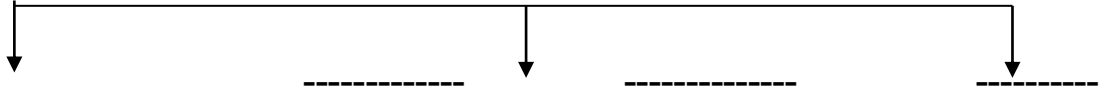
8- أهم الأنشطة التي مارسها سكان دلمون



9- أهم الديانات السماوية في الوطن العربي



10- طرق انتقال الحضارة العربية والإسلامية إلى أوروبا



السؤال الثامن :- صنف ما يلي :-

الجدول التالي :

(الساج - الصنوبر - الاستبس - التين الشوكي - الفلين - الابنوس - الزيتون - الصبار)

غابات حارة	غابات مدارية	حشائش	نباتات صحراوية

- مظاهر السطح التالية حسب الجدول :

(النيل - أطلس - الشطوط - تهامة - الفرات - نجد - عسير - الاحساء)

الجبال	الهضاب	السهول	الانهار

- المسطحات المائية التالية حسب الجدول :

(العربي - الاحمر - الهندي - السويس - الاطلسي - المتوسط)

المحيطات	الخلجان	البحار

السؤال التاسع :- قارن بين :-

الجدول :

وجه المقارنة	خطوط الطول	دوائر العرض
العدد		

		خط الأساس
		الأهمية

2- الغابات المدارية و الغابات المعتدلة من حيث

الغابات المعتدلة	الغابات المدارية	وجه المقارنة
		خصائصها
		التوزيع الجغرافي
		أهم أشجارها

3- حشائش السافان وحشائش الاستبس من حيث:

حشائش الاستبس	حشائش السافانا	وجه المقارنة
		التعريف
		التوزيع الجغرافي

- الديانات السماوية الثلاثة من حيث الكتاب ، النبي المرسل

النبي	الكتاب	الديانة
		الإسلام
		المسيحية

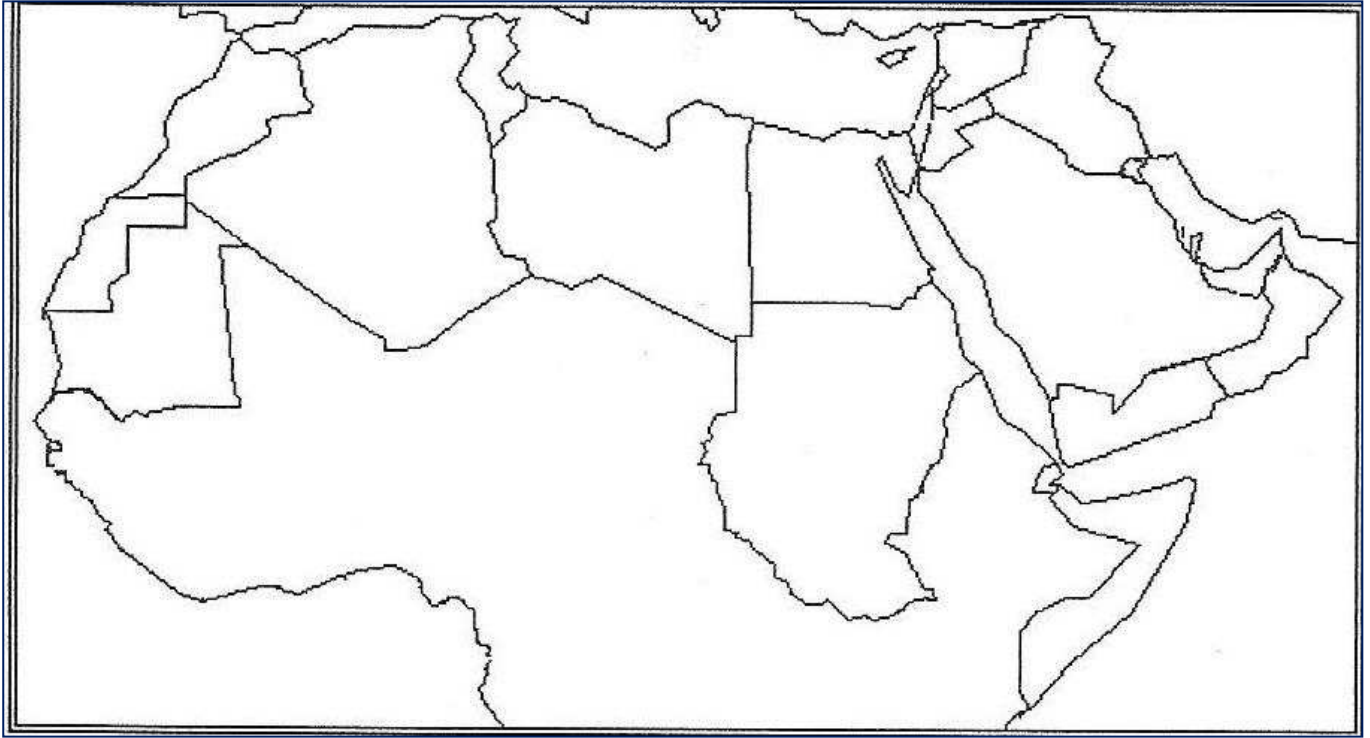
		اليهودية
--	--	----------

(ب)		(أ)
الحضارة	الرقم المناسب	المدينة
عاصمة حضارة السومريون		1- مدينة مارب
عاصمة البابليون		2- مدينة ريدان
عاصمة الأشوريون		3- مدينة أور
عاصمة مملكة خمير		4- أوال
عاصمة مملكة سبأ		5- آشور
اسم أطلق علي البحرين قديماً		6- بابل

السؤال العاشر : اختر من المجموعة (أ) ما يناسبها من أرقام المجموعة (ب) :-

اسم الحضارة	السومريون	الأكاديون	البابليون	الأشوريون	الكلدانيون
العاصمة					
اشهر الملوك	//////////////////// //////////////////// ////////////////////				

السؤال الحادي عشر :- لاحظ خريطة الوطن العربي ثم نفذ المطلوب :-



أ - حدد المطلوب بالكتابة:

1- دولة الجزائر .

2- مضيق باب المندب.

3- جبال أطلس.

4- قارة أوربا.

ب - نفذ المطلوب:

1. ضع الرمز (#) مكان سيناء.

2. ضع الرمز (X) مكان مضيق جبل طارق .

3. ضع الرمز (Ø) مكان قناة السويس.

4. ضع الرمز (Δ) مكان الجبل الأخضر.

5. ضع الرمز (■) مكان هضبة نجد .

6. ظلل الدولة التي يمر منها خط الاستواء .

7. ضع الرمز □ مكان هضبة الشطوط .

11 - رياح الهبوب

8. رياح السموم بالرمز

HA