

تم تحميل هذا الملف من موقع المناهج الكويتية



مدرسة التميز النموذجية

الملف بنك أسئلة مدرسة التميز النموذجية

[موقع المناهج](#) ← [المناهج الكويتية](#) ← [الصف السابع](#) ← [رياضيات](#) ← [الفصل الثاني](#)

روابط مواقع التواصل الاجتماعي بحسب الصف السابع



روابط مواد الصف السابع على تلغرام

[الرياضيات](#)

[اللغة الانجليزية](#)

[اللغة العربية](#)

[التربية الاسلامية](#)

المزيد من الملفات بحسب الصف السابع والمادة رياضيات في الفصل الثاني

مذكرة تدريسية لمنهج الكفايات	1
تصميم الوحدة 12 سابع حديد	2
مخطط الشجرة البيانية ومبدأ 12 1	3
ايجاد النسبة المئوية لعدد	4
ايجاد النسبة المئوية لعدد	5

7



مدرسة التميز النموذجية

(ابتدائي - متوسط - ثانوي)

بنك الأسئلة

الرياضيات

الصف السابع



خمسة وعشرون عاماً من التميز

2025 / 2024
الفصل الدراسي الثاني



الرياضيات

بنك أسئلة الفصل الدراسي الثاني

أولا : الأسئلة المقالية :-

١ أكتب في صورة كسر مركب

(أ) $2 \frac{3}{4}$ (ب) $10 \frac{8}{9}$

٢ أكتب في صورة عدد كسري

(أ) $\frac{11}{4}$ (ب) $\frac{15}{6}$

٣ أكتب في الصورة العشرية

(أ) $\frac{3}{5}$ (ب) $\frac{3}{4}$ (ج) $\frac{1}{8}$ (د) $\frac{5}{11}$

٤ أكتب في الصورة الاعتيادية في أبسط صورة

(أ) ٠,٤ (ب) ٠,٣٦ (ج) ٠,٠٢٥ (د) ٠,٣ (هـ) ٠,٢٥

٥ رتب تصاعديا : $\frac{4}{5}$ ، $\frac{3}{10}$ ، $\frac{1}{2}$

٦ رتب تنازليا : ٠,٣ ، ٠,٢ ، $\frac{2}{5}$

٧ اوجد الناتج في أبسط صورة

(أ) $= \frac{7}{5} + \frac{3}{5}$

(ب) $= 9 \frac{4}{14} + 6 \frac{5}{7}$

(ج) $= \frac{2}{3} - 2 \frac{2}{3}$

(د) $= 1 \frac{3}{7} - 5$

(هـ) $= 2 \frac{2}{3} - 5 \frac{1}{5}$

٨ باع رجل $\frac{2}{5}$ ٦ لترا من الزيت ، ثم باع ٣,٦ لترات اخرى ، فكم لترا باع التاجر ؟

٩ مع حسن جبل طوله ١٠,٥ متر قطع منه $\frac{3}{8}$ ٤ كم مترا بقي من الجبل مع حسن ؟

١٠ حل المعادلات الآتية:-

$$(أ) \quad \frac{4}{5} = \frac{1}{10} - ل$$

$$(ب) \quad \frac{11}{12} = س + \frac{3}{4}$$

$$(ج) \quad س + \frac{3}{4} = 2 - \frac{7}{8}$$

$$(د) \quad هـ - \frac{3}{7} = 4$$

١١ أوجد الناتج في ابسط صورة

$$(أ) \quad = \frac{3}{10} \times 2$$

$$(ب) \quad = \frac{3}{8} \times \frac{4}{5}$$

$$(ج) \quad = 0,6 \times 7 \frac{1}{2}$$

$$(د) \quad = 1 \frac{1}{3} \times 4,5$$

$$(هـ) \quad = \frac{4}{5} \div 8$$

$$(و) \quad = \frac{6}{16} \div \frac{3}{8}$$

$$(ز) \quad = 2 \frac{1}{4} \div 1 \frac{2}{3}$$

١٢ حل المعادلات الآتية:-

أ) $١٢ = \frac{١}{٦} \div ن$

ب) $\frac{٣}{٥} = و \times \frac{٤}{٥}$

ج) $\frac{١١}{١٢} = ٢ \times \frac{٣}{٤}$

د) $\frac{٥}{٩} = ١٨ \div ل$

١٣ اشترى أحمد $\frac{١}{٢}$ كيلو جرام من الحلوى . اذا كان سعر الكيلو جرام الواحد ٢ دينار أوجد ما دفعه احمد ثمننا للحلوى ؟

١٤ صمم جسر طوله $٣\frac{١}{٢}$ كم من احدى المناطق العمرانية الجديدة وتم انجاز $\frac{١}{٢}$ طوله . كم

يبلغ طول الجزء الذى تم انجازه ؟

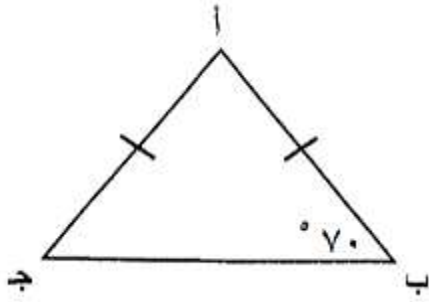
١٥ هل الاطوال ٥ سم ، ٤ سم ، ٣ سم تصلح ان تكون اضلاع مثلث ؟ ولماذا ؟

١٦ صنف كل مثلث من المثلثات التالية من حيث الاضلاع

أ) ٧ مم ، ٧ مم ، ٧ مم

ب) ٣ سم ، ٩ سم ، ٩ سم

ج) ٦ م ، ١٠ م ، ٨ م



بالاستعانة بالشكل المقابل أكمل :

١٧

أ) ق (ج) = = $\hat{ج}$

السبب:

ب) ق (أ) = = $\hat{أ}$

السبب:

في الشكل المقابل: Δ أ ب ج متطابق الضلعين : $\hat{س} = 80^\circ$ و $\hat{ص} = 80^\circ$

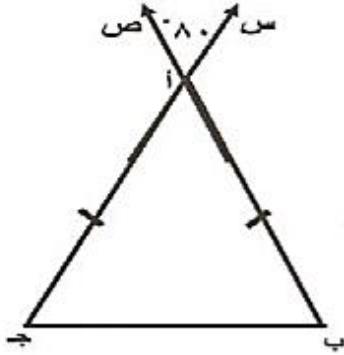
١٨

أكمل:

أ) ق (ب) = = $\hat{ج}$

السبب:

ب) ق (ج) = = $\hat{ب}$



في الشكل المقابل: أ ب ج مثلث متطابق الضلعين ، ب ه = $\hat{ه} = 70^\circ$

١٩

منصف زاوية الرأس يقطع ب ح عند ه ، ق (ب) = 70°

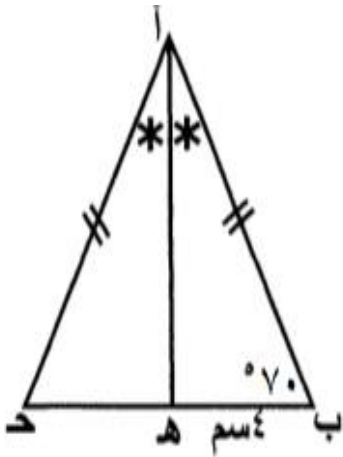
أوجد مع ذكر السبب كلاً مما يلي :

ق (أ ه ب) = = $\hat{ب}$

السبب:

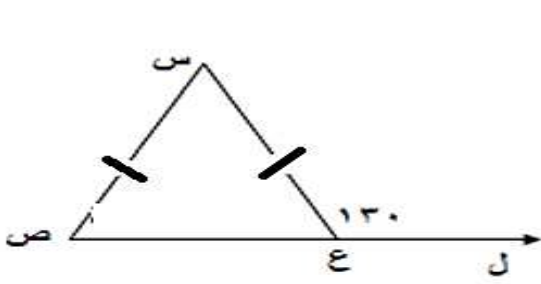
ق (ح) = = $\hat{ح}$

السبب:

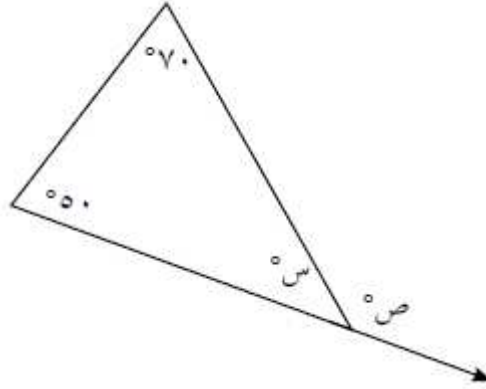


استعن بالرسم لإيجاد قيمة \angle ص ،

٢٠



(ب)



(أ)

ارسم المثلث أ ب ج حيث \angle أ = 40° سم ، \angle ب = 60° سم ، \angle ج = 70° سم

٢١

ارسم المثلث س ص ع : حيث \angle س = 40° سم ، \angle ص = 50° سم ، \angle ع = 90°

٢٢

ارسم المثلث ل م ن : حيث \angle ل = 70° سم ، \angle م = 80° سم ، \angle ن = 90°

٢٣

٢٤

في كلٍّ من الأشكال التالية أ ب // ح د عيّن مع ذكر السبب (ب ح د):

(أ)

..... = (ب ح د)
السبب:

(ب)

..... = (ب ح د)
السبب:

(ج)

..... = (ب ح د)
السبب:

٢٥

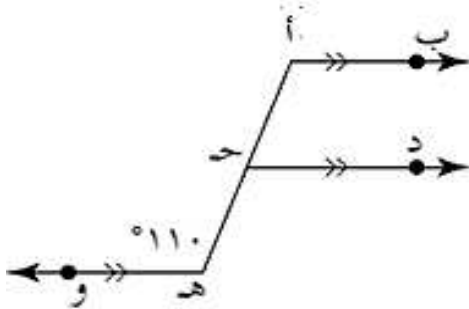
في الشكل المقابل أكمل :

ق (د ج هـ) =

..... السبب:

ق (ب أ ج) =

..... السبب:



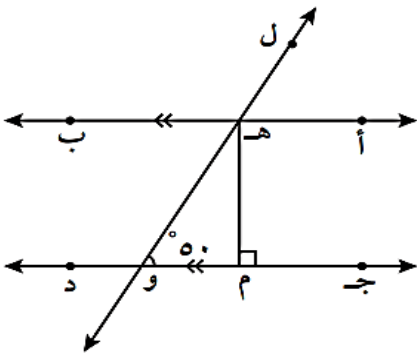
٢٦

في الشكل المجاور

أ ب // ج د ، هـ و قاطع لهما

هـ م ⊥ ج د ، و (هـ و م) = ٥٠°

أوجد مع ذكر السبب :



- أ) و (و هـ ب) = السبب:
- ب) و (أ هـ و) = السبب:
- ج) و (م هـ و) = السبب:

٢٧

الشكل المقابل أ ب ج د متوازي أضلاع :

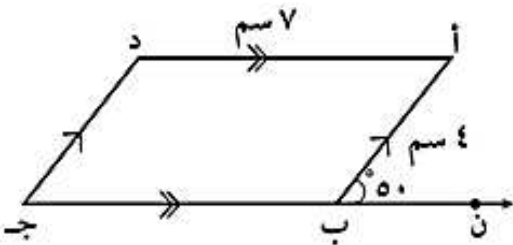
أكمل :

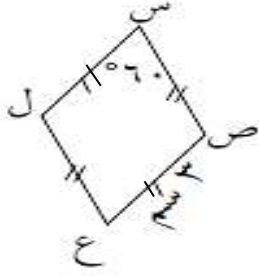
..... قياس (ب أ د) =

..... قياس (د) =

..... قياس (د ج ب) =

..... طول د ج =





٢٨ الشكل المقابل معين : أكمل

ق (ع) = السبب

ق (ل) = السبب

س ص = السبب

٢٩ في الشكل المقابل :

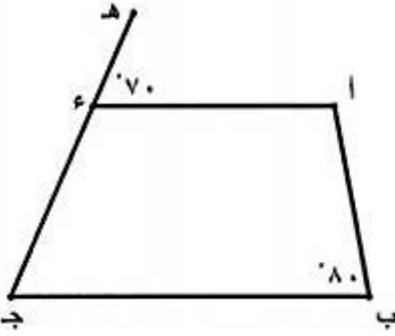
أ ب ج د شبه منحرف ، ه \in ج د

ع // ب ج ، ه (أ ع ه) = 70° ، ه (ب) = 80°


أوجد مع ذكر السبب :

١) ه (أ) = السبب :

٢) ه (ج) = السبب :

٣٠ في مستوى الإحداثيات : أرسم Δ أ ب ج

الذي رؤوسه أ (٢ ، ٤) ، ب (٣ ، ٠) ، ج (٣ ، ٠) ،

ج (٣ ، ٢) . ثم أرسم Δ أ' ب' ج'صورة Δ أ ب ج بازاحة ٢ وحدات لليمين ووحدة لأعلى


٣١ في مستوى الإحداثيات .


أرسم Δ أ ب ج الذي رؤوسه النقاط :

أ (٣ ، ١) ، ب (٣ ، ٣) ، ج (١ ، ٠) ،

. ثم أرسم Δ أ' ب' ج' صورة Δ أ ب ج

بالانعكاس في المحور السينات .





٣٢ في مستوي الإحداثيات . أرسم Δ أ ب ج الذي رؤوسه النقاط : أ (٣ ، ٤) ، ب (٣ ، ١) ، ج (٠ ، ٣) . ثم أرسم Δ أ' ب' ج' صورة Δ أ ب ج بالانعكاس في المحور الصادات

٣٣ حدد زوايا التمثيلات الدورانية لكل من :
 (أ) المعين (ب) المربع (ج) المثلث المتطابق الاضلاع

٣٤ قرّر أيًا من الأشكال التالية يكون له تناظرٌ دورانيّ. إذا كان كذلك، فاذكر الكسر الدورانيّ الذي يكونُ باتجاه دوران عقارب الساعة والذي يُدوّر الشكل الأصليّ على نفسه.
 (أ) مستطيل (ب) متوازي أضلاع (ج) مثلث متطابق الضلعين



٣٥ إذا كان عدد الكرات الحمراء ٦ كرات وعدد الكرات البيضاء ٨ كرات . أكمل
 نسبة الكرات الحمراء الى الكرات البيضاء = :

نسبة الكرات البيضاء الى الكرات الحمراء =
 أكتب نسبتين تساوي ٣ الى ٤ ؟

٣٧ في أحد فصول الصف السابع نجح ٢٤ طالب ورسب ٣ طلاب أوجد ونسبة عدد الراسبين الى عدد الناجحين في أبسط صورة

٣٨ اوجد معدل الوحدة لكل من :

(أ) ١٢٠ نبضة / ١٠ ثوان

(ب) ٥٠ دينار لكل ٢٥ كجم

حل التناسب ٣٩

$$\frac{٤}{س} = \frac{٦}{١٥}$$

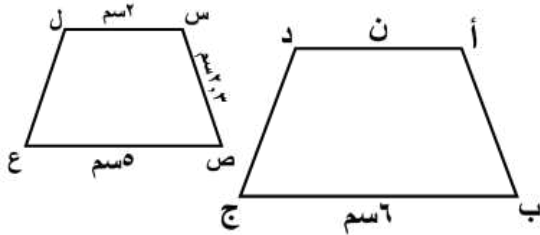
٤٠ اشترى جاسم ٣٠ لتر من الوقود بمبلغ ٤٢٠٠ فلس ، فما ثمن ٥٠ لتر من الوقود نفسه ؟

٤١ استخدمت عدسة تكبير بنسبة ٢٠ : ١ في تكبير حشرة من احدى الغابات ، فكان طولها ١٠ سم . ما الطول الحقيقي للحشرة ؟

٤٢ حل التناسب باستخدام معدل الوحدة :

$$\frac{٥ \text{ ارناب}}{س \text{ ارناب}} = \frac{١٠ \text{ ققط}}{٢٠ \text{ ققط}}$$

٤٣ في الشكل المقابل إذا كان أ ب ج د \sim س ص ع ل ، أوجد قيمة ن.



٤٤ حول الى الصورة العشرية:-

$$\dots\dots\dots = \%٣٧$$

$$\dots\dots\dots = \%٣$$

$$\dots\dots\dots = \%٦٧٨$$

$$\dots\dots\dots = \%٧٦,٥$$

٤٥ حول الى نسبة مئوية:-

$$\dots\dots\dots = ١,٩٥$$

$$\dots\dots\dots = ٠,٨٧$$

٤٦ أوجد ناتج كل من :-

$$\dots\dots\dots = \%٣٠ \text{ من } ٢٠٠$$

$$\dots\dots\dots = \%١٤٠ \text{ من } ٥٠$$

٤٧ أوجد قيمة س في كل مما يأتي :

• $٧٥ = ٣٠\% \text{ من س}$

• $٦٩ = ١١٥\% \text{ من س}$

• $٠,٢٢ = ٢٢\% \text{ من س}$

ت

٤٨ أوجد مقدار الزكاة الواجبة علي مبلغ ٢٥٨٠٠ دينار حال عليها الحول . ؟

(علما بأن مقدار الزكاة = ٢,٥% من المبلغ)

ت

٤٩ توفيت سيدة وتركت ميراثا قدره ٤٥٠٠٠ دينار وتم توزيع الميراث على ولد وثلاث بنات . احسب نصيب

كلأ من الورثة

ت

٥٠ في تجربة رمي قطعة نقود تم حجر نرد . ارسم مخطط الشجرة ثم استخدم مبدأ العد لإيجاد عدد جميع النواتج

الممكنة ؟

٥١ في تجربة رمي قطعة نقود معدنية وسحب بطاقة عشوائية من ٣ بطاقات مرقمة بالارقام ١ ، ٢ ، ٣ .

ارسم مخطط الشجرة ثم استخدم مبدأ العد لإيجاد عدد جميع النواتج الممكنة.

ت

٥٢ حدد نوع الاحداث في كل مما يلي :

(أ) ظهور عدد زوجي عند رمي حجر نرد منتظم مرة واحدة

(ب) ظهور صورة عند رمي قطعة نقود معدنية مرة واحدة

(ج) ظهور بطاقة عليها الرقم ٥ عند سحب بطاقة من بطاقات مرقمة من ١ الى ٤

٥٣ ثلاث كرات ملونة • حمراء ، خضراء ، وزرقاء • اذا سحبت كرة عشوائيا ثم اعيدت

وسحبت كرة مرة اخرى عشوائيا . اوجد :-

(أ) عدد جميع النواتج الممكنة للتجربة

(ب) بين نوع حدث سحب كرتين احدهما حمراء والاخرى زرقاء

٥٤ في تجربة القاء حجر نرد مرة واحدة وملاحظة العدد الظاهر علي الوجه العلوي . اوجد

(١) ل (ظهور عدد فردي)

(٢) ل (ظهور عدد أكبر من ٤)

٥٥ لديك مجموعة بطاقات مرقمة من ١ الي ٩ . افترض انك اخترت احدى هذه البطاقات بطريقة عشوائية •

اوجد احتمال ظهور كل حدث مما يأتي :

(أ) ل (ظهور العدد ٥)

(ب) ل (ظهور عدد فردي)

(ج) ل (ظهور مضاعف للعدد ٣)

(د) ل (ظهور العدد ١٠)

(هـ) ل (ظهور العدد ٣ أو العدد ٥)

(و) ل (ظهور عدد أولي)

٥٦ في صندوق أقراص (خضراء ، حمراء ، وزرقاء) ، ل (خضراء) = ثلث ، واحتمال حمراء = نصف .

اذا كان عدد الاقراص خضراء اللون = ٦ فما عدد الاقراص زرقاء اللون ؟

ثانيا : الأسئلة الموضوعية :-

ظل (٢) إذا كانت العبارة صحيحة ، وظلل (ب) إذا كانت العبارة خاطئة :

١	عدد محاور تناظر الشكل السداسي المنتظم = ٦ محاور	(٢)	(ب)	
٢	$\frac{٣ \text{ موزات}}{٨ \text{ برتقالات}}$ هي نسبة تعبر عن معدل وحدة	(٢)	(ب)	
٣	في الشكل المقابل ق (د ج ب) = ٧٥°		(٢)	(ب)
٤	٢٥ % في صورة كسر اعتيادي $\frac{٢}{٥}$	(٢)	(ب)	
٥	إذا كان مقدار الزكاة ٥٠٠ دينار فإن المبلغ الذي استحق الزكاة = ٢٠٠٠ دينار	(٢)	(ب)	
٦	عبارة الضرب التي يمثلها النموذج هي $\frac{١}{٦} \times \frac{٣}{٥}$		(٢)	(ب)
٧	المعكوس الضربي للعدد ٣ هو ٣-	(٢)	(ب)	
٨	إذا كان شكل له تماثل دوراني بزواوية ٩٠ درجة فإن الكسر الدوراني = $\frac{١}{٤}$	(٢)	(ب)	
٩	أ ب ج د مستطيل ، فإن ق (أ ج د) = ٢٥°		(٢)	(ب)
١٠	شبه المنحرف هو شكل رباعي فيه كل ضلعين متقابلين متوازيان	(٢)	(ب)	

ثانياً: في البنود (١ - ١٠) لكل بند أربعة اختيارات واحد فقط منها صحيح ظلل دائرة رمز الاختيار الصحيح

(١) إذا كان طولاً ضلعين في مثلث ٥ سم ، ٣ سم فإن طول الضلع الثالث يمكن أن يكون

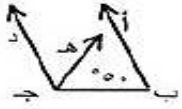
أ ٧ سم ب ٨ سم ج ٩ سم د ١٠ سم

(٢) ٣٠ % من ٢٠٠ =

أ ٦٠ ب ٨٠ ج ١٨٠ د ٥٠

(٣) احتمال أن تقلع طائرة إحدى شركات الطيران في موعدها المحدد هي $\frac{٢}{٩}$ فإن احتمال أن تتأخر عن موعدها يفرض أنها لا تقلع قبل موعدها هو

أ $\frac{١}{٢}$ ب $\frac{٧}{٩}$ ج $\frac{٢}{٧}$ د $\frac{٨}{٩}$



(٤) في الشكل المجاور : ب $\hat{A} // \hat{D}$ ، ج \hat{H} ينصف (ب ج د) ، ق (ا ب ج) = ٥٠° فإن ق (ه ج د) =

أ ٥٠° ب ٦٥° ج ١٣٠° د ٧٠°

(٥) معين محيطه ٣٦ سم فإن طول ضلعه يساوي

أ ٩ سم ب ١٨ سم ج ١٥ سم د ٧٢ سم

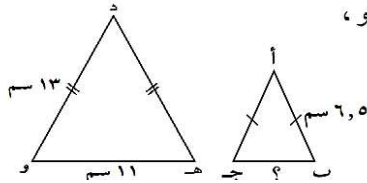
(٦) احتمال ظهور عدد زوجي عند القاء حجر نرد مرة واحدة يساوي

أ $\frac{١}{٢}$ ب $\frac{١}{٣}$ ج $\frac{١}{٤}$ د $\frac{١}{٦}$

متوازي الأضلاع له تماثل دوراني حول مركزه بزواوية قياسها :

أ ٩٠° ب ١٨٠° ج ٢٧٠° د ٣٦٠°

في الشكل المقابل، إذا كان Δ أ ب ج $\sim \Delta$ د ه و، فإن طول الضلع ب ج يساوي :



أ $٥,٥$ سم ب $٦,٥$ سم
ج ١٣ سم د ٢٢ سم

السعر الأفضل لشراء الذهب هو :

أ ٢٥ ديناراً لكل ٥ جم ذهب

ب ٢٨ ديناراً لكل ٤ جم ذهب

ج ٣٠ ديناراً لكل ١٠ جم ذهب

د ٣٢ ديناراً لكل ٨ جم ذهب

إذا كان احتمال فوزك في لعبة ما هو $\frac{٣}{٥}$ ، فإن احتمال عدم فوزك في صورة نسبة مئوية هو :

أ ٢٠% ب ٤٠% ج ٦٠% د ٨٠%

الاجابة

$$(1) \text{ أ) } \frac{11}{4} \quad \text{ب) } \frac{98}{9}$$

$$(2) \text{ أ) } 2\frac{3}{4} \quad \text{ب) } 2\frac{3}{6} = 2\frac{1}{2}$$

$$(3) \text{ أ) } 0,6 \quad \text{ب) } 0,75 \quad \text{ج) } 0,125 \quad \text{د) } 0,45$$

$$(4) \text{ أ) } \frac{2}{5} \quad \text{ب) } \frac{9}{25} \quad \text{ج) } \frac{1}{40} \quad \text{د) } \frac{1}{3} \quad \text{هـ) } \frac{25}{99}$$

$$(5) \text{ الترتيب التصاعدي: } \frac{3}{10}, \frac{1}{2}, \frac{4}{5}$$

$$(6) \text{ الترتيب التنازلي: } \frac{2}{5}, 0,3, 0,2$$

$$(7) \text{ أ) } 2 \quad \text{ب) } 16 \quad \text{ج) } 2 \quad \text{د) } 3\frac{4}{7} \quad \text{هـ) } 2\frac{8}{15}$$

$$(8) 10 \quad (9) \frac{1}{8} \quad (10) \text{ أ) } 10 = \frac{9}{10} \quad \text{ب) } 6 = \frac{1}{6} \quad \text{ج) } 5 = \frac{1}{8} \quad \text{د) } 4 = \frac{3}{7}$$

$$(11) \text{ أ) } \frac{3}{5} \quad \text{ب) } \frac{3}{10} \quad \text{ج) } \frac{1}{2} \quad \text{د) } 6 \quad \text{هـ) } 10 \quad \text{و) } 1 \quad \text{ز) } \frac{2}{3}$$

$$(12) \text{ أ) } 2 = \text{ن} \quad \text{ب) } \frac{3}{4} = \text{و} \quad \text{ج) } \frac{1}{3} = \text{س} \quad \text{د) } 10$$

(13) 9 دينار (14) 1,75 (15) نعم ، لان مجموع طولي اصغر ضلعين أكبر من طول الضلع الثالث
($5 < 7 = 4 + 3$)

(16) أ) مثلث متطابق الاضلاع ب) مثلث متطابق الضلعين ج) مثلث مختلف الاضلاع

(17) أ) 70° من خواص المثلث المتطابق الضلعين ب) 40° لأن مجموع قياسات زوايا المثلث الداخلة = 180°

(18) أ) 80° بالتقابل بالرأس ب) 50°

(19) 90° من خواص المثلث المتطابق الضلعين (منصف زاوية الرأس عمودي على القاعدة وينصفها) ،

70° من خواص المثلث المتطابق الضلعين

(20) أ) $60^\circ = \text{س}$ ، $120^\circ = \text{ص}$ ب) $80^\circ = \text{س}$ ، $50^\circ = \text{ص}$ ، (21) ، (22) ، (23) اجب بنفسك

(24) أ) 40° بالتناظر والتوازي ب) 30° بالتبادل والتوازي ج) 80° بالتحالف والتوازي

(25) 110° بالتبادل والتوازي ، 110° بالتناظر والتوازي مع د ج هـ أو بالتبادل والتوازي مع هـ أ

(26) أ) 50° بالتبادل والتوازي ب) 130° بالتحالف والتوازي مع هـ و ج (ج) 40° مجموع قياسات زوايا المثلث الداخلة

$$= 180^\circ$$

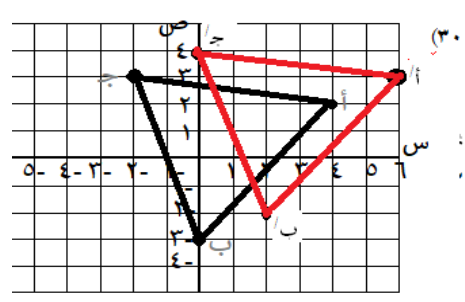
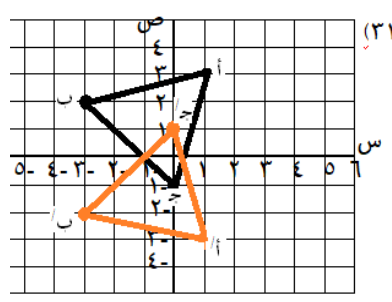
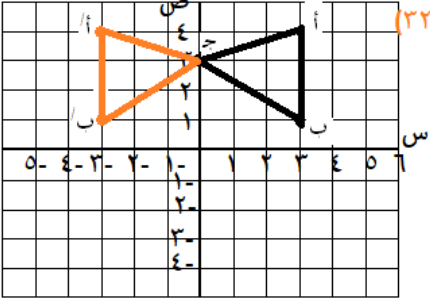
(27) 50° ، 130° ، 50° ، 4 سم

(٢٨) كل زاويتين متقابلتين متطابقتين في المعين

، ١٢٠° كل زاويتين متتاليتين متكاملتين في المعين ، ٣ سم الاضلاع متطابقة

(٢) ٧٠° بالتناظر والتوازي

(٢٩) (١) ١٠٠° التحالف والتوازي



(٣٣) (أ) ١٨٠° (ب) ٩٠° ، ١٨٠° ، ٢٧٠° (ج) ١٢٠° ، ٢٤٠°

(٣٤) (أ) ١٨٠° ، ١ (ب) ١٨٠° ، ١ (ج) ليس له تماثل دوراني

(٣٥) نسبة الكرات الحمراء الى الكرات البيضاء = ٦ : ٨ = ٣ : ٤

نسبة الكرات البيضاء الى الكرات الحمراء = ٨ : ٦ = ٤ : ٣

(٣٦) ١٢ : ٩ = ٨ : ٦

(٣٧) ٨ : ١ = ٢٤ : ٣

(٣٨) (أ) ١٢ نبضة / ثانية (ب) ٢ دينار لكل كجم

(٣٩) ١٠ = س (٤٠) ٧٠٠٠ فلسا = ٧ دينار (٤١) ٠,٥ سم (٤٢) ١٠ = س

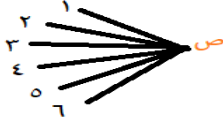
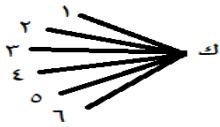
(٤٣) ٢,٤ = ن

(٤٤) ٠,٣٧ ، ٠,٠٣ ، ٦,٧٨ ، ٠,٧٦٥

(٤٥) ٨٧% ، ١٩٥% (٤٦) ٧٠ ، ٦٠ (٤٧) ٢٥٠ ، ٦٠ ، ١ (٤٨) ٦٤٥ دينار

(٤٩) نصيب الولد = ١٨٠٠٠ دينار ونصيب كل بنت = ٩٠٠٠ دينار

(٥٠) عدد جميع النواتج الممكنة = ١٢ = ٦ × ٢



(٥١) عدد جميع النواتج الممكنة = ٦ = ٣ × ٢



(٥٢) (أ) حدث مركب (ب) حدث بسيط (ج) حدث مستحيل

(٥٣) (أ) عدد جميع النواتج الممكنة للتجربة = ٩ = ٣ × ٣ (ب) حدث مركب

(٥٤) (١) ١/٢ (٢) ١/٣

(٥٥) (أ) ١/٩ (ب) ١/٥٣ (ج) ١/٣ (د) ٠ (هـ) ٢/٩ (و) ٤/٩

(٥٦) عدد الاقراص زرقاء اللون = ٣ أقراص

١٠	٩	٨	٧	٦	٥	٤	٣	٢	١
ب	ج	أ	ب	أ	أ	ب	ب	أ	أ

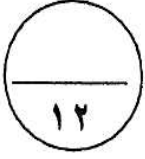
١٠	٩	٨	٧	٦	٥	٤	٣	٢	١
ب	ب	ب	ب	أ	ب	ب	ب	أ	أ

نموذج اختبار نهاية الفترة الدراسية الثانية

أولاً: الاسئلة المقالية

(توضيح خطوات الحل في جميع الأسئلة)

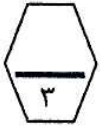
السؤال الأول



أ) اوجد ناتج ما يلي:

$$40\% \text{ من } 55$$

$$55 \times \frac{40}{100} = 22$$

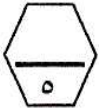
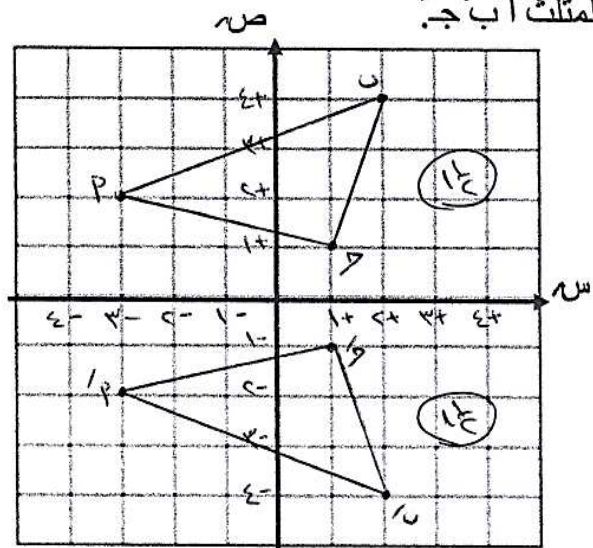


ب) ارسم المثلث أ ب ج الذي احداثيات رؤوسه أ (٢، ٣-) ، ب (٤، ٢) ، ج (١، ١) ثم ارسم صورة المثلث بالانعكاس في محور السينات ، و اكتب احداثيات رؤوس المثلث أ ب ج.

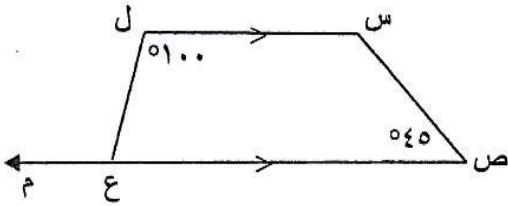
أ (٢، ٣-) ← أ (٢، ٣)

ب (٤، ٢) ← ب (٤، ٢)

ج (١، ١) ← ج (١، ١)



ج) س ص ع ل شبه منحرف فيه س ل // ص ع اكمل كلا مما يلي : (بدون استخدام الأدوات الهندسية)



ق (ل ع ص) = السبب :

السبب :

ق (س ص) = السبب :

السبب :

السؤال الثاني

أ) حل التناسب التالي:

$$\frac{4}{3} = \frac{س}{15}$$

$$4 \times 15 = 3 \times س$$

$$\frac{4 \times 15}{3} = \frac{3 \times س}{3}$$

$$20 = س$$



ب) افترض انك ألقيت حجر نرد منتظماً مرة واحدة وملاحظة الوجه الظاهر. اوجد كلا مما يلي:

- ل (ظهور العدد ٧) = $\frac{1}{7}$ = $\frac{1}{7}$
- ل (ظهور عدد زوجي) = $\frac{3}{6}$ = $\frac{1}{2}$
- ل (ظهور عدد أصغر من ٧) = $\frac{6}{6}$ = ١
- ل (عدم ظهور العدد ٤) = $\frac{0}{6}$ = ٠
- ل (ظهور مضاعفات للعدد ٣) = $\frac{2}{6}$ = $\frac{1}{3}$



ج) احسب مقدار الزكاة الواجبة على مبلغ ٢٤٠٠٠ دينار حال عليها الحول.

$$\text{مقدار الزكاة} = \frac{1}{4} \times \text{المبلغ الذي استحوذت عليه الزكاة}$$

$$24000 \times \frac{1}{4} =$$

$$\frac{24000}{4} =$$

$$= 6000 \text{ دينار}$$

وتراعى الحلول الأخرى



السؤال الثالث

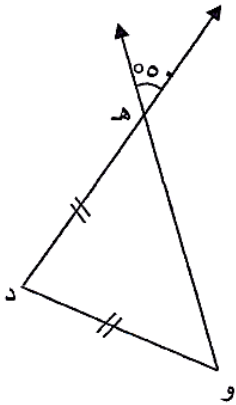


أ) حل المعادلة التالية (وضع الناتج في أبسط صورة):

$$\begin{aligned} \text{س} - \frac{4}{10} &= \frac{1}{3} \\ \frac{1}{3} + \frac{4}{10} &= \frac{1}{3} + \frac{1}{3} \\ \frac{10}{10} + \frac{4}{10} &= \frac{2}{3} \\ \frac{14}{10} &= \\ \frac{7}{5} &= \end{aligned}$$



ب) مستعيناً بالشكل المقابل :
أكمل ما يلي (بدون استخدام الأدوات الهندسية)



ق (وهد) =
السبب :

ق (دو ه) =
السبب :



ج) قاس أحمد عدد نبضات قلبه فوجدها ١٥ نبضة في ١٠ ثوانٍ. كم عدد نبضات قلبه في الدقيقة الواحدة بالمعدل نفسه ؟

بما ان في الدقيقة الواحدة ٦٠ ثانية

$$\frac{7 \times 10}{6 \times 10} = \frac{15 \text{ نبضة}}{10 \text{ ثوان}}$$

$$\frac{40 \text{ نبضة}}{1 \text{ دقيقة}} = \frac{40 \text{ نبضة}}{60 \text{ ثانية}} =$$

معدل عدد نبضات قلب أحمد 40 نبضة من الدقيقة الواحدة



(٣)

السؤال الرابع



أ) من تجربة إلقاء قطعة نقود معدنية وسحب بطاقة من بين بطاقتين مرقمتين بالأرقام ٥ و ٦

١) أوجد عدد جميع النواتج الممكنة للتجربة.

عدد جميع النواتج الممكنة للبيبي = $2 \times 2 = 4$ نواتج

٢) لكل من الأحداث التالية ، بين ما إذا كان الحدث (بسيطاً ، مركباً ، مؤكداً ، مستحيلاً) :

- ظهور صورة وظهور العدد ٥ : حدث (.....)

- ظهور كتابة وظهور العدد ٤ : حدث (.....)



ب) أوجد الناتج ثم ضعه في أبسط صورة:

$$1 \frac{1}{2} \div 2 \frac{5}{8}$$

$$\frac{3}{2} \div \frac{21}{8} =$$

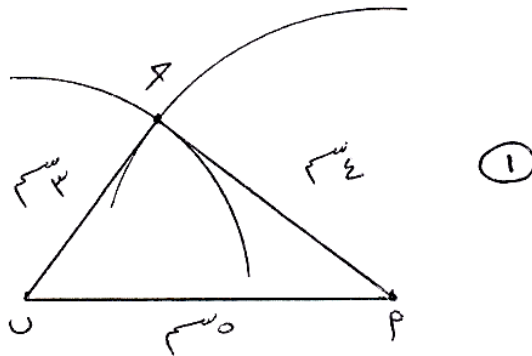
$$\frac{3}{2} \times \frac{8}{21} =$$

$$\frac{1 \cancel{3} \times \cancel{8}^2}{1 \cancel{3} \times \cancel{21}^3} =$$

$$1 \frac{3}{2} = \frac{7}{2} =$$



ج) ارسم المثلث أ ب ج الذي فيه أ ب = ٥ سم ، ب ج = ٣ سم ، أ ج = ٤ سم



(٤)



ثانياً: الأسئلة الموضوعية
(التظليل في الجدول المخصص في الصفحة الأخيرة)

السؤال الخامس

أولاً: البنود (١-٤) ظلل (أ) إذا كانت العبارة صحيحة ، ظلل (ب) إذا كانت العبارة خطأ .

١	نتيج ٩ ÷ $\frac{1}{9}$ في أبسط صورة هو ١
٢	$\frac{3}{12} > ٠,٢٥$
٣	اطوال الاضلاع ٣ سم ، ٥ سم ، ٧ سم تصلح ان تكون اطوال اضلاع مثلث .
٤	صورة النقطة أ (٣ ، ٢) هي أ (٤ ، ٠) إذا تمت إزاحة النقطة أ وحدتين الى اليسار ووحدة الى أعلى.

ثانياً: البنود (٥-١٢) لكل بند أربع اختيارات ظلل في الورقة المخصصة للإجابة دائرة الاختيار الصحيح فقط .

(٥)	$\frac{3}{10} = ٦ - ١٤$
(أ)	$\frac{7}{10}$
(ب)	٨
(ج)	$\frac{7}{10}$
(د)	$\frac{3}{10}$
(٦)	إذا كان أ ب ج د متوازي اضلاع فيه قياس (ج) = ٧٥° فان قياس (ب) =
(أ)	٩٥°
(ب)	١٠٥°
(ج)	١٠٠°
(د)	١١٥°
(٧)	السعر الافضل لشراء الذهب هو :
(أ)	٢٥ ديناراً لكل ٥ جم ذهب
(ب)	٢٨ ديناراً لكل ٤ جم ذهب
(ج)	٣٢ ديناراً لكل ٨ جم ذهب
(د)	٣٠ ديناراً لكل ١٠ جم ذهب

$$= 3,75 + 2 \frac{3}{4} \quad (٨)$$

$$٥ \frac{1}{2} \quad (ب)$$

$$٢ \quad (أ)$$

$$٦ \quad (د)$$

$$٦ \frac{1}{2} \quad (ج)$$

(٩) النسبة المئوية التي تساوي $\frac{23}{50}$ في ما يلي هي:

$$٥٠\% \quad (ب)$$

$$٢٣\% \quad (أ)$$

$$٢١٧\% \quad (د)$$

$$٤٦\% \quad (ج)$$

(١٠) متوازي الاضلاع له تماثل دوراني حول مركزه بزواوية قياسها :

$$١٨٠ \quad (ب)$$

$$٩٠ \quad (أ)$$

$$٣٦٠ \quad (د)$$

$$٢٧٠ \quad (ج)$$

(١١) النسبة التي تكون تناسبا مع النسبة $\frac{2}{5}$ هي :

$$\frac{6}{15} \quad (ب)$$

$$\frac{5}{10} \quad (أ)$$

$$\frac{4}{25} \quad (د)$$

$$\frac{4}{8} \quad (ج)$$

(١٢) عدد الاختيارات التي يمكن للاعب أن يختار بها في إحدى المسابقات مصباحاً مضيئاً من ٣ ألوان مختلفة و ٥ أحجام مختلفة هو :

$$٥ \quad (ب)$$

$$١٥ \quad (أ)$$

$$٨ \quad (د)$$

$$٢٥ \quad (ج)$$

جدول تظليل إجابات الموضوعي

الإجابة		رقم السؤال		
<input checked="" type="radio"/>	١	(١)		
<input checked="" type="radio"/>	١	(٢)		
<input type="radio"/>	ب	(٣)		
<input type="radio"/>	ب	(٤)		
<input checked="" type="radio"/>	ج	١	(٥)	
<input type="radio"/>	ج	<input checked="" type="radio"/>	١	(٦)
<input checked="" type="radio"/>	ج	١	(٧)	
<input type="radio"/>	<input checked="" type="radio"/>	ب	١	(٨)
<input type="radio"/>	<input checked="" type="radio"/>	ب	١	(٩)
<input type="radio"/>	ج	<input checked="" type="radio"/>	١	(١٠)
<input type="radio"/>	ج	<input checked="" type="radio"/>	١	(١١)
<input type="radio"/>	ج	ب	<input checked="" type="radio"/>	(١٢)

للعام الدراسي : ٢٠٢١ / ٢٠٢٢ م

امتحان

وزارة التربية

الزمن : ساعتان

الفترة الدراسية الثانية

منطقة مبارك الكبير التعليمية

عدد الأوراق : (٧)

الصف : السابع

التوجيه الفني للرياضيات

أسئلة المقال

(تراعى الحلول الأخرى في جميع أسئلة المقال)

السؤال الأول

١٢

(أ) أوجد الناتج وضعه في أبسط صورة :

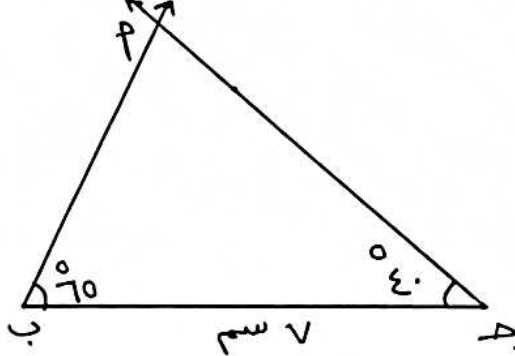
$$7\frac{1}{8} - 12\frac{1}{6}$$

م.م. أ للعددين ٦ ، ٨ = ٢٤

$$7\frac{3}{24} - 12\frac{4}{24} =$$

$$5\frac{1}{24} =$$

(ب) ارسم المثلث أ ب ج حيث : ج ب = ٧ سم ، ق (ج) = ٤٠° ، ق (ب) = ٦٥°



رسم ب ج درجة
رسم (ج) درجة
رسم (ب) درجة
رسم المثلث درجة

(ج) حول الأعداد التالية إلى نسبة مئوية

$$\frac{612}{1000} = 0,612 \quad (1)$$

$$\%61,2 = \frac{61,2}{100} = \frac{10 \div 612}{10 \div 1000} =$$

$$\frac{4 \times 4}{4 \times 25} = \frac{4}{25} \quad (2)$$

$$\%16 = \frac{16}{100} =$$

[1]

٢٠٢٢/٢٠ م

تابع : نموذج إجابة امتحان الفترة الدراسية الثانية / مادة الرياضيات)

السؤال الثاني

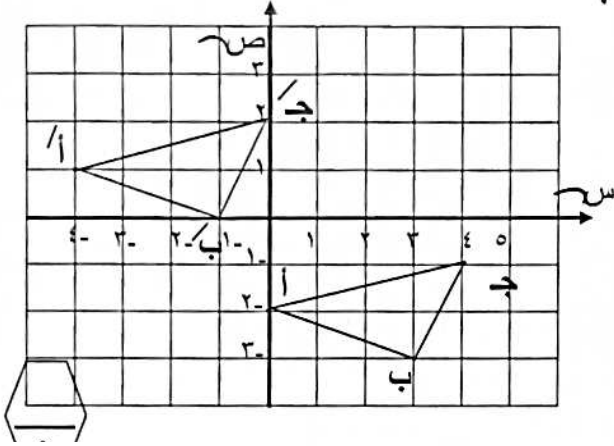
سورة ١م جواب-

١٢

أ) ارسم المثلث أ ب ج الذي رؤوسه :

أ (٢، ٠) ، ب (٣، ٣) ، ج (٤، ١) ، ثم أنشئ المثلث أ ب ج بعمل إزاحة للمثلث

أ ب ج ٤ وحدات يساراً و ٣ وحدات إلى أعلى .



أ) (١، ٤-)
 ب) (٠، ١-)
 ج) (٢، ٠)

على رسم المثلث أ ب ج $\frac{1}{4}$
 على رسم المثلث أ ب ج $\frac{1}{2}$
 على التدرج $\frac{1}{4}$

ب) أوجد الناتج في أبسط صورة :- $\frac{14}{15} \div \frac{8}{9}$

$$\frac{15}{14} \times \frac{8}{9} =$$

$$\frac{\cancel{15}^3 \times 8}{14 \times \cancel{9}_3} =$$

$$\frac{20}{21} = \frac{5 \times 4}{7 \times 3} =$$

ج) من تجربة إلقاء قطعة نقود مرتين متتاليتين ارسم مخطط الشجرة البيانية

مبدأ العد في إيجاد عدد النواتج الممكنة

صورة > صورة
 كتابة <— ص ، ص
 <— ص ، ك

كتابة > صورة
 كتابة <— ك ، ك
 <— ك ، ك

عدد نواتج التجربة = ٢ × ٢ = ٤

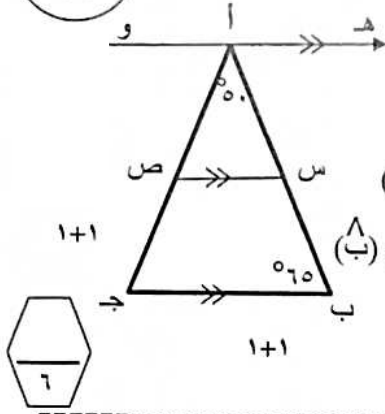
[2]

تابع : نموذج إجابة امتحان الفترة الدراسية الثانية / مادة الرياضيات (للصف السابع) للعام الدراسي ٢٠٢١/٢٠٢٢ م

نموذج الإجابة

السؤال الثالث

١٢



أ) في الشكل المقابل حيث : $\overline{هـ} \parallel \overline{و}$ و $\overline{س} \parallel \overline{ص} \parallel \overline{ب ج}$

ق(ب أ ج) = 50° ، ق(أ ب ج) = 65°

أوجد كلاما يلي مع ذكر السبب .

(١) ق(هـ أ ب) = 65° : السبب : بالتوازي والتبادل مع (ب)

(٢) ق(ص س ب) = 115° : السبب : التوازي والتحالف مع (ب)

(٣) ق(أ ص س) = 65° : السبب : مجموع قياسات زوايا المثلث يساوي 180°

ب) في لعبة سباق القوارب الإلكترونية رقت القوارب بالأرقام من (١ إلى ٨) ما احتمال اختيار اللاعب أحد القوارب المرقمة برقم أصغر من ٦ ؟

ل) (اختيار قارب عليه الرقم أصغر من ٦) = $\frac{\text{عدد نواتج الحدث}}{\text{عدد النواتج الممكنة كلها}}$



٢ |

$$\frac{5}{8} =$$

ج) في المثلث أ ب ج المرسوم ، أوجد

(١) ق(أ ج هـ) = 65°

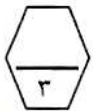
السبب :

ج هـ منصف للقاعدة أ ب وعمودي عليها

∴ المثلث أ ج ب متطابق الضلعين

ق(أ ج هـ) = ق(ب ج هـ) = 65°

(٢) طول ج ب = 5 سم



منصفه مبارك الكبير التلاميذ
التوجيه الفني للرياضيات

[3]

تابع: نموذج إجابة امتحان الفترة الدراسية الثانية / مادة الرياضيات (للفصل السابع) للعام الدراسي ٢٠٢١/٢٠٢٢ م

نموذج الإجابة

السؤال الرابع



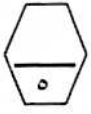
(أ) حل التناسب التالي : $\frac{14}{س} = \frac{7}{5}$

٢

$$س \times 14 = 7 \times 5$$

$$\frac{س \times 14}{14} = \frac{35}{14}$$

$$س = 10$$



٢

(ب) ٢٥% من عدد ما يساوي ٧٥ فما هو العدد ؟

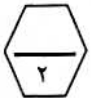
$$٧٥ = ٢٥\% \text{ من } س$$

$$٧٥ = س \times \frac{٢٥}{١٠٠}$$

$$\frac{١٠٠ \times ٧٥}{٢٥} = س$$

$$٣٠٠ =$$

العدد هو ٣٠٠



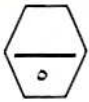
(ج) ركض خالد مسافة $1\frac{1}{3}$ كم ، أما صديقه علي فقد ركض ٣ أمثال المسافة التي ركضها خالد ما المسافة التي ركضها صديقه علي ؟

$$\text{المسافة التي ركضها علي} = 3 \times 1\frac{1}{3}$$

$$\frac{4}{3} \times \frac{3}{1} =$$

$$4 = \frac{4 \times 3}{3 \times 1} =$$

المسافة التي ركضها علي هي ٤ كم



[4]

تابع : نموذج إجابة امتحان الفترة الدراسية الثانية / مادة الرياضيات (للسابع) للعام الدراسي ٢٠٢١/٢٠٢٢ م

ثانياً الأسئلة الموضوعية

نموذج الإجابة

(التظليل في الجدول المخصص في الصفحة الأخيرة)

أولاً : البنود (١-٤) ظلل (أ) إذا كانت العبارة صحيحة ، ظلل (ب) إذا كانت العبارة خطأ .

١	$0,5 > \frac{2}{4}$	وزارة التربية والتعليم
٢	في أبسط صورة يساوي $\frac{17}{34}$	منظمة مبارك الكبير للتعليم والتوجيه الفني للرياضة
٣	أطوال الأضلاع ٢ سم ، ٦ سم ، ٧ سم تصلح أن تكون أطوال أضلاع مثلث	
٤	إذا كانت أ (٣-، ٥-) هي صورة النقطة أ بالانعكاس في محور السينات فإن أ هي (٣ ، ٥-)	

ثانياً : البنود (٥-١٢) لكل بند أربع اختيارات ظلل في الورقة المخصصة للإجابة دائرة الاختيار الصحيح فقط .

٥) ناتج $3,75 + 5 \frac{3}{4}$

- ١) (أ) ٢) (ب) ٣) (ج) ٤) (د)

٦) حل المعادلة $\frac{7}{10} = m + \frac{9}{10}$ يساوي :

- ١) (أ) $\frac{1}{10}$
٢) (ب) ١
٣) (ج) $\frac{16}{10}$
٤) (د) $\frac{1}{5}$

٧) إذا كان أ ب ج د متوازي أضلاع فيه ق (ج) = ٨٥° فإن ق (ب) =

- ١) (أ) ٨٥°
٢) (ب) ٩٠°
٣) (ج) ٩٥°
٤) (د) ١٨٠°

تابع : نموذج إجابة امتحان الفترة الدراسية الثانية / مادة الرياضيات (للسف السابع) للعام الدراسي ٢٠٢١/٢٠٢٢ م

٨) أ ب ج مثلث متطابق الأضلاع ، إذا أسقط العمود \overline{AD} على قاعدته فإن $\angle C = \angle D$ =

- ١) 20° ٢) 30° ٣) 60° ٤) 90°

٩) إذا كان $\frac{5}{3} = \frac{ص}{٤}$ فإن ص =

- ١) ٦ ٢) $\frac{2}{5}$ ٣) $\frac{2}{3}$ ٤) $\frac{3}{5}$

١٠) مقدار الزكاة الواجبة على مبلغ ٣٠٠٠٠ دينار حال عليها الحول يساوي :

- ١) ٢٥٠ دينار ٢) ٤٠٠ دينار ٣) ٥٠٠ دينار ٤) ٧٥٠ دينار

١١) النسبة المئوية التي تساوي $\frac{23}{50}$ فيما يلي هي :

- ١) ٢٣% ٢) ٤٦% ٣) ٥٠% ٤) ٢١٧%

١٢) في صندوق يحوي بطاقات مرقمة من (١ إلى ٢٠) متماثلة الشكل كل منها ملون بأحد

ألوان علم دولة الكويت فإن احتمال سحب بطاقة ملونة بلون أزرق رقمها ٢٠ هو :

- ١) $\frac{1}{20}$ ٢) $\frac{1}{4}$ ٣) ١ ٤) صفر

تابع : نموذج إجابة امتحان الفترة الدراسية الثانية / مادة الرياضيات (للصف السابع) للعام الدراسي ٢٠٢١ / ٢٠٢٢ م

جدول تظليل إجابات الموضوعي

الإجابة			رقم السؤال
	ب	ا	(١)
	ب	ا	(٢)
	ب	ا	(٣)
	ب	ا	(٤)
د	ج	ب	ا
د	ج	ب	ا
د	ج	ب	ا
د	ج	ب	ا
د	ج	ب	ا
د	ج	ب	ا
د	ج	ب	ا
د	ج	ب	ا
د	ج	ب	ا
د	ج	ب	ا

١٢