

تم تحميل هذا الملف من موقع المناهج الكويتية



منطقة الفروانية التعليمية

الملف نموذج أسئلة اختبار منطقة الفروانية التعليمية

موقع المناهج ← المناهج الكويتية ← الصف السادس ← علوم ← الفصل الأول

روابط مواقع التواصل الاجتماعي بحسب الصف السادس



روابط مواد الصف السادس على تلغرام

[الرياضيات](#)

[اللغة الانجليزية](#)

[اللغة العربية](#)

[التربية الاسلامية](#)

المزيد من الملفات بحسب الصف السادس والمادة علوم في الفصل الأول

<a href="#">بنك أسئلة الوحدة الأولى (طريق النجاح)</a>	1
<a href="#">تلخيص مهم للكورس اول في مادة العلوم</a>	2
<a href="#">نموذج احابة بنك أسئلة وحدة الارض والفضاء في مادة العلوم</a>	3
<a href="#">احابة بنك اسئلة الروافع في مادة العلوم</a>	4
<a href="#">احابة بنك اسئلة وحدة التكيف مع الكائنات الحية</a>	5


امتحان الفترة الدراسية الاولى لمادة العلوم الصف السادس 2024-2025

عدد الأوراق : 4  
الزمن : ساعتانوزارة التربية  
الإدارة العامة لمنطقة الفروانية التعليمية  
التوجيه الفني للعلوم  
امتحان الفترة الدراسية الاولى  
في مجال العلوم للصف السادس  
العام الدراسي 2024-2025السؤال الأول: اختر الإجابة الصحيحة علمياً لكل من العبارات التالية وضع إشارة (✓) في المربع المقابل لها (1X8):

1. يتكيف الجربوع للعيش في بيئة:
  - البحار
  - الغابة
  - الصحراء
  - المناطق القطبية
2. يسمى التكيف في جراب الكنغر تكيف:
  - بنوي
  - سلوكي
  - مكتسب
  - تلون وقلبي
3. يعيش العنكبوت معيشة:
  - جماعية
  - اجتماعية
  - انفرادية
  - جماعية اجتماعية
4. واحد مما يلي لا يعتبر من عناصر الرافعة:
  - محور الارتكاز
  - طول ذراع القوة
  - نقطة تأثير القوة
  - نقطة تأثير المقاومة
5. البكرة الثابتة رافعة من النوع:
  - الثاني
  - الثالث
  - الاول
  - الرابع
6. عند اخراج الطعام من الفرن يتم وضعه على وسائد مصنوعة من
  - النحاس
  - الألمنيوم
  - القش
  - الحديد
7. مادة جيدة التوصيل للحرارة
  - الزجاج
  - الخشب
  - الخزف
  - النحاس
8. تتحول الطاقة الكهربائية بالمدفنة إلى طاقة
  - حرارية
  - حركية
  - كيميائية
  - نووية


درجة  
السؤال الأول  
8السؤال الثاني: ( أ ) اكتب بين القوسين كلمة ( صحيحة ) للعبارة الصحيحة و كلمة ( خطأ ) للعبارة غير الصحيحة علمياً في كل مما يأتي : (1x8)

1. جذور النباتات ممتدة لمسافة طويلة بحثاً عن الماء . (....)
2. تستخدم الحرياء التلون الوقائي للتكيف مع بيئتها . (....)
3. فممة البحر غير قادرة على كسر قشرة او صدفة سرطان البحر و المحار . (....)
4. البكرة الثابتة توفر الجهد . (....)
5. الترمومتر أداة لقياس طول المختبر. (....)
6. تبقى الطاقة ثابتة على شكل واحد ولا يمكنها أن تتحول من شكل إلى آخر . (....)
7. الغاز الطبيعي يتكون بطريقة و ظروف مختلفة عن البترول . (....)
8. ترشيد الإستهلاك يساعد في الحفاظ على الطاقة الإحفورية . (....)

درجة  
السؤال الثاني  
(١)  
8

امتحان الفترة الدراسية الاولى لمادة العلوم الصف السادس 2024-2025

**السؤال الخامس (ب): ادرس الشكل أو الرسم التالي ثم أجب عن المطلوب :- (2×3)**




1. حدد على الرسم المكان المناسب لوضع مكيف هواء بارد

سواء

المناهج الكويتية

almanhajj.com/kw

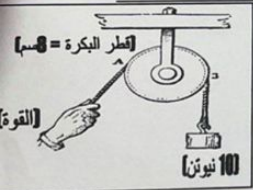
2. السبب :



- الرسم المجاور يوضح تكيف جسم الجمل للعيش بالصحراء:

1. يشير الرقم (أ) إلى تكيف في الجمل لتخزين .....

2. يشير الرقم (ب) يساعد على السير فوق .....



- الشكل المجاور يوضح أحد أنواع البكرات تم استخدامها في رفع ثقل .

1- القوة المستخدمة في رفع الثقل ( ق ) = .....







2- طول ذراع القوة (ل) = (1) = .....



انتهت الأسئلة

2023-2024

المحلل السريري  
الطلاب : **قارن بين كل من (2x3)**

		وجه المقارنة
.....	.....	رافعة من نوع
		وجه المقارنة
.....	.....	نوع البكرة
		وجه المقارنة
.....	.....	تحول الطاقة الكهربائية الى

درجة  
السؤال الرابع  
6

**السؤال الخامس (أ) : أي مما يلي لا ينتمي للمجموعة مع ذكر السبب :- (2x3)**

1. من خلال دراستك لفصل السلوك في الكائنات الحية .  
زقزقة العصافير الصغيرة - حركة الدب بالمرك - بناء الطائر لل عش - سبلة صغار البط مع الام  
الذي لا ينتمي : ..... السبب : .....
2. من خلال دراستك لفصل الآلات البسيطة .  
العتلة - الأرجوحة - كسارة البندق - ميزان ذو كفتين  
الذي لا ينتمي : ..... السبب : .....
3. من خلال دراستك للطاقة وتحولاتها .  
الشمس - تدفق الماء - الرياح - البترول  
الذي لا ينتمي : ..... السبب : .....

درجة  
السؤال الخامس  
6



امتحان الفترة الدراسية الاولى لمادة العلوم الصف السادس 2024-2025

السؤال الثاني: (ب) اكتب الاسم او المصطلح العلمي الدال على العبارات التالية: (1x4)

- (.....) 1. بنية او سلوك لمساعدة الكائن الحي على البقاء في بيئته بنجاح .  
 (.....) 2. الطريقة التي يتصرف بها كائن حي ما لما يحدث له داخليا ولما يحصل في بيئته الخارجية .  
 (.....) 3. قرص قابل للدوران حول محور يرتكز على خطاف .  
 (.....) 4. مقدار سخونة أو برودة الجسم وفق مقياس معين .

السؤال الثالث : في الجدول التالي اختر العبارة أو الشكل من المجموعة ( ب ) و اكتب رقمها أمام ما يناسبها من عبارات المجموعة ( أ ) : (1x6)

الرقم	المجموعة ( أ )	المجموعة ( ب )
( )	- رافعة من النوع الأول .	1. الملقط 2. المقص 3. عربة البناء
( )	- رافعة من النوع الثاني .	
( )	- صغير الغزال يمشي ويجري بعد ساعت من ولادته تعتبر ملوك .	4. مكتسب 5. فطري 6. بنوي
( )	- عدم استجابة الطيور للزراعة يعتبر ملوك .	
( )	- تتحول الطاقة في الهاتف من كهربائية إلى .	7. صوتية 8. حركية 9. صوتية
( )	- تتحول الطاقة في الغسالة من كهربائية إلى .	

درجة  
السؤال الثالث  
6

السؤال الرابع ( أ ) : علل لما يأتي تعليلا علميا سليما :- (2x3)

1. تتدفق كمية كبيرة من الدم في أرجل الحيوانات التي تعيش في المناطق الباردة .  
 .....  
 2. دراسة الانسان لسلوك الحيوانات .  
 .....  
 3. تصنع النوافذ الزجاجية من لوح زجاج بينها مسافة بها هواء .  
 .....

درجة  
السؤال الرابع  
( أ )  
6