

تم تحميل هذا الملف من موقع المناهج الكويتية



منطقة العاصمة التعليمية

الملف نموذج إجابة منطقة العاصمة التعليمية

[موقع المناهج](#) ← [المناهج الكويتية](#) ← [الصف السادس](#) ← [اجتماعيات](#) ← [الفصل الأول](#)

روابط مواقع التواصل الاجتماعي بحسب الصف السادس



روابط مواد الصف السادس على تلغرام

[الرياضيات](#)

[اللغة الانجليزية](#)

[اللغة العربية](#)

[التربية الاسلامية](#)

المزيد من الملفات بحسب الصف السادس والمادة اجتماعيات في الفصل الأول

نموذج اجابة اختبار لمنطقة مبارك الكبير عام 2016	1
اوراق عمل مهمة في مادة الاجتماعيات	2
بنك اسئلة ممتاز في مادة الاجتماعيات	3
بنك معلومات مهم في مادة الاجتماعيات	4
تلخيص اجتماعيات بشكل مبسط	5



وزارة التربية
الإدارة العامة لمنطقة العاصمة التعليمية
التوجيه الفني للاجتماعيات

امتحان نهاية الفترة الدراسية الأولى لمقرر الكويت ودول الخليج العربية

العام الدراسي ٢٠٢٤ / ٢٠٢٥ م
الزمن : ساعة وخمس وأربعون دقيقة
عدد الصفحات : ٥ صفحة

للفص السادس المتوسط

أجب عن جميع الاسئلة التالية

السؤال الأول : (موضوعي) ويتكون من (أ - ب - ج) :- (كل إجابة درجة = ١٢ درجة)

أ - أكمل العبارات التالية بما يناسبها :

- ١- القارة التي تقع فيها منطقة الخليج العربية في الجهة الجنوبية الغربية تسمى آسيا. ص ١٩
- ٢- حرفة تعتمد على ما ينمو من نباتات وحشائش بعد سقوط الأمطار تسمى الرعي. ص ٢٨
- ٣- حكم الشعب لنفسه يسمى الديموقراطية. ص ٦٤
- ٤- يطلق على صانع السفينة اسم القلاب. ص ٣٣

ب - اختر البديل الصحيح من بين البدائل التي تلي كل عبارة مما يلي وضع خطأ تحته :

١- الدولة الخليجية الوحيدة التي لم تتعرض للاستعمار : ص ٦٥

الكويت	المملكة العربية السعودية	البحرين	قطر
--------	--------------------------	---------	-----

٢- القرن الميلادي الذي ظهر فيه الإسلام في شبه الجزيرة العربية: ص ٥٣

الخامس	السادس	السابع	الثامن
--------	--------	--------	--------

٣- أول دولة أوروبية استعمارية وصلت للخليج العربي واحتلت أجزاء مهمة منه لفترة من الزمن: ص ٦٠

البرتغال	بريطانيا	ايطاليا	فرنسا
----------	----------	---------	-------

٤- العام الذي أعلن فيه قيام مجلس التعاون لدول الخليج العربية: ص ٧٠

١٩٦١م	١٩٧١م	١٩٨١م	١٩٩١م
-------	-------	-------	-------

ج - صنف أسماء النباتات الطبيعية التالية حسب مكانها الصحيح في الجدول ادناه : ص ٢٦

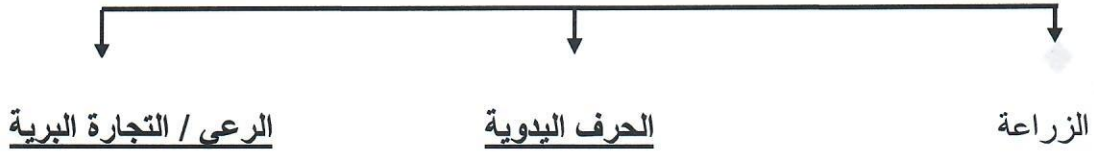
(العرفج - الخبيزة - التندا - الحويذان)

النباتات الحولية	النباتات المعمرة
الحويذان	العرفج
الخبيزة	التندا

السؤال الثاني : (موضوعي) ويتكون من (أ - ب - ج) :- (كل إجابة درجة = ١٢ درجة)

أ - أكمل المخططات السهمية التالية بما يناسبها:

١- الأنشطة البرية في منطقة الخليج العربية . ص ٢٨



٢- البضائع التي وصلت إلى منطقة الخليج العربي عن طريق التجارة البحرية . ص ٣٤



ب - اكتب المفهوم أو المصطلح الدال على كل عبارة مما يلي :

المفهوم / المصطلح	العبارات
الخليج العربي	ذراع مائي لبحر العرب يمتد من خليج عُمان جنوباً حتى شط العرب شمالاً. ص ١٩
الواحة	منطقة تقع في الصحراء فيها مياه عذبة صالحة للزراعة. ص ٢٩
الدشة	بداية موسم الغوص . ص ٣٢
الاستعمار	سيطرة دولة قوية على دولة ضعيفة بهدف استغلال مواردها (خيراتها). ص ٦١

ج - اختر للمجموعة (أ) ما يناسبها من المجموعة (ب) بوضع الرقم الصحيح في المكان المناسب :


ص ٥٧

الرقم	المجموعة (أ)	المكان المناسب	المجموعة (ب)
١	هجرة آل صباح	٤	أبوظبي
٢	هجرة المعاضيد	١	الكويت
٣	هجرة الأزدي	٢	قطر
٤	هجرة بني ياس	-	رأس الخيمة
		٣	عمان

السؤال الثالث : (موضوعي) ويتكون من (أ - ب - ج) :- (كل إجابة درجة = ١٢ درجة)

أ - اختر اسم مظهر الحضارة الإسلامية المناسب للصور التالية من بين القوسين : ص ٥٥

(الصناعة - الفن - العمران)



-----الصناعة-----

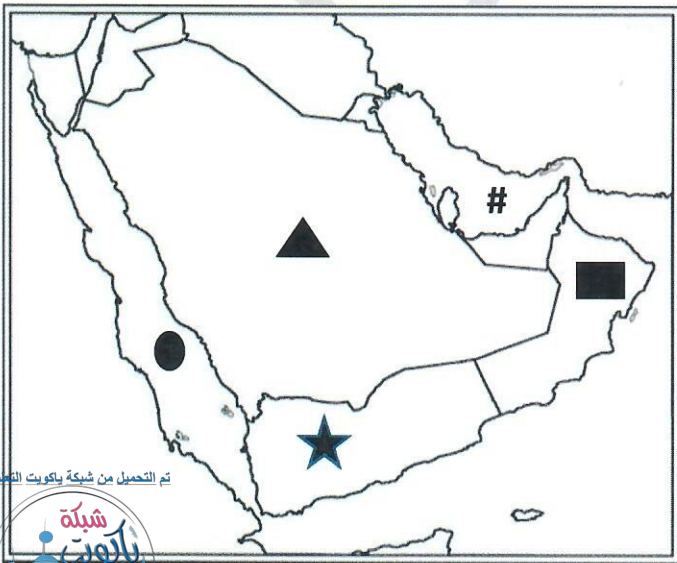
-----العمران-----

----- الفن -----

ب - صحح ما تحته خط في كل عبارة مما يلي بوضع الإجابة الصحيحة في المكان المناسب:

التصحيح	العبارات
عبدالله السالم الصباح	١- الحاكم الذي ألغيت معاهدة الحماية مع بريطانيا في عهده اسمه الشيخ <u>أحمد الجابر</u> . ص٦٣
عُمان	٢- الدولة الخليجية التي يقع فيها الجبل الأخضر أسمها <u>الكويت</u> . ص٢٣
بحر شروق الشمس / البحر الأدنى	٣- عرف الخليج العربي قديماً باسم <u>البحر الأعلى</u> . ص٤٧
الكويت	٤- الدولة الخليجية التي حصلت على استقلالها عام ١٩٦١م تسمى <u>قطر</u> . ص٦٥
مجان	٥- الحضارة التي اشتهرت بوجود أفران صهر المعادن تسمى <u>دلمون</u> . ص٤٨
الاستقلال	٦- تحرر الدولة من المستعمر الأجنبي وقيامها بمسؤولية إدارة شؤونها الداخلية والخارجية يعرف باسم <u>الانتداب</u> . ص٦٣

ج - لاحظ خريطة دول الخليج العربية ، ثم استعن بالأشكال التي عليها لإكمال العبارات التالية :



- الدولة الخليجية التي تحمل الشكل ■ على الخريطة أسمها

(عُمان) ص ٢٣

- البحر الأحمر يمثله على الخريطة الشكل (●.....) ص ٢٣

- هضبة نجد يمثله على الخريطة الشكل (▲.....) ص ٢٣

السؤال الرابع: (مقالي) ويتكون من (أ - ب - ج): (كل إجابة درجة = ١٢ درجة)

أ - عتل ما يلي (اذكر السبب) : كل إجابة درجة / ٣ درجات.

- ١- انصرف سكان منطقة الخليج العربية عن حرفة الغوص. ص ٣١
- ظهور اللؤلؤ الصناعي.
- اكتشاف النفط.

٢- سفينة البغلة من أفضل أنواع السفن المستعملة في رحلة السفر. ص ٣٤ (يكتفى بنقطة)
- لمتانتها وقدرتها على نقل الحمولة الكبيرة. - تمتاز بقلة تعرضها للأخطار البحرية.

ب - فرق بين كل مما يلي من حيث (التعريف) : كل إجابة درجة / ٤ درجات

تم التحميل من شبكة باكويت التعليمية



Telegram:
ykuwait_net_home

الموقع النسبي	الموقع الفلكي
الموقع بالنسبة للماء واليابس. ص ٢٠	الموقع بالنسبة لخطوط الطول ودوائر العرض. ص ٢٠
دوائر العرض	خطوط الطول
خطوط وهمية أي غير موجودة على سطح الأرض ترسم على الكرة الأرضية وتقسّمها إلى قسمين شمالي وجنوبي وعددها ١٨٠ دائرة. ص ٢١	خطوط وهمية أي غير موجودة على سطح الأرض ترسم على الكرة الأرضية وتقسّمها إلى قسمين شرقي وغربي وعددها ٣٦٠ خطاً. ص ٢١

ج - لاحظ الشعار المقابل ثم أجب عن الأسئلة التالية: كل إجابة درجة / ٥ درجات ص ٧٠

١- ما أسم المنظمة التي يمثلها الشعار المقابل؟

- مجلس التعاون لدول الخليج العربية

٢- أذكر أسماء (اثنين) من الدول الخليجية التي تضمها المنظمة.

- الكويت ، المملكة العربية السعودية ، البحرين .

- قطر ، عُمان ، الإمارات العربية المتحدة.

٣- عدد الإنجازات التي حققتها مسيرة هذه المنظمة . ص ٧٧ (يكتفى بنقطتين)

-انطلاق السوق الخليجي المشترك في يناير ٢٠٠٨ م.

-التنسيق في المجال السياسي في المحافل الدولية لكل القضايا التي تهم المجلس.

- وثيقة التطوير الشامل للتعليم. - إقامة الاتحاد الجمركي.

- اتفاقية الدفاع المشتركة واستمرار تعزيز قوة درع الجزيرة.

- التعاون في مجال العمل البيئي لحل المشكلات ذات الاهتمام المشترك وتوحيد الرؤى في المحافل الدولية البيئية بما يخدم

دول المجلس.

السؤال الخامس : (مقالي) ويتكون من (أ - ب - ج) : (كل إجابة درجة = ١٢ درجة)

أ - اقرأ الفقرة التالية ثم أجب عما يليها من أسئلة: كل إجابة درجة / ٤ درجات

يتصف مناخ منطقة الخليج العربية بأنه صحراوي قاري حيث تهب عليه ثلاثة أنواع من الرياح، بينما الأمطار قليلة وغير منتظمة تسقط بفصل الشتاء ما عدا الجبل الأخضر وجبال عسير فأماطارها صيفية . ص ٢٥

١- ضع عنوان مناسب للفقرة السابقة.

- المناخ في الخليج العربي أو ما يراه المصحح مناسباً.

٢- عرف ما تحته خط .

- حالة الجو في مكان ما خلال فترات زمنية طويلة

٣- استخرج من الفقرة السابقة ما يلي:

- أسماء (منطقتين) في دول الخليج العربي تسقط عليهما أمطار صيفية.

- الجبل الأخضر

- جبال عسير.

ب - عدد (اثنين) لكل مما يلي : كل إجابة درجة / ٤ درجات (يكتفى بنقطتين فقط)

١- أعضاء طاقم سفينة الغوص . ص ٣٢

- النوخة - المجدمي - الغواص - السيب.

- النهام - الرضيف - التباة - الطواويش .

٢- وسائل الصيد القديمة. ص ٣١

- الميدار - الحظرة

- القرقرور

ج - ارسم مخطط سهمي عن : (درجة للرسم + كل إجابة درجة = ٤ درجات)

١- طرق التجارة البرية القديمة لمنطقة الخليج العربية . ص ٣٠ (يكتفى بثلاث نقاط)

مصر / اليمن

العراق

الشام

انتهت الأسئلة ،،،،،