



ملزمة مراجعة

اجتماعيات

WWW.KweduFiles.Com

الصف الخامس



للفصل الدراسي الأول

العام الدراسي ٢٠١٨/٢٠١٩

السؤال الأول : أكمل العبارات التالية بما يناسبها:

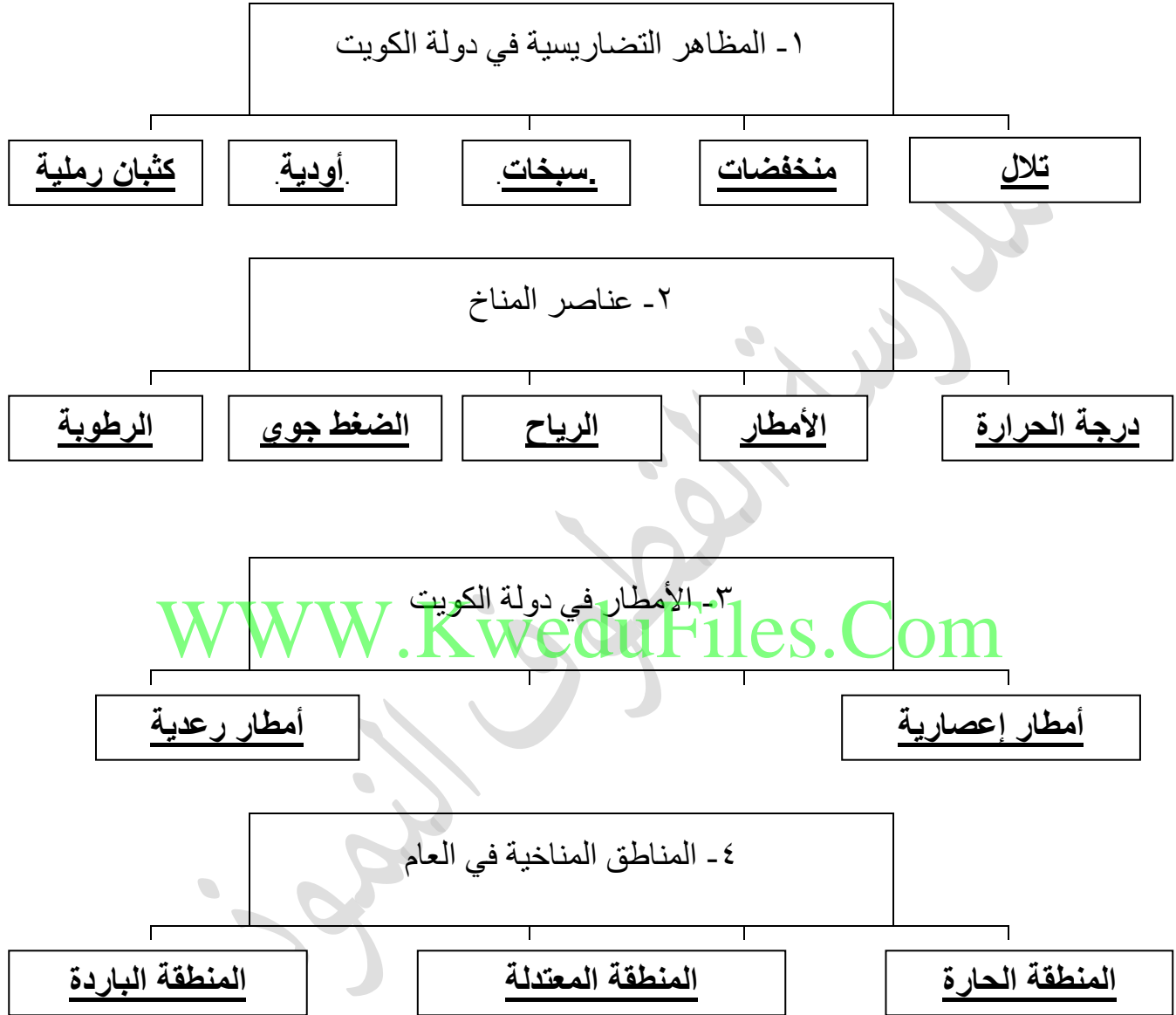
- ١ . يعتبر نبات العرفج من النباتات المعمرة
- ٢ . الموسم الذي ينكسر الحر فيه حيث تنخفض درجة الحرارة يسمى سهيل.
- ٣ . حالة الجو خلال فترة زمنية قصيرة يسمى الطقس.
- ٤ . الموسم الذي يكون به بداية الأمطار و يبشر بظهور الفقع يسمى الوسم.
- ٥ . خليج صغير يتوسط الساحل الكويتي و هو عبارة عن لسان مائي يسمى جون الكويت.
- ٦ . تحولت الكويت من إمارة إلى دولة في عهد الشيخ احمد الجابر.
- ٧ . تحدد دوائر العرض لدول العالم نوع المناخ.
- ٨ . تعرف الأمطار الرعدية التي تسقط في مارس و أبريل و مايو باسم السرايات.
- ٩ . البوارح رياح مغبرة تهب في فصل الصيف.
- ١٠ . من الظروف المناخية التي أثرت في الغطاء النباتي في الكويت قلة الأمطار.
- ١١ . من أهم الأودية الجافة في دولة الكويت وادي الباطن.
- ١٢ . تم منح حق امتياز التنقيب عن النفط في عهد الشيخ أحمد الجابر.
- ١٣ . نباتات ذات جذور عميقة تنمو طوال العام تسمى النباتات المعمرة .
- ١٤ . يبلغ عدد خطوط الطول ٣٦٠ خط.
- ١٥ . يبلغ عدد دوائر العرض ١٨٠ دائرة
- ١٦ . دائرة العرض الرئيسية تسمى خط الاستواء
- ١٧ . خط الطول الرئيسي يسمى خط جرينتش
- ١٨ . موقع الدولة بالنسبة لخطوط الطول ودوائر العرض يسمى الموقع الفلكي.
- ١٩ . اكبر الجزر الكويتية جزيرة تسمى بويان
- ٢٠ . الجهاز الذي يقيس سرعه واتجاه الرياح يسمى دوارة الرياح
- ٢١ . دائرتي العرض التي تمتد بينهما دولة الكويت ٢٨ : ٣٠ شمالا.

٢٢. المنطقة المناخية التي تقع بها دولة الكويت هي المنطقة الحارة.
٢٣. وكالة الفضاء التي أشادت بجهود العرب في علم الفلك تسمى ناسا.
٢٤. يبلغ عدد أيام موسم سهيل ٥٢ يوماً.
٢٥. الموسم المناخي الذي يكون فيه رياح السموم هو الجوزاء.
٢٦. أشهر العلماء الكويتيون في مجال الفلك هو الدكتور صالح العجيري.
٢٧. الموسم المناخي الذي تنخفض فيه الحرارة لمدة ٤٠ يوم يسمى المربعانية.
٢٨. النباتات الحولية في دولة الكويت مثل كحيل.
٢٩. الحيوان الذي يطلق عليه سفينة الصحراء يسمى الجمل.
٣٠. الاسم المحلي لسحفاة البحر هو احمسة.
٣١. أشهر الطيور في بلادنا مثل العوسق والصعوة والخضيري.
٣٢. الحاكم العاشر لدولة الكويت هو الشيخ احمد الجابر.
٣٣. العام الذي تم فيه افتتاح المدرسة الاحمدية هو ١٩٦١.
٣٤. حاكم الكويت الذي لقب بابو الاستقلال هو الشيخ عبد الله السالم.
٣٥. العام الذي تم فيه إجراء أول انتخابات نيابية في دولة الكويت هو ١٩٦٣.
٣٦. حاكم الكويت الذي رفع العلم الجديد لدولة الكويت هو الشيخ عبد الله السالم.
٣٧. الحاكم الذي انضمت في عهده الكويت إلى الجامعة العربية هو الشيخ عبد الله السالم.

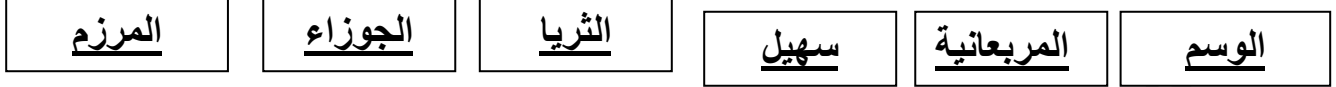
السؤال الثاني : ضع علامة (√) أو (x) أمام العبارات التالية:

١. يتمتع الساحل الكويتي بكثرة التعاريج (x)
٢. الإفراط في الرعي لا يسمى رعيًا جائرًا (x)
٣. تم إلغاء معاهدة الحماية مع بريطانيا في عام ١٩٦٠ (x)
٤. تم تصدير أول شحنة نفط في عام ١٩٤٦ م (√)
٥. نبات العرفج يعتبر نوع من أنواع النباتات الحولي (x)
٦. البوارح رياح مغبرة تهب في فصل الصيف (√)
٧. الأسماك من أنواع الحياة الحيوانية في دولة الكويت (√)
٨. اتفاقية التنقيب عن النفط تنص على ٣١ مادة (x)
٩. يعتبر الدكتور صالح العجيري من الباحثين في علم الفلك في الكويت (√)
١٠. لقب الشيخ احمد الجابر بأبو الاستقلال (x)
١١. المسئولة عن علوم الفضاء في العالم هي وكالة ناسا. (√)
١٢. العام الذي تم فيه إنشاء المجلس التأسيسي هو ١٩٦٢ (√)
١٣. الحاكم الحادي عشر من حكام الكويت هو الشيخ احمد الجابر (x)
١٤. الحاكم الذي قام بإصدار عملة جديدة هي الدينار الكويتي هو الشيخ عبد الله السالم (√)
١٥. تنكيف الحيوانات في دولة الكويت مع البيئة بصعوبة (√)
١٦. أثرت الظروف المناخية القاسية على نمو الغطاء النباتي في دولة الكويت (√)
١٧. الموسم المناخي الذي تستمر فيه الحرارة وبداية الرطوبة هو المرزم (√)
١٨. الشهر الذي تكون فيه البوارح هو شهر مايو (x)
١٩. كلما ارتفعنا عن سطح البحر ١٥٠ متر تقل درجة الحرارة درجة واحدة (√)

السؤال الثالث: أَمَلَا الفَراغات في المخططات السهوية التالية:



٥- المواسم المناخية في الكويت



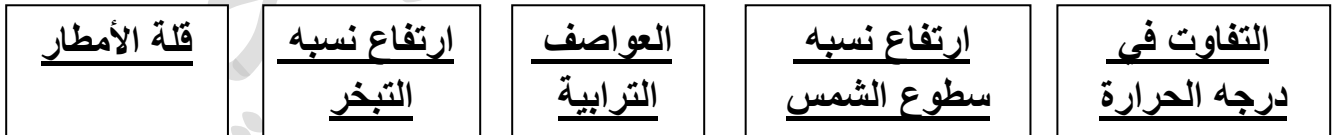
٦- الحيوانات في الكويت



٧- المناطق الرعوية في الكويت



٨- الظروف المناخية المؤثرة علي نمو الغطاء النباتي



السؤال الرابع : اكتب ما تعرفه عن:

١. أهمية خطوط الطول .

- تحديد الوقت

- تحديد موقع الدولة

٢. أهمية دوائر العرض.

- تحديد المناخ

٣. العوامل المؤثرة في المناخ بين مناطق العالم:

- الموقع بالنسبة لدوائر العرض

- توزيع اليابس والماء

- الارتفاع عن مستوى سطح البحر

٤. استفاد أهل الكويت من مواقع النجوم .

- معرفة الاتجاهات الأصلية

- معرفة أحوال المناخ

٥. أهم الأحداث في عهد الشيخ أحمد الجابر الصباح:

- قيام أول مجلس للشورى
- افتتاح المدرسة الاحمدية
- منح امتياز التنقيب عن النفط للشركات الأجنبية
- اكتشاف أول حقل نفطي في بحرة وأول حقل منتج في برقان
- تصدير أول شحنة من النفط الكويتي
- جعل الكويت دولة بدلا من إمارة

٦. الإنجازات الداخلية في عهد الشيخ عبد الله السالم الصباح:

- رفع العلم الجديد لدولة الكويت
- صدور عملة جديدة هي الدينار الكويتي
- إنشاء المجلس التأسيسي لإعداد الدستور
- إجراء أول انتخابات نيابية وافتتاح مجلس الأمة

٧. الإنجازات الخارجية في عهد الشيخ عبد الله السالم الصباح:

- إلغاء معاهدة الحماية واستبدالها بمعاهدة التعاون والصداقة
- الانضمام للجامعة العربية
- الانضمام إلى هيئة الأمم المتحدة

السؤال الخامس : عرف ما يأتي:

١. امتياز التنقيب.

إعطاء الدولة حق البحث والتنقيب عن النفط وبيعه لشركات أجنبية تشارك الدولة في قسط من العائدات المالية لمدته معينه.

٢. الدستور.

وثيقة مكتوبة تتكون من مجموعه من المواد التي تنظم العلاقة بين الحاكم والمحكوم وتحدد حقوق وواجبات المواطنين.

٣. الاستقلال.

مسئولية الدولة بصورة مباشرة عن إدارة شئونها الداخلية والخارجية.

٤. الرعي الجائر.

الإفراط في الرعي

٥. نبات حولي.

تتكاثر بعض سقوط المطر وتكمل دورة حياتها في فترة قصيرة.

٦. نبات معمر.

ذات جذور عميقة تمتاز بصفات تعينها على الاستفادة من المياه القليلة.

٧. الكثبان الرملية.

تلال من الرمال تتراكم في الصحراء بفعل الرياح

٨. السبخات.

ارض منخفضة قليلة المياه تنمو فيها النباتات الملحية.

٩- التصحر.

امتداد تأثير الصحراء على المناطق الرعوية والزراعية

١٠. البوارح

رياح مغبرة تهب صيفا.

١١. السرايات.

أمطار رعدية تسقط في مارس وابريل ومايو

١٢. الطقس.

حالة الجو في فترة زمنية قصيرة.

١٣. المناخ.

حالة الجو في فترة زمنية كبيرة.

١٤. الموقع الفلكي.

موقع الدولة بالنسبة لخطوط الطول ودوائر العرض.

١٥. خطوط الطول. WWW.KweduFiles.Com

خطوط وهمية تقسم الكرة الارضية إلى نصفين شرقي وغربي

١٦. دوائر العرض.

دوائر وهمية تقسم الكرة الارضية إلى قسمين شمالي وجنوبي

السؤال السادس : علل لما يلي:

١- اختلاف المناخ بين مناطق العالم.

- الموقع بالنسبة لدوائر العرض
- توزيع اليابس والماء
- الارتفاع عن مستوى سطح البحر

٢- تميز العرب بعلوم الفلك.

بسبب صفاء صحراء شبه الجزيرة العربية.

٣- تسمية المربعانية بهذا الاسم.

بسبب انخفاض درجة الحرارة لمدة ٤٠ يوم

٤- تسمية رياح السموم بهذا الاسم.

لأنها رياح شديدة الحرارة

٥- تسمية فترة ظهور المرزم بجمرة القيظ

بسبب استمرار الحرارة وبداية الرطوبة.

٦- تتكيف بعض الحيوانات بصعوبة مع البيئة الصحراوية.

بسبب التباين الكبير في درجات الحرارة

٧- اختلاف تنوع النباتات الطبيعية في الكويت

بسبب اختلاف طبيعة التربة والبعد عن البحر

٨- ضعف الغطاء النباتي في الكويت

لعدم وجود تضاريس مختلفة كالمرتفعات العالية والوديان الواسعة

٩- حدوث ظاهرة التصحر.

بسبب الرعى الجائر

١٠- تحتفل الكويت بالعيد الوطني في ٢٥ فبراير من كل عام

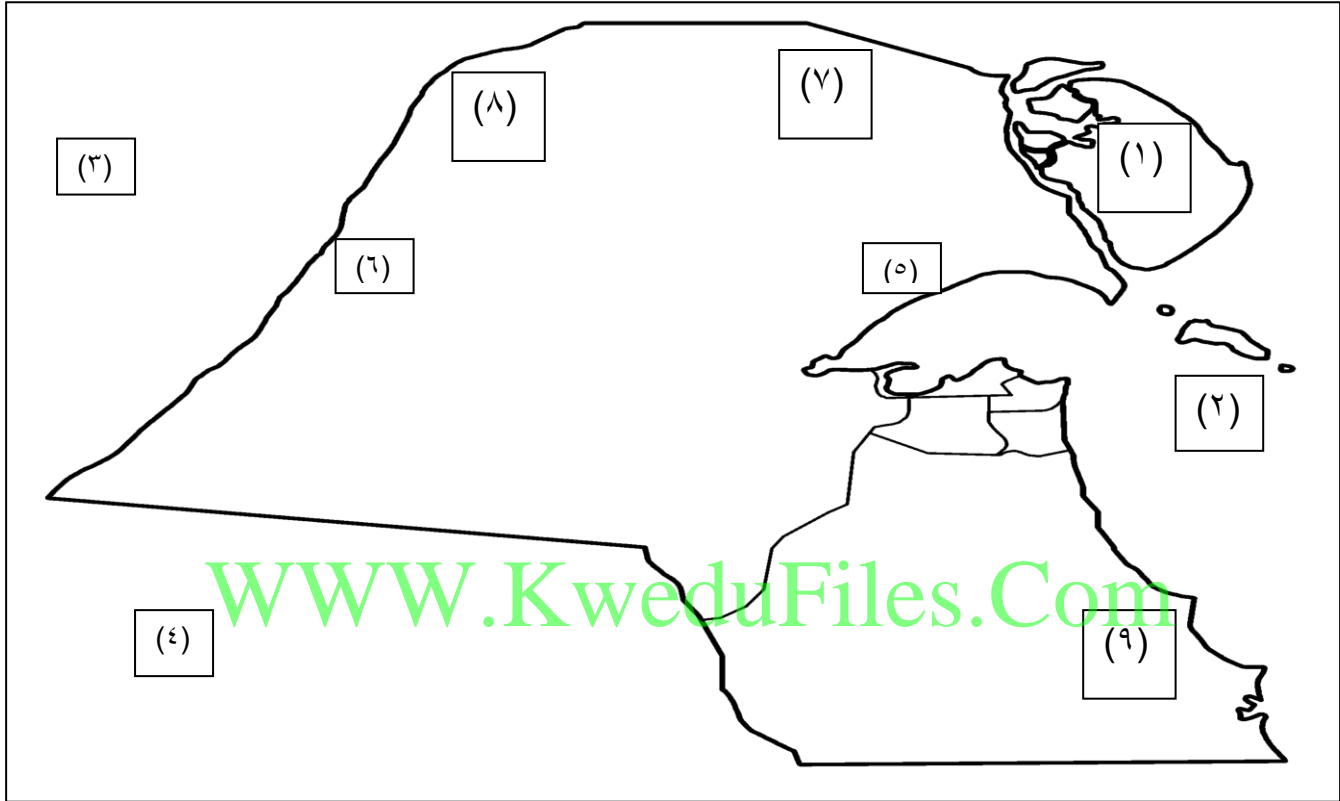
لان هذا اليوم يصادف تاريخ جلوس الشيخ عبد الله السالم على كرسى الحكم وذلك تكريما له.

السؤال السادس : اكتب حدثا واحدا تم في السنوات التالية:-

الحدث	السنة
<u>معاهدة الحماية</u>	١٨٩٩
<u>قيام أول مجلس للشورى</u>	١٩٢١
<u>افتتاح المدرسة الاحمدية</u>	١٩٣٤
<u>اتفاقية التنقيب عن النفط</u>	١٩٣٦
<u>اكتشاف أول حقل نفطي في بحرة</u>	١٩٣٨
<u>اكتشاف أول حقل منتج في برقان</u>	١٩٤٦
<u>تصدير أول شحنه من النفط الكويتي</u>	١٩٦١/٦/١٩
<u>استقلال الكويت</u>	١٩٦٢
<u>إنشاء المجلس التأسيسي لإعداد الدستور</u>	١٩٦٣
<u>إجراء أول انتخابات نيابية وافتتاح مجلس الامة</u>	

السؤال السابع :

أ- لاحظ خريطة الكويت التي أمامك ثم أكتب ما تشير إليه الأرقام التالي:-



الرقم (١) علي الخريطة يشير إلي جزيرة بوبيان

الرقم (٢) علي الخريطة يشير إلي الخليج العربي

الرقم (٣) علي الخريطة يشير إلي دولة العراق

الرقم (٤) علي الخريطة يشير إلي دولة السعودية

الرقم (٥) علي الخريطة يشير إلي تلال جال الزور

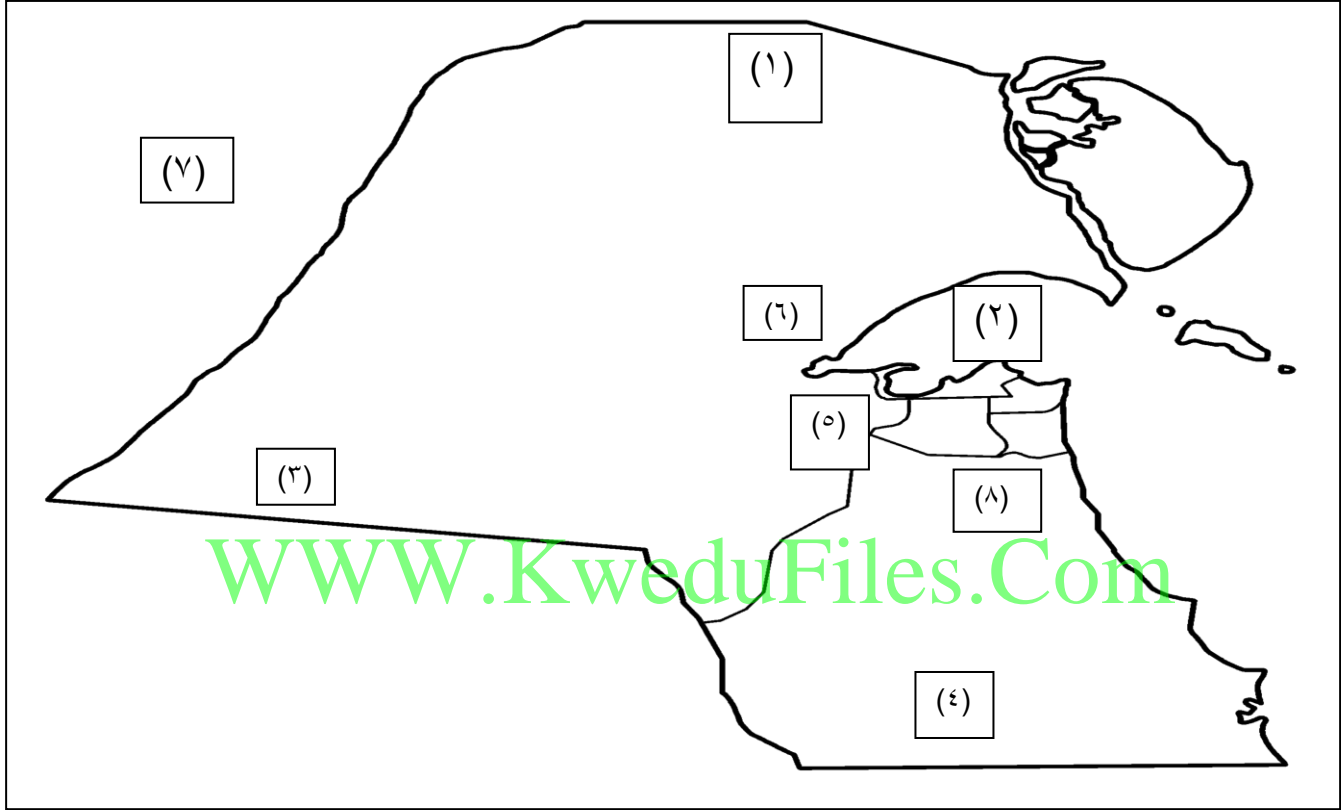
الرقم (٦) علي الخريطة يشير إلي وادي الباطن

الرقم (٧) علي الخريطة يشير إلي كثنان رملية أم نقا

الرقم (٨) علي الخريطة يشير إلي كثنان رملية الهويميلة

الرقم (٩) علي الخريطة يشير إلي سبخة الخيران

ب- لاحظ خريطة الكويت التي أمامك ثم أكتب الرقم الدال على العبارات التالية:-



منطقة الوفرة تحمل علي الخريطة الرقم (٤)

سهل الدببة يحمل علي الخريطة الرقم (٣)

منطقة الجهراء تحمل علي الخريطة الرقم (٦)

منطقة العبدلي تحمل علي الخريطة الرقم (١)

جون الكويت يحمل علي الخريطة الرقم (٢)

منطقة الصليبية تحمل علي الخريطة الرقم (٥)

منطقة الأحمدية تحمل علي الخريطة الرقم (٨)