

تم تحميل هذا الملف من موقع المناهج الكويتية



الملف أوراق عمل تقييمية

موقع المناهج ← المناهج الكويتية ← الصف الخامس ← علوم ← الفصل الثاني

روابط مواقع التواصل الاجتماعي بحسب الصف الخامس



روابط مواد الصف الخامس على تلغرام

[الرياضيات](#)

[اللغة الانجليزية](#)

[اللغة العربية](#)

[التربية الاسلامية](#)

المزيد من الملفات بحسب الصف الخامس والمادة علوم في الفصل الثاني

مراجعة	1
نموذج اختبار فصل ثاني	2
نموذج اجابة	3
مذكرة شاملة	4
انفوجرافيك للاختبار الاول	5



نماذج أوراق العمل التقييمية
الصف الخامس - الفترة الدراسية الثانية
العام الدراسي 2024-2025



نماذج أوراق العمل التقييمية
للصف الخامس الابتدائي
الفترة الدراسية الثانية

العام الدراسي
2025-2024

موقع
النماذج الكويتية
almanahj.com/kw



5

الصف الخامس

SCAN ME



فريق إعداد التوجيهات الفنية



الاسم :

الفصل :

الدرجة النهائية : / 5

درس : تأثير حركة القمر على الأرض

السؤال الأول : اختر الإجابة الصحيحة علمياً بوضع علامة (✓) في فيما يلي:

- يحدث في اليوم الواحد :

جزر واحد

مد واحد

مدان و جزران

مد و جزر واحد

2

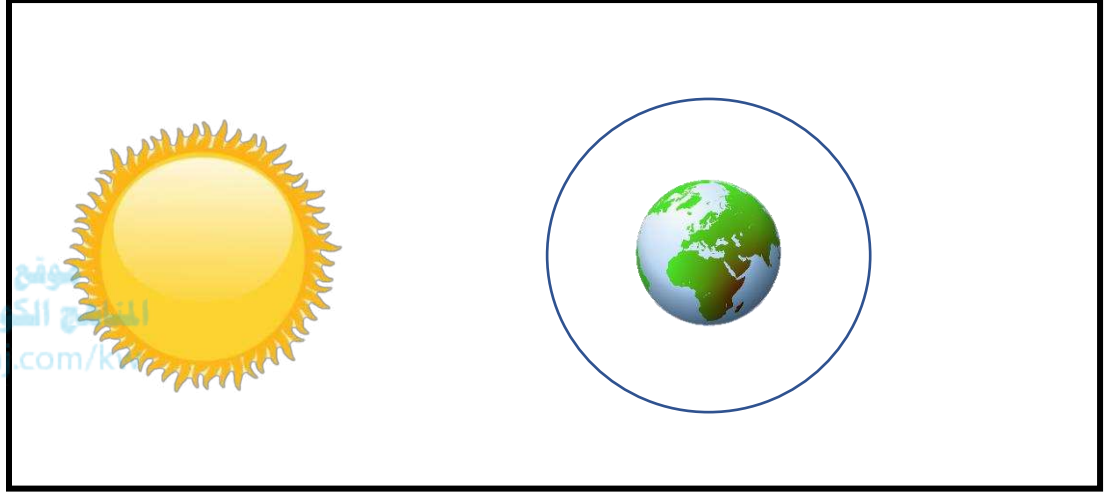
السؤال الثاني : في الجدول التالي اختر العبارة من المجموعة (ب) وأكتب رقمها أمام

ما يناسبها من عبارات المجموعة (أ) :

المجموعة (ب)	المجموعة (أ)	الرقم
1 - المد المنخفض	عندما تقع الأرض و القمر و الشمس على إستقامة واحدة تحدث ظاهرة
2 - المد العالي		
1- منخفض	عندما يكون القمر تربيع أول يكون المد
2-عالي		

2

السؤال الثالث : أدرس الرسم الموضح ثم أكمله وفق ما هو مطلوب منك :



أرسم القمر بموقعه الصحيح لحدوث ظاهرة المد المنخفض



نماذج أوراق العمل التقييمية
الصف الخامس – الفترة الدراسية الثانية
العام الدراسي 2024-2025



وزارة التربية
التوجيه الفني العام للعلوم

الاسم :

الفصل :

الدرجة النهائية : / 5

درس : خسوف القمر و كسوف الشمس

السؤال الأول : اختر الإجابة الصحيحة علمياً بوضع علامة (✓) في المربع المقابل لها فيما يلي:



- عندما يحجب ظل الأرض القمر كلياً يحدث:

كسوف كلي للشمس

كسوف جزئي للشمس

خسوف كلي للقمر

خسوف جزئي للقمر

2

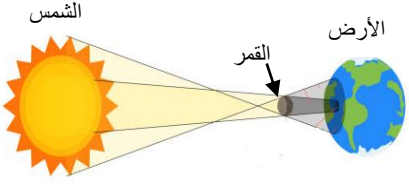
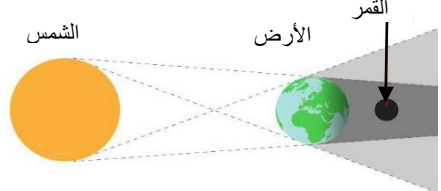
السؤال الثاني : أكمل العبارات التالية بما تراه مناسباً علمياً :

(1) يقع القمر في ظاهرة كسوف الشمس الشمس و الأرض .

(2) تحدث ظاهرة خسوف القمر

2

السؤال الثالث : قارن بين كل مما يلي :

		وجه المقارنة
.....	اسم الظاهرة الموضحة بالرسم



نماذج أوراق العمل التقييمية
الصف الخامس – الفترة الدراسية الثانية
العام الدراسي 2024-2025



وزارة التربية
التوجيه الفني العام للعلوم

الاسم :

الفصل :

الدرجة النهائية : / 5

درس : كيف يتدرب رائد الفضاء استعداداً للسفر إلى الفضاء ؟
(1)

السؤال الأول: اختر الإجابة الصحيحة علمياً بوضع علامة (✓) في المربع المقابل لها فيما يلي:



- ضعف القدرة على التوازن من تأثير الظروف الفضائية على الجهاز

التنفسي

العصبي

الدوري

الهضمي

2

السؤال الثاني: أكتب بين القوسين كلمة (صحيحة) للعبارة الصحيحة وكلمة (خاطئة) للعبارة غير الصحيحة في كل مما يأتي :

(1) أداء الأمور اليومية أمر سهل على رائد الفضاء. (.....)

(2) يتدرب رائد الفضاء على طريقة تنظيف الجسم خلال السفر. (.....)

2



نماذج أوراق العمل التقييمية
الصف الخامس – الفترة الدراسية الثانية
العام الدراسي 2024-2025



وزارة التربية
التوجيه الفني العام للعلوم

السؤال الثالث : علل لما يأتي تعليلاً علمياً سليماً :

- صعوبة حياة رائد الفضاء أثناء رحلة السفر.

موقع
المناهج الكويتية
almanahj.com/kw



نماذج أوراق العمل التقييمية
الصف الخامس – الفترة الدراسية الثانية
العام الدراسي 2024-2025



وزارة التربية
التوجيه الفني العام للعلوم

الاسم :

الفصل :

الدرجة النهائية : /..... 5

درس : الحياة في الفضاء

السؤال الأول : اختر الإجابة الصحيحة علمياً بوضع علامة (✓) في المربع المقابل لها فيما يلي:

- جميع ما يلي يحدث بسبب انعدام الجاذبية الأرضية في الفضاء ما عدا :



سهولة النوم و الراحة .

صعوبة النوم .

تطايير قطرات الماء .

سهولة رفع الأثقال

2

السؤال الثاني: أكتب بين القوسين كلمة (صحيحة) للعبارة الصحيحة وكلمة (خاطئة) للعبارة غير الصحيحة في كل مما يأتي :

(1) يحتاج رائد الفضاء إلى المحافظة على لياقته البدنية . (.....)

(2) يتناول رواد الفضاء الأغذية الطازجة. (.....)

2



نماذج أوراق العمل التقييمية
الصف الخامس – الفترة الدراسية الثانية
العام الدراسي 2024-2025



وزارة التربية
التوجيه الفني العام للعلوم

السؤال الثالث : علل لما يلي تعليلاً علمياً سليماً :

- يختار رواد الفضاء ملابسهم لرحلتهم إلى الفضاء بعناية

موقع
المناهج الكويتية
almanahj.com/kw

1


الاسم :

الفصل :

الدرجة النهائية : / 5

درس : ما التلسكوب ؟

السؤال الأول : اخترا الإجابة الصحيحة علمياً بوضع علامة (✓) في المربع المقابل لها فيما يلي:



- جزء في التلسكوب يساعدنا على رؤية الأشياء أقرب يسمى :

عدسة مقعرة

اطار مساند

أنبوب طويل

العدسة المحدبة

2

السؤال الثاني : أكتب بين القوسين كلمة (صحيحة) للعبارة الصحيحة وكلمة (خطأ) للعبارة غير الصحيحة في كل مما يأتي:

(1) التلسكوب يساعدنا على دراسة الكواكب والنجوم والاجرام السماوية . (.....)

(2) التلسكوب الأرضي يستخدم لرؤية الاجرام السماوية . (.....)

2



نماذج أوراق العمل التقييمية
الصف الخامس – الفترة الدراسية الثانية
العام الدراسي 2024-2025



وزارة التربية
التوجيه الفني العام للعلوم

السؤال الثالث : أكتب بين القوسين كلمة (صحيحة) للعبارة الصحيحة وكلمة (خطأ) للعبارة غير الصحيحة في كل مما يأتي مع تصحيح الخطأ :



- يعمل التلسكوب الفضائي على تفريق اكبركمية من الاشعة من الجرم

الساوي البعيد (.....)

التصحيح :-



نماذج أوراق العمل التقييمية
الصف الخامس – الفترة الدراسية الثانية
العام الدراسي 2024-2025



وزارة التربية
التوجيه الفني العام للعلوم

الاسم :

الفصل :

الدرجة النهائية : / 5

درس : ما الأقمار الصناعية ؟

السؤال الأول : اختر الإجابة الصحيحة علمياً بوضع علامة (✓) في المربع المقابل لها فيما يلي:



- أحد الأجهزة التالية يحتاجها القمر الصناعي لتمده بالطاقة اللازمة لتشغيله وهي نوع

خلايا الطاقة الشمسية

كاميرات المراقبة

الحاسب الآلي

جهاز ارسال هوائي

2

السؤال الثاني : أكتب بين القوسين كلمة (صحيحة) للعبارة الصحيحة وكلمة (خطأ) للعبارة غير الصحيحة في كل مما يأتي:

(1) يتكون القمر الصناعي من جزئين هما الحافلة والحمولة. (.....)

(2) يدور القمر الصناعي حول نفسه في الفضاء الخارجي. (.....)

2



نماذج أوراق العمل التقييمية
الصف الخامس – الفترة الدراسية الثانية
العام الدراسي 2024-2025



وزارة التربية
التوجيه الفني العام للعلوم

السؤال الثالث : قابل بين كل مما يلي :

القمر الصناعي	القمر	
.....		التشابه



نماذج أوراق العمل التقييمية
الصف الخامس – الفترة الدراسية الثانية
العام الدراسي 2024-2025



وزارة التربية
التوجيه الفني العام للعلوم

الاسم :

الفصل :

الدرجة النهائية : / 5

درس : كيف يعمل القمر الصناعي ؟

السؤال الأول : اختر الإجابة الصحيحة علمياً بوضع علامة (✓) في المربع المقابل لها فيما يلي:



- بدأت ثورة الاتصالات عبر الأقمار بعد إطلاق أول قمر صناعي في الفضاء عام

1955

1956

1957

1958

2

السؤال الثاني : في الجدول التالي اختر العبارة أو الشكل من المجموعة (ب) واكتب رقمها أمام ما يناسبها من عبارات المجموعة (أ)

الرقم	المجموعة (أ)	المجموعة (ب)
.....	لا تصطدم الأقمار الصناعية مع بعضها البعض رغم عددها الكبير لأن	1 - كل قمر له مدار خاص به 2 - كل قمر له مهمة خاصة به
.....	تطلق الأقمار الصناعية من الأرض إلى الفضاء بشكل	1 - أفقي 2 - رأسي

2



نماذج أوراق العمل التقييمية
الصف الخامس – الفترة الدراسية الثانية
العام الدراسي 2024-2025



وزارة التربية
التوجيه الفني العام للعلوم

السؤال الثالث : علل لما يأتي تعليلاً علمياً سليماً (أذكر السبب)

- يدور القمر الصناعي حول الأرض بسرعة متوازنة مع سرعة الأرض.

موقع
المناهج الكويتية
almanahj.com/kw

1

الاسم :

الفصل :

الدرجة النهائية : / 5

درس : أهمية الأقمار الصناعية

السؤال الأول : اختر الإجابة الصحيحة علمياً بوضع علامة (✓) في المربع المقابل لها فيما يلي:

- جميع ما يلي من مهام الأقمار الصناعية ما عدا :

إرسال بيانات عن السحب

نقل المباريات الدولية

إلتقاط إشارات الإستغاثة

تنظيم هبوط الطائرات بالمطار

2

السؤال الثاني : اختر العبارة من مجموعة (ب) واكتب رقمها مع ما يناسبها من عبارات المجموعة (أ) :

المجموعة (ب) (نوع المهمة)		المجموعة (أ) (المهمة)	
الفلك و البحث العلمي	1	مساعدة السفن و الطائرات على التنقل
مراقبة الأرض	2	القيام بالمهام العلمية و تتبع المتغيرات الكونية
الملاحة	3		

2



نماذج أوراق العمل التقييمية
الصف الخامس – الفترة الدراسية الثانية
العام الدراسي 2024-2025



وزارة التربية
التوجيه الفني العام للعلوم

السؤال الثالث : عدد مايلي :

- مهام / فوائد الأقمار الصناعية :

..... (1

..... (2

موقع
المناهج الكويتية
almanahj.com/kw

1



نماذج أوراق العمل التقييمية
الصف الخامس – الفترة الدراسية الثانية
العام الدراسي 2024-2025



وزارة التربية
التوجيه الفني العام للعلوم

الاسم :

الفصل :

الدرجة النهائية : / 5

درس : استكشاف الفضاء

السؤال الأول : اختر الإجابة الصحيحة علمياً بوضع علامة (✓) في فيما يلي:



- المحطة التي يتم بها إجراء التجارب العلمية والطبية ومعرفة تأثير انعدام الجاذبية على رواد الفضاء هي المحطة الفضائية:

المحطة الفضائية الدولية

سكاي لاب

ساليوت

مير

2

السؤال الثاني : أكتب بين القوسين كلمة (صحيحة) للعبارة الصحيحة وكلمة (خطأ) للعبارة غير الصحيحة في كل مما يأتي:

(1) التكنولوجيا والتطور العلمي يساعدنا على اكتشاف الفضاء . (.....)

(2) يوجد محطتان فضائيتان فقط في العالم (.....)

2



نماذج أوراق العمل التقييمية
الصف الخامس – الفترة الدراسية الثانية
العام الدراسي 2024-2025



وزارة التربية
التوجيه الفني العام للعلوم

السؤال الثالث : عدد ما يلي :

اثنان من أسباب أهمية استكشاف الفضاء :

موقع
المناهج الكويتية
almanahj.com/kw

..... -1

..... -2

1