

تم تحميل هذا الملف من موقع ملفات الكويت التعليمية



[com.kwedufiles.www//:https](https://www.kwedufiles.com)

*للحصول على أوراق عمل لجميع الصفوف وجميع المواد اضغط هنا

* للحصول على أوراق عمل لجميع مواد الصف العاشر اضغط هنا

<https://kwedufiles.com/10>

* للحصول على جميع أوراق الصف العاشر في مادة تاريخ وجميع الفصول, اضغط هنا

<https://kwedufiles.com/10history>

* للحصول على أوراق عمل لجميع مواد الصف العاشر في مادة تاريخ الخاصة بـ الفصل الأول اضغط هنا

<https://www.kwedufiles.com/10history1>

* لتحميل كتب جميع المواد في جميع الفصول للـ الصف العاشر اضغط هنا

<https://www.kwedufiles.com/grade10>

[bot_kwlinks/me.t//:https](https://t.me/bot_kwlinks)

للحصول على جميع روابط الصفوف على تلغرام وفيسبوك من قنوات وصفحات: اضغط هنا

الروابط التالية هي روابط الصف العاشر على مواقع التواصل الاجتماعي

مجموعة الفيسبوك

صفحة الفيسبوك

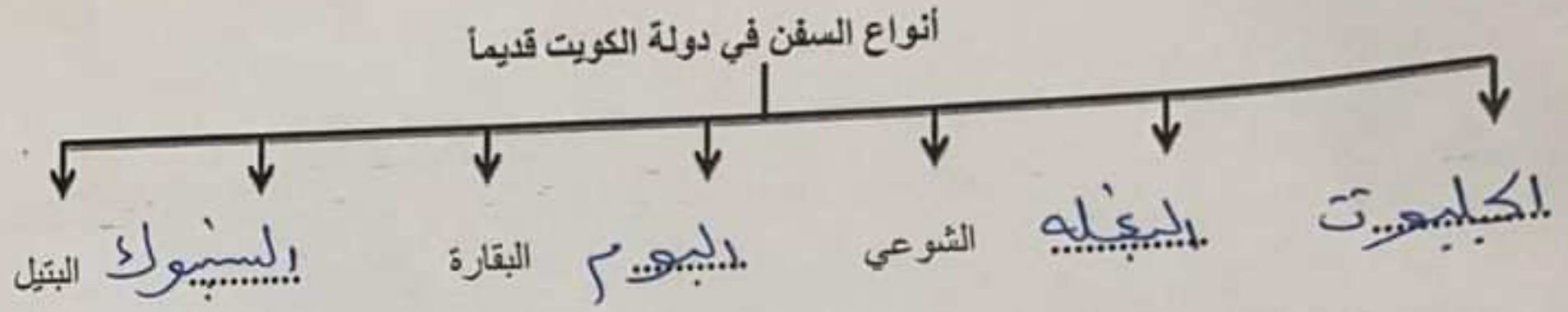
مجموعة التلغرام

بوت التلغرام

قناة التلغرام

رياضيات على التلغرام

(ج) أكمل المخطط السهمي التالي :



(د) أكمل العبارات التالية فيما درست :

١ - الصورة المقابلة تمثل الجزيرة الكويتية التي عثر فيها على الآثار اسمها فيلكا



THE PROFESSOR

SNAP:NWK

أ. صعفق

SNAP:TFC

٢ - الصورة المقابلة تمثل أحد العاملين في حرفة الغوص يسمى الغواص



THE PROFESSOR

SNAP:NWK

أ. صعفق

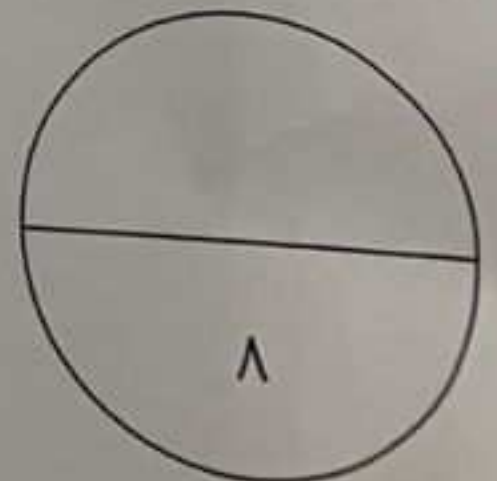
SNAP:TFC

٣ - الصورة المقابلة تمثل إحدى الحرف في دولة الكويت قديماً

تسمى القعاقير



٤ - الخريطة المقابلة تمثل معركة بحرية بين دولة الكويت وبنو كعب اسمها البرقة





العام الدراسي : ٢٠١٩ / ٢٠٢٠ م

امتحان نهاية الفترة الدراسية الأولى

الزمن : ساعتان وربع

مقرر / تاريخ دولة الكويت

عدد الصفحات : (٥)

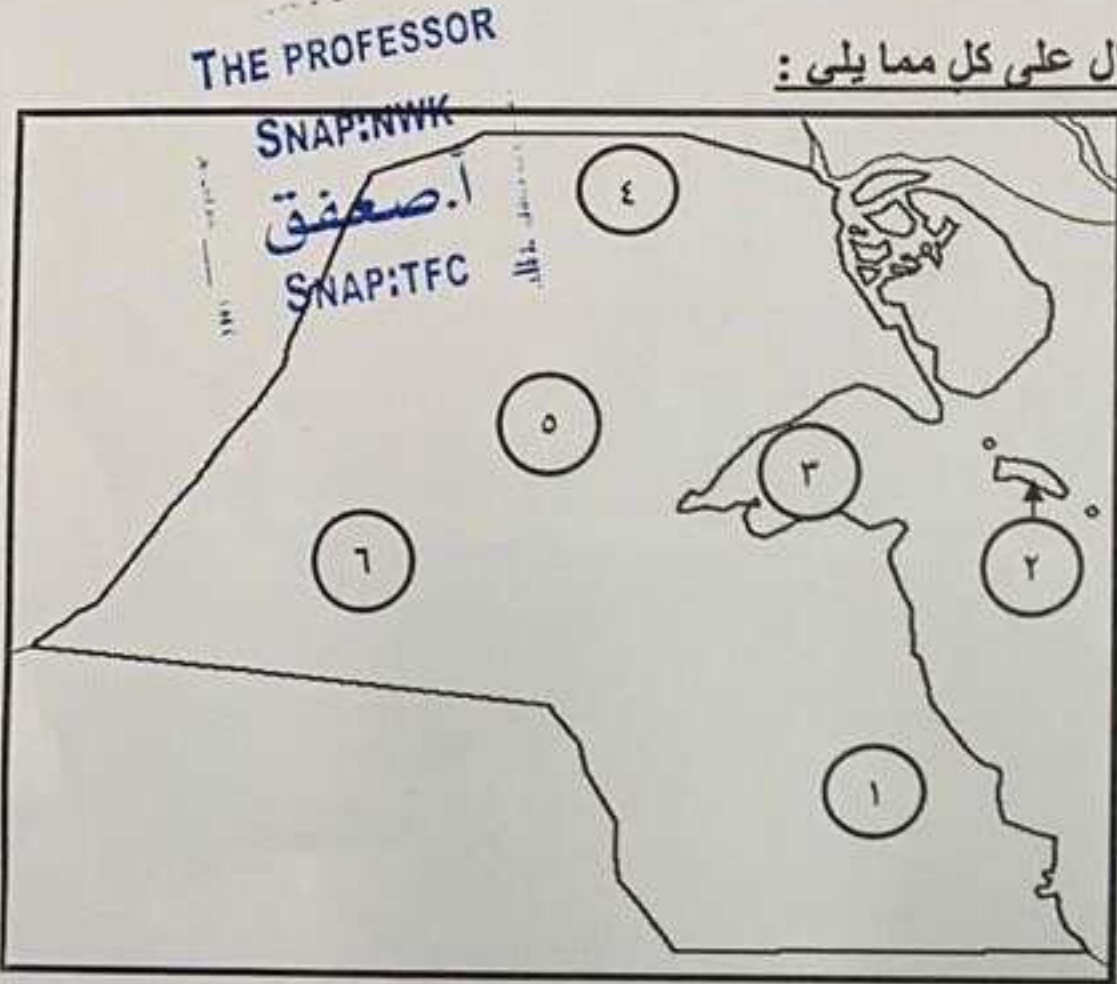
للفص العاشر

وزارة التربية
التوجيه الفني العام للاجتماعيات

أجب عن (ثلاثة) أسئلة فقط على أن يكون السؤال الأول منها (إجبارياً)

السؤال الأول الموضوعي (إجباري) ويتكون من (أ - ب - ج - د) :

(أ) أمامك خريطة دولة الكويت الصماء ، أكتب الرقم الدال على كل مما يلي :



١. سهل الدبدبة على الخريطة يمثل الرقم ٦
٢. كراع المرو على الخريطة يمثل الرقم ٥
٣. منطقة العبدلي يمثلها على الخريطة الرقم ٤
٤. جون الكويت يمثلها على الخريطة الرقم ٣

THE PROFESSOR

SNAP:NWK

أ.صعفق

SNAP:TFC

(ب) اختر للمجموعة (أ) ما يناسبها من المجموعة (ب) بكتابة الرقم المناسب :

الرقم	المجموعة (أ)	الرقم المناسب	المجموعة (ب)
١	وقعت في عهده معركة الصريف .	(٤)	الشيخ صباح الأول بن جابر
٢	كان حليماً كريماً يضرب بكرمه المثل .	(٣)	الشيخ عبدالله الأول بن صباح
٣	ازدهرت الإمارة في أيامه وامتدت تجارتها إلى الهند واليمن وشرق أفريقيا والعراق .	(١)	الشيخ مبارك الصباح
٤	البداية الحقيقية لظهور الكويت كياناً سياسياً منظماً	(٢)	الشيخ جابر الأول بن عبدالله الصباح
		(-)	الشيخ محمد بن صباح

تابع / امتحان مقرر تاريخ دولة الكويت - للصف العاشر - نهاية الفترة الدراسية الأولى - للعام الدراسي ٢٠١٩ - ٢٠٢٠ م

السؤال الثالث (اختياري) ويتكون من (أ - ب - ج)
(أ) فرق بين كلاً من :

مفهوم الدشة (موسم السفر)	مفهوم الإغلاق (موسم السفر)
تضمن دخول البحر وتكون شهر أغسطس	من شهر مايو وتضمن الإغلاق موسم السفر
وظيفة النوخدة	وظيفة المجدمي
تأيد السفينة وعلى علم بهرفت الطرق والامام بالإتجاهات البحرية	تيسر البحرية والسوق عبر إدارة السفينة من الداخل

(ب) عدد ثلاث أنواع فقط من المحاصيل التي يزرعها الكويتيون في دولة الكويت .

- الخضروات بجميع أنواعها
- الحبوب مثل القمح والشعير
- الأعلاف كالبرسيم

THE PROFESSOR

SNAP:NWK

أ.صعق

SNAP:TFC

(ج) أذكر ثلاث عوامل ساعدت على ازدهار صناعة السفن في دولة الكويت قديماً .

- صوب الرياح الموسمية
- كواثر الأيدي العاملة
- طول الواجبة البحرية لدولة الكويت

THE PROFESSOR

SNAP:NWK

أ.صعق

SNAP:TFC

تابع / امتحان مقرر تاريخ دولة الكويت - للصف العاشر - نهاية الفترة الدراسية الأولى - للعام الدراسي ٢٠١٩ - ٢٠٢٠ م

السؤال الثالث (اختياري) ويتكون من (أ - ب - ج)
(أ) فرق بين كلاً من :

مفهوم الدشة (موسم السفر)	مفهوم الإغلاق (موسم السفر)
تضمن دخول البحر وتكون شهر أغسطس	من شهر مايو وتضمن الإغلاق موسم السفر
وظيفة النوخدة	وظيفة المجدمي
تأيد السفينة وعلى علم بهرفت الطرق والامام بالإتجاهات البحرية	تيسر البحرية والسوق عبر إدارة السفينة من الداخل

(ب) عدد ثلاث أنواع فقط من المحاصيل التي يزرعها الكويتيون في دولة الكويت .

- الخضروات بجميع أنواعها
- الحبوب مثل القمح والشعير
- الأعلاف كالبرسيم

(ج) أذكر ثلاث عوامل ساعدت على ازدهار صناعة السفن في دولة الكويت قديماً .

- صوب الرياح الموسمية
- كواثر الأيدي العاملة
- طول الواجبة البحرية لدولة الكويت

THE PROFESSOR

SNAP:NWK

أ.صعق

SNAP:TFC

السؤال الرابع: صنفق / امتحان مقرر تاريخ دولة الكويت - للصف العاشر - نهاية الفترة الدراسية الأولى - للعام الدراسي ٢٠١٩ - ٢٠٢٠ م

(أ) دلل على صدق العبارات التالية:

١. تطور التعليم والصحة في عهد الشيخ مبارك الصباح.

التعليم: ... دبتشاً... المدرسة... العباد... سنة... ١٩١١

الصحة: ... ما... بسبب... أ... ١٩١١

أ... ١٩١١... ١٩١١... ١٩١١

٢. حرص حكام الكويت على اتخاذ قرارات ذات أبعاد اقتصادية ساعدت على النمو التجاري والاقتصادي للكويت.

• قلة الضرائب على المصنوع القادمة للكويت

• قيام التجار الكويتيين بدور الوسيطاء التجاريين

• احتضان الوكالات التجارية الأوروبية

THE PROFESSOR
SNAP:NWK

(ب) اكتب عن أهم أعمال الحاكم الثالث الشيخ جابر الأول بن عبدالله الصباح (١٨١٤م - ١٨٥٩م).

• عصا حدة العباسية على إعادة البهرة

• بناء السور الثاني

• وضع قاعدة محطة فحم ليرتلير في الكويت

THE PROFESSOR
SNAP:NWK

(ج) لاحظ الدائرة البيانية التي أمامك ثم أجب عما يليه من أسئلة:

١. استخراج حقيقة من الدائرة البيانية المقابلة.

سنة التأسيس من إجمالي سكان الكويت يبلغ

٢٨٪ حسب إحصاء سنة ١٩٩٠

٢. قلة عدد السكان " الوافدين " في دولة الكويت خلال عام ١٩٩٠ م.

١. حيا للبروفيسور العراقية إفا شيم للكويت

مؤازرة الوافدين إلى الكويت لهم



نسبة السكان في دولة الكويت عام ١٩٩٠ م

انتهت الأسئلة