



## ٢- التضاريس

### السؤال الأول : أكمل العبارات التالية بما يناسبها من كلمات :

- ١- ينحدر سطح دولة الكويت انحداراً تدريجياً من الغرب إلى الشرق باتجاه سواحل الخليج العربي .
- ٢- لا يزيد أعلى ارتفاع لسطح الأرض في دولة الكويت في المناطق الغربية عن ٣٠٠ متر فوق سطح البحر .
- ٣- توجد في شمال الكويت سلسلة تلال مثل حافة جال الزور و تلال كراع المرو و تلال اللياح .
- ٤- توجد في جنوب الكويت بعض التلال علي شكل قباب مثل منطقة وارة و منطقة برقان .
- ٥- تضم الكويت عدة أودية صحراوية جافة من أشهرها وادي الباطن .
- ٦- الحد الفاصل بين حدود الكويتية العراقية وادي يسمى وادي الباطن .
- ٧- يوجد بالكويت سهل يحتل مساحة كبيرة في غرب وجنوب الكويت يسمى سهل الدبدبة .
- ٨- أشهر السهول الموجودة في الكويت سهل يسمى سهل البوقان .
- ٩- يوجد سهل في الكويت يمتد من جون الكويت باتجاه الجنوب موازياً لخط الساحل يسمى سهل البرقان .
- ١٠- من أشهر السهول في الكويت سهل البرقان ويوجد به تلال وارة والبرقان و القرين .
- ١١- يوجد في شمال الكويت سهل تتحدر أرضه نحو الشرق والشمال الشرقي يسمى سهل الروضتين .

### السؤال الثاني : أمامك خريطة الكويت الطبيعية حدد عليها ما يلي :

- ١- تلال حافة جال الزور
- ٢- تلال كراع المرو
- ٣- تلال اللياح
- ٤- وادي الباطن
- ٥- سهل الدبدبة
- ٦- تل وارة
- ٧- تل البرقان
- ٨- تل القرين
- ٩- سهل الروضتين



### ٣- جزر الكويت

السؤال الأول : أكمل العبارات التالية بما يناسبها من كلمات :

- ١- تضم الكويت عشرة جزر أهمها وأكبرها جزيرة بوبيان.
- ٢- الجزيرة التي تمثل ٥% من مساحة الكويت تسمى جزيرة بوبيان.
- ٣- عدد الجزر الموجودة في الكويت ١٠ جزر.
- ٤- الجزر الكويتية غير مأهولة بالسكان ما عدا جزيرة تسمى جزيرة فيلكا.
- ٥- إحدى الجزر الكويتية شهدت تواجداً سكانياً سابقاً تسمى جزيرة فيلكا.
- ٦- أصبحت جزيرة فيلكا غير مأهولة بالسكان بعد الغزو العراقي البائد للكويت عام ١٩٩٠ م.

السؤال الثاني : أمامك خريطة الكويت الطبيعية حدد عليها أهم الجزر الكويتية :

- ١- جزيرة بوبيان .
- ٢- جزيرة وربة .
- ٣- جزيرة مسكان .
- ٤- جزيرة عوهة .
- ٥- جزيرة فيلكا .
- ٦- جزيرة أم النمل .
- ٧- جزيرة كبر .
- ٨- جزيرة قاروه .
- ٩- جزيرة أم المرادم .
- ١٠- جزيرة الشويخ ( عكاز ) .



## ٤- المناخ

### السؤال الأول : علل لما يأتي :

- ١- تتميز الكويت بمناخ قار جاف .  
بسبب الموقع الفلكي لدولة الكويت .
- ٢- تتميز الرياح الشمالية الغربية بالجفاف .  
بسبب المرتفع السيبيري المتمركز في شمال القارة الآسيوية .
- ٣- تتميز الرياح الجنوبية الشرقية بانها رطبة ودافئة .  
لأنها تتأثر بالمنخفض السوداني .
- ٤- ترتفع درجة الحرارة في الكويت في فصل الصيف .  
بسبب رياح السموم لأنها رياح ذات درجة حرارة عالية .
- ٥- سقوط المطر الشديد في أواخر الربيع وأوائل الصيف في الكويت .  
بسبب رياح السرايات .
- ٦- إثارة الغبار في أوائل الصيف في الكويت .  
بسبب رياح السرايات .

### السؤال الثاني : عدد مميزات مناخ دولة الكويت ؟

- ١- ارتفاع درجة الحرارة أكثر أيام السنة .
- ٢- وجود فصلين أساسيين ( الصيف والشتاء ) . وفصلين ثانويين ( الربيع والخريف ) .
- ٣- الصيف طويل حار جاف .
- ٤- الشتاء دافئ قصير ممطر أحياناً .
- ٥- تهب رياح مثيرة للغبار خلال أشهر الصيف .
- ٦- ترتفع نسبة الرطوبة خلال شهري ( أغسطس وسبتمبر ) .

**السؤال الثالث : قارن بين الفصول الأربع ( الصيف – الشتاء – الربيع – الخريف ) في دول الكويت ؟**

المميزات المناخية	الفصل
١- طويل حار . ٢- تتراوح درجة الحرارة ما بين ٤٢ إلى ٤٨ درجة مئوية وأحياناً تصل إلى ٥٠ درجة مئوية .	الصيف
١- دافئ قصير ممطر أحياناً . ٢- تصل درجة الحرارة إلى ١٨ درجة مئوية وقد تنخفض إلى الصفر المئوي	الشتاء
قصير معتدل	الربيع
ترتفع نسبة الرطوبة وتقل درجة الحرارة عن الصيف	الخريف

**السؤال الرابع : قارن بين الرياح في دولة الكويت من حيث آثارها المناخية :**

الرياح	المميزات وآثارها المناخية
الشمالية الغربية	١- تهب معظم أيام السنة . ٢- هي رياح جافة . ٣- لها أثر واضح في خفض درجة الحرارة في فصل الصيف وقارس البرودة في فصل الشتاء .
الجنوبية الشرقية ( الكوس )	١- تتميز بأنها رطبة دافئة . ٢- تسبب في رفع درجة الحرارة في فصل الصيف .
السموم	١- تتميز بانها رياح جافة جداً . ٢- تتميز بأنها ذات درجة حرارة عالية .
العواصف الترابية ( السرايات )	١- تثير الغبار في أواخر الربيع . ٢- تكون مصحوبة بعواصف رعدية . ٣- يطلق عليها السرايات

**السؤال الخامس : عرف المصطلحات التالية :**

**السرايات :** هي رياح تهب في أواخر الربيع وأوائل الصيف تكون مصحوبة بعواصف رعدية يسقط بسببها المطر .

## ٥- السكان

السؤال الأول : أكمل العبارات التالية بما يناسبها من كلمات :

١- يعود الوجود البشري في منطقة الكويت إلي أكثر من أربعة آلاف سنة قبل الميلاد .

٢- أول تعداد سكاني رسمي موثق أجرى في الكويت عام ١٩٥٧م.

٣- أول تعداد سكاني رسمي موثق أجرى في الكويت في عهد الأمير الراحل الشيخ عبد الله السالم الصباح.

٤- الجهة التي قامت بإجراء التعداد السكاني للكويت عام ١٩٥٧م هي دائرة الشؤون الاجتماعية.

٥- في عام ١٩٩٠ بلغ عدد سكان الكويت ٢ مليون نسمة منهم ٧٢% من غير الكويتيين ( الوافدين ) .

٦- في عام ١٩١٤ بلغ عدد سكان الكويت ٤ مليون نسمة وذلك في عهد الشيخ صباح الأحمد الصباح.

السؤال الثاني : علل لما يأتي :

١- قلة الوافدين في دولة الكويت بعد عام ١٩٩٠م .


بسبب احتلال النظام العراقي البائد للكويت وما تبع ذلك من هجرة كبيرة للوافدين من العرب وغيرهم .

السؤال الثالث : دلل على صحة العبارة التالية :

١- يعود الوجود البشري في منطقة الكويت إلي أكثر من أربعة آلاف سنة قبل الميلاد .

الدليل هو وجود الآثار الحضارية القديمة التي عثر عليها في مناطق مختلفة كجزيرة فيلكا و وارة وتلال القرين جنوب الوفرة وبرقان والصبية ( حضارة العبيد ) .

السؤال الرابع : أكمل الدائرة البيانية التالية بنسبة الوافدين وسكان الكويت عام ١٩٩٠ موضحاً نسبة كلاً منهم :



## الأنشطة الاقتصادية قديماً

السؤال الأول : أكمل العبارات التالية بما يناسبها من كلمات :

- ١- تميز النشاط الاقتصادي للمجتمع الكويتي القديم بالتنوع فجمع بين النشاط البري و**البحري**.
- ٢- الخليج العربي يقع في موقع متوسط من قارات العالم الثلاث آسيا وأفريقيا و **أوروبا**.
- ٣- المضيق الذي ربط بين خليج عُمان والخليج العرب يسمى **خليج هرمز**.
- ٤- يعتنق الخليج العربي أحد أذرع المحيط الهندي في **شبه الجزيرة العربية**.

السؤال الثاني : دلل ( علل ) على صحة العبارات التالية :

- ١- تأثر الكويتيون بالمجتمع الذي كانوا يعيشون فيه في فترة ما قبل اكتشاف النفط .  
تأثر المجتمع الكويتي في تلك الفترة بعنصرين أساسيين هما :  
العنصر الأول : **النشاط البحري** المتعلق بالصيد والغوص علي اللؤلؤ وصناعة السفن والتجارة البحرية  
العنصر الثاني : **النشاط المتعلق بالبادية** كالرعي والصيد .
- ٢- يعتبر الخليج العربي أحد أسباب الأهمية الاقتصادية لمنطقة الخليج العربي قديماً .  
أ- يقع الخليج العربي في موقع متوسط من قارات العالم القديم الثلاث ( آسيا و أفريقيا و أوروبا ) .  
ب- توفر الموارد الطبيعية البرية والبحرية ( التمر و اللؤلؤ ) .  
ج- توافر وسائل التجارة براً وبحراً للبلدان المحيطة .
- ٣- يتضمن النشاط البحري في الكويت قديماً علي العديد من النشاطات .  
أ- الصيد ب- الغوص علي اللؤلؤ ج- صناعة السفن د- التجارة البحرية
- ٤- يتضمن النشاط البري في الكويت قديماً علي العديد من النشاطات .  
أ- الرعي ب- الصيد
- ٥- يعد طريق الحرير أحد أهم الطرق التجارية .  
لأنه كان الأكثر استخداماً للتجارة الدولية في العالم القديم .

السؤال الثالث : أجب عن الأسئلة التالية :

- ١- عدد الأسباب التي أدت إلي ازدهار النشاط الاقتصادي في الكويت قديماً .

أ - بسبب الخليج العربي . ب- بسبب طريق الحرير . ج- بسبب النشاط البحري

٢- عدد مسارات طريق الحرير .

المسار الأول : شمالي وهو طريق الحرير البري ويبدأ من الصين منهيًا بأوروبا .

المسار الثاني : المسار الغربي وهو طريق الحرير البحري ويبدأ من أحد الموانئ الصينية ثم يلتف حول سواحل شبه القارة الهندية ليدخل البحار المحيطة بشبه الجزيرة العربية .

٣- عدد المسطحات المائية التي يمر بها طريق الحرير البحري .

أ- الخليج العربي ب- البحر الأحمر ج- البحر الأبيض المتوسط

السؤال الرابع : حدد على الخريطة الصماء

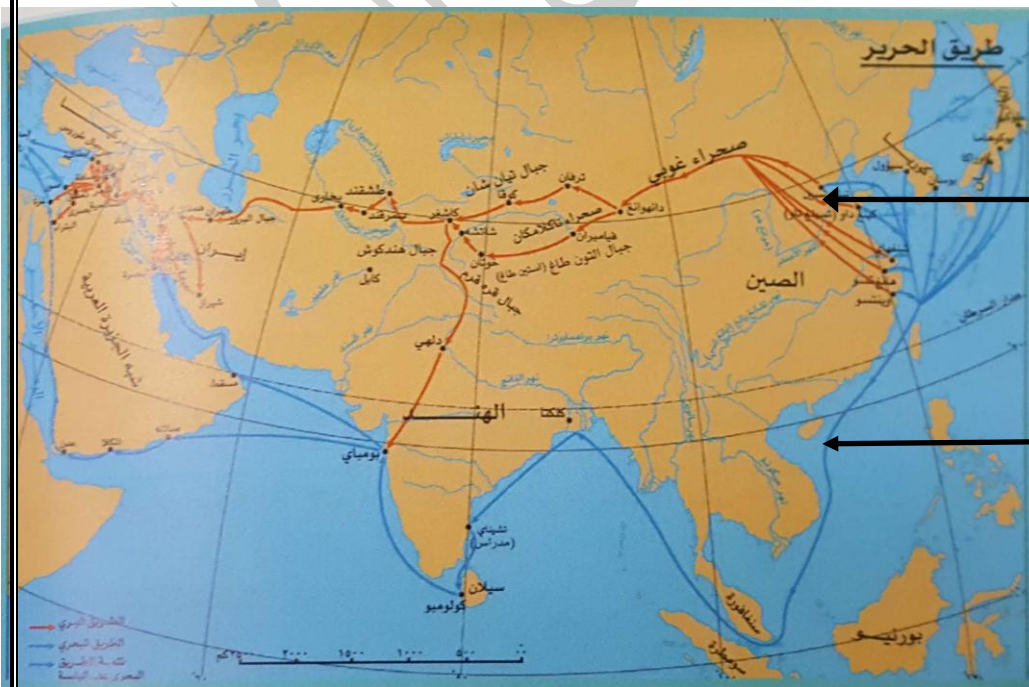
المقابلة ما يلي :

١- الخليج العربي .

٢- خليج عُمان .

٣- مضيق هرمز .

السؤال الخامس : لاحظ الخريطة المقابلة ثم حدد عليها ما يلي :



١- طريق الحرير البري .

٢- طريق الحرير البحري .



## أنواع الأنشطة الاقتصادية

### أولاً : النشاط البحري .

#### السؤال الأول : أكمل العبارات التالية بما يناسبها من كلمات :

- ١- من مصادر الدخل في الكويت قبل النفط الاشتغال بحرفة صيد الأسماك .
- ٢- من أنواع الأسماك الموجودة في مياه الخليج الزبيدي والهامور والصبور والنقرور والبياح والسبيطي
- ٣- من الأدوات المستخدمة في صيد الأسماك هي الشباك والقرقور .
- ٤- بداية موسم الغوص في الكويت قديماً يسمي الدشة .
- ٥- نهاية موسم الغوص في الكويت قديماً يسمي القفال .
- ٦- جال الأسطول الكويتي مياه الخليج العربي والمحيط الهندي والبحر الأحمر .
- ٧- ظلت حرفة البحث عن الؤلؤ حتى أوائل الخمسينيات من القرن العشرين .

#### السؤال الثاني : علل لما يأتي :

- ١- اتجاه سكان الكويت قديماً إلى العمل بالنشاط البحري .
  - أ- قوع الكويت في مناطق صحراوية قليلة الموارد شحيحة المطر .
  - ب لمرضها غير صالحة للزراعة .
- ٢- كساد تجارة الغوص علي الؤلؤ .

بسبب ظهور الؤلؤ الصناعي في عام ١٩٢٨ م .
- ٣- الكويت قديماً من المراكز التجارية المهمة .
  - أ- تميز الكويت بموقع جغرافي متميز .
  - ب- حلقة وصل بين الشرق والغرب .
  - ج- تعد الكويت نقطة ترانزيت ( إعادة تصدير الواردات ) .

#### ٤- للموقع الجغرافي دور في تطور صناعة السفن في الكويت قديماً .

أ- هبوب الرياح الموسمية علي منطقة الخليج العربي والتي ساعدت علي دفع السفن نحو شواطئ الهند وشرق آسيا .

ب- توفر الأيدي العاملة لصناعة السفن .

ج- تمتع الكويت بواجهة بحرية طويلة .

د- براعة الأساتذة والقلاليف .

#### ٤- يُعد حجم السوق الكويتي قديماً صغيراً للغاية .

أ- لأن الكويت تعد نقطة ترانزيت ( إعادة تصدير الواردات ) .

ب- عمل أهلها بصناعة السفن والغوص علي اللؤلؤ .

#### السؤال الثالث : أجب عما يأتي :

#### ١- عدد طرق الصيد في الكويت قديماً ؟

أ- الصيد بالشباك ب- الصيد بالحظور ج- الصيد بالقرقور د- الحداق بالسنارة

هـ- الصيد بالاضاءة ( القمبار ) .

#### ٢- عدد أنواع السفن التي كانت تستعمل في الصيد في الكويت قديماً ؟

أ- الشوعي ب- الهوري ج- الجالبوت د- البغلة هـ- البوم و- البتيل ن- البقارة

#### ٣- عدد أماكن الصيد في الكويت ؟

أ- فيلكا ب- وربة ج- خور الزبير د- مساكن هـ- كاظمة و- الصبية ن- رأس الزور

#### ٤- عدد العوامل التي أدت إلي ازدهار صناعة السفن في الكويت قديماً ؟

أ- هبوب الرياح الموسمية علي منطقة الخليج العربي والتي ساعدت علي دفع السفن نحو شواطئ الهند وشرق آسيا .

ب توفر الأيدي العاملة لصناعة السفن .

ج- تمتع الكويت بواجهة بحرية طويلة .

د- براعة الأساتذة والقلاليف .

هـ- توفر مصادر المواد المستخدمة في صناعة السفن .

٥- عدد العاملون في حرفة الغوص ؟

التباب - الرضيف - النوخذة - الجدعي - المجدمي - الغيص - النهام - الطواش - السيب - العزال

السؤال الرابع : عرف المفاهيم التالية :

١- الأستاذ في صناعة السفن : هو الشخص الذي يقوم بتصميم السفينة .

٢- القلاب : وهو الشخص الذي يقوم بعملية إعداد المواد اللازمة للصناعة السفن .

٣- الدفشة : هي بداية موسم الغوص ويكون في بداية الصيف .

٤- القفال : هو نهاية موسم الغوص .

٥- موسم السفر : هو الموسم الرئيسي الذي تزاوّل به التجارة .

٦- الهيرات : هو المحار المحتوي علي اللؤلؤ .

السؤال الخامس : دال على اعتزاز الكويت بترائها البحري .

١- اتخذت صورة سفينة البوم الكويتي لتكون شعاراً للدولة والعملة الوطنية .

٢- انتشار الصور بمؤسسات الدولة والتي تعبر علي عمق ارتباط الكويت وشعبها بترائها البحري .

السؤال السادس : ما الذي يحدث عندما ينتهي موسم الغوص في الكويت قديماً .

تتجه المئات من السفن الشراعية إلي الأماكن التي تكثر فيها منابت المحار المحتوي علي اللؤلؤ ( الهيرات ) ويقوم بحارتها بالغطس لجمع المحار من قاع الخليج العربي .

السؤال السابع : ما مدى تأثير حرفة الغوص على أهل الكويت ؟

١- تقوية العلاقات بين السكان .

٢- الاحترام المتبادل وتكوين الأسرة الواحدة .

٣- التعاون بين المجتمع .

٤- الالتزام والطاعة .

## ثانياً : النشاط البري

### السؤال الأول : أكمل العبارات التالية بما يناسبها من كلمات :

- ١- ترتبط عملية الرعي في الكويت بشكل أساسي بموسم سقوط الأمطار .
- ٢- يبدأ موسم المطر في الكويت في شهر أكتوبر ويستمر حتى أواخر شهر أبريل .
- ٣- استخدم الكويتيون قديماً أنواعاً من الأشجار كمصدات للرياح مثل أشجار الإثل .

### السؤال الثاني : علل لما يأتي :

١- قلة الزراعة في الكويت .

أ- قلة المياه .

ب- ارتفاع درجة الحرارة .

ج- عدم خصوبة التربة .

[WWW.KweduFiles.Com](http://WWW.KweduFiles.Com)

### السؤال الثالث: رغم الصعوبات في مناخ الكويت إلا أن الكويتيون استطاعوا التكيف مع البيئة المحيطة

بهم . وضح ذلك ؟

١- قاموا بزراعة النباتات التي تتلاءم مع البيئة .

٢- استخدموا مياه الآبار .

### السؤال الرابع : أجب عما يأتي :

١- عدد أهم المناطق الزراعية في الكويت قديماً .

الدمنة ( السالمية ) - الفحيحيل - المنقف - الفنتاس - أبو حليفة - الشعبية - الجهراء

٢- عدد أم المحاصيل التي تزرع في الكويت قديماً .

أ- الخضروات      ب- الحبوب      ج- القمح      د- الشعير

هـ- الأعلاف كالبرسيم      و- الإبل      ز- السدر

## ثالثاً : الحرف اليدوية .

السؤال الأول : من خلال الجدول التالي قارن بين الحرف اليدوية في الكويت قديماً من حيث دور العاملون فيها .

الحرفة	دور العاملون فيها
أ - النجارة	كان النجار يستخدم الأخشاب المستوردة من الهند وإفريقيا لصناعة : الأبواب والنوافذ والتخوت وحواجز الباسجيل والشداخة السحارة وكروسي البرمة والمرازيم وبعض الألعاب كالنباطة والدوامة .
ب الحدادة	١- يقوم الحدادون بصناعة المسامير اللازمة لصناعة السفن قديماً . ٢- صناعة الأدوات المستخدمة في البناء والزراعة . ٣- صناعة الصخين والهييب والمنقاش والسكاكين والسلاسل والدوه .
ج- الصفارة	هي حرفة يدوية يقوم العاملون فيها بصنع وتلميع القدوة المستخدمة في الطبخ والمصنوعة من النحاس والأواني المنزلية
د- التناك	١- يقوم العاملون بهذه الحرفة باستخدام الصفيح المعدني لصنع المحقان والدوه والتناك وعلبة الجاز والعلب وأعطيتها . ٢- يطلق علي العامل بها اسم التناك
هـ- القفاص	١- يستخدم العاملون بها جريد النخيل حيث يشبك بعضه ببعض . ٢- يقوم العامل في هذه الحرفة بصنع أشكال مختلفة من الأقفاص والمنز والأسرة للكبار والرك . ٣- يسمى العامل بها القفاص
و- الحياكة	يقوم الحياك بخياطة الملابس والبشوت
ز- الندافة	يقوم النداف بتنجيد وصناعة المساند والفرش مستخدماً القطن .
ح- غزل السدو	١- إحدى الحرف التي تزاولها المرأة في البادية هي حياكة الصوف . ٢- ويعد أهم مكونات بيت الشعر الذي يسكنه أهل البادية . ٣- ومن الصناعات التي تتعلق بالسدو صناعة العدول والمزواد والمفروشات والسجاد والعباءات النسائية والبشوت الرجالية .

السؤال الثاني : عرف المصطلحات التالية :

- ١- الشداخة : هي التي تستخدم لصيد الفئران .
- ٢- المرزيم : هي التي تصنع من ألواح الخشب أو الصفيح لتصريف مياه الأمطار .
- ٣- الصخين : هي أداة تستخدم للحفر .
- ٤- المنز : هو السرير الذي ينام عليه الطفل قديماً .
- ٥- الرك : هو صندوق له فتحة من الأعلى لوضع بعض المأكولات به كالعنب الرطب والرمان .
- ٦- الحياك : هو الذي يقوم بخياطة الملابس والبشوت
- ٧- الندافة : يقوم النداف بتجديد وصناعة المساند والفرش مستخدماً القطن .
- ٨- العدول ( العدل ) : هي عبارة عن أكياس كبيرة لحفظ بعض أنواع الطعام وتوضع علي ظهر الدابة
- ٩- المزواد ( المزودة ) : هي عبارة عن أكياس متوسطة لحفظ الطعام والملابس .

## المعالم الحضارية لدولة الكويت

### السؤال الأول : أكمل العبارات التالية بما يناسبها من كلمات :

- ١- منطقة الكويت تعد قيمة أثرية كبيرة ويرجع تاريخ أقدم الحفريات الجيولوجية بها إلي الفترة ما بين ١٥ و ٢٠ مليون سنة تسمى الصبية ( حضارة العبيد ).
  - ٢- أقدم الحفريات الجيولوجية الموجودة بالكويت بالفترة ما بين ١٥ و ٢٠ سنة.
  - ٣- رصدت للإنسان القديم في الكويت آثاره في كل من واره و القرين و تل الصليبخات.
  - ٤- عثر علي أكثر من ٤٠٠ ختم دلموني في جزيرة فيلكا والتي تستخدم كختم تجاري .
  - ٥- المعركة التي وقعت بين المسلمين والفرس عام ١٢ هجرية ٦٣٣م تسمى معركة ذات السلاسل.
  - ٦- حدثت معركة ذات السلاسل في الكويت في منطقة تسمى كاظمة.
  - ٧- المعركة التي كانت سبباً في دخول الإسلام بلاد الرافدين وإيران هي معركة ذات السلاسل.
- ### السؤال الثاني : دلل على صحة العبارة السابقة .

- تحتضن منطقة الصبية مئات المواقع الأثرية التي برهنت علي وجود حضارة العبيد القديمة مستقلة عن حضارة بلاد الرافدين .
- أ- العثور علي أقدم القري السكنية في بحرة وطبيج شمال الصبية .
  - ب- العثور علي آبار المياه القديمة في المنطقة . ج- العثور علي جرار فخارية .
  - د- العثور علي الرحي الحجرية التي تستخدم في طحن الغلال .

### السؤال الثالث : أجب عن الأسئلة التالية :

- ١- عدد المناطق التي رصد فيها آثار للإنسان القديم في الكويت .  
واره - القرين - سهل البرقان - تل الصليبخات - كاظمة - الصبية
- ٢- عدد أهم الاكتشافات الأثرية في منطقة أم النمل .  
أ- قبر علي ساحل الجزيرة .  
ب- تمثال من الطين المحروق .  
ج- مذبح من الحجر الرملي مربع الشكل .
- ٣- عدد أهم الاكتشافات الأثرية في منطقة فيلكا .  
أ- الأختام المستديرة والتي تحمل نقوشاً تعبر عن أساطير قديمة .

ب- صور حيوانات أسطورية . ج- اكتشاف كنيستين متجاورتين

### الفصل الثاني : نشأة الكويت

#### نشأة الكويت وتأسيسها ١٦١٣م

السؤال الأول : أكمل العبارات التالية بما يناسبها من كلمات :

- ١- تأسست الكويت في الجزء الشمالي الغربي في عام ١٦١٣ م.
- ٢- حاكم الكويت السابع هو الشيخ مبارك الصباح.
- ٣- بدأت جماعات العتوب في التوافد من موطنها الأصلي بمنطقة الهدار بنجد.
- ٤- لمؤرخ الكويت عبد العزيز الرشيد كتاب يسمى تاريخ الكويت.
- ٥- الحاكم الأول لدولة الكويت يسمى صباح الأول.
- ٦- كلمة " كويت " تصغير لكلمة " كوت " .
- ٧- كلمة " كوت " تعنى القلعة أو الحصن .
- ٨- أصل كلمة العتوب يرجع إلي الفعل عتب ومعناه الإكثار من الترحال .
- ٩- محطة الاستقرار الأولى للعتوب هي دولة قطر .

السؤال الثالث : علل لما يأتي :

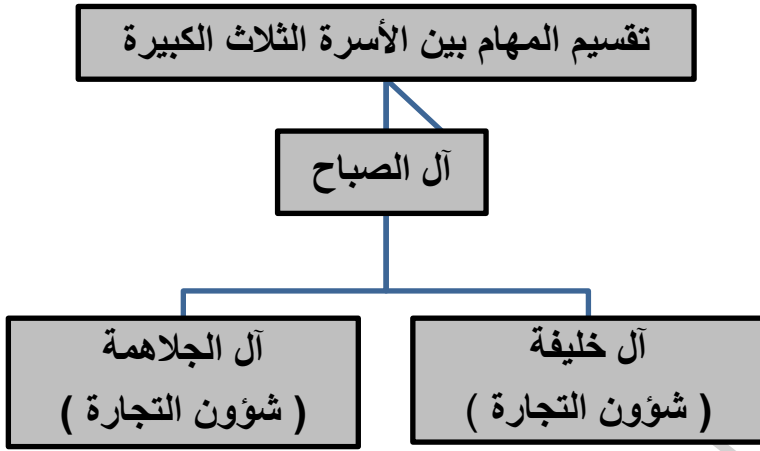
- ١- شكلت قطر محطة الاستقرار الأولى بالنسبة للعتوب .  
بسبب القحط الذي أصاب مناطقهم الأصلية .
- ٢- هجرة العتوب من قطر .  
بسبب الخلاف الذي بين العتوب وآل مسلم حكام قطر .
- ٣- اختيار الشيخ صباح الأول لحكم الكويت .  
أ- لسماته الشخصية من شجاعة وحكمة .





#### ٤- وضح تقسيم المهام بين

#### الأسر الثلاث الكبيرة في الكويت



#### ٥- عدد مراحل استقرار الحكم لآل الصباح بعد عملية التأسيس؟

المرحلة الأولى	المرحلة الثانية	المرحلة الثالثة
الهجرة من نجد مع بقية الأسرة للكويت والإقامة فيها	التوزيع الثلاثي وتوزيع المهام	اختيار آل الصباح للحكم وانتهاء التحالف الثلاثي بعد رحيل آل خليفة والجلاهمة

#### ٦- من هم قبيلة بني خالد؟

هي قبيلة امتد نفوذها من قطر جنوباً حتى البصرة شمالاً بمحاذاة ساحل الخليج العربي .

#### ٧- وضح كيف استطاعت قبيلة بني خالد أن تعطي الكويت الأمن والحماية .

استطاعت قبيلة بني خالد أن تحمي الكويت بفضل نفوذها القوي في المنطقة من التهديدات والأخطار لمختلف القوي الإقليمية التي كانت موجودة من قبل خصوصاً الصراع بين العثمانيين وبني خالد من جهة و بني خالد والسعوديين من جهة أخرى .

## حكام دولة الكويت

### السؤال الأول : أكمل العبارات التالية بما يناسبها من كلمات :

- ١- أول حاكم للكويت في الفترة بين ١٧٥٢ – ١٧٦٣م هو الشيخ صباح الأول بن جابر .
- ٢- امتدت تجارة الكويت في عهد الشيخ عبد الله بن صباح بن جابر إلي الهند واليمن وشرق أفريقيا والعراق .
- ٣- التسهيلات التي كانت تمنح لتجار البادية تسمى تجارة المسابلة

### السؤال الثاني : أجب عما يأتي :

- ١- عدد الأعمال التي قام بها الشيخ صباح الأول بن جابر .

أ- عمل علي توطيد الأمن ونشر العدل .

ب- تنظيم أمور السكان .

ج- ترسيخ أنشطة الكويت التجارية .

- ٢- اذكر أهم الحوادث في زمن الشيخ عبد الله الأول بن جابر .

أ- معركة الرقة ( بين الكويت وبني كعب ) عام ١٧٨٣م .

ب- بناء سور الكويت الأول عام ١٨١١م .

٣- حدد علي الخريطة التي أمامك موقع معركة الرقة .

- ٤- عدد صفات الشيخ جابر الأول بن عبد الله الصباح ( ١٨١٤ - ١٨٥٩ ) .

هدوء الطبع – حبه لشعبه – اشتهر بجابر العيش لكرمه .



شكل رقم (١٨) يوضح: خريطة الكويت وموقع معركة الرقة.

٥- عدد أهم الأحداث في عهد الشيخ صباح الثاني بن جابر .

أ- حاول أن يفرض رسوماً علي البضائع ولكن رفض التجار .

ب- زيارة المعتمد البريطاني في الخليج لويس بيلى للكويت في عام ١٨٦٥م .

٦- عدد أهم الأحداث في عهد الشيخ عبد الله بن صباح الثاني .

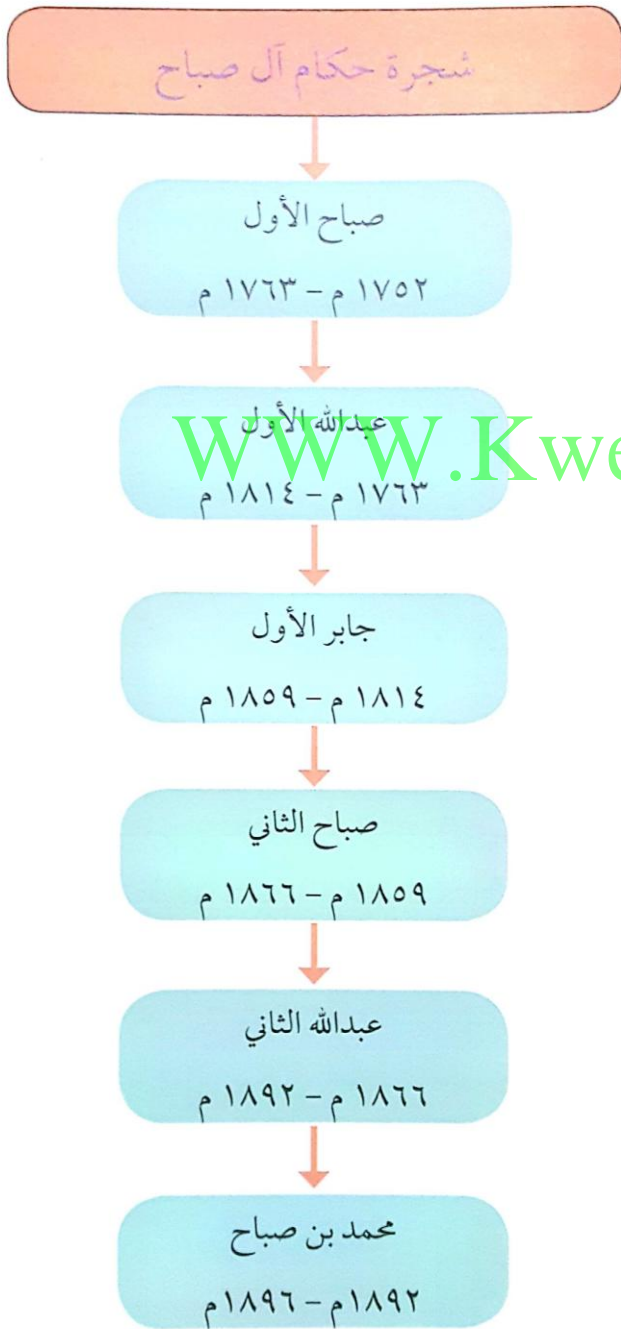
مساعدة العثمانيين في حملتهم ( حملة مدحت باشا )  
( علي إقليم الإحساء .

٧- عدد أهم الأحداث في عهد الشيخ محمد بن صباح .

ترحيبه وتسهيله لاستقرار أسرة الأمير عبد

الرحمن آل سعود والد مؤسس الدولة السعودية  
الثالثة ( الملك عبد العزيز آل سعود ) في الكويت  
عام ١٨٩١ م .

٨- أكمل المخطط السهمي التالي :



شكل رقم (١٩) يوضح: شجرة حكام آل صباح حتى عام ١٨٩٦م

٩- عدد العوامل التي ساعدت علي نمو وازدهار الكويت تحت حكم آل الصباح ؟

أ- موقع الكويت الاستراتيجي .

ب- طبيعة نظام الحكم المعتمد علي العدل والشورى والأمن .

ج- وجود علاقات متوازنة مع القوى المجاورة .

د- التسهيلات التي كانت تمنح لتجار البادية وتسمى تجارة المسابلة

هـ- النظام الاقتصادي وتوزيع المهام ما بين الغوص ونقل التمور وتجارة البادية .

و- الصفات التي تميز بها أهل الكويت من التسامح علي الآخرين .

**السؤال الثالث : علل لما يأتي :**

١- تولي الشيخ عبد الله بن صباح بن جابر الحكم بعد وفاة والده رغم أنه أصغر أبنائه .

لأنه يتمتع بسيرة حسنة ونباهة وحزم ومحبا للعدل

**السؤال الرابع : دلل علي صحة العبارة التالية :**

حرص حكام لكويت علي اتخاذ قرارات ذات أبعاد اقتصادية ساعدت علي النمو التجاري والاقتصادي للكويت .

١- قلة الضرائب علي البضائع القادمة للكويت .

٢- تشجيع بناء سفن الغوص وتأمين طرق التجارة المارة عبر أراضيها .

٣- اجتذاب الوكالات التجارية التابعة للشركات الأوروبية العاملة في الخليج .

٤- لعب التجار الكويتيون دور الوسيطاء التجاريين مما ساعد علي بناء علاقات تجارية بين الكويت ومناطق دول الجوار .

## الكشوف الجغرافية والتنافس الاستعماري

### السؤال الأول : أكمل العبارات التالية بما يناسبها من كلمات :

- ١- أسوء النظم الاستعمارية في منطقة الخليج العربي هو الاستعمار البرتغالي .
- ٢- أول دولة استعمارية في منطقة الخليج العربي هي البرتغال .
- ٣- الدولة الخليجية التي ظهرت فيها قوة اليعاربة هي عمان .
- ٤- العام الذي اتجهت فيه حملة مدحت باشا للسيطرة علي إقليم الاحساء ١٨٧١م .
- ٥- أول أسطول هولندي إلي آسيا كانت عام ١٥٩٥م .
- ٦- اتخذ الهولنديون ميناء بندر عباس مركزاً تجارياً لهم .

### السؤال الثاني : علل لما يأتي: WWW.KweduFiles.Com

- ١- يعتبر الاستعمار البرتغالي أسوء النظم البرتغالية في الخليج العربي .
  - أ- تدمير البرتغاليين للقاعدة الاقتصادية لمنطقة الخليج ودويلاتها .
  - ب- احتلال المدن والقرى بطريقة وحشية .
- ٢- تعرض التواجد البرتغالي في الخليج العربي للانهايار التدريجي .
  - أ- المنافسة التجارية بين البرتغاليين والهولنديين والبريطانيين .
  - ب- جهود اليعاربة في عمان التي ساهمت في الوجود البرتغالي في الخليج .
  - ج- وقوع البرتغال نفسها تحت الاحتلال الأسباني .
- ٣- أهمية اليعاربة في منطقة الخليج العربي في أواخر القرن السادس عشر .

لأنهم ساهموا في تصفية الوجود البرتغالي في الخليج العربي وطردهم من المنطقة .
- ٤- تميزت سياسة البريطانيين بالاهتمام بمنطقة الخليج العربي .
  - أ- طريق حيوي لحماية إمبراطوريتهم في الهند .

## الكويت وبريطانيا

### الكويت والعثمانيون

السؤال الأول : أكمل العبارات التالية بما يناسبها من كلمات :

- ١- الاتفاقية التي بموجبها أصبحت الكويت تحت الحماية البريطانية كانت عام ١٨٩٩م .
- ٢- ساعدت الكويت الدولة العثمانية في حملة مدحت باشا عام ١٨٧١م .

السؤال الثاني : علل لما يأتي :

### ١- نقل البريطانيين مركز البريد من العراق إلى الكويت .

- بسبب الصراع بين الدولة الفارسية والدولة العثمانية .
- ٢- أهمية الكويت بالنسبة لبريطانيا في نهاية القرن الثامن عشر .
  - أ- أسس البريطانيون مراكز تجارية لهم في الكويت .
  - ب- إنشاء مركز للبريد لهم في الكويت .
  - ج- اتخاذ الكويت مقراً مؤقتاً لهم في ما بين ١٧٩٣م - ١٧٩٥م .
- ٣- اتجاه حملة مدحت باشا عام ١٨٧١م إلى إقليم الإحساء .

لإعادة سيطرتها على إقليم الإحساء .

السؤال الثالث : " استصدر مدحت باشا والي بغداد العثماني فرماناً ( قراراً ) تناول فيه بعض الجوانب التي تتعلق بوضعية الكويت حيث حدد الفرمان علاقة الكويت بالدولة العثمانية طبقاً لبعض الأسس "

من خلال الفقرة السابقة دلل على أن الكويت مستقلة عن الدولة العثمانية ؟

أو أذكر بنود الفرمان العثماني الذي أصدره مدحت باشا والذي حدد فيه علاقة الكويت بالدولة العثمانية ؟

- ١- شيخ الكويت مستقل في شؤونه الداخلية .
- ٢- منح شيخ الكويت لقب قائم مقام .
- ٣- أهالي الكويت لا يلتزمون بدفع رسوم أو ضرائب للهاب العالي .
- ٤- إلزام السفن الكويتية برفع العلم العثماني مع إعفاء السفن الكويتية من دفع رسوم .