

تم تحميل هذا الملف من موقع المناهج الكويتية



الملف بنك الأسئلة لمقرر دولة الكويت والعالم الإسلامي

[موقع المناهج](#) ← [المناهج الكويتية](#) ← [الصف الثامن](#) ← [اجتماعيات](#) ← [الفصل الأول](#)

روابط مواقع التواصل الاجتماعي بحسب الصف الثامن



روابط مواد الصف الثامن على تلغرام

[الرياضيات](#)


[اللغة الانجليزية](#)

[اللغة العربية](#)

[التربية الاسلامية](#)

المزيد من الملفات بحسب الصف الثامن والمادة اجتماعيات في الفصل الأول

<a href="#">مسودة كتاب الطالب في مادة الاجتماعيات لعام 2018</a>	1
<a href="#">خطة توزيع منهج العام الجديد في مادة الاجتماعيات</a>	2
<a href="#">حل الوحدة الاولى في مادة الاجتماعيات</a>	3
<a href="#">ورقة عمل في مادة الاجتماعيات</a>	4
<a href="#">ورقة عمل في مادة الاجتماعيات</a>	5



وزارة التربية  
التوجيه الفني العام للاجتماعيات

بنك الأسئلة لا تقني عن الكتاب المدرسي

بنك الأسئلة  
لمقرر  
دولة الكويت والعالم الإسلامي  
للسف الثامن  
الفصل الدراسي الأول  
العام الدراسي ٢٠٢٤ / ٢٠٢٥ م

إشراف  
الموجه الفني الأول  
أ.محمود التراكمة

إعداد  
الموجهة الفنية  
أ.غدير الجيران

إشراف عام  
الموجه العام للاجتماعيات بالإنبابة  
أ.محمد علي العتيبي

محمد علي العتيبي  
الموجه الفني العام للاجتماعيات بالإنبابة

الموجهة الفنية أ. غدير الجيران



وزارة

التوجيه الفني العام للاجتماعيات

## الوحدة الأولى

## أكمل العبارات التالية بما يناسبها :

- ١- قامت الدولة الإسلامية في المدينة المنورة على يد سيدنا محمد صلى الله عليه وسلم في القرن **الثامن** الميلادي ص ١٧
- ٢- كل ما يطرأ على المجتمع من تقدم وتطور ورقي سواء في الجانب المادي أو الجانب الروحي يسمى **الحضارة** ص ١٨
- ٣- عالم مسلم أشهر مؤلفاته كتاب ( الصيدلة في الطب ) اسمه **البيروني** ص ١٨
- ٤- العالم المسلم الذي اكتشف معادلة ( نصف القطر ) اسمه **البيروني** ص ١٩
- ٥- تميزت الحضارة الإسلامية بالطابع **الإنساني** ص ٢٢
- ٦- تنسب مقولة " لم يعرف التاريخ أمة أرحم من العرب المسلمين والرحمة والعدل متلازمان " إلى المفكر الفرنسي **غوستاف لوبون** ص ٢٢
- ٧- الشيخ الذي لقب ( بقائد العمل الإنساني ) اسمه **صباح الأحمد الصباح** ص ٢٤
- ٨- العام الذي لقب فيه الشيخ صباح الأحمد الصباح رحمه الله بأمير الإنسانية هو **٢٠١٤** م ص ٢٤ ص ٨٢
- ٩- منصب إداري جديد ظهر في عهد الخليفة عمر بن الخطاب رضي الله عنه يسمى **المحتسب** ص ٢٥
- ١٠- العام الذي توفي فيه الرسول صلى الله عليه وسلم هو **١١ هـ** ص ٢٥
- ١١- منصب إداري جديد ظهر بعد وفاة الرسول صلى الله عليه وسلم يسمى **الخليفة** ص ٢٥
- ١٢- رابع الخلفاء الراشدين اسمه **علي بن أبي طالب** رضي الله عنه ص ٢٦
- ١٣- اهتمت الحضارة الإسلامية بالزراعة بإنشاء ديوان **الماء** ص ٢٧
- ١٤- انشئ ديوان الماء في مدينة **مرو** ص ٢٧
- ١٥- صناعات خشبية ذات طراز مميز برع فيها العرب تسمى **الأرابيسك** ص ٢٧
- ١٦- أول الخلفاء الراشدين اسمه **أبو بكر الصديق** رضي الله عنه ص ٢٥

- ١٧- يدفعه أهل الذمة ( اليهود والنصارى ) من القادرين على حمل السلاح نظير حماية الدولة لهم يسمى **الجزية** ص ٢٩
- ١٨- كل ما يفرض على الأراضي الزراعية يسمى **الخراج** ص ٢٨
- ١٩- ركن من أركان الإسلام يخرجها المسلمون الأغنياء للمستحقين من الفقراء تسمى **الزكاة** ص ٢٨
- ٢٠- صدقة جارية يوقفها المرء في حياته لوجوه الخير فيستمر في أجرها ونفعها ما دامت باقية تسمى **الوقف الإسلامي** ص ٢٩
- ٢١- يطلق على (اليهود والنصارى) الذين ظلوا على دينهم مع دفع الجزية اسم **أهل الذمة** ص ٣٦
- ٢٢- مجموعة من مكعبات الزجاج الملون والشفاف وقطع من الحجر الأسود يستخدم في الطراز المعماري ويعكس جمال التصميم الأندلسي يسمى **الفسيفساء** ص ٣٠
- ٢٣- أنشئ خلال شهرين من الهجرة ليكون مركزاً دينياً وسياسياً وثقافياً للدولة الإسلامية الجديدة يسمى **المسجد النبوي** ص ٣٣
- ٢٤- أحد أكبر المساجد في العالم وأكثرها قدسية للمسلمين وأول القبلتين في الإسلام يسمى **المسجد الأقصى المبارك** ص ٣٣
- ٢٥- أحد القصور بناه الخليفة الأموي "معاوية بن أبي سفيان" ويقع في دمشق يسمى **قصر الخضراء** ص ٣٤
- ٢٦- الخليفة الذي بنى " قصر عمره " اسمه **يزيد بن الوليد** ص ٣٤
- ٢٧- القصر الذي بناه " هشام بن عبد الملك " ويقع في سوريا يسمى **قصر الرصافة** ص ٣٥
- ٢٨- القصر الذي يعتبر نموذجاً مميزاً للعمارة الإسلامية ويقع في مدينة غرناطة بالأندلس يسمى **قصر الحمراء** ص ٣٥
- ٢٩- المجالس التي تميز بها المجتمع الإسلامي بسماع القصص والحكايات تسمى **القصص والوعاظ** ص ٣٦
- ٣٠- ترجمة الكتب القديمة اليونانية والهندية والفارسية تسمى **التعريب** ص ٣٧
- ٣١- يقع المسجد الحرام في مدينة **مكة المكرمة** ص ٣٨

- ٣٢- يقع المسجد النبوي في **المدينة المنورة** ص ٣٨
- ٣٣- يقع بيت الحكمة في مدينة **بغداد** ص ٣٨
- ٣٤- يعتبر مجمع ( باي كاليان ) أحد المراكز العلمية للحضارة الإسلامية ويقع في مدينة **بخارى** ص ٣٨
- ٣٥- عالم مسلم ألف ٣٥٠ كتاباً أهمها " كتاب الحيوان " اسمه **الجاحظ** ص ٤٠
- ٣٦- الحركة التي كان لها دور بارز في نقل الحضارة الإسلامية إلى أوروبا تسمى **حركة الترجمة** ص ٤٢
- ٣٧- كتاب ( في الهندسة ) أهم مؤلفات العالم الفيلسوف **الكندي** ص ٤٢
- ٣٨- العالم الإنجليزي الذي تأثر في كتابة مؤلفات الكندي " كتاب في الهندسة " اسمه **روجر بيكون** ص ٤٢
- ٣٩- ينسب كتاب ( نزهة المشتاق في اختراق الآفاق ) للعالم **الشريف الإدريسي** ص ٤٢
- ٤٠- الطريقة التي استفاد منها الأوروبيون من المسلمون في نقل الرسائل جواً تسمى **طريق الحمام** **الزاجل** ص ٤٣
- ٤١- العالم الذي يؤمن بكروية الأرض ورسم الخريطة اسمه **الإدريسي** ص ٤٣

## ملاحظات

.....

.....

.....

.....

## الوحدة الثانية

### أكمل العبارات التالية بما يناسبها :

- ١- عدد الدول الإسلامية في قارة آسيا **٢٧** دولة ص ٥١
- ٢- عدد الدول الإسلامية في قارة إفريقيا **٢٦** دولة ص ٥١
- ٣- الدول الإسلامية في قارة ( أوروبا ) هي ( البوسنة والهرسك ) وأخرى تسمى **ألبانيا** ص ٥١
- ٤- تضم قارة أمريكا الجنوبية دولة إسلامية واحدة تسمى **سورينام** ص ٥١
- ٥- تبلغ مساحة العالم الإسلامي حوالي **٣٢ مليون كم مربع** . ص ٥١
- ٦- يقع العالم الإسلامي بين خطي طول ١٨ غرباً إلى **١٤١** شرقاً ص ٥٢
- ٧- يقع العالم الإسلامي بين دائرتي عرض ١٣ جنوب خط الإستواء إلى **٥٥** شمال خط الاستواء ص ٥٢
- ٨- أكبر الدول الإسلامية من حيث المساحة تسمى **كازاخستان** ص ٥٢
- ٩- أصغر دول العالم الإسلامي مساحة هي جمهورية **المالديف** ص ٥٢
- ١٠- تُعرف أشكال السطح باسم **التضاريس** ص ٥٣
- ١١- أجزاء فسيحة من سطح الأرض تتميز باستوائها وقلّة ارتفاعها تسمى **السهول** ص ٥٣
- ١٢- حوض أو منخفض طبيعي على سطح الأرض يسمى **الوادي** ص ٥٣
- ١٣- أرض مرتفعة سطحها مستوٍ وتمتد لمساحة واسعة تسمى **الهضبة** ص ٥٣
- ١٤- يشبه الجبل لكن ارتفاعه أقل من ١٠٠٠ متر **التل** ص ٥٣
- ١٥- كل قمة لا يقل ارتفاعها عن ١٠٠٠ متر تقريباً تسمى **الجبل** ص ٥٣
- ١٦- أرض مرتفعة سطحها مستوٍ وتمتد في مساحة واسعة تسمى **الهضبة** ص ٥٦
- ١٧- أكبر الهضاب في العالم تمتد من ساحل المحيط الأطلسي غرباً إلى مرتفعات البحر الأحمر شرقاً تسمى **هضبة الصحراء الكبرى** ص ٥٧
- ١٨- إقليم مناخي حار ممطر طوال العام يسمى **المناخ الاستوائي** ص ٦٤

- ١٩- إقليم مُناخي حار ممطر صيفاً يسمى **المُنَاخ الموسمي** ص ٦٤
- ٢٠- إقليم مُناخي أمطاره صيفية تقل عن الإقليم الموسمي يسمى المُنَاخ المداري ص ٦٤
- ٢١- إقليم مُناخي دافئ ممطر شتاءً وحار صيفاً يسمى **المُنَاخ المعتدل** ص ٦٥
- ٢٢- إقليم مُناخي صحراوي حار يسمى **المُنَاخ القاري** ص ٦٥
- ٢٣- حالة الجو خلال فترة زمنية طويلة يسمى **المُنَاخ** ص ٦٤
- ٢٤- حالة الجو في مكان لمدة قصيرة تتراوح بين يوم أو عدة أيام تسمى **الطقس** ص ٦٤
- ٢٥- مساحة من الأرض تتصف بعناصر مُناخية متشابهة تسمى **الإقليم المُناخي** ص ٦٥
- ٢٦- ينتج العالم الإسلامي من النفط الخام حوالي **٤١,٥٪** ص ٦٧
- ٢٧- تقع دولة الكويت ضمن الإقليم المُناخي **الصحراوي** ص ٦٦
- ٢٨- أولى الدول الإسلامية في إنتاج معدن اليورانيوم تسمى **كازاخستان** ص ٧٠
- ٢٩- يبلغ إنتاج العالم الإسلامي من الحبوب حوالي **١٤٪** ص ٧٢
- ٣٠- المحاصيل التي تُزرع من أجل التصدير تسمى **الغلات النقدية** ص ٧٣
- ٣١- نبات ينمو في المناطق الاستوائية والموسمية تُؤخذ أغصانه وتوضع تحت الماء وتطمر بالطين وبعد أيام تستخرج وتغزل ويصنع منها الحبال والأحذية تسمى **الجوت** ص ٧٣
- ٣٢- الدولة التي احتلت المركز الثاني على مستوى العالم في الإنتاج البحري عام ٢٠١٤ م تسمى **إندونيسيا** ص ٧٤

## ملاحظات

.....

.....

.....





ملاحظات

.....

.....


.....

.....





أكمل  
 المناصب  
 الإدارية  
 التي ظهرت  
 مع اتساع  
 الدولة  
 الإسلامية  
 ص ٢٥



ملاحظات

.....

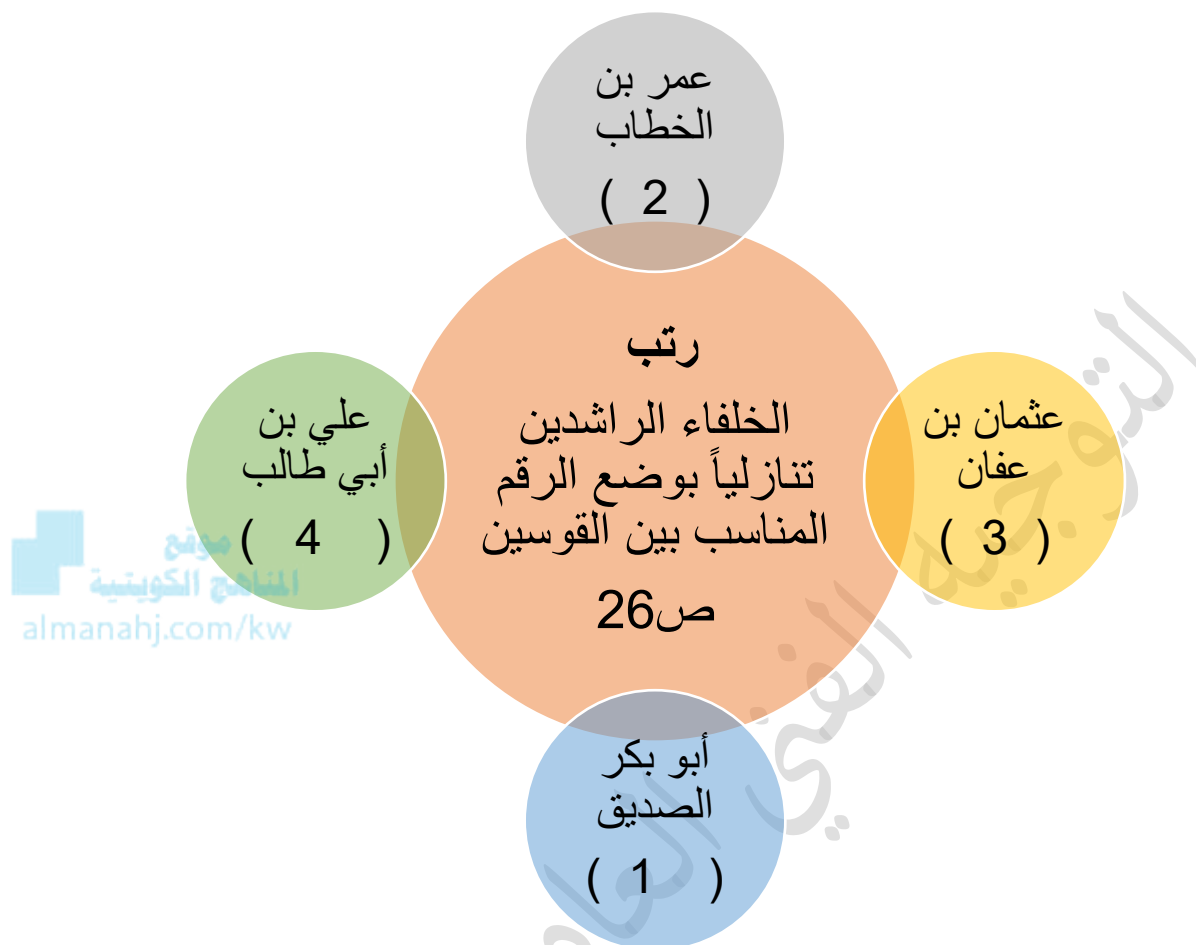
.....

.....

.....

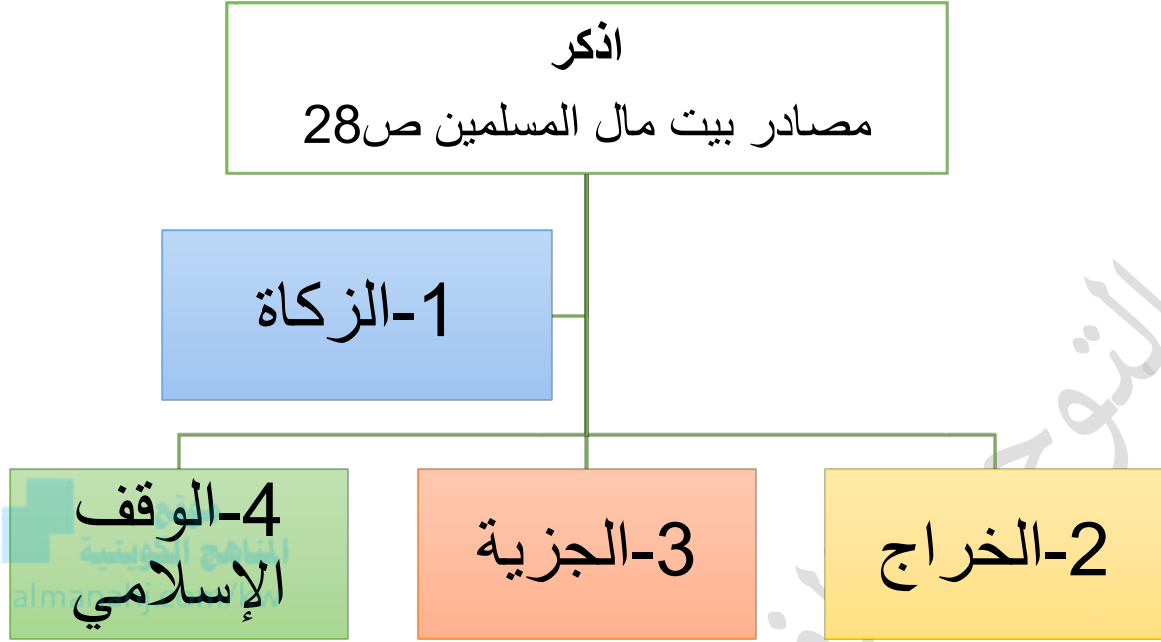
.....

.....



## اذكر جهود المسلمين في الزراعة ص ٢٦





ملاحظات

.....

.....

.....

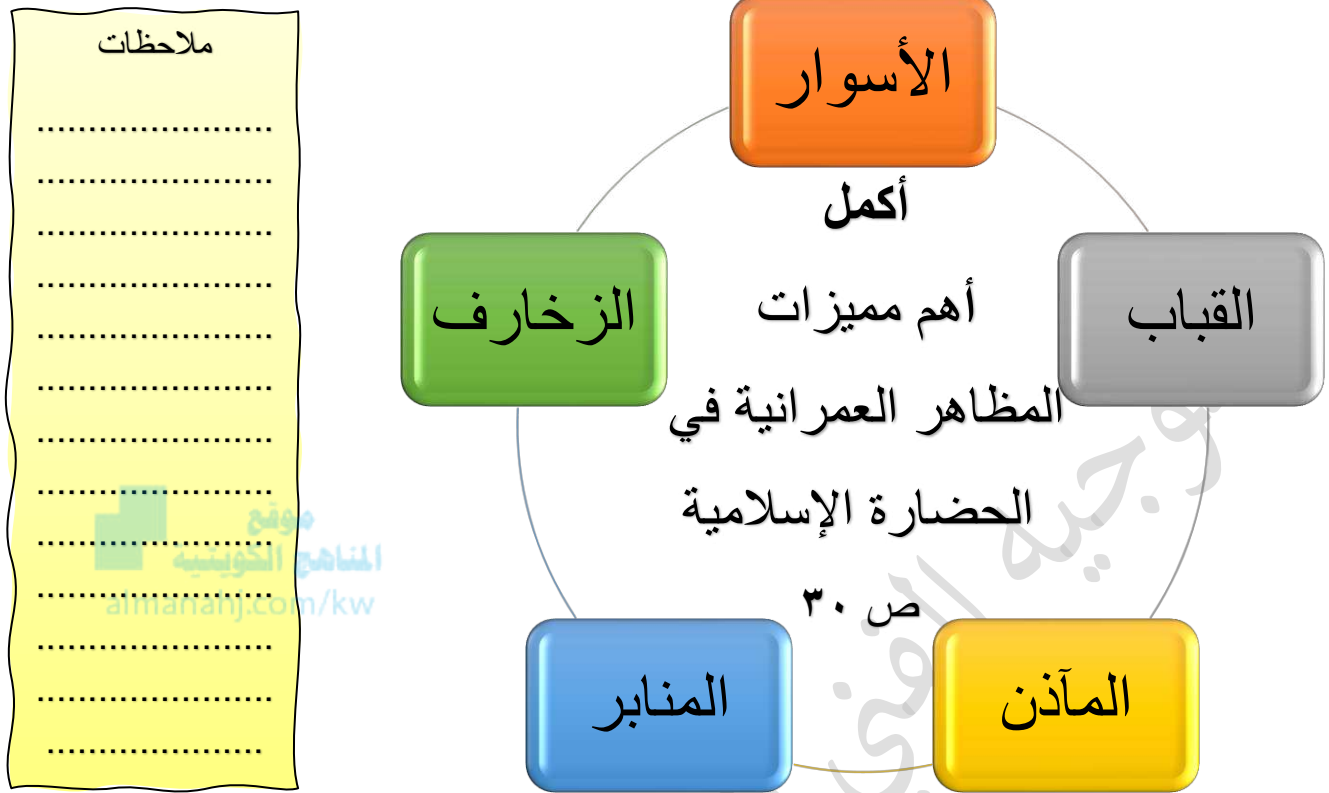
.....


.....

.....

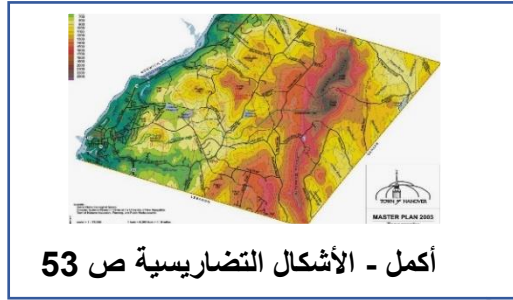
.....

.....





الجبل



أكمل - الأشكال التضاريسية ص 53




السهول



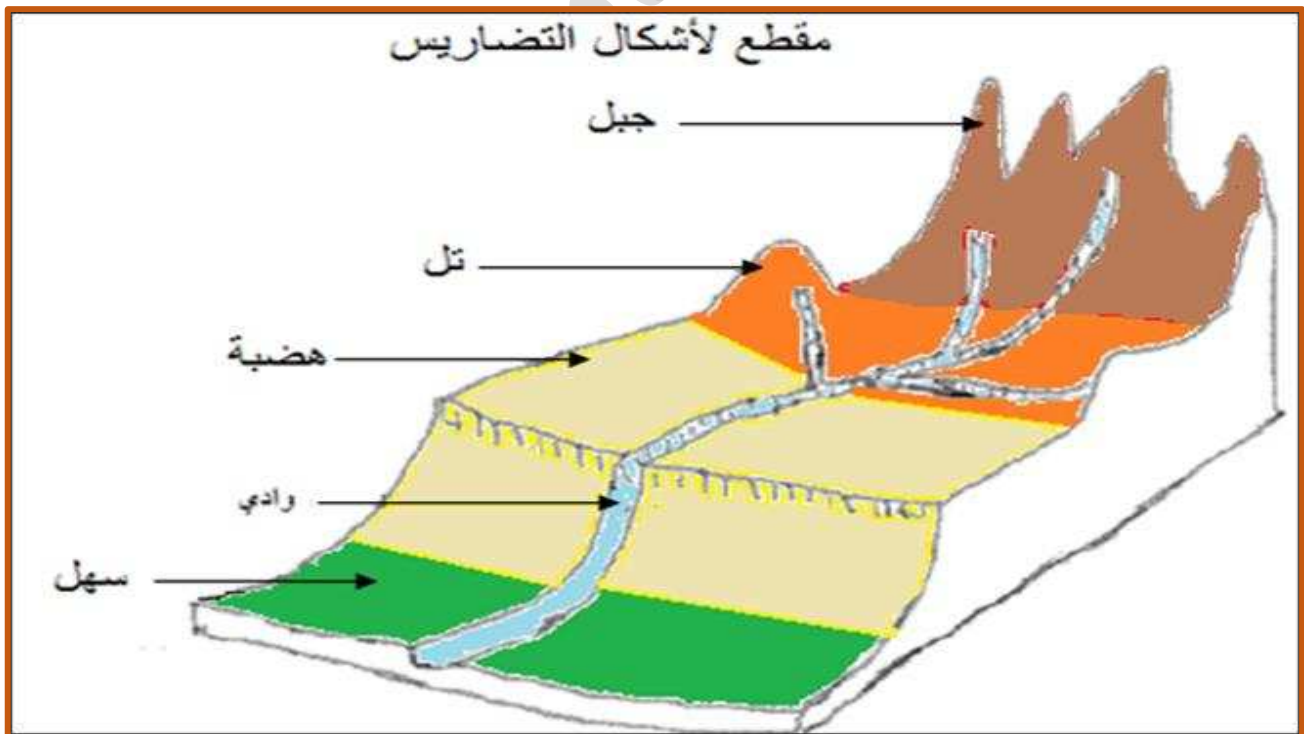
الوادي



الهضاب



التل







أهم  
المحاصيل  
الزراعية  
في العالم  
الإسلامي  
ص ٧٢

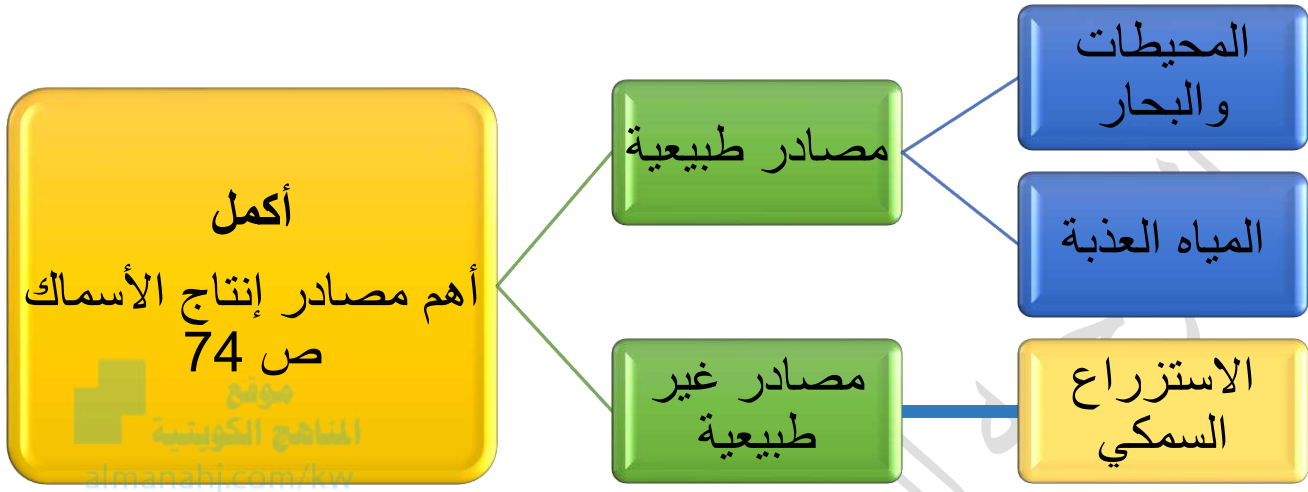
الحبوب

- الذرة
- القمح
- الأرز

الغلات  
النقدية

- القطن
- الجوت
- المطاط الطبيعي





## دليل..

### ١- تميزت الحضارة الإسلامية بالشمول . ص ٢٣

طغيان الآثار الإسلامية في كافة العالم حيث اقتبس الأوروبيون كثيراً من مظاهر المدن الإسلامية لشموليتها على كافة جوانب الحياة من فن وزخرفة وعمارة إسلامية كعمارة المساجد والقصور والبيمارستانات .

### ٢- تأثير الحضارة الإسلامية على دولة الكويت . ص ٢٤

- أن الشعب الكويتي نشأ على الحب والتراحم والعدل والتسامح والمساواة .
- أن الشعب الكويتي نشأ على مد يد العون سواء للمسلمين أو غير المسلمين .
- العمل على فعل الخير من خلال تأسيس المؤسسات والهيئات والجمعيات الخيرية مثل ( بيت الزكاة الكويتي والهيئة الخيرية الإسلامية العالمية ) .
- برز في دولة الكويت العديد من الشخصيات في مجال العمل الخيري الإنساني .

# علل..

## ١-اهتمام الدولة الإسلامية بقطاع الصناعة . ص ٢٧

من أجل استثمار الموارد الطبيعية المتوفرة بها فظهرت صناعات متعددة ومتنوعة .

## ٢-قلة عدد السكان في المناطق الجبلية في دول العالم الإسلامي . ص ٥٥

- انخفاض الضغط الجوي .
- صعوبة التنقل .
- ارتفاع درجة الحرارة.
- ندرة المياه .
- شدة انحدارها.
- قلة وجود الأوكسجين .

## ٣-تسمية مرتفعات الحجاز بهذا الإسم . ص ٥٥

-لأنها تحجز سهل تهامة في المغرب عن هضبة نجد في الشرق .

## ٤-إزدهار العلم وظهور العلماء في الدولة الإسلامية . ص ٣٧

- تشجيع العلماء ورعاية وتمويل القيادات السياسية لهم من خلفاء وملوك وسلاطين وأمراء.
- التنافس العلمي بين الدول الإسلامية.
- حركة التعريب ( الترجمة ) للكتب اليونانية والهندية والفارسية وغيرها .
- الرخاء الاقتصادي .

## ٥-تشجيع الدولة الإسلامية على النشاط التجاري . ص ٢٨

-لدورهم الكبير في التبادل التجاري مع المناطق المجاورة مما ساهم في نشر الدين الإسلامي .

-امتلاك العالم الإسلامي موقع استراتيجي .

## ٦-أهمية السهول . ص ٥٨

- استخدامها كموانئ طبيعية .
- تشبيد المدن .

-تركز السكان فيها لسهولة التنقل .

## ٧-تسمية الأرابيسك بهذا الإسم . ص ٢٧

-نسبة إلى العرب .

# اذكر..

١- النتائج المترتبة على حث الحضارة الإسلامية المسلمين على الجد والاجتهاد . ص ٢٢

-النتيجة هي :

-التنمية .

-الإبداع .

-حفظ التراث ونقله .

٢- أشهر السهول في دولة الكويت . ص ٥٨

-سهل بركان .

-سهل الروضتين .

٣- العوامل التي لعبت دوراً في تنوع المناخ في دول العالم الإسلامي . ص ٦٣

-امتداد دول العالم الإسلامي على مساحة شاسعة .

-الموقع بالنسبة لدوائر العرض .

-الإطلالة على عدة مسطحات مائية في معظم أجزائه .

-التنوع في التضاريس من جبال وهضاب وسهول ووديان .

٤- أهم الموارد الطبيعية في الوطن العربي . ص ٦٧

-النفط .

-الغاز الطبيعي .

٥- أنواع المعادن التي يمتلكها العلم الإسلامي . ص ٧٠

-اليورانيوم . ( الدولة الأولى في الانتاج كازاخستان )

-الذهب . ( الدولة الأولى في الانتاج أوزباكستان )

-الفضة . ( الدولة الأولى في الانتاج إندونيسيا ٣,٦ % - كازاخستان ٣,٦ % )

-النحاس .

-القصدير .

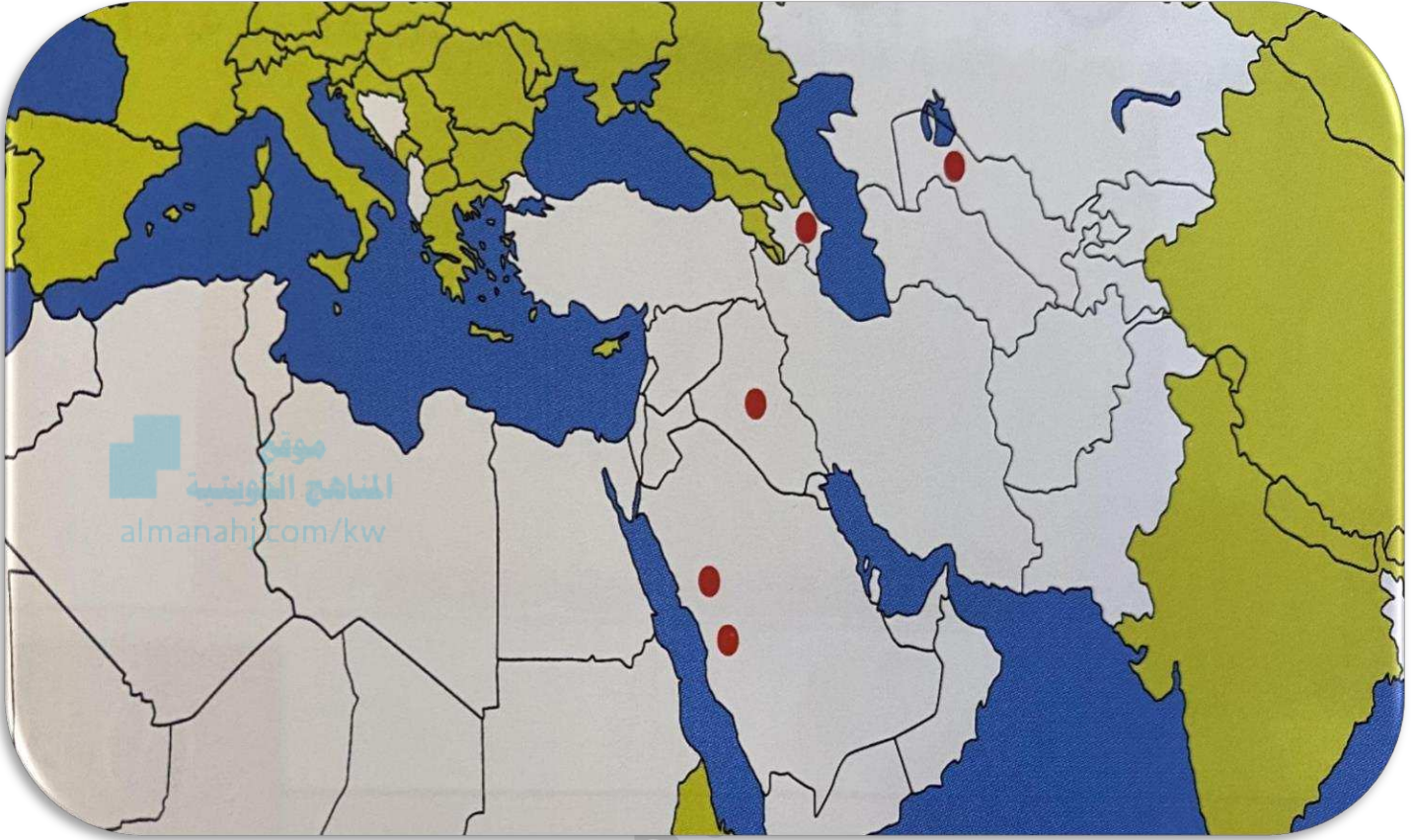
-الفوسفات .

-الحديد .

-اختر من المجموعة ( أ ) المساجد ما يناسبها من المجموعة ( ب ) المكان بوضع الرقم المناسب :

م	المسجد ص ٣٢ ص ٣٣	الرقم المناسب	المكان
١	الكعبة المشرفة	٢	فلسطين
٢	المسجد الأقصى المبارك	٤	دمشق
٣	المسجد النبوي	٦	الفسطاط
٤	المسجد الأموي	٥	القاهرة
٥	الأزهر	٧	تونس
٦	جامع عمرو بن العاص	٨	الأندلس/ اسبانيا
٧	جامع الزيتونة	٣	المدينة المنورة
٨	جامع قرطبة	٩	اسطنبول
٩	مسجد السلطان أحمد	١٠	المملكة العربية السعودية
١٠	مسجد عمر بن الخطاب	١	مكة المكرمة

م	القصر	الخليفة ص ٣٤ ص ٣٥	المكان
١	قصر الخضراء	معاوية بن أبي سفيان	دمشق
٢	قصر عمرة	يزيد بن الوليد	الإردن
٣-	قصر الرصافة	هشام بن عبدالمك	سوريا



اذكر- أهم المراكز العلمية في الحضارة الإسلامية المتمثلة في الرمز ●

ص ٣٨

- ١- بيت الحكمة ( بغداد )
- ٢- المسجد الحرام في ( مكة المكرمة )
- ٣- المسجد النبوي ( المدينة المنورة )
- ٤- المرصد الفلكي ( مراوغة في أذربيجان )
- ٥- مجمع باي كاليان في مدينة ( بخارى في أوزبكستان )



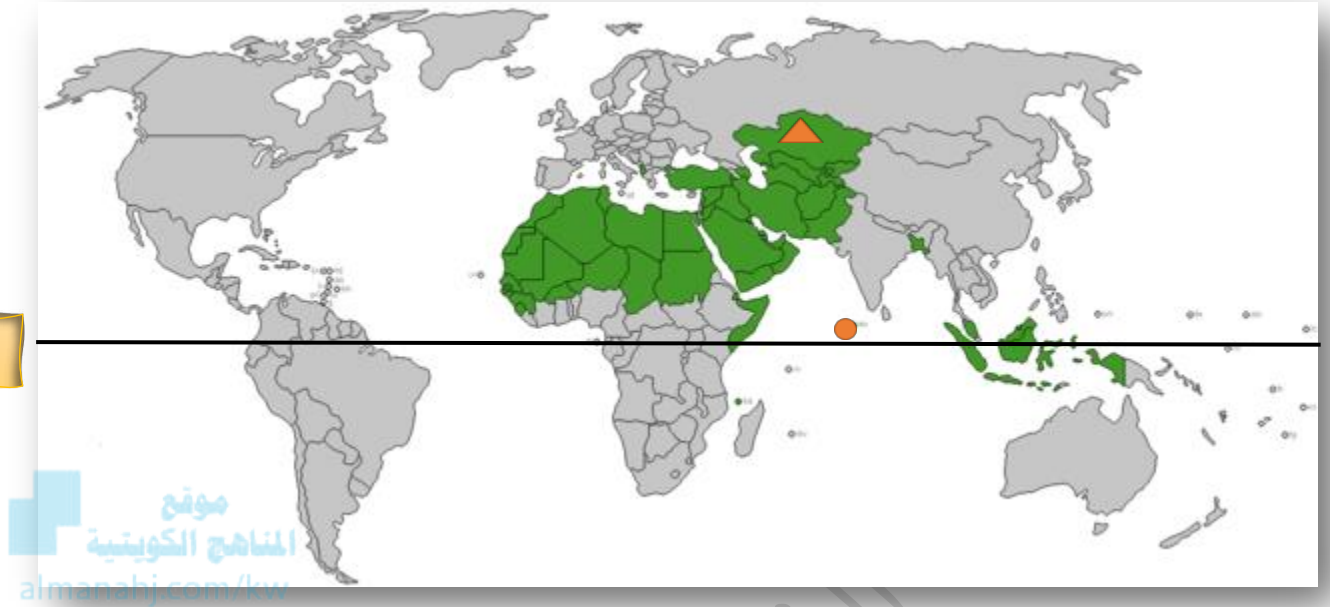


م	مراكز إشعاع الحضارة الإسلامية إلى أوروبا	الرقم المناسب	الدول الحالية التي تمثلها ص ٤١
١	بلاد الشام	٣	أسبانيا والبرتغال
٢	صقلية	٢	طنجة
٣	بلاد الأندلس		إيطاليا
		١	سوريا-لبنان-الأردن-فلسطين



حدد على الخريطة الصماء التي أمامك  
مراكز إشعاع الحضارة الإسلامية باستخدام  
الرموز التالية: ص ٤١

- ▲ بلاد الشام باستخدام الرمز
- بلاد الأندلس باستخدام الرمز
- جزيرة صقلية باستخدام الرمز



من خلال الخريطة أجب عن الأسئلة التالية : ص ٥١

- اكتب مفتاح الخريطة .

- خريطة دول العالم الإسلامي .

- اكتب أسماء القارات التي يمتد بها العالم الإسلامي .

- آسيا

- إفريقيا .

- أوروبا .

- أمريكا الجنوبية .

- ضع الرمز ▲ على أكبر دولة إسلامية والرمز ● على أصغر الدول الإسلامية

- ارسم خط الإستواء .

- كم عدد الدول الإسلامية في قارات العالم ؟

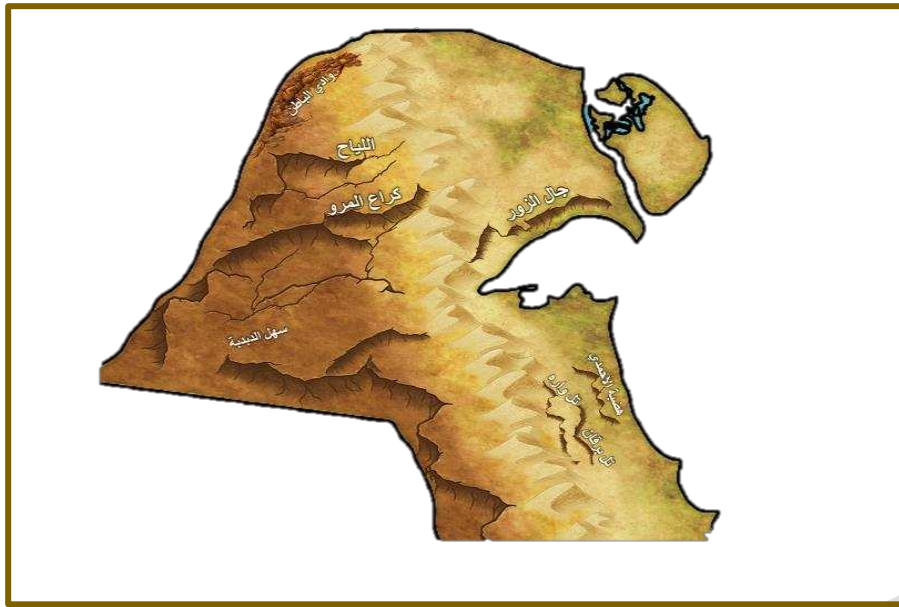
عدد الدول الإسلامية في الجناح الآسيوي : ٢٧ دولة إسلامية

عدد الدول الإسلامية في الجناح الإفريقي : ٢٦ دولة إسلامية

عدد الدول الإسلامية في قارة أوروبا : دولتين

عدد الدول الإسلامية في قارة أمريكا الجنوبية : دولة واحدة





-ضع عنواناً للخريطة . ص ٦١

-التلال في دولة الكويت .

-حدد التلال بدولة الكويت

-صنف تلال دولة الكويت إلى تلال شمالية وتلال جنوبية .

-التلال الشمالية :

-تلال جبل الزور .

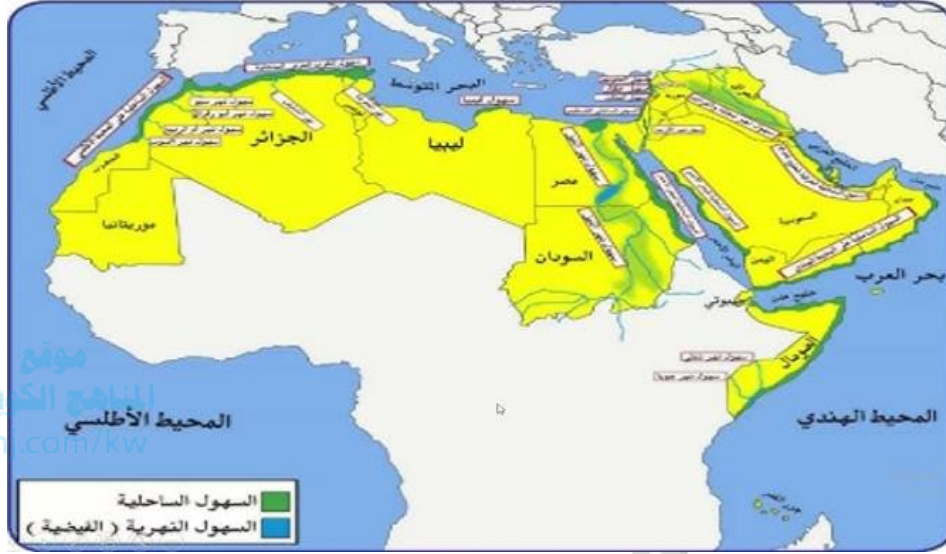
-تلال اللياح .

-تلال كراج المرو

-التلال الجنوبية :

-تل وارة

أمامك خريطة الوطن العربي الصماء نفذ عليها ما يلي : ص ٥٦ ص ٥٧



- اكتب مفتاح الخريطة .

- ضع عنواناً مناسباً للخريطة .

أهم هضاب دول العالم الإسلامي .

-حدد الهضاب بوضع ( اللون البرتقالي )

-حدد السهول الفيضية ( النهرية ) بوضع ( اللون الأزرق )

- حدد السهول الساحلية بوضع ( اللون الأخضر )





حدد على الخريطة التي أمامك أهم هضاب دول العالم الإسلامي. ص ٥٦

أكبر الهضاب في العالم تمتد من ساحل المحيط الأطلسي غرباً إلى مرتفعات البحر الأحمر شرقاً تسمى هضبة الصحراء الكبرى ص ٥٧.





أكمل ما يلي بكتابة أسماء الدول التي يوجد بها الإقليم المناخي التالي . ص ٦٤

المناخ الاستوائي الحار الممطر طوال العام ( الكاميرون - أوغندا - ماليزيا - أندونيسيا )

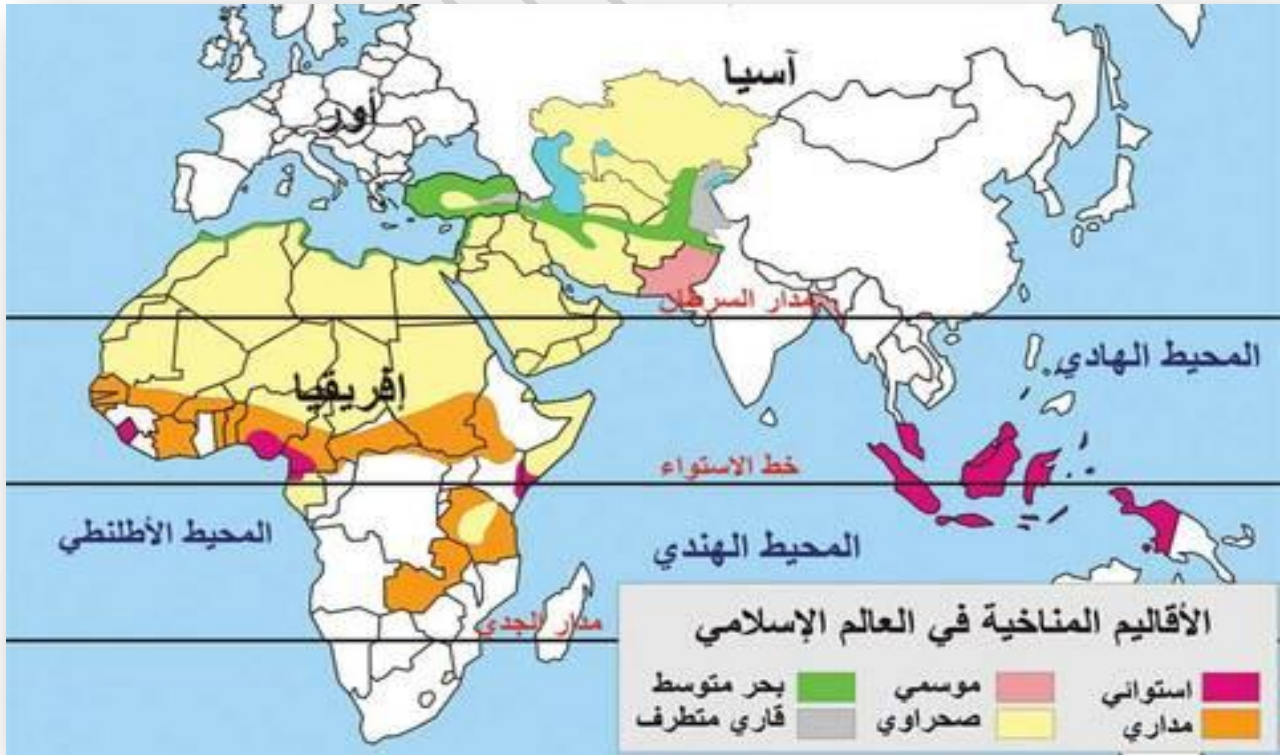
المناخ الموسمي الحار الممطر صيفاً ( بنغلاديش - باكستان - عُمان - اليمن )

المناخ المداري أمطاره صيفية تقل عن الإقليم الموسمي ( السنغال - غينيا - نيجيريا - موزنبيق )

موقع  
المنهج الكويتية

المناخ المعتدل الدافئ ممطراً شتاءً وحار صيفاً ( تونس - إيران - تركيا - افغانستان )

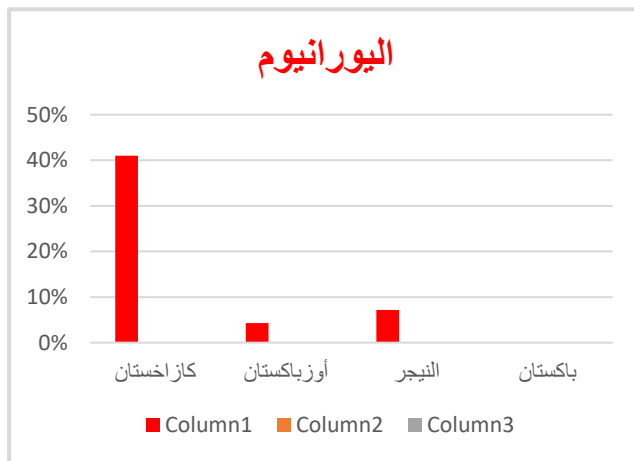
المناخ القاري الصحراوي الحار ( دول شبه الجزيرة العربية - كازاخستان - مصر - ليبيا- الجزائر - السودان- تشاد - النيجر - موريتانيا - مالي - الصومال ) .



## حول الجداول التالية إلى رسوم بيانية ص ٧٠

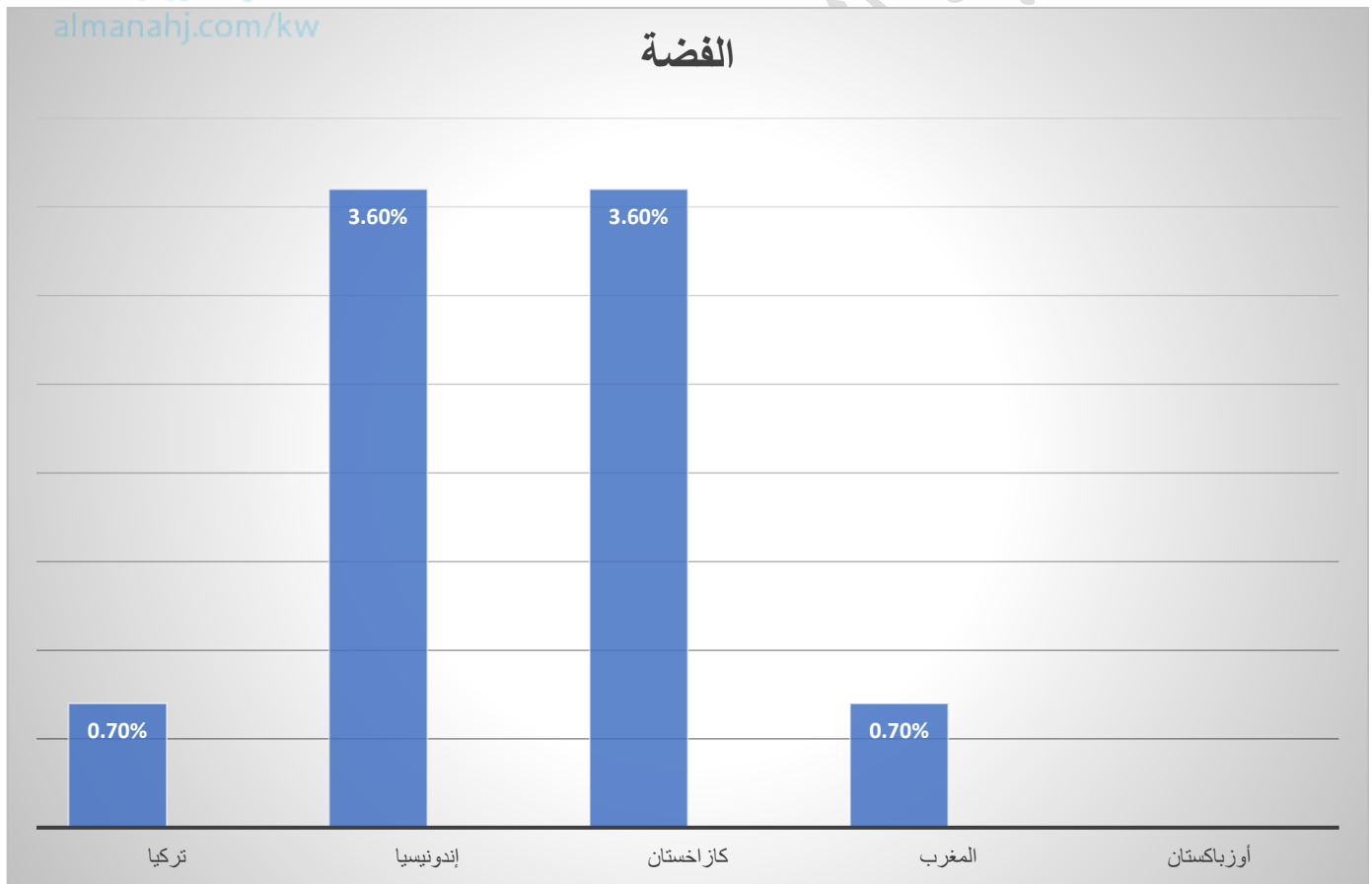


الذهب	
٢,٣	إندونيسيا
٣,٤	أوزبكستان
٢,٤	السودان
١,٥	مالي
١,٧	كازاخستان



اليورانيوم	
٤١	كازاخستان
٤,٣	أوزبكستان
٧,٢	النيجر
٠,١	باكستان

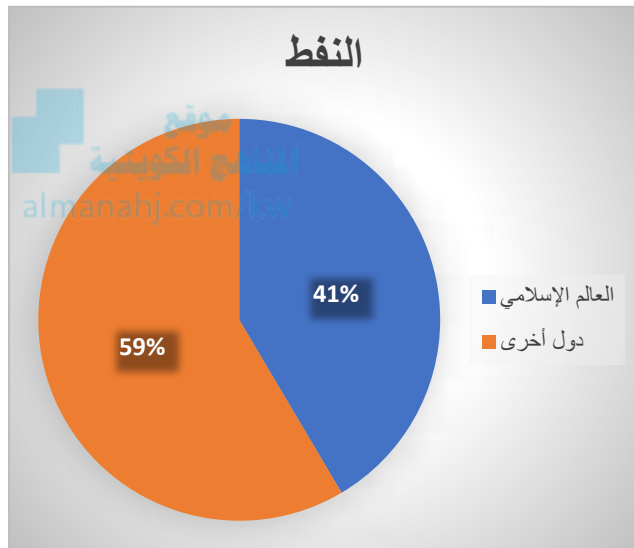
الفضة	
٠,٧%	تركيا
٣,٦%	إندونيسيا
٣,٦%	كازخستان
٠,٢%	أوزبكستان
٠,٧%	المغرب





يعتبر النفط والغاز الطبيعي من أهم مصادر الطاقة في العالم حيث ينتج العالم الإسلامي من النفط الخام ٤١,٥% والغاز الطبيعي ٣٦% من إجمالي الإنتاج العالمي . ص ٦٧

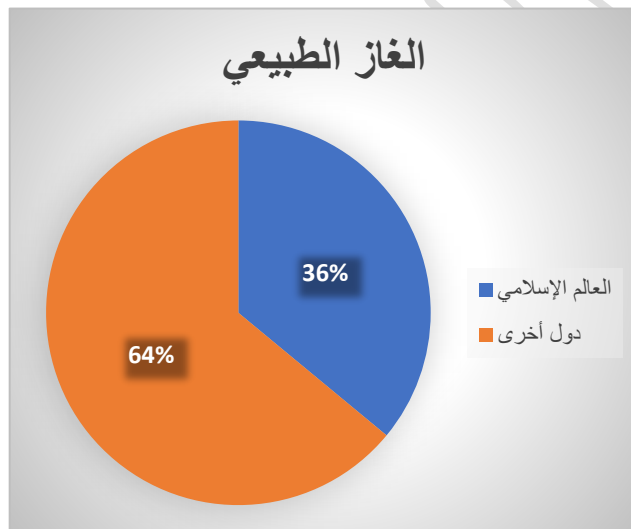
حول نسبة إنتاج النفط والغاز الطبيعي في دول العالم الإسلامي مقارنة مع الإنتاج العالمي على شكل دائرة بيانية .



دول العالم الإسلامي  
دول العالم الأخرى

إنتاج النفط دول  
العالم الإسلامي

إنتاج الغاز الطبيعي  
دول العالم الإسلامي



دول العالم الإسلامي  
دول العالم الأخرى

# عرف

- ١- الحضارة : كل ما يطرأ على المجتمع من تقدم وتطور ورقي سواء في الجانب المادي أو الجانب الروحي . ص ١٨
- ٢- الجزية : مبلغ مالي يدفعه الرجال غير المسلمين من ( أهل الذمة ) ممن هم قادرين على حمل السلاح نظير حماية الدولة لهم . ص ٢٩
- ٣- الوقف الإسلامي : عبارة عن صدقة جارية يوقفها المرء في حياته لوجوه الخير والبر ، ويكون أجرها ونفعها مادامت باقية ويستمر الأجر حتى بعد وفاته . ص ٢٩
- ٤- الزكاة : ركن من أركان الإسلام يخرجها المسلمون الأغنياء للمستحقين من الفقراء وسميت الزكاة لما فيها من تزكية للنفس وتطهيرها . ص ٢٨
- ٥- الخراج : ضريبة الأرض الزراعية التي تخرج مبلغاً مالياً معيناً من ناتج المحصول الزراعي . ص ٢٨
- ٦- الفسيفساء : مجموعة من مكعبات الزجاج الملون والشفاف وقطع من الحجر الأبيض والأسود وكذلك القطع الخزفية تثبت فوق طبقة الجص أو الإسمنت بشكل منظم لتعطي منظراً جميلاً متناسقاً في اللون والشكل . ص ٣٠
- ٧- القصور : هي مقر الحاكم والمكان الذي يضم المؤسسات الإدارية . ص ٣٤
- ٨- الوادي : حوض أو منخفض طبيعي على سطح الأرض . ص ٥٣
- ٩- السهول : أجزاء فسيحة من سطح الأرض تتميز باستوائها وقلة ارتفاعها . ص ٥٣
- ١٠- الهضبة : أرض مرتفعة سطحها مستوي وتمتد لمساحة واسعة . ص ٥٣

١١- الجبل : هو كل قمة لا يقل ارتفاعها عن ١٠٠٠ متر تقريباً. ص ٥٣

١٢- التل : يشبه الجبل ولكن ارتفاعه أقل من ١٠٠٠ متر . ص ٥٣

١٣- المناخ : حالة الجو خلال فترة زمنية طويلة . ٦٤

١٤- الطقس : حالة الجو في مكان لمدة قصيرة تتراوح بين يوم أو عدة أيام . ص ٦٤

١٥- احتياطي النفط : كمية النفط المخزونة في باطن الأرض ولم تستخرج بعد . ص ٦٨

١٦- الجوت : نبات ينمو في المناطق الاستوائية والموسمية ، تؤخذ أغصانه وتوضع تحت

الماء وتطمر بالطين وبعد أيام تستخرج وتغزل ويصنع منها الحبال والأحذية والحقائب

والأقمشة الخشنة . ص ٧٣

almanahj.com/kw