

مراجعة الاجتماعيات - الصف التاسع المتوسط
(الفترة الدراسية الثالثة)

السؤال الأول:- أكمل العبارات التالية بما يناسبها:-

- (١) بلغ عدد سكان العالم عام ٢٠٠٣ م ٦ مليار و ٢٢٥ مليون نسمة.
- (٢) يطلق علي القارة القطبية الجنوبية اسم..**انتاركتيكا**..
- (٣) اكبر قارات العالم مساحة قارة تسمى...**آسيا**.....
- (٤) أصغر قارات العالم مساحة قارة تسمى...**استراليا**.....
- (٥) أكثر قارات العالم سكانا قارة تسمى...**آسيا**.....
- (٦) مجموع معدل النمو الطبيعي وغير الطبيعي يسمى **معدل النمو السكاني**
- (٧) يطلق علي قارة استراليا والجزر المحيطة بها اسم.**اوقيانوسيا**.
- (٨) توجد أضخم صخرة في العالم في قارة تسمى...**استراليا**.....
- (٩) تم إنشاء أول مستوطنة بريطانية في أستراليا عام..**١٧٨٨**..م
- (١٠) قام الإتحاد الفيدرالي الاسترالي عام..**١٩٠١**..م
- (١١) أول مستوطنة بريطانيا في استراليا كانت في مدينة تسمى..**سيدني**.....
- (١٢) أشهر منتجات استراليا هي.**الصوف**.....
- (١٣) حصلت الهند علي استقلالها عام...**١٩٤٧**...م
- (١٤) أول استعمار وصل إلى الهند هو...**البرتغالي**..
- (١٥) الرحالة الذي وصل مدينة كلكتا بالهند عام ١٤٩٨ م يسمى..**فاسكودي جاما**.....
- (١٦) تمتد الهند بين دائرتي عرض **٨ و ٣٧**...شمالا
- (١٧) تحتل الهند عالميا من حيث المساحة المرتبة..**السابعة**..
- (١٨) تتحدث الهند عددا كبيرا من اللغات يصل إلي ... **٢٢٠**...**لغة**.
- (١٩) الحرفة الرئيسية في الهند تسمى...**الزراعة**..
- (٢٠) تشكل المساحة الجبلية في اليابان بالنسبة للمساحة الكلية..**٧٣**...%
- (٢١) يبلغ عدد سكان اليابان حسب إحصاء **٢٠٠٣**م **١٢٧** مليون نسمة
- (٢٢) المخترع الذي تمكن من اختراع الهاتف يسمى **غراهام بل**

السؤال الثاني: صح ما تحته خط.

- (١) إتاحة الفرص لجميع الأفراد في تقسيم العمل يسمى الحرية
- (٢) كل نشاط يؤدي إلى منفعة يسمى رأس المال.
- (٣) الأداة التي تدير شؤون الدولة تسمى الديمقراطية.
- (٤) تقع أستراليا بالنسبة لقارة آسيا جهة الشمال.
- (٥) أكبر حاجز مرجاني في العالم يقع في قارة أوروبا.
- (٦) تبلغ مساحة قارة آسيا ٧٠ مليون كم٢.
- (٧) أكبر جزيرة في العالم تسمى ماليزيا.
- (٨) السلع والخدمات التي تباع للخارج تسمى الواردات.
- (٩) توجد في شرق أستراليا مرتفعات تسمى المرتفعات الغربية.
- (١٠) عدد سكان الهند يزيد عن مليار وثلثي مائة نسمة.

السؤال الثالث:-

عرف ما يأتي:-

- (١) البلدان المتقدمة هي الدول التي احرزت تقدما كبيرا من الثراء المادي والتقدم العلمي والتطور التكنولوجي والتفوق الحضاري
- (٢) البلدان النامية الدول التي مازالت اقل تقدما في ميادين الاقتصاد والعلم والتكنولوجيا
- (٣) المشكلات السكانية الصعوبات والعقبات التي التي تقف في وجه الطاقة البشر
- (٤) معدل النمو الطبيعي المواليد والوفيات
- (٥) معدل النمو غير الطبيعي.الهجرة
- (٦) الميزان التجاري.صادرات وواردات الدولة خلال عام
- (٩) الأوقيانوسيا.استراليا والجزر المحيطة بها
- (١٠) السبخة.ارض تبخر عنها الماء وبقيت عليها طبقة مالحة
- (١١) الحاجز المرجاني.رواسب مرجانية علي شكل سلسلة من الصخور
- (١٢) الصادرات السلع التي تباع للدول الأجنبية
- (١٤) الواردات السلع التي تشتري من البلاد الأجنبية
- (١٥) الحلقة النارية زلازل مدمرة
- (١٦) الأسطول مجموعة من السفن
- (١٧) المادة الخام كل مادة يمكن إعادة تشكيلها وتصنيعها

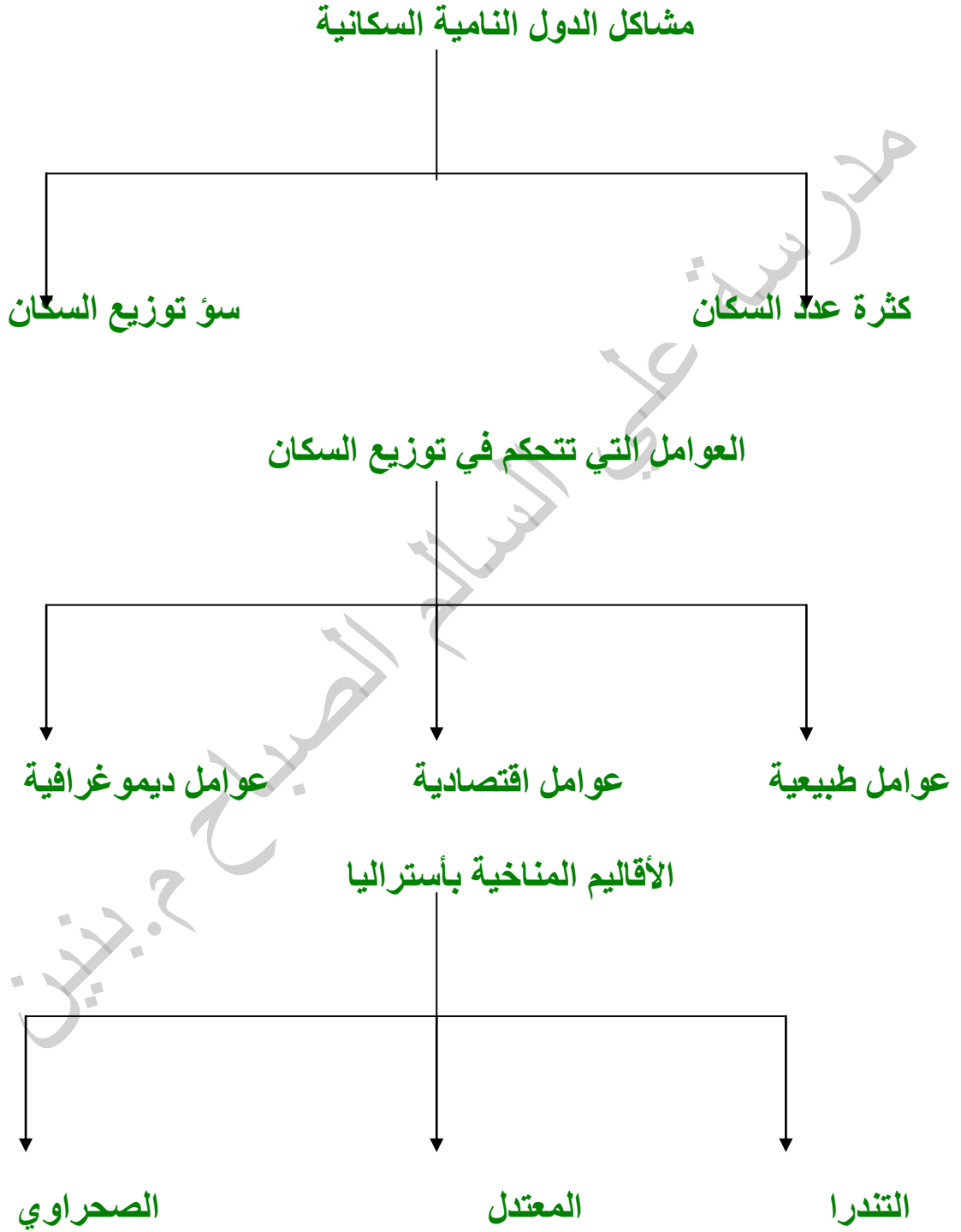
- (١٨) الإيصال تبادل المعلومات بين الأفراد من خلال الرموز والسلوك المنقول
- (١٩) الأقمار الصناعية أجسام تدور حول الأرض بسرعة دورانها حول نفسها
- (٢٠) الحاسوب جهاز يستعمل في المحاسبة وتخزين المعلومات

السؤال الرابع:-

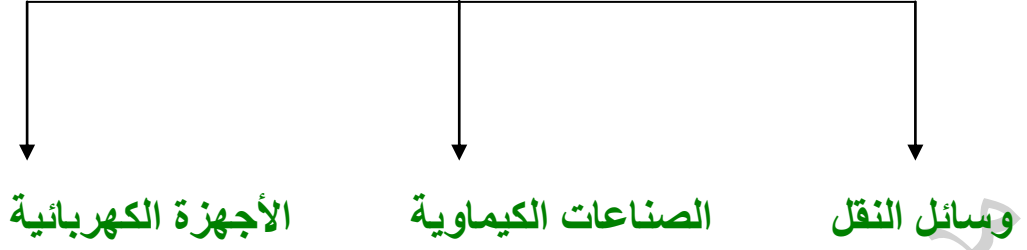
علل لما يأتي:-

- (١) تتركز الكثافة السكانية في المناطق السهلية. لسهولة إقامة الأنشطة البشرية.
- (٢) يختلف توزيع السكان في العالم. لعوامل طبيعية /اقتصادية /ديموغرافية
- (٣) الزيادة المستمرة في عدد السكان. النمو الطبيعي /النمو غير الطبيعي
- (٤) تشتهر استراليا بإنتاجها للصفوف . نظرا لثروتها الرعوية
- (٥) يوجد باستراليا أكبر مساحة للصيد البحري. لأنها أكبر جزيرة
- (٧) تغلب اليابانيون علي الشكل المشتت لدولتهم. عن طريق ربطها بالجسور والأنفاق
- (٨) تمكن اليابانيون من زراعة الأرز شمال هوكايدو. استخدام وسائل لتدفئة التربة

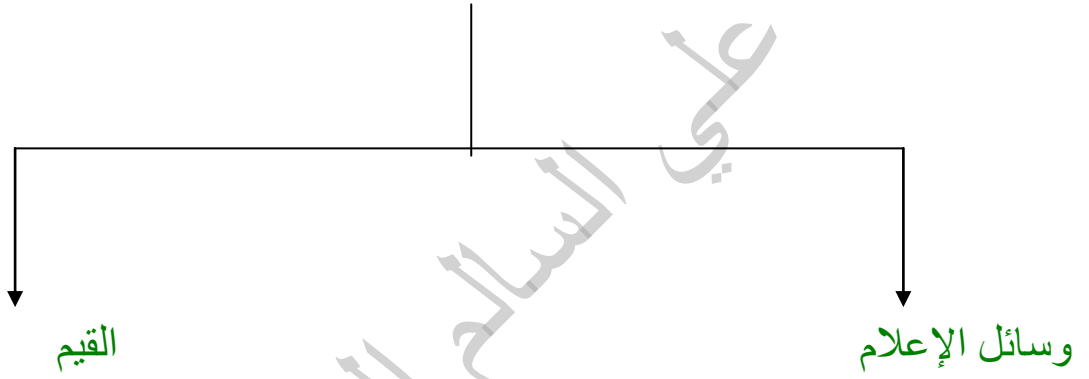
السؤال الخامس:-
أكمل المخططات السهمية التالية:-



أهم الصناعات اليابانية



العوامل المؤثرة في تشكيل الرأي العام



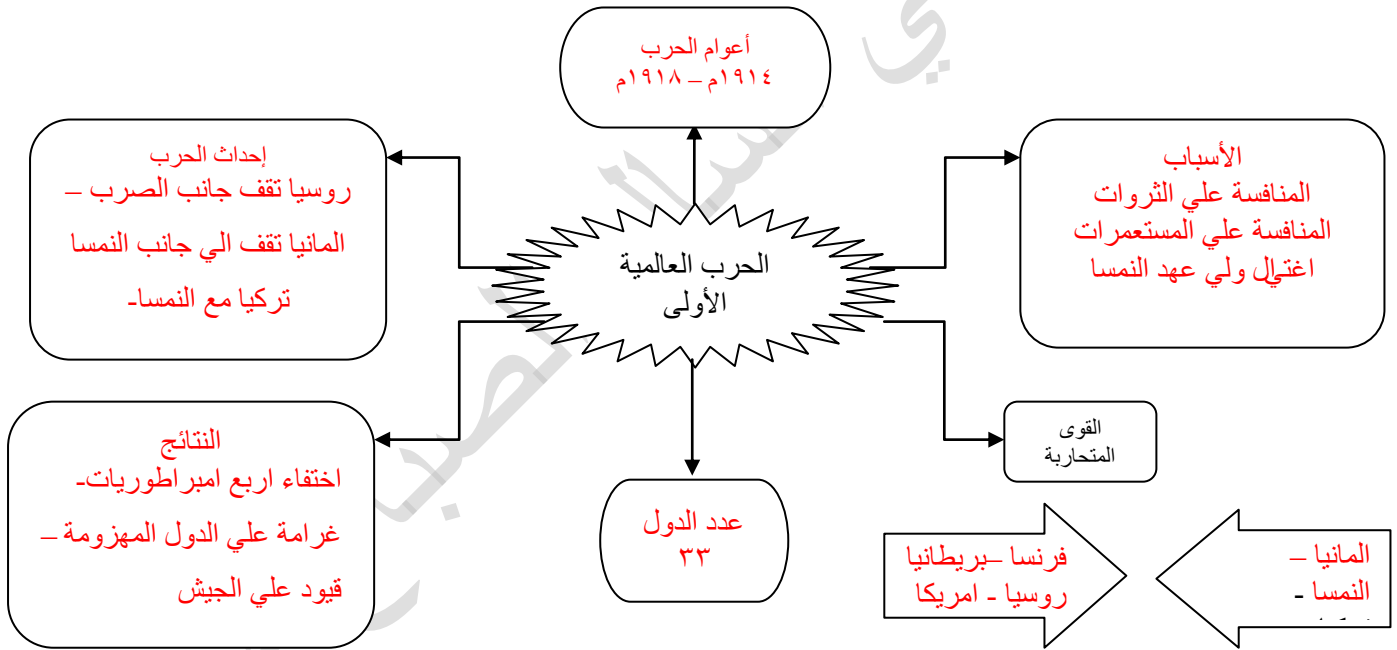
مراجعة الاجتماعيات – الصف التاسع المتوسط
(الفترة الرابعة)

العالم تحديات وتطلعات
الحرب العالمية الأولى

ص ١١٥

النشاط الأول :

- على الخريطة الذهنية التالية للحرب العالمية الأولى أكمل الفراغات باختصار



النشاط الثاني :

- شهدت نهايات الحرب العالمية الأولى تحولات كبيرة منها دخول تركيا الحرب بجانب ألمانيا وأمريكا ضد

ألمانيا وانسحاب روسيا من الحرب فما موقف هذه الدول الذي دعاها لذلك

١ - موقف روسيا : ... انسحبت لقيام الثورة الشيوعية بها

٢ - موقف أمريكا : دخلت الحرب بسبب مناقشات الغواصات الألمانية لسفنها

٣ - موقف تركيا : دخلت الحرب الي جانب ألمانيا

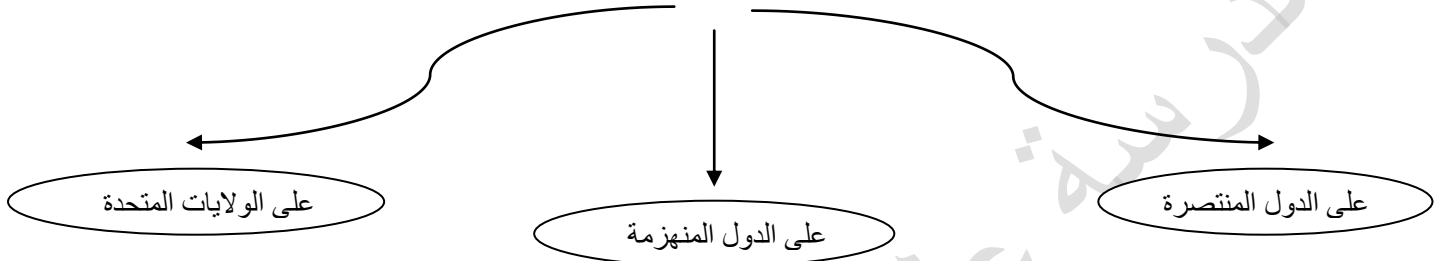
العالم تحديات وتطلعات الأوضاع بين الحربين العالميتين

ص ١٢٠

النشاط الأول :

- كان للآزمة الاقتصادية بعد الحرب العالمية الأولى مظاهر على الدول المشتركة بالحرب هل يمكنك إيجازها

مظاهر الآزمة



- ١- ..عجزت عن سداد الديون
 - ٢- بدأت إعادة اعمارها عام ١٩٢٥م
 - ٣- ..استغنت عن البضائع الأمريكية
- ١- دخلت الرب متأخرة
 - ٢- ..لم تعاني اراضيها من الدمار
 - ٣- توسع انتاجها الصناعي والزراعي

النشاط الثاني :

- من خلال قراءتك للدكتاتوريات التي ظهرت عقب الحرب العالمية الأولى بالكتاب ص ١٢٢ قارن بينها كما هو موضح بالجدول التالي

المقارنة	الشيوعية	الفاشية	النازية
الدولة	روسيا..	ايطاليا	المانيا
الزعيم	..لينين	موسوليني	هتلر
الهدف	وضع السلطة في يد الحزب الحاكم.	احياء امجاد روما	استعادة المستعمرات الألمانية

النشاط الثالث

- في اعتقادك ماذا يحدث لو بقيت الدكتاتوريات الأوروبية إلى وقتنا الحالي

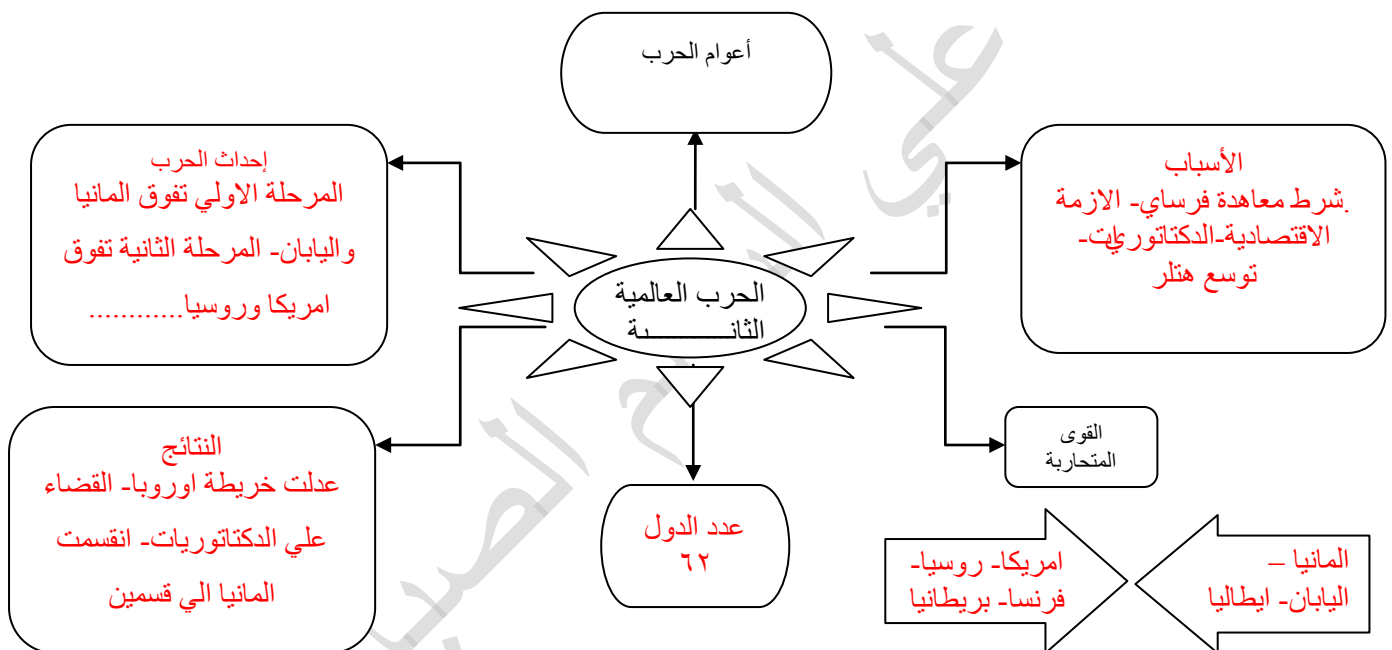
لكانت هناك المزيد من الحروب بين الدول

العالم تحديات وتطلعات الحرب العالمية الثانية

ص ١٢٤

النشاط الأول :

- على الخريطة الذهنية التالية للحرب العالمية الثانية أكمل الفراغات باختصار



النشاط الثاني :

- اقرأ الفقرة التالية ثم اجب عما يليها من أسئلة

((انشئت عصبة الامم عقب الحرب العالمية الاولى لحل المنازعات بين الدول عام ١٩١٩م وانشئت الامم المتحدة بعد الحرب العالمية الثانية عام ١٩٤٥م من قبل ٥٠ دولة بدعوة من بريطانيا وامريكا وروسيا ولكي تنضم الدول اليه لابد ان تكون مستقلة ومحبة للسلام وتعهد بتنفيذ قوانين المنظمة))

- ١- انشئت عصبة الامم عام ١٩١٩م والامم المتحدة عام ١٩٤٥م
- ٢- الدول التي دعت لانشاء الامم المتحدة :. امريكا وبريطانيا وروسيا
- ٣- من شروط الانضمام الى الامم المتحدة تكون الدولة مستقلة ومحبة للسلام وتنفذ قوانين هيئة الامم

النشاط الثالث

- من خلال الشكل ص ١٢٨ فرق بين أجهزة الأمم المتحدة فيما يلي

الجمعية العامة	محكمة العدل الدولي	مجلس الأمن	مجلس الوصايا	الأمانة العامة	المجلس الاقتصادي
الجهاز الرئيسي للمنظمة تنسيق الجهود	الادارة القضائية مقرها لاهاي	الجهاز التنفيذي ١٥ عضو	الاشراف علي المناطق تحت الوصاية	يراسها السكرتير العام	تنسيق الجهود الاقتصادية

العالم في مواجهة تحديات الثورة العلمية والتكنولوجية مشكلات الطاقة

ص ١٢٨

النشاط الأول :

- للطاقة مصدرين متجدد وغير متجدد فرق بينهما

مصادر الطاقة المتجددة	مصادر الطاقة غير المتجددة
الماء - الهواء - الشمس -	النفط - الفحم - الغاز

النشاط الثاني :

- من خلال الجدول والرسم البياني التالي نفذ مايلي

١- رتب مصادر الطاقة ترتيبا تنازليا

أ- النفط ب- الفحم ج- الغاز

د-الوقود النووي هـ- البيولوجي و- المصادر المتجددة

٢ - حول الجدول لأعمدة بيانية

النسبة المئوية	مصادر الطاقة
٢٤.٣%	١ الفحم
٣٤.٤%	٢ النفط
٢١.٢%	٣ الغاز الطبيعي
٦.٥%	٤ الوقود البيولوجي
١٠.٦%	٥ الوقود النووي
٢.٧%	٦ المصادر المتجددة

النشاط الثالث :

* من خلال قراءتك للفقرة الإثرائية بالكتاب ص ١٩٢ قارن بين الأوبك والاوبك فيما هو موضح بالجدول

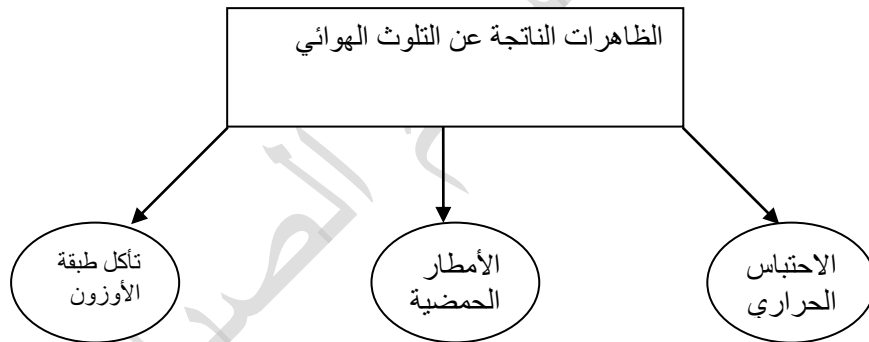
المقارنة	منظمة الأوبك	منظمة الاوابك
المفهوم	منظمة الاقطار المصدرة للنفط	منظمة الاقطار العربية المصدرة للنفط
عام الإنشاء	١٩٦٠م	١٩٦٨م
الأعضاء	١٥	١٠

التغيرات المناخية والتعاون الدولي لمكافحة التلوث والأمراض الحديثة

ص ١٣٣

النشاط الأول :

• نتج عن التلوث الهوائي عدة تغيرات سلبية على البيئة !!! هل يمكنك إكمالها من خلال المخطط التالي



- ١- ارتفاع درجات الحرارة
- ٢- ذوبان الجليد
- ٣- الجفاف
- ١- ارتفاع الحرارة
- ٢- الأمراض الجلدية
- ٣- إتلاف المحاصيل الزراعية
- ١- تلوث التربة
- ٢- تلوث الماء

النشاط الثاني :

- عقدت عدة مؤتمرات للتعاون الدولي في مجال مكافحة التلوث اوجد الفرق بين المؤتمرات الثلاث

مؤتمر الثمانية	قمة الأرض في جنوب أفريقيا	قمة الأرض في البرازيل
العام / ٢٠٠٥م	العام / ٢٠٠٢م	العام / ١٩٩٢م
الهدف / مكافحة الاحتباس الحراري	. الهدف / ركز علي المياه - الطاقة - الصحة - الزراعة- التنوع البيولوجي	الهدف / الحد من تلوث الهواء

النشاط الثالث :

- * من خلال قراءتك للفقرة ص١٣٦ قارن بين مرض الايدز وانفلوانزا الطيور فيما هو موضح بالجدول

انفلوانزا الطيور	مرض الايدز	المقارنة
نتيجة لتلوث الهواء	نتيجة لتلوث الهواء	الأسباب
اتباع التعليمات الصحية	الحد من مشكلات التلوث	طرق الوقاية

الكويت والعلاقات الدولية

مساهمة الكويت في حل المشكلات الدولية

ص١٤٣

النشاط الأول :

- اقرأ الفقرة التالية ثم اجب عما يليها من أسئلة

((تعتبر الكويت عضوا في اغلب المنظمات الدولية والتي من أهمها الأمم المتحدة منذ العام ١٩٦٣م كما أن للكويت مساهمات وتبرعات للوكالات المتخصصة مثل البنك الدولي للإنشاء والتعمير ومنظمة الصحة العالمية ومنظمة الأغذية والزراعة))

١- عرف ما تحته خط هيئة يشترك فيها مجموعة من الدول للقيام بأعمال ذات اهمية مشتركة

٢- في أي عام انضمت الكويت للأمم المتحدة : ١٩٦٣م

٣- من أهم المنظمات الدولية التي تدعمها الكويت البنك الدولي والصحة العالمية والاغذية

النشاط الثاني :



• الرسم الذي أمامك لصندوق اقتصادي كويتي :

- ١- ما اسم هذه المؤسسة **الصندوق الكويتي للتنمية الاقتصادية**
- ٢- ما هو شعارها **((ساعد الناس لكي يساعدوا انفسهم))**.
- ٣- ما أهم الأنشطة التي تقوم بها **تقديم القروض**

وتقديم المنح

النشاط الثالث

• أمامك شعارات لمؤسسات وهيئات كويتية بيئية صلها بما يناسبها من شكل



- ١- الهيئة العامة للبيئة
- ٢- الجمعية الكويتية لحماية البيئة
- ٣- المنظمة الإقليمية لحماية البيئة

الكويت والعلاقات الدولية

دور المنظمات والدول في


تحرير دولة الكويت من احتلال النظام البائد

ص ١٤٦

النشاط الأول :

• من خلال دراستك للدرس ص ١٤٦ اجب عن التالي

- ١- تاريخ حدوث غزو النظام العراقي البائد على دولة الكويت هو.....٢...../.....٨...../.....١٩٩٠م.....
- ٢- المدة التي استمرها الغزو في دولة الكويت٧..... شهر



النشاط الثاني :

- التواريخ التالية ارتبطت باحداث في تاريخ الغزو الكويتي هل يمكنك تسجيلها

.....الغزو.....	٢ / اغسطس / ١٩٩٠م	١
.....قرار مجلس الامن رقم ٦٧٨م.....	٢٩ / نوفمبر / ١٩٩٠م	٢
اخرا نزار للعراق بالخروج من الكويت	١٥ / يناير / ١٩٩١م	٣
.....الحرب الجوية.....	١٧ / يناير / ١٩٩١م	٤
.....الحرب البرية.....	٢٤ / فبراير / ١٩٩١م	٥
.....التحرير.....	٢٦ / فبراير / ١٩٩١م	٦

النشاط الثالث

- كان لدول العالم والدول العربية و الإسلامية و الخليجية مواقف مشرفة من قضية غزو النظام العراقي البائد على دولة الكويت اذكر بـايجاز بعضا من هذه المواقف

			
الأمم المتحدة	العالم الإسلامي	جامعة الدول العربية	مجلس التعاون الخليجي
اصدرت عدة قرارات تطالب العراق بالانسحاب الفوري من الكويت	ادانت العدوان العراقي واصدرت بيانا تطالب العراق بالانسحاب دون شروط	عقدت اجتماعا طارئا بناء على طلب الكويت وطالبت العراق بالانسحاب الفوري من الكويت	ادان الغزو وطالب العراق بالانسحاب الفوري

الكويت والعلاقات الدولية

للكويت دور فعال و ايجابي مع دول العالم

ص ١٥٠

النشاط الأول :

- اقرأ الفقرة التالية ثم اجب عما يليها من أسئلة

((للكويت دور فعال و ايجابي عالميا منذ ان حصلت على استقلالها عام ١٩٦١م و انضمت للامم المتحدة عام ١٩٦٣م و قد انتخبت عضوا في المجلس الاقتصادي الاجتماعي مابين العامين ١٩٦٧م - ١٩٦٩م كما فازت بعضوية مجلس الامن الدولي خلال الفترة من ١٩٧٨م - ١٩٧٩م و كانت لها مساهمات في اغلب المسسات

المتخصصة التابعة للامم المتحدة))

- ١- متى استقلت دولة الكويت ١٩١٦م..... وما الدولة التي استقلت عنها..... بريطانيا
- ٢- ما اسم المجلس الي انتخبت الكويت عضوا فيه عام ١٩٧٨ م مجلس الامن.....
- ٣- فازت دولة الكويت بعضوية مجلس الأمن الدولي في الفترة ما بين..... ١٩٧٨م..... و..... ١٩٧٩م.....

النشاط الثاني :

- اكتب ثلاث من إسهامات دولة الكويت على المستوى العربي
- ١- كان للكويت دورا بارزا في تأسيس مجلس التعاون الخليجي
 - ٢ - دعم الشعب الفلسطيني
 - ٣- الاهتمام بمشكلة اقليم دارفور

علي السلام الصباح م. بنين