

تم تحميل هذا الملف من موقع المناهج الكويتية



الملف نموذج إجابة منطقة العاصمة

[موقع المناهج](#) ← [المناهج الكويتية](#) ← [الصف السابع](#) ← [اجتماعيات](#) ← [الفصل الثاني](#)

روابط مواقع التواصل الاجتماعي بحسب الصف السابع



روابط مواد الصف السابع على تلغرام

[الرياضيات](#)


[اللغة الانجليزية](#)

[اللغة العربية](#)

[التربية الاسلامية](#)

المزيد من الملفات بحسب الصف السابع والمادة اجتماعيات في الفصل الثاني

مذكرة موضوعية محلولة	1
حل الكتاب	2
حل الوحدة الرابعة في مادة الاجتماعيات	3
بنك اسئلة التربة سابع	4
مراجعات الصف السابع	5



موقع
المنهج الكويتية
almanahj.com/kw

منطقة العاصمة التعليمية

الاجابة النموذجية



وزارة التربية إجابة امتحان نهاية الفترة الدراسية الثانية العام الدراسي: ٢٠٢١ / ٢٠٢٢ م
الإدارة العامة لمنطقة العاصمة التعليمية للصف السابع الزمن: ساعة وخمس وأربعون دقيقة
التوجيه الفني للاجتماعيات مقرر (الكويت والوطن العربي) عدد الأوراق: ٦ أوراق

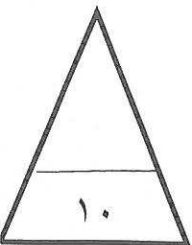
السؤال الأول (موضوعي): يتكون من (أ - ب):

(أ) أكمل العبارات التالية بما يناسبها فيما درست: (٥ درجات - لكل نقطة درجة)

- ١- يطلق على زحف رمال الصحراء على المناطق الجافة وشبه الجافة اسم التصحّر ص ١٦٢
- ٢- الطبقة التي تحمي الأرض من الأشعاعات فوق البنفسجية الضارة تسمى الأوزون ص ١٦٩
- ٣- الدولة العربية التي تحتل المركز الأول في إنتاج القمح تسمى مصر ص ١١٤
- ٤- يطلق على بقاء العناصر الطبيعية والتي تكون في حالة من التوازن لتؤدي وظائفها اسم التوازن البيئي .. ص ١٧٠
- ٥- الدولة العربية التي تم اختيارها مقراً لمنظمة الأقطار العربية المصدرة للنفط (أوبك) تسمى .. الكويت .. ص ١٣٥

(ب) اختر الإجابة الصحيحة من بين البدائل التالية بوضع خط تحتها: (٥ درجات - لكل نقطة درجة)

- ١- تأسس صندوق أبو ظبي للتنمية في عام: ص ١٧٩
(١٩٧٠ - ١٩٧١ - ١٩٧٢ - ١٩٧٣ م)
- ٢- أكثر دول الوطن العربي سكاناً تسمى: ص ١٠٠
(السعودية - السودان - مصر - الجزائر)
- ٣- يبلغ عدد الدول الأعضاء المؤسسين لمنظمة جامعة الدول العربية: ص ١٧٨
(ستة - سبعة - ثمانية - تسعة)
- ٤- تتركز حقول النفط بنسبة ٨٠٪ بالنسبة للوطن العربي في منطقة: ص ١٢٦
(خليج السويس - الصحراء الكبرى - هضبة نجد - الخليج العربي وسهول دجلة والفرات)
- ٥- عُقدت قمة الأرض بالبرازيل عن مشكلة التلوث البيئي عام: ص ١٦٧
(١٩٩١ - ١٩٩٢ - ١٩٩٣ - ١٩٩٤ م)



السؤال الثاني (موضوعي): يتكون من (أ - ب): ص ١١٤


(أ) اختر لعبارات المجموعة (ب) ما يناسبها من المجموعة (أ) بوضع الرقم في مكانه الصحيح:

(٥ درجات - لكل نقطة درجة)

الرقم	المجموعة (أ) الغلة الزراعية	الرقم المناسب	المجموعة (ب) الدولة الأولى في الانتاج
١	العنب	(٢)	مصر
٢	القطن	(٤)	الصومال
٣	التمور	(٥)	اليمن
٤	الموز	(٣)	السعودية
٥	البن	(١)	سوريا
		-	المغرب

(ب) أكمل المخططات السهمية التالية: (٥ درجات - لكل نقطة درجة)

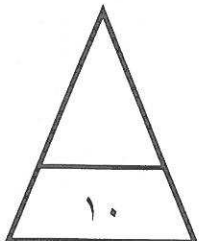

١- مراحل عملية التصنيع ص ١٣٧



٢- أقسام المحاصيل الزراعية ص ١١٣



٣- المقومات البشرية للصناعة ص ١٣٩



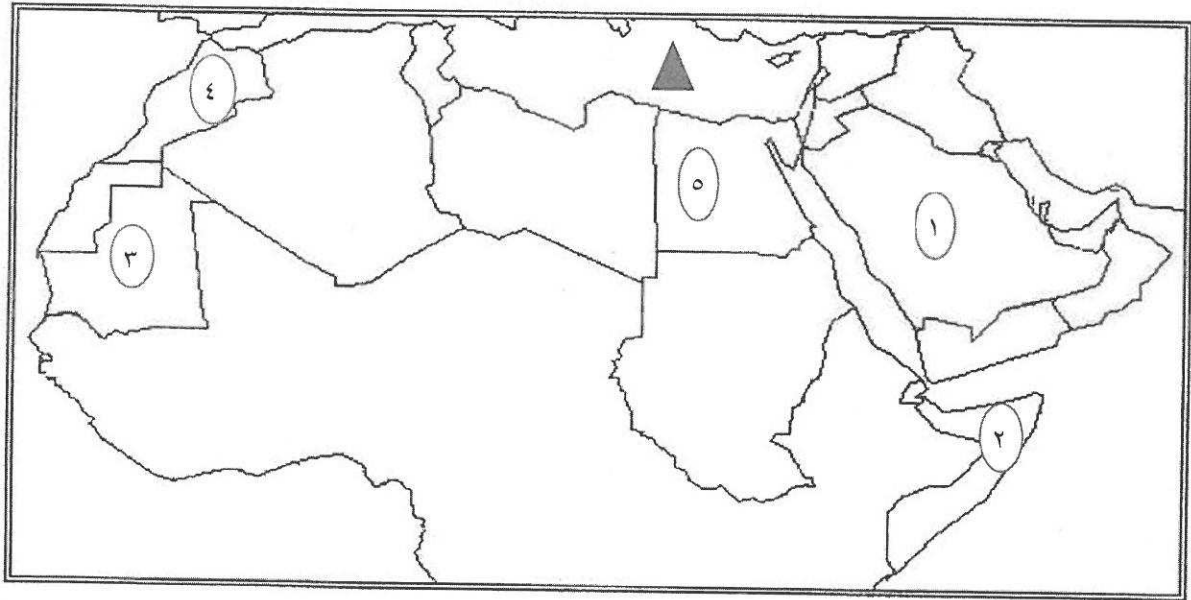
السؤال الثالث (موضوعي): يتكون من (أ - ب):

(أ) اكتب المفهوم أو المصطلح الدال على كل من العبارات التالية: (٥ درجات - لكل نقطة درجة)

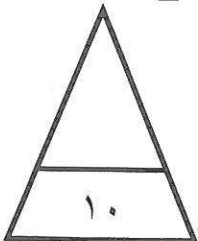
- ١- (التضامن العربي) توثيق الصلات بين الدول والشعوب العربية وحماية مصالحها السياسية والاقتصادية والثقافية. ص ١٧٧
- ٢- (الإحصاء الحيوي) تسجيل المواليد والوفيات وحالات الزواج والطلاق. ص ٩٩
- ٣- (الغلات النقدية) الغلات التي تزرع بغرض التجارة والحصول على النقد. ص ١١٣
- ٤- (الكثافة السكانية) نسبة عدد السكان الكلي في دولة ما أو منطقة ما إلى المساحة الكلية لهذه الدولة أو المنطقة. ص ١٠٢
- ٥- (الصناعات التجميعية) عملية تركيب وجمع المواد المصنعة على اختلاف مصادرها لنحصل على سلع متنوعة. ص ١٤٣

(ب) لاحظ خريطة الوطن العربي ثم استعن بالمدلولات التي عليها لإكمال العبارات التالية:

(٥ درجات - لكل نقطة درجة)



- ١- الدولة العربية الأولى في إنتاج الأبل يمثلها على الخريطة الرقم ٢ ص ١١٨
- ٢- الدولة العربية الأولى في إنتاج الأرز يمثلها على الخريطة الرقم ٥ ص ١١٤
- ٣- الدولة العربية الأولى في إنتاج معدن الفوسفات يمثلها على الخريطة الرقم ٤ ص ١٣٢
- ٤- الدولة العربية التي تحتل المركز الأول في احتياطي النفط الخام يمثلها على الخريطة الرقم ١ ص ١٢٩
- ٥- الشكل ▲ يمثل مسطح مائي يسمى البحر المتوسط ص ١٣٣



السؤال الرابع (مقالى): يتكون من (أ - ب):

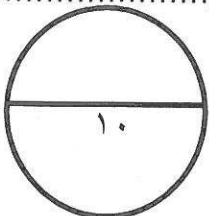
(أ) اقرأ الفقرة التالية ثم أجب عما يليها من أسئلة: ص ١٦٦ ص ١٦٧ (٥ درجات)

التلوث البيئي من أهم وأخطر المشاكل التي تواجه شعوب العالم اليوم، حيث عقد أكبر مؤتمر للأمم المتحدة في مدينة ريو دي جانيرو بالبرازيل، ويصيب التلوث عناصر البيئة من عدة مصادر للملوثات منها صناعية وزراعية ومنزلية.

- ١- عرف ما تحته خط. ص ١٦٦ (درجة)
-الضرر الذي يلحق بالتربة والماء والهواء ويصيب التلوث عناصر البيئة من عدة مصادر للملوثات.....
- ٢- استخرج من القطعة ما يلي:
أ- المدينة التي عقد فيها أكبر مؤتمر للأمم المتحدة لمواجهة مشكلة التلوث. ص ١٦٧ (درجة)
-ريودي جانيرو.....
- ب- مصادر الملوثات. ص ١٦٦ (درجة)
-صناعية وزراعية ومنزلية.....
- ٣- عدد النتائج السلبية للتلوث بأوكسيد الكربون الناتج من عوادم السيارات. (يكتفى بنقطتين - لكل نقطة درجة) ص ١٦٩
-يؤدى إلى ارتفاع متزايد في حرارة الأرض.....
-تغيير مناخى يهدد بإغراق المدن.....

(ب) اكتب فيما يلى مما درست: (٥ درجات)

- ١- أسباب تدني وفرة المياه في الوطن العربي. ص ١٦٤ (يكتفى بنقطتين - لكل نقطة درجة)
- النمو السريع للسكان الذي يشكل ضغطاً متزايداً على المياه المتوفرة لكل فرد - الطرق التقليدية المستخدمة في استهلاك المياه مسنولة عن تدني نسبة المياه - ٥٠٪ من الموارد المائية في العالم العربي تأتي من خارج حدوده - الشبكات المؤهلة لنقل المياه شبكات قديمة - افتقار الدول العربية إلى برامج لإدارة المياه
- ٢- العقبات التي تواجه الانتاج الزراعي في الوطن العربي. ص ١٦١ (يكتفى بنقطتين - لكل نقطة درجة)
-زحف الرمال (التصحّر) وانجراف التربة - الرعي الجائر - تلوث التربة - اتباع طرق زراعية تقليدية في معظم أجزاء الوطن العربي - عدم استغلال الأراضي القابلة للزراعة.....
- ٣- أهمية النفط العربي على المستوى العالمي. ص ١٣١ (درجة)
-لأهميته للدول الصناعية المتقدمة في أوروبا واليابان والولايات المتحدة الأمريكية.....



السؤال الخامس (مقالى): يتكون من (أ - ب):

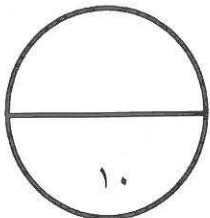
(أ) فرق بين كل مما يلي من حيث التعريف: (٦ درجات - لكل مفهوم درجة)

الواردات ص ١٥٢	الصادرات ص ١٥٢
السلع التي تشتريها الدولة من الخارج لسد احتياجاتها.	السلع والمنتجات التي تبيعها الدولة في الخارج .
الصناعات التعدينية ص ١٤١	الصناعات التحويلية ص ١٤٢
<u>تنقية الخامات المعدنية وتحويلها إلى صفائح</u> <u>أو سبائك صالحة لتنفيذ صناعات معدنية مختلفة.</u>	<u>تحويل المواد الأولية من معدنية نباتية وحيوانية</u> <u>إلى سلع استهلاكية صالحة للاستعمال.</u>
الغاز الطبيعي ص ١٢٥	النفط ص ١٢٥
<u>غاز مصاحب للنفط الخام أو يوجد منفرداً تتم</u> <u>إسالاته لاستخدامات عديدة.</u>	<u>بقايا عضوية على هيئة نباتات وحيوانات دقيقة</u> <u>ترسبت في عصور قديمة وانظمرت تحت رواسب</u> <u>سميكة وتحولت بالضغط والحرارة إلى صورتها الحالية.</u>

(ب) علل لما يلي: (٤ درجات)

- أهمية الغاز الطبيعي. ص ١٣١ (درجة)
لأنه يستخدم في الوقود - يستخدم في التدفئة - يعتبر مصدر مهم من مصادر الطاقة البديلة أماناً .
- انشاء منظمة الأقطار العربية المصدرة للنفط (أوبك). ص ١٣٥ (يكتفى بنقطتين - لكل نقطة درجة)
توثيق التعاون بين الدول العربية في النشاط الاقتصادي في صناعة النفط - تأمين وصول النفط إلى الأسواق
بشروط وأسعار عادلة - تطوير الصناعات البترولية - تبادل الخبرات - التعاون مع منظمة أوبك.....
- تتركز زراعة الفواكه والثمار في حوض البحر المتوسط. ص ١١٣ (درجة)
لأنها تتطلب ظروف مناخية خاصة.....

ykwwat



السؤال السادس (مقالى): يتكون من (أ - ب):

- (أ) عدد إثنين لكل مما يلي:
- ١- أهداف جامعة الدول العربية. ص ١٧٧ (نقطتين - لكل نقطة درجة)
-توثيق العلاقات بين الدول الأعضاء - تنسيق التعاون بينها - الحفاظ على استقلالها وسيادتها
- النظر فى شئون ومصالح الدول العربية.....
- ٢- المشكلات التي تواجه التنمية البشرية. ص ١٧٥ (نقطتين - لكل نقطة درجة)
-ضعف الاستفادة من القدرات البشرية فى المنظمة العربية - مشكلة الأمية - نقص ومحدودية مشاركة المرأة فى المنظمات السياسية - الاختلاف الكبير فى مستويات المعيشة بين دولة وأخرى.....
- ٣- أهداف الصناعات البتروكيميائية. ص ١٤٥ (نقطتين - لكل نقطة درجة)
-تنوع مصادر الدخل للدولة المنتجة - توفير المواد الأولية للصناعات التحويلية لتأمين حاجات القطاعات الاستهلاكية - تطوير الصناعات البتروكيميائية إلى تقنيات متخصصة وعالية.....

(ب) لاحظ الجدول التالى ثم أجب عن الأسئلة التي تليه:

الرقم	اسم الدولة العربية	المساحة كم ^٢	تقديرات عدد السكان (ألف نسمة)
١	المغرب	٧١٠,٨٥٠	٣٣,٣٠٤
٢	جيبوتي	٢٣,٢٠٠	٩٣٩
٣	السودان	١,٨٨٢,٠٠٠	٣٧,٤٠٢
٤	البحرين	٧١٢	١,٣٩٩
٥	الجزائر	٢,٣٨١,٧٤١	٣٩,٤٠٢
٦	جزر القمر	٢,٢٣٦	٧٦٥

١- استخلص من الجدول ما يلي:

- أ- أصغر الدول العربية مساحة. ص ١٠٠ (درجتين - لكل نقطة درجة)
-البحرين.....
- ب- أقل الدول العربية سكانا. ص ١٠٠
-جزر القمر.....
- ٢- عدد العوامل المؤثرة في توزيع السكان. ص ١٠٤ (درجة - يكتفى بنقطة واحدة)
-عوامل طبيعية - عوامل بشرية.....
- ٣- علل/ أهمية التعداد السكاني. ص ٩٩ (درجة)

لأن الدولة تحصل من خلاله على معلومات وافية عن أوضاع سكانها (عدد هم الإجمالي - عدد كل جنس (ذكور , إناث) أعمارهم وغير ذلك من المعلومات .

