

تم تحميل هذا الملف من موقع المناهج الكويتية



الملف نموذج إجابة منطقة الجهراء

[موقع المناهج](#) ⇐ [المناهج الكويتية](#) ⇐ [الصف السادس](#) ⇐ [اجتماعيات](#) ⇐ [الفصل الثاني](#)

روابط مواقع التواصل الاجتماعي بحسب الصف السادس



روابط مواد الصف السادس على تلغرام

[الرياضيات](#)

[اللغة الانجليزية](#)

[اللغة العربية](#)

[التربية الاسلامية](#)

المزيد من الملفات بحسب الصف السادس والمادة اجتماعيات في الفصل الثاني

<a href="#">مراجعة</a>	1
<a href="#">مراجعة</a>	2
<a href="#">مراجعة</a>	3
<a href="#">مذكرة في مادة الاجتماعيات</a>	4
<a href="#">مراجعة محلولة ومفيدة في مادة الاجتماعيات</a>	5



العام الدراسي ٢٠٢١ / ٢٠٢٢ م  
الزمن: ساعة و ٤٥ دقيقة  
عدد الأوراق: ( ٥ )

امتحان الفترة الدراسية الثانية  
لمقرر الكويت ودول الخليج العربية  
للصف السادس المتوسط

وزارة التربية  
الإدارة العامة لمنطقة الجهاد التعليمية  
التوجيه الفني للاجتماعيات

أجب عن جميع الأسئلة

السؤال الأول: ( موضوعي ) ويتكون من ( أ - ب - ج - د - هـ - و ) :

أ- ضع خطاً تحت الخيار الصحيح من بين الخيارات التي تلي كل عبارته : ( ٦ درجات - لكل نقطة درجة )

١- الدولة العربية الخليجية التي لها تجربة رائدة في إنتاج محصول القمح : ص ٩٢

أ- الكويت      ب- البحرين      ج- الإمارات      د- السعودية

٢- الحقل النفطي الذي يقع في مملكة البحرين هو : ص ٩١

أ- مريان      ب- دخان      ج- ناطح      د- عوالي

٣- الدولة الخليجية الأعلى في نسبة الوافدين : ص ١١٢

أ- الإمارات      ب- البحرين      ج- السعودية      د- الكويت

٤- عدد الأبار النفطية الكويتية التي فجرها وأحرقها النظام العراقي البائد : ص ١٣٩

أ- ٤٣٤      ب- ٥٣٥      ج- ٦٣٦      د- ٧٣٧

٥- أول حقل نفط تم اكتشافه في دولة الكويت : ص ٨٧

أ- برقان      ب- بحر      ج- الروضتين      د- الوفرة

٦- العام الذي صدر فيه إعلان الدوحة بشأن قيام السوق الخليجية المشتركة : ص ١٣٠

أ- ٢٠٠٦ م      ب- ٢٠٠٧ م      ج- ٢٠٠٨ م      د- ٢٠٠٩ م

ب- ظلل الحرف ( أ ) إذا كانت العبارة صحيحة والحرف ( ب ) إذا كانت العبارة خاطئة لكل مما يلي :

( ٦ درجات - لكل نقطة درجة )

الرقم	العبارات	الإجابات
١	شملت التغيرات في المجتمعات الخليجية بعد ظهور النفط الجوانب الاجتماعية فقط . ص ١٤١	أ ب
٢	بدأ التنقيب عن النفط بدولة الكويت عام ١٩٣٤ م . ص ٨٧	أ ب
٣	عدد السكان في دول الخليج العربية في تزايد مستمر بسبب الزيادة الطبيعية والغير طبيعية. ص ١١٠	أ ب
٤	أصغر دول الخليج العربية من حيث المساحة مملكة البحرين . ص ١١٤	أ ب
٥	حقل الغوار يوجد في سلطنة عمان . ص ٩١	أ ب
٦	دولة الكويت تحتل المركز الأول بإنتاج النفط بين دول الخليج العربي حسب إحصاء ٢٠٠٨ م ص ٨٨	أ ب

تابع / السؤال الأول ( موضوعي ) :

ج- أكمل العبارات التالية بما يناسبها فيما درست : ( ٦ درجات - لكل نقطة درجة )

- ١- المدينة التي يقع فيها مكتب التربية العربي تسمى الرياض ص ١٣٠
- ٢- الدولة الخليجية الأقل في عدد السكان تسمى مملكة البحرين ص ١١٤
- ٣- العام الذي قام فيه النظام العراقي البائد بغزو دولة الكويت ١٩٩٠ م ص ١٣٩
- ٤- الشيخ الذي تم تصدير أول شحنة من النفط الكويتي في عهده أسمه أحمد الجابر ص ٩٠
- ٥- زيادة التبادل التجاري بين دول الخليج العربية مظهر من مظاهر التعاون يسمى الاقتصادي ص ١٣٠
- ٦- العام الذي أنشأ فيه مجلس التعاون الخليجي قوات درع الجزيرة ١٩٨٤ م ص ١٢٩

د - أكتب المفاهيم أو المصطلحات الدالة على العبارات التالية : ( ٦ درجات - لكل نقطة درجة )

- ١- ( زراعة بدون تربة ) الزراعة التي تتم في بيئة مائية أو رملية أو حصى أو نشارة خشب تضاف إليها المحاليل الغذائية . ص ٩٤
- ٢- ( طبقة الأوزون ) درع واقٍ للأحياء ضد خطر الأشعة فوق البنفسجية الضارة . ص ١٣٥
- ٣- ( ترانزيت ) إعادة تصدير البضائع المستوردة . ص ٩٩
- ٤- ( التلوث ) الضرر الذي يصيب عناصر البيئة الأساسية ( هواء - ماء - تربة ) فتتحول من عناصر مفيدة إلى عناصر ضارة . ص ١٣٣
- ٥- ( الدخل القومي ) مجموع الدخول التي تحصل عليها الدولة خلال عام . ص ٩٥
- ٦- ( الكثافة السكانية ) عدد السكان في الكيلو متر المربع ، وتقاس بقسمة عدد السكان على مساحة الدولة . ص ١١٤

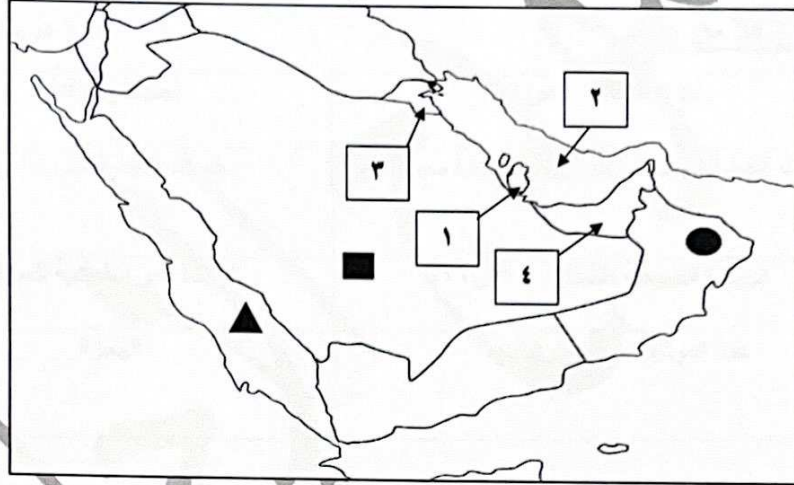
تابع / السؤال الأول (موضوعي) :

هـ - صنف المناطق الصناعية حسب ما يناسبها في الجدول التالي : ( ٦ درجات - لكل نقطة درجة )

ينبع - شمال سترة - الشعيبية - جبل علي - صحار - امسيعيد ص ٩٦

الدولة	الكويت	عمان	قطر	البحرين	الإمارات	السعودية
المنطقة الصناعية	الشعيبية	صحار	امسيعيد	شمال سترة	جبل علي	ينبع

و - لاحظ خريطة دول الخليج العربية الصماء ثم نفذ المطلوب مما يليها : ( ٦ درجات - لكل نقطة درجة )

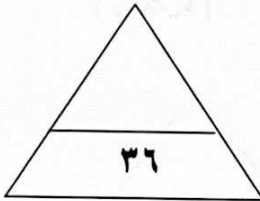


١- اكتب الرقم الدال على العبارات التالية :

- الخليج العربي يمثل على الخريطة الرقم ٢ ص ٩٢
- الدولة الخليجية التي يوجد بها حقل دخان النفطى يمثلها على الخريطة الرقم ١ ص ٩١
- توجد منطقة الوفرة الزراعية في دولة خليجية يمثلها على الخريطة الرقم ٣ ص ٩٢

٢- حدد كل مما يلي على الخريطة باستخدام الرموز التالية :

- الدولة التي يقع فيها ميناء الفحل باستخدام الرمز ● ص ٩٧
- البحر الأحمر باستخدام الرمز ▲ ص ٩٢
- الدولة الخليجية الأعلى في عدد السكان باستخدام الرمز ■ ص ١١٤



السؤال الثاني : ( مقال ) يتكون من ( أ - ب - ج ) :

أ - علل مايلي :

١- شهدت منطقة الخليج العربية بعد اكتشاف النفط نموا سكانيا مضطرداً ( فجانيا ) ص ١١٠ ( يكتفى بنقطتين )

- ( درجتان )
- ارتفاع دخل الفرد .
  - توفر الرعاية الصحية .
  - توفر فرص العمل .

٢- حدوث التلوث البحري ( المائي ) ص ١٣٦ ( يكتفى بنقطتين )

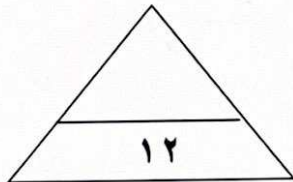
- ( درجتان )
- مخلفات المصانع
  - النفط ومشتقاته
  - مياه الصرف الزراعي
  - الأمطار الحمضية
  - مياة الصرف الصحي غير المعالجة
  - النفايات الخطرة

ب- فرق بين كلا من : ( ٤ درجات لكل نقطة درجة )

احتياطي النفط ص ٨٨	انتاج النفط ص ٨٨
كميات النفط المخزونة في باطن الأرض	كميات النفط التي يتم استخراجها للاستفادة منها
الزيادة غير الطبيعية للسكان ص ١١٠	الزيادة الطبيعية للسكان ص ١١٠
الهجرة	عدد المواليد - عدد الوفيات

ج- ماالنتائج المترتبة على كل ممايلي :

- ١- تلوث التربة . ص ١٣٤
- ( درجتان )
- ضعف قدرتها على الإنتاج الزراعي .
  - تلوث الإنتاج الزراعي مما يؤثر على صحة الإنسان .
- ٢- حرق آبار النفط الكويتي . ص ١٣٩
- ( يكتفى بنقطتين )
- ( درجتان )
- سبب كميات كبيرة من الدخان محدثا تلوثا هوائيا .
  - تساقط الرذاذ النفطي على التربة محدثا تلوثا أرضيا .
  - آثار خطيرة على صحة الإنسان والكائنات الحية .



السؤال الثالث : ( مقال ) يتكون من ( أ - ب - ج ) :

أ - أقرأ الفقرة التالية ثم أجب عما يليها من أسئلة : ص ١١٧ - ١١٨

يتشابه سكان دول الخليج العربية تشابهاً كبيراً بل أن كثيراً من الناس الذين يزورون المنطقة لأول مرة لا يستطيعون أن يميزوا بينهم، ففي دول الخليج العربية مجموعة متشابهة من السكان ينتمون إلى أصول عربية واحدة ويدينون بالإسلام وتجمعهم عادات وتقاليد متشابهة وتاريخ مشترك.

١- اقترح عنواناً مناسباً للفقرة . ( ما يراه المصحح مناسباً ) ( درجة )

٢- ما المقصود بالثقافة : مجموعة من العادات والتقاليد والقيم في مجتمع من المجتمعات ص ١١٨ ( درجة )

٣- أستخرج من الفقرة السابقة الروابط التي تربط بين أبناء دول الخليج العربية . ( يكتفى بنقطتين ) ( درجتان )

ب - عرف مايلي :-  
- وحدة الأصل - الدين واللغة - العادات والتقاليد - التاريخ المشترك ( ٤ درجات لكل تعريف درجة )

١- العنف : السلوك العدواني الموجه ضد الغير ، والذي يتسم بالتخريب والتدمير ،

سواء كان ذلك السلوك أقوالاً أو أفعالاً . ص ١٤٤

٢- الصادرات : السلع والمنتجات التي تبيعها دولنا في الخارج . ص ٩٩

٣- التلوث الضوضائي : أصوات غير متجانسة تتجاوز شدتها المعدل الطبيعي المسموح به للأذن . ص ١٣٤

٤- الصناعة : تحويل المواد الخام إلى مواد يمكن الاستفادة منها . ص ٩٥

ج - أكتب اثنين فيما يلي :-

١- مظاهر التعاون العسكري بين دول مجلس التعاون الخليجية ص ١٢٩ + ١٣٠ ( يكتفى بنقطتين ) ( درجتان )

- المناورات ( التدريبات ) العسكرية المختلفة .
- إنشاء قوة مشتركة تضم جميع دول مجلس التعاون الخليجي ( درع الجزيرة ) .
- قبول أبناء دول مجلس التعاون في الكليات العسكرية .
- المشاركة الفعلية في حرب تحرير دولة الكويت من النظام العراقي البائد .

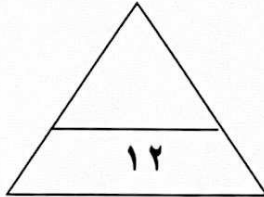
٢- أهم الدول المستوردة للنفط الكويتي . ص ٩٠ ( يكتفى بنقطتين ) ( درجتان )

- الولايات المتحدة الأمريكية

- هولندا

- اليابان

انتهت الأسئلة ،،،





أجب عن جميع الأسئلة:

السؤال الأول ويتكون من ( أ - ب - ج - د - هـ - و ) :

( أ ) أكمل العبارات التالية بما يناسبها فيما درست:- 6 درجات

1- النبات الذي يرتبط وجوده بموسم سقوط الأمطار يسمى جولي. ص 26

2- رئيس البحرية في سفينة الغوص قديما يسمى المجدمي. ص 32

3- الدولة الخليجية التي قامت فيها حضارة دلمون تسمى البحرين. ص 48

4 - المدينة الخليجية التي أعلن فيها قيام مجلس التعاون الخليجي عام 1981 م تسمى أبوظبي. ص 70

5- أول حقل نفط كويتي يسمى بحرة. ص 87

6 - الدولة الخليجية التي لها تجربة رائدة في إنتاج محصول القمح تسمى المملكة العربية السعودية. ص 92

( ب ) ضع خطا تحت الخيار الصحيح من بين الخيارات التي تلي كل عبارة:- 6 درجات

1- تقع منطقة الخليج العربي في الجهة الجنوبية الغربية من قارة : ص 19

أ- آسيا                      ب- أفريقيا                      ج- أوروبا                      د- أمريكا الشمالية

2 - أول دولة أوروبية إستعمارية وصلت للخليج العربي : ص 60

أ - ألمانيا                      ب - إنجلترا                      ج - البرتغال                      د - فرنسا

3- استقلت دولة الكويت في عام : ص 65

أ- 1950 م                      ب- 1951 م                      ج- 1960 م                      د- 1961 م

4 - عدد السنين في القرن الواحد : ص 45

أ - 10 أعوام                      ب - 50 عاما                      ج - 100 عام                      د - 200 عام

5- حاكم الكويت الذي تم تصدير أول شحنة نفط في عهده : ص 90

أ- سالم المبارك                      ب- أحمد الجابر                      ج- عبدالله السالم                      د- صباح السالم

6 - تتركز صناعة النحاس في دولة عمان في مدينة : ص 96

أ - صحار                      ب - مسقط                      ج - جبل علي                      د - الفحل

**تابع / السؤال الأول :-**

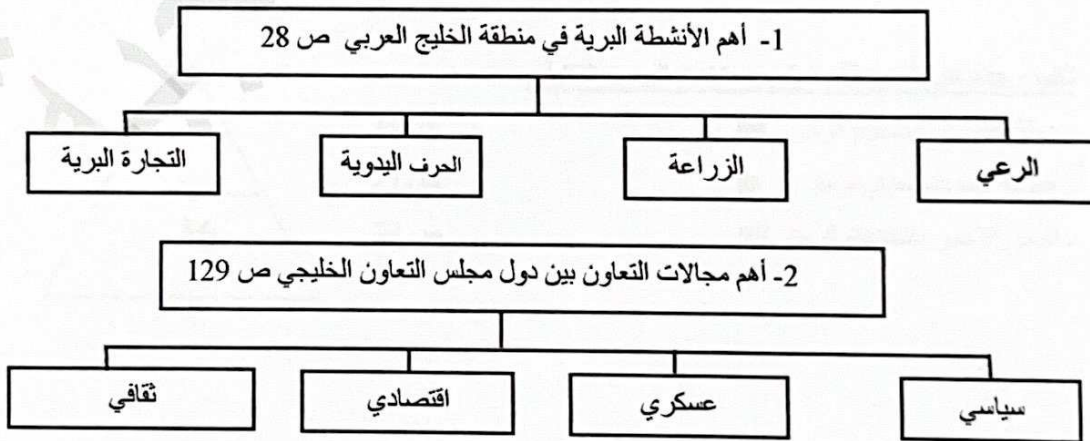
**( ج ) صوب ما تحته خط في العبارات التالية : 6 درجات**

م	العبارة	التصويب
1-	عرف الخليج العربي قديماً باسم البحر <u>الأقصى</u> . ص 47	البحر الأدنى ( شروق الشمس )
2-	صانع السفينة قديماً يسمى <u>الرضيف</u> . ص 33	القلاف
3-	البلد الخليجي الوحيد الذي لم يتعرض للإستعمار هو <u>قطر</u> . ص 65	السعودية
4-	بدأ التنقيب عن النفط في الكويت في عام <u>1944</u> م . ص 87	1934 م
5-	تتركز صناعة الغاز في المملكة العربية السعودية في مدينة <u>الجبيل</u> ص 96	ينبع
6-	تقاس الكثافة السكانية بقسمة عدد السكان على <u>دخل الدولة</u> . ص 114	مساحة الدولة

**( د ) اكتب المفاهيم أو المصطلحات الدالة على العبارات التالية :- 6 درجات**

م	المفهوم	العبارة
1-	المناخ ص 25	حالة الجو في مكان ما خلال فترات زمنية طويلة .
2-	الواحة ص 29	منطقة تقع في الصحراء فيها مياه عذبة صالحة للزراعة .
3-	احتياطي النفط ص 88	كميات النفط المخزونة في باطن الأرض .
4-	ترانزيت ص 99	إعادة تصدير البضائع المستوردة .
5-	الثقافة ص 118	مجموعة من العادات والتقاليد والقيم في مجتمع من المجتمعات .
6-	الأوزون ص 135	درع واق للأحياء ضد خطر الأشعة فوق البنفسجية الضارة

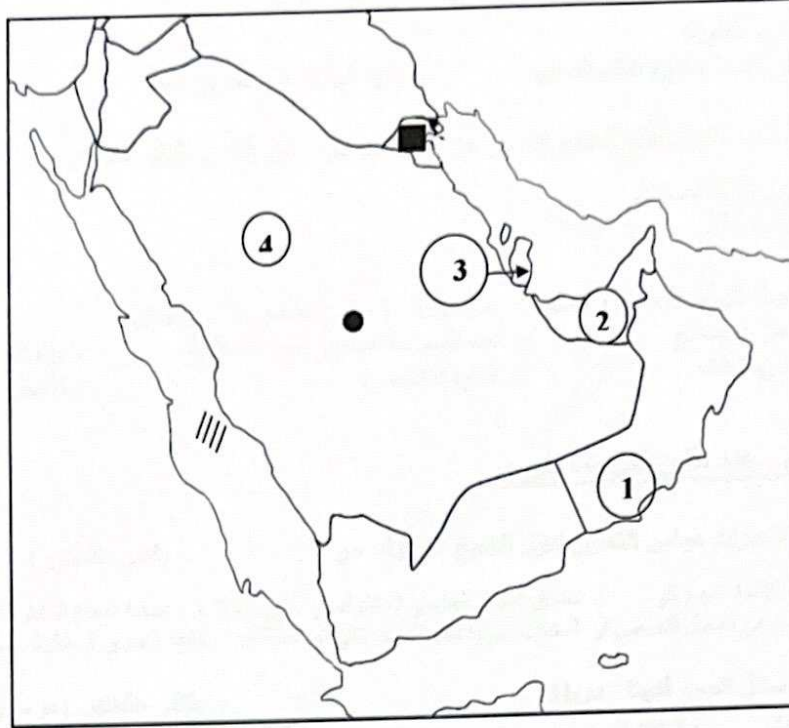
**( هـ ) اكمل المخططات السهمية التالية : 6 درجات**





تابع / السؤال الأول :-

( 9 ) لاحظ خريطة شبه الجزيرة العربية الصماء ثم نفذ المطلوب : 6 درجات



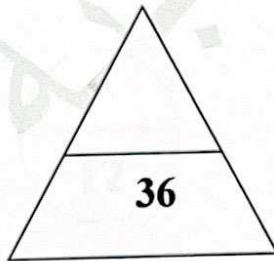
موقع  
المناهج الكويتية  
almanahj.com/kw

أولاً : اكتب مدلولات الأرقام التالية :

- منطقة امسيعد يمثلها على الخريطة الرقم ( 3 )
  - منطقة صلالة الزراعية يمثلها على الخريطة الرقم ( 1 )
  - دولة الإمارات العربية المتحدة يمثلها على الخريطة الرقم ( 2 )
- ص 91  
ص 92  
ص 91

ثانياً : حدد على الخريطة ما يلي باستخدام الرموز التالية :

- دولة الكويت باستخدام الرمز ■
- هضبة نجد باستخدام الرمز ●
- البحر الأحمر باستخدام الرمز ///



ص 34  
ص 23  
ص 23

**السؤال الثاني : ويتكون من ( أ - ب ) :**

**( أ ) علل لما يلي :-**

1- النباتات المعمرة تتحمل الجفاف . ص 26 ( يكتفى بنقطتين ) درجتان  
\* جذورها الطويلة  
\* قلة أوراقها ، وكثرة الأشواك فيها / - قدرتها العالية على تخزين المياه

2- إنصرف سكان منطقة الخليج العربي عن حرفة الغوص . ص 31 ( يكتفى بنقطتين ) درجتان  
\* ظهور اللؤلؤ الصناعي  
\* اكتشاف النفط

3- حدوث التلوث البحري ( المائي ) . ص 136 ( يكتفى بنقطتين ) درجتان  
\* مخلفات المصانع  
\* النفط ومشتقاته  
/ - مياه الصرف الصحي غير المعالجة  
/ - النفايات الخطرة  
/ - مياه الصرف الزراعي  
/ - الأمطار الحمضية




**( ب ) : عدد اثنين لكل مما يلي :-**

1 - إنجازات مجلس التعاون لدول الخليج العربية . ص 77 ( يكتفى بنقطتين ) درجتان  
\* إقامة الإتحاد الجمركي / - انطلاق السوق الخليجي المشترك في يناير 2008 م / - اتفاقية الدفاع المشتركة وتعزيز قوة درع الجزيرة  
\* التنسيق في المجال السياسي في المحافل الدولية لكل القضايا التي تهم المجلس / - وثيقة التطوير الشامل للتعليم

2- وسائل الصيد قديما . ص 31  
\* الميذار / - الحظرة  
\* القرقور

3- أهم الدول المستوردة للنفط من الكويت . ص 90 ( يكتفى بنقطتين ) درجتان  
\* الولايات المتحدة الأمريكية  
\* هولندا / - اليابان



**السؤال الثالث : يتكون من ( أ - ب - ج ) :**

**( أ ) فرق بين كل مما يلي: درجتان**

الواردات ص 99	الصادرات
البضائع والسلع التي تشتريها دولنا من الخارج	السلع والمنتجات التي تبيعها دولنا في الخارج

**( ب ) أجب عن الأسئلة التالية**

1 - إذكر أهداف مجلس التعاون لدول الخليج العربية . ص 76 ( يكتفى بنقطتين ) درجتان

\* تحقيق التعاون بين الدول الأعضاء في جميع المجالات

\* تحقيق الترابط والصلات بين دول مجلس التعاون /- العمل على تقدم دول مجلس التعاون في المجال العلمي

موقع  
المنهج الكويتية  
almanahj.com/kw

2 - اقترح حولا لمشكلة العنف . ص 150 ( يكتفى بنقطتين ) درجتان

\* الاهتمام الجاد بالقرآن الكريم والسنة النبوية الشريفة /- الاهتمام بالقراءة والمطالعة بدلا من اصديقاء السوء

\* القوة الحسنة من كل المحيطين بالشباب ( المتعلمين ) واتباع أساليب الحوار في علاج المشكلات والخلافات

**( ج ) قارن بين كل من :**

وجه المقارنة	خطوط الطول درجتان	دوائر العرض ص 21 درجتان
التعريف	خطوط وهمية أي غير موجودة على سطح الأرض ترسم على الكرة الأرضية . وتقسّم الكرة الأرضية الى قسمين شرقي وغربي	خطوط وهمية أي غير موجودة على سطح الأرض ترسم على الكرة الأرضية . وتقسّم الكرة الأرضية الى قسمين شمالي وجنوبي
العدد	360 خطا درجة	180 دائرة درجة