

تم تحميل هذا الملف من موقع المناهج الكويتية



الملف نموذج إجابة منطقة مبارك الكبير

[موقع المناهج](#) ⇐ [المناهج الكويتية](#) ⇐ [الصف السادس](#) ⇐ [اجتماعيات](#) ⇐ [الفصل الثاني](#)

روابط مواقع التواصل الاجتماعي بحسب الصف السادس



روابط مواد الصف السادس على تلغرام

[الرياضيات](#)

[اللغة الانجليزية](#)

[اللغة العربية](#)

[التربية الاسلامية](#)

المزيد من الملفات بحسب الصف السادس والمادة اجتماعيات في الفصل الثاني


<a href="#">مراجعة</a>	1
<a href="#">مراجعة</a>	2
<a href="#">مراجعة</a>	3
<a href="#">مذكرة في مادة الاجتماعيات</a>	4
<a href="#">مراجعة محلولة ومفيدة في مادة الاجتماعيات</a>	5



وزارة التربية

الإدارة العامة لمنطقة مبارك الكبير التعليمية

موقع  
المناهج الكويتية  
[almanahj.com/kw](http://almanahj.com/kw)



نموذج إجابة

الإدارة العامة لمنطقة مبارك الكبير التعليمية



وزارة التربية

الإدارة العامة لمنطقة مبارك الكبير التعليمية

التوجيه الفني للاجتماعيات

العام الدراسي: ٢٠٢١/٢٠٢٢ م

الزمن : ساعة و ٤٥ دقيقة

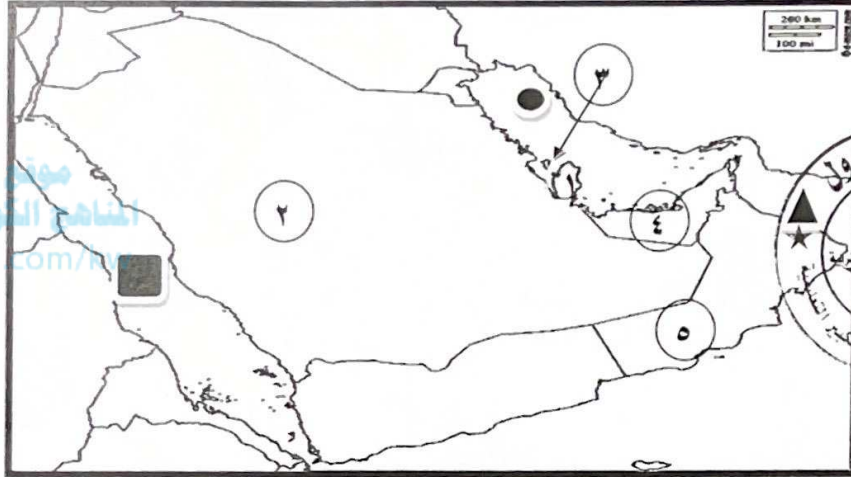
عدد الأوراق : ٥

نموذج إجابة نهاية الفترة الثانية للصف السادس لمادة الاجتماعيات

( الكويت ودول الخليج العربية )

السؤال الأول موضوعي يتكون من ( أ - ب - ج ) :

( أ ) لاحظ خريطة شبه الجزيرة العربية ثم أجب عن ما يليها من أسئلة :



- أقل الدول الخليجية في نسبة المواطنين تحمل على الخريطة الرقم ( ٤ ) ص ١١٢
- مقر مكتب التربية العربي يقع في دولة خليجية تحمل على الخريطة الرقم ( ٢ ) . ص ١٣٠
- ميناء الفحل يمثله على الخريطة الرمز ( ▲ ) ص ٩٧
- قلعة البرتغال توجد في دولة خليجية تحمل على الخريطة الرقم ( ٣ ) . ص ١٢٠
- مسطح مائي تطل عليه جميع دول الخليج العربية يمثله على الخريطة الرمز ( ● ) ص ٩١

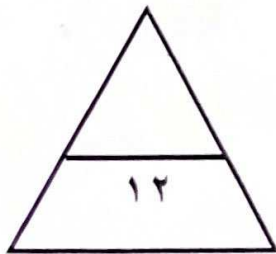
( ب ) اكتب المفاهيم أو المصطلحات الدالة على العبارات التالية:

- ١- ( طبقة الأوزن ) : درع واق للأحياء من خطر الأشعة فوق البنفسجية الضارة . ص ١٣٥
- ٢- ( زراعة بدون تربة ) : زراعة تتم في بيئة مائية أو رملية أو حصى أو نشارة خشب وتضاف إليها محاليل غذائية . ص ٩٤
- ٣- ( تلوث ) : ضرر يصيب عناصر البيئة الأساسية فتتحول من عناصر مفيدة إلى عناصر ضارة . ص ١٣٣
- ٤- ( إنتاج النفط ) : كميات النفط التي يتم استخراجها للاستفادة منها . ص ٨٨

( ج ) صنف المصطلحات التالية الى مكانها المناسب في الجدول الذي يليها :

تلوث هوائي - تلوث جوي - تلوث بحري

تلوث هوائي	تلوث جوي	تلوث بحري
حرق النفايات ص ١٣٤	أعمال نجارة ص ١٣٨	مخلفات المصانع ص ١٣٦



السؤال الثاني (موضوعي) يتكون من ( أ - ب ) :

( أ ) ضع خطأ تحت الخيار الصحيح من بين الخيارات التي تلي كل عبارة :

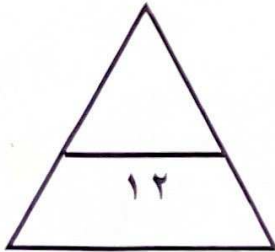
- ١- توحيد المناهج التعليمية وتطويرها بين دول مجلس التعاون الخليجي من مظاهر التعاون : ص ١٣٠  
أ- العسكري      ب- السياسي      ج- الاقتصادي      د- الثقافي
- ٢- الدولة الخليجية التي لم تتعرض للاستعمار الأجنبي : ص ١٢٠  
أ- قطر      ب- السعودية      ج- الامارات      د- الكويت
- ٣- أول حقل نفطي تم اكتشافه في الكويت : ص ٨٧  
أ- برقان      ب- الوفرة      ج- بحرة      د- الروضتين
- ٤- تحويل المواد الخام الى مواد يمكن الاستفادة منها : ص ٩٥  
أ- صناعة      ب- تعدين      ج- تصدير      د- انتاج
- ٥- إحداث فساد لنوعية المياه من خلال إدخال مواد ضارة بها من الإنسان يسمى تلوث : ص ٣٦  
أ- أرضي      ب- مائي (بحري)      ج- هوائي      د- ضوضائي
- ٦- أهم الدول المستوردة للنفط الكويتي : ص ٩٠  
أ- هولندا      ب- بريطانيا      ج- إيطاليا      د- روسيا
- ٧- هيئة الشباب والرياضة تمثل أحد مساعي جهود دول الخليج العربية لحل المشكلات : ص ١٥٠  
أ- الاقتصادية      ب- الثقافية      ج- السياسية      د- الاجتماعية



www.almanahj.com/kw

( ب ) اختر للمجموعة ( أ ) ما يرتبط بها من المجموعة ( ب ) بوضع الرقم المناسب :

م	المجموعة أ	الرقم المناسب	المجموعة ب
١	دولة خليجية عربية يوجد بها حقل الغوار . ص ١٢٩	-	الامارات
٢	أصغر الدول الخليجية العربية من حيث عدد السكان ص ١١٤	٤	الكويت
٣	سهل الباطنة منطقة زراعية توجد في دولة خليجية . ص ٩٣	٢	البحرين
٤	دولة خليجية تم حرق آبار النفط فيها أثر عدوان عراقي غاشم . ص ١٣٩	٥	قطر
٥	منطقة امسيعد الصناعية توجد في دولة خليجية . ص ٩٦	١	السعودية
		٣	عمان

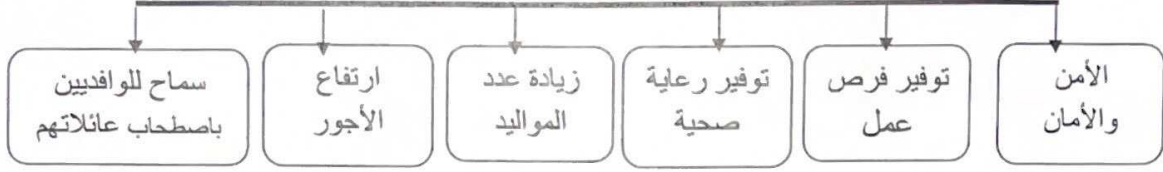


نموذج إجابة امتحان نهاية الفترة الثانية للصف السادس لمادة الاجتماعيات (الكويت ودول الخليج العربية) ٢٠٢١/٢٠٢٢ م

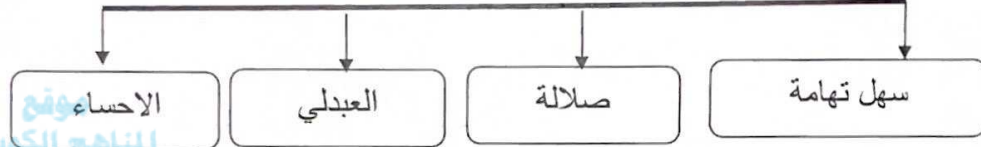
السؤال الثالث (موضوعي) يتكون من (أ - ب - ج):

(أ) اكتب عنواناً مناسباً للمخططات السهمية التالية:

١- عوامل النمو السكاني ص ١١١



٢- مناطق زراعية ص ٩٣



٣- مصادر تلوث الهواء ص ١٣٤



(ب) صوب ما تحته خط في العبارات التالية:

الرقم	العبارة	التصويب
١	المبيدات الحشرية من مصادر تلوث الهواء الطبيعية . ص ١٣٤	غير الطبيعية
٢	تعرضت الكويت إلى الغزو العراقي الغاشم في سنة ١٩٩١م ص ١٣٩	١٩٩٠م
٣	العمالة المنزلية تمثل أحد مشكلات دول الخليج العربية البيئية . ص ١٤٢	الاجتماعية
٤	قبول أبناء مجلس التعاون في الكليات العسكرية من مظاهر التعاون الثقافي . ص ١٢٩	العسكري
٥	اجتماع وزراء التربية والتعليم لدول الخليج العربية كل عام . ص ١٣٠	عامين

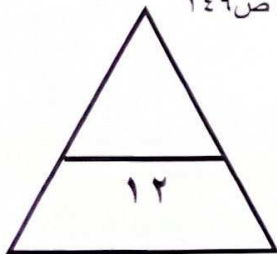
(ج) أكمل العبارات التالية بما يناسبها من كلمات:

١- المملكة العربية السعودية لها تجربة رائدة في إنتاج محصول القمح . ص ٩٢

٢- أحد أسباب مظاهر العنف الناجمة عن التربية الخاطئة للطفل والاحساس بالنقص تسمى أسرية . ص ١٤٩

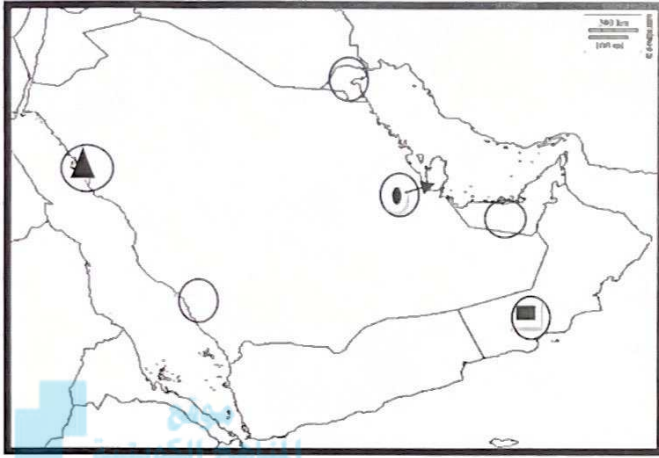
٣- جبل علي من أهم المناطق الصناعية في دولة خليجية تسمى الامارات . ص ٩٦

٤- كميات من النفط المخزونة في باطن الأرض احتياطي النفط ص ٨٨



السؤال الرابع ( مقالي ) يتكون من ( أ - ب - ج ) :

( أ ) عين المطلوب على خريطة شبه الجزيرة العربية الصماء باستخدام الرموز التالية : ٣ درجات



almanahj.com/kw

١- مدينة ينبع الصناعية بوضع الرمز ▲ ص ٩٧

٢- مدينة صلالة بوضع الرمز ■ ص ٩٢

٣- دولة اعلن فيها قيام السوق الخليجية المشتركة بوضع الرمز ● ص ١٣٠

( ب ) علل لما يأتي : ( ٦ درجات )

١ - ثقب طبقة الأوزون. ص ١٣٥

- بسبب التلوث الهوائي

٢- تحول رمال دولة الكويت من اللون الأصفر الى اللون الأسود. ص ١٣٩

- بسبب تساقط الرذاذ النفطي على التربة محدثا تلوثا أرضيا

٣- زيادة عدد السكان في منطقة الخليج العربي. ص ١١٠

- الزيادة الطبيعية

- الزيادة غير الطبيعية

٤- قيام دول الخليج العربية بإقامة العديد من الموانئ النفطية. ص ٩٠

- تزايد الطلب على النفط كمصدر للطاقة

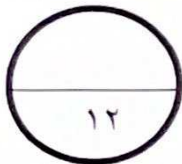
- تزايد الإنتاج النفطي لدول الخليج العربية .

( ج ) عرف ما يلي : ( ٣ درجات )

١- ترانزيت : إعادة تصدير البضائع المستوردة . ص ٩٩

٢- دخل قومي : هو مجموع الدخول التي تحصل عليها الدولة خلال عام. ص ٩٥

٣- عنف : السلوك العدواني الموجه ضد الغير و الذي يتسم بالتخريب و التدمير سواء كان السلوك اقوال او افعال . ص ١٤٤



السؤال الخامس (مقالي) يتكون من (أ - ب - ج):

(أ) فرق بين كل مما يلي : ( ٤ درجات)

واردات ص ٩٩	صادرات ص ٩٩
البضائع و السلع التي تشتريها الدول من الخارج	السلع والمنتجات التي تبيعها الدول في الخارج
تلوث أرضي (تربة) ١٣٤	تلوث ضوضائي ص ١٣٤
دخول مواد غريبة في التربة مما يلحق الضرر في خواصها ومكوناتها	أصوات غير متجانسة تجتاز شدتها المعدل الطبيعي المسموح به للأذن



(ب) أصدر حكماً على مدى صحة أو خطأ العبارة التالية مع التعليل : درجتان

(إحراق الآبار النفطية الكويتية مصدر للتلوث بأنواعه الثلاث) ص ١٣٩  
الحكم : عبارة صحيحة  
التعليل ( أذكر أنواع التلوث ) : تلوث مياه - تلوث تربة - تلوث جوي

(ج) اكتب فيما يلي مما درست : ( ٦ درجات)

١- شهدت منطقة الخليج العربية بعد اكتشاف النفط نموا سكانيا فجانبا . ص ١١٠

● ارتفاع دخل الفرد

● توفر الرعاية الصحية ● توفر فرص العمل

٢- مجالات التعاون السياسي بين دول مجلس التعاون الخليجي. ص ١٢٩

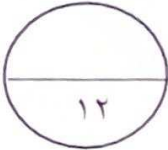
● ادانة احتلال الجزر الإماراتية الثلاث.

● توحيد الموقف السياسي تجاه القضايا (قضية فلسطين).

٣- النتائج المترتبة على تلوث التربة . ص ١٣٤

● ضعف قدرتها على الإنتاج الزراعي.

● تلوث الإنتاج الزراعي مما يؤثر على صحة الإنسان.



انتهت الأسئلة