

تم تحميل هذا الملف من موقع المناهج الكويتية



التوجيه الفني للرياضيات

الملف نموذج إجابة الاختبار التحصيلي التجريبي الأول

[موقع المناهج](#) ← [المناهج الكويتية](#) ← [الصف الأول](#) ← [رياضيات](#) ← [الفصل الأول](#)

روابط مواقع التواصل الاجتماعي بحسب الصف الأول



روابط مواد الصف الأول على تلغرام

[الرياضيات](#)

[اللغة الانجليزية](#)

[اللغة العربية](#)

[التربية الاسلامية](#)

المزيد من الملفات بحسب الصف الأول والمادة رياضيات في الفصل الأول

<a href="#">تدريبات على كتابة الاعداد من 1 وحتى 10 في مادة الرياضيات</a>	1
<a href="#">التصنيف وفق خاصية واحدة في مادة الرياضيات</a>	2
<a href="#">اوراق عمل في مادة الرياضيات</a>	3
<a href="#">تحضير درس الانماط في مادة الرياضيات</a>	4
<a href="#">تحضير درس التطابق في مادة الرياضيات</a>	5



وزارة التربية

الإدارة العامة لمنطقة حولي التعليمية

التوجيه الفني للرياضيات

الاسم : .....

الصف : .....

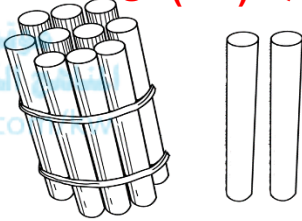
الدرجة : ٢٠/.....

الاختبار التحصيلي (١) التجريبي  
للصف الأول الابتدائي  
للعام الدراسي ٢٠٢٢ / ٢٠٢٣

السؤال الأول :

(أ) اكتب رمز العدد الممثل

الوحدة الثالثة بند (٣-٩) ص ٨٢ ٢ درجة



١٢

الوحدة الثانية بند (٢-٦) ص ٥٢ ٢ درجة



٤

٤

(ب) استكمل رسم العناصر بحسب العدد الموضح رمزه .

الوحدة الثانية بند (٢-٤) ص ٤٨



١ درجة ١ درجة

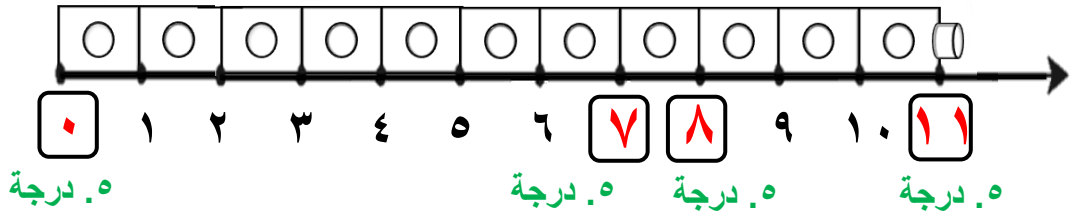
٣

٢

السؤال الثاني : أكمل .

الوحدة الثالثة بند (٣-٨) ص ٨٠

(أ)



٢

(ب)

الوحدة الثانية بند (٢-٨) ص ٥٦

١,٥ درجة

٤

١,٥ درجة

أو

١ و ٤

٣ و ٢

٢ و ٣

٣

السؤال الثالث : قارن بين العددين بوضع < أو > أو = .

الوحدة الثالثة بند (١-٣) ص ٦٥

٤

٢ درجة

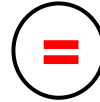
٢



٦

٢ درجة

٩




٩

السؤال الرابع:

الوحدة الثانية بند (٣-٢) ص ٤٦

١

(أ) لون ٢  .




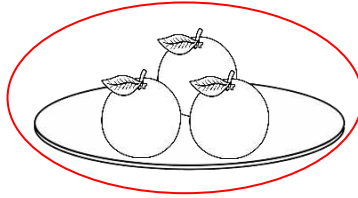

٥. درجة ٥. درجة

(ب) حوط .

٤

الوحدة الثانية بند (٤-٢) ص ٤٨ ٢ درجة

- الطبق الذي يحتوي على ٣ برتقالات



الوحدة الثالثة بند (٧-٣) ص ٧٨ ٢ درجة

- العلبة التي بها ١٠ ألوان

