

تم تحميل هذا الملف من موقع المناهج الكويتية



الملف نموذج اختبار تجريبي

[موقع المناهج](#) ← [المناهج الكويتية](#) ← [الصف الثامن](#) ← [اجتماعيات](#) ← [الفصل الثاني](#)

روابط مواقع التواصل الاجتماعي بحسب الصف الثامن



روابط مواد الصف الثامن على تلغرام

[الرياضيات](#)

[اللغة الانجليزية](#)

[اللغة العربية](#)

[التربية الاسلامية](#)

المزيد من الملفات بحسب الصف الثامن والمادة اجتماعيات في الفصل الثاني

|   |   |
|---|---|
| <a href="#">تلخيص</a>   | 1 |
| <a href="#">امتحان دولة الكويت والعالم الاسلامي</a>                                   | 2 |
| <a href="#">حل التقويم لمادة الاجتماعيات</a>  | 3 |
| <a href="#">نموذج احابة اختبار في مادة الاجتماعيات لنهاية الفترة الدراسية الثانية</a> | 4 |
| <a href="#">نموذج الاحابة لامتحان الاجتماعيات فرواتية</a>                             | 5 |

**السؤال الأول: (موضوعي) يتكون من ( أ - ب - ج ):**  
**(أ) أكمل العبارات التالية بما يناسبها فيما درست:**

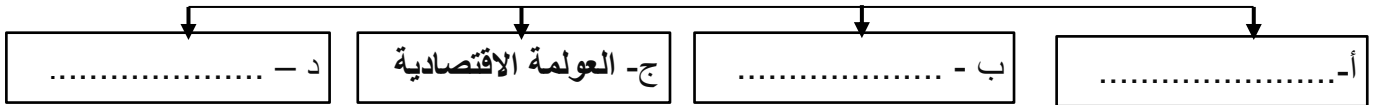
- ١- الدولة الإسلامية التي يمثل التلوث الهوائي فيها خطرا على مواطنيها نظرا للتلوث الضبابي تسمى.....
- ٢- نسبة إمام البالغين بالقراءة والكتابة في دولة قطر لعام ٢٠١٥م يقدر بنحو .....%
- ٣- تم الاعتداء علي مركز الصامته الحدودي عام.....
- ٤- أعلى دولة إسلامية في ارتفاع نسبة الفقر تسمى.....
- ٥- أمير دولة الكويت الذي حدث في عهده الغزو العراقي لدولة الكويت هو الشيخ.....
- ٦- الإقليم الذي شنت عليه سلطات ميانمار حملات قمعية ضد مسلميه وصلت إلى حد الإبادة الجماعية يسمى.....

**( ب ) اختر من القائمة ( أ ) ما يناسبها من القائمة ( ب ) بوضع الرقم المناسب :**

| الرقم | ( أ )                                     | الرقم المناسب | ( ب )           |
|-------|---|---------------|-----------------|
|       | نتائج التلوث                              |               | نوع التلوث      |
| ١     | التوتر العصبي لدى الإنسان                 | .....         | التلوث الهوائي  |
| ٢     | تآكل وتلف المباني والمنشآت والآثار        | .....         | تلوث التربة     |
| ٣     | هلاك الكائنات البحرية الحيوانية والنباتية | .....         | التلوث الضوضائي |
| 4     | انحسار الغطاء النباتي                     | .....         |                 |

**( ج ) أكمل المخططات السهمية التالية بما يناسبها فيما درست :**

١- التحديات الاقتصادية التي تواجه دول العالم الإسلامي



٢- اجهزة منظمة التعاون الاسلامي



**السؤال الثاني: (موضوعي) يتكون من ( أ - ب - ج ):**

**( أ ) صحح ما تحته خط في كل عبارة مما يلي وضع الإجابة الصحيحة بين القوسين :**

- ١- ظهر التلوث البيئي مع بداية قيام الثورة الزراعية . ( )  
٢- تأسس البنك الإسلامي للتنمية عام ١٩٧٠م . ( )  
٣- تأسست شرطة البيئة الكويتية عام ٢٠١٦م . ( )  
٤- عدد اللغات في العالم الإسلامي تزيد عن ٣٠ لغة أصلية . ( )  
٥- المدينة التي يوجد بها مقر مجمع الفقه الإسلامي هي بنغازي . ( )  
٦- الغاز الجوي الذي يرمز له بالرمز 20 هو الميثان . ( )

**( ب ) صنف الدول الإسلامية حسب القارة في الجدول التالي:**

موقع

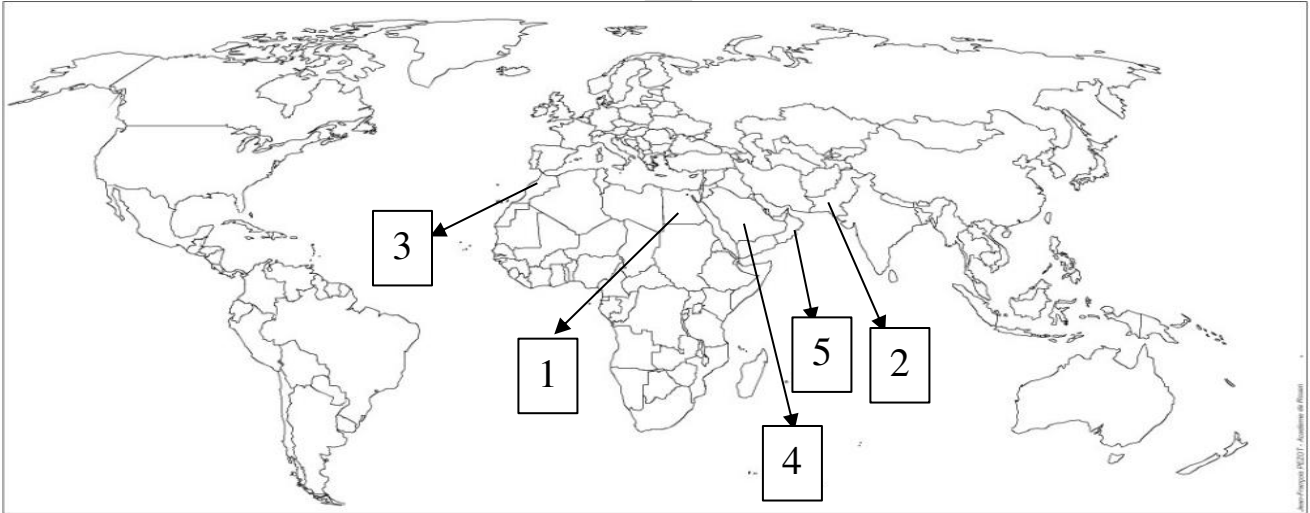
المناهج الكويتية

almanahi.com/kw

(سورينام - كازاخستان - السنغال - ألبانيا )

| قارة أفريقيا | قارة آسيا | قارة أوروبا | قارة أمريكا الجنوبية |
|--------------|-----------|-------------|----------------------|
| .....        | .....     | .....       | .....                |

**( ج ) لاحظ خريطة العالم الإسلامي الصماء ثم نفذ المطلوب منك .**



- ( ) - الدولة الإسلامية التي بلغ نسبة التلوث الهوائي بها ٤٠ % يمثلها الرقم  
( ) - الدولة الإسلامية التي قامت بتشغيل مدرسة بالطاقة الشمسية يمثلها الرقم  
( ) - الدولة الإسلامية التي يوجد بها مقر منظمة التعاون الإسلامي يمثلها الرقم  
( ) - الدولة الإسلامية التي انعقد فيها المؤتمر الإسلامي الأول يمثلها الرقم  
( ) - الدولة الخليجية التي لا تعاني من التصحر يمثلها الرقم

**السؤال الثالث: (مقالى) يتكون من ( أ - ب ):**

**(أ) - اقرأ الفقرة التالية ثم أجب عما يليها من الأسئلة :**

" دعا عاهل المملكة العربية السعودية الملك فيصل بن عبد العزيز آل سعود في مؤتمر القمة العربية الثالثة في عام ١٩٥٦م الى أنشاء تجمع يضم الدول الإسلامية، ولكن هذه الدعوة لم تر النور إلا بعد إحراق المسجد الأقصى في عام ١٩٦٩م"

١. عرف ما تحته خط

٢. أذكر سبب إنشاء منظمة المؤتمر الإسلامي

٣- عدد أهم الأهداف السياسية لمنظمة المؤتمر الإسلامي

٤- ما هي مبادئ منظمة التعاون الإسلامي

**(ب) - قارن بين بعض مؤتمرات منظمة التعاون الإسلامي حسب المطلوب بالجدول :**

| أوجه المقارنة | المؤتمر الإسلامي الأول | المؤتمر الإسلامي الخامس | المؤتمر الإسلامي الثالث عشر |
|---------------|------------------------|-------------------------|-----------------------------|
| العام         | .....                  | .....                   | .....                       |
| مقر الانعقاد  | .....                  | .....                   | .....                       |
| أهم القرارات  | .....                  | .....                   | .....                       |

**السؤال الرابع: (مقالى) يتكون من ( أ - ب - ج ):**

**(أ) - عرف المفاهيم التالية :**

- ١-التصحر : .....
- ٢-الاحتباس الحراري : .....
- ٣-الأمية: .....

**(ب) - اكتب فى كل مما يلى:**

١. أسباب مشكلة إدمان المخدرات

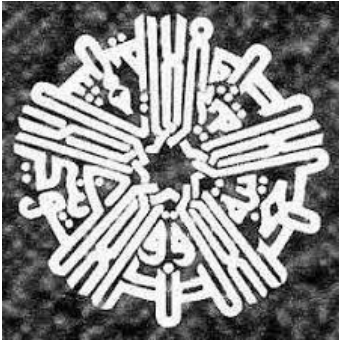


٢- أسباب الفقر في الدول الإسلامية

٣- الهدف من عقد مؤتمر العقير عام ١٩٢٢م

**( ج ) لاحظ الشعار الذى أمامك ثم أجب عن الأسئلة التالية :**

١- ما اسم الشعار الذى أمامك



٢- من صاحب فكرة إنشاء الصندوق الكويتي للتنمية الاقتصادية العربية

٣- اذكر تاريخ إنشاء الصندوق الكويتي للتنمية الاقتصادية العربية

٤- عدد أهداف الصندوق الكويتي للتنمية الاقتصادية العربية