

تم تحميل هذا الملف من موقع المناهج الكويتية



الملف نموذج إجابة منطقة الجهراء

[موقع المناهج](#) ⇨ [المناهج الكويتية](#) ⇨ [الصف التاسع](#) ⇨ [علوم](#) ⇨ [الفصل الأول](#)

روابط مواقع التواصل الاجتماعي بحسب الصف التاسع



روابط مواد الصف التاسع على تلغرام

[الرياضيات](#)

[اللغة الانجليزية](#)

[اللغة العربية](#)

[التربية الاسلامية](#)

المزيد من الملفات بحسب الصف التاسع والمادة علوم في الفصل الأول

مسودة كتاب الطالب علوم لعام 2018	1
تلخيص كورس اول في مادة العلوم	2
بنك اسئلة الوحدة الثانية في مادة العلوم	3
بنك اسئلة الوحدة الاولى في مادة العلوم	4
المواضيع المعلقة في مادة العلوم لعام	5

المادة : العلوم
الزمن : ساعتين وربع

وزارة التربية
الإدارة العامة لمنطقة الجبراء التعليمية
التوجيه الفني للعلوم

امتحان نهاية الفصل الدراسي الاول في مجال العلوم عدد الأوراق : 4

للسف التاسع المتوسط للعام الدراسي 2021 / 2022م

السؤال الاول : اختر الاجابة الصحيحة علميا لكل من العبارات التالية بوضع علامة (√) في المربع المقابل لهما : (2×8=16 درجة)

المبيض
المنهج الكويتية
almanahj.com/kw
التستوسترون

المهبل

الرحم

قناة فالوب

2- تنتج الخصية الهرمون المسؤول عن المظاهر الجنسية الذكرية :

الأدرينالين

الاستيروجنين

البروجسترون

3- عدد الكروموسومات الموجودة في الخلية اللاقحة (الزيجوت) يساوي:-

32 كروموسوم

64 كروموسوم

46 كروموسوم

23 كروموسوم

4- تغير في التركيب الكيميائي للجين أو تغير موقع الجين على الكروموسوم تسمى طفرة :

كروموسومية

جينية

كروموسومية تركيبية

عددية

5- أقصر مسافة في خط مستقيم بين نقطة البداية ونقطة نهاية الحركة :-

القدرة

الشغل

الازاحة

السرعة

6- تعتمد القدرة (P) على عاملين هما :-

F.d

W.t

W.F

W.d

7- يتكون الجزء العلوي من المصيدة النفطية من صخور :-

غير منفذه

متوسط النفاذية

منخفضة النفاذية

عالية النفاذية

8- العملية التي يتم فيها فصل النفط لمكوناته تسمى :-

التقطير


التقطير التجزيئي

التقطير الهدام

تكرير النفط

السؤال الثاني:


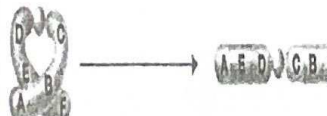

أكتب بين القوسين كلمة (صحيحة) للعبارة الصحيحة و كلمة (خطأ) للعبارة غير الصحيحة علمياً في كل مما يأتي : (٤ × ٢ = ٨ درجة)

- 1- العلاقة بين الشغل والازاحة علاقة عكسية . 
- 2- من الأدلة على هجرة النفط ظهوره على سطح الأرض في صورة رشح بترولي .
- 3- النفط خليط من مركبات كيميائية عضوية تسمى المركبات الهيدروكربونية .
- 4- قرص الأنيميا المنجلية تحدث بسبب طفرة كروموسومية .

السؤال الثالث:

في الجدول التالي اختر العبارة أو الشكل من المجموعة (ب) واكتب رقمها أمام

ما يناسبها من عبارات المجموعة (أ) (٦ × ٢ = ١٢ درجة)

الرقم	المجموعة (أ)	المجموعة (ب)
(....)	- مرض بكتيري تسببه بكتيريا كروية.	١- مرض الزهري
(....)	- مرض بكتيري تسببه بكتيريا حلزونية .	٢- حمى النفاس
(....)	- الشكل الذي يمثل طفرة كروموسومية تركيبية بالنقص .	٣- الايدز
(....)	- الشكل الذي يمثل طفرة كروموسومية تركيبية بالتكرار .	٤- 
(....)	- الجهاز المستخدم في الطريقة المغناطيسية للمسح.	٥- 
(....)	- الجهاز المستخدم في طريقة الجاذبية الأرضية للمسح .	٦- 
(....)	- الجرافيمترات	٧- الماغنتوميتر
(....)	- الجيوفونات	٨- الجيوفونات
(....)	- الجرافيمترات	٩- الجرافيمترات

4

السؤال الرابع : (أ) : علل لما يلي تعليلا علميا سليما : (2×2=4)

1- ظهور صفات جديدة لم تكن موجودة في الأجيال السابقة .

.....

2- تحتوي القطعة الوسطية للحيوان المنوي علي الميتوكوندريا .

.....

4

(ب): قارن بين كلا مما يلي كما في الجدول التالي :- (2×2).

وجه المقارنة	الهجرة الأولية للنفط	الهجرة الثانوية للنفط
اتجاه الهجرة		
وجه المقارنة	النشأة العضوية	النشأة غير عضوية
تكوين النفط الأساسي		

4

(ج) صنف ما يلي (2×2):-

1- خشونة الصوت - نزول دم الحيض - نعومة الصوت - نمو العضلات


علامات البلوغ عند الفتي	علامات البلوغ عند الفتاة

2- الكيروسين - الميثان - البروبان - الجازولين

نواتج تقطير سائلة	نواتج تقطير غازية

12

درجة السؤال الرابع




السؤال الخامس (أ) : أي مما يلي لا ينتمي للمجموعة مع ذكر السبب: (4=2×2)

1- غدة البروستاتا - المبيض - اليربخ - غدة كوبر

الكلمة : السبب :

2- ادينين - ثايمين - جوانين - لايسين


الكلمة : السبب :




(ب) : التفكير الناقد وحل المشكلات (2×2) :

1 - ذهب خالد لشراء سخان كهربائي ووجد امامه سخانان كما هو موضح بالشكل

انظر للصورتين جيدا ايهما تفضله عند شرائك ؟



(الشكل 2)

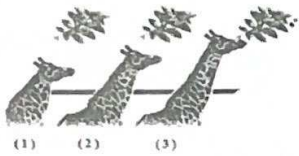


(الشكل 1)

2000W

اختر السخان في الشكل رقم (.....) لان له قدرة كهربائية تساوي

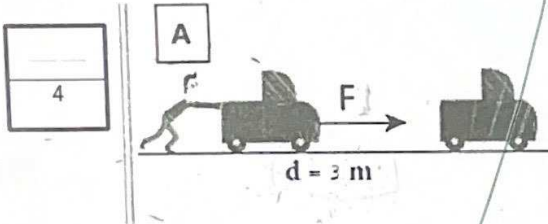
2- عندما قل الغذاء في أرض الغابة اضطرت الزرافات للبحث عن غذاءها في أعلى الأشجار؟؟



- الملاحظة : أن الزرافات التي تستطيع البقاء

هي الزرافة رقم (.....)

- وذلك بسبب :

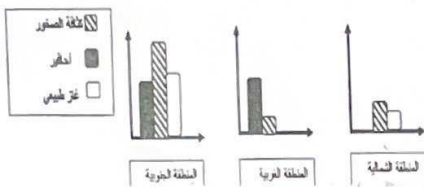


(ج) - ادرس الرسومات التالية ثم اجب :-

1- الشخص الذي امامك شغل .

- مقدار الشغل إذا كانت القوة تساوي 5 نيوتن هو

الشغل =



2- أي المناطق ستكون مناسبة للتنقيب عن البترول مع ذكر السبب

الإجابة :

السبب :

انتهت الأسئلة ،،،،،

