

الاختبار التقويهي الأول


للمصف الثاني

الفصل الدراسي الثاني 2023 / 2024

بنود الاختبار	توزيع درجات الاختبار		درجة الاختبار	مدة الاختبار	موعد الاختبار
الوحدة الثامنة	مقال	موضوعي	٥ درجات	لا تتجاوز ١٥ دقيقة من زمن الحصة	الأسبوع ٣
	٣	٢			

إشراف الهوجه الفني : أ. أسهاء الفيكاوي

السؤال الأول : (أ) أوجد الناتج :




$$\underline{\hspace{2cm}} = 2 + 2 + 2$$

$$\underline{\hspace{2cm}} = 2 \times 3$$

(ب) أوجد الناتج مستخدماً الرسم بالصور .

$$\underline{\hspace{2cm}} = 4 \times 3$$

السؤال الثاني : حوّل الإجابة الصحيحة :



(أ) عبارة الضرب المناسبة

$$15 = 5 \times 3$$

$$20 = 4 \times 5$$

$$10 = 5 \times 2$$

(ب) 2×6 لها نفس ناتج .

6

4 ×

2


6 ×

2

7 ×

انتهت الأسئلة،،،

السؤال الأول : (أ) أوجد الناتج :



$$\underline{6} = 2 + 2 + 2$$


$$\underline{6} = 2 \times 3$$

(ب) أوجد الناتج مستخدماً الرسم بالصور .



$$\underline{12} = 4 \times 3$$

السؤال الثاني : حوط الإجابة الصحيحة :



(أ) عبارة الضرب المناسبة

$$15 = 5 \times 3$$

$$20 = 4 \times 5$$

$$10 = 5 \times 2$$

(ب) 2×6 لها نفس ناتج .

$$\begin{array}{r} 6 \\ 4 \times \\ \hline \end{array}$$

$$\begin{array}{r} 2 \\ 6 \times \\ \hline \end{array}$$

$$\begin{array}{r} 2 \\ 7 \times \\ \hline \end{array}$$

انتهت الأسئلة،،،،،

السؤال الأول :

نسق محمد ٤ مزهريات في كل منها ٥ أزهار .
كم عدد كل الأزهار ؟



عدد كل الأزهار = _____ × _____ = _____

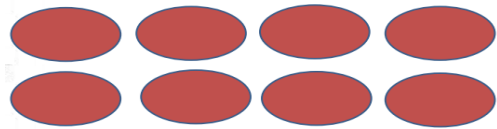
السؤال الثاني :

صل بعبارة الضرب المناسبة .

٨ = ٤ × ٢



٦ = ٢ × ٣



انتهت الأسئلة،،،

السؤال الأول :

نسق محمد ٤ مزهريات في كل منها ٥ أزهار .
كم عدد كل الأزهار ؟



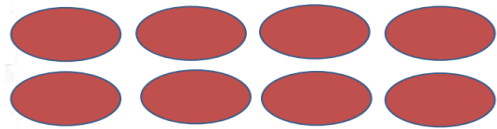
عدد كل الأزهار = ٤ × ٥ = ٢٠

السؤال الثاني :

صل بعبارة الضرب المناسبة .

$$٨ = ٤ \times ٢$$

$$٦ = ٢ \times ٣$$



انتهت الأسئلة،،،