

نموذج الإجابة



دولة الكويت

وزارة التربية

التوجيه الفني العام للاجتماعيات

العام الدراسي: ٢٠٢٣ - ٢٠٢٤م

تم التحميل من شبكة ياكويت التعليمية

الزمن : ساعتان وربع

عدد الأوراق: (٥)



Telegram:

ykuwait_net_home

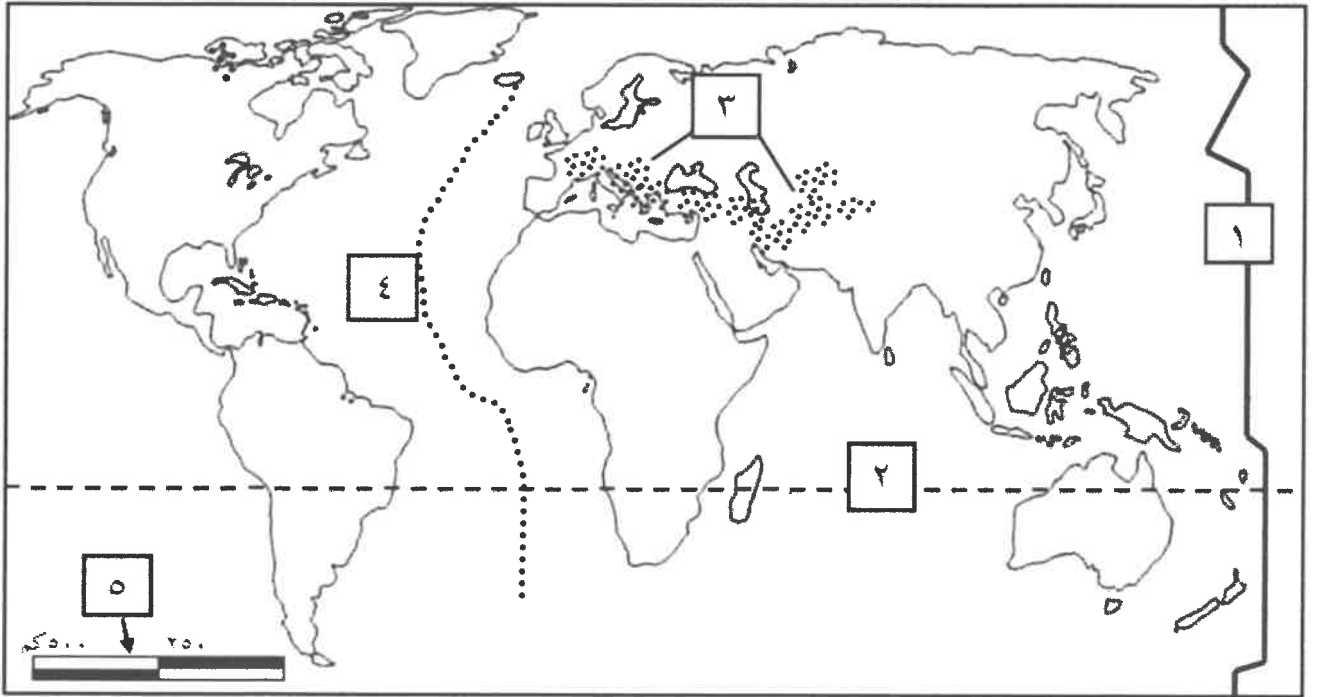
امتحان نهاية الفترة الدراسية الأولى

لمادة مبادئ علم الجغرافيا وعلم الاقتصاد للصف الحادي عشر (الأدبي)

أجب عن جميع الأسئلة

السؤال الأول (موضوعي): ويتكون من [أ ، ب ، ج ، د]

(أ) أمامك خريطة العالم الصماء ، أكتب الرقم الدال على كل مما يلي : (٥ × ١ = ٥ درجات)



* مدار الجدي يمثله على الخريطة الرقم (٢) ص ٦٧

* خط التاريخ الدولي يمثله على الخريطة الرقم (١) ص ٧٠

* النطاق الألبى للزلازل يمثله على الخريطة الرقم (٣) ص ٨٨

* مقياس الرسم يمثله على الخريطة الرقم (٥) ص ٣٨

* حافة وسط الأطلنطي الزلزالية يمثله على الخريطة الرقم (٤) ص ٨٨

وزارة التربية



التوجيه الفني العام للاجتماعيات

تابع : السؤال الأول :

(ب) ضع خطأ تحت الخيار الصحيح من بين الخيارات التي تلي كل عبارة : (١ × ٥ = ٥ درجات)

١- ثامن كواكب المجموعة الشمسية ويمتاز بأن غلافه الجوي مشبع بغاز الهيدروجين والميثان : ص ٦٢

المريخ	الأرض	<u>نبتون</u>	الزهرة
--------	-------	--------------	--------

٢- الوزارة التي تصدر منها المجموعة الإحصائية السنوية في دولة الكويت : ص ٤٥

الصحة	<u>التخطيط</u>	الأشغال	العدل
-------	----------------	---------	-------

٣- جهاز يستخدم لرصد الزلازل : ص ٨٦

<u>السيموجراف</u>	الترمومتر	الباروجراف	الترموجراف
-------------------	-----------	------------	------------

٤- السلع الاستهلاكية التي لا يستطيع الفرد الاستغناء عنها مقارنة بالسلع الأخرى : ص ٤٠٤

الكمالية	المعمرة	غير المعمرة	<u>الضرورية</u>
----------	---------	-------------	-----------------

٥- أهم وأكبر قطاعات الانفاق وهو ما يقوم به المستهلكين بشرائه من سلع وخدمات : ص ٤٠

الخارجي	الاعمال	الحكومي	<u>العائلي</u>
---------	---------	---------	----------------

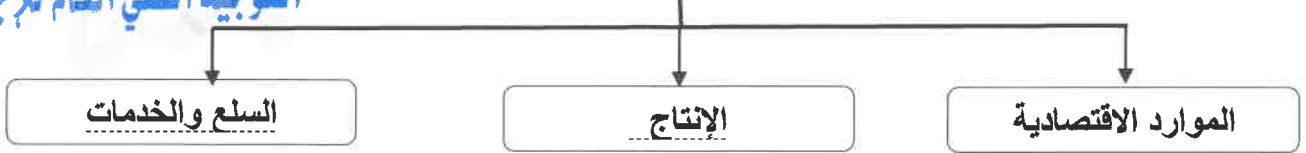
(ج) ضع عنواناً مناسباً للأشكال والصور التالية : (١ × ٣ = ٣ درجات)

		
مد عالي ص ٧٥	كثبان رملية هلالية ص ٩٨	المخروط البركاني ص ٨٩

(د) أكمل المخططات السهمية التالية بما يناسبها : (١ × ٤ = ٤ درجات)

وزارة التربية
التوجيه الفني العام للإجتماعيات

١- مراحل النشاط الاقتصادي ص ٢٠٠



٢- خصائص المشكلة الاقتصادية ص ٢١١-٢١٢



كنترول القسم العلمي
لمحة تقدير الدرجات

السؤال الثاني : (مقالي) ويتكون من [أ ، ب ، ج] :

(أ) اقرأ الفقرة التالية ثم اجب عما يليها من أسئلة : (٣ درجات)

" تتضمن مجالات الجغرافيا الطبيعية دراسة كافة النظم ، أو الأغلفة البيئية الطبيعية التي تؤثر في حياة الانسان ومعيشته وتشمل ثلاثة أغلفة ، ويضيف البعض غلغافاً آخر إليها هو الغلاف الحيوي . " ص ٨٣

١- عرف - ما تحته خط . ص ٨٣ (درجة)

- تختص الجغرافيا الطبيعية بدراسة كافة الظواهر الطبيعية التي تتمثل في البيئة التي يعيش فيها الانسان والتي ليس للإنسان دخل في نشأتها .

٢- أذكر - أغلفة البيئة الطبيعية . ص ٨٣ (يكتفى بنقطتين) (درجتان)

- الغلاف الصخري . - الغلاف المائي . - الغلاف الجوي . - الغلاف الحيوي .

(ب) عرف المفاهيم والمصطلحات التالية : (٤×٤=٤ درجات)



م	المفهوم والمصطلح	التعريف
١	البطالة	مجموع الأشخاص الراغبين بالحصول على وظيفة والقادرين على العمل ويقومون بالبحث عن الوظيفة . ص ٢٤٢
٢	السوق	الحيز أو الوسط التي تتم خلاله مبادلة السلع والخدمات بين البائعين والمشتريين بمقابل نقدي ص ٢٢١
٣	الخريطة	عبارة عن رسم أو صورة توضيحية مصغرة لمظاهر سطح الأرض الكروي أو لجزء منه ممثلة على لوحة مستوية بمقياس رسم معين . ص ٣٧
٤	علم الجغرافيا	العلم الذي يختص بدراسة التوزيع الجغرافي للظواهر الطبيعية والبشرية على سطح الأرض . ويعرف بعلم العلاقات المكانية والزمانية . ص ٢٩ + ٣٠

(ج) أكتب فيما يلي : (٢×٣=٦ درجات)

١- أهم المجالات التطبيقية العلمية للاستشعار عن بعد . ص ٤٨ (يكتفى بنقطتين)

- دراسة الخصائص الطبيعية لسطح الأرض . - دراسة تلوث البيئة .

- دراسة الكوارث الطبيعية .

٢- عناصر النظام النهري . ص ٩٩ (يكتفى بنقطتين)

- حوض النهر . - مجرى النهر . - وادي النهر . - شبكة التصريف المائي .

٣- أهم سمات سوق المنافسة الكاملة . ص ٢٢٢ - ٢٢٣ (يكتفى بنقطتين)

- وجود عدد كبير من البائعين والمشتريين للسلعة . - تجانس السلعة في هذا السوق .

- توافر المعلومات لدى المشتريين والبائعين . - حرية الدخول إلى السوق والخروج منه .

- المنتج (البائع) لا يتحكم بالسعر في هذا السوق .



كسرتول اتسم العلمى
لجبة تقدر الدرجات

التربية

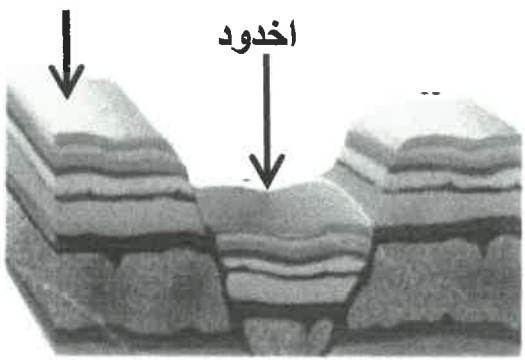


وزارة

التوجيه الفني العام للإجتماعيات

السؤال الثالث : (مقال) ويتكون من [أ ، ب ، ج] :

(أ) لاحظ الشكل الذي أمامك ثم أجب عن الأسئلة التالية : (٣×١=٣ درجات)

<p>أنواع الانكسارات</p> <p>(هورست)</p> 	<p>١- أكمل - نوع الانكسار الناقص في الشكل المقابل . ← هورست ص ٩٤</p> <p>٢- عرف الانكسار : ص ٩٣ حدوث كسر في الطبقات الصخرية يصحبه تحرك أو زحزحة بعض أجزاء هذه الطبقات إما رأسياً أو أفقياً .</p> <p>٣- أذكر مثال على الانكسار الأخدودي . ص ٩٤ (يكتفى بنقطة واحدة) - الأخدود الأفريقي العظيم . - أخدود وادي نهر الراين</p>
---	--

(ب) فرق بين كل مما يلي من حيث التعريف : (٤×١=٤ درجات)

<p>التنمية الاقتصادية ص ٢٤٦</p>	<p>النمو الاقتصادي ص ٢٤٣</p>
<p>- مجموع السياسات التي تتخذها الحكومة والتي تؤدي الى زيادة النمو الاقتصادي بدافع ذاتي .</p>	<p>- النسبة المئوية للزيادة في الناتج المحلي الإجمالي .</p>
<p>الخدمة ص ١٩٩</p>	<p>السلعة ص ١٩٩</p>
<p>- كل شيء معنوي غير ملموس يحصل عليه الفرد وينتفع منه بعد شرائه .</p>	<p>- كل شيء مادي ملموس حسيماً أي أن له حجماً ولمساً ووزناً يحصل عليه الفرد بعد شرائه .</p>

(ج) علل لما يلي : (٢×٣=٦ درجات)

- ١- للزلازل آثار ومخاطر عديدة . ص ٨٩ (يكتفى بنقطتين)
 - تسبب ترححاً وانتقالاً لأجزاء من قشرة الأرض في الاتجاهين الأفقي والرأسي .
 - يمكنها أن ترفع أو تخفض أجزاء من قاع البحر أو المناطق الساحلية .
 - تسبب انهيارات وانزلاقات أرضية . - الزلازل العنيفة التي تحدث في قيعان المحيطات والبحار تنشئ أمواجاً عاتية تدعى (تسونامي) تسبب أفدح الخسائر في المناطق الساحلية التي تضربها . - تسبب الزلازل التي تحدث في المناطق الأهلة بالسكان خسائر فادحة في الممتلكات و الأرواح .
- ٢- تعتبر الرياح عاملاً مهماً من عوامل التعرية في الأقاليم الصحراوية وشبه الصحراوية . ص ٩٦ (يكتفى بنقطتين)
 - ندرة الغطاء النباتي . - كثرة المواد التي فتتها عمليات التجوية، فيسهل على الرياح التقاطها وحملها و اكتساحها

٣- أهمية علم الجغرافيا . ص ٢٩-٣٠ (يكتفى بنقطتين)

- عمليات التخطيط الإقليمي . - التوجيهات الجغرافية . - عمليات التخطيط البيئي .
وزارة التربية

السؤال الرابع : (مقال) ويتكون من [أ ، ب ، ج] :

(أ) احسب الزمن المطلوب بعد قراءة الفقرة التالية مستعيناً بالخطوات التالية: (٣ درجات) ص ٧٠-٧١

((تقام مباراة كأس آسيا لكرة القدم بين منتخبى دولة الكويت وجمهورية مصر العربية ، فإذا كانت الساعة في دولة الكويت والواقعة على خط طول ٤٥ ° شرقاً ٩ مساءً ، فكم تكون الساعة التي ستقام فيها المباراة في جمهورية مصر العربية والتي تقع على خط طول ٣٠ ° شرقاً))

خطوات الحل :

- ١- عدد خطوط الطول بين المدينتين = $٤٥ - ٣٠ = ١٥$ خط طول (درجة)
- ٢- الفرق الزمني بين المدينتين = $٤ \times ١٥ = ٦٠$ دقيقة = ساعة واحدة (درجة)
- ٣- بما أن الكويت تقع شرق مصر فهي أسبق بالزمن اذن الساعة في مصر = $٩ - ١ = ٨$ مساءً (درجة)

(ب) عدد ما يلي : (٢ × ٣ = ٦ درجات)



كترول القسم العلمي
لجنة تقدير الدرجات

- ١- أصناف المياه الجوفية . ص ٤٠٤ (يكتفى بنقطتين)
- الآبار . - الينابيع . - النافورات والينابيع الحارة .
- ٢- محددات العرض . ص ٢٣٠ (يكتفى بنقطتين)
- تكاليف عناصر الانتاج . - التطور التقني . - الدعم والضرائب .
- ٣- أقسام الموارد الاقتصادية . ص ٢٠١ (يكتفى بنقطتين)
- الأرض . - العمل . - رأس المال . - المنظم .

(ج) اذكر النتائج المترتبة على كل مما يلي : (٢ × ٢ = ٤ درجات)

دورة القمر حول الأرض ص ٧٤-٧٥	دورة الأرض المحورية حول نفسها ص ٦٨
١- اختلاف أوجه القمر . ٢- حدوث خسوف القمر . ٣- حدوث كسوف الشمس . ٤- الكسوف الحلقي للشمس . ٥- حدوث المد والجزر . (يكتفى بنقطتين)	١- تعاقب الليل والنهار . ٢- الحركة الظاهرية للشمس . ٣- تغير مسار الأجسام الغازية السائلة . ٤- الانتفاخ الاستوائي . (يكتفى بنقطتين)