

ثانوية
سلطان الفارسي
بنين

الصف الثاني عشر إدبي

WWW.Kwedufiles.Com
طادة
التاريخ

العام الدراسي
2018/2017
الفصل الدراسي الأول

أسئلة اختبارات
وإجاباتها النموذجية



أجب عن أربعة أسئلة مما يلي على أن يكون السؤال الأول من بينها إجبارياً:-

السؤال الأول (إجباري) ويتكون من (أ - ب - ج - د):-

كل نقطة درجة

(أ) أكمل العبارات التالية بما يناسبها مما درست :-

- ١- القبائل التي أسقطت الإمبراطورية الرومانية عام ٤٧٦ م تسمى الجرمانية ص ١١
- ٢- الملك الذي تم في عهده كشف طريق الرجاء الصالح يسمى جون الثاني ص ٢٨
- ٣- العام الذي خضعت فيه مصر للاستعمار الإنجليزي ١٨٨٢ م ص ٥١
- ٤- الأسطول الأسباني الذي تحطم على يد الأنجليز اسمه الأرمادا ص ٥٤
- ٥- العالم الذي اخترع المكوك الطائر يسمى جون كي ص ٦٣

(ب) ضع خطأ تحت الخيار الصحيح من بين الخيارات التي تلي كل عبارة :-

كل نقطة درجة

١- يبلغ عدد الحجج التي علقها مارتن لوثر على كنيسة وتبرج : ص ٢٠

(٩٣ - ٩٤ - ٩٥ - ٩٦)

٢- الدولة التي استعمرتها فرنسا عام ١٨٣٠ م : ص ٥١

(الجزائر - مصر - الأردن - العراق)

٣- قارة غير مأهولة بالسكان : ص ٤٣

(استراليا - انتاركتيكا - أمريكا الجنوبية - أفريقيا)

٤- الرحلة التي اكتشف فيها كريستوفر كولمبس جزر الدومينيكا : ص ٣٢

(الرحلة الأولى - الرحلة الثانية - الرحلة الثالثة - الرحلة الرابعة)

٥- مخترع التلغراف الكهربائي : ص ٦٨

(جراهام بل - وليم ماركوني - صمويل موريس - بلا تشارد)

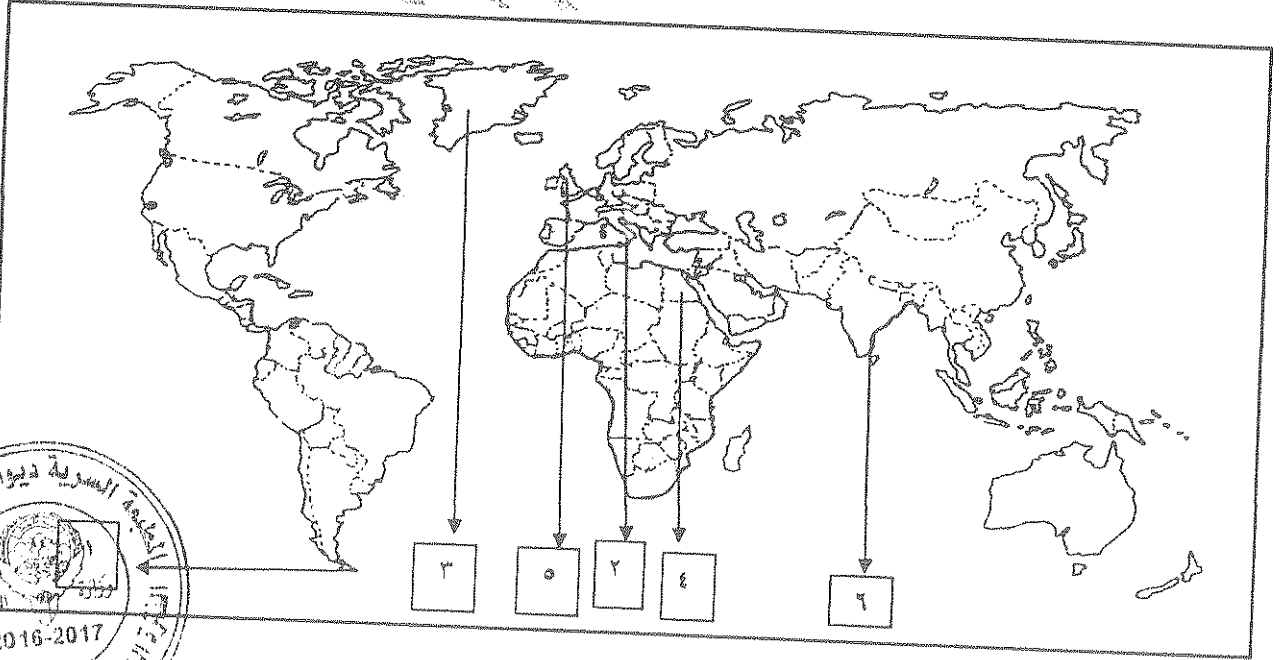


تابع السؤال الأول (الإجباري) :-

(ج) اكتب المفاهيم أو المصطلحات الدالة على العبارات التالية :- لكل نقطة درجة

- ١- (الغزو العسكري) احتلال بالقوة العسكرية . ص ٥١
- ٢- (الثورة الصناعية) عملية تغير شامل في أدوات الإنتاج وسائله وحجمه وعلاقاته ومستواه وتبديل في أساليب التمويل والتسويق والتوزيع . ص ٦١
- ٣- (التمييز العنصري) هو أسلوب استعماري قائم على التفرقة بين الناس بسبب اللون أو الجنس أو الدين حيث ص ٥١
- ٤- (الكارافيل) سفن عملاقة تميزت بكبر حمولتها واشتغالها لعدد كبير من الأشرعة . ص ٢٦
- ٥- (العصور الوسطى) العصور التاريخية التي تميزت بسيطرة رجال الكنيسة ونظام الاقطاعي . ص ١١

(د) لاحظ خريطة العالم التي أمامك ثم نفذ المطلوب عليها :- لكل نقطة نصف درجة



- ١- أول الدول الأوروبية في حركة النهضة يمثلها على الخريطة الرقم ٢ ص ١٣
- ٢- أحد مراكز انتقال الحضارة الإسلامية إلى أوروبا يمثلها على الخريطة الرقم ٤ ص ١٤
- ٣- المضيق الذي اكتشفه ماجلان يمثلها على الخريطة الرقم ١ ص ٣٥
- ٤- الدولة التي دخلت مع فرنسا حرب السنين السبع يمثلها على الخريطة الرقم ٥ ص ٥٥

السؤال الثاني (اختياري) ويتكون من (أ - ب - ج) :-

(أربع درجات) لكل نقطة درجة

ص ٢٦ يكتفي بنقطتين

(أ) علل لما يلي :-

١- يعتبر الدافع الديني أحد أسباب الكشوف الجغرافية .
- رغبة الدول الأوروبية بنشر المسيحية في المناطق المكشوفة

- تقوية الممالك المسيحية .

- محاولة تطويق العالم الإسلامي

ص ٥٣ يكتفي بنقطتين

٢- انهيار الإمبراطورية البرتغالية في الشرق .
- سوء إدارة المستعمرات وانتشار الرشوة - قسوة البرتغاليين في معاملة السكان الأصليين وأجبارهم على اعتناق

المسيحية

- السلطة كانت في يد نائب الملك في جوا وهو المسؤول أمام الملك دون رقابة ويقوم بابتزاز الأموال وعدم الاعتناء
بالمستعمرة - منافسة الهولنديين والإنجليز للبرتغال في مجال الاستعمار - فقدت البرتغال استقلالها وضمت للتاج

الإسباني .

(خمس درجات) يكتفي بنقطتين

ص ١٥

(ب) دل على صحة العبارات التالية :-

١- للمفكرين الأوروبيون دور كبير في إحياء الدراسات اليونانية القديمة .
- تبادل علماء القسطنطينية وإيطاليا الزيارات العلمية بحثا عن العلوم والفنون الإغريقية والإيطالية
- تنافس الأمراء والأثرياء في إنشاء المكتبات - ظهور الأكاديميات العلمية في إيطاليا مما ساعد على إثراء الحركة العلمية

- جهود أسرة ال مديتشي في فلورنسا وأسرة سوفرزا في ميلانوفي رعاية الحركة العلمية والأدبية والفنية

- اختراع أحرف الطباعة المعدنية علي يد حنا جوتبرج أدي الي سهولة طباعة الكتب وتداولها

ص ٢٧ يكتفي بنقطتين

٢- للأمير هنري الملاح دور هام في حركة الكشوف الجغرافية
- أنشأ مدرسة بحرية اهتمت بتطوير الأدوات التي استخدمت في عملية الكشوف الجغرافية كالأهتمام برسم الخرائط .

- أنشأ مرصدا بحريا . - جلب علماء الرياضيات ورسامين الخرائط والفلكيين .

- الاستعانة بالمسلمين الذين لهم دراية بالمجال البحري . - حاول الوصول للحبشة والهند .

- توقف عند ساحل غانا ووصل للرأس الأخضر . - اكتشف جزر ماديرا وجزر أزور .

- وصل إلى ساحل زامبيا والسنگال .

٣- يعتبر اليساندرو فولتا أحد من أشهر العلماء الذين برزوا في مجال الكهرباء .

- اخترع البطارية الكهربائية مما أدى إلي توليد تيار كهربائي ثابت

(ج) قارن بين كل مما يلي :- (أربع درجات) ص ٥١



المعيار	الانتداب	الوصاية
التعريف	ظهر بعد الحرب العالمية الأولى عام ١٩١٩م حيث انتدبت الدول المنتصرة لإدارة شؤون الأقطار التي تحكمها الدولة العثمانية أو ألمانيا لهزيمتها بالحرب بحجة الأخذ بيدها نحو التطور والاستقلال .	ظهر في أعقاب الحرب العالمية الثانية عام ١٩٤٥م وضعت المناطق التي كانت تحت النفوذ الألماني والإيطالي والياباني تحت وصاية دولة من اختيار الأمم المتحدة .
الأمثلة	- سوريا ولبنان تحت الانتداب الفرنسي - فلسطين والأردن تحت الانتداب البريطاني	- الصومال تحت الوصاية الإيطالية - إقليم نامبيا تحت وصاية اتحاد جنوب أفريقيا

السؤال الثالث (اختياري) ويتكون من (أ - ب - ج) :-

(خمسة درجات)

(أ) اكتب النتائج المترتبة على الأحداث التالية :- ص ٢٩

- ١- رحلة فاسكو دي جاما.
- حقق أمل البرتغال في كشف طريق مباشر في الوصول إلي الهند خارج ديار المسلمين - أكبر ضربة اقتصادية وجهت للعالم الإسلامي - أصبحت البرتغال في مركز متقدم في منطقة المحيط الهندي التجارية .
درجة ص ٦٥
- ٢- اختراع القاطرة البخارية .
- بداية سير السكك الحديدية .
درجة ص ٦٥

يكتفى بنقطتين

- نبهت إلي أهمية تحرير

ص ٢٠

- ٣- حركة الإصلاح الديني
- قيام صراع كبير بين أنباچ مارتن لوثر والكنيسة - قيام الثورات والحروب
- الكنيسة من مفاستها والتخلص من هيمنتها المطلقة علي حياة الناس وأوربا .

(ثلاث درجات)

(ب) اكتب فقرة تاريخية مترابطة مستعينا بالكلمات التالية :- ص ١٦

(مدن أوربية - كومونات - طبقه وسطي - ثورة ثقافية)

تحالفت المدن الأوربية في شكل كومونات مما منحها الأستقلال والقوة السياسية مما أدى الي ظهور الطبقة الوسطى التي تحالفت مع الملوك لتحطيم النظام الإقطاعي مما أحدث تغيرا كبيرا في ملامح المدن الأوربية سياسيا واقتصاديا واجتماعيا ونتج عن ذلك قيام ثورة ثقافية من خلال أنشاء المدارس في المدن بعيدا عن سيطرة الأديرة .

(خمس درجات) لكل نقطة درجة

(ج) برهن على صحة العبارات التالية :-

- ١- أحدثت الثورة الصناعية في أوروبا تغيرات في الناحية الاقتصادية . ص ٦٩
- قيام المصانع الكبير التي تعتمد على الصناعة الآلية مما أدى إلي زيادة الإنتاج . - انتعاش النشاط الاقتصادي من خلال حركة البنوك والوكالات التجارية ومراكز التسويق والتوزيع . - اتساع النشاط التجاري العالمي . - ارتفاع الدخل القومي نتيجة زيادة عائدات التجارة . - ظهور المدن الصناعية واتساع حركة العمران في أوروبا . - سيادة النظام الاقتصادي الرأسمالي .

٢- أدت الكشوف الجغرافية الي تكوين دول و إمبراطوريات كبرى استعمارية . ص ٤٥

- أسبانيا: احتلت أمريكا الوسطى وأجزاء مهمة من أمريكا الجنوبية وجزر الفلبين.

- البرتغال: احتلت البرازيل ومراكز تجارية على السواحل الأفريقية وسواحل الهند و الخليج العربي



السؤال الرابع (اختياري) ويتكون من (أ - ب - ج - د) :-

(ثلاث درجات) لكل نقطة درجة

أ) عرف المفاهيم التالية :-

- ١- عصر النهضة : تعتبر الفترة من القرن ١٣ ميلادي إلى ١٦ ميلادي مرحلة انتقال من العصور الوسطى إلى العصور الحديثة ويؤرخ لها منذ الفتح العثماني لمدينة القسطنطينية عاصمة الإمبراطورية البيزنطية عام ١٤٥٣ م . ص ١٢
- ٢- المجاعة النقدية : حاجة الأوربيين إلى مزيد من الذهب والفضة . ص ٢٥
- ٣- الاستيطان : هجرة مجموعة من سكان دولة أجنبية قوية إلى دولة ضعيفة وتملك الأرض بطرد السكان المحليين وتكون الهجرة على شكل إرساليات تنصيرية تجاراً سياحاً . ص ٥١

(٧ درجات) لكل نقطة درجة

ب) فند العبارات التالية :-

- ١- لم تكن هناك آثار بالغة الأهمية للكشوف الجغرافية في حياة أوروبا والعالم الجديد من الناحية الاجتماعية . ص ٤٦
- اعتمدت علي سياسة إبادة السكان الأصليين في العالم الجديد كما دمر المستعمرون الجدد مدن كاملة وقضوا على حضارة أهلها بعد أن استوطنوها ونهبوا ثرواتها لسد احتياجاتهم . - جلب العبيد من أفريقيا وظهور تجارة الرق .
- ظهور الطبقة الرأسمالية التي لعبت دوراً مهماً في أوروبا .
- ٢- أيد كتاب (الأمير) لنيقولا مكيافيلي المشاركة الشعبية في الحكم والسياسة . ص ٢١
- تأييد نظام الحكم المطلق القائم علي نظرية التفويض الإلهي التي تقول إن الملوك يمثلون الله على الأرض ، وأنهم يستمدون سلطتهم منه وليس من الشعوب التي يجب عليها الخضوع التام للملوك . - إقرار مبدأ أن الغاية تبرر الوسيلة) بمعنى أن من حق الحاكم اتخاذ كل وسيلة تحقق استقرار حكمه مهما كانت متعارضة مع الدين أو الاخلاق وأن يعتمد على الحزم ليكون مرهوباً وأن يقيم المشروعات المفيدة للشعب ليكون محبوباً .
- ٣- اقتصر آثار الاستعمار على الجوانب السلبية فقط . ص ٥٧
- حقق المستعمرون تنمية اقتصادية للمستعمرات فأدخلوا إليها طرق الزراعة والصناعة والعلوم الطبية - أدخل النظام الديمقراطي في الحكم . - ربط المستعمرات بالنظام الاقتصاد الدولي .

(ثلاث درجات)

ج) اكتب إنجازات الشخصيات التالية :-

- ١- روبرت بيرري . ص ٤٢
- تمكن من الوصول إلى القطب الشمالي .
- ٢- نيكولاس كوبر نيكوس . ص ٤٦
- نظرية أن الشمس هي محور الكون وأن الكواكب الأخرى بما فيها الأرض تسير في مدارات حول الشمس .
- ٣- دانتي . ص ١٧
- أهم أعماله رواية الحياة الجديدة - الكوميديا الإلهية التي تأثر فيها بقصة المعراج ورسالة الغفران لأبي العلاء المعري وقد قدمها من خلال اللغة الإيطالية .



السؤال الخامس (اختياري) ويتكون من (أ - ب - ج) :-

(أ) اقرأ الفقرة التالية ثم أجب عما يليها من الأسئلة :- (٣ درجات) لكل نقطة درجة ٢٥ ص
 "يعتبر البرتغاليون أول من قاموا بحركة الكشوف الجغرافية في نهاية القرن الخامس عشر الميلادي في نهاية القرن الخامس عشر الميلادي ولهم دور كبير في الوصول إلى الهند."
 ١- عرف ما تحته خط .
 - هي حركة قام بها الأوروبيون خلال القرنين الخامس عشر والسادس عشر الميلاديين تعرفوا بها على أرض جديدة لم

تكن معروفة لهم من قبل ساعدتهم على تطوير خريطة العالم . ص ٢٥
 ٢- عدد العوامل التي جعلت البرتغال في مقدمة الكشوف الجغرافية . ص ٢٧
 - توافر الأدوات اللازمة من علم وجبرة وسفن متطورة .
 - استقرار الوضع في بلادهم لذلك وجهوا اهتماماتهم لاكتشاف طريق جديد خارج نطاق البحر المتوسط .

(أربع درجات)

(ب) فرق بين كل من :

المظاهر الفنية في عصر النهضة	المظاهر الأدبية في عصر النهضة ص ١٧
- حرص الفنانين على محاكاة الفنون القديمة في الروح والتعبير مع التجديد والابتكار والابداع . - اصبح الانسان المحور الرئيسي الذي تدور حوله الاعمال الفنية لتعبر عن قدراته وتقدمه في صورة جميلة مشرفة محب للحياة قادر على العطاء والإنتاج في شتى مجالات الحياة . - وجد الفنانون التشجيع والدعم الفني والمعنوي فانتجوا اعظم اعمالهم الفنية التي حولت المدن الأوروبية إلى متاحف	- الأهتمام بدراسة الإنسان باعتبارها محور الحياة . - جهود الانسانين الذين عبروا في كتاباتهم الأدبية عن صورة الانسان الذي يتصف بالابداع والثقة في النفس والمحب للحياة بجوانبها المشرفة .



(٦ درجات)

(ج) نفذ المطلوب منك ما بين الأقواس :-

- ١- قيام حركة الإصلاح الديني .
 - جهود الحركة الإنسانية في التنبيه لإصلاح الكنيسة - الرغبة في تحرير حركة التقدم العلمي من قيود الكنيسة
 - ظهور كثير من المصلحين الذين نادوا بتخليص الكنيسة من مفسدها - إهتمام أوروبا بجوانب الحياة الدنيوية .
 ٢- تأسيس الإمبراطورية البرتغالية واحتكارها لتجارة الشرق . (العوامل) يكتفي بنقطتين درجتان ص ٥٣
 - انشغال الدولة العثمانية بحربها مع الصفويين . - تفكك بلاد الهند
 - عدم توحيد القوي الإسلامية الكبرى (العثمانية - الصفوية - المملوكية)
 - استخدام البرتغاليون قوة سلاح البارود والأساطيل الضخمة حيث لم تكن متوفرة لدى شعوب الشرق .
 ٣- الملاح مارتن فروبيشر . (نتائج رحلاته) يكتفي بنقطتين درجه ص ٣٧
 - وصل إلى جزيرة شتلند ومنها إلى جزيرة جرينلندا - تمكن من اكتشاف مضيق هُسن



أجب عن أربعة أسئلة مما يلي على أن يكون السؤال الأول من بينها اجبارياً: -

السؤال الأول (إجباري) ويتكون من (أ - ب - ج - د):-

أ) أكمل العبارات التالية بما يناسبها مما درست:-

- ١- القبائل التي أسقطت الإمبراطورية الرومانية عام ٤٧٦ م تسمى
- ٢- الملك الذي تم في عهد كشف طريق رأس الرجاء الصالح يسمى
- ٣- العام الذي خضعت فيه مصر للاستعمار الإنجليزي م
- ٤- الأسطول الأسباني الذي تحطم على يد الإنجليز اسمه
- ٥- العالم الذي اخترع المكوك الطائر يسمى

ب) ضع خطاً تحت الخيار الصحيح من بين الخيارات التي تلي كل عبارة:-

- ١- يبلغ عدد الحجج التي علقها مارتن لوثر على كنيسة وتبرج :
(٩٣ - ٩٤ - ٩٥ - ٩٦)
- ٢- الدولة التي استعمرتها فرنسا عام ١٨٣٠ م :
(الجزائر - مصر - الأردن - العراق)
- ٣- قارة غير مأهولة بالسكان :
(استراليا - انتاركتيكا - أمريكا الجنوبية - أفريقيا)
- ٤- الرحلة التي اكتشف فيها كريستوفر كولمبس جزر الدومينكا :
(الرحلة الأولى - الرحلة الثانية - الرحلة الثالثة - الرحلة الرابعة)
- ٥- مخترع التلغراف الكهربائي :
(جراهام بل - وليم ماركوني - صمويل موريس - بلانشارد)

• أجب عن جميع الاسئلة التالية :

السؤال الأول يتكون من (أ - ب - ج)

أ - أختر الإكمال المناسب من بين البدائل التي تلي كل عبارة بوضع خط تحتها :

١ - الملكة الإسبانية التي اكتشفت في عهدا جزر الهند الغربية هي : ص

أ - ماري ب - اليزابيث ج - ايزابيلا د - فيكتوريا

٢ - العاصمة البيزنطية التي فتحها السلطان محمد الفاتح منتصف القرن الخامس عشر اسمها :

أ - روما ب - القسطنطينية ج - بوخارست د - لشبونه

٣ - شخصية ايطالية ساهمت في تقدم فن العمارة في عصر النهضة هي :

أ - فيليوبرونيلسكي ب - رافائيل ج - حنا جوتنبرج د - مارتن لوثر

٤ - الدافع الاقتصادي لقيام دول أوروبا بحركة الكشوف الجغرافية هو الرغبة في :

أ - زيادة المعلومات الجغرافية ب - نشر المسيحية

ج - تخطي الوساطة التجارية الاسلامية د - السيطرة ونشر مبادئها

ب - اكتب المفاهيم والمصطلحات الدالة على العبارات التالية :

١ - (.....) المدة الزمنية من القرن الثالث عشر الي القرن السادس عشر الميلادي

وتمثل فترة انتقال أوروبا من العصور الوسطي للعصور الحديثة .

٢ - (.....) سفن عملاقة تميزت بكبر حمولتها واستعمالها لعدد كبير من الاشرعة .

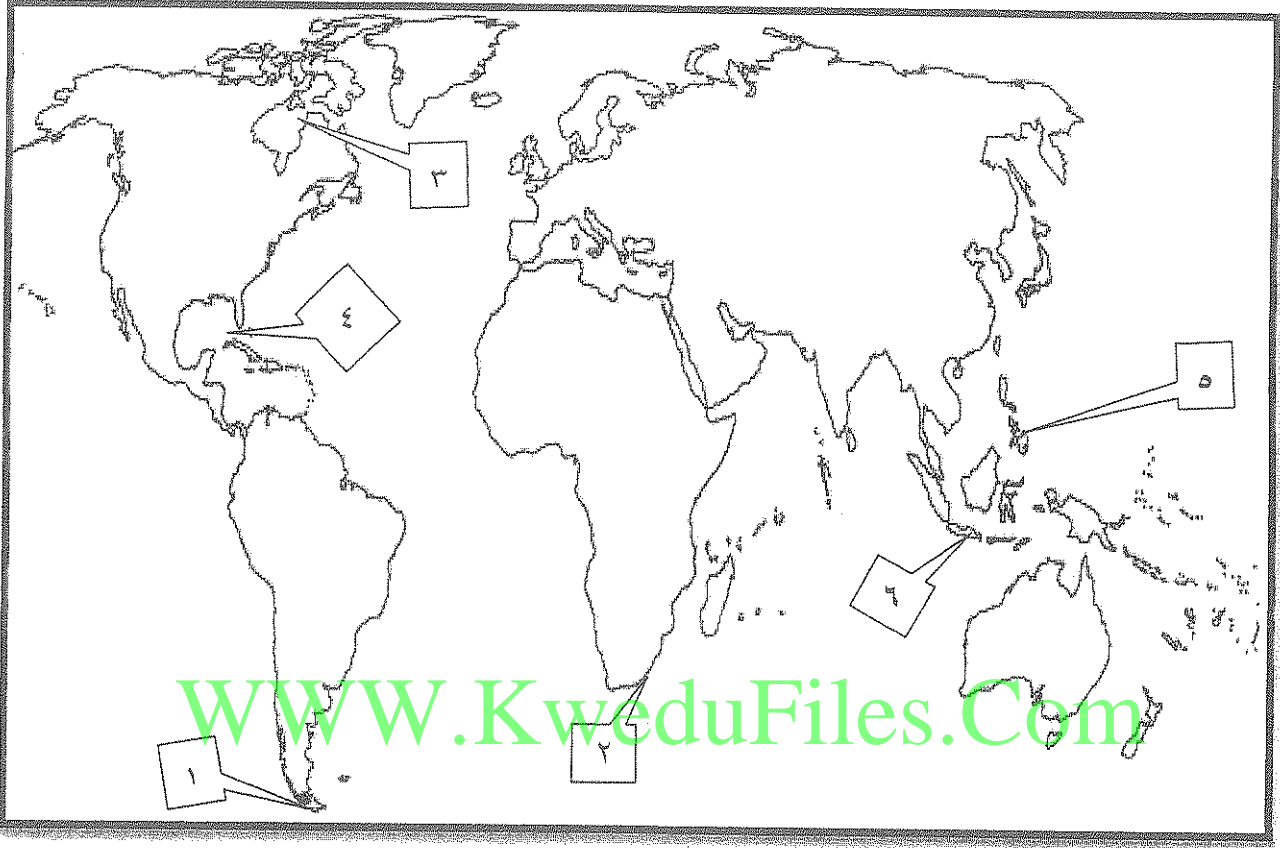
٣ - (.....) اماكن مخصصة يلتقي فيها الطلاب مع معلمهم في حلقات الدروس

اثرت الحركة العلمية في أوروبا .

٤ - (.....) طبقة وسطى تحالفت مع الملوك لتحطيم النظام الاقطاعي .

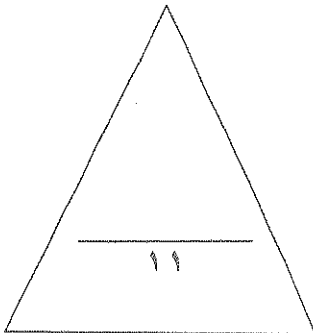
تابع امتحان نهاية الفترة الدراسية الأولى لمادة تاريخ العالم الحديث والمعاصر للصف الثاني عشر للعام الدراسي ٢٠١٥/٢٠١٦م

ج - لاحظ خريطة العالم الصماء التالية ثم نفذ مما يليها :-



• أكتب الرقم الدال على كل مما يلي :

- مضيق رأس الرجاء الصالح يمثلها على الخريطة الرقم
- خليج وصل إليه الرحالة هنري هديسون يمثلته على الخريطة الرقم
- المنطقة التي قتل فيها الرحالة ماجلان يمثلها على الخريطة الرقم



تابع امتحان نهاية الفترة الدراسية الأولى لمادة تاريخ العالم الحديث والمعاصر للصف الثاني عشر للعام الدراسي ٢٠١٥/٢٠١٦م

السؤال الثاني يتكون من (أ - ب) :

أ - اكتب فيما يلي مما درست :

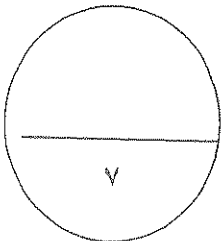
١ - نتائج حركة الاصلاح الديني في اوروبا .

٢ - دور هنري الملاح في مجال حركة الكشوف الجغرافية .

WWW.KweduFiles.Com ب - عرف ما يلي :

١ - الحركة الانسانية :

٢ - الكومونات :



تابع امتحان نهاية الفترة الدراسية الأولى لمادة تاريخ العالم الحديث والمعاصر للصف الثاني عشر للعام الدراسي ٢٠١٥/٢٠١٦م

السؤال الثالث يتكون من (أ - ب) :-

أ - ماذا يحدث لو لم تجرى الأحداث التاريخية التالية :

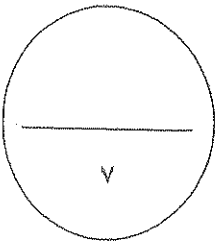
١ - عدم ظهور النظام الإقطاعي في أوروبا بالعصور الوسطى .

٢ - سقوط حكومة فلورنسا في إيطاليا .

WWW.KweduFiles.Com

ب - نال على صحة العبارة التالية :-

● الحضارة الإسلامية كان لها دور في قيام النهضة الأوروبية .



تابع امتحان نهاية الفترة الدراسية الأولى لمادة تاريخ العالم الحديث والمعاصر للصف الثاني عشر للعام الدراسي ٢٠١٥/٢٠١٦م
السؤال الرابع يتكون من (أ ، ب ، ج) :

أ - علل ما يلي :-

١ - البرتغاليون أول من قاموا بحركة الكشوف الجغرافية في نهاية القرن الخامس عشر الميلادي .

ب - ما النتائج المترتبة التي ترتبت على ما يلي :-

١ - سبق ايطاليا في حركة النهضة في اوربا .

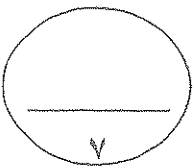
٢ - رحلة فاسكو دي جاما .

WWW.KweduFiles.Com

ج - لاحظ الصورة أمامك ثم أجب :-

١ . ما أسم صاحب الصورة ؟

٢ . ما أهم الاعمال التي نبغ فيها ؟



نهاية الاسئلة

• أجب عن جميع الاسئلة التالية :

الاجابة النموذجية

السؤال الاول يتكون من (أ - ب - ج)

أ - اختر الاكمال المناسب من بين البدائل التي تلي كل عبارة بوضع خط تحتها : - (٤ = ١ × ٤)

١ - الملكة الإسبانية التي اكتشفت في عهدا جزر الهند الغربية هي : ص ٣١

أ - ماري ب - اليزابيث ج - ايزابيلا د - فيكتوريا

٢ - العاصمة البيزنطية التي فتحها السلطان محمد الفاتح منتصف القرن الخامس عشر اسمها : ص ١٢

أ - روما ب - القسطنطينية ج - بوخارست د - لشبونه

٣ - شخصية ايطالية ساهمت في تقدم فن العمارة في عصر النهضة هي : ص ١٨

أ - فيليور وناسكي ب - رافائيل ج - جوتنبرج د - مارتن لوثر

٤ - الدافع الاقتصادي لقيام دول أوروبا بحركة الكشوف الجغرافية هو الرغبة في : ص ٢٥ - ص ٢٦

أ - زيادة المعلومات الجغرافية ب - نشر المسيحية

ج - تخطي الوساطة التجارية الاسلامية د - السيطرة ونشر مبادئها

ب - اكتب المفاهيم و المصطلحات الدالة على العبارات التالية : (٤ = ١ × ٤)

١ - (عصر النهضة) المدة الزمنية من القرن الثالث عشر الي القرن السادس عشر الميلادي وتمثل فترة انتقال أوروبا من العصور الوسطى للعصور الحديثة . ص ١٢

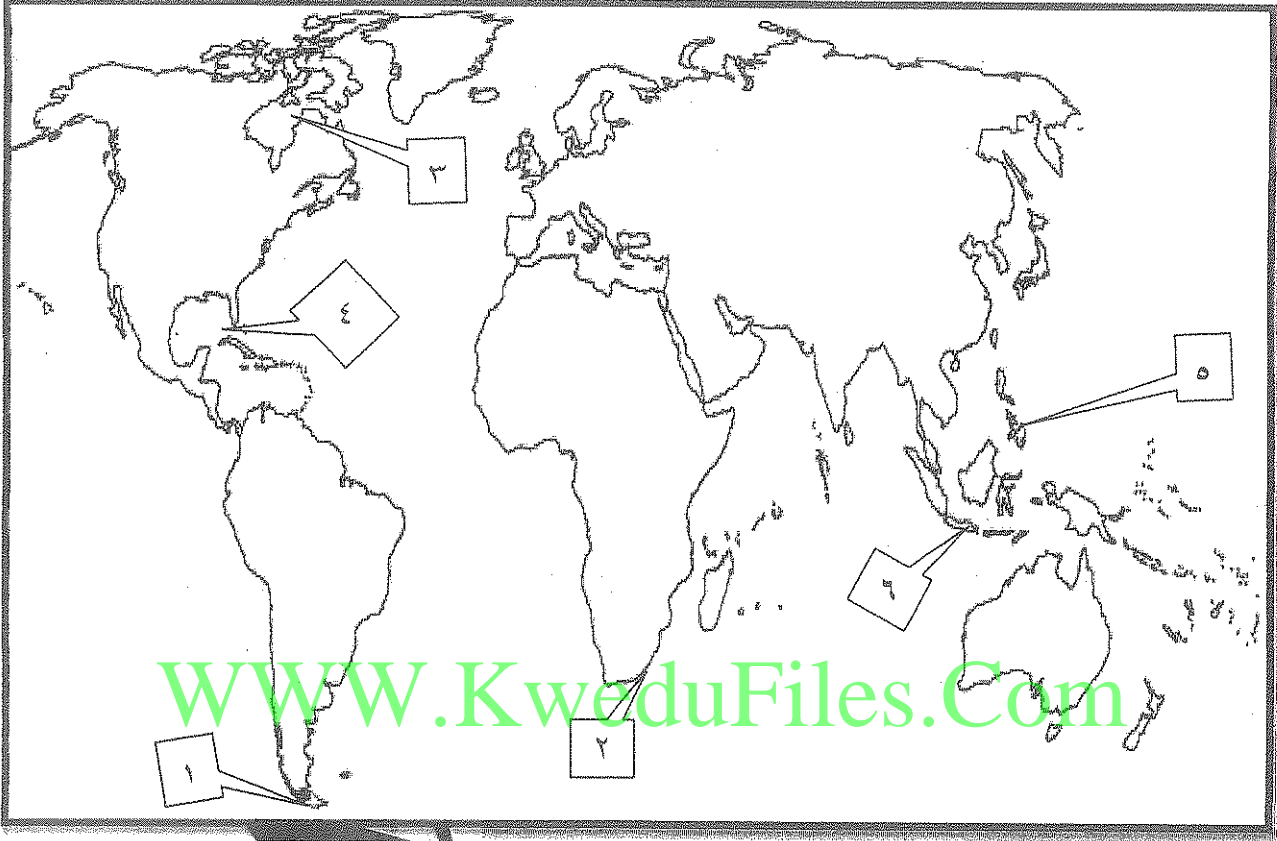
٢ - (الكرافيل) سفن عملاقة تميزت بكبر حمولتها واستعمالها لعد كبير من الاشرعة . ص ١٧

٣ - (الاكاديميات) اماكن مخصصة يلتقي فيها الطلاب مع معلمهم في حلقات الدروس اثرت الحركة العلمية في أوروبا . ص ١٥

٤ - (البرجوازية) طبقة وسطى تحالفت مع الملوك لتحطيم النظام الاقطاعي . ص ١٦

تابع السؤال الأول :-

ج - لاحظ خريطة العالم الصماء التالية ثم نفذ مما يليها :- (٣ = ١ × ٣)

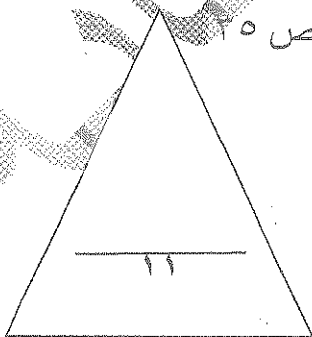


• أكتب الرقم الدال على كل مما يلي :

- مضيق رأس الرجاء الصالح يمثلها على الخريطة الرقم ٢ ص ٢٩

- خليج وصل إليه الرحالة هنري هديسون يمثلها على الخريطة الرقم ٣ ص ٣٨

- المنطقة التي قتل فيها الرحالة ماجلان يمثلها على الخريطة الرقم ٥ ص ٤٥



السؤال الثاني يتكون من (أ - ب) :

أ - اكتب فيما يلي مما درست :

١ - نتائج حركة الاصلاح الديني في اوروبا : ص ٢٠ (٢ = ١ × ٢)

- قيام صراع وحروب بين أتباع مارتن لوثر والكنيسة .

- نبهت الى أهمية تحرير الكنيسة من مفسدها والتخلص من هيمنتها المطلقة على حياة الناس في أوربا .

٢ - دور هنري الملاح في مجال حركة الكشوف الجغرافية . ص ٢٧ (٣ = ١ × ٣) (يكتفي بثلاث نقاط)

- أنشأ مرصد بحريا في الطرف الجنوبي لشاطئ البرتغال .

- جلب علماء الرياضيات ورسمي الخرائط والفلكيين من ايطاليا وصقلية .

- أنشأ مدرسة بحرية اهتمت بتطوير الدوات التي استخدمت في عملية الكشوف الجغرافية كالاهتمام برسم الخرائط .

- استعان بالمسلمين الذين كانت لهم دراية في المجال البحري .

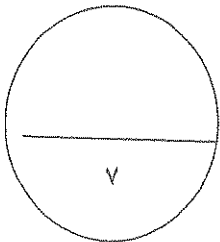
ب - عرف ما يلي : - (٢ = ١ × ٢)

١ - الحركة الانسانية : ص ١٧ WWW.KweduFiles.Com

- هي الحركة التي قام بها مفكرو اوروبا وعبروا فيها عن الانسان الذي يتصف بالابداع والثقة في النفس وحب الحياة بالجوانب المشرقة

٢ - الكومونات : ص ١٢

هي تحالفات حدثت بين المدن الاوروبية الصغيرة مما منحها استقلالا وقوة سياسية في نهاية العصور الوسطى وبداية العصور الحديثة



السؤال الثالث يتكون من (أ - ب) :-

أ - ماذا يحدث لو لم تجرى الأحداث التاريخية التالية : (٥ درجات)

١ - عدم ظهور النظام الاقطاعي في أوروبا بالعصور الوسطى . ص (٣ = ١ × ٣)

- لما تسبب في تقسيم المجتمع الاوروبي الى مجتمع طبقي .

- لم عاش الناس في جهل وتخلف وحرمان من حرية التفكير والبحث العلمي .

- لم تكن أسفل المجتمع طبقة العبيد التي حرمت من أي حقوق رغم تحملها الكثير من الاعباء والواجبات .

٢ - سقوط حكومة فلورنسا في ايطاليا . ص (٢ = ١ × ٢)

- لما ألف مكيافلي كتاب الامير .

- لما عرض نظرياته السياسية الغاية تدرر الوسيلة .

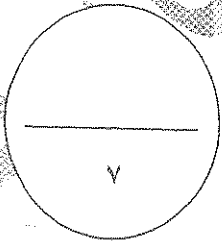
ب - دلل على صحة العبارة التالية :- (٢ = ١ × ٢)

• الحضارة الاسلامية كان لها دور في قيام النهضة الأوروبية . ص ٤١

- ساهمت بدور عظيم في قيام النهضة الأوروبية عن طريق مراكز الحضارة العربية الاسلامية .

- أمدت أوروبا بأعظم الانجازات العلمية والأدبية والفنية وقد انعكس ذلك بصورة كبيرة على كافة

مظاهر النهضة الأوروبية .



السؤال الرابع يتكون من (أ ، ب ، ج) :

أ - علل ما يلي :- ($2 \times \frac{1}{2} = 1$)

١ - البرتغاليون أول من قام بحركة الكشوف الجغرافية في نهاية القرن الخامس عشر الميلادي ص ٢٧

- توافر الأدوات اللازمة من علم وخبرة وسفن متطورة .
- استقرار الوضع في بلادهم .

ب - ما النتائج المترتبة التي ترتبت على ما يلي :- ($2 \times 2 = 4$)

- ١ - سبق إيطاليا في جرحة النهضة في أوروبا . ص ١٢ (يكتفي بنقطتين)
- الاستفادة من الحاصلات المجاورة .
 - تشجيع الأدباء والفنانين لتحقيق أهداف الكنيسة .
 - الرغبة في استعادة أمجادها العظيمة .
 - تحقيق المكاسب الاقتصادية التي ساهمت في إحداث النهضة .

٢ - رحلة فاسكو دي جاما . ص ٢٩

- حقق أمل البرتغال في كشف طريق مباشر في الوصول إلى الهند خارج ديار المسلمين وكانت أكبر ضربة اقتصادية وجهت للعالم الإسلامي .
- أصبحت البرتغال في مركز متقدم في منطقة المحيط الهندي التجارية .

ج - لاحظ الصورة أمامك ثم أجب :- ($2 \times 1 = 2$)



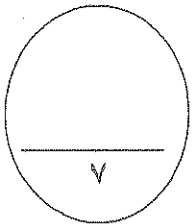
١. ما أسم صاحب الصورة ؟ ص ١٩
- ليوناردو دافنشي ($\frac{1}{2}$ درجة)

٢. ما أهم الاعمال التي نبغ فيها ؟ ص ١٩

- الرسم والنحت والمعمار والرياضة والهندسة . ($3 \times \frac{1}{2} = 1\frac{1}{2}$)

- اهتمامه بالأدب والموسيقى والشعر وعلم التشريح .

- رسم العديد من اللوحات الرائعة التي عكست قدرته الفردية على تصوير انفعالات النفس البشرية
- لوحة الموناليزا ولوحة العشاء الاخير وقد اطلق على دافنشي أسم عبقرى النهضة .



انتهت الاسئلة

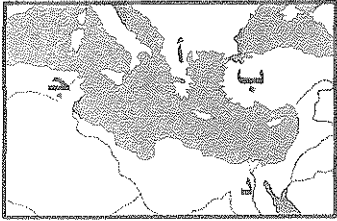
أجب عن جميع الأسئلة التالية :

السؤال الأول (موضوعي) يتكون من أ - ب - ج - د :-

- ١- أختار البديل الصحيح من بين البدائل التي تلي كل عبارة مما يلي وضع خطا تحته :-
 ١- الفترة الزمنية التي أطلق عليها عصر النهضة الأوروبية يمثلها على المخطط الحرف :
 (أ - ب - ج - د)



- ٢- فنان أوروبي برع في مجال النحت :
 (فيليو برونيلسكي - دوناتيلو - ليوناردو دافنشي - رفاتيل)
 ٣- منطقة تمثل أحد مراكز انتقال الحضارة العربية الإسلامية إلى أوروبا يمثلها على الخريطة المقابلة الحرف :
 (أ - ب - ج - د)



- ٤- أول المحاولات الكشفية التي قام بها البرتغاليون قام بها الملاح :
 (بارثلميو دياز - فاسكو دي جاما - هنري الملاح - ماجلان)
 ٥- العام الذي اكتشف فيه جاك كارتييه كندا :
 (١٥٣٤ م - ١٥٣٥ م - ١٥٣٦ م - ١٥٣٧ م)
 ٦- الملاح الذي اكتشف جزيرة نيوزيلاند :
 (مارتن فروبشير - جون كابوت - جون ديفيز - هنري هديسون)

ب - أكتب المفهوم الدالة عليه التعريفات التالية :-

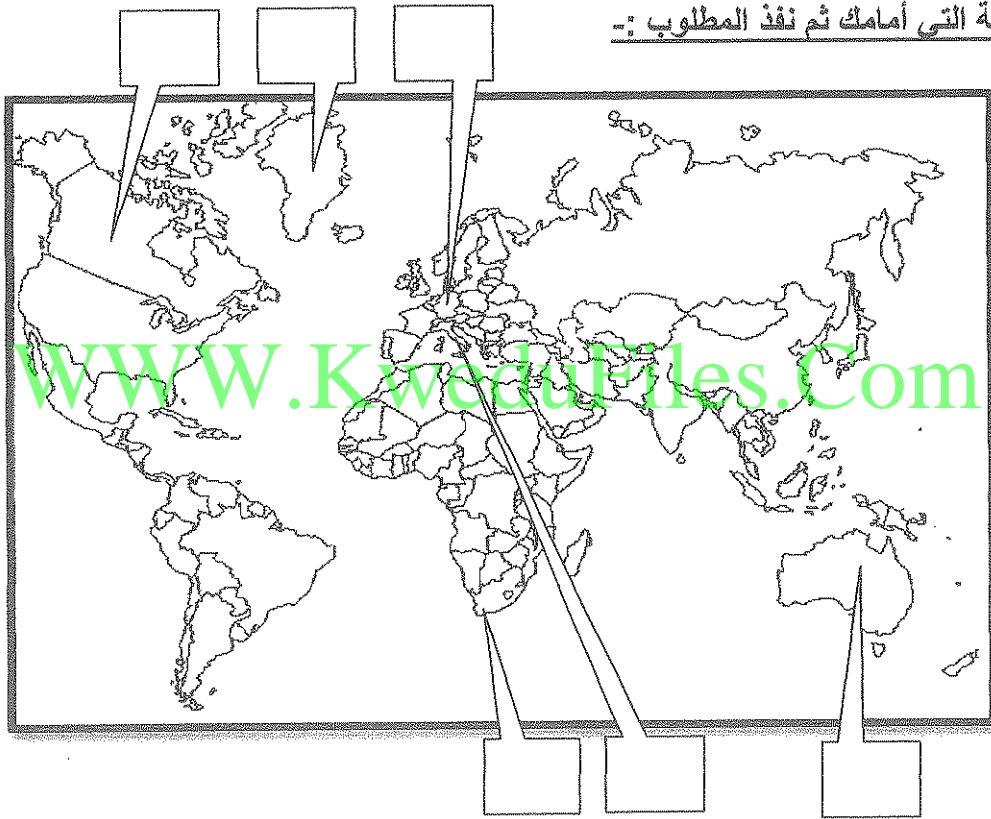
- ١- (حركة قام بها الأوروبيون تعرفوا بها على أراض جديدة لم تكن معروفة لهم من قبل .)
 ٢- (طبقة اجتماعية تحالفت مع الملوك في نهاية العصور الوسطى لتحطيم النظام الإقطاعي .)
 ٣- (حركة اهتمت بدراسة الانسان باعتباره محور الحياة لتخلصه من قيود العصور الوسطى .)

تابع السؤال الأول :

ج - أكمل العبارات التالية بما يناسبها :-

- ١- ملكة أسبانيا التي رفضت مشروع كولومبس في بادئ الأمر تسمى
- ٢- مدينة سقطت على يد القبائل الجرمانية عام ٤٧٦ م تسمى
- ٣- الامبراطور الذي كلف ماجلان في البحث عن الطريق المؤدي إلى الهند في اتجاه الغرب يسمى
- ٤- الكنيسة التي علق مارتن لوثر احتجاجه على بابها عام ١٥١٧ م تسمى
- ٥- الملاح الأوروبي الذي اكتشف جزر الأنتيل الكبرى والصغرى يسمى
- ٦- العام الذي اكتشف فيه رأس الرجاء الصالح م

د - لاحظ الخريطة التي أمامك ثم نفذ المطلوب :-



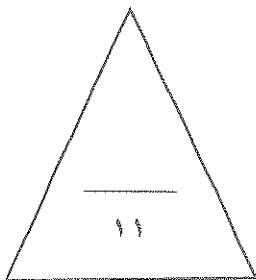
ضع رقم كل عبارة مما يلي في المربع المناسب لها على خريطة العالم الصماء :-

١- رأس الرجاء الصالح .

٢- جرينلاند .

٣- ألمانيا .

٤- إيطاليا .



السؤال الثاني (مقال) يتكون من أ - ب - ج :-

أ- علل لكل مما يلي :-

١- البرتغاليون أول من قام بحركة الكشوف الجغرافية .

أ-
ب-

٢- تمرد مارتن لوثر على الكنيسة الكاثوليكية .

أ-
ب-

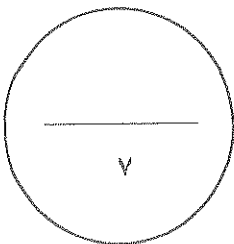
ب - فرق حسب الجدول التالي :-

نتائج رحلة جيمس كوك الثانية	نتائج رحلة جيمس كوك الثالثة
أ-	أ-
WWW.KweduFiles.Com	

ج - أكتب النتائج المترتبة عما يلي :-

.. رحلة الملاح فاسكو دي جاما .

أ-
ب-



تابع امتحان الفترة الدراسية الأولى - تاريخ العالم - للصف الثاني عشر / أدبي / العام الدراسي ٢٠١٥ / ٢٠١٦ م

السؤال الثالث (مقال) يتكون من أ - ب - ج :-

أ- علل لما يلي :-

- تعتبر إيطاليا أولى دول أوروبا في مجال النهضة .

أ-

ب-

ب- دلل على صدق العبارة التالية :-

- بذل المفكرون الأوروبيون جهدا كبيرا خلال الفترة من عام ١٣٠٠م إلى ١٥٠٠م لاستعادة المجد الأدبي والعلمي العريق .

أ-

ب-

ج- اكتب النتائج المترتبة على كل مما يلي :-

١- هيمنة الكنيسة الكاثوليكية على الناحيتين الروحية والثقافية في أوروبا خلال العصور الوسطى .

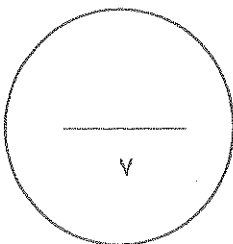
أ-

ب-

٢- رحلة كولومبس الثانية .

أ-

ب-



السؤال الرابع (مقال) يتكون من أ - ب :-

أ- أكتب الأهمية التاريخية لكل مما يلي :-

١- نيقولا ماكيافيلي .

أ-

ب-

٢- مارتن فروبشير .

أ-

ب-

ب - دلل على صدق العبارات التالية :-

١- لعبت التغييرات الكبيرة التي صاحبت عصر النهضة دورا كبيرا في تفجير الطاقات الفنية لدى الفنانين .

أ-

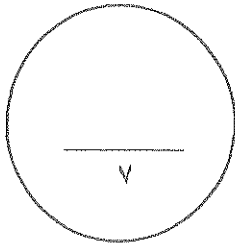
ب-

WWW.KweduFiles.Com

٢- يعتبر الدافع الاقتصادي أحد أقوى الدوافع التي دفعت الأوروبيون بالقيام بحركة الكشوف الجغرافية .

أ-

ب-



انتهت الأسئلة ..،،،

تمنياتنا لكم بالنجاح والتوفيق ..،،،

أجب عن جميع الأسئلة التالية :

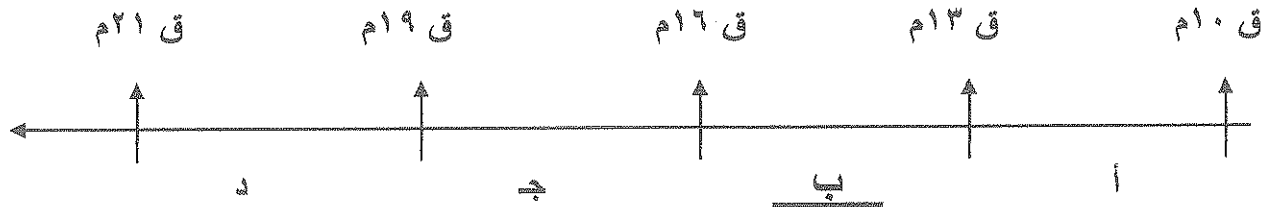
السؤال الأول (موضوعي) يتكون من أ - ب - ج - د :- كل نقطة نصف درجة

أ- اختر البديل الصحيح من بين البدائل التي تلي كل عبارة مما يلي وضع خطا تحته :-

١- الفترة الزمنية التي أطلق عليها عصر النهضة الأوروبية يمثلها على المخطط الحرف :

ص ١٢

(أ - ب - ج - د)



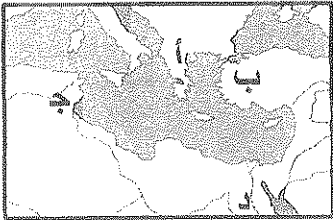
٢- فنان أوروبي برع في مجال النحت : WWW.KweduFiles.Com ص ١٨

(فيليو برونيلسكي - دوناتلو - ليوناردو دافنشي - رافائيل)

٣- منطقة تمثل أحد مراكز انتقال الحضارة العربية الإسلامية إلى أوروبا يمثلها على الخريطة المقابلة الحرف :

ص ١٤

(أ - ب - ج - د)



٤- أول المحاولات الكشفية التي قام بها البرتغاليون قام بها الملاح : ص ٢٧

(بارثولميدياز - فاسكو دي جاما - هنري الملاح - ماجلان)

٥- العام الذي اكتشف فيه جاك كارتييه كندا : ص ٤٠

(١٥٣٤م - ١٥٣٥م - ١٥٣٦م - ١٥٣٧م)

٦- الملاح الذي اكتشف جزيرة نيوفونديلاند : ص ٣٧

(مارتن فروبشير - جون كابوت - جون ديفيز - هنري هيدسون)

ب- أكتب المفهوم الدالة عليه التعريفات التالية :- كل نقطة درجة

١- (الكشوف الجغرافية ص ٢٥) حركة قام بها الأوروبيون تعرفوا بها على أراض جديدة لم تكن معروفة لهم من قبل .

٢- (البرجوازية / الوسطى ص ١٦) طبقة اجتماعية تحالفت مع الملوك في نهاية العصور الوسطى لتحطيم النظام الإقطاعي .

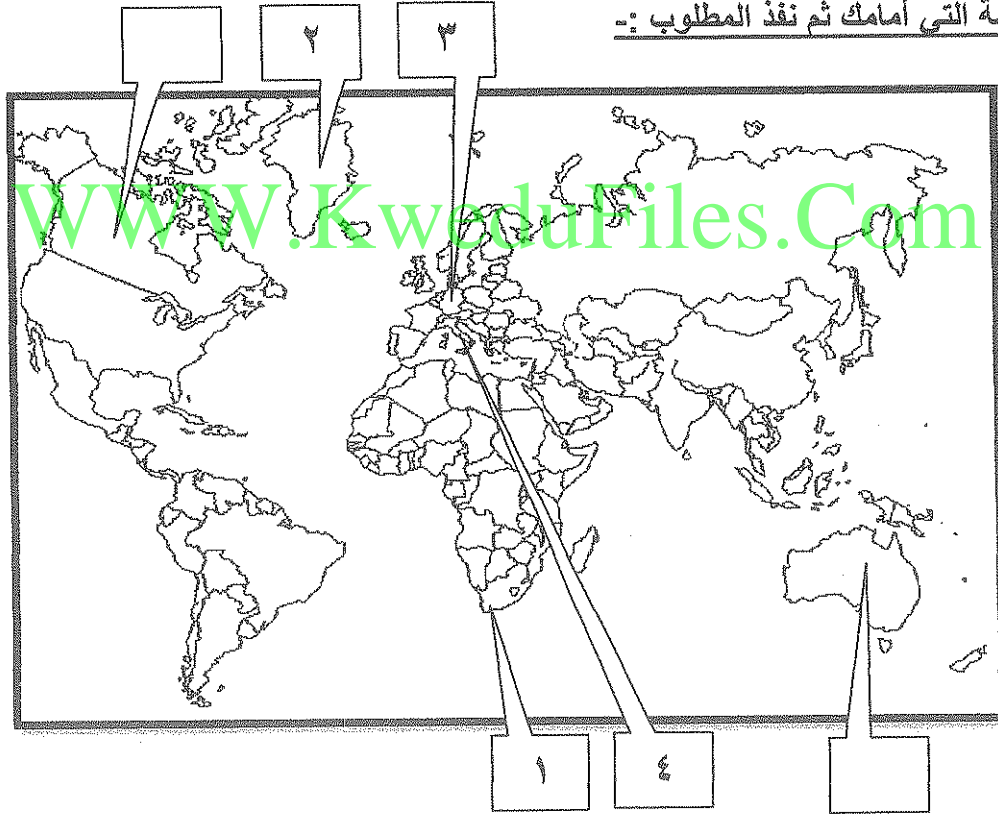
٣- (الحركة الإنسانية ص ١٧) حركة اهتمت بدراسة الإنسان باعتباره محور الحياة لتخلصه من قيود العصور الوسطى

تابع السؤال الأول :

ج - أكمل العبارات التالية بما يناسبها :- كل نقطة نصف درجة

- ١- ملكة أسبانيا التي رفضت مشروع كولومبس في بادئ الأمر تسمى إيزابيلا ص ٣١
- ٢- مدينة سقطت على يد القبائل الجرمانية عام ٤٧٦م تسمى روما ص ١١
- ٣- الامبراطور الذي كلف ماجلان في البحث عن الطريق المؤدي إلى الهند في اتجاه الغرب يسمى شارل الخامس ص ٣٥
- ٤- الكنيسة التي علق مارتن لوثر احتجاجه على بابها عام ١٥١٧م تسمى وتنبرج ص ٢٠
- ٥- الملاح الأوروبي الذي اكتشف جزر الأنتيل الكبرى والصغرى يسمى كريستوفر كولومبس ص ٣٢
- ٦- العام الذي اكتشف فيه رأس الرجاء الصالح ١٤٨٨ م ص ٢٨

د - لاحظ الخريطة التي أمامك ثم نفذ المطلوب :-



ضع رقم كل عبارة مما يلي في المربع المناسب لها على خريطة العالم الصماء :- كل نقطة نصف درجة

- ١- رأس الرجاء الصالح . ص ٢٨
- ٢- جرينلاند . ص ٣٧
- ٣- ألمانيا . ص ٢٠
- ٤- إيطاليا . ص ١٦

السؤال الثاني (مقال) يتكون من أ - ب - ج :-

أ- علل لكل مما يلي :-

- ١- البرتغاليون أول من قام بحركة الكشوف الجغرافية . ص ٢٧ ٢ درجة
- توافر الأدوات اللازمة من علم وخبرة وسفن متطورة
 - استقرار الوضع في بلادهم لذلك وجهوا اهتمامهم لاكتشاف طريق جديد خارج نطاق البحر المتوسط
- ٢- تمرد مارتن لوثر على الكنيسة الكاثوليكية . ص ٢٠ ٢ × ١ = ٢ درجة
- جهود الحركة الانسانية في التنبيه لأهمية اصلاح الكنيسة.
 - الرغبة في تحرير حركة التقدم العلمي من قيود الكنيسة .
 - اهتمام أوروبا بجوانب الحياة الدنيوية .
 - ظهور كثير من المصلحين الذين نادوا بتخليص الكنيسة من مفاستها .

ب - فرق حسب الجدول التالي :- ص ٣٩ درجة لكل جانب نصف درجة يكتفى بنقطة

نتائج رحلة جيمس كوك الثالثة	نتائج رحلة جيمس كوك الثانية
<ul style="list-style-type: none"> • أبحر كوك ناحية الساحل الشمالي الغربي لأمريكا الشمالية . • وصل إلى جزر هاواي ثم أبحر بمحاذاة ساحل كندا الغربي . • وصل إلى المحيط المتجمد الشمالي 	<ul style="list-style-type: none"> • أبحر جنوبا مخترقا مياه القطب الجنوبي المتجمدة وكان الثلج عقبة في طريقه ومنعه من رؤية القارة القطبية الجنوبية .

ج - أكتب النتائج المترتبة عما يلي :-

- ٢٩ ٢ درجة
- ٢- رحلة الملاح فاسكو دي جاما . ص ٢٩ ٢ درجة
- حقق أمل البرتغال في كشف طريق مباشر في الوصول إلى الهند خارج ديار المسلمين وكانت أكبر ضربة اقتصادية وجهت للعالم الاسلامي .
 - أصبحت البرتغال في مركز متقدم في منطقة المحيط الهندي التجارية

السؤال الثالث (مقال) يتكون من أ - ب - ج :-

أ- علل لما يلي :-

- تعتبر ايطاليا أولى دول أوروبا في مجال النهضة . ص ١٢ $٢ \times ١ = ٢$ درجة
- لعبت دور الوسيط التجاري بين موانئ البحر المتوسط .
 - وجود مركز البابوية فيها .
 - حلقة اتصال بين الشرق والغرب .
 - ماضي الامبراطورية الرومانية العريقة .

ب - دلل على صدق العبارة التالية :-

- بذل المفكرون الأوروبيون جهدا كبيرا خلال الفترة من عام ١٣٠٠م إلى ١٥٠٠م لاستعادة المجد الأدبي والعلمي العريق . ص ١٥ $٢ \times ١ = ٢$ درجة
- تبادل علماء القسطنطينية وايطاليا الزيارات العلمية بحثا عن العلوم والفنون الاغريقية والاطالية .
 - تنافس الأمراء والأثرياء في انشاء المكتبات مما أدى الى ازدهار مكتبات البندقية وفلورنسا الى جانب مكتبة الفاتيكان
 - ظهور الاكاديميات العلمية في ايطاليا مما ساعد على إثراء الحركة العلمية .
 - جهود أسرة آل مديتشي في فلورنسا وأسرة سوفرزا في ميلانو في رعاية الحركة العلمية والأدبية والفنية .
 - اختراع أحرف الطباعة المعدنية على يد الألماني جوتا برج مما أدى الى سهولة طباعة الكتب وتداولها مما ساهم في نشر جهود العلماء في مختلف المجالات .

ج - أكتب النتائج المترتبة على كل مما يلي :-

- ١- هيمنة الكنيسة الكاثوليكية على الناحيتين الروحية والثقافية في أوروبا خلال العصور الوسطى . ص ١١ $٢ \times ١ = ٢$ درجة
- ظهور النظام الاقطاعي الذي تسبب في تقسيم المجتمع الاوروبي الى مجتمع طبقي كان على قمته رجال الكنيسة والاقطاعيين والنبلاء والفرسان وفي أسفله كانت طبقة عبيد الارض التي حرمت من اي حقوق على الرغم من تحملها الكثير من الاعباء والواجبات .
 - الصراع الدائم بين البابوية والامبراطورية .
 - عاش الناس في جهل وتخلف وحرموا من حرية التفكير والبحث العلمي .

٢- رحلة كولومبس الثانية . ص ٣٢ يكتفى بنقطتين ١ درجة

- اكتشاف جزر الدومينكا وسانت كروز وبورتوريكو .
- أبحر الى الساحل الجنوبي لكوبا .
- اكتشاف الساحل الشمالي لجاميكا .

السؤال الرابع (مقال) يتكون من أ - ب :-

أ- أكتب الأهمية التاريخية لكل مما يلي :-

١- نيقولا ماكيافيللي . ص ٢١ $٢ \times ١ = ٢$ درجة

- كان على درجة كبيرة من الثقافة مما ساعده على تولي العديد من المناصب السياسية .
- أصبح سفير لمدينة فلورنسا في العديد من الدول الأوروبية .
- كتب العديد من آرائه السياسية في كتابه " الأمير " .
- أيد نظام الحكم المطلق القائم على نظرية التفويض الالهي التي تقول ان الملوك يمثلون الله على الارض وانهم يستمدون سلطتهم منه وليس من الشعوب التي يجب عليها الخضوع التام للملوك .
- أقر مبدأ الغاية تبرر الوسيلة بمعنى ان الحاكم اتخاذ كل وسيلة تحقق استقرار حكمه مهما كانت متعارضة مع الدين او الاخلاق .

٢- مارتن فروبشير . ص ٣٧ $٢ \times ١ = ٢$ درجة

- وصل الى جزيرة شتلند وجزيرة جرينلاند .
- تمكن من اكتشاف مضيق هوسن .

ب - دلل على صدق العبارات التالية :-

١- لعبت التغيرات الكبيرة التي صاحبت عصر النهضة دورا كبيرا في تفجير الطاقات الفنية لدى الفنانين . ص ١٨

- حرص الفنانون على محاكاة الفنون القديمة في الروح والتعبير مع التجديد والابتكار والابداع .
- اصبح الانسان المحور الرئيسي الذي تدور حوله الاعمال الفنية لتعبر عن قدراته وتقدمه في صورة جميلة مشرقة محبا للحياة قادرا على العطاء والانتاج في شتى مجالات الحياة .
- وجد الفنانون التشجيع والدعم الفني والمعنوي فانتجوا أعظم أعمالهم الفنية التي حولت المدن الأوروبية إلى متاحف فنية زاخرة بشتى أنواع الانتاج الفني في مجالات العمارة والنحت والتصوير .
- برز العديد من راد الحركة الفنية مثل فيليبو برونيلسكي - دوناتللو - مايكل انجلو - ليوناردو دافنشي و رافائيل .

٢- يعتبر الدافع الاقتصادي أحد أقوى الدوافع التي دفعت الأوروبيون بالقيام بحركة الكشوف الجغرافية . ص ٢٥

يكتفى بنقطتين ١ درجة

- كانت الشعوب الأوروبية في النصف الثاني من القرن الخامس عشر تبحث عن التوابل ومحاولة تخطي الوساطة التجارية الإسلامية وسيطرتها على طرق التجارة .
- الوصول الى منابع التجارة الآسيوية والأفريقية .
- خرج الأوروبيون للبحث عن المزيد من الذهب والفضة (مجاعة نقدية) .
- حدوث أزمة اقتصادية في أوروبا بسبب الحروب التي عانت منها أوروبا في آخر القرن الخامس عشر .

انتهت الأسئلة...،،،

تمنياتنا لكم بالنجاح والتوفيق...،،،

السؤال الأول : ويتكون من (أ - ب - ج - د)(أ) اختر الإكمال المناسب من بين البدائل التي تلي كل عبارة بوضع خط تحتها :

١- الترتيب الصحيح لرحلات الكشوف الجغرافية يمثله في الجدول التالي الحرف :-

م	(أ)	(ب)	(ج)	(د)
١	الأسبانية	البرتغالية	الفرنسية	الإنجليزية
٢	البرتغالية	الأسبانية	الإنجليزية	الفرنسية
٣	الفرنسية	الإنجليزية	الأسبانية	البرتغالية
٤	الإنجليزية	الفرنسية	البرتغالية	الأسبانية

٢- عدد الحجج التي أطلقها مارتن لوثر ضد أوضاع الكنيسة بلغت :-

(أ) ٦٥ حجة (ب) ٧٥ حجة (ج) ٨٥ حجة (د) ٩٥ حجة

٣- الدافع الاقتصادي لقيام دول أوروبا بحركة الكشوف الجغرافية هو الرغبة في :-

(أ) نشر المسيحية . (ب) السيطرة ونشر مبادئها .

(ج) زيادة المعلومات الجغرافية . (د) تخطي الوساطة التجارية الإسلامية .

٤- الفترة الزمنية للعصور الوسطى يمثلها على الخط الزمني الحرف :-



٥- الأرقام الدالة على أسماء ملوك ساهموا في حركة الكشوف الجغرافية البرتغال يمثلها في الجدول المقابل الحرف :-

الملك	م
جون الأول	١
فرانسيس الأول	٢
جون الثاني	٣
مانويل الأول	٤
هنري السابع	٥

أ - (٤ ، ٢ ، ١)

ب - (٤ ، ٣ ، ١)

ج - (٥ ، ٣ ، ٢)

د - (٥ ، ٤ ، ٢)

(ب) أمامك في الجدول التالي مجموعة من الأحداث التاريخية ، اذكر اسم صاحب الإنجاز :

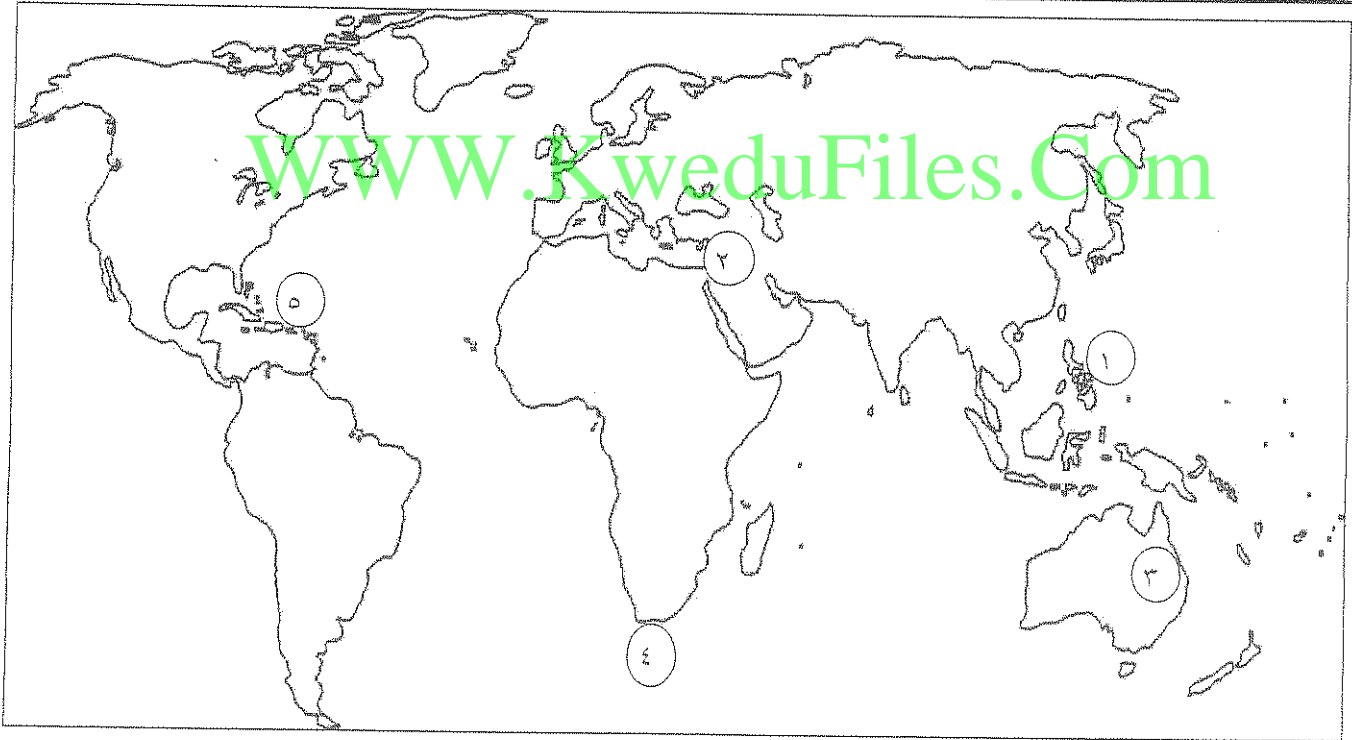
صاحب الإنجاز	الحدث التاريخي
	١- عالم ألماني اخترع أجرف الطباعة المعدنية .
	٢- شاعر إيطالي امتاز بالقدرة الفائقة على الوصف ومن أعماله الكوميديا الإلهية .
	٣- رائد الحركة الفنية في مجال التصوير ومن أعماله لوحة الموناليزا .
	٤- ملكة أسبانية مولت رحلة كريستوفر كولومبس إلى الهند .

(ج) أمامك مجموعة من المناطق التي اكتشفها الأوروبيون ، صنفها حسب الجدول :

(جزر الأنتيل – جزيرة نيوفوندلند – جزر ماديرا – كندا – مضيق هدرسن)

جون كابوت	جاك كارتية	كريستوفر كولومبس	الأمير هنري الملاح


(د) لاحظ خريطة العالم جيدا ثم استعن بها في الإجابة :

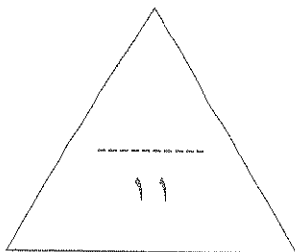


- مضيق رأس الرجاء الصالح يمثل الرقم ()

- جزر الفلبين يمثلها الرقم ()

- منطقة وصل إليها الرحالة جيمس كوك يمثلها الرقم ()

- ظل بالشكل  جزيرة جرينلاند .



السؤال الثاني : ويتكون من (أ - ب)

(أ) ما تفسيرك لما يلي :

١- تعتبر البرتغال أول الدول الأوروبية في مجال حركة الكشوف الجغرافية .

٢- قيام حركة الإصلاح الديني .

٣- سبقت إيطاليا الدول الأوروبية في حركة النهضة .

WWW.KweduFiles.Com

(ب) دال على صحة العبارات التالية :

١- تحقق للمدن الأوروبية النمو والازدهار في عصر النهضة .

٢- واجه الرحالة كريستوفر كولومبس صعوبات في تمويل مشروع رحلاته .



السؤال الرابع : و يتكون من (أ - ب)

(أ) أقرأ الفقرة التالية ثم أجب عما يليها من أسئلة :

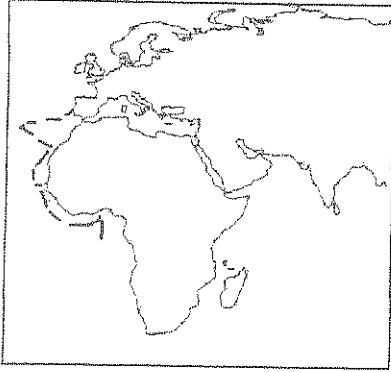
(مثلت حركة الكشوف الجغرافية التي قامت بها الدول الأوروبية اعتبارا من نهاية القرن الخامس عشر الميلادي حدثا بارزا في تاريخ العالم ، فقد رفعت الدول المكتشفة العديد من الشعارات لتغطية هدفها الأساسي وهو الوصول إلى الهند . فبدأت دولة البرتغال تلك الحملات مستعينة باختراعهم لسفن الكرافيل وتلتها بقية الدول في محاولات من جهة الشرق وجهة الغرب ، عابرين في طريقهم البحار والقارات حتى حققوا أهدافهم واكتشفوا مناطق جديدة ساعدت على تطور خريطة العالم .)

١- ضع عنوانا مناسباً للفقرة السابقة .

٢- عرف ما تحته خط .

٣- ما دور الأمير هنري الملاح في مجال حركة الكشوف الجغرافية ؟

WWW.KweduFiles.Com



٤- لاحظ الخريطة أمامك ثم أجب :

اذكر أسماء المناطق التي وصلت إليها بعثة الأمير هنري الملاح .

(ب) عرف كل مما يلي :

١- البرجوازية .

٢- الإنسانيين .

انتهت الأسئلة ونتمنى لكم التوفيق ،،،،

نموذج الإجابة

السؤال الأول : يتكون من (أ - ب - ج - د)

(أ) اختر الإكمال المناسب من بين البدائل التي تلي كل عبارة بوضع خط تحتها : درجة لكل نقطة

١- الترتيب الصحيح لرحلات الكشوف الجغرافية يمثله في الجدول التالي الحرف :- (٢٧ - ٣١ - ٣٧ - ٤٠)

م	(أ)	(ب)	(ج)	(د)
١	الأسبانية	البرتغالية	الفرنسية	الإنجليزية
٢	البرتغالية	الأسبانية	الإنجليزية	الفرنسية
٣	الفرنسية	الإنجليزية	الأسبانية	البرتغالية
٤	الإنجليزية	الفرنسية	البرتغالية	الأسبانية


٢- عدد الحجج التي أطلقها مارتن لوثر ضد أوضاع الكنيسة بلغت :- ص ٢٠

(أ) ٦٥ حجة (ب) ٧٥ حجة (ج) ٨٥ حجة (د) ٩٥ حجة

٣- الدافع الاقتصادي لقيام دول أوروبا بحركة الكشوف الجغرافية هو الرغبة في :-
(أ) نشر المسيحية .
(ب) السيطرة ونشر مبادئها .
ص ٢٥ ، ص ٢٦

(ج) زيادة المعلومات الجغرافية .
(د) تخطي الوساطة التجارية الإسلامية .

٤- الفترة الزمنية للعصور الوسطى يمثلها على الخط الزمني الحرف :- ص ١١



٥- الأرقام الدالة على أسماء ملوك ساهموا في حركة الكشوف الجغرافية البرتغال يمثلها في الجدول المقابل الحرف :-

الملك	م
جون الأول	١
فرانسيس الأول	٢
جون الثاني	٣
مانويل الأول	٤
هنري السابع	٥

ص ٢٧ ، ص ٢٨

أ - (٤ ، ٢ ، ١)

ب - (٤ ، ٣ ، ١)

ج - (٥ ، ٣ ، ٢)

د - (٥ ، ٤ ، ٢)

(ب) أمامك في الجدول التالي مجموعة من الأحداث التاريخية ، اذكر اسم صاحب الإنجاز :

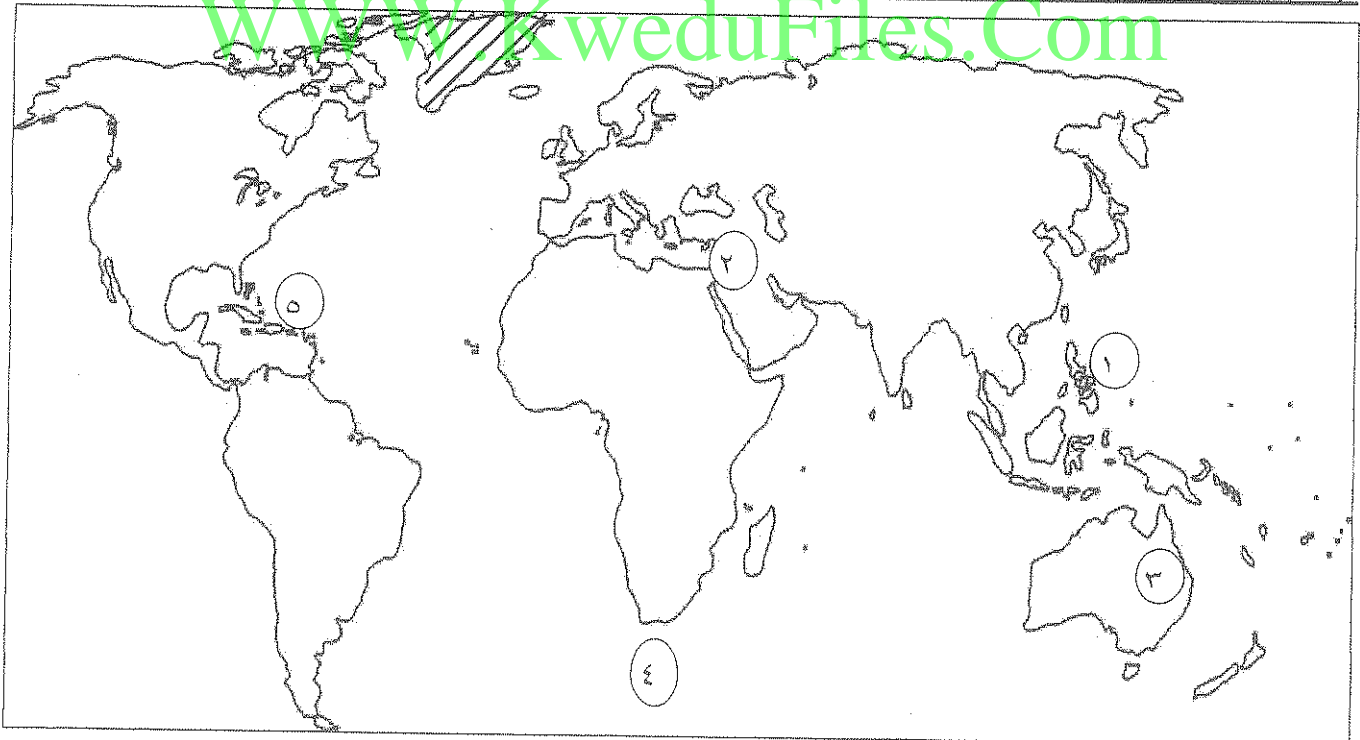
صاحب الانجاز	الحدث التاريخي
حنا جوتنبرج	١ - عالم ألماني اخترع أحرف الطباعة المعدنية . ص ١٥
دانتي	٢ - شاعر إيطالي امتاز بالقدرة الفائقة على الوصف ومن أعماله الكوميديا الإلهية . ص ١٧
ليوناردو دافنشي	٣ - رائد الحركة الفنية في مجال التصوير ومن أعماله لوحة الموناليزا . ص ١٩
الملكة إيزابيلا	٤ - ملكة أسبانية مولت رحلة كريستوفر كولومبس إلى الهند . ص ٣١

(ج) أمامك مجموعة من المناطق التي اكتشفها الأوروبيون ، صنفها حسب الجدول : نصف درجة لكل نقطة

(جزر الأنتيل - جزيرة نيوفونلند - جزر ماديرا - كندا - مضيق هسن)

جون كابوت	جاك كارتية	كريستوفر كولومبس	الأمير هنري الملاح
جزيرة نيوفونلند / ص ٣٧	كندا / ص ٤٠	جزر الأنتيل / ص ٣٢	جزر ماديرا / ص ٢٧


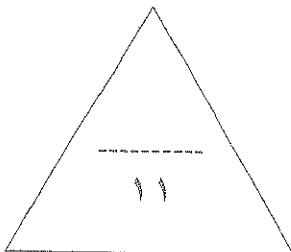
(د) لاحظ خريطة العالم جيدا ثم استعن بها في الإجابة : نصف درجة لكل نقطة



- مضيق رأس الرجاء الصالح يمثلته الرقم (٤) ص ٢٨

- جزر الفلبين يمثلها الرقم (١) ص ٣٥

- منطقة وصل إليها الرحالة جيمس كوك يمثلها الرقم (٣) ص ٣٩

- ظلل بالشكل  جزيرة جرينلاند . ص ٣٧

السؤال الثاني : ويتكون من (أ - ب)

(أ) ما تفسيرك لما يلي :

- ١- تعتبر البرتغال أول الدول الأوروبية في مجال حركة الكشوف الجغرافية :- ص ٢٧ درجة / يكتفى بنقطتين
- * توفر الأدوات اللازمة من علم وخبرة وسفن متطورة .
 - * استقرار الوضع السياسي في بلادهم .

٢- قيام حركة الإصلاح الديني :- ص ٢٠ درجتان / أربع نقاط

- * جهود الحركة الإنسانية في التنبيه لأهمية إصلاح الكنيسة .
- * الرغبة في تحرير حركة التقدم العلمي من قيود الكنيسة .
- * اهتمام أوروبا بجوانب الحياة الدنيوية .
- * ظهور كثير من المصلحين الذين نادوا بتخليص الكنيسة من مفسادها .

٣- سبقت إيطاليا الدول الأوروبية في حركة النهضة :- ص ١٢ درجتان / أربع نقاط

- * لعبت دور الوسيط التجاري بين موانئ البحر المتوسط .
- * وجود مركز البابوية فيها .
- * ماضي الإمبراطورية الرومانية العريقة .

WWW.KweduFiles.Com

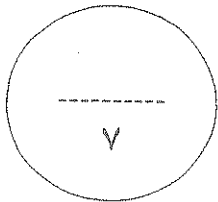
(ب) دلل على صحة العبارات التالية :

١- تحقق للمدن الأوروبية النمو والازدهار في عصر النهضة :- ص ١٦ درجة / يكتفى بنقطتين

- * تحالف المدن الصغيرة في شكل كومونات مما منحها الاستقلال والقوة السياسية .
- * ظهور الطبقة الوسطى (البرجوازية) التي تحالفت مع الملوك لتحطيم النظام الإقطاعي مما أحدث تغييرا في ملامح المدن الأوروبية سياسيا واقتصاديا واجتماعيا .
- * قيام ثورة ثقافية من خلال إنشاء المدارس في المدن بعيدا عن سيطرة الأديرة .

٢- واجه الرحالة كريستوفر كولومبس صعوبات في تمويل مشروع رحلاته :- ص ٣١ درجة / يكتفى بنقطتين

- * عرض مشروعه على ملك البرتغال فرفضه بناء على توصية مستشاريه الذين رأوا أنه لا ضرورة للبحث عن طرق جديدة .
- * قدم مشروعه إلى الملك فرديناند والملكة إيزابيلا ولكنها رفضت بدعوى أنها مشغولة بالحرب مع المسلمين في الأندلس .
- * انتظر حتى انتهت الحرب وعاد ليجد طلب تمويل الملكة إيزابيلا لمشروعه وبالفعل وافقت له ومولته في عام ١٤٩٢م .



السؤال الثالث : ويتكون من (أ - ب - ج)

(أ) ما النتائج التي تترتت على ما يلي :

١- رحلة فاسكو دي جاما :- ص ٢٩ / درجة / يكتفى بنقطتين

- * حقق أمل البرتغال في كشف طريق مباشر في الوصول إلى الهند خارج ديار المسلمين وكانت أكبر ضربة اقتصادية وجهت للعالم الإسلامي .
- * أصبحت البرتغال في مركز متقدم في منطقة المحيط الهندي التجارية .

٢- رحلة أمريكو فسبوتشي :- ص ٣٤ / درجة / يكتفى بنقطتين

- * اكتشاف (ساحل المكسيك) . * جزر (الساحل الشرقي للولايات المتحدة) . * ساحل أمريكا الجنوبية .
- * وصل إلى البرازيل * وأكد فيما بعد أنه وصل إلى عالم جديد عام ١٥٠٧م سمي (أمريكا) نسبة إلى أمريكو فسبوتشي.

(ب) اكتب فيما يلي :

١- الآراء السياسية للمفكر الإيطالي نيقولا ماكيافيللي :- ص ٢١ / درجتان / يكتفى بنقطتين

- * تأييد نظام الحكم المطلق القائم على نظرية (التفويض الإلهي) التي تقول أن الملوك يمثلون الله على الأرض ، وأنهم يستمدون سلطتهم منه وليس من الشعوب التي يجب عليها الخضوع التام .
- * إقرار مبدأ (أن الغاية تبرر الوسيلة) بمعنى أن من حق الحاكم اتخاذ كل وسيلة تحقق استقرار حكمه مهما كانت متعارضة مع الدين أو الأخلاق، وأن يعتمد على الحزم ليكون مرهوبا ، وأن يقيم المشروعات المفيدة للشعب ليكون محبوبا .

٢- ساهمت الكشوف الجغرافية في تطور علوم الملاحة :- ص ٢٦ / درجة / يكتفى بنقطتين

- * تقدم علم الفلك . * استخدام البوصلة والإسطرلاب .
- * التوصل إلى بناء سفن عملاقة سميت (الكرافيل) .



(ج) لاحظ الصورة أمامك ثم أجب :-

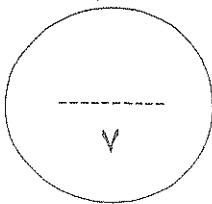
١- ما اسم صاحب الصورة ؟ (مارتن لوثر) ص ٢٠ نصف درجة

٢- اذكر ثلاث من الحجج التي قدمها ضد أوضاع الكنسية :- ص ٢٠ درجة ونصف

- * معارضة فكرة صكوك الغفران .

- * رفض احتكار البابا لتفسير الكتاب المقدس . * عارض الحجج إلى روما .

- * المطالبة بالسماح بزواج رجال الدين . * طلب إنقاص عدد الأديرة .



السؤال الرابع : و يتكون من (أ - ب)

(أ) أقرأ الفقرة التالية ثم أجب عما يليها من أسئلة :

(مثلت حركة الكشوف الجغرافية التي قامت بها الدول الأوروبية اعتبارا من نهاية القرن الخامس عشر الميلادي حدثا بارزا في تاريخ العالم . فقد رفعت الدول المكتشفة العديد من الشعارات لتغطية هدفها الأساسي وهو الوصول إلى الهند . فبدأت دولة البرتغال تلك الحملات مستعينة باختراعهم لسفن الكرافيل وتلتها بقية الدول في محاولات من جهة الشرق وجهة الغرب ، عابرين في طريقهم البحار والقارات حتى حققوا أهدافهم واكتشفوا مناطق جديدة ساعدت على تطور خريطة العالم .)

١- ضع عنوانا مناسباً للفقرة السابقة :- (أى إجابة مناسبة) ص ٢٥ درجة

* (حركة الكشوف الجغرافية) - (رحلات الكشوف الجغرافية) .

٢- عرف ما تحته خط :- الكرافيل : ص ٢٦ درجة

* سفن عملاقة ضخمة تميزت بكبر حمولتها واستعمالها لعدد أكبر من الأشرعة وازدياد القدرة على المغامرة وسط المحيطات .

٣- ما دور الأمير هنري الملاح في مجال حركة الكشوف الجغرافية ؟ ص ٢٧ درجتان/ أربع نقاط

* أنشأ مرصدا بحريا في الطرف الجنوبي لشاطئ البرتغال .

* جلب علماء الرياضيات ورسامي الخرائط والفلكيين من إيطاليا وصقلية .

* أنشأ مدرسة بحرية اهتمت بتطوير الأدوات التي استخدمت في عملية الكشوف الجغرافية كالاهتمام برسم الخرائط .

* استعان بالمسلمين الذين كانت لهم خبرة في المجال البحري .

WWW.KweduFiles.Com

٤- لاحظ الخريطة أمامك ثم أجب : ص ٢٧ درجة

اذكر أسماء المناطق التي وصلت إليها بعثة الأمير هنري الملاح :-

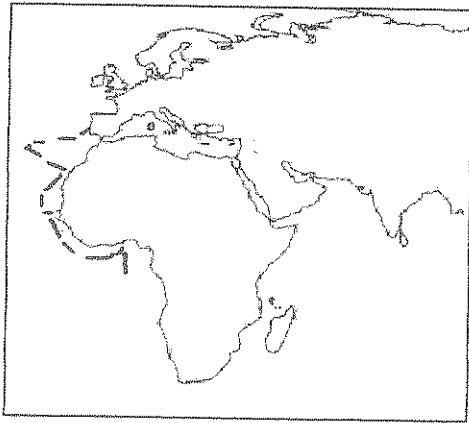
* الرأس الأخضر وساحل غانا .

* اكتشاف جزر (ماديرا) وجزر (أزور) .

* وصل بحارته إلى (رأس بوجادور) .

* (ساحل جامبيا والسنغال) .

يكتفي بنقطتين



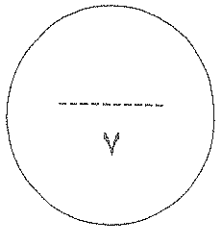
(ب) عرف كل مما يلي :

١- البرجوازية :- ص ١٦ درجة

* طبقة ظهرت في عصر النهضة تحالفت مع الملوك لتحطيم النظام الإقطاعي .

٢- الإنسانيين :- ص ١٧ درجة

* أدباء عبروا من خلال كتاباتهم الأدبية عن صورة الإنسان الذي يتصف بالإبداع والثقة بالنفس والمحبة للحياة بجميع جوانبها .





وزارة التربية
التوجيه الفني العام للاجتماعيات لمادة: تاريخ العالم الحديث والمعاصر
العام الدراسي: ٢٠١٥-٢٠١٦ م
الزمن : ساعتان وربع
عدد الأوراق : (٧)
امتحان نهاية الفترة الدراسية الثانية
للسف الثاني عشر الألبى

أجب عن أربعة أسئلة مما يأتي على أن يكون السؤال الأول من بينهما اجبارياً :-
السؤال الأول (اجباري) يتكون من (أ - ب - ج - د)
(أ) أكمل العبارات التالية بما يناسبها فيما درست:

- ١- العام الميلادي الذي فتح فيه العثمانيون مدينة القسطنطينية
- ٢- المكتشف الايطالي الاصل الذي اكتشف جزيرة نيوفوندلاند وشبة جزيرة لبرادور اسمه
- ٣- دولة عربية وقعت تحت الاحتلال الانجليزي عام ١٨٨٢م اسمها
- ٤- مدينة عربية نزل بها الهولنديون ونقلوا منها البن الى اوروبا عام ١٦١٦م اسمها
- ٥- عالم اخترع المصباح الكهربائي عام ١٨٧٧م اسمه
- ٦- التجارة التي ظهرت نتيجة لجلب الاوربيين العبيد من افريقيا الى العالم الجديد اسمها
- ٧- مدينة سقطت على يد القبائل الجرمانية عام ٤٧٦م اسمها

WWW.KweduFiles.Com

(ب) - اكتب المفاهيم والمصطلحات الدالة على العبارات التالية :

- ١- (.....) نظام ظهر في اوروبا في العصور الوسطى وادى الى تقسيم المجتمع الاوروبى الى مجتمع طبقي.
- ٢- (.....) سيطرة دولة ما بالاتفاقيات السياسية او القوة العسكرية او الاقتصادية على دولة اخرى واستغلال مواردها.
- ٣- (.....) حاجة الاوروبيين الى المزيد من الذهب والفضة في النصف الثاني من القرن الخامس عشر.
- ٤- (.....) عملية تغير شامل في ادوات الانتاج ووسائله وحجمه وعلاقاته ومستواه وتبديل كامل في اساليب التمويل والتسويق والتوزيع .
- ٥- (.....) حركة انطلقت من ايطاليا ثم انتقلت لكافة انحاء اوروبا.
- ٦- (.....) هجرة مجموعة من سكان دولة اجنبية قوية الى دولة ضعيفة و تملك الارض بطرد السكان المحليين.

(ج) ضع خطا تحت العنصر المناسب من بين الخيارات التي تلي كل عبارة :

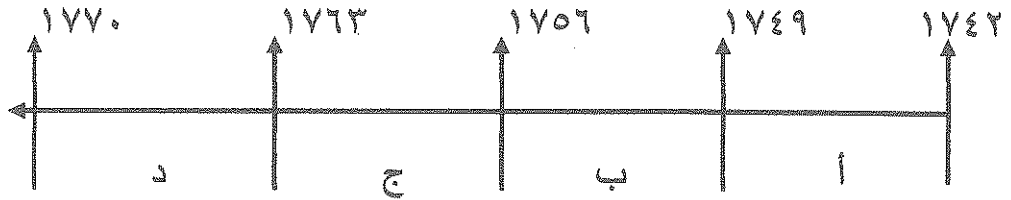
١- استمرت الفترة التاريخية التي بذل فيها المفكرون الاوروبيون جهدا في احياء الدراسات اليونانية القديمة من سنة :

أ- (١٥٠٠م - ١٨٠٠م) ب- (١٣٠٠م - ١٥٠٠م) ج- (١٢٠٠م - ١٦٠٠م) د- (١٤٠٠م - ١٧٠٠م)

٢- عدد الحجج التي قام مارتن لوثر بتعليقها على باب كنيسة وتبرج عام ١٥١٧م :

أ- ٩٢ حجة ب- ٩٣ حجة ج- ٩٤ حجة د- ٩٥ حجة

٣- الفترة الزمنية التي تمثل حرب السنين السبع يمثلها على المخطط الزمني الحرف :



٤- أول من استخدم طريق رأس الرجاء الصالح للوصول إلى الهند :

أ- فاسكو دي جاما ب- هنري الملاح ج- جون سباستيان د- ماجلان

٥- مدينة أسسها جاك كارتية على نهر سانت لورنس وكانت بداية لانشاء امبراطورية فرنسية في أمريكا :

أ- سانت مالو ب- كويك ج- مونتريال د- نيويورك

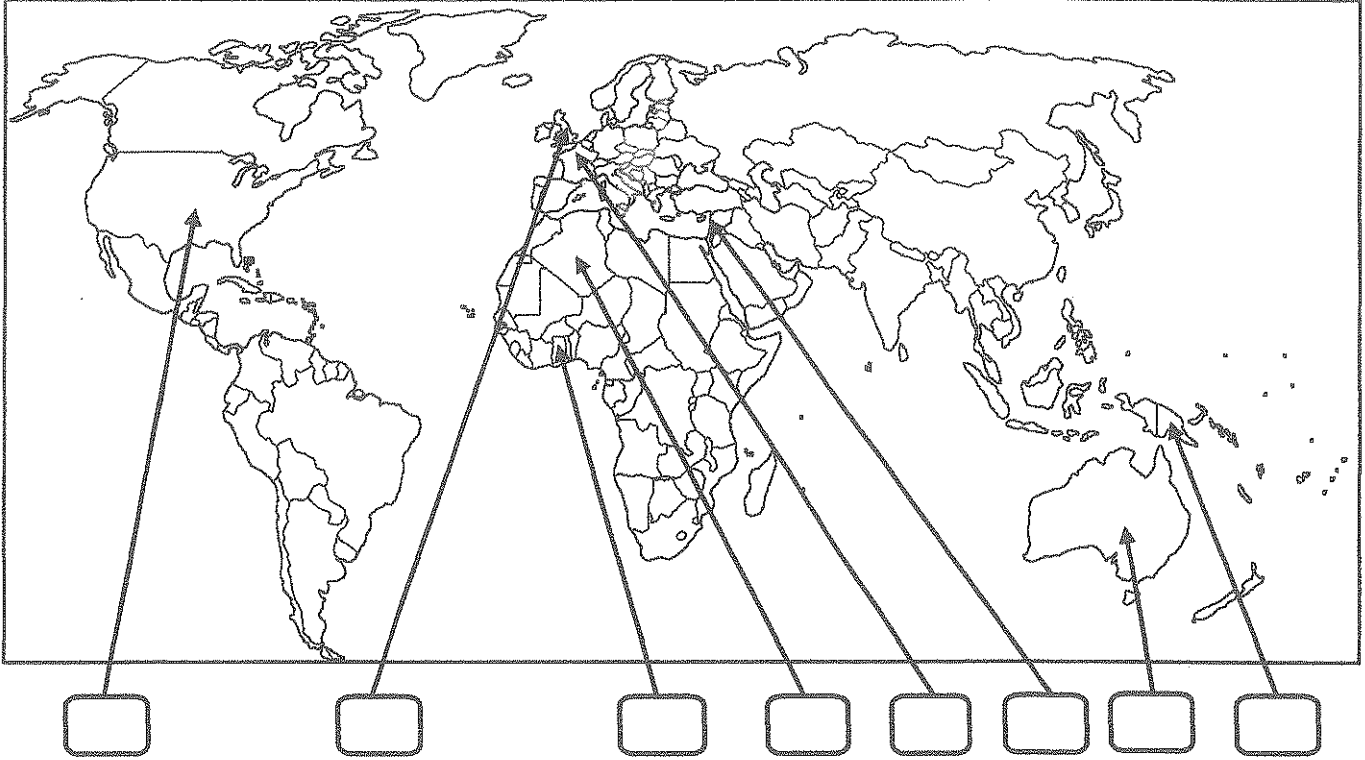
٦- عالم ينسب اليه الفضل في اختراع اللاسلكي (الراديو) :

أ- جراهام بل ب- صمويل موريس ج- وليم ماركوني د- بلانشارد

٧- رحالة اكتشف بحيرة سليف الكبرى :

أ- روبرت بيري ب- صمويل هيرن ج- الكسندر ماكينزي د- روبرت ماكلور

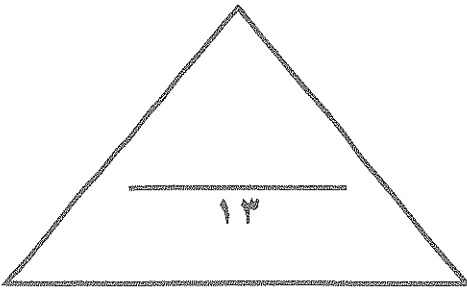
(د) لاحظ خريطة العالم التي امامك ثم نفذ المطلوب مما يليها :



ضع رقم كل عبارة مما يلي في المربعات على الخريطة :

WWW.KweduFiles.Com

- ١- قارة اكتشافها الملاح جيمس كوك .
- ٢- دولة عربية احتلتها فرنسا عام ١٨٣٠م .
- ٣- دوله يرجع اليها الفضل في اكتشاف كندا .
- ٤- منطقة توقفت عندها رحلة هنري الملاح .
- ٥- الدولة التي انطلقت منها الثورة الصناعية .
- ٦- احدى مراكز الحضارة العربية الاسلامية التي اسهمت في قيام الحضارة الاوروبية .



السؤال الثاني : اختياري يتكون من (ا ، ب ، ج)
(أ) علل كل مما يلي :-

١- قيام حركة الاصلاح الديني في اوروبا .

..... -
..... -
..... -

٢- اسبقية البرتغال لدول اوروبا في مجال الكشوف الجغرافيه .

..... -
..... -

٣- نمو المدن الأوربية وازدهارها .

..... -
..... -
..... -

WWW.KweduFiles.Com

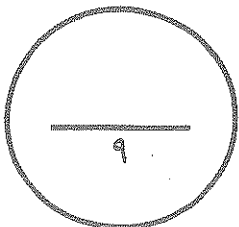
(ب) - فرق بين كل من :

نظرية كوبرنيكوس	نظرية بطليموس
.....
.....

(ج) كون فقرة مترابطة مستعينا بالكلمات التاليه :

امريكو فسبوتشي - ثلاث رحلات - البرتغال - الغرب - العالم الجديد

.....
.....
.....



السؤال الثالث : اختياري يتكون من (ا ، ب ، ج)

(أ) عرف لكل ما يلي :

١- الانسانيون :

..... -

٢- الاستعمار الأوروبي :

..... -

٣- أنتاركتيكا :

..... -

(ب) ما النتائج المترتبة على كل مما يلي :-

١- قيام النظام الإقطاعي في أوروبا .

..... -

..... -

..... -

WWW.KweduFiles.Com

٢- دور هنري الملاح في حركة الكشوف الجغرافية .

..... -

..... -

..... -

(ج) ما تفسيرك فيما يلي :

١- قيام الثورة الصناعية في إنجلترا .

..... -

..... -

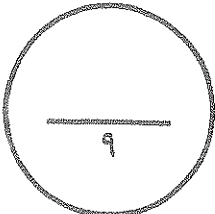
..... -

٢- انهيار الإمبراطورية الأسبانية

..... -

..... -

..... -



السؤال الرابع : اختياري يتكون من (ا، ب، ج)
(أ) اجب عما يلي :

١- الجهود التي بذلها المفكرون الأوروبيون في إحياء الدراسات اليونانية القديمة .

..... -
..... -

٢- شكل الاقتصاد الأوروبي قبل قيام الثورة الصناعية .

..... -
..... -

٣- النتائج الاقتصادية لحركة الكشوف الجغرافية .

..... -
..... -

(ب) قارن بين كل من طبقا للجدول التالي :

الوصاية	الانتداب	المعابنة
.....	تاريخ النشأة
.....	التعريف

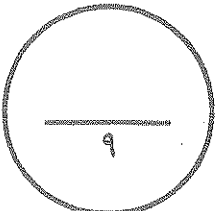
(ج) نفذ المطلوب منك بين الأقواس :

١- نتائج الكشوف الجغرافية . (الإجماعية)

..... -
..... -
..... -

٢- عوامل قيام النظام الاستعماري الأوروبي . (العامل السكاني)

..... -
..... -
..... -



السؤال الخامس : اختياري يتكون من (ا، ب، ج)

(ا) عدد لكل من:

١- أهم المطالب التي قدمها مارتن لوثر للأصلاح.

..... -
..... -

٢- النتائج السياسية للثورة الصناعية .

..... -
..... -

٣- العوامل الاستراتيجية للاستعمار الاوروبي.

..... -
..... -

(ب) اكتب المطلوب مما درست فيما يلي :

١- عوامل النهضة الايطالية في اوربا.

..... -
..... -
..... -
..... -

٢- الاستعمار و آثاره السلبية على المستعمرات.

..... -
..... -
..... -
..... -

(ج) ما دور كل من الشخصيات التالية :

١- الاخوان رايت

..... -
..... -
..... -

٢- جون كى

..... -

انتهت الأسئلة مع تمنياتنا لكم بالتوفيق

اجب عن اربعة اسئلة مما يأتي على ان يكون السؤال الاول من بينهما اجبارياً :-

السؤال الاول (اجباري) يتكون من (ا - ب - ج - د)

(ا) اكمل العبارات التالية بما يناسبها فيما درست: ($3\frac{1}{2}$ درجات لكل نقطة $\frac{1}{2}$ درجة)

- ١- العام الميلادي الذي فتح فيه العثمانيون مدينة القسطنطينية ١٤٥٣ م ص ١٢
- ٢- المكتشف الايطالي الاصل الذي اكتشف جزيرة نيوفوندلاند وشبة جزيرة لبراتور اسمه جون كابوت ص ٣٧
- ٣- دولة عربية وقعت تحت الاحتلال الانجليزي عام ١٨٨٢م اسمها مصر ص ٥١
- ٤- مدينة عربية نزل بها الهولنديون ونقلوا منها البن الى اوروبا عام ١٦١٦م اسمها مخا ص ٥٥
- ٥- عالم اخترع المصباح الكهربائي عام ١٨٢٧م اسمه توماس ادسون ص ٦٧
- ٦- التجارة التي ظهرت نتيجة لجلب الاوربيين العبيد من افريقيا الى العالم الجديد اسمها الرق ص ٤٦
- ٧- مدينة سقطت على يد القبائل الجرمانية عام ٤٧٦م اسمها روما ص ١١

www.kwedufiles.com

(ب) - اكتب المفاهيم والمصطلحات الدالة على العبار (ا - ب - ج - د) التالية (٣ درجات لكل نقطة $\frac{1}{2}$ درجة)

- ١- (النظام الاقطاعي) نظام ظهر في اوروبا في العصور الوسطى والذي ادى الى تقسيم المجتمع الاوروبي الى مجتمع طبقي. ص ١١
- ٢- (الاستعمار) سيطرة دولة ما بالاتفاقيات السياسية او القوة العسكرية او الاقتصادية على دولة اخرى واستغلال مواردها. ص ٤٩
- ٣- (المجاعة النقدية) حاجة الاوروبيين الى المزيد من الذهب والفضة في النصف الثاني من القرن الخامس عشر. ص ٢٥
- ٤- (الثورة الصناعية) عملية تغير شامل في ادوات الانتاج ووسائله وحجمه وعلاقاته ومسببواه وتبدل كامل في اساليب التمويل والتسويق والتوزيع ص ٦١
- ٥- (النهضة) حركة انطلقت من ايطاليا ثم انتقلت لكافة انحاء اوروبا. ص ١٢
- ٦- (استيطان) هجرة مجموعة من سكان دولة اجنبية قوية الى دولة ضعيفة وتملك الارض بطرد السكان المحليين. ص ٥٠

(ج) ضع خطاً تحت العنصر المناسب من بين الخيارات التي تلي كل عبارة : (٣ ½ لكل نقطة ½ درجة)

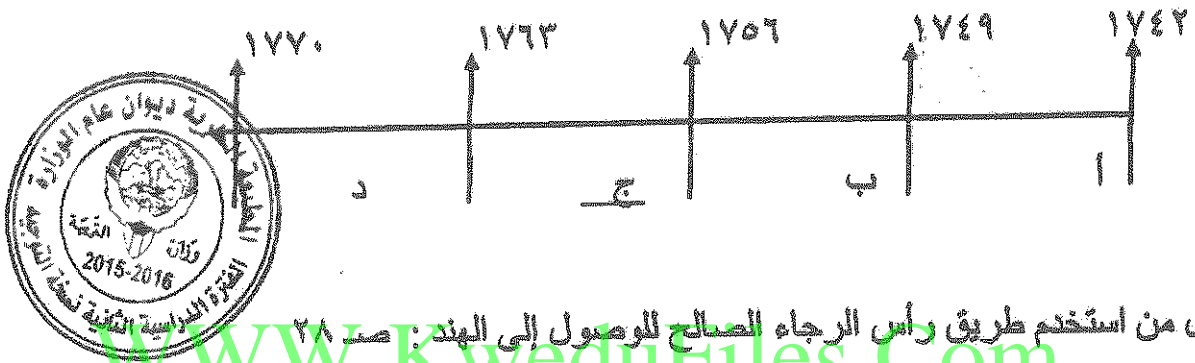
١- استمرت الفترة التاريخية التي بذل فيها المفكرون الاوروبيون جهداً في احياء الدراسات اليونانية القديمة من سنة : ص ١٥

أ- (١٥٠٠م - ١٨٠٠م) ب- (١٣٠٠م - ١٥٠٠م) ج- (١٢٠٠م - ١٦٠٠م) د- (١٤٠٠م - ١٧٠٠م)

٢- عدد الحجج التي قام مارتن لوثر بتعليقها على باب كنيسة وتبرج عام ١٥١٧م : ص ٢٠

أ- ٩٢ حجة ب- ٩٣ حجة ج- ٩٤ حجة د- ٩٥ حجة

٣- الفترة الزمنية التي تمثل حرب السنين السبع يمثلها على المخطط الزمني الحرف : ص ٥٥



٤- أول من استخدم طريق رأس الرجاء الصالح للوصول الى الهند : ص ٢٨

أ- فاسكودي جاما ب- هنري الملاح ج- جون سباستيان د- ماجلان

٥- مدينة أسسها جاك كارتييه على نهر سانت لورنس وكانت بداية لانشاء امبراطورية فرنسية في امريكا : ص ٤٠

أ- سانت مالو ب- كوبيك ج- مونتريال د- نيويورك

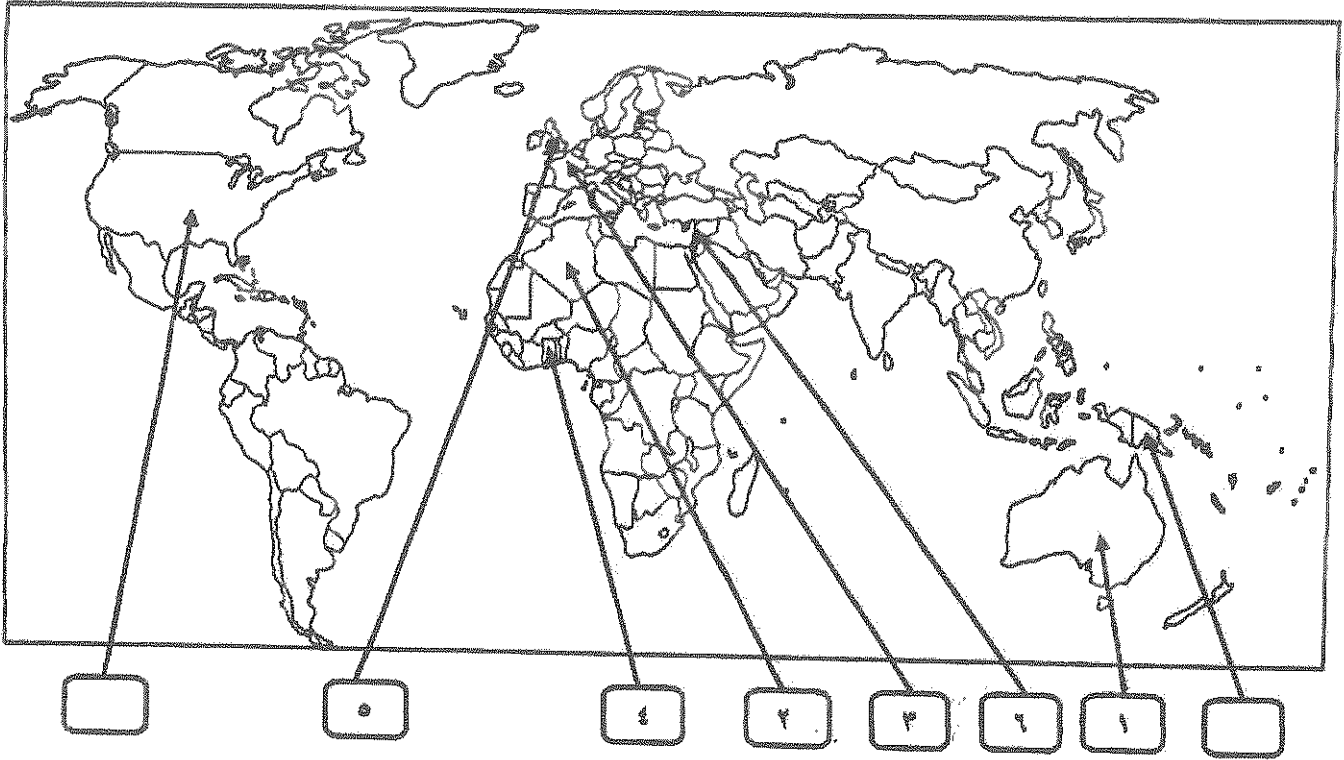
٦- عالم ينسب اليه الفضل في اختراع اللاسلكي (الراديو) : ص ٦٨

أ- جراهام بل ب- صمويل موريس ج- وليم ماركوني د- بلانشارد

٧- رحالة اكتشف بحيرة سليف الكبرى : ص ٤٢

أ- روبرت بيرري ب- صمويل هيرن ج- الكسندر ماكينزي د- روبرت ماكلور

(د) لاحظ خريطة العالم التي امامك ثم نفذ المطلوب مما يليها :



ضع رقم كل عبارة مما يلي في المربعات على الخريطة : (الثلاث درجات لكل نقطة نصف درجة)



- ١- قارة اكتشافها الملاح جيمس كوك . ص ٣٩
- ٢- دولة عربية احتلتها فرنسا عام ١٨٣٠ م . ص ٥١
- ٣- دولة يرجع اليها الفضل في اكتشاف كندا . ص ٤٠
- ٤- منطقة توقفت عندها رحلة هنري الملاح . ص ٢٧
- ٥- الدولة التي انطلقت منها الثورة الصناعية . ص ٦٢
- ٦- احدى مراكز الحضارة العربية الاسلامية التي اسهمت في قيام الحضارة الاوروبية . ص ١٤

الموالم الثاني : اأنايارى بأكون من (ا، ب ، ج)
(أ) عل كل مما بلى :-

١- قيام حركة الاصلاح الدينى فى اوروبا ص ٢٠ (درجة ونصف)
- اهتمام اوروبا بالحياة الدينوية - ظهور كآبر من المصلحين الذين نادوا بأكليص الكنيسة من مفاستها
- الرغبة فى تحرير التقدم العلمى من قيود الكنيسة - جهود الحركة الإنسانية فى التنبيه لأهمية
إصلاح الكنيسة

٢- اسبقية البرتغال لدول اوروبا فى مجال الكشوف الجغرافية ص ٢٧ (درجة واحدة)
- توفر الأدوات اللازمة من علم وخبرة وسفن متطورة .
- استقرار الوضع فى بلادهم وذلك وجهوا اهتمامهم لاكتشاف طريق جديد خارج البحر المتوسط.
٣- نمو المدن الأوروبية وازدهارها : ص ١٦ (درجة ونصف)

- ظهور الطبقة الوسطى البرجوازية
٢- تحالف المدن الصغيرة فى شكل كونفدرالية
- قيام ثورة ثقافية من خلال إنشاء المدارس فى المدن بعيداً عن سيطرة الأديرة



(ب) - فرق بين كل من :

نظرية بطليموس	نظرية كوبرنيكوس
تقول هذه النظرية ان الارض هى محور الكون. ص ٤٦	تقول هذه النظرية ان الشمس هى محور الكون وان الكواكب الاخرى بما فيها الارض تدور حولها . ص ٤٦
(درجة واحدة)	(درجة واحدة)

(ج) كون فقرة مترابطة مستعناً بالكلمات التالية : ص ٣٤ (٣ درجات)

امريكو فسبوتشى - ثلاث رحلات - البرتغال - الغرب - العالم الجديد

امريكو فسبوتشى مكتشف ايطالى قام بثلاث رحلات من اوروبا لحساب البرتغال متجها الى الغرب عبر المحيط الاطلسى حيث اكتشف ساحل المكسيك والبرازيل وسمى العالم الجديد باسمه . (او ما يراه المصحح مناسب)

السؤال الثالث : اختياري يتكون من (ا ، ب ، ج)

(ا) عرف لكل ما يلي : (ثلاث درجات لكل نقطة درجة)

١- الانسانيون : ص ١٧

هم مجموعة من الكتاب عبروا في كتاباتهم الأدبية عن صورة الإنسان الذي يتصف بالإبداع والثقة بالنفس والمحب للحياة في جوانبها المشرقة .

٢- الاستعمار الأوروبي : ص ٤٩

استغلال دولة قوية لدولة ضعيفة بهدف السيطرة على مواردها الاقتصادية أو الإنتفاع من موقعها الإستراتيجي.

٣- أنتاركتيكا : ص ٤٣

هي القارة الواقعة حول القطب الجنوبي والوحيدة المجهولة بالنسبة للعالم و غير أهله بالسكان .

(ب) ما النتائج المترتبة على كل مما يلي :-

١- قيام النظام الإقطاعي في أوروبا . ص ١١ (درجة ونصف)

- تقسيم المجتمع الأوروبي إلى مجتمع طبقي - حرما من حرية التفكير والبحث العلمي
- عاش الناس في جهل وتخلف - الصراع الدائم بين البابوية والامبراطورية .

٢- دور هنري الملاح في حركة الكشوف الجغرافية . ص ٢٧ (درجة ونصف)

- أنشأ مدرسة بحرية - اهتم برسم الخرائط - أنشأ مرصد بحري
- جلب علماء الرياضيات ورسامي الخرائط والفلكيين من إيطاليا وصقلية . - استعان بالمسلمين الذين كانت لهم دراية في المجال البحري.

(ج) ما تفسيرك فيما يلي :



١- قيام الثورة الصناعية في إنجلترا . ص ٦٢ (درجة ونصف)
- الإستقرار الداخلي ووجود الدستور ونظام برلماني . - وفرة رأس المال - وجود أسطول تجاري كبير .
- تشجيع العلماء والمخترعين . - سهولة الحصول على المواد الخام . - وجود القوى المحركة . - توفر الأيدي العاملة الرخيصة .

٢- إنهيار الإمبراطورية الأسبانية . ص ٥٤ (درجة ونصف)

- استبداد الأسبان والمعاملة السيئة للشعوب الأصلية . - استغلال المستعمرات لمصلحة أسبانيا والملك .
- تنفق الثروات على الأسبان جعل بقية الدول الإستعمارية بتشجيع من حكوماتهم بالسطو على السفن الأسبانية . - تحطم الأسطول الأسباني (الأرمادا) على يد الإنجليز سنة ١٥٨٨ م .

**السؤال الرابع : اختياري يتكون من (ا ، ب ، ج)
(ا) اجب عما يلي :**

- ١- الجهود التي بذلها المفكرون الأوروبيون في إحياء الدراسات اليونانية القديمة . ص ١٥ (درجة واحدة)
 - تبادل علماء القسطنطينية وإيطاليا الزيارات العلمية . - تنافس الأمراء والأثرياء في إنشاء المكتبات .
 - ظهور الأكاديميات العلمية في إيطاليا مما ساعد على إثراء الحركة العلمية . - جهود أسرة آل منديشي
 وأسرة سوفرازا في رعاية الحركة الأدبية والفنية . - اختراع أحرف الطباعة المعدنية على يد الألماني
 جوتاينبرج .
 ٢- شكل الاقتصاد الأوروبي قبل قيام الثورة الصناعية ص ٦١ (درجة واحدة)

- كانت الزراعة هي المحور الأساسي للدخل القومي لمعظم دول أوروبا حيث كان غالبية السكان يعملون
 فيها . - كانت الحركة التجارية محدودة ومفككة حيث تفتقر إلى وسائل المواصلات التي تربطها . - ظهور
 المد الإستعماري أدى إلى تنفق الثروات والمواد الخام من المستعمرات إلى أوروبا .

٣- النتائج الاقتصادية لحركة الكشوف الجغرافية ص ٤٥ (درجة واحدة)

- تحول طرق التجارة بين اسيا وأوروبا وفقد البحر المتوسط مكانته التجارية - تنفذت الثروات والمعادن
 الثمينة على أوروبا مما أدى إلى ارتفاع الأسعار وتضرر الفلاحون والفئات العامة - قيام صناعات جديدة
 مما أدى إلى زيادة رؤوس الاموال فظهرت الحاجة إلى مستعمرات لتصريف المصنوعات والحصول على
 المعادن المواد الأولية - ظهور البورصات وازدياد نشاط الكشوف الجغرافية .



(ب) قارن بين كل من طبقاً للجدول التالي :

المعاني	الانتداب	الوصاية
تاريخ النشأة	١٩١٩ (١/٢ درجة)	١٩٤٥ (١/٢ درجة)
التعريف	انتداب الدول المنتصرة في الحرب العالمية الاولى لادارة شؤون الاقطار التي تحكمها الدولة العثمانية او المانيا لهزيمتها بالحرب (درجة واحدة)	وضع المناطق التي كانت تحت النفوذ الالمانى والايطالى واليابانى تحت وصاية دولة من اختيار الامم المتحدة (درجة واحدة)

(ج) نفذ المطلوب منك بين الأقواس :

- ١- نتائج الكشوف الجغرافية . (الإجتماعية) ص ٤٦ (درجة ونصف)
 - اعتمدت على سياسة إبادة السكان الأصليين في العالم الجديد . - جلب العبيد من أفريقيا وظهرت تجارة
 الرق . - ظهور الطبقة الرأسمالية التي لعبت دوراً مهماً في أوروبا .
 ٢- عوامل قيام النظام الاستعماري الأوروبي . (العامل السكاني) ص ٥٠ (درجة ونصف)
 - الثورة الصناعية ساعدت على الزيادة السكانية لدول أوروبا . - زيادة عدد السكان في أوروبا أدى إلى
 اتباع سياسة التهجير إلى الأقاليم المستعمرة . - تحسن الخدمات الطبية ساعد على الزيادة السكانية
 الطبيعية في أوروبا . - العمل على تجنيد سكان المستعمرات لصالح القوى العسكرية للدول الإستعمارية .

السؤال الخامس : اختاري يتكون من (ا، ب، ج)

(ا) عدد لكل من:

- ١- أهم المطالب التي قدمها مارتن لوثر للأصلاح. ص ٢٠ يكتفي بنقطتين (درجة واحدة)
 - معارضة فكرة صكوك الغفران. - رفض احتكار البابا لتفسير الكتاب المقدس.
 - طلب انقاص عدد الأديرة. - عارض الحج الى روما. - المطالبة بالسماح بزواج رجال الدين
- ٢- النتائج السياسية للثورة الصناعية. ص ٦٩ يكتفي بنقطتين (درجة واحدة)
 - ظهور الأحزاب السياسية المدافعة عن حقوق العمال . - سيطرة الطبقة الرأسمالية على مقاليد السلطة السياسية بأوربا . - التسابق الإستعماري حول المستعمرات لجلب المواد الخام منها وجعلها أسواق للإنتاج الصناعي .

٣- العوامل الإستراتيجية للاستعمار الأوروبي. ص ٥٠ يكتفي بنقطتين (درجة واحدة)



- استغلال المواقع الإستراتيجية للأقامة المحطات التجارية و القواعد العسكرية
- حماية خطوط المواصلات البحرية . - توفير خدمات للسفن التجارية

(ب) اكتب المطلوب مما درست فيما يلي :

- ١- عوامل النهضة الإيطالية في أوروبا. ص ٢١
 - لعبت دور الوسيط التجاري بين موانئ البحر المتوسط. - وجود مركز الباباوية فيها.
 - حلقة اتصال بين الشرق و الغرب. - ماضي الامبراطورية الرومانية العريقة.

٢- الاستعمار و آثاره السلبية على المستعمرات. ص ٥٧ (درجتان)

- قامت القوى الحاكمة بتعطيل الهياكل الاقتصادية التقليدية. - حطم المستعمرون الأنشطة التجارية والصناعية في المستعمرات . - فقدان شعوب المستعمرات القدرة على التحكم في مقدراتها الاقتصادية . - حاول المستعمرون فرض ثقافتهم على الشعوب المستعمرة .

(ج) ما دور كل من الشخصيات التالية :

١- الأخوان رايت ص ٦٦ (درجة واحدة)

- اختراع طائرة ذات محرك بنزيني مما أدى الى تطور عالم الطيران .

٢- جون كي ص ٦٣ (درجة واحدة)

- اختراع المكوك الطائر مما أدى الى زيادة سرعة النسيج .

الزمن : ساعتان وربع

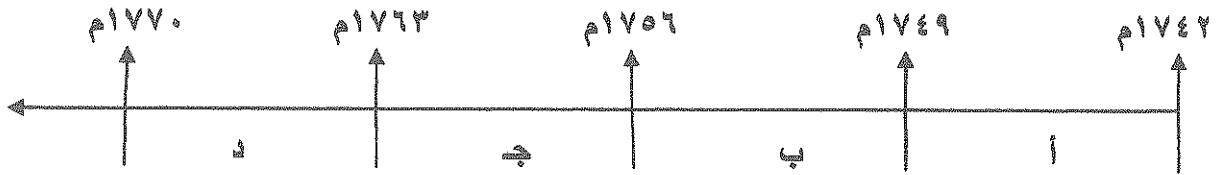
امتحان نهاية الفترة الدراسية الثانية
للفيف الثاني عشر / أدبي للعام ٢٠١٤ / ٢٠١٥ م
في مادة تاريخ العالم الحديث والمعاصر

أجب عن أربعة أسئلة مما يلي على أن يكون السؤال الأول من بينها اجباريا :-

السؤال الأول (اجباري) يتكون من (أ - ب - ج - د) :-

أ - اختر البديل الصحيح من بين البدائل التي تلي كل عبارة مما يلي وضع خطا تحته :

١- الفترة الزمنية التي تمثل حرب السنين السبع يمثلها على المخطط الزمني الحرف :



٢- الجزر التي اكتشفها البرتغاليون في عهد هنري الملاح :

أ- كوبا

ب- هايتي

ج- ترينيداد

د- آزور

٣- رواد الحركة الفنية الذين برعوا في مجال النحت يمثلهم في الجدول المقابل الأرقام :

أ- (٣ ، ١)

ب- (٤ ، ٢)

ج- (٥ ، ٣)

د- (٥ ، ٢)

٤- العالم الذي اخترع القاطرة البخارية :

أ- نيقولوس أوتو

ب- ديمتر وينز

ج- جورج ستيفنسن

د- روبرت فولتن

٥- الرحالة البرتغالي الذي اكتشف رأس الرجاء الصالح :

أ- بارثلميو دياز

ب- فاسكو دي جاما

ج- ماجلان

د- كريستوفر كولمبس

٦- الدولة العربية التي احتلتها فرنسا عام ١٨٣٠ م :

أ- تونس

ب- سوريا

ج- الجزائر

د- موريتانيا

ب - أكتب المفهوم الدالة عليه التعريفات التالية :-

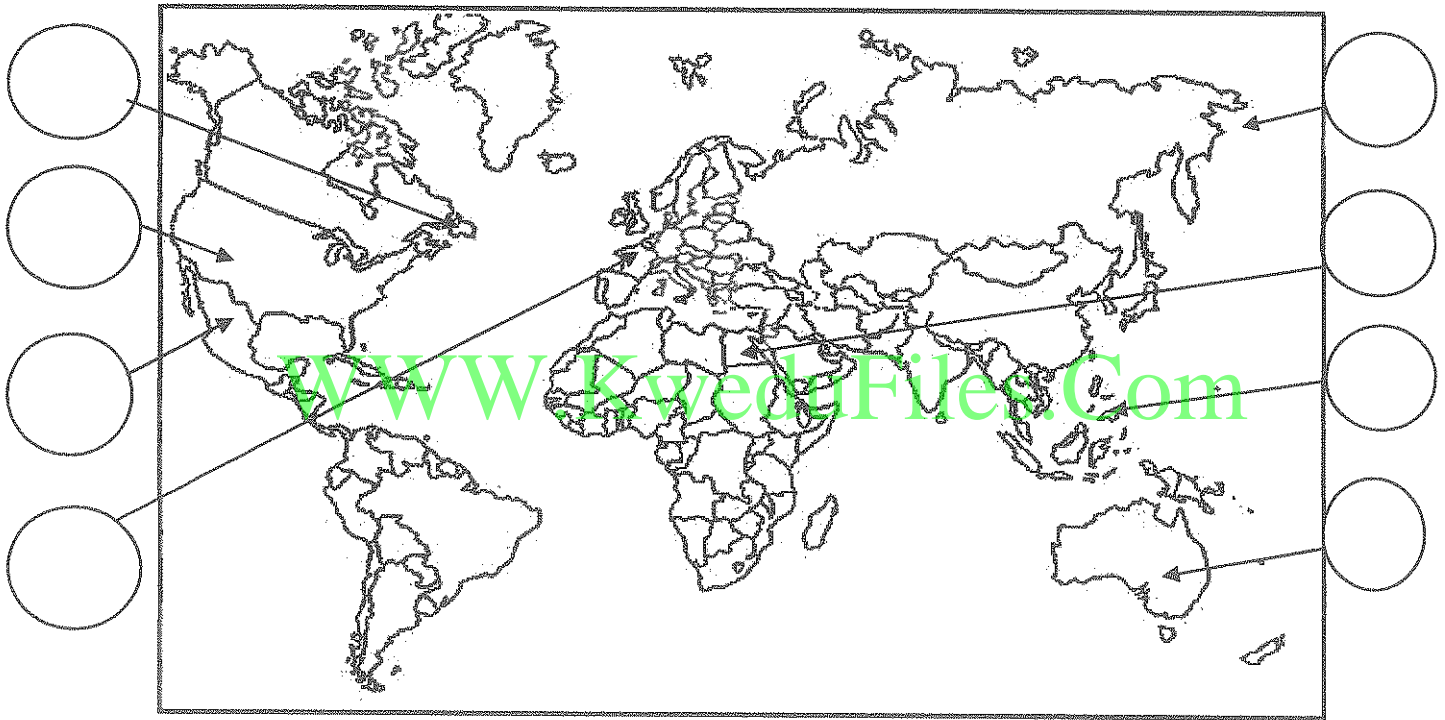
- ١- (طبقة اجتماعية تحالفت مع الملوك في أواخر العصور الوسطى لتحطيم نظام الإقطاع .)
٢- (سفن عملاقة تميزت بكبر حمولتها وازدياد قدرتها على المغامرة وسط المحيطات .)
٣- (عملية تغيير شامل في أدوات الإنتاج ووسائله وحجمه وعلاقاته ومستواه .)
٤- (حركة قام بها الأوروبيون خلال القرنين ١٥ - ١٦ م ساعدت على تطور خريطة العالم .)

تابع السؤال الأول :-

ج - أكمل الجمل التالية بما يناسبها :-

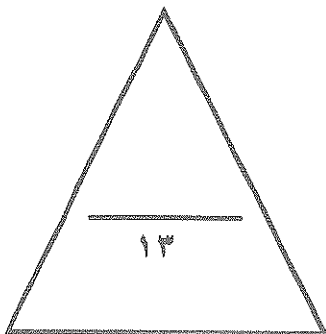
- ١- البحار البرتغالي الذي احتل جزيرة سوقطرة عام ١٥٠٦م يسمى
- ٢- المجال الذي برع فيه العالم هنري بسمر يسمى
- ٣- الحضارة التي ظهرت في بيرو تسمى
- ٤- ملكة بريطانيا التي تم في عهدها تأسيس مستعمرة فرجينيا عام ١٦٠٧م تسمى
- ٥- الكتاب الذي نشر فيه ماكيافيللي آرائه السياسية يسمى
- ٦- الملك الفرنسي الذي شجع قيام شركة الهند الشرقية الفرنسية عام ١٦٦٤م يسمى

د- لاحظ خريطة العالم التي أمامك جيدا ثم نفذ المطلوب :



ضع رقم كل عبارة مما يلي في الدوائر على الخريطة:

- ١- جزر قتل فيها ماجلان في صراع مع السكان .
- ٢- أحد مراكز انتقال الحضارة العربية الإسلامية إلى أوروبا .
- ٣- منطقة ظهرت فيها حضارة الأزتك .
- ٤- جزيرة أكتشفها الملاح جيمس كوك .
- ٥- دولة يرجع إليها الفضل في اكتشاف كندا .
- ٦- جزيرة أكتشفها الملاح جون كابوت .



السؤال الثاني (اختياري) يتكون من (أ - ب - ج) :-

أ - علل لكل مما يلي :-

١- إيطاليا في مقدمة حركة النهضة الأوروبية .

..... ●
..... ●

٢- انهيار الامبراطورية الأسبانية .

..... ●
..... ●

ب - فرق حسب الجدول :-

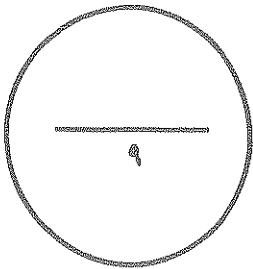
نظرية كوبرنيكوس في مجال الفلك	نظرية بطليموس في مجال الفلك
..... ● ●

WWW.KweduFiles.Com

ج - دال على صحة العبارة التالية :-

١- أن الثورة الصناعية أحدثت تغييرا سياسيا في قارة أوروبا .

..... ●
..... ●
..... ●



السؤال الثالث (اختياري) يتكون من (أ - ب - ج) :-

أ - اكتب فقرة مترابطة من ثلاثة أسطر مستعينا بالكلمات التالية :-

((الإستعمار الأوروبي - الحضارة الأوروبية - الإرساليات التبشيرية - المستشرقون))

.....
.....
.....

ب - فرق حسب الجدول التالي :-

عوامل انهيار الإمبراطورية الهولندية	عوامل انهيار الإمبراطورية البرتغالية في الشرق
.....
نتائج رحلة كولمبس الثانية	نتائج رحلة كولمبس الأولى
.....

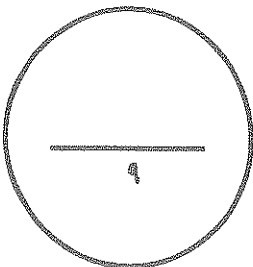
ج - ماذا يحدث لو لم :-

١ - اخترع حنا جوتنبرج أحرف الطباعة المعدنية .

.....
.....

٢ - اخترع توماس اديسون المصباح .

.....



السؤال الرابع (اختياري) يتكون من (أ - ب - ج) :-

أ - اكتب النتائج المترتبة على كل مما يلي :-

١- رحلة فاسكو دي جاما .

..... ●
..... ●

٢- حركة الإصلاح الديني في أوروبا .

..... ●
..... ●

ب - دلل على صدق العبارة التالية :-

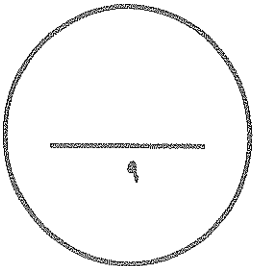
" إن العلاقات التي تمت بين قارة أوروبا والقارات الأخرى كانت ذات نتائج عظيمة في الإقتصاد العالمي "

..... ●
..... ●
..... ●

www.KweduFiles.Com

ج - ما أوجه الاختلاف بين الإقتصاد الأوروبي قِبل ... وبعْد الثورة الصناعية .

..... ●
..... ●



السؤال الخامس (اختياري) يتكون من (أ - ب - ج) :-

أ - أقرأ الفقرة التالية ثم نفذ المطلوب :-

" اتبعت الدول الإستعمارية أساليب شتى ومتنوعة خلال سيطرتها على الشعوب الأخرى ، حيث هدف الإستعمار لإقامة المحطات التجارية والقواعد العسكرية . وكان لكل أسلوب خصائص خاصة به ، ومع تعدد تلك الخصائص تعددت أشكال الإستعمار . "

١- عرف الإستعمار .

..... *

٢- عدد أشكال الإستعمار .

..... *

..... *

ب - فُند العبارة التالية :-

١- أهملت النهضة الأوروبية دراسة الإنسان .

..... *
..... *

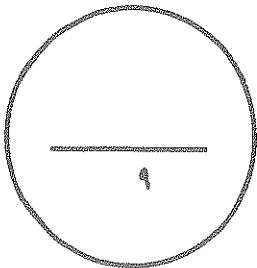
ج - علل لكل مما يلي :-

١- قيام حركة الإصلاح الديني في أوروبا .

..... *
..... *

٢- إنجلترا هي القاعدة التي انطلقت منها الثورة الصناعية .

..... *
..... *



انتهت الأسئلة ...،،،،

تمنياتنا لكم بالنجاح والتوفيق ...،،،،

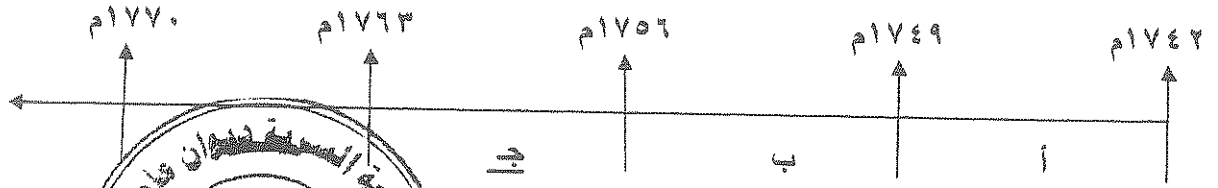
امتحان نهاية الفترة الدراسية الثانية
للمستوى الثاني عشر / أدبي للعام ٢٠١٤ / ٢٠١٥ م
في مادة تاريخ العالم الحديث والمعاصر

أجب عن أربعة أسئلة مما يلي على أن يكون السؤال الأول من بينها إجباريا :-

السؤال الأول (إجباري) يتكون من (أ - ب - ج - د) لكل نقطة نصف درجة

أ - اختر البديل الصحيح من بين البدائل التي تلي كل عبارة مما يلي وضع خطا تحته :

١- الفترة الزمنية التي تمثل حرب السنين السبع يمثلها على المخطط الزمني الحرف : ص ٥٥



٢- الجزر التي اكتشفها البرتغاليون في عهد هنري الملاح : ص

أ- كوبا

ب- هايتي

ج- ترينداد

د- آزور

٣- رواد الحركة الفنية الذين برعوا في مجال النحت يشتهم في الجدول المقابل الأرقام :

ص ١٨

أ- (١ ، ٣)

ب- (٢ ، ٤)

ج- (٣ ، ٥)

٤- العالم الذي اخترع القاطرة البخارية : ص ٦٥

أ- نيقولوس أوتو

ب- ديمتر وينز

ج- جورج ستيفنسن

د- روبرت فولتن

٥- الرحالة البرتغالي الذي اكتشف رأس الرجاء الصالح : ص ٢٨

أ- بارثلميو دياز

ب- فاسكو دي جاما

ج- ماجلان

د- كريستوفر كولمبس

٦- الدولة العربية التي احتلتها فرنسا عام ١٨٣٠ م : ص ٥١

أ- تونس

ب- سوريا

ج- الجزائر

د- موريتانيا

لكل نقطة درجة واحدة

ب- أكتب المفرد الدالة على التعريفات التالية :-

١- (البرجوازية / الوسطى) طبقة اجتماعية تحالفت مع الملوك في أواخر العصور الوسطى لتحطيم نظام الإقطاع . ص ١٣

٢- (الكرافول) سفن عملاقة تصورات بحري حملت أعدادا هائلة من البنادق على المغامرة وسط المحيطات . ص ١١

تابع اجابة السؤال الأول (الاجباري) :

- ٣- (الثورة الصناعية) عملية تغيير شامل في أدوات الإنتاج ووسائله وحجمه وعلاقاته ومستواه . ص ٦١
- ٤- (الكشوف الجغرافية) حركة قام بها الأوروبيون خلال القرنين ١٥ - ١٦م ساعدت على تطور خريطة العالم . ص ٢٥

تابع السؤال الأول :-

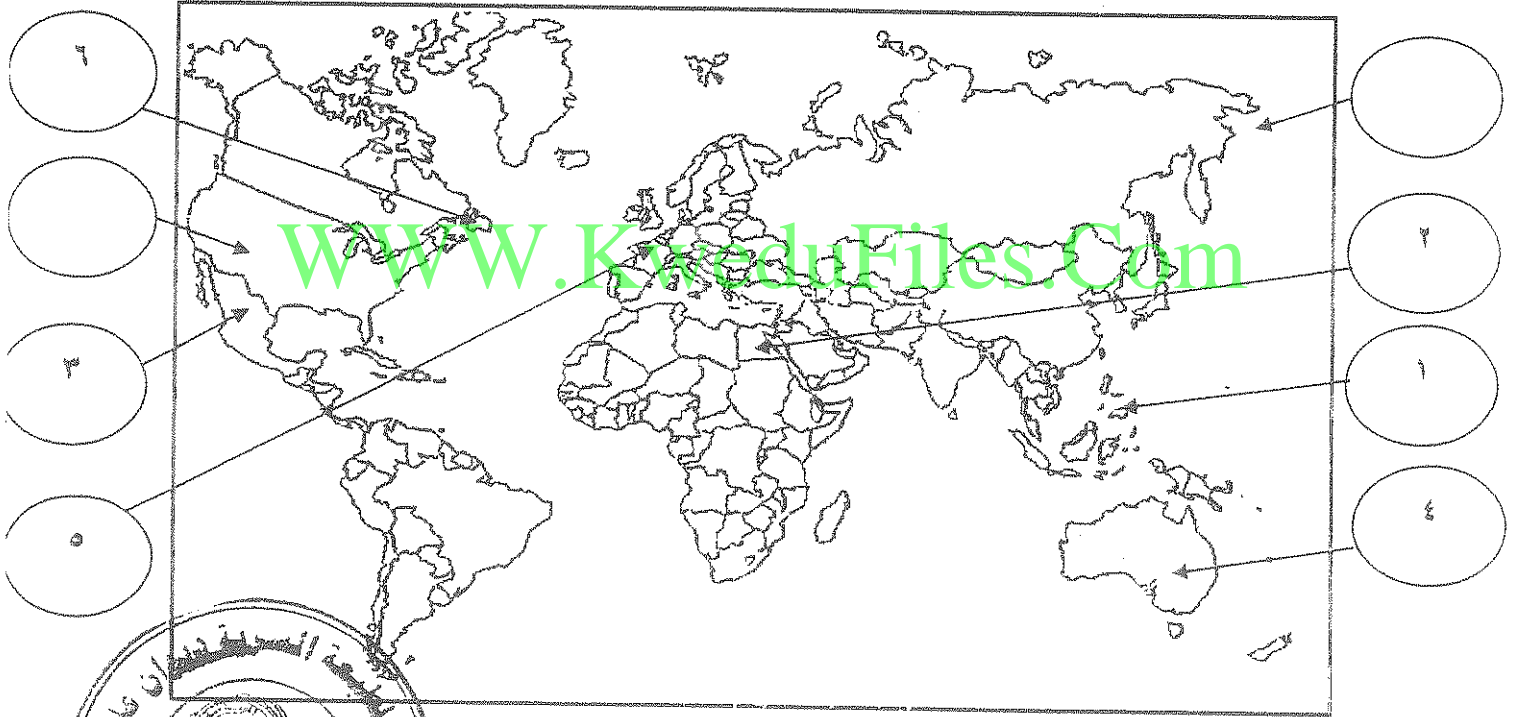
لكل نقطة نصف درجة

جـ - أكمل الجمل التالية بما يناسبها :-

- ١- البحار البرتغالي الذي احتل جزيرة سوقطرة عام ١٥٠٦م يسمى الفونسو دي البوكيرك . ص ٥٣
- ٢- المجال الذي برع فيه العالم هنري بسممر يسمى التعدين . ص ٦٤
- ٣- الحضارة التي ظهرت في بيرو تسمى الإنكا . ص ٥٤
- ٤- ملكة بريطانيا التي تم في عهدها تأسيس مستعمرة فرجينيا عام ١٦٠٧م تسمى اليزابيث . ص ٥٦
- ٥- الكتاب الذي نشر فيه ماكيفيللي أرائه السياسية يسمى الأمير . ص ٢١
- ٦- الملك الفرنسي الذي شجع قيام شركة الهند الشرقية الفرنسية عام ١٦٦٤م يسمى لويس الرابع عشر . ص ٥٥

لكل نقطة نصف درجة

د- لاحظ خريطة العالم التي أمامك جيدا ثم نفذ المطلوب :



ضع رقم كل عبارة مما يلي في الدوائر على الخريطة:

- ١- جزر قتل فيها ماجلان في صراع مع السكان . ص ٣٥
- ٢- أحد مراكز انتقال الحضارة العربية الإسلامية إلى أوروبا . ص ١٤
- ٣- منطقة ظهرت فيها حضارة الأزتك . ص ٥٤
- ٤- جزيرة اكتشفها الملاح جيمس كوك . ص ٣٩
- ٥- دولة يرجع إليها الفضل في اكتشاف كندا . ص ٤٠
- ٦- جزيرة اكتشفها الملاح جرن كايوت . ص ٢٧

السؤال الثاني (اختياري) يتكون من (أ - ب - ج) :-

أ - علل لكل مما يلي :-

ص ١٢

١- إيطاليا في مقدمة حركة النهضة الأوروبية . $٢ = ١ \times ٢$

- لعبت دور الوسيط التجاري بين موانئ البحر المتوسط .
- وجود مركز البابوية فيها .
- حلقة اتصال بين الشرق والغرب .
- ماضي الامبراطورية الرومانية العريقة .

ص ٥٤

$٢ = ١ \times ٢$

٢- انهيار الامبراطورية الأسبانية .

- استبداد الاسبان والمعاملة السيئة للشعوب الأصلية .
- استغلال المستعمرات لمصلحة أسبانيا والملك .
- تدفق الثروات على الأسبان حرض قراصنة الإنجليز والهولنديين والفرنسيين بتشجيع من حكوماتهم على السطو على السفن الأسبانية .
- تحطم الأسطول الأسباني (الأرمادا) على يد الإنجليز مما أدى إلى ضعف القوة البحرية الأسبانية .

ص ٤٦

ب - فرّق حسب الجدول :- درجة لكل جانب

نظرية بطليموس في مجال الفلك	نظرية كوبرنيكوس في مجال الفلك
• أن الأرض هي محور الكون وأن الشمس والقمر والكواكب الأخرى تدور حول الأرض .	• أن الشمس هي محور الكون وأن الكواكب الأخرى بما فيها الأرض تسير في مدارات حول الشمس .

ج - دلل على صحة العبارة التالية :-

ص ٦٩

$٣ = ١ \times ٣$

١- أن الثورة الصناعية أحدثت تغييرا سياسيا في قارة أوروبا .

- سيطرة الطبقة الرأسمالية على مقاليد السلطة السياسية في أوروبا .
- التسابق الاستعماري حول المستعمرات لجلب المواد الخام منها وجعلها أسواقا للإنتاج الصناعي .
- ظهور الأحزاب السياسية المدافعة عن حقوق العمال .



السؤال الثالث (اختياري) يتكون من (أ - ب - ج) :-

أ - أكتب فقرة مترابطة من ثلاثة أسطر مستعينا بالكلمات التالية :- ص ٥٠

((الإستعمار الأوروبي - الحضارة الأوروبية - الإرساليات التبشيرية - المستشرقون)) درجتان

تعددت عوامل قيام الإستعمار الأوروبي حيث ادعت الدول الأوروبية ان من واجبها نقل الحضارة الأوروبية للشعوب المتخلفة لترفع من مستواها الاجتماعي والفكري والاقتصادي فقامت بنشر الدين المسيحي عن طريق الإرساليات التبشيرية وقام المستشرقون بتشويه صورة الاسلام الحقيقية . أي اجابة يراها المصحح مناسبة

ب - فرق حسب الجدول التالي :- درجة لكل جانب

عوامل انهيار الإمبراطورية الهولندية ص ٥٥	عوامل انهيار الإمبراطورية البرتغالية في الشرق ص ٥٣
<ul style="list-style-type: none"> • الهولنديون امة صغيرة غير قادرة على حماية الإمبراطورية التي تم تأسيسها بشكل كبير تجاوز حدود امكاناتهم . • كان اعتمادهم الاول على التجارة مما أدى لاهمال قطاعي الزراعة والصناعة . • سياستهم الاستبدادية في المستعمرات . • منافسة الدول الأوروبية الحديثة لها مثل إنجلترا وفرنسا . 	<ul style="list-style-type: none"> • سوء ادارة المستعمرات وانتشار الرشوة . • قسوة البرتغاليين في معاملة السكان الاصليين واجبارهم على اعتناق المسيحية . • السلطة كانت في يد نائب الملك في جوا وهو المسؤول امام الملك دون رقابة ولقصر مدة حكمه كان يقوم بابتزاز الاموال وعدم الاعتناء بالمستعمرة . • منافسة الهولنديين والانجليز للبرتغاليين في مجال الاستعمار . • فقدت البرتغال استقلالها كدولة وضمت للتاج الاسباني في عهد الملك فيليب الثاني عام ١٥٨٠م ولمدة ٦٠ عاما .
نتائج رحلة كولومبوس الثانية ص ٣٢	نتائج رحلة كولومبوس الأولى ص ٣٢
<ul style="list-style-type: none"> • اكتشاف جزر الدومينيكا وسانت كروز وبورتوريكو • أبحر الى الساحل الجنوبي لكوبا واكتشف الساحل الشمالي لجاميكا . 	<ul style="list-style-type: none"> • اكتشاف جزر الانتيل الكبرى والصغرى واطلق عليها اسم سان سلفادور . • وصل الى كوبا وابحر الى جزيرة هايتي .

ج - ماذا يحدث لو لم :-

١- بخرع حنا جوتنبرج أحرف الطباعة المعدنية ، يكتفي بنقطتين لكل نقطة درجة المجموع درجتان ص ١٥

• قلة انتشار الكتب

• صعوبة تداول الكتب

• صعوبة طباعة الكتب

• ضعف انتشار جهود العلماء في مختلف المجالات (أي اجابة يراها المصحح مناسبة)

١ = 1x1 ص ٦٧

٢- بخرع توماس أديسون المصباح ،

• انتشار الناصر في ظلام داسر لكرة أطول من الزمان معتمدين على الاساليب القديمة وهي الشموع

• مصابيح الزيت

• أي اجابة يراها المصحح مناسبة (٤)

السؤال الرابع (اختياري) يتكون من (أ - ب - ج) :-

أ - اكتب النتائج المترتبة على كل مما يلي :-

- ١- رحلة فاسكو دي جاما . $٢=١ \times ٢$ ص ٢٩
- حقق أمل البرتغال في كشف طريق مباشر في الوصول إلى الهند خارج ديار المسلمين وكانت أكبر ضربة اقتصادية وجهت للعالم الإسلامي .
 - أصبحت البرتغال في مركز متقدم في منطقة المحيط الهندي التجارية .
- ٢- حركة الإصلاح الديني في أوروبا . $٢=١ \times ٢$ ص ٢٠
- قيام صراع كبير بين أتباعه والكنيسة وما صاحب ذلك من ثورات وحروب .
 - نبهت إلى أهمية تحرير الكنيسة من مفاسدها والتخلص من هيمنتها المطلقة على حياة الناس في أوروبا .

٣ درجات

ب - دلل على صدق العبارة التالية :-

" إن العلاقات التي تمت بين قارة أوروبا والقارات الأخرى كانت ذات نتائج عظيمة في الإقتصاد العالمي " ص ٤٥

- تحول طرق التجارة العالمية بين أوروبا و اسيا فقد ضعفت مكانة البحر المتوسط تجاريا .
- تدفقت الثروات من البضائع ومن المعادن الثمينة (الذهب والفضة) على أوروبا مما أدى إلى ارتفاع كبير في اسعار المواد الغذائية فتضررت الفئات العامة والفلاحون بشكل كبير طيلة القرن السادس عشر الميلادي بفعل عدم التوازن ما بين العرض والطلب و اغتنى كبار التجار وازدادت أهمية البنوك ونمت طبقة البرجوازية التجارية .
- نتيجة لتوفير البضائع والمال وازدياد النشاط التجاري في الإقتصاد أدى قمت صناعات جديدة مما أدى إلى زيادة رؤوس الاموال ومن هنا ظهرت الحاجة إلى الحصول على مستعمرات لتصريف مصنوعات الدولة والحصول على المعادن والمواد الأولية اللازمة للصناعة .
- ظهور البورصات المالية على نطاق عالمي وازدياد نشاط دور المصارف .

ج - ما أوجه الاختلاف بين الإقتصاد الأوروبي قبل ... وبعد الثورة الصناعية . $٢=١ \times ٢$ ص ٦١ + ص ٦٩

- الإقتصاد الأوروبي قبل الثورة الصناعية : كانت الزراعة قبل الثورة الصناعية هي المحور الأساسي للدخل القومي في أوروبا معتمدين بالدرجة الأولى على طاقتهم العضلية كما كانت الحركة التجارية محدودة ومفككة تفنقر إلى وسائل المواصلات الحديثة .
- الإقتصاد الأوروبي بعد الثورة الصناعية : أصبحت الصناعة بعد الثورة الصناعية هي المحور الأساسي للإقتصاد الأوروبي وقد أقيمت المصانع الكبيرة التي تعتمد على الآلة وظهور البنوك والوكالات التجارية ومراكز التسويق كما ظهرت المدن الصناعية وساد النظام الرأسمالي وارتفاع الدخل القومي واتساع النشاط التجاري العالمي .



السؤال الخامس (اختياري) يتكون من (أ - ب - ج) :-

أ - أقرأ الفقرة التالية ثم نفذ المطلوب :-

” اتبعت الدول الإستعمارية أساليب شتى ومتنوعة خلال سيطرتها على الشعوب الأخرى ، حيث هدف الإستعمار لإقامة المحطات التجارية والقواعد العسكرية . وكان لكل أسلوب خصائص خاصة به ، ومع تعدد تلك الخصائص تعددت أشكال الإستعمار . ”

- ١- عرف الإستعمار .
١ درجة ص ٤٩
- الإستعمار هو أن تسيطر دولة ما بالاتفاقيات السياسية أو القوة العسكرية أو الاقتصادية على دولة أو عدة دول وتستغل مواردها وثرواتها لصالحها
 - سيطرة دولة قوية على أخرى ضعيفة بهدف استغلال مواردها

٢- عدد أشكال الإستعمار .
اربع نقاط بدرجتان ص ٥١

- الغزو العسكري وهو الاحتلال بالقوة .
- الاستيطان وهو تملك سكان دول قوية لأراضي شعب ضعيف بالقوة .
- المعاهدات والاتفاقيات الخاصة .
- التفويض من المنظمات الدولية (الانتداب - الوصاية) .
- التمييز العنصري وهو أسلوب استعماري قائم على التفرقة بين الناس بسبب اللون أو الجنس أو الدين .

ب - فند العبارة التالية :-
WWW.KweduFiles.Com


١- أهملت النهضة الأوروبية دراسة الإنسان .
درجتان ص ١٧

- اهتمت أوروبا في عصر النهضة بدراسة الانسان كمحور للحياة وظهر ذلك من خلال تعبير ادباء النهضة وشعرائها (دانتي -بترارك - بكاشيو- ارازموس) واصبح الانسان المحور الرئيسي الذي تدور حولة الاعمال الفنية لتعبر عن قدراته وتقدمه في صورة جميلة مشرقة محبا للحياة قادرا على العطاء والانتاج في شتى مجالات الحياة لتخليصه من القيود التي كبلت فكره وحطت من مكانته خلال العصور الوسطى

ج - علل لكل مما يلي :-

١- قيام حركة الإصلاح الديني في أوروبا .
٢ = ١ × ٢ ص ٢٠

- جهود الحركة الانسانية في التنبيه لأهمية اصلاح الكنيسة .
- الرغبة في تحرير حركة التقدم العلمي من قيود الكنيسة .
- اهتمام أوروبا بجوانب الحياة الدنيوية .
- ظهور كثير من المصلحين الذين نادوا بتخليص الكنيسة من مفااسدها .



٢- انجلترا هي القاعدة التي انطلقت منها الثورة الصناعية . $2=1 \times 2$ ص ٦٢

- الاستقرار الداخلي : أدى نجاح الثورة المجيدة التي قامت في انجلترا ١٦٨٩م الى وجود الدستور الانجليزي ونظام الحكم البرلماني الذي اعتبر نموذجا تسعى اليه الدول الاوروبية مما جعل بريطانيا تشهد استقرارا سياسيا مهد لنجاح الازدهار الاقتصادي .
- وفرة رأس المال : كان للكشوف الجغرافية دور بارز في جعل انجلترا مركزا ماليا كبيرا حيث أصبحت المصارف الانجليزية في لندن تتحكم في تجارة العالم وبالتالي أصبحت تمتلك ثروات مالية كبيرة مما سهل لها تمويل عمليات الصناعات بأشكالها المختلفة .
- سهولة الحصول على المواد الخام : أدى اتساع المستعمرات البريطانية الى سهولة حصول انجلترا على المواد الخام اللازمة للصناعة .
- وجود القوى المحركة : توفرت لانجلترا مصادر القوى المحركة التي تمثلت في المساقط المائية والفحم الابدي العاملة الرخيصة : ساهمت في تشغيل المصانع بتكلفة بسيطة مما ساعد على استخدام رأس المال في تغطية النفقات الأخرى للصناعة .
- تشجيع العلماء والمخترعين : حرصت الحكومة الانجليزية وأصحاب رؤوس الأموال على دعم جهود العلماء والمخترعين وتوفير الامكانيات اللازمة لهم لاتمام اختراعاتهم وابتكاراتهم .
- وجود أسطول تجاري كبير : سهل لانجلترا عملية نقل المواد الخام الى مصانعها واعادة تصديرها في شكل صناعات الى اسواق العالم .



انتهت الأسئلة ...،،،،،

تمنياتنا لكم بالنجاح والتوفيق ...،،،،،

(الاسئلة في ٧ صفحات)

امتحان نهاية الفترة الدراسية الثانية الزمن : ساعتان وربع

للسف الثاني عشر / ادبي للعام ٢٠١٣ / ٢٠١٤ م

المجال الدراسي : تاريخ العالم الحديث والمعاصر

السؤال الأول اجباري و يتكون من (أ - ب - ج - د) :-

أ- اختر البديل الصحيح من بين البدائل التي تلي كل عبارة مما يلي :-

١ - الفترة الزمنية للعصور الوسطى يمثلها علي المخطط الزمني الحرف:



٢- نتيجة سياسية ترتبت على الثورة الصناعية:-

أ- ظهور الصراع الطبقي

ب- زيادة الانتاج

ج- ظهور المراكز الصناعية

د- سيطرة الطبقة الرأسمالية

www.KweduFiles.Com

٣- الاحرف الدالة على مركزين من مراكز انتقال الحضارة

الاسلامية الى اوربا في الخريطة التي أمامك :-

(أ، ب)

(ج ، د)

٤- العالم الألماني الذي اخترع أحرف الطباعة المعدنية:-

أ- ديميلر وبنز

ب- هنري بسمارك

ج- توماس نيوكمان

د- الملاح الذي تمكن من الوصول الى القطب الشمالي :

أ- جون كابوت

ب- مارتن فروبشير

ج- روبرت بيرري

د- الكسندر ماكينزي

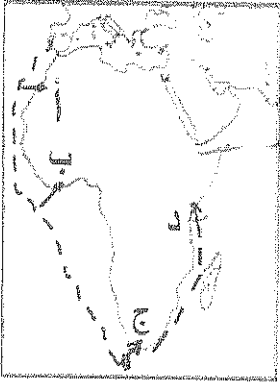
٥- العالم الذي أسهم في احداث تغيير في مجال النقل وبداية سير السكك الحديدية :-

أ- جورج ستيفنسن

ب- جيمس وات

ج- جون كي

د- ريتشارد اركرايت



٧- المنطقة التي وصل إليها الأمير هنري الملاح يمثلها على الخريطة الحرف :-

(أ - ب - ج - د)

٨- أول شعب أوروبي قام بتأسيس امبراطورية استعمارية فيما وراء البحار :-

أ- الأسبان ب- البرتغال

ج- الإنجليز د- الفرنسيين

ب - ائسب العبارات التالية حسب مايناسبها في الجدول المرفق بوضع الرقم المناسب :-

١- تحالف المدن الصغيرة مما منحها القوة والاستقلال.

٢- لوحة فنية رسمها ليوناردو دافنشي.

٣- مدينة أسسها الملاح جاك كارتييه في كندا.

٤- اسطول اسباني تحطم على يد الإنجليز سنة ١٥٨٨م.

٥- سفن عملاقة تميزت بكبر حمولتها واستعمالها لعدد كبير من الاشرعة.

٦- الساحل الجنوبي لقارة افريقيا .

الأرمادا	رأس العواصف	كوبيك	كومونات	الجيوكندا	الكرافيل

ج- أكمل الفراغ في العبارات التالية :-

١- شاعر عربي تأثر به دانتي بتأليف رواية الكوميديا الإلهية اسمه-----.

٢- اسلوب استعماري قائم على التفرقة بين الناس بسبب الدين أو الجنس أو اللون يسمى-----.

٣- العام الذي احتلت فيه فرنسا الجزائر ----- م

٤- الملكة التي قدمت الدعم والتمويل لمشروع كريستوفر كولمبس اسمها-----.

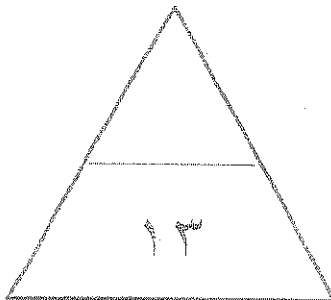
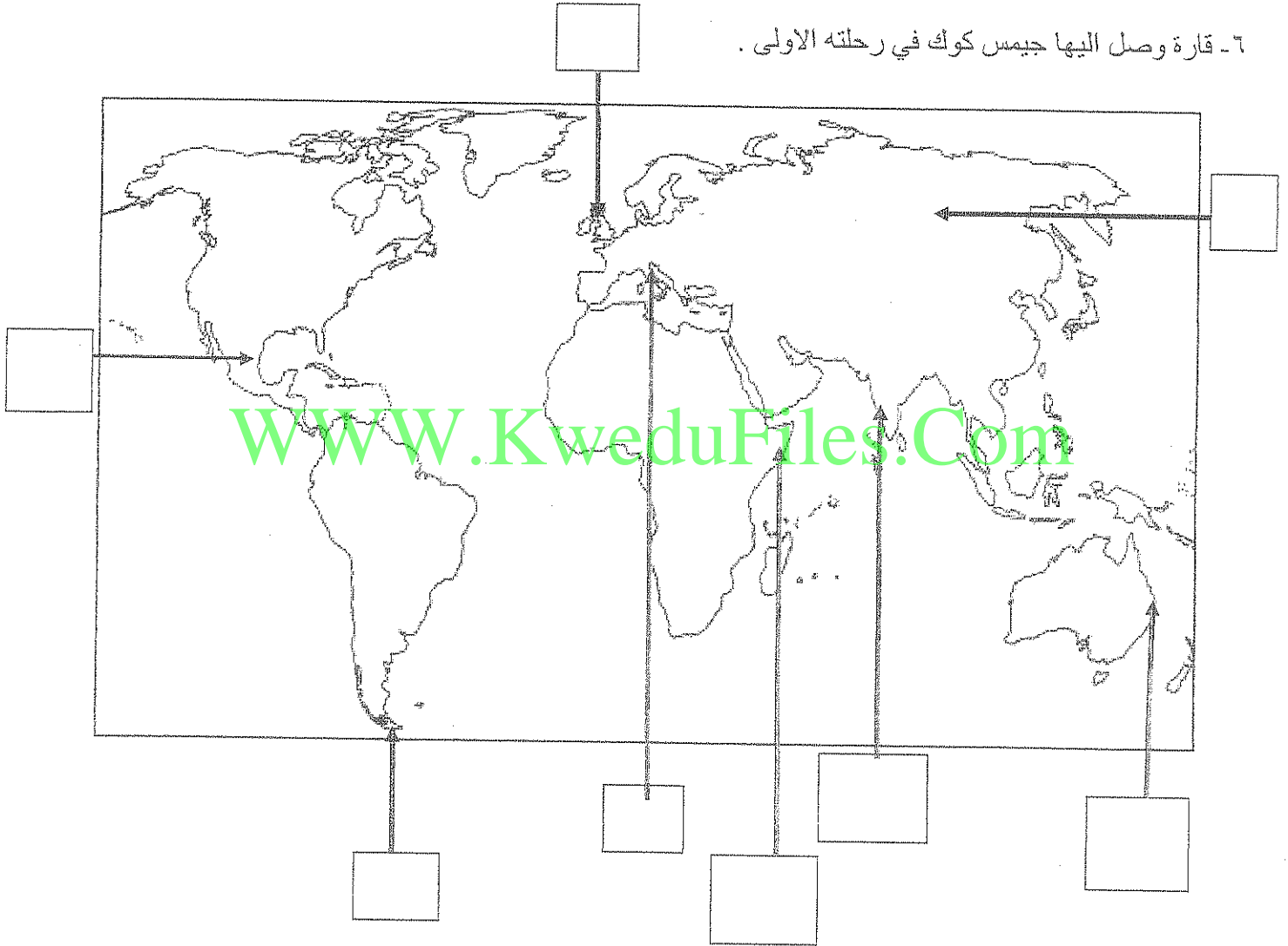
٥- العالم الذي اخترع المصباح الكهربائي اسمه-----.

٦- عملية تغيير شامل في أدوات الإنتاج الصناعي ووسائله وحجمه ومستواه تسمى-----.

(٨ × نصف = ٤ درجات)

د- أكتب رقم العبارة في المربع المناسب لها على الخريطة :

- ١- مركز انطلاق الثورة الصناعية .
- ٢ - منطقة تنافست عليها الدول الاستعمارية وتعتبر مصدرا للتوابل والمنتجات الشرقية .
- ٣- دولة احتلتها ايطاليا بنظام الوصاية .
- ٤ - منطقة وصل اليها الملاح امريكو فسبوتشي .
- ٥- مضيق وصل اليه الملاح ماجلان .
- ٦- قارة وصل اليها جيمس كوك في رحلته الاولى .



تابع / امتحان الفترة الدراسية الثانية للصف الثاني عشر الأدبي لمادة تاريخ العالم الحديث والمعاصر ٢٠١٣-٢٠١٤م

الأسئلة الاختيارية (أجب عن ثلاثة أسئلة كاملة من كل مما يلي) :-

السؤال الثاني :- يتكون من (أ - ب - ج)

أ) ماتفسيرك لما يلي :-

١- سبق إيطاليا للأقاليم الأوروبية في حركة النهضة .

٢- قيام حركة الإصلاح الديني في أوروبا.

WWW.KweduFiles.Com

ب-) برهن على أن :-

١- للثورة الصناعية نتائج اجتماعية .

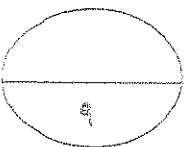
٢- إنهيار الإمبراطورية الأسبانية على الرغم من نشاطهم الاستعماري الواسع .

ج) عرف كل مما يلي :-

١- (استيطان)

٢- (الإنسانيين)

٣- (تجارة الرق)



تابع / امتحان الفترة الدراسية الثانية للصف الثاني عشر الأدبي لمادة تاريخ العالم الحديث والمعاصر ٢٠١٣-٢٠١٤م

السؤال الثالث :- يتكون من (أ- ب- ج)

أ- اكتب النتائج التي ترتبت على اختراع كل مما يلي :-

١- المكوك الطائر

٢- الدينامو

ب- اذكر على صحة العبارات التالية :-

١- كان لظهور النظام الإقطاعي أثر واضح على المجتمع الأوروبي في العصور الوسطى.

.....

.....

٢- للكشوف الجغرافية نتائج اقتصادية .

.....*

.....*

.....*

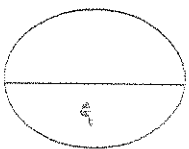
.....*

WWW.KweduFiles.Com

ج- ما أوجه الاختلاف بين كل من :-

النظرية الفلكية لنيكولاس كوبرنيكس	النظرية الفلكية لبطليموس
.....
.....
.....

الوصايه	الانتداب
.....
.....
.....



تابع / امتحان الفترة الدراسية الثانية للصف الثاني عشر الأدبي لمادة تاريخ العالم الحديث والمعاصر ٢٠١٣-٢٠١٤م

السؤال الرابع:- يتكون من (أ- ب- ج)

أ) ما الدور الذي قامت به الشخصيات التالية:-

١- مارتن لوثر في حركة الاصلاح الديني .

.....*

.....*

.....*

.....*

٢- الأمير هنري ابن ملك البرتغال في قيام حركة الكشوف الجغرافية .

.....*

.....*

.....*

.....*

WWW.KweduFiles.Com (ب) فند بالأدلة التاريخية مايلي:

١- لم تمتلك إنجلترا أي من المقومات لقيام الثورة الصناعية .

.....*

.....*

.....*

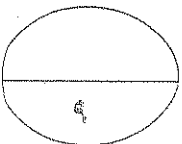
.....*

٢- يختلف الدافع الديني للدول الأوروبية في الكشوف الجغرافية عنه في الحركة الاستعمارية .

.....*

.....*

ج) ما أوجه الشبه بين كل من عوامل انهيار الامبراطورية الهولندية والإمبراطورية البرتغالية .



السؤال الخامس :- يتكون من (أ- ب- ج -)

أ) نفذ المطلوب بين القوسين :-

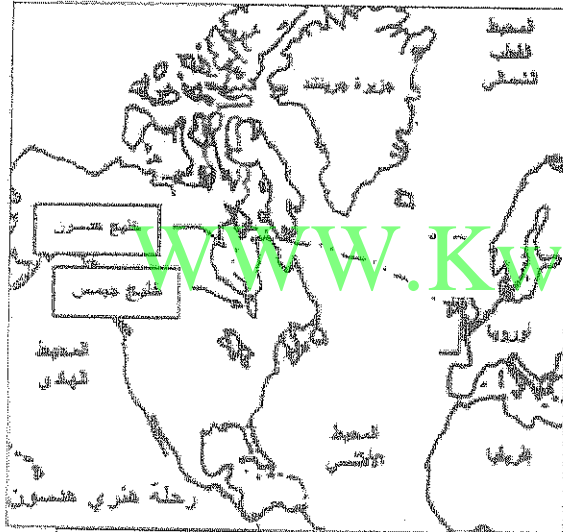
(العامل الاستراتيجي)

١- الاستعمار الأوروبي .

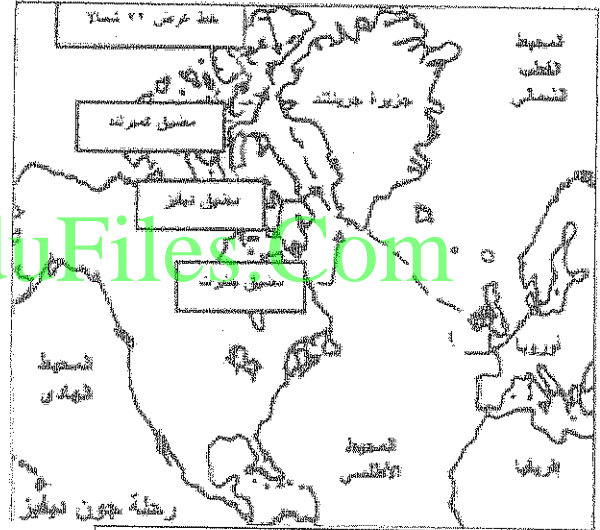
٢- النهضة الأوروبية (جهود المفكرون في احياء الدراسات اليونانية القديمة)

٢- النهضة الأوروبية

ب- لاحظ خرائط الكشوف الجغرافية التالية واستخرج منها :-



الرحلة الكشفية (٢)



الرحلة الكشفية (١)

١- الدولة التي سيرت الرحلتين رقم ١ ورقم ٢

٢- اقصى نقطة وصل اليها الملاح جون ديفنز شمالاً

٣- النتائج التي ترتبت على الرحلة الكشفية رقم (٢) *

ج) ما انجازات الشخصيات التالية :-

١- فاسكودي جاما من رحلته الكشفية .

٢- الاخوان رايت في مجال الطيران .

انتهت الأسئلة ،،

(الاسئلة في ٧ صفحات)

امتحان نهاية الفترة الدراسية الثانية


للسف الثاني عشر / ادبي للعام ٢٠١٣ / ٢٠١٤م

المجال الدراسي : تاريخ العالم الحديث والمعاصر

السؤال الأول اجباري ويتكون من (أ - ب - ج - د) :-

أ- اختر البديل الصحيح من بين البدائل التي تلي كل عبارة مما يلي :-

١ - الفترة الزمنية للعصور الوسطى يمثلها علي المخطط الزمني الحرف:



٢- نتيجة سياسية ترتبت على الثورة الصناعية:-

أ- ظهور الصراع الطبقي

ب- زيادة الانتاج

ج- ظهور المراكز الصناعية

د- سيطرة الطبقة الرأسمالية

٣- الاحرف الدالة على مركزين من مراكز انتقال الحضارة

الاسلامية الى اوربا في الخريطة التي امامك :-

(أ، ب)

(ب، ج)

(د، أ)

(ج، د)

٤- العالم الألماني الذي اخترع أحرف الطباعة المعدنية:-

أ- ديمر وبنز

ب- هنري بسمارك

ج- توماس نيوكمان

د- الملاح الذي تمكن من الوصول الى القطب الشمالي :

أ- جون كابوت

ب- مارتن فروبشير

ج- روبرت بيرري

د- الكسندر ماكينزي

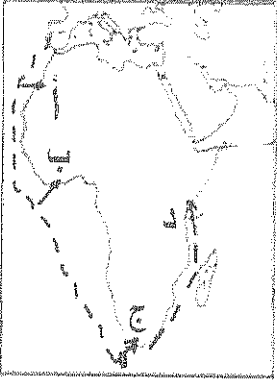
٦- العالم الذي أسهم في احداث تغيير في مجال النقل وبداية سير السكك الحديدية :-

أ- جورج ستيفنسن

ب- جيمس وات

ج- جون كي

د- ريتشارد اركرايت



٧- المنطقة التي وصل إليها الأمير هنري الملاح يمثلها على الخريطة الحرف :-

(أ - ب - ج - د)

٨- أول شعب أوروبي قام بتأسيس امبراطورية استعمارية فيما وراء البحار :-

أ- الأسبان ب- البرتغال

ج- الإنجليز د- الفرنسيين

ب - انطب العبارات التالية حسب مايناسبها في الجدول المرفق بوضع الرقم المناسب :-

١- تحالف المدن الصغيرة مما منحها القوة والاستقلال.

٢- لوحة فنية رسمها ليوناردو دافنشي.

٣- مدينة أسسها الملاح جاك كارتييه في كندا.

٤- اسطول اسباني تحطم على يد الإنجليز سنة ١٥٨٨م.

٥- سفن عملاقة تميزت بكبر حمولتها واستعمالها لعدد كبير من الاشرعة.

٦- الساحل الجنوبي لقارة افريقيا .

الأرمادا	رأس العواصف	كوبيك	كومونات	الجيوكندا	الكرافيل
٤	٦	٣	١	٢	٥

ج- أكمل الفراغ في العبارات التالية :-

١- شاعر عربي تأثر به دانتي بتأليف رواية الكوميديا الإلهية اسمه أبي العلاء العنبري

٢- أسلوب استعماري قائم على التفرقة بين الناس بسبب الدين أو الجنس أو اللون يسمى التمييز العنبري

٣- العام الذي احتلت فيه فرنسا الجزائر ١٨٣٠ م

٤- الملكة التي قدمت الدعم والتمويل لمشروع كريستوفر كولمبس اسمها إيزابلا

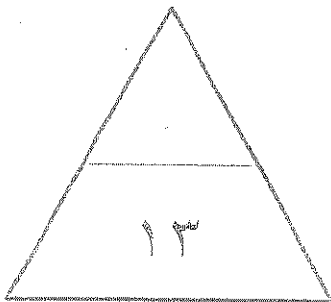
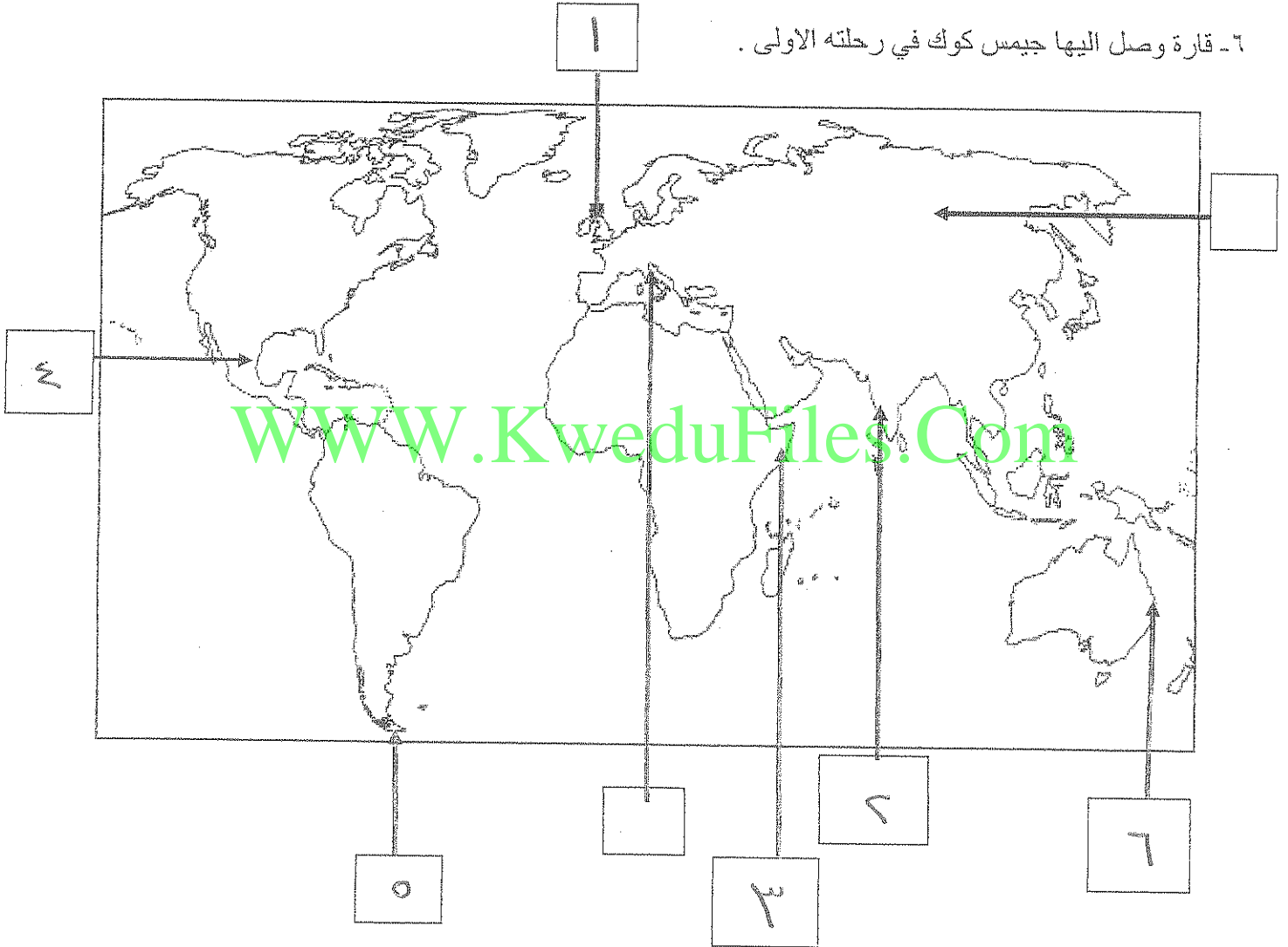
٥- العالم الذي اخترع المصباح الكهربائي اسمه توماس أديسون

٦- عملية تغيير شامل في أدوات الإنتاج الصناعي ووسائله وحجمه ومستواه تسمى الثورة الصناعية

(٨ × نصف = ٤ درجات)

د- أكتب رقم العبارة في المربع المناسب لها على الخريطة :

- ١- مركز انطلاق الثورة الصناعية .
- ٢ - منطقة تنافست عليها الدول الاستعمارية وتعتبر مصدرا للتوابل والمنتجات الشرقية .
- ٣- دولة احتلتها ايطاليا بنظام الوصاية .
- ٤ - منطقة وصل اليها الملاح امريكو فسبوتشي .
- ٥- مضيق وصل اليه الملاح ماجلان .
- ٦- قارة وصل اليها جيمس كوك في رحلته الاولى .



الأسئلة الاختيارية (أجب عن ثلاثة أسئلة كاملة من كل مما يلي):-

السؤال الثاني :- يتكون من (أ - ب - ج)

أ) ماتفسيرك لما يلي :-

١- سبق إيطاليا للأقاليم الأوروبية في حركة النهضة .

* وجود مركز البابوية

* حلقة إتصال بين الشرق والغرب

* ما بين الإمبراطورية الرومانية العريقة

٢- قيام حركة الإصلاح الديني في أوروبا.

* جهود حركة الإنسانيّة

* السعي في تحرير حركة التقدم العلم من عبور الكنيسة

* اهتمام أوروبا بحياة البروتستانتية

WWW.KweduFiles.Com

١- للثورة الصناعية نتائج اجتماعية .

* زيادة الكفاءات في أوروبا وارتفاع مستوى المعيشة

* ظهور الصراع الطبقي

* انتشار الرأسمالية كمنهج للحضارة الرأسمالية

٢- انهيار الإمبراطورية الأسبانية على الرغم من نشاطهم الاستعماري الواسع .

* استبدال الأسبانية بالعامية الإسبانية المشعوب للأهلية

* استغلال المقدرات لممالك إسبانيا والملاحة

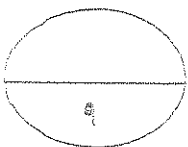
* تحطم الاستعمار الإسباني في أمريكا

(ج) عرف كل مما يلي :-

١- (استيطان) هجرة مجموعة من سكان دولة أجنبية خوفاً من دولة ضعيفة

٢- (الإنسانيين) الذين عبروا عن كتاباتهم الأدبية عن صورة الإنسان الذي يتصف بالبرا

٣- (تجارة الرق) عملية بيع وشراء العبيد



السؤال الثالث :- يتكون من (أ- ب- ج)

أ- اكتب النتائج التي ترتبت على اختراع كل مما يلي :-

- ١- المكوك الطائر ويؤدي سرعة السحج
- ٢- الدينمو استخراج الطاقة الميكانيكية لتوليد طاقة كهربائية

ب دال على صحة العبارات التالية :-

١- كان لظهور النظام الاقطاعي أثر واضح على المجتمع الاوروبي في العصور الوسطى.

تقسيم المجتمع الاوروبي الى مجتمع طبقات كان على قنينة رجال الكنيسة والارامل والعاملين والنبلاء والفرسان وفي أسفله كانت طبقة عبد الارضين

٢- للكشوف الجغرافية نتائج اقتصادية .

* تحول طرق التجارة العالمية بين أوروبا وآسيا

* تدفقت التروات من البضائع ومن البحارن الثمينه على أوروبا

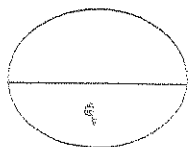
* ازدياد النشاط التجاري والرقم مادي

* ظهور البنوك العالمية على شكل بنك عالمي

ج- ما اوجه الاختلاف بين كل من ؟

النظرية الفلكية لنيكولاس كوبرنيكس	النظرية الفلكية لبطليموس
أنت الشمس هي محور الكون وأن الكواكب تدور بها في مدارات كروية	أنت الارض هي محور الكون وأن الشمس والكواكب الأخرى تدور حول الارض

الوصاية	الانتداب
ظهر بعد الحرب العالمية الثانية ١٩٤٥م حيث عرفت الدول التي كانت تحت النفوذ الالمانى والاطالنى واليابانى تحت وصاية دولة من اختيار الأمم المتحدة	ظهر بعد الحرب العالمية الأولى عام ١٩١٩م حيث انتدبت الدول المنتصرة للإدارة شؤون الأقطار التي تخضع لها الدولة الهنانية أو المانيا



السؤال الرابع :- يتكون من (أ- ب- ج)

أ) ما الدور الذي قامت به الشخصيات التالية :-

١- مارتن لوتر في حركة الاصلاح الديني .

- * قام بتعليق حمنس وتوسيع حبة ضد أوضاع الكنيسة من أبرزها
- * وهارمهة فكرة هيكول الفقرات
- * دار ضد الحجب الى روما - طالب بالامح بزواج رجال الدين
- * طلب انقامت عدد الأديرة - رفضت اتمكار الهيا بالتفسير الآيات المقدس

٢- الأمير هنري ابن ملك البرتغال في قيام حركة الكشوف الجغرافية .

- * أنشأ مدرسة بحرية
- * أنشأ مرصد بحرياً
- * جلب علماء الرياضيات وساحل الخرائط والفلكيين من إيطاليا وصقلية
- * استعان بالمعلمين الذين كانت لهم دراية في البحال البحرية

ب) فند بالأدلة التاريخية مايلي: WWW.KweduFiles.Com

١- لم تمتلك إنجلترا أي من المقومات لقيام الثورة الصناعية .

- * كانت لدى إنجلترا العديرة المقومات التي ساعدت على قيام الثورة الصناعية من
- * الاستقرار الداخلي / ووفرة رأس المال / سهولة الحصول على المواد الخام
- * وجود القوى المركة / الأيدي العاملة الرخيصة
- * تشجيع العلماء والمخترعين بوجود أسطول تجاري كبير

٢- يختلف الدافع الديني للدول الأوروبية في الكشوف الجغرافية عنه في الحركة الاستعمارية .

يصفق الدافع الديني في كليهما فالهدف هو نشر الدين المسيحي وتكويده

صورة الاسلام

ج) ما أوجه الشبه بين كل من عوامل انهيار الامبراطورية الهولندية والإمبراطورية البرتغالية .

- * سياسة الاستبداد والفتوة من معاملة السكان الأصليين
- * منافسة هولندا و إنجلترا للبرتغال ومنافة إنجلترا وفرنسا لهولندا

