

تم تحميل هذا الملف من موقع المناهج الكويتية



الملف مراجعة محلولة للوحدة الرابعة

[موقع المناهج](#) ← [المناهج الكويتية](#) ← [الصف السادس](#) ← [رياضيات](#) ← [الفصل الأول](#)

روابط مواقع التواصل الاجتماعي بحسب الصف السادس



روابط مواد الصف السادس على تلغرام

[الرياضيات](#)

[اللغة الانجليزية](#)

[اللغة العربية](#)

[التربية الاسلامية](#)

المزيد من الملفات بحسب الصف السادس والمادة رياضيات في الفصل الأول

| | |
|---|---|
| الكفايات العامة والخاصة في مادة الرياضيات | 1 |
| العامل المشترك الأكبر في مادة الرياضيات | 2 |
| بنك اسئلة مهم في مادة الرياضيات | 3 |
| درس الأس في مادة الرياضيات | 4 |
| بند 2.6 منهج كفايات في مادة الرياضيات | 5 |

مراجعة شاملة - محلولة



رياضيات



الصف السادس

(6)

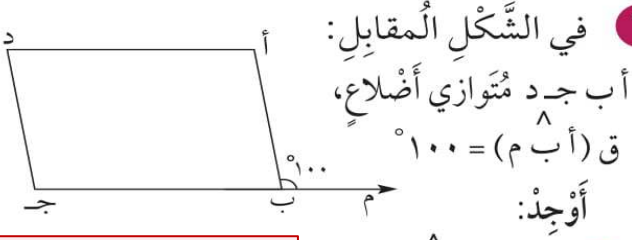
الفصل الدراسي الأول

الوحدة (4)

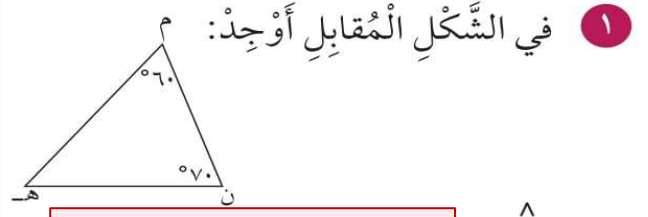
2022 / 2023

مراجعة الوحدة الرابعة Revision Unit Four

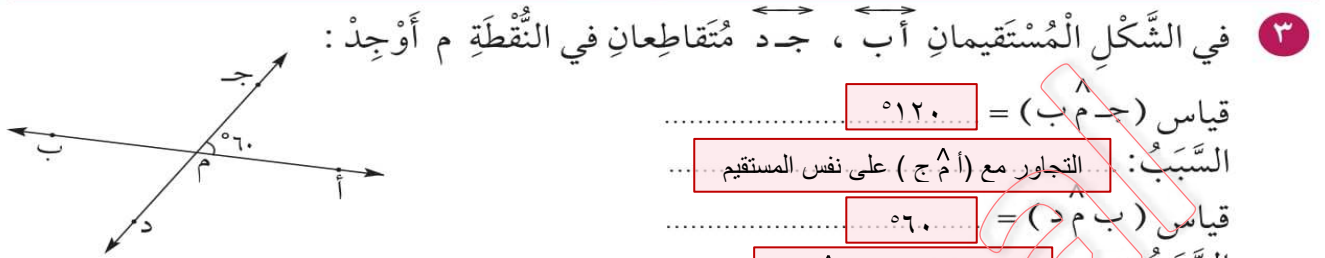
١٤-٤



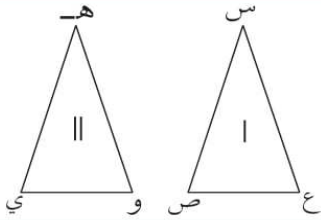
- أ قياس (أ ب ج) = $180 - 100 = 80$
ب قياس (أ) = 100
ج قياس (د) = 80



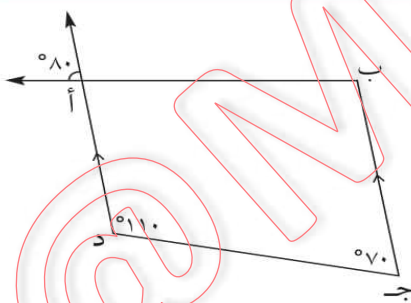
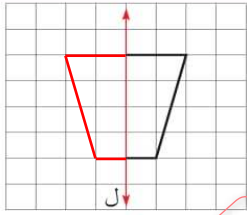
- ق (هـ) = $180 - (70 + 60) = 50$
نوع المثلث بالنسبة لزاويه
حاد الزوايا



- قياس (ج م ب) = 120
السبب: التجاور مع (أ م ج) على نفس المستقيم
قياس (ب م د) = 60
السبب: التقابل بالرأس مع (د م ب)



- س ع \cong هـ و
ع ص \cong و ي



- ٧ أرسم دائرة مركزها م وطول نصف قطرها ٥ سم.

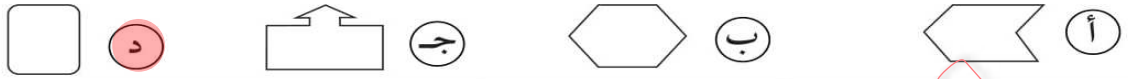
اختبار الوحدة الرابعة

لكل بندٍ من البنود التالية أضع اختياراً واحداً فقط منها صحيح، ظلل الدائرة الدالة على الإجابة الصحيحة:

١ الشكل الذي له خطي تناظر فقط هو:

- أ) مثلث متطابق الأضلاع (ب) مربع (ج) مستطيل (د) متوازي أضلاع

٢ الشكل الذي لا يمثل مضلعاً هو:




٣ الشكل الذي يمثل مثلث متطابق الأضلاع هو:



٤ الشكل الرباعي الذي لا يمثل متوازي أضلاع هو:



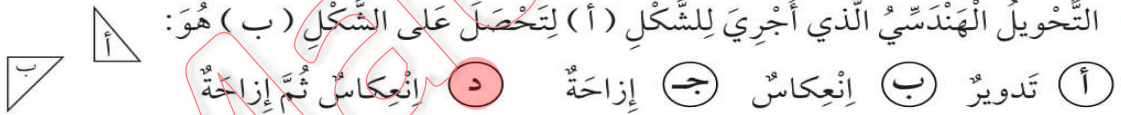
٥ في الشكل المقابل إذا كان $\hat{A} = 60^\circ$ فإن $\hat{B} =$



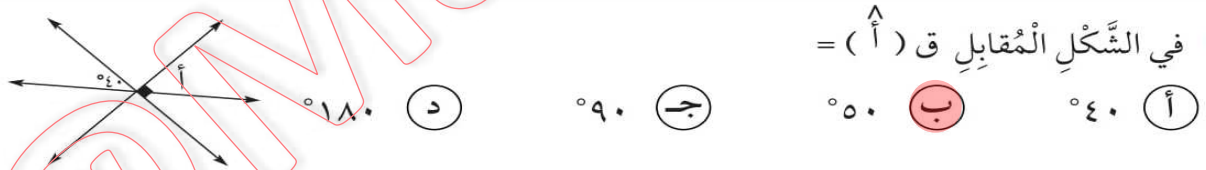
٦ في الشكل المقابل قياس $\hat{N} =$



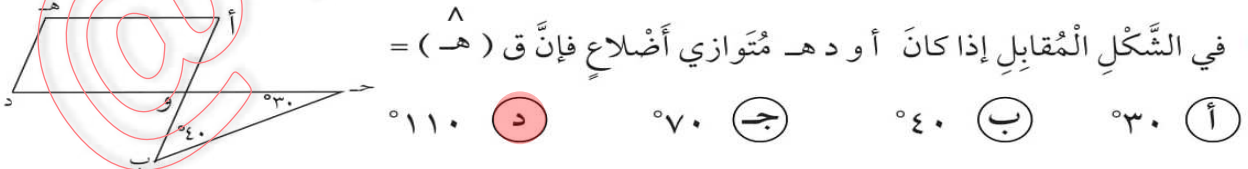
٧ التحويل الهندسي الذي أجري للشكل (أ) لتحصل على الشكل (ب) هو:



٨ في الشكل المقابل $\hat{A} = 40^\circ$ فإن $\hat{B} =$



٩ في الشكل المقابل إذا كان $\hat{A} = 30^\circ$ فإن $\hat{B} =$



١٠ العدد الذي يقع في الجهة المقابلة التي يظهر عليها العدد ٦ في المكعب المرقم من ١-٦ هو:

