

تم تحميل هذا الملف من موقع المناهج الكويتية



مها العنزي

الملف نموذج اختبار تحصيلي ثاني مرفق بالإجابة

[موقع المناهج](#) ← [المناهج الكويتية](#) ← [الصف الأول](#) ← [رياضيات](#) ← [الفصل الأول](#)

روابط مواقع التواصل الاجتماعي بحسب الصف الأول



روابط مواد الصف الأول على تلغرام

[الرياضيات](#)

[اللغة الانجليزية](#)

[اللغة العربية](#)

[التربية الاسلامية](#)

المزيد من الملفات بحسب الصف الأول والمادة رياضيات في الفصل الأول

تدريبات على كتابة الاعداد من 1 وحتى 10 في مادة الرياضيات	1
التصنيف وفق خاصية واحدة في مادة الرياضيات	2
اوراق عمل في مادة الرياضيات	3
تحضير درس الانماط في مادة الرياضيات	4
تحضير درس التطابق في مادة الرياضيات	5

الاختبار التحصيلي الثاني

للمصف الأول

الفصل الدراسي الأول 2023 / 2024

بنود الاختبار	توزيع درجات الاختبار		درجة الاختبار	مدة الاختبار	موعد الاختبار
الوحدة الخامسة + الوحدة السادسة	مقال ١٥	موضوعي ٥	٢٠ درجة	حصة دراسية	الأُسبوع ١٤

إشراف الموجه الفني : أ.هما العنزي



اختبر نفسك



اضغط



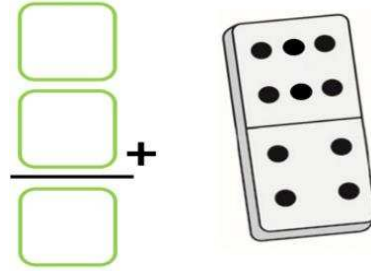
السؤال الأول :

(٢) اشطب. اطرح



$$= ٥ - ٨$$

(١) حل



السؤال الثاني : بإمكانك الربط بين عبارة الجمع وال طرح اكمل ما يلي:

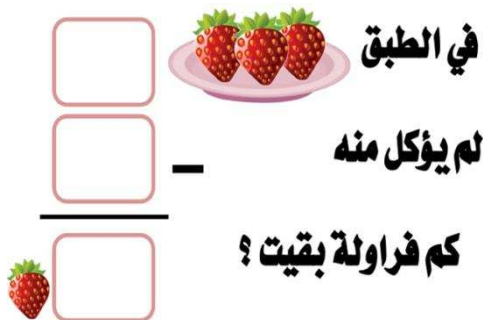


$$\underline{\quad} = \underline{\quad} + \underline{\quad}$$


$$\underline{\quad} = \underline{\quad} - ٨$$

السؤال الثالث :


(٢) حل المسألة



(١) أكمل



السؤال الرابع: حوّل الإجابة الصحيحة

هي  عبارة الطرح التي تعبر عن ١

$$٢ = ٦ - ٨$$


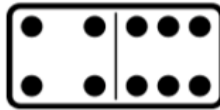
$$٤ = ٢ - ٦$$

التعبير الذي يكون ناتجه ١ هو ٢

$$٨ = ١٠$$

$$٨ = ٩$$

$٤ + ٦$ ٣



هي  عبارة الجمع التي تعبر عن ٤

$$٨ = ٧ + ١$$

$$٦ = ٧ + ١$$

الناتج الأكبر هو ٥

$$٨ + ٠$$

$$٨ + ٢$$

-انتهت الأسئلة -

الإدارة العامة للتعليم الخاص - توجيه الرياضيات

السؤال الأول :

(٢) بإمكانك الربط بين عبارة الجمع والطرح
أكمل ما يلي:




$$\dots = \dots + \dots$$

$$\dots = \dots - ١٠$$

(١) أكمل

مُخرجات

٢



مُدخلات

٥
٧
٩
١٠

السؤال الثاني : أوجد الناتج

$$\square = ٦ - ٧$$


$$\square = ٧ - ٩$$

$$\begin{array}{r} ٠ \\ ٧ + \\ \hline \square \end{array}$$

$$\begin{array}{r} ٤ \\ ٦ + \\ \hline \square \end{array}$$


السؤال الثالث :

(٢) استكمل رسم العناصر لتمثيل عبارات الجمع




$$٧ = ٤ + ٣$$

(١) حل المسألة

اشترى خالد ١١ 

أكل منها ٨ 

كم  بقيت عند خالد ؟

$$\text{.....} = \text{.....} - \text{.....}$$

السؤال الرابع : حوٲ الإجابة الصحيحة

التعبير الذي يكون ناتجه ٨ هو

١

$$٥ - ٨$$

$$٥ + ٣$$

الناتج الأكبر هو

٢

$$٢ + ٩$$

$$١ + ٩$$

ناتج الطرح الدال على هو



٣

٤

٦



إذا كانت $١٢ = ٤ + ٨$ فإن عبارة الطرح ذات الصلة هي

٤

$$٤ = ٤ - ٨$$

$$٨ = ٤ - ١٢$$

في الطبق لم يؤكل منه، حوٲ عدد القطع التي بقيت في الطبق



٥



-انتهت الأسئلة -

الإدارة العامة للتعليم الخاص - توجيه الرياضيات

السؤال الأول :


(٢) اشطب. اطرح



$$3 = 8 - 5$$

(١) حل

$$\begin{array}{r} 6 \\ 4 \\ \hline 10 \end{array} +$$



السؤال الثاني : بإمكانك الربط بين عبارة الجمع وال طرح اكمل ما يلي:



$$\begin{array}{r} 8 \\ - 1 \\ \hline 7 \end{array} = \begin{array}{r} 7 \\ + 1 \\ \hline 8 \end{array}$$

السؤال الثالث :

(٢) حل المسألة

في الطبق
لم يؤكل منه
كم فراولة بقيت ؟


$$\begin{array}{r} 3 \\ 0 \\ \hline 3 \end{array}$$

(١) أكمل

٦+

مُخرجات
مُدخلات

السؤال الرابع: حوّل الإجابة الصحيحة

هي  عبارة الطرح التي تعبر عن ١

$2 = 6 - 8$


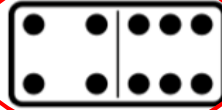
$4 = 2 - 6$

التعبير الذي يكون ناتجه ١ هو ٢

$8 = 10$

$8 = 9$

$4 + 6$ ٣



هي  عبارة الجمع التي تعبر عن ٤

$8 = 7 + 1$

$6 = 7 + 1$

الناتج الأكبر هو ٥

$8 + 0$

$8 + 2$

-انتهت الأسئلة -

السؤال الأول :

(٢) بإمكانك الربط بين عبارة الجمع والطرح
أكمل ما يلي:




$$\dots ١٠ \dots = \dots ٧ \dots + \dots ٣ \dots$$

$$\dots ٣ \dots = \dots ٧ \dots - ١٠$$

(١) أكمل

مُخْرَجَات

٠
٢
٤
٥



مُدْخَلَات

٥
٧
٩
١٠

السؤال الثاني : أوجد الناتج

$$\boxed{١} = ٦ - ٧$$

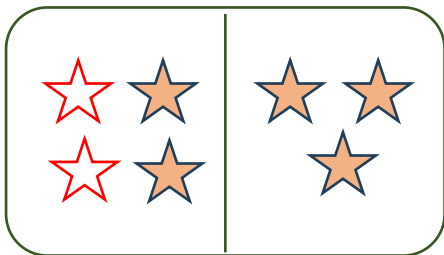
$$\boxed{٢} = ٧ - ٩$$

$$\begin{array}{r} ٠ \\ ٧ + \\ \hline \boxed{٧} \end{array}$$

$$\begin{array}{r} ٤ \\ ٦ + \\ \hline \boxed{١٠} \end{array}$$

السؤال الثالث :

(٢) استكمل رسم العناصر لتمثيل عبارات الجمع



$$٧ = ٤ + ٣$$

(١) حل المسألة

اشترى خالد ١١ 
أكل منها ٨ 
كم  بقيت عند خالد؟

$$\text{٣} \text{  } = \dots ٨ \dots - \dots ١١ \dots$$

السؤال الرابع : حوٲ الإجابة الصحيحة

التعبير الذي يكون ناتجه ٨ هو

١

$$٥ - ٨$$

$$٥ + ٣$$

الناتج الأكبر هو

٢

$$٢ + ٩$$

$$١ + ٩$$

هو ناتج الطرح الدال على

٣



٤

٦



إذا كانت $٤ + ٨ = ١٢$ فإن عبارة الطرح ذات الصلة هي

٤

$$٤ = ٤ - ٨$$

$$٨ = ٤ - ١٢$$

في الطبق



٥

لم يؤكل منه، حوٲ عدد القطع التي بقيت في الطبق



-انتهت الأسئلة -

الإدارة العامة للتعليم الخاص - توجيه الرياضيات