

تم تحميل هذا الملف من موقع ملفات الكويت التعليمية



[com.kwedufiles.www//:https](https://www.kwedufiles.com)

*للحصول على أوراق عمل لجميع الصفوف وجميع المواد اضغط هنا

* للحصول على أوراق عمل لجميع مواد الصف التاسع اضغط هنا

<https://kwedufiles.com/9>

* للحصول على جميع أوراق الصف التاسع في مادة اجتماعيات ولجميع الفصول, اضغط هنا

<https://kwedufiles.com/9social>

* للحصول على أوراق عمل لجميع مواد الصف التاسع في مادة اجتماعيات الخاصة بـ الفصل الأول اضغط هنا

<https://www.kwedufiles.com/9social1>

* لتحميل كتب جميع المواد في جميع الفصول للصف التاسع اضغط هنا

<https://www.kwedufiles.com/grade9>

* لتحميل جميع ملفات المدرس منطقة العاصمة التعليمية اضغط هنا

[bot_kwlinks/me.t//:https](https://t.me/bot_kwlinks)

* للحصول على جميع روابط الصفوف على تلغرام وفيسبوك من قنوات وصفحات: اضغط هنا

الروابط التالية هي روابط الصف التاسع على مواقع التواصل الاجتماعي

مجموعة الفيسبوك

صفحة الفيسبوك

مجموعة التلغرام

بوت التلغرام

قناة التلغرام

رياضيات على التلغرام



وزارة التربية

الإدارة العامة لمنطقة العاصمة التعليمية

مؤتمرات

الاجتماعات





العام الدراسي : ٢٠١٩/٢٠٢٠ م
الزمن : ساعة وخمس وأربعون دقيقة
عدد الصفحات : (٦)

امتحان نهاية الفترة الدراسية الأولى
لمقرر / الكويت والعالم
للمستوى التاسع

وزارة التربية
الإدارة العامة لمنطقة العاصمة التعليمية
التوجيه الفني للاجتماعيات

السؤال الأول موضوعي ويتكون من (أ - ب - ج - د - هـ) (درجة لكل سؤال = 30)

(أ) أكمل العبارات التالية بما يناسبها فيما درست :

- ١- كل ما يحيط بالإنسان من ظواهر حية وغير حية ليس للإنسان أي دخل في وجودها تسمى البيئة الطبيعية ص ١٥
- ٢- الملامح الرئيسية لشكل سطح الأرض من مرتفعات ومنخفضات وأودية وسهول تسمى التضاريس ص ٢٣
- ٣- عالم الطبيعة الذي استخدم مصطلح البيئة الطبيعية اسمه هنري ديفيد ص ١٦
- ٤- اتخذت الجبال شكلها المسنن نتيجة لعوامل تسمى التعرية الشديدة ص ٢٤
- ٥- أدنى بقاع الأرض تقع في منطقة تسمى البحر الميت ص ٢٥
- ٦- يطلق على منظمة الدول المصدرة للنفط اسم أوبك ص ١٠٢

(ب) صف العوامل التي أمامك في مكانها المناسب في الجدول التالي : ص ٥٠

الإنسان - بكتيريا وفطريات - الماء - الحيوان - النبات - الهواء

العناصر غير الحية	العناصر الحية المنتجة	العناصر الحية المستهلكة	العناصر الحية المحللات
- الهواء . - الماء .	- النبات .	- الإنسان . - الحيوان .	- بكتيريا وفطريات .

(ج) ظلل الخيار الصحيح من بين الخيارات التي تلي كل عبارة :

١- الجهة التي تقع فيها دولة الكويت بالنسبة لقارة آسيا : ص ٢٠

الجنوب الغربي	الجنوب الشرقي	الشمال الشرقي	الشمال الغربي
---------------	---------------	---------------	---------------

٢- أرض مرتفعة و سطحها مستوٍ وتمتد على مساحة كبيرة و تمثل ٣٣% من مساحة القارات : ص ٢٤

جبال	سهول	هضاب	تلال
------	------	------	------

٣- العام الميلادي الذي حدثت فيه (سنة الهدامة الأولى) في دولة الكويت : ص ٢٧

١٩٣٢	١٩٣٤	١٩٥٤	١٩٥٦
------	------	------	------

٤- أحد مراحل تطور علاقة الإنسان بالبيئة استخدم فيها قدراته الخلقية والعقلية في دراسة حركات الحيوانات اليومية والموسمية : ص ٤٦

الجمع والالتقاط	الزراعة والاستقرار	الصيد والقنص	التصنيع
-----------------	--------------------	--------------	---------

٥- عدد الآبار النفطية التي أحرقها الغزو العراقي الغاشم في دولة الكويت في عام ١٩٩١م : ص ٦٣

٣٧٣	٧٣٧	٧٧٠	٧٨٧
-----	-----	-----	-----

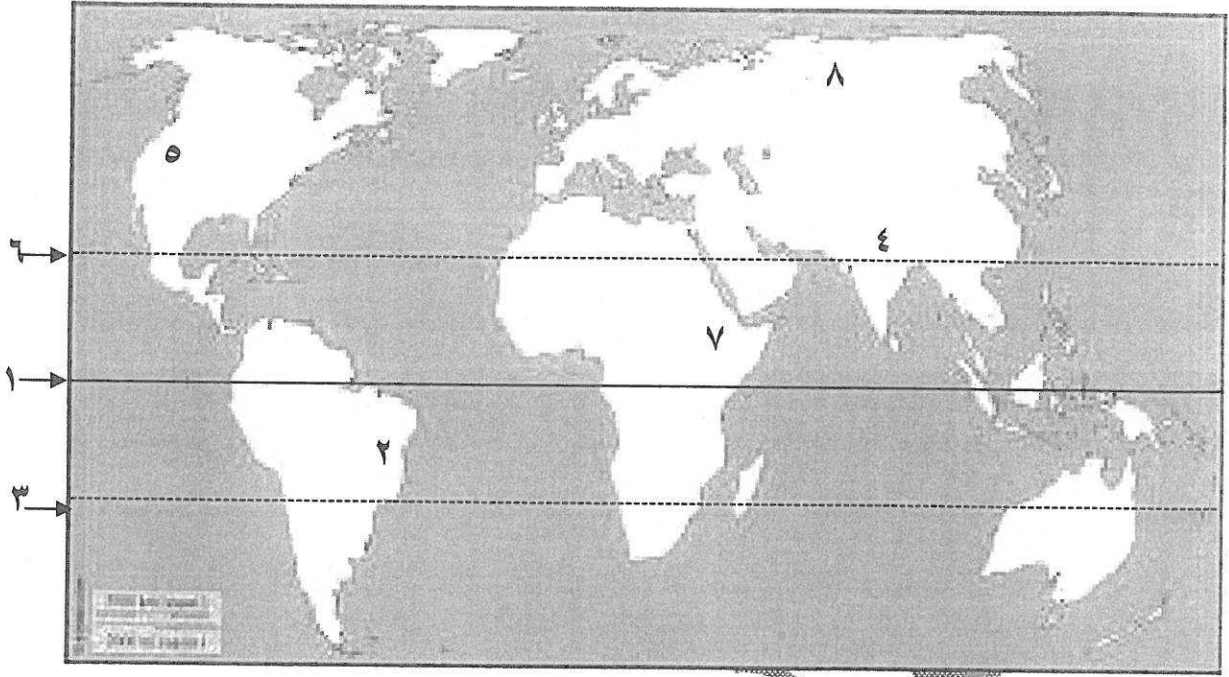
٦- المدينة التي عقد فيها مؤتمر التغير المناخي عام ٢٠١٥م : ص ٨١

باريس	ريودي جانيرو	كيوتو	مراكش
-------	--------------	-------	-------

(د) صح ما تحته خط في العبارات التالية واكتبه بين الأقواس :

- ١- تغطي البحار والمحيطات من جملة مساحة الكرة الأرضية حوالي ٣٠% (٧١%) ص ٣٠
- ٢- المرحلة التي ينهار فيها النظام الأيكولوجي ويصبح غير قادر على العطاء هي التلوث الخطر (التلوث المدمر) ص ٦٢
- ٣- عجز الموارد المائية عن تلبية كمية الطلبات للسكان يسمى ندرة معنوية (ندرة مادية) ص ٧١
- ٤- خليط متنافر من الأصوات ذات استمرارية غير مرغوب فيها يسمى تلوث هوائي (تلوث صوتي) ص ٦٩
- ٥- حدوث تلف أو تدمير طفيف جداً في الغطاء النباتي والتربة ولا يؤثر تأثيراً واضحاً في القدرة الإنتاجية للأرض هو تصحّر شديد (تصحّر طفيف) ص ٧٣
- ٦- عدد دول قوات التحالف التي ساهمت في تحرير دولة الكويت ٤٥ دولة (٣٤) ص ٩٢

(هـ) أمامك خريطة العالم الصماء اكتب مدلولات الأرقام التالية :



(٥) ص ٢٥

(٧) ص ٢٥

(٢) ص ٢٥

(١) ص ١٩

(٤) ص ٢٥

(٨) ص ٢٥

- جبال روكي تحمل الرقم

- هضبة اثيوبيا تحمل الرقم

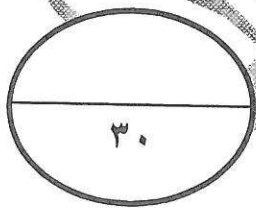
- هضبة البرازيل تحمل الرقم

- خط الاستواء يحمل الرقم

- جبال الهيمالايا تحمل الرقم

- سهول سيبيريا تحمل الرقم

درجة السؤال الأول



السؤال الثاني ويتكون من (أ - ب - ج) :

(٣ درجات)

(أ) عرف المفاهيم التالية :

- ١- المناخ : حالة الجو خلال فترة زمنية طويلة . ص ٢٧
- ٢- الموقع الفلكي : موقع الدولة بالنسبة لخطوط الطول ودوائر العرض . ص ١٨
- ٣- العلاقات الاقتصادية الدولية : الانفتاح العالمي على التجارة الدولية وتبادل السلع والخدمات وانسياب رؤوس الأموال . ص ٩٩

(ب) أكتب نقطتين فيما يلي :

- ١- دور دولة الكويت في الميدان الثقافي . ص ١٠٦ (درجة / نصف درجة لكل نقطة ويكتفى بنقطتين)
 - تنظيمها للمعارض والمهرجانات والفعاليات الثقافية .
 - رعايتها للمؤسسات الثقافية في الدول العربية .
 - إسهام جمعيات النفع العام الكويتية في تطوير المشروعات تنموية في مجال التعليم والصحة .
- ٢- العوامل المؤثرة في التضاريس . ص ٢٣ (درجة / نصف درجة لكل نقطة ويكتفى بنقطتين)
 - الرياح .
 - الحرارة .
 - الأنسان .
 - الأمطار .
 - النباتات .
- ٣- أسباب التصحر في دولة الكويت . ص ٧٤ (درجة / نصف درجة لكل نقطة ويكتفى بنقطتين)
 - الظروف المناخية القاسية والموقع الجغرافي .
 - فقر البيئة من حيث نوعية التربة وندرة المياه السطحية والجوفية والجفاف .
 - عدم انتظام معدل هطول الأمطار .

(٤ درجات)

(ج) فرق بين كل من :

التلوث الضوضائي المؤقت ص ٦٩	التلوث الضوضائي المزمن ص ٦٩
- غير دائم ويستمر لفترات محدوده فقط .	مستمر وبدون توقف والذي قد ينتج عنه خلل مستديم في السمع .
بيئة نامية حضارياً ص ٤٤	بيئة حضارية متقدمة ص ٤٤
بيئة يكون فيها الإنسان صاحب قدرات علمية محدودة لاتمكنه من استغلال موارد البيئة .	يملك فيها الإنسان قدرات علمية وتكنولوجية كبيرة تمكنه من استغلال مواردها حسب رغباته .

السؤال الثالث : ويتكون من (أ - ب - ج) :

(أ) **شاهد الصورة التي أمامك ثم أجب عما يليها من أسئلة :**



- ١- ما اسم المنظمة الذي يمثلها الشعار الذي أمامك . (درجة) ص ٦٨
- منظمة الأغذية والزراعة للأمم المتحدة (FAO) .

- ٢- أذكر الأسباب التي تجعل التربة هي الأساس للمستقبل المستدام لكوكب الأرض . ص ٦٨
(درجتان / لكل نقطة درجة ويكتفى بنقطتان)
- التربة الصحية هي مصدر غذاء العالم .
- التربة مثل النفط أو الغاز الطبيعي من الموارد المحدودة .
- الاستثمار في الإدارة المستدامة للتربة يحقق بعداً اقتصادياً وبيئياً .

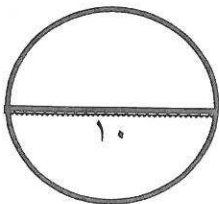
(ب) **علل لما يلي :**

- ١- تربة الكويت غير صالحة للزراعة . ص ٦٧ (درجة ويكتفى بنقطة)
- لإحتوائها على نسبة عالية من الرمل تصل ٩٥% - تفتقد للمواد العضوية والعناصر الأخرى مثل النيتروجين والفوسفور والبوتاسيوم . - ليس لها القدرة على الاحتفاظ بالماء الكثير
٢- ندرة المياه بدول مجلس التعاون لدول الخليج العربية . ص ٧٨ (درجتان ويكتفى بنقطتان)
- النمو السكاني - التوسع العمراني والتنموي . - الموقع الجغرافي ذو المناخ الصحراوي .
- عدم وجود أنهار دائمة . - قلة سقوط الأمطار . - ارتفاع نسبة الملوحة بالمياه الجوفية .

(ج) **قارن بين كل مما يلي :**

أوجه الاختلاف	دولة متقدمة ص ٩٧	دولة نامية ص ٩٧
المقومات	- النفط . - الغاز الطبيعي . - التصنيع والابتكار . (درجة و يكتفى بنقطتين)	- أرضها زراعية خصبة . - توفر أيدي عاملة . (درجة ويكتفى بنقطتين)
المشكلات	- قلة الأيدي العاملة . - أرضها غير خصبة . (درجة ويكتفى بنقطتين)	- تفشي البطالة . - عدم توافر رأس المال . - ندرة الموارد النفطية . (درجة و يكتفى بنقطتين)

تم التحميل من :



السؤال الرابع ويتكون من (أ - ب - ج) :

(أ) اقرأ الفقرة التالية ثم أجب عما يليها من أسئلة :

" اهتم العالم بالتغيرات المناخية وخاصة ظاهرة الاحتباس الحراري الذي سبب قلق دائم وذلك لآثاره السلبية على الإنسان والتنمية ، فقد ارتفعت درجة حرارة الأرض إلى معدلات غير مسبوقة بسبب التأثيرات البشرية على مناخ الأرض ."

١- عرف ما تحته خط .
ص ٨٠ (درجة)

الزيادة في متوسط حرارة الأرض والذي نتج عن التغيرات المناخية واضطراب الأنظمة البيئية بسبب زيادة كمية غاز ثاني أكسيد الكربون والميثان حيث يطلق عليها الغازات الدفيئة لأنها تساهم بتدفئة جو الأرض .

٢- اذكر الأسباب الطبيعية لظاهرة الاحتباس الحراري . ص ٨٠ (درجتان ويكتفى بنقطتان)

- التغيرات التي تحدث لمدار الأرض حول الشمس وماينتج عنها من تغير في كمية الإشعاع الشمسي الذي يصل إلى

الأرض .

- الانفجارات البركانية .

- التغير في نسب مكوبات الغلاف الجوي .

(درجتان)

(ب) فرق بين كل مما يلي :

مميزات الأقاليم المناخية المعتدلة الباردة ص ٢٨	مميزات الأقاليم المناخية الباردة ص ٢٨
- الاعتدال مع الميل للبرودة وخاصة في أشهر الشتاء .	- انخفاض درجة الحرارة إلى ما دون الصفر معظم أشهر السنة .

(٥ درجات)

(ج) أكتب فيما يلي :

١- مميزات البيئة الطبيعية . ص ١٦ (درجتان - يكتفى بنقطتين)

- التوازن البيئي .

- العلاقة التبادلية بين عناصر البيئة الطبيعية .

- توفر موارد طبيعية عديدة .

- وحدات بيئية كاملة ضمن حدود جغرافية .

٢- أهمية زراعة الأشجار على كوكب الأرض . ص ٥٢ (درجتان - يكتفى بنقطتين)

- الحفاظ على المناخ وتخفيض ارتفاع درجة الحرارة وكمية التلوث .

- توفير الأخشاب كمورد اقتصادي مهم .

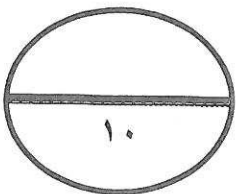
- توفير الغذاء .

- مصدراً أساسياً لفلترة الهواء وإنتاج الأوكسجين والتخلص من ثاني أكسيد الكربون .

- تخفف من سرعة الرياح .

٣- أهمية خطوط الطول . ص ٢١ (درجة واحدة)

- تساعدنا في معرفة الوقت .



انتهت الأسئلة