

تم تحميل هذا الملف من موقع المناهج الكويتية



مدرسة التميز النموذجية

الملف نموذج اختبار تجريبي أول

[موقع المناهج](#) ← [المناهج الكويتية](#) ← [الصف الأول](#) ← [علوم](#) ← [الفصل الأول](#)

روابط مواقع التواصل الاجتماعي بحسب الصف الأول



روابط مواد الصف الأول على تلغرام

[الرياضيات](#)

[اللغة الانجليزية](#)

[اللغة العربية](#)

[التربية الاسلامية](#)

المزيد من الملفات بحسب الصف الأول والمادة علوم في الفصل الأول

اوراق عمل في مادة العلوم	1
اوراق عمل مجمعة في مادة العلوم	2
الطرق الآمنة للتعامل مع الماء في مادة العلوم	3
دورة حياة النبات الزهري في مادة العلوم	4
مخططات وتشجيرات مهمة في مادة العلوم	5



الاختبار التجريبي الأول للصف الأول الابتدائي

السؤال الأول : اختر الإجابة الصحيحة علمياً لكل من العبارات التالية ؟

(١) حاسة تساعدنا في التعرف على طعم الغذاء :

(أ) الشم (ب) التذوق (ج) اللمس (د) النظر

(٢) أي مما يلي من الكائنات الحية :

(أ) السيارة (ب) السرير (ج) الشجرة (د) المقص

السؤال الثاني : ضع علامة (صح) أمام العبارة الصحيحة وكلمة (خطأ) أمام العبارات الخاطئة

(١) للكائنات الحية خصائص تميزها عن غيرها من الأشياء الغير حية ()

(٢) الانسان لديه أربع حواس ()

ثانياً: الأسئلة المقالية:


السؤال الأول: صنف الصور التالية في الجدول أثناء حسب ما هو مطلوب:



(4)



(3)

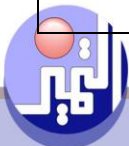


(2)



(1)

كائنات حية	أشياء غير حية





السؤال الأول : اختر الإجابة الصحيحة علمياً لكل من العبارات التالية ؟

(١) حاسة تساعدنا في التعرف على طعم الغذاء :

(أ) الشم (ب) **التذوق** (ج) اللمس (د) النظر

(٢) أي مما يلي من الكائنات الحية :

(أ) السيارة (ب) السرير (ج) **الشجرة** (د) المقص

السؤال الثاني : ضع علامة (صح) أمام العبارة الصحيحة وكلمة (خطأ) أمام العبارات الخاطئة

(١) للكائنات الحية خصائص تميزها عن غيرها من الأشياء الغير حية (**صحيحة**)

(٢) الانسان لديه أربع حواس (**خطأ**)

ثانياً: الأسئلة المقالية:


السؤال الأول: صنف الصور التالية في الجدول أثناء حسب ما هو مطلوب:



(4)



(3)



(2)



(1)

كائنات حية	أشياء غير حية
2	1
3	4





اسم الطالب :

الصف :

اختبار تجريبي الأول للصف الأول

(٤ درجة)

السؤال الأول: اختر الإجابة الصحيحة علمياً لكل عبارة:-

١- يتكون جسم الانسان من كل مما يلي ما عدا

أ (الجذور ب (الرأس ج (اليد د (الرجل

٢- حاسة تساعدنا في سماع الصوت

أ (الشم ب (السمع ج (السمع د (التذوق

(٢ درجة)

السؤال الثاني: ضع علامة (√) أو (×) أمام العبارات الآتية :-

١- استخدم حاسة الشم لاتعرف على رائحة الزهور ()

٢- الرجل من أجزاء الجسم التي تساعدنا على المشي ()

ثانياً: الأسئلة المقالية:

السؤال الأول: صنف الصور التالية في الجدول أدناه حسب الجزء المستخدم من جسم الانسان:



(4)



(3)



(2)



(1)





اسم الطالب :
الصف :

اختبار علوم

للف الرابع (ب)

(٤ درجة)

السؤال الأول: اختر الإجابة الصحيحة علميا لكل عبارة:-

٣- يتكون جسم الانسان من كل مما يلي ما عدا

(أ) الجذور (ب) الرأس (ج) اليد (د) الرجل

٤- حاسة تساعدنا في سماع الصوت

(أ) الشم (ب) السمع (ج) السمع (د) التذوق

(٢ درجة)

السؤال الثاني: ضع علامة (√) أو (×) أمام العبارات الآتية :-

- ٣- استخدم حاسة الشم لاتعرف على رائحة الزهور (صحيحة)
٤- الرجل من أجزاء الجسم التي تساعدنا على المشي (صحيحة)

(٤ درجة)

ثانياً: الأسئلة المقالية:

السؤال الأول: صنف الصور التالية في الجدول أدناه حسب الجزء المستخدم من جسم الانسان:



(4)



(3)



(2)



(1)

٣ . ١	٤ . ٢

