

تم تحميل هذا الملف من موقع المناهج الكويتية



منطقة الفروانية التعليمية

الملف نموذج إجابة اختبار منطقة الفروانية

[موقع المناهج](#) ← [المناهج الكويتية](#) ← [الصف السادس](#) ← [اجتماعيات](#) ← [الفصل الثاني](#)

روابط مواقع التواصل الاجتماعي بحسب الصف السادس



روابط مواد الصف السادس على تلغرام

[الرياضيات](#)

[اللغة الانجليزية](#)

[اللغة العربية](#)

[التربية الاسلامية](#)

المزيد من الملفات بحسب الصف السادس والمادة اجتماعيات في الفصل الثاني

مراجعة	1
مراجعة	2
مراجعة	3
مذكرة في مادة الاجتماعيات	4
مراجعة محلولة ومفيدة في مادة الاجتماعيات	5



ykwait_3



التنمؤذجائية الاجائية



العام الدراسي: ٢٠٢٢ - ٢٠٢٣ م
الزمن: ساعة ونصف
عدد الأوراق: ٦

امتحان الفترة الدراسية الثانية
لمقرر: الكويت ودول الخليج العربية
للمصف السادس

وزارة التربية
الإدارة العامة لمنطقة الفروانية التعليمية
التوجيه الفني للاجتماعيات

أجب عن جميع الأسئلة التالية:

السؤال الأول: ويتكون من (أ، ب، ج، د، هـ، و، ز) (لكل نقطة درجة)

(أ) ضع خطاً تحت الخيار الصحيح من بين الخيارات التي تلي كل عبارة: $6 \times 1 = 6$ درجات

١ - أهم الدول المستوردة للنفط الكويتي هي الولايات المتحدة الأمريكية وهولندا وأيضاً : ص ٩٠

- الهند - كوريا - اليابان - الصين

٢ - المحصول الزراعي الذي نجحت المملكة العربية السعودية كتجربة رائدة في إنتاجه : ص ٩٢

موقع المنهج الكويتية
almanahj.com

- القطن - القمح - الأرز - الشعير

٣ - البعثة التي كشفت عن وجود تشابه في الآثار الحضارية لدول الخليج العربية : ص ١٠٥

- الدانمركية - البريطانية - الفرنسية - الألمانية

٤ - الموقع الذي ساهم في ازدهار نمو صناعة النفط وتسويقه في منطقة الخليج العربية : ص ١١٣

- الفلكي - النسبي - المكاني - الجغرافي

٦ - درع واقٍ للأحياء ضد خطر الأشعة فوق البنفسجية الضارة : ص ١٣٥

- الدخان - الضباب - الأوزون - الهواء

٧ - العام الذي تعرضت فيه دولة الكويت للغزو العراقي الغاشم : ص ١٣٩

- ١٩٩٠ م - ١٩٩١ م - ١٩٩٢ م - ١٩٩٣ م

(ب) صنف الهجرات في مكانها الصحيح حسب الجدول التالي : $6 \times 1 = 6$ درجات

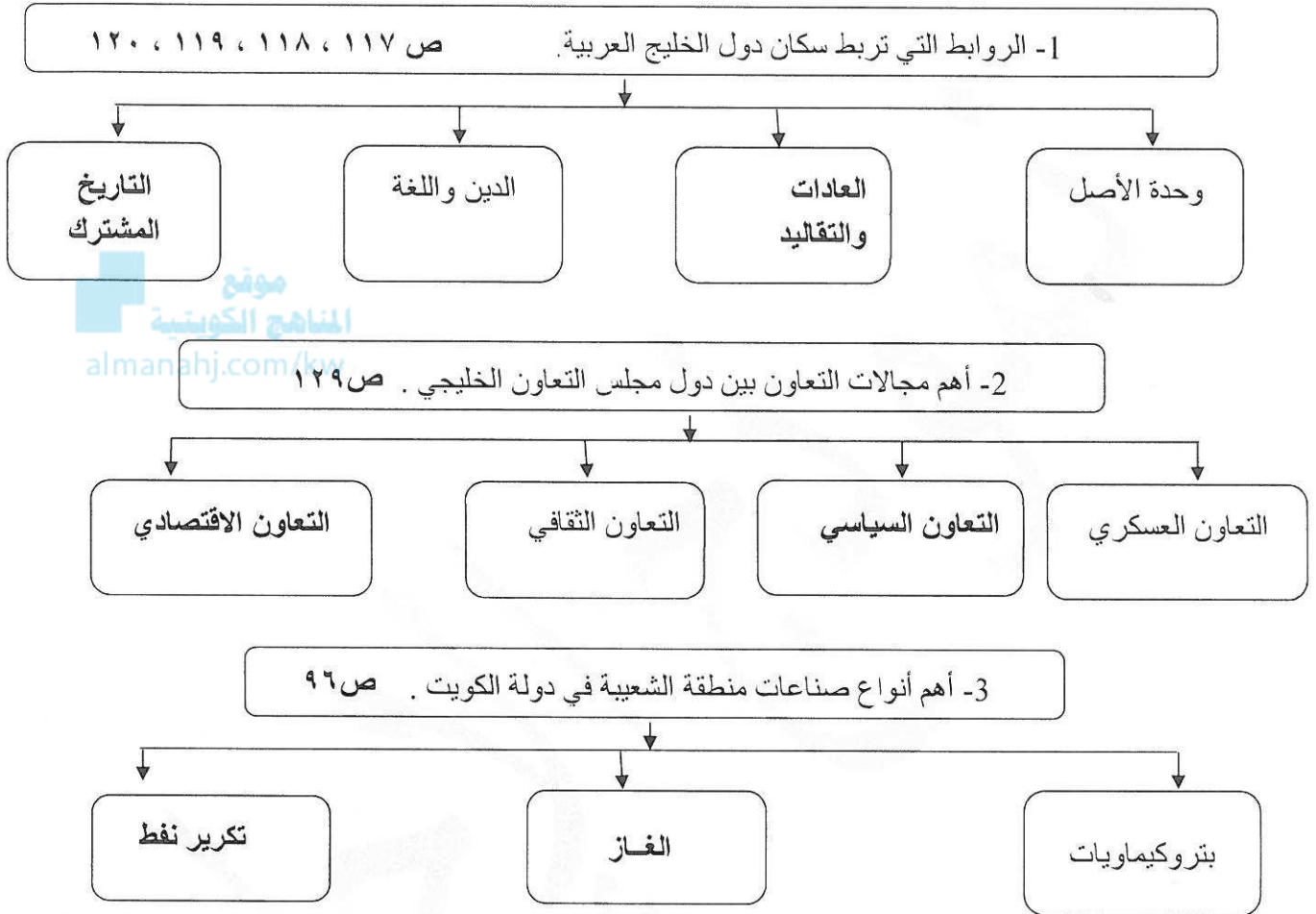
- القواسم - المعاضيد - الأزدي - بني ياس - آل الصباح - آل خليفة ص ١٠٨

دولة الكويت	البحرين	قطر	أبو ظبي	رأس الخيمة	عُمان
آل الصباح	آل خليفة	المعاضيد	بني ياس	القواسم	الأزدي

تابع : السؤال الأول :

٦ × ١ = ٦ درجات

(ج) أكمل المخططات السهمية التالية:



٤ × ١ = ٤ درجات

(د) اكتب المفاهيم أو المصطلحات الدالة على العبارات التالية :

م	المفهوم	العبارة
١	الزراعة بدون تربة	الزراعة التي تتم في بيئة مائية أو رملية أو حصى أو نشارة خشب تضاف إليها المحاليل الغذائية ص ٩٤
٢	السلالة	مجموعة من الناس تشترك فيما بينها في الصفات الجسمانية الرئيسية كلون الجلد وشكل الأنف والشعر وطول القامة وما إليها . ص ١٠٦
٣	النمو السكاني	التغيير الذي يحدث لعدد السكان نتيجة للزيادة الطبيعية وغير الطبيعية ص ١١١
٤	التلوث المائي	إحداثيات إفساد لنوعية المياه من خلال إدخال مواد ضارة بها من قبل الإنسان مما يؤدي إلى حدوث خلل في النظام المائي . ص ١٣٦

السؤال الأول :

(هـ) اكتب عنوان مشترك بين مجموعة العناصر التالية : $٤ \times ٤ = ٤$ درجات

- ١ - عدد السكان قسمة مساحة الدولة ← (الكثافة السكانية)
- ٢ - عادات تقاليد قيم ← (الثقافة)
- ٣ - الطباخين داخل المنزل الخدم السائقين ← (العمالة المنزلية)
- ٤ - السوق العدوانية التخريب التدمير ← (العنف)

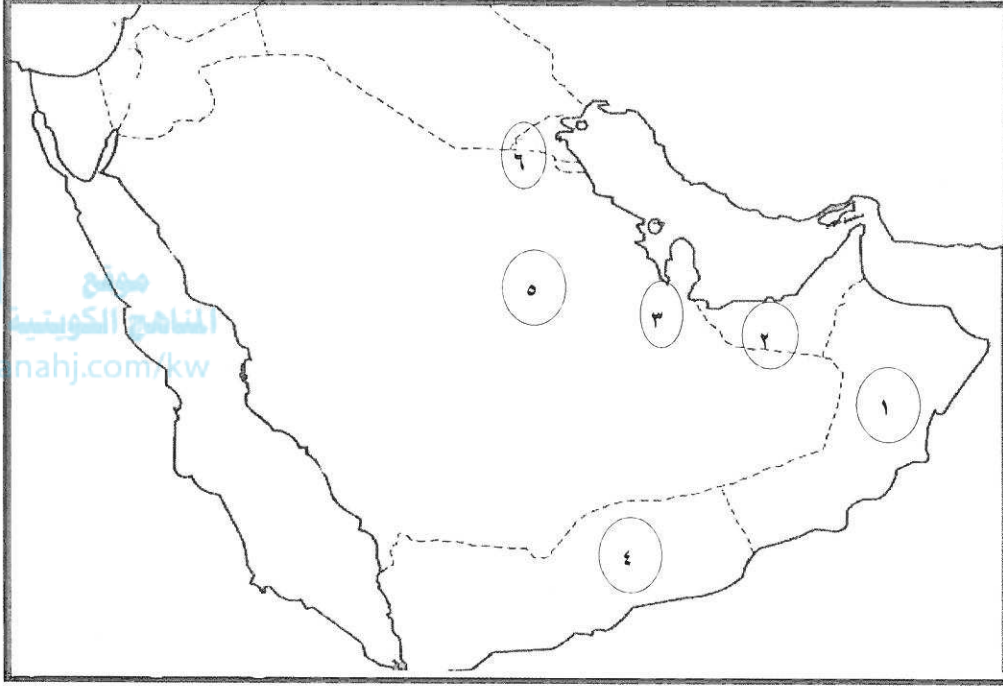
(جـ) اكمل العبارات التالية بما يناسبها فيما درست : $٦ \times ١ = ٦$ درجات

- ١- العام الذي بدأ فيه التنقيب عن النفط بدولة الكويت ١٩٣٤م ص ٨٧
- ٢- حاكم دولة الكويت الذي تم في عهده تصدير أول شحنة من النفط الكويتي عام ١٩٤٦م اسمه الشيخ أحمد الجابر الصباح ص ٩٠
- ٣- السبب الرئيسي في الزيادة غير الطبيعية لسكان دول الخليج العربية الهجرة ص ١١٠
- ٤- المدينة الخليجية التي تعد مقر مكتب التربية العربي لدول مجلس التعاون الخليجي تسمى الرياض ص ١٣٠
- ٥- العام الذي تم فيه صدور إعلان الدوحة بشأن قيام السوق الخليجية المشترك ٢٠٠٨م ص ١٣٠
- ٦- عدد الآبار النفطية الكويتية التي قام النظام العراقي البائد بإشغالها أكثر من ٧٣٧ بئرا ص ١٣٩

تابع : السؤال الأول :

١ × ٤ = ٤ درجات

(ز) لاحظ خريطة شبه الجزيرة العربية ثم نفذ المطلوب:



ص ٩١

٥ - الدولة التي يوجد بها حقل الغوار يمثلها على الخريطة الرقم

ص ٩١

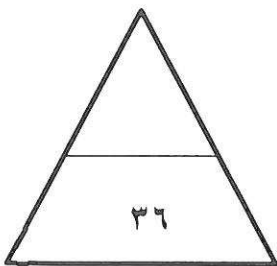
٣ - الدولة التي يوجد بها حقل دخان يمثلها على الخريطة الرقم

ص ٩٢

١ - الدولة التي يوجد بها سهل الباطنة يمثلها على الخريطة الرقم

ص ١٣٩

٦ - الدولة التي يوجد بها حقل برقان يمثلها على الخريطة الرقم



السؤال الثاني : ويتكون من (أ - ب - ج) :

$2 \times 1 = 2$ درجات

(أ) عرف المفاهيم التالية :

- ١- الصناعة: تحويل المواد الخام إلى مواد يمكن الاستفادة منها. ص ٩٥
- ٢- الترانزيت: إعادة تصدير البضائع المستوردة. ص ٩٩

(ب) اقرأ الفقرة التالية ثم أجب عما يليها من أسئلة: ص ١٣٣ و ١٣٤ و ١٣٩ $6 \times 1 = 6$ درجات

تعرضت دولة الكويت للغزو العراقي الغاشم مما أسفر عن أضرار في البيئة الكويتية حيث تسبب بإحداث تلوثاً بيئياً (تلوث هوائي، تلوث أرضي) بالإضافة إلى الآثار الخطرة على صحة الإنسان والكائنات الحية.

١- اقترح عنواناً مناسباً للفقرة السابقة. (ما يراه المصحح مناسب)

٢- عدد أنواع التلوث الناجمة من الغزو العراقي الغاشم على دولة الكويت. (الاكتفاء بنقطتين)

- تلوث هوائي - تلوث أرضي

٣- اذكر الآثار الخطرة من التلوث البيئي الذي أحدثه الغزو العراقي الغاشم على دولة الكويت.

- آثار خطيرة على صحة الإنسان والكائنات الحية.

٤- اذكر النتائج المترتبة من تلوث التربة. (الاكتفاء بنقطتين)

١- ضعف قدرتها علي الإنتاج الزراعي ٢- تلوث الإنتاج الزراعي مما يؤثر علي صحة الإنسان

$2 \times 2 = 4$ درجات

(ج) اكتب فيما يلي مما درست :

١ - مظاهر التعاون الثقافي بين دول مجلس التعاون الخليجي (الاكتفاء بنقطتين) ص ١٣٠

- توحيد المناهج التعليمية وتطويرها.

- إنشاء مكتب التربية العربي ومقره الرياض.

- اجتماع وزراء التربية والتعليم لدول الخليج العربية كل عامين لوضع السياسات التربوية.

٢ - الحلول المقترحة لعلاج مشكلة العنف. (الاكتفاء بنقطتين) ص ١٥٠

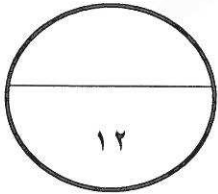
- الاهتمام الجاد بالقرآن الكريم والسنة النبوية الشريفة.

- الاهتمام بالقراءة والمطالعة بدلا من أصدقاء السوء

- القدوة الحسنة من كل المحيطين بالشباب (المتعلمين)

- اتباع أساليب الحوار والتفاهم في علاج المشكلات والخلافات.

- (وما يراه المصحح مناسب)



السؤال الثالث: ويتكون من (أ - ب - ج) :

(أ) علل لما يلي : $٢ = ١ \times ٢$ درجات (نقطة واحدة لكل سؤال)

- ١- استخدام البيوت البلاستيكية في الزراعة بمنطقة الخليج العربية. ص ٩٤
- لزراعة الخضراوات في غير مواسم أوقاتها - تقوم بحماية المحاصيل من تقلبات الطقس.
- ٢- استخدام كلمة خليجيين للدلالة على سكان منطقة الخليج العربية بدلاً من إطلاق لفظ الدولة. ص ١١٧
- بسبب التشابه الثقافي بين سكان منطقة الخليج العربية.

(ب) اكتب فيما يلي مما درست : $٦ = ٣ \times ٢$ درجات

- ١- أسباب نمو السكان نمواً مضطرباً فجائياً لمنطقة الخليج العربية بعد اكتشاف النفط. ص ١١٠ (الاكتفاء بنقطتين)
- ارتفاع دخل الفرد
- توفر فرص العمل
- توفر الرعاية الصحية
- الهجرات الداخلية والخارجية
- (ما يراه المصحح مناسباً)
- ٢- مظاهر التعاون العسكري بين دول مجلس التعاون الخليجي. ص ١٢٩ (الاكتفاء بنقطتين)
- المناورات والتدريبات العسكرية المختلفة
- إنشاء قوة مشتركة تضم جميع دول مجلس التعاون الخليجي (درع الجزيرة)
- قبول أبناء دول مجلس التعاون في الكليات العسكرية.
- المشاركة الفعلية في حرب تحرير دولة الكويت من النظام العراقي البائد.
- ٣- أسباب التلوث البحري (المائي) . ص ١٣٦ (الاكتفاء بنقطتين)
- أ- مخلفات المصانع
- ب- النفط ومشتقاته
- ج- مياه الصرف الزراعي
- د- مياه الصرف الصحي غير المعالجة
- هـ- النفايات الخطرة
- و- الأمطار الحمضية

(ج) فرق بين كل من : $٤ = ٤ \times ١$ درجات

إنتاج النفط	احتياطي النفط
كميات النفط التي يتم استخراجها للاستفادة منها	كميات النفط المخزونة في باطن الأرض
ص ٨٨	ص ٨٨

الصادرات	الواردات
السلع والمنتجات التي تبيعها دولنا في الخارج	البضائع والسلع التي تشتريها دولنا من الخارج
ص ٩٩	ص ٩٩

(انتهت الأسئلة)

