

تم تحميل هذا الملف من موقع المناهج الكويتية



الملف نموذج إجابة منطقة حولي

[موقع المناهج](#) ← [المناهج الكويتية](#) ← [الصف السادس](#) ← [اجتماعيات](#) ← [الفصل الثاني](#)

روابط مواقع التواصل الاجتماعي بحسب الصف السادس



روابط مواد الصف السادس على تلغرام

[الرياضيات](#)

[اللغة الانجليزية](#)

[اللغة العربية](#)

[التربية الاسلامية](#)

المزيد من الملفات بحسب الصف السادس والمادة اجتماعيات في الفصل الثاني

مراجعة	1
مراجعة	2
مراجعة	3
مذكرة في مادة الاجتماعيات	4
مراجعة محلولة ومفيدة في مادة الاجتماعيات	5



موقع المناهج الكويتية
almanahj.com/kw

العام الدراسي 2022/2021م

الصف السادس

نموذج إجابة اختبار مادة

الاجتماعيات

الاثنين – 30 / 5 / 2022



وزارة التربية

الإدارة العامة لمنطقة حولي التعليمية
التوجيه الفني للاجتماعيات

امتحان نهاية الفترة الدراسية الثانية

لمقرر (الكويت ودول الخليج العربية)

" للصف السادس "

نموذج الإجابة

العام الدراسي (٢٠٢١ / ٢٠٢٢ م)

الزمن: ساعة و٥٥ دقيقة

عدد الأوراق: (٦)

أجب عن جميع الأسئلة التالية:

السؤال الأول / الموضوعي ويتكون من (أ - ب - ج - د - هـ - و - ز):

(أ) ظلل (أ) إذا كانت العبارة صحيحة أو (ب) إذا كانت العبارة خاطئة : (لكل سؤال درجة = ٧ درجات)

الرقم	العبارة	أ	ب
١	الدولة الخليجية الأولى من حيث عدد السكان هي قطر. (ص ١١٤)		
٢	بدأ التنقيب عن النفط في دولة الكويت عام ١٩٣٤م بالحقول الشمالية في حقل بحره . (ص ٨٧)		
٣	شملت التغيرات في المجتمعات الخليجية الجوانب الاجتماعية فقط. (ص ١٤١)		
٤	الدخل القومي هو مجموع الدخول التي تحصل عليها الدولة خلال عام. (ص ٩٥)		
٥	تعتبر السلوكيات الخاطئة من الآثار السلبية للعمالة المنزلية . (ص ١٤٢)		
٦	عدد السكان في دول الخليج العربية في تزايد مستمر بسبب الزيادة الطبيعية فقط . (ص ١١٠)		
٧	تتشابه دول الخليج العربية بطريقة الاحتفال بالأعياد والأعراس والمناسبات الوطنية والزي الرسمي . (ص ١١٨)		

(ب) صنف مصادر التلوث الهوائي حسب مكانها المناسب بالجدول التالي : (لكل نقطة درجة = ٥ درجات)

السيارات والطائرات / براكين / الصناعة / عواصف ترابية / حرق النفايات

مصادر طبيعية	مصادر غير طبيعية (ص ١٣٤)
- براكين - عواصف ترابية	- السيارات والطائرات - الصناعة - حرق النفايات

ykuwait_3

شبكة
الكويت

(ج) ضع خطأ تحت الخيار الصحيح من بين الخيارات التي تلي كل عبارة : (لكل سؤال درجة = ٥ درجات)

١- قوات درع الجزيرة شكل من أشكال التعاون بين دول الخليج العربية في المجال : (ص ١٢٩)

الثقافي	العسكري	الاقتصادي	السياسي
---------	---------	-----------	---------

٢- الحاكم الذي تم في عهده تصدير أول شحنة من النفط الكويتي عام ١٩٤٦م المغفور له الشيخ: (ص ٩٠)

أحمد الجابر الصباح	عبدالله السالم الصباح	صباح السالم الصباح	جابر الأحمد الصباح
--------------------	-----------------------	--------------------	--------------------

٣- التغيير الذي يحدث لعدد السكان نتيجة الزيادة الطبيعية وغير الطبيعية: (ص ١١١)

الهجرة	النمو السكاني	الكثافة السكانية	السلالة
--------	---------------	------------------	---------

٤- يرجع سبب ضعف قدرة التربة على الإنتاج الزراعي إلى التلوث: (ص ١٣٤)

المائي	الهوائي	الضوضائي	الأرضي
--------	---------	----------	--------

٥- الحقل الذي تم فيه اكتشاف كميات ضخمة من النفط في دولة الكويت: (ص ٨٧)

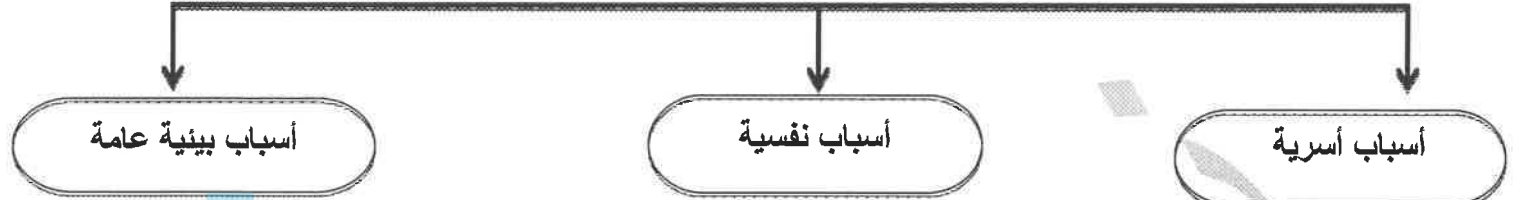
برقان	بحره	أم قدير	الروضتين
-------	------	---------	----------

(د) صوب ما تحته خط في العبارات التالية : (٦ درجات لكل نقطه درجة)

م	العبارة	التصويب
١	زراعة تتم في بيئة مائية أو رملية أو حصى أو نشارة خشب تضاف إليها المحاليل الغذائية تسمى <u>بيوت بلاستيكية</u> .	الزراعة بدون تربة (ص ٩٤)
٢	إعادة تصدير البضائع المستوردة تسمى <u>الواردات</u> .	ترانزيت (ص ٩٩)
٣	يقع مقر مكتب التربية العربي في مدينة <u>مسقط</u> .	الرياض (ص ١٣٠)
٤	أكثر الدول الخليجية في إنتاج النفط <u>قطر</u> .	المملكة العربية السعودية (ص ٨٨)
٥	تتركز الصناعات النفطية في دولة الكويت بمنطقة <u>الأحمدي</u> .	الشعبية (ص ٩٦)
٦	مخلفات المصانع ومياه الصرف الصحي من أسباب التلوث <u>الضوضائي</u> .	البحري (المائي) (ص ١٣٦)

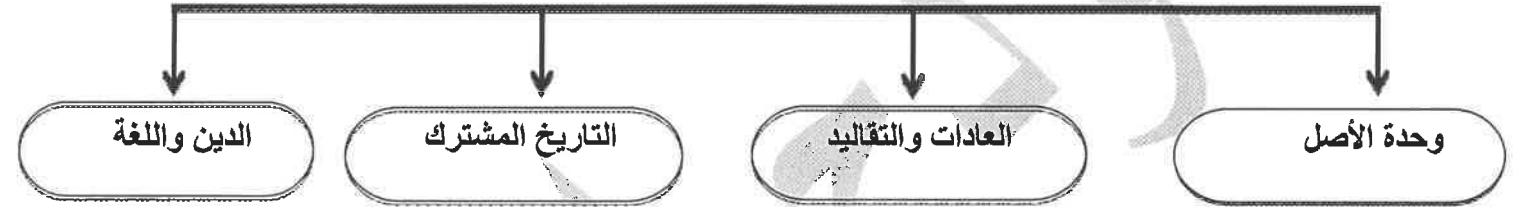
(هـ) أكمل المخططات السهمية التالية بما يناسبها فيما درست : (لكل نقطة درجة واحدة = ٥ درجات)

١- أسباب إنتشار مشكلة العنف بين المتعلمين : (ص ١٤٩)



موقع
المناهج الكويتية
almanahj.com/kw

٢- الروابط المشتركة بين دول الخليج العربية : (ص ١١٧-١١٨-١١٩-١٢٠)



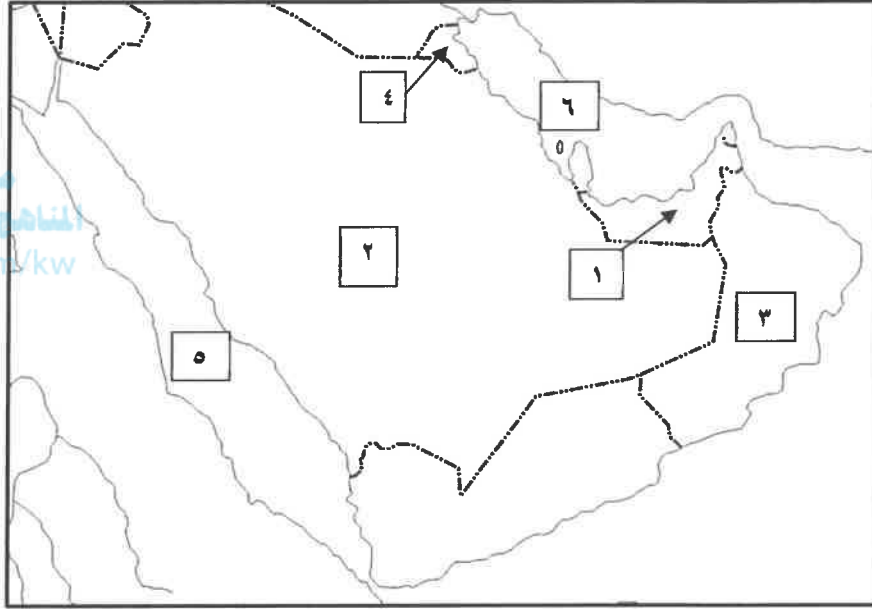
(و) ضع عنواناً مناسباً للصور مستعيناً بالكلمات التالية : (لكل نقطة درجة = ٤ درجات) (ص ١٣١)

التعاون الثقافي	التعاون الاقتصادي	التعاون العسكري	التعاون السياسي
-----------------	-------------------	-----------------	-----------------

التعاون الثقافي	التعاون السياسي	التعاون الاقتصادي	التعاون العسكري

(ز) أمامك خريطة شبة الجزيرة العربية الصماء أكتب الرقم الدال على العبارات التي تليها:
(لكل سؤال درجة = ٤ درجات)

موقع
المناهج الكويتية
almanahj.com/kw



- الدولة التي يقع فيها سهل الباطنة يمثلها على الخريطة الرقم (٣) (ص ٩٢)
- حقل مربان النفطي يقع في دولة يمثلها على الخريطة الرقم (١) (ص ٩٢)
- منطقة الشعيب الصناعية تقع في دولة يمثلها على الخريطة الرقم (٤) (ص ٩٢)
- البحر الأحمر يمثل على الخريطة الرقم (٥) (ص ٩٢)

السؤال الثاني : ويتكون من (أ - ب - ج) :

(أ) علل لما يأتي : (لكل سؤال درجتين = ٤ درجات)

١- شهدت منطقة الخليج العربية بعد اكتشاف النفط نمواً سكانياً مضطرباً (فجائياً) (ص ١١٠ + ١١١)

- ارتفاع دخل الفرد / الأمن والأمان / السماح للوافدين باصطحاب عائلاتهم

- توفر الرعاية الصحية / توفر فرص العمل / ارتفاع الأجور / زيادة عدد المواليد

٢ - ظهرت الحاجة إلى إقامة العديد من الموانئ النفطية في دول الخليج العربية . (ص ٩٠)

- تزايد الإنتاج النفطي لدول الخليج العربية / تزايد الطلب العالمي عليه كمصدر أساسي للطاقة .



(ب) فرق بين كل مما يلي : (٤ درجات لكل نقطه درجة)

إنتاج النفط (ص ٨٨)	احتياطي النفط (ص ٨٨)
كميات النفط التي يتم استخراجها للاستفادة منها	كميات النفط المخزونة في باطن الأرض
الصادرات (٩٩)	الواردات (٩٩)
السلع والمنتجات التي تبيعها دولنا في الخارج.	البضائع والسلع التي تشتريها دولنا من الخارج.

(ج) اقرأ الفقرة التالية ثم أجب عن الأسئلة التي تليها : (٤ درجات) ص (١٣٩)

قام النظام العراقي البائد بغزو دولة الكويت في الثاني من أغسطس ولم يقتصر عدوانه على البلاد عسكرياً بل امتد تأثيره على البيئة البرية والبحرية والهوائية واحراق الآبار النفطية وضخ النفط بالبحر وتكوين البحيرات النفطية لتدمير الحياة الفطرية كما أدى إشعال الآبار إلى تلوث الهواء .

١- استخراج من الفقرة السابقة ما يلي:

* مظاهر التلوث الناجمة عن الغزو العراقي الغاشم على دولة الكويت .

- ضخ النفط في البحر (تلوث مياه البحر) / (تلوث التربة- الأرضي)

- تكوين البحيرات النفطية (تدمير الحياة الفطرية) (تلوث البيئة البرية) (التلوث الهوائي)

٢- في أي عام قام النظام العراقي بغزو دولة الكويت؟

- ١٩٩٠م

٣- كم بلغ عدد الآبار النفطية التي قام النظام العراقي بإحراقها في دولة الكويت ؟

- ٧٣٧ بئراً

السؤال الثالث: ويتكون من (أ - ب - ج) :

(أ) عرف المفاهيم التالية: (٣ درجات لكل تعريف درجة)

المفهوم	التعريف
الصناعة	تحويل المواد الخام إلى مواد يمكن الاستفادة منها . (ص٩٥)
التلوث	هو الضرر الذي يصيب عناصر البيئة الأساسية (هواء- ماء- تربة) فتنحول من عناصر مفيدة إلى عناصر ضارة . (ص١٣٣)
طبقة الأوزون	درع واقٍ للأحياء ضد خطر الأشعة فوق البنفسجية الضارة. (ص١٣٥)

(ب) أجب عن الأسئلة التالية :

١- عدد الصناعات القائمة على النفط بدول الخليج العربية . (ص٩٦) (٣ درجات)

- بتروكيماويات

- تكرير النفط - الغاز

٢- اقترح حلاً لعلاج مشكلة العنف (ص١٥٠) (درجتين)

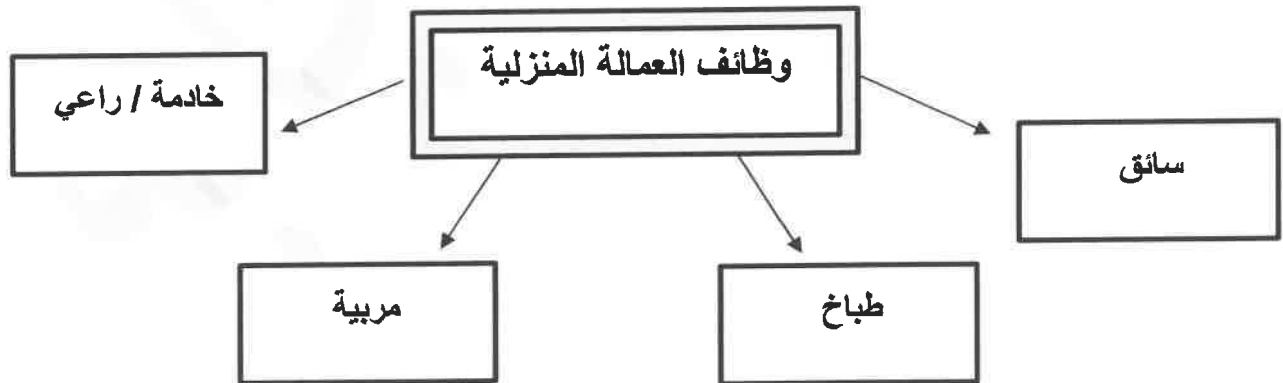
-الاهتمام الجاد بالقرآن الكريم والسنة النبوية الشريفة .

-الاهتمام بالقراءة والمطالعة بدلاً من أصدقاء السوء .

-القنوة الحسن من كل المحيطين بالشباب واتباع أساليب الحوار والتفاهم في علاج المشكلات والخلافات .

(ج) أذكر وظائف العمالة المنزلية . (ص١٤٢) (ملاحظة/ حسب ما يراه المصحح) (٤ درجات لكل

نقطة درجة)



انتهت الأسئلة مع تمنياتنا بالتوفيق