

تم تحميل هذا الملف من موقع المناهج الكويتية



منطقة الأحمدية التعليمية

الملف نموذج أسئلة اختبار منطقة الأحمدية التعليمية

موقع المناهج ← المناهج الكويتية ← الصف السابع ← اجتماعيات ← الفصل الأول

روابط مواقع التواصل الاجتماعي بحسب الصف السابع



روابط مواد الصف السابع على تلغرام

[الرياضيات](#)

[اللغة الانجليزية](#)

[اللغة العربية](#)

[التربية الاسلامية](#)

المزيد من الملفات بحسب الصف السابع والمادة اجتماعيات في الفصل الأول

كتاب الطالب في مادة الاجتماعيات للعام الدراسي 2018	1
حل الوحدة الاولى في مادة الاجتماعيات	2
تلخيص رائع في مادة الاجتماعيات	3
حل الوحدة الثانية في مادة الاجتماعيات	4
تلخيص ممتاز في مادة الاجتماعيات	5

العام الدراسي : ٢٠٢٤ / ٢٠٢٥ م
الزمن : ساعة وخمس وأربعون
عدد الصفحات : ٥ صفحات

امتحان نهاية الفترة الدراسية الأولى
لمقرر الكويت والوطن العربي
للصف السابع متوسط

وزارة التربية
الإدارة العامة لمنطقة الأحدي التعليمية
التوجيه الفني للاجتماعيات

أجب عن جميع الاسئلة

السؤال الأول : (موضوعي) ويتكون من (أ - ب - ج) :

(أ) ظلل الخيار الصحيح من بين الخيارات التي تلي كل عبارة :


١- الدولة التي انضمت إلى جامعة الدول العربية عام ١٩٩٣ م :

السودان	مصر	اليمن	جزر القمر
---------	-----	-------	-----------

٢- العام الذي نزل فيه القرآن على سيدنا محمد ﷺ :

٤١٠ م	٥١٠ م	٦١٠ م	٧١٠ م
-------	-------	-------	-------


٣- نسبة مساحة الوطن العربي من جملة مساحة العالم يمثلها الجزء المظلل من الدائرة البيانية :



٤- المضيق الذي يربط بين خليج عدن والبحر الأحمر :

هرمز	باب المندب	السويس	جبل طارق
------	------------	--------	----------

٥- الرقم (١) في الصورة المقابلة يمثل مظهر من مظاهر السطح :



سهل	وادي
-----	------

جبال	هضاب
------	------

السؤال الرابع : (مقالى) يتكون من (أ - ب - ج) :

(أ) لاحظ خرائط الحضارات ثم أجب عن ما يلي :

		<p>خريطة الحضارة</p>
<p>بلاد الرافدين</p>	<p>بلاد المين جنوب نيلهم طوير</p>	<p>اسم الحضارة</p>
<p>موقع قناة ضوية النيل التي تخرج المياه للعبارة</p>	<p>توانر المياه الجديدة المناخ المناسب لزراعة الموتج</p>	<p>العوامل التي ساعدت في قيام الحضارة فيها (يكتفى بنقطة)</p>

(ب) فرّق بين كل مما يلي :

الموقع النسبي	الموقع الفلكي
<p>موتج الدولة بالنسبة للياسين والعاه</p>	<p>موتج دولة بالنسبة لخطوط الطول ودوائر العرض</p>
<p>السهول الفيضية (النهرية)</p>	<p>السهول الساحلية</p>
<p>الأراضي المنخفضة التي تكونت عن طريق النقل من مياه الأمطار</p>	<p>الأراضي المنخفضة التي تكونت عن طريق البحر</p>

(ج) علل لما يلي :

- ١- تنافس الدول الاستعمارية للاستلاء على الوطن العربي منذ القرن ١٨ الميلادي.
موتج أسير البحر هو سطل على سطح عال
- ٢- تنوع النبات الطبيعي في الوطن العربي.
لأنه كثرة الملاحة والخياره - شجرت مكلنا - وسط قاران العالم العرب
نوع الزراعه
المناخ
- ٣- اهتمام المصريون القدماء بتحنيط جثث موتاهم.
لأنه يمان الحياه بتعود بعد الموت والموت والخلو
- ٤- مقاومة النباتات الصحراوية الجفاف.
بذورها حبوبله
- ٥- البغديه على أنزيت المياه
أنشأ نسبا بلحاء سلك وأزاه أبويه

مجموع درجات السؤال الرابع

انتهت الأسئلة

الدولة	النسبة
الإمارات	٢٧%
ليبيا	٥%
الكويت	٥٥%
البحرين	٣١%

(نسبة استخدام المياه المحلاة)

السؤال الثالث (مقالى) يتكون من (أ - ب - ج) :


(أ) لاحظ الجدول المقابل ثم نفذ المطلوب

١- أكثر الدول إنتاجاً للمياه المحلاة .

٢- أقل الدول إنتاجاً للمياه المحلاة .

٣- ارسم أعمدة بيانية لنسب استخدام المياه المحلاة الموجودة في الجدول لكل من:

(البحرين - الإمارات)



٤- اقترح حلولاً للمحافظة على ثروة المياه في الوطن العربي .

(ب) قارن بين كل من :

أوجه المقارنة	الغابات المدارية الحارة	الغابات المعتدلة
مميزاتها	- غطاء كثيف للأشجار تساقط للأوراق - الأوراق العريضة بالارتخاء	- عدم كثافتها دائم الخضرة تساقط الأوراق في فصل الشتاء
أهم أشجارها	- الساج - الماهوجني - الباك الأنوس - السدر - الأثل - السنط	- الأرز - العرج - الصنوبر - الطلح البلوط - السنديان

(ج) عدد اثنتان لكل مما يلي :

١- العوامل التي تؤثر في مناخ الوطن العربي.

- الموقع بالنسبة لدولنا العربي - الرياح
- العزوب أو العصور المسطحة المائلة - الصحراوي

٢- العوامل التي ساعدت على قيام الحضارة المصرية القديمة.

- ترويح الصحور والعباد - اعتماد المصريين
- نهر النيل - أهمية المناخ

٣- الطيور الساندة في المناطق الصحراوية في الوطن العربي.

- الجباري - الصقور
- البومة

١٥

مجموع درجات السؤال الثالث

السؤال الثاني (موضوعي) يتكون من (أ - ب - ج) :

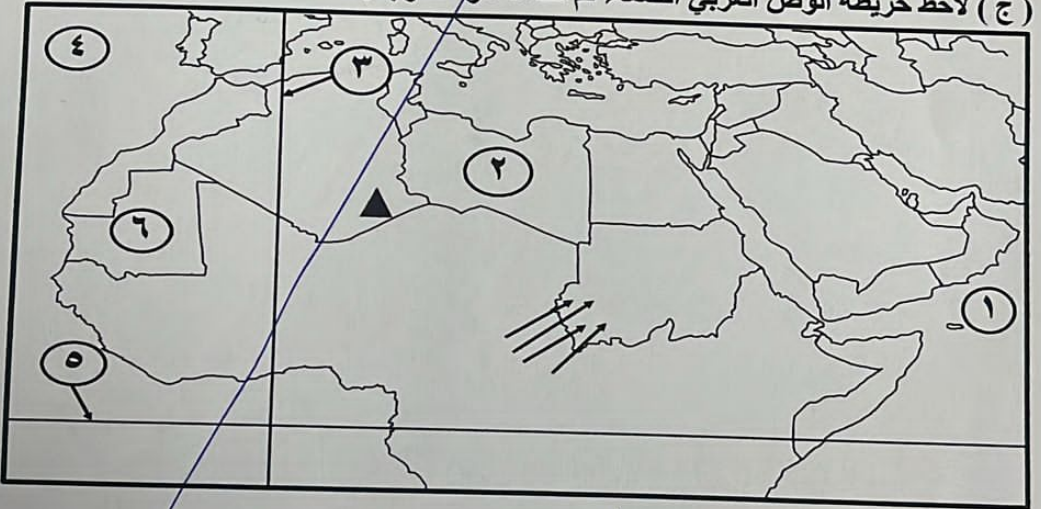
(أ) صحح ما تحته خط في العبارات التالية وذلك بكتابة التصويب في المكان المناسب :

التصويب	العبارة	م
.....	محطة تحلية المياه التي أنشأت في دولة الكويت عام ١٩٥٣م <u>الشفايا</u> .	١
.....	وزن الهواء فوق أي مكان <u>الكثافة</u> .	٢
.....	المنسوجات التي اشتهرت بتصديرها بلاد الرافدين المنسوجات <u>القطنية</u> .	٣
.....	الدولة العربية التي تهب عليها رياح الخماسين <u>العراق</u> .	٤
.....	النبي الذي نزلت عليه الديانة المسيحية <u>موسى عليه السلام</u> .	٥

(ب) أكمل العبارات التالية بما يناسبها فيما درست :

- ١- مسطح مائي تحيط به اليابسة من جميع الاتجاهات يسمى البحيرة.
- ٢- ملكة سبا التي ورده اسمها في القرآن الكريم اسمها البقيع.
- ٣- مسطح مائي يحد الوطن العربي من جهة الشمال يسمى البحر المتوسط.
- ٤- دولة عربية يقع فيها جبل مرة اسمها السودان.
- ٥- الملك البابلي الذي وضع أقدم الشرائع القانونية اسمه المسوت.

(ج) لاحظ خريطة الوطن العربي الصماء ثم نفذ ما هو مطلوب :



- خط غرينتش يمثل على الخريطة الرقم (.....٣.....)

- ليبيا يمثلها على الخريطة الرقم (.....٣.....)

- المحيط الأطلسي يمثل على الخريطة الرقم (.....٤.....)

- الشكل (⚡) يرمز إلى رياح محلية تسمى (الهبوب) ب

- الشكل (▲) يرمز إلى جبال تسمى (الاجاجار)

مجموع درجات السؤال الثاني

تابع السؤال الأول (موضوعي) :

(ب) صنف الصور التالية حسب الحضارة التي تنتمي لها بوضع رقم الصورة في الجدول التالي :



(٤)



(٣)



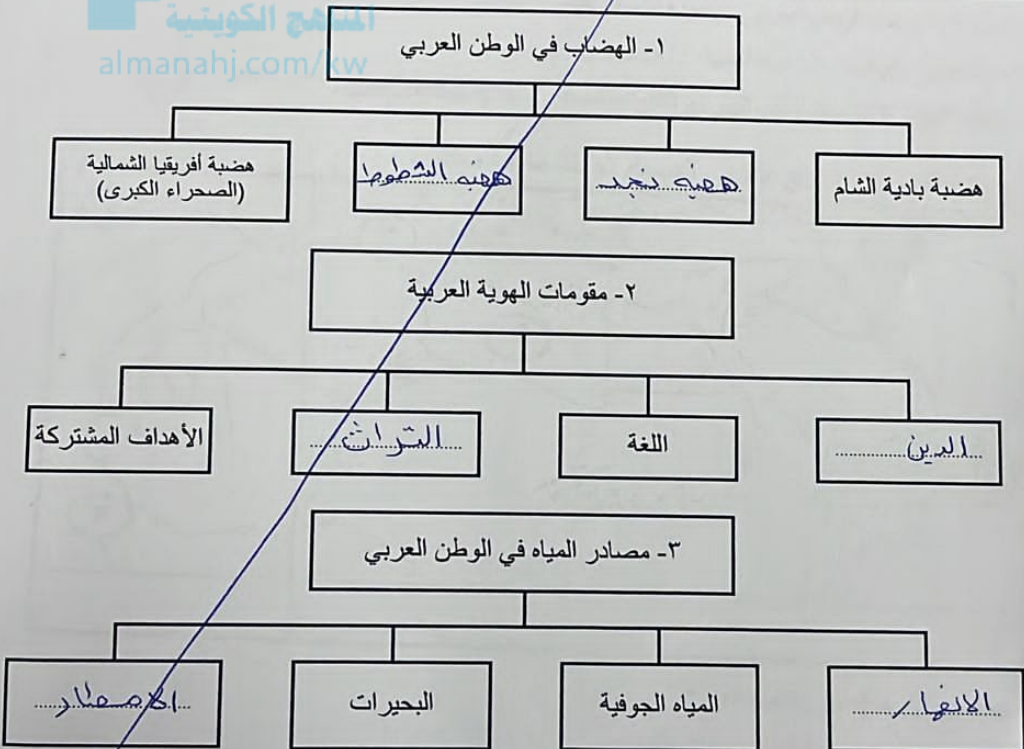
(٢)



(١)

الحضارة المصرية	الحضارة العربية الإسلامية	حضارة بلاد الرافدين	حضارة دلمون (البحرين)
.....٤.....١.....٣.....٢.....

(ج) أكمل المخططات السهمية التالية :



البحر - البحار - المحيطات - الخلجان



مجموع درجات السؤال الأول