

تم تحميل هذا الملف من موقع ملفات الكويت التعليمية



[com.kwedufiles.www//:https](https://www.kwedufiles.com)

*للحصول على أوراق عمل لجميع الصفوف وجميع المواد اضغط هنا

* للحصول على أوراق عمل لجميع مواد الصف الثاني اضغط هنا

<https://kwedufiles.com/2>

* للحصول على جميع أوراق الصف الثاني في مادة رياضيات ولجميع الفصول, اضغط هنا

<https://kwedufiles.com/2math>

* للحصول على أوراق عمل لجميع مواد الصف الثاني في مادة رياضيات الخاصة بـ الفصل الثاني اضغط هنا

<https://www.kwedufiles.com/2math2>

* لتحميل كتب جميع المواد في جميع الفصول للـ الصف الثاني اضغط هنا

<https://www.kwedufiles.com/grade2>

[bot_kwlinks/me.t//:https](https://t.me/bot_kwlinks)

للحصول على جميع روابط الصفوف على تلغرام وفيسبوك من قنوات وصفحات: اضغط هنا

الروابط التالية هي روابط الصف الثاني على مواقع التواصل الاجتماعي

مجموعة الفيسبوك

صفحة الفيسبوك

مجموعة التلغرام

بوت التلغرام



قناة التلغرام

رياضيات على التلغرام

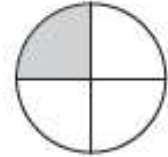
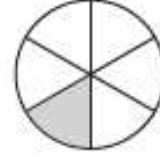
ورقة عمل: مقارنة الكسور

الاسم : _____ الصف : الثاني التاريخ / / ١٤٤٢ هـ

قارن بين الكسور التالية بوضع > أو < في




٢



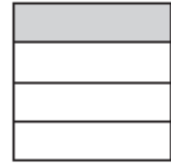
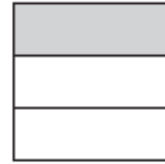
١

$\frac{1}{12}$ $\frac{1}{8}$

$\frac{1}{6}$ $\frac{1}{4}$



٤



٣

$\frac{1}{8}$ $\frac{1}{6}$

$\frac{1}{3}$ $\frac{1}{4}$

أقارن بين الكسور، وأستعمل إشارة > أو < :

$\frac{1}{8}$ $\frac{1}{6}$ ٧

$\frac{1}{8}$ $\frac{1}{4}$ ٦

$\frac{1}{6}$ $\frac{1}{4}$ ٥

$\frac{1}{4}$ $\frac{1}{6}$ ١٠

$\frac{1}{3}$ $\frac{1}{6}$ ٩

$\frac{1}{8}$ $\frac{1}{12}$ ٨