





السؤال الأول : ويتكون من (أ - ب - ج - د - هـ) : (الإجابة النموذجية)

(أ) أكمل العبارات التالية بما يناسبها فيما درست : (لكل بند درجة)

- ١ - اجتمع الأنصار والمهاجرون لاختيار خليفة للرسول (صلى الله عليه وسلم) في مكان يسمى (سقيفة بني ساعدة) ص ٤٢
- ٢ - قيمة الزكاة في الأموال النقدية حوالي (٢.٥) % . ص ٧١
- ٣ - أعلن الرسول صلى الله عليه وسلم بيان براءة في عام (٩ هـ) ص ٤٠
- ٤ - انتشار الأمية تصنف ضمن نوع من مشكلات العالم الإسلامي والتي تسمى (التعليمية والثقافية) ص ٩٥
- ٥ - خطوط حددت بواسطة الإنسان ورسمت حتى تفصل بين سيادة دولة ودولة أخرى تسمى (الحدود السياسية) ص ٩٠
- ٦ - العام الذي استقلت فيه دولة الكويت (١٩٦١) م ص ٩٠
- ٧ - الصحابي الذي أشار بحفر الخندق شمال المدينة المنورة يسمى (سلمان الفارسي) ص ٣٥
- ٨ - تقع شبة الجزيرة العربية ضمن مناخ يسمى (الصحراوي) ص ١٦
- ٩ - كل ما أنجزه الإنسان من رقي وتقدم بمختلف الميادين المادية والمعنوية يسمى (الحضارة) ص ٦٧
- ١٠ - العام الميلادي الذي ولد فيه الرسول صلى الله عليه وسلم (٥٧١) م ص ٢٥


(ب) أمامك مجموعة من المعارك التي خاضها قادة المسلمين صنفها حسب الجدول التالي:

(الأعرار - الجسر - ذات السلاسل - القادسية - أجنادين)

المثنى بن حارثة	خالد بن الوليد	عمرو بن العاص	سعد بن أبي وقاص	أبو عبيدة الثقفي
الأعرار ص ٤٥	ذات السلاسل ص ٤٥	أجنادين ص ٤٦	القادسية ص ٤٥	الجسر ص ٤٥

ج) أكمل المخططات السهمية التالية:


١- انتشرت في شبه الجزيرة العربية عدة ديانات قبل الإسلام منها ص ٢٣



٣) جهود الدولة الإسلامية في مجال الزراعة ص ٧١



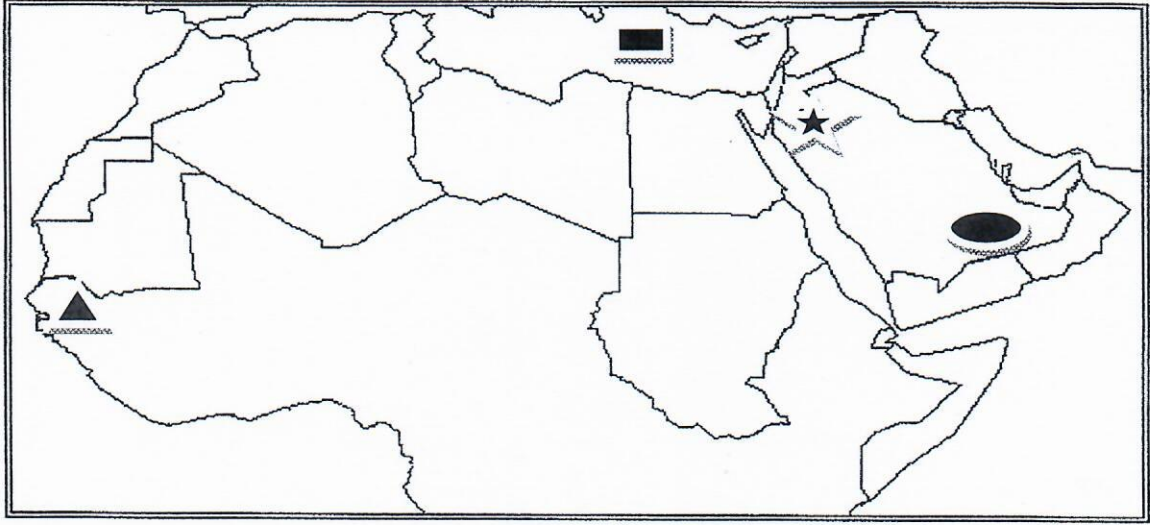
٤) خصائص الحضارة العربية الإسلامية منها ص ٦٨







د) اختر من المجموعة (أ) ما يناسبها من المجموعة (ب) بكتابة الرقم المناسب في مكانه الصحيح:

الرقم	المجموعة (أ)	الرقم المناسب	المجموعة (ب)
١-	أهل الذمه	٣	يهتمون بالمعاملات التجارية من بيع وشراء ص ٧٣
٢-	الموالي	٤	دستور ينظم العلاقات الاجتماعية بين قبائل المدينة والقبائل المجاورة ص ٣١
٣-	التجار	١	هم النصارى واليهود اللذين ظلوا على دينهم مع دفع الجزية ص ٧٣
٤-	الصحيفة	٥	المال الذي يفرض على الأراضي الزراعية ص ٧٠
٥-	الخراج	٢	أبناء قبائل أحرار انضموا للقبيلة الجديدة بدافع المصلحة فصاروا منها ص ٢٢
٦-	الزكاة	-	

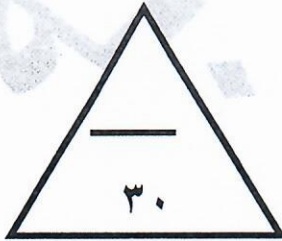
هـ) أمامك خريطة العالم الإسلامي نفذ المطلوب عليها باستخدام الرموز التالية:



www.KwEduFiles.com

- بحر الروم باستخدام الرمز () ص ١٧
- جمهورية السنغال باستخدام الرمز () ص ٨٧
- الربع الخالي باستخدام الرمز () ص ١٧
- غزوة تبوك باستخدام الرمز () ص ٢٤

درجة السؤال الأول.....



السؤال الثاني : ويتكون من (أ - ب):

(أ) دال على صحة العبارات التالية: (٦ درجات)

- (١) كان للنظام العراقي محاولات كثيرة للسيطرة على دولة الكويت قبل عام ١٩٩٠م. ص ٩٠
المحاولة الأولى كانت بعد استقلال دولة الكويت وإلغاء اتفاقية الحماية مع بريطانيا في عام ١٩٦١م
أعلن رئيس العراق السابق عبد الكريم أن دولة الكويت تابعة للواء البصرة ولكن محاولاته باءت بالفشل
المحاولة الثانية بعد هجوم العراقيين على مركز الصامته في عام ١٩٧٣م
- (٢) تواجه الأقليات الإسلامية في الدول الغير إسلامية الكثير من المشاكل . ص ٩١
المشكلات الاقتصادية - المشكلات الثقافية والتعليمية - المشكلات السياسية
- (٣) للمرأة العربية قبل الإسلام مكانة بارزة. ص ٢٢
أصبحت الملكة بلقيس ملكة سبأ وكان لها دور في الحروب مع الرجال وكان مفتاح الكعبة بيد امرأة وهي بنت خليل
الخراعي ثم عند أم عثمان بنت طلحة بعد فتح مكة
- (ب) قارن بين كل مما يأتي : (٤ درجات)

أوجه المقارنة	غزوة بدر ص ٣٣	غزوة خيبر ص ٣٧
العام	٢ هـ	٧ هـ
النتائج	انتصار المسلمين وهزيمة المشركين	- دفع اليهود للجزية - القضاء على قوة اليهود في شبه الجزيرة العربية

تابع امتحان (المنهج الكامل) لمادة الاجتماعيات لصف الثامن للعام (٢٠١٧ / ٢٠١٨ م):

السؤال الثالث: ويتكون من (أ - ب) :

(أ) ما النتائج التي تترتب على ما يلي : (٦ درجات)

(١) قسوة البيئة الصحراوية في شبة الجزيرة العربية. ص ١٦

*. عدم الاستقرار وامتهان حرفة الرعي * سيادة النظام القبلي على مجتمع شبه الجزيرة العربية

(٢) قيام الدولة العباسية . ص ٥٤

*. انتقال العاصمة من دمشق إلى بغداد * ظهور الدويلات المستقلة * قل اهتمام الدولة العباسية بالبحر المتوسط

(٣) صلح الحديبية بين المسلمين وقريش . ص ٣٦

*. اعترافا رسميا من قريش بالدولة الإسلامية في المدينة المنورة * تفرغ المسلمين للقضاء على يهود خيبر

(ب) لاحظ الشكل المقابل ثم أجب عن الأسئلة التي تليه :

(١) من كان رئيس المؤتمر الإسلامي الخامس ؟

(الشيخ جابر الأحمد الصباح) ص ١٠٠ (درجة)

(٢) عدد أهم قراراته ؟ ص ٩٩ (٣ درجات)

- دعم القضية الفلسطينية - وحدة لبنان - إدانة الإرهاب

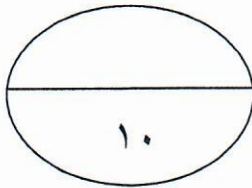
- مطالبة إيران بالاستجابة لمساعي السلام ووقف حرب الخليج الأولى

- حل قضية القبارصة الأتراك - تدعم مطالب جبهة التحرير للتحرر

الوطني لمسلمي الفلبين



شعار المؤتمر الإسلامي الخامس



درجة السؤال الثالث.....

تابع امتحان (المنهج الكامل) لمادة الاجتماعيات لصف الثامن للعام (٢٠١٧ / ٢٠١٨ م):

السؤال الرابع : ويتكون من (أ - ب):

(أ) اكتب حقيقتان فيما يلي: (٦ درجات)

(١) الخبرات التي اكتسبها الرسول صلى الله عليه وسلم قبل البعثة. ص ٢٥

أ- الصبر (العمل بالرعي) الأمانة (العمل بالتجارة) الخبرة السياسية (إشراكه في حلف الفضول)

ب- الخبرة العسكرية (إشراكه في حرب الفجار) سرعة البديهة (حادثة الحجر الأسود)

(٢) جهود الدولة العثمانية في نشر الإسلام. ص ٥٧

أ- تمكن العثمانيون من نشر الإسلام في شرق أوروبا والبلقان والمجر ووصلوا حتى فيينا عاصمة النمسا

ب- كما نشروا الإسلام في منطقة البحر الأسود

(٣) أنشطة دار الآثار الإسلامية في دولة الكويت. ص ١٠٨

أ- إقامة المعارض داخل دولة الكويت وخارجها - إقامة مواسم ثقافية واسعة من خلال محاضرات حول الفنون الإسلامية

في منطقة حولي التعليمية - دورات تدريبية للفنون الإسلامية - ترميم وصيانة الآثار الإسلامية

ب) (فرق بين كل مما يلي من حيث الأسباب: (٤ درجات)

سقوط الدولة الأموية ص ٥٢	سقوط الدولة العباسية ص ٥٦
١- تعصب الأمويين للعرب ٢- تولية العهد لأكثر من شخص ٣- قيام الثورات الداخلية ضد بني أمية ٤- ظهور روح العصبية بين القبائل العربية	١- الشعوبية ويقصد بها روح الانفصالية عند بعض الشعوب التي حكمها المسلمون ٢- مشكلة ولاية العهد لأكثر من شخص ٣- اتساع أراضي الدولة وصعوبة السيطرة عليها سياسيا وعسكريا
انتشار البطالة ص ٩٤	انتشار الجريمة ص ٩٤
تزايد عدد السكان وضعف الدخل القومي وقلة المشاريع الاستثمارية في كثير من دول العالم الإسلامي	انتشار البطالة في كثير من دول العالم الإسلامي وكما أن الانفتاح العالم الإسلامي علي الدول الغربية تأثير أيضا - الانفجار السكاني - ضعف دخل الفرد

درجة السؤال الرابع

١٠

انتهت الأسئلة مع تمنياتنا لكم بالتوفيق