

تم تحميل هذا الملف من موقع المناهج الكويتية



أحمد حضارة

الملف مذكرة إثرائية للوحدة الأولى

[موقع المناهج](#) ← [المناهج الكويتية](#) ← [الصف الثامن](#) ← [اجتماعيات](#) ← [الفصل الأول](#)

روابط مواقع التواصل الاجتماعي بحسب الصف الثامن



روابط مواد الصف الثامن على تلغرام

[الرياضيات](#)

[اللغة الانجليزية](#)

[اللغة العربية](#)

[التربية الاسلامية](#)

المزيد من الملفات بحسب الصف الثامن والمادة اجتماعيات في الفصل الأول

مسودة كتاب الطالب في مادة الاجتماعيات لعام 2018	1
خطة توزيع منهج العام الجديد في مادة الاجتماعيات	2
حل الوحدة الاولى في مادة الاجتماعيات	3
ورقة عمل في مادة الاجتماعيات	4
ورقة عمل في مادة الاجتماعيات	5

الفترة الدراسية الأولى / ٢٠٢٤م / ٢٠٢٥م



الإجتماعيات

موقع
المنهج الكويتية
almanahj.com/kw

للمرحلة
المتوسطة و الثانوية

إجتماعيات

المادة /

الثامن

الصف /

مذكرات

أحمد هداره

97764949

اطلبها مجاناً

س : أذكر الميادين التي إنطلقت منها الحضارة الإسلامية

إنطلق شعاع الحضارة الإسلامية في الميادين العلمية والثقافية والاقتصادية والسياسية والاجتماعية والعمرانية

س : ماهي الأسس الثابتة للنهضة الشاملة للحضارة الإسلامية

➤ حث الدين الإسلامي على العلم والتعلم

➤ استفاد المسلمون في تطوير حضارتهم الإسلامية من الحضارات الأخرى

س : اذكر الحضارات التي استفادت منها الحضارة الإسلامية

الحضارة الفارسية - البيزنطية - الهندية - الصينية

س : ما النتائج المترتبة على؟ اندماج الشعوب الأخرى مع العرب

⊖ تنوع الثقافات والعلوم والفنون

⊖ المساهمة في تطوير الحضارة الإسلامية وتطور العلوم العقلية والنقلية

س : ما الفرق بين كلا من

العلوم العقلية مهم	العلوم النقلية مهم
هي التي تعتمد على العقل	هي التي تعتمد على النقل
مثل الرياضيات والفيزياء والكيمياء والفلسفة	مثل علوم الدين من حديث وفقه وتفسير وتاريخ

س : **محلل** : برع المسلمون في فن العمارة

لأنهم تميزوا بعمارة المساجد والقصور

س : **محلل** : تميز المسلمون بالتجارة

بسبب وصولهم لأندونيسيا بتجازتهم وصناعتهم من سيوف وسفن وحلى

س : **دليل على صحة العبارة** : إهتمام المسلمين في الحضارة الإسلامية بالزراعة **مهم**

↔ شقوا القنوات المائية والترع

«: نظموا وسائل الري

↔ أقاموا السدود

س : **عرف الحضارة**

هي كل ما يطرأ على المجتمع من تقدم وتطور ورتقي في الجانب المادي والروحي

س : **أذكر أمثلة على كل من**

○ الجانب **المادي** : مثل المساجد والقصور والمستشفيات والمكتبات

○ الجانب **الروحي** : مثل العلوم والفكر والأدب والأخلاق والسياسة والثقافة

س : **من هو مؤسس الدولة الإسلامية** : سيدنا محمد ﷺ

س : **في أي قرن قامت الدولة الإسلامية** : في القرن الثامن الميلادي

س : **عدد أسس الحضارة الإسلامية** **مهم**

(١) الدين الإسلامي (٢) اللغة العربية (٣) الحضارات الأخرى

س : أذكر الحضارات المجاورة : الحضارة الإسلامية الحضارة الفارسية الحضارة البيزنطية

س : **حلل** : تسميه الحضارة الإسلامية بهذا الاسم **مهم**

سميت بهذا الاسم لأن اللغة العربية تعتبر وسيله للتعبير عنها والذي يمثل روحها وجوهرها الدين الإسلامي

س : **حلل** : الإحتفال باللغة العربية في يوم ١٨ ديسمبر من كل عام

لأن الجمعية العامة للأمم المتحدة أصدرت في شهر ديسمبر عام ١٩٧٣ م قرارا بإدخال اللغة العربية ضمن اللغات الرسمية ولغات العمل في الأمم المتحدة

س : كيف تفاعل الإسلام مع شعوب العالم وثقافته

لقد إستوعبت وتقبلت الحضارة الإسلامية شعوبا عديدة علي مدار تاريخها من العرب والفرس والترك والأفارقة والآسيويين والهنود والأوروبيين

س : عدد الشعوب التي كونت الحضارة الإسلامية ؟

العرب الفرس الترك الأفارقة الآسيويين الهنود الأوروبيين

س : **إرسم** مخطط سهمي يوضح أسس الحضارة الإسلامية **مهم**

الدين الإسلامي (القرآن الكريم والسنة النبوية)

اللغة العربية (يتكلم العرب وغير العرب اللغة العربية لأنها لغة القرآن)

الحضارات الأخرى (حضارة الفرس والروم واليونان والهند والصين)

س : أذكر لغات العمل في الأمم المتحدة : الإنجليزية والفرنسية والصينية والروسية والأسبانية

س : أذكر خصائص الحضارة الإسلامية **مهم**

(١) حضارة تسامح (٢) حضارة إيمان وعمل (٣) حضارة إنسانية

(٤) حضارة عالمية (٥) حضارة شمولية

س : حلل	التعليل	مهم
الحضارة الإسلامية حضارة تسامح	لأنها تميزت بالطابع الإنساني واهتمت بالأخلاق والبناء والعمران	
الحضارة الإسلامية حضارة إيمان وعمل	لأنها حثت المسلمين إلى العمل والإجتهد والإنجاز	
الحضارة الإسلامية حضارة عالمية	لأن رسالة الإسلام جاءت للبشر كافة وساوى بين الشعوب المختلفة	

الحضارة الإسلامية حضارة شمولية	لأنها تميزت بشموليتها بكافة جوانب الحياة الروحية والعقلية والجمالية والأخلاقية شموليتها في الفن والزخرفة والعمارة كعمارة المساجد والقصور والبيمارستانا
-----------------------------------	---

س : عرف البيمارستانات

تعني دار المرض أو المستشفى ومراكز الصيدلة والتحاليل وصنائه الأدوية



س : وضع اثر الحضارة الإسلامية علي دوله الكويت

إنعكس أثر خصائص الحضارة الإسلامية على دوله الكويت حيث أن الشعب الكويتي نشأ علي الحب والتراحم والعدل والتسامح والمساواة ومد يد العون سواء للمسلمين أو غير المسلمين والعمل على فعل الخير

س : أذكر أهم المؤسسات والهيئات والجمعيات الخيرية بالكويت

بيت الزكاة والهيئة الخيرية الإسلامية العالمية

س : أذكر أهم الشخصيات الكويتية التي برزت في مجال العمل الخيري

(١) الشيخ صباح الأحمد الصباح (رحمه الله)

(٢) الداعية الدكتور عبد الرحمن السميطة (رحمه الله)

س : دلي على صحة العبارة : برزت العديد من الشخصيات الكويتية في مجال العمل الخيري والإنساني

على قمة هذه الشخصيات أمير الكويت السابق الشيخ صباح الأحمد الصباح والذي لقب في ٩ ديسمبر من عام ٢٠١٤م من قبل الأمم المتحدة (قائد العمل الإنساني) - يأتي بعد ذلك الداعية الدكتور عبد الرحمن السميطة

س : أذكر المناصب الإدارية التي ظهرت مع اتساع الدولة الإسلامية

القاضي

الحاجب

الوالي

الوزير

س : أذكر جهود المسلمين في الزراعة

(١) شق القنوات المائية والترع (٢) إقامة السدود (٣) تنظيم وسائل الري

س : اهتمت الدولة الإسلامية بالصناعة

من أجل استثمار الموارد الطبيعية المتوفرة بها

س : أذكر أهم الصناعات التي ظهرت في الدولة الإسلامية

صناعة السفن - صناعة الأسلحة - صناعة الورق

صناعة الخزف والمعادن الصناعية والخشبية

س : تسمية صناعة الأرابيسك بهذا الاسم (نسبة إلى العرب)

س : عدد الصناعات التي اهتمت بها الدول الإسلامية

السفن - الأسلحة - الورق - الأدوية - المنسوجات - الخزف - المعادن - الأواني

س : لقيت التجارة تشجيعاً كبيراً في الحضارة الإسلامية

○ لدورها الكبير في التبادل التجاري مع المناطق المجاورة

○ لإسهامها في نشر الدين الإسلامي

○ لإمتلاكها موقع إستراتيجي « لإمتلاكها للخطوط التجارية والبرية والبحرية

س : دلي على صحة العبارة (دور دولة الكويت التجاري في العصور الإسلامية)

← في دولة الكويت تم الكشف عن محطات لإستراحة قوافل الحجاج (محطة الشحي) الشقايا حالياً

← في جزيرة فيلكا رصدت قريتان تعودان للعصر الإسلامي إزدهرتا بإزدهار الطريق التجاري البحري

عبر الخليج العربي

س : أذكر أهم الصادرات والواردات في الدولة الاسلاميه

⊖ **المصادر** التمور - والفواكه - والألبان - والخيول العربية

⊖ **الواردات** الأخشاب - والتوابل - والذهب

س : ما النتيجة المترتبة على التطور في المظاهر الاقتصادية

أدي إلي التطور في موارد بيت مال المسلمين الذي أسهم في دعم الكثير من المشاريع الإسلامية

س : **عرف الزكاة** : هي ركن من أركان الإسلام يخرجها المسلمون الأغنياء للمستحقين من الفقراء

س : **محلل** : تسميه الزكاة بهذا الاسم ؟ سميت الزكاة لما فيها من تزكيه النفس وتطهيرها

س : **عرف الخراج** ؟ هي ضريبة الأرض الزراعية التي تخرج مبلغاً معيناً من ناتج المحصول الزراعي

س : **وضح أهمية الخراج**

﴿ أهم الموارد في العصور الوسطى

﴿ يستعان بها في حماية الدول في الحضارة الإسلامية ومنح العطاء للجند

س : **عرف الجزية**

الجزية هي مبلغ مالي يدفعه الرجال غير المسلمين من أهل الذمة ممن هم قادرين على حمل السلاح

نظير حماية الدولة لهم

س : **عرف الوقف الاسلامي**

هو عبارة عن صدقه جارية يوقفها المرء في صياحه لوجود الخير والبر ويكون أجرها ونفعها مادامت

باقية ويستمر الأجر من بعد وفاته

س : **أذكر أمثله على الوقوف الاسلامي**

توقف لسد حاجات الفقراء والمساكين والمرضى ونشر العلم النافع وبناء المدارس ودور الأيتام

س : ما هي مميزات المظاهر العمرانية في الحضارة الإسلامية **مهم**

الأسوار **القباب** **المآذن** **المنابر** **الزخارف**

س : **عرف الفيسفاء**

هي مجموعة من مكعبات الزجاج الملون والشفاف وقطع من الحجر الأبيض والأسود تثبت فوق طبقة

من الأسمنت بشكل منظم

س : **أذكر أمثلة على الفيسفاء في المساجد**

واضحة بمسجد قبة الصخرة والجامع الاموي والقصور



س : **محلل** : أهمية المساجد في الإسلام

تقام فيها الصلوات وخطبة الجمعة والتعليم الديني

س : **أين يقع المسجد الكبير في دولة الكويت ومتى تم أنشائه وفي عهد من**

✓ يقع في قلب العاصمة مقابل قصر السيف - تم افتتاحه عام 1986م

✓ في عهد الشيخ **جابر الأحمد الصباح** وقد صمم وفق الطراز الأندلسي الإسلامي





س: عدد أشهر المساجد التاريخية في العالم الإسلامي **مهم**

(١) الكعبة المشرفة في مكة المكرمة (٢) المسجد النبوي في المدينة المنورة
(٣) المسجد الأقصى في فلسطين

الأندلس	تونس	فلسطين	القاهرة	دمشق
جامع قرطبة	جامع الزيتونة	المسجد الأقصى	جامع الأزهر	المسجد الأموي

س: أذكر بعض المساجد الأخرى

✚ المسجد الأموي بدمشق : « جامع عمرو بن العاص في الفسطاط
✚ الجامع الأزهر في القاهرة : « جامعة الزيتونة في تونس
« مسجد السلطان احمد في اسطنبول

س: عرف القصور

هي مقر الحاكم والمكان الذي يضم المؤسسات الإدارية كالوزارة والدواوين

س: **حلل** : بناء الخلفاء للقصور كنموذج للعمارة الإسلامية **مهم**

« كانت مقرا للحكم
« مكان يضم المؤسسات الإدارية والدواوين والوزارات
« أحيانا تكون صحراوية لتنزه الخلفاء

س: اذكر نماذج على القصور بالحضارة الإسلامية

القصر	الدولة	بناه
قصر الخضراء	دمشق	معاوية بن أبي سفيان
قصر عمرة	الأردن	يزيد بن معاوية
قصر الرصافة	سوريا	هشام بن عبد الملك
قصر الحمراء	غرناطة (أسبانيا)	

س: أكتب مميزات قصر الحمراء

يعتبر نموذجا مميذا للعمارة الإسلامية ويقع في مدينة غرناطة بالأندلس

س: عدد أهم الفئات الاجتماعية في عهد الدولة الإسلامية

الحكام رجال الدين التجار الخدم أهل الذمة

س: عرف أهل الذمة : هم النصارى واليهود الذين ظلوا على دينهم مع دفع الجزية

س: أذكر أبرز المظاهر الاجتماعية

■ إحتفال بالأعياد مثل عيد الفطر والأضحى في كافة البلاد الإسلامية
■ تميز المجتمع الإسلامي بسماع القصص والحكايات

س: عدد العوامل التي أدت إلى ازدهار العلم وظهور العلماء **مهم**

(١) تشجيع العلماء وتمويل القيادات السياسية لهم
(٢) التنافس العلمي بين الدول الإسلامية



٣) حركة التعريب (الترجمة) للكتب القديمة اليونانية والهندية والفارسية (٤) الرخاء الإقتصادي

س: أذكر أهم المراكز العلمية في الحضارة الإسلامية مهم

- المسجد الحرام في مكة المكرمة : « بيت الحكمة في بغداد : « المرصد الفلكي في أذربيجان
- مجمع باي كاليان في مدينة بخارى في أوزباكستان : « المسجد النبوي في المدينة المنورة

س: أكتب عن أهم أعمال الجاحظ وانجازاته العلمية مهم

• ألف ٣٥٠ كتابا أهمها كتاب الحيوان

• كان يراقب سلوك الحيوان ويدرس أعضاؤه الداخلية - كان يميل في كتاباته إلى تسليية القارئ

الخوارزمي	الرازي	الجاحظ	البيروني	
إشتهر بمجال الجبر (كتاب الجبر والمقابلة)	إشتهر بمجال الطب (كتاب الحاوي في الطب)	٣٥٠ كتاب كتاب الحيوان	١٨٠ كتاب الصيدلة في الطب	عدد المؤلفات أهم الكتب

س: إختتر من المجموعة (أ) ما يناسبها من المجموعة (ب)

الجاحظ	الرقم	العلماء	
الصيدلة في الطب	-----	الكندي	١
الجبر والمقابلة	٥	الجاحظ	٢
نزهة المشتاق في إختراق الأفاق	٤	الرازي	٣
الهندسة	١	الإدريسي	٤
الحيوان	٢	الخوارزمي	٥
الحاوي في الطب	٣		٦

س: من مؤلف كتاب نزهة المشتاق في إختراق الأفاق (الشريف الإدريسي)

س: ماهو أثر ترجمة كتاب نزهة المشتاق على الجغرافيين الأوروبيين مهم

↔ غامر بعضهم وركب المحيط واتجه نحو الغرب

↔ إكتشاف أن الأرض كروية : « إكتشاف الأمريكتين

س: حدد مراكز إشعاع الحضارة الإسلامية إلى أوروبا مهم

«: بلاد الأندلس (أسبانيا والبرتغال) «: صقلية (إيطاليا)

«: بلاد الشام (سوريا : لبنان : الأردن : فلسطين)

س: أكتب عن الفيلسوف الكندي في مجال الفلسفة

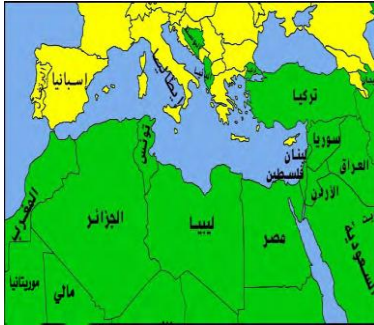
نسبه إلى قبيلة كندة اليمنية

أهم مؤلفاته الهندسة الذي أترفي العالم الانجليزي روجر بيكون في القرن السابع الهجري

س: أكتب عن العالم الشريف الإدريسي في مجال الجغرافيا

إشتغل بتأليف الجغرافيا وألف كتابه المشهور (نزهة المشتاق في إختراق الأفاق) الذي أعجب

به الأوروبيون وترجموا هذا الكتاب إلى لغاتهم





○ كان الإدريسي يؤمن بكروية الأرض ورسم خريطة تمثلها في الوقت

الذي كان الأوروبيون يظنون أن الأرض مسطحة

س: **حلل**: تدين أوروبا بالفضل الكبير للحضارة الإسلامية **مهم**

لأن الحضارة الإسلامية كانت السبب في النهضة الصناعية والعلمية الأوروبية الحديثة

س: **دلل على صحة العبارة**

(إستفاد الأوروبيون من طريقة المسلمين في نقل الرسائل جوا عن طريق الحمام الزاجل)

حيث تحمل الحمامة رسالة موجزة ومستعجلة - كان يقام لها أبراج خاصة في جميع أنحاء الدولة إذا نزلت الحمامة في مركز من هذه المراكز نقلت الرسالة بجناحها إلى حمامة أخرى حتى يصل البريد إلى مرحلته النهائية

س: **وضح كيف إستفاد الأوروبيون في مجال إستخراج المياه الجوفية**

إستفادت الحضارة الأوروبية من شبكة المياه الجوفية التي أقامها المسلمون والتي يتم بواسطتها توفير مياه الشرب لأهل المدن عن طريق إستخراجها من باطن الأرض حيث برع المسلمون في شق القنوات ومد المجارى الجوفية تحت الأرض

س: **أذكر أمثلة على المجارى الجوفية**: في مدينة مجريط (مدريد حاليا عاصمة اسبانيا)

س: **حلل**: للحضارة الإسلامية دور في نهضة الحضارة الأوروبية **مهم**

تدين أوروبا بالفضل الكبير للحضارة الإسلامية حيث كانت سببا في النهضة الصناعية والعلمية الأوروبية مثل مجال الفلسفة ومجال الجغرافيا ومجال إستخراج المياه الجوفية

س: **أكتب عن موقع العالم الإسلامي (أهميته)** **مهم**

يشغل العالم الإسلامي موقعا جغرافيا مهما على خريطة العالم

✦ تتواجد دول العالم الإسلامي ضمن أربع قارات

✦ يمتد في القارات القديمة (آسيا - أفريقيا - أوروبا) بالإضافة إلى أمريكا الشمالية

س: **دلل على صحة العبارة**: يشغل العالم الإسلامي موقعا جغرافيا مهما على خريطة العالم

حيث تتواجد دول العالم الإسلامي ضمن 4 قارات - ويمتد في القارات القديمة (أفريقيا - آسيا - أوروبا)

بالإضافة إلى أمريكا الجنوبية وبذلك يتصل بالعالم بسهولة

س: **أذكر الدول الإسلامية في قارة أوروبا** **البانيا والبوسنة والهرسك**

س: **أذكر أهم التضاريس في العالم الإسلامي**

الجبال **الهضاب** **السهول**

س: **عرف الجبل**: هو كل قمة لا يقل إرتفاعها عن 1000 م تقريبا

س: **حلل**: تسمية مرتفعات الحجاز بهذا الإسم **مهم**

لأنها تحجز سهل تهامة في الغرب عن هضبة نجد في الشرق

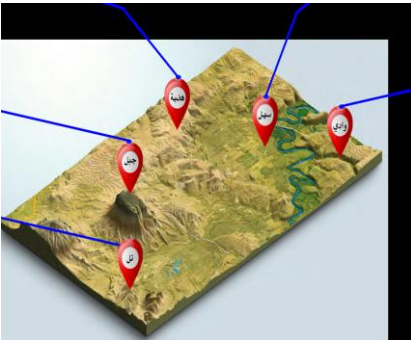
س: **حلل**: قلة عدد السكان في المناطق الجبلية في دول العالم الإسلامي **مهم**

(1) بسبب إنخفاض الضغط الجوي

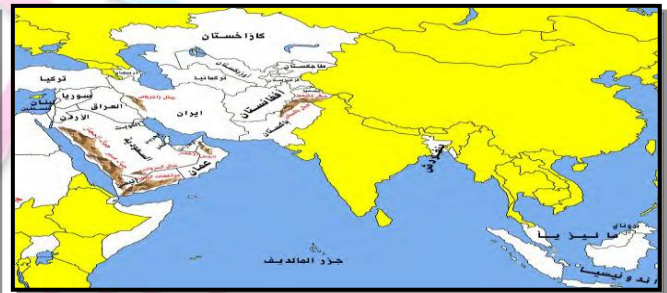
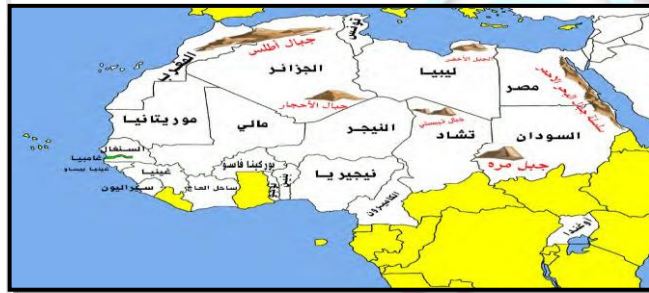
(3) صعوبة التنقل

(2) ندرة المياه

(4) قلة وجود الأكسجين

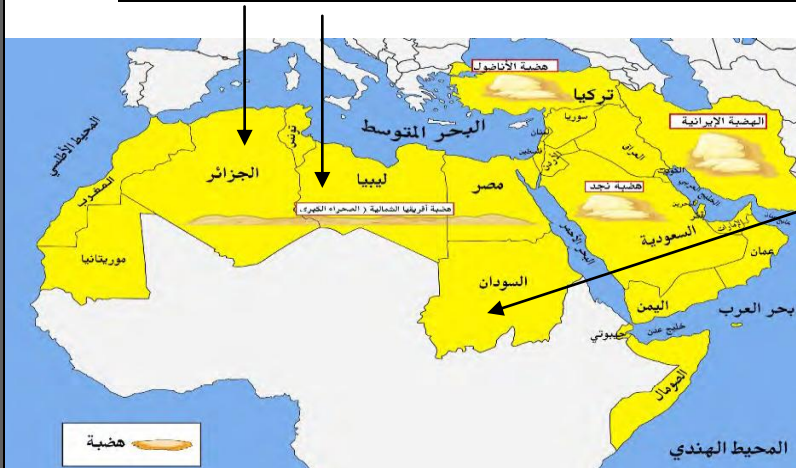


أمريكا الجنوبية	أوروبا	آسيا	أفريقيا
جبل جوليا ناتوب (سورينام)	جبال الألب الدينارية البانيا والبوسنة الهرسك	جبال البحر الأحمر مصر	جبال زاغروس إيران
		جبال تبستي تشاد	جبال الحجاز وعسير السعودية
		جبل مرة السودان	جبال اليمن
		الجبل الأخضر ليبيا	الجبل الأخضر سلطنة عمان
		جبال أطلس الجزائر والمغرب	جبل باكستان - جبال كشمير
		جبال الأحجار الجزائر	



س: عرف الهضبة: أرض مرتفعة سطحها مستو وتمتد في مساحة واسعة

هضاب افريقيا	هضاب قارة آسيا
هضبة الصحراء الكبرى (مصر - ليبيا - الجزائر)	الهضبة الإيرانية (إيران)
	هضبة نجد (السعودية)
	هضبة الأناضول (تركيا)



➤ هضبة الصحراء الكبرى
أكبر الهضاب في العالم
تمتد من المحيط الأطلسي غربا
إلى مرتفعات البحر الأحمر شرقا
س: عرف السهول
أجزاء فسيحة من سطح الأرض تتميز
بإستوائها وقلة إرتفاعها

س: عدد أهمية السهول مهم

(١) تستخدم كموانئ طبيعية

(٢) يتركز بها السكان لسهولة التنقل

هضاب افريقيا

سهول ساحلية

سهل نهر النيل - سهل نهر دجلة

سهول المحيط الأطلسي

سهل نهر جوبا - سهل نهر الأردن

سهول المحيط الهندي



⊖ سهل برقان : يمتد من جوف الكويت باتجاه الجنوب

⊖ سهل الروضتين : ينحدر نحو الشرق والشمال الشرقي

هضبة الأحمدى

تمتد في اتجاه شمالي جنوبي لمسافة ٣٠ كم ويصل إرتفاعها حوالى

١٣٧ كم فوق سطح البحر

س: عرف التل

يشبه الجبل لكن إرتفاعه يكون اقل من ١٠٠٠ م

التلال في الشمال

تلال جال الزور / تلال كراع المر / تلال اللياح

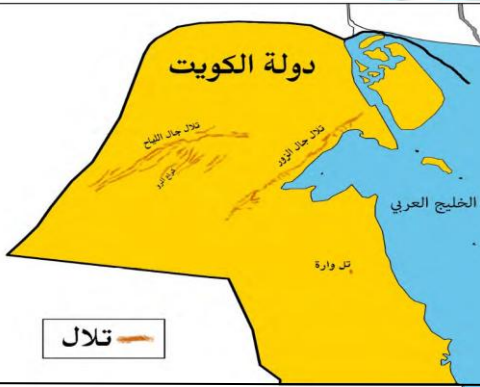
التلال في الجنوب

تلال وارة / تلال القرين / تلال برقان

س: صنف أشكال سطح الأرض في دول العالم الإسلامي طبقا للجدول

نجد - نهر النيل - أطلس مرة - الروضتين

الصحراء الكبرى - دجلة



السهول

الهضاب

الجبال

نهر النيل - دجلة - الروضتين

الصحراء الكبرى - نجد

أطلس - مرة

س: قارن بين كلامن مهم

الإقليم المناخي

الطقس

المناخ

هو مساحة من الأرض تتصف بعناصر مناخية متشابهة

هو حالة الجو خلال فترة زمنية قصيرة

هي حالة الجو خلال فترة زمنية طويلة

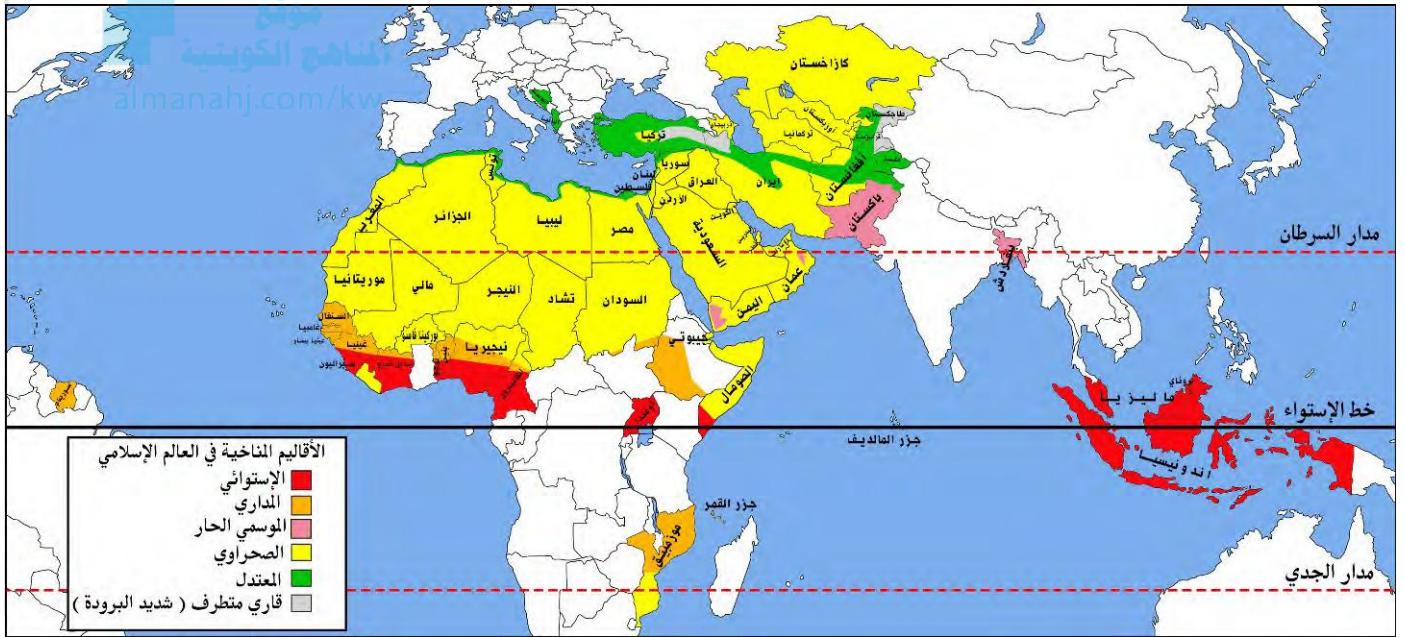
س: ماهى عناصر الطقس مهم

(١) الأمطار (٢) درجة الحرارة (٣) الرطوبة (٤) الضغط الجوى

س: عرف الإقليم المناخي مهم

هو مساحة من الأرض تتصف بعناصر مناخية متشابهة

توزيعه بالدول	مميزاته	الإقليم
ماليزيا - أندونيسيا - الصومال دول غرب أفريقيا	حار ممطر طوال العام	إقليم المناخ الإستوائي
بنغلاديش - باكستان - سلطنة عمان - اليمن	حار ممطر صيفا	إقليم المناخ الموسمي
السنغال - غينيا بنين - نيجيريا - موزمبيق	ممطر صيفا	إقليم المناخ المداري
البنايا - اليوسنة والهرسك - تركيا - كشمير	دافئ ممطر شتاء	إقليم المناخ المعتدل
الكويت الخليج - كازاخستان - مصر - ليبيا الجزائر - تشاد	حار	إقليم المناخ القاري الصحراوي



○ الإقليم المناخي التي تقع معظم أراضي دولة الكويت يسمى **الإقليم الصحراوي**

○ أكبر الأقاليم المناخية إنتشارا في دول العالم الإسلامي يسمى **الإقليم الصحراوي**

س: **حلل**: تنوع المناخ في دول العالم الإسلامي **مهم جدا**

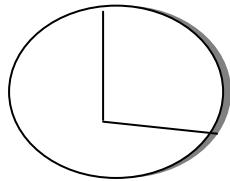
(١) بسبب إمتداد العالم الإسلامي على مساحة شاسعة (٤) بسبب تنوع التضاريس

(٢) بسبب الموقع بالنسبة لدوائر العرض

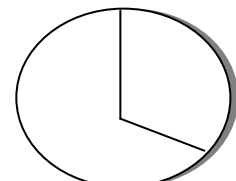
(٣) لأن العالم الإسلامي يطل على العديد من المسطحات المائية

س: **حول نسبة إنتاج النفط والغاز الطبيعي في دول العالم الإسلامي**

مقارنة مع الإنتاج العالمي على شكل دائرة بيانية



إنتاج الغاز الطبيعي ٣٦%



إنتاج النفط ٤١,٥%

س: ما الفرق بين

احتياطي النفط	انتاج النفط
هو كمية النفط المخزونة في باطن الأرض ولم يستخرج بعد	هو كميات النفط التي يتم إستخراجها من باطن الأرض للاستفادة منها

س: أذكر بعض من الثروات الطبيعية

○ اليورانيوم : الذهب : الفضة : النحاس

○ النحاس : القصدير : الفوسفات : الحديد

س: أذكر العوامل التي تساعد على الإنتاج الزراعي مهم جدا

(١) التربة الخصبة (٢) المناخ

(٣) سقوط الأمطار (٤) وجود البحيرات والأنهار والآبار

س: هل كمية الحبوب تكفي العالم الإسلامي

لا يمتلك العالم الإسلامي غذاءه وليس لديه إكتفاء ذاتي

س: أذكر أهم الحبوب الغذائية في الوطن العرب القمح الذرة الأرز

س: لعل: تركز زراعة الأرز في ماليزيا وباكستان واندوسيا: لتوفر المياه والمناخ المناسب

س: عرف الغلات النقدية

هي المحاصيل التي تزرع من أجل التصدير مثل القطن والحبوب والمطاط الطبيعي

س: عرف الجوت

هو نبات ينمو في المناطق الإستوائية والموسمية وتؤخذ أغضانه وتوضع تحت الماء

وتطمر بالطين وبعد أيام تستخرج وتغزل ويصنع منها الحبال والأحذية والحقائب

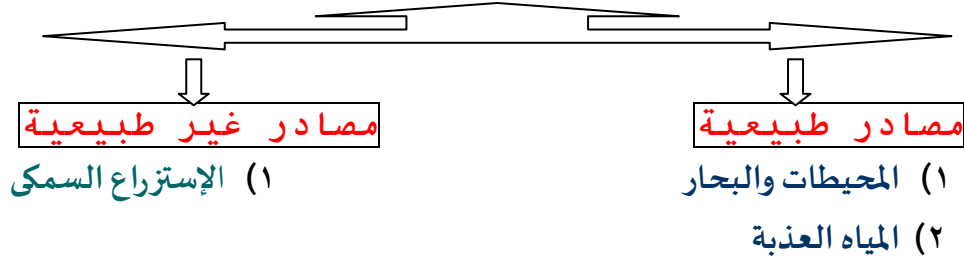


فواكه وثمار	غلات نقدية
العنب - التمر - الموز	قصب السكر - القطن - الجوت

س: أذكر أمثلة على الفواكه والثمار: العنب - الموز - التمر

س: أذكر أمثلة على الغلات النقدية: قصب السكر - المطاط الطبيعي - القطن

س: إرسم مخطط سهى يوضح أهم مصادر إنتاج الأسماك مهم



س: أكتب أسماء الدول الإسلامية التي تطل على أكثر من مسطح مائي

السعودية عمان الإمارات اندونيسيا المغرب تونس



س: **وضح أهمية الأسماك مهم**

- ✦ مصدر رئيسي للغذاء
- ✦ مصدر للدخل القومي

س: **لاحظ الجدول الذي أمامك ثم أجب عن التالي**

* **إستخرج حقيقة من الجدول**

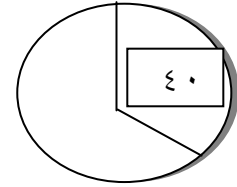
لليورانيوم أهمية إقتصادية كبيرة

* **ما إسم أقل دولة منتجة لليورانيوم**

باكستان

* **حول نسبة إنتاج كازاخستان من اليورانيوم**

إلى دائرة بيانية



الدولة	نسبة إنتاج اليورانيوم عام ٢٠١٤م
كازاخستان	٤٠%
أوزباكستان	٤,٣%
النيجر	٧,٢%
باكستان	٠,١%


Ahmed Hdara
 Philosophy & psychology



تعريفات

العلوم العقلية	العلوم النقلية	البيمارستانات
هي التي تعتمد على العقل مثل الرياضيات والفيزياء والكيمياء والفلسفة	هي التي تعتمد على النقل مثل علوم الدين من حديث وفقه وتفسير وتاريخ	تعنى دار المرض أو المستشفى ومراكز الصيدلة والتحاليل وصناعة الأدوية

الجزية	الوقف الاسلامي
الجزية هي مبلغ مالى يدفعه الرجال غير المسلمين من أهل الذمة ممن هم قادرين على حمل السلاح نظير حماية الدولة لهم	هو عبارة عن صدقه جاريه يوقفها المرء في صيامه لوجود الخير والبر ويكون أجرها ونفعها مادامت باقية ويستمر الأجر من بعد وفاته

الوقف	القصور	أهل الذمة
هي مجموعة من مكعبات الزجاج الملون والشفاف وقطع من الحجر الأبيض والأسود تثبت فوق طبقة من الأسمنت بشكل منظم	هي مقر الحاكم والمكان الذى يضم المؤسسات الإدارية كالوزارة والدواوين	هم النصارى واليهود الذين ظلوا على دينهم مع دفع الجزية

الهضبة	السهول	التل
أرض مرتفعة سطحها مستو وتمتد في مساحة واسعة	أجزاء فسيحة من سطح الأرض تميز باستوائها وقلة ارتفاعها	يشبه الجبل لكن إرتفاعه يكون أقل من ١٠٠٠ م

المناخ	الطقس	الإقليم المناخي
هي حالة الجو خلال فترة زمنية طويلة	هو حالة الجو خلال فترة زمنية قصيرة	هو مساحة من الأرض تتصف بعناصر مناخية متشابهة

إنتاج النفط	إحتياطي النفط
هو كميات النفط التي يتم إستخراجها من باطن الأرض للإستفادة منها	هو كمية النفط المخزونة في باطن الأرض ولم يستخرج بعد

مكتبات أحمد هدار

الجوت

هونبات ينمو في المناطق الاستوائية والموسمية وتؤخذ أعضانه
وتوضع تحت الماء
وتطمر بالطين وبعد أيام تستخرج وتغزل ويصنع منها الحبال
والأحذية والحقائب

الغلات النقدية

هي المحاصيل التي تزرع من أجل
التصدير مثل القطن والحبوب
والمطاط الطبيعي

س: لاحظ خريطة العالم الإسلامي الصماء التي أمامك ثم نفذ المطلوب



(١) مقر قيام الدولة الإسلامية في عهد الرسول ﷺ يمثله على الخريطة الرقم ٢

(٢) تعتبر بلاد الأندلس مركز إشعاع الحضارة الإسلامية إلى أوروبا يمثله على الخريطة الرقم ٤

(٣) يحد بلاد المغرب من جهة المغرب مسطح مائي يمثله على الخريطة الرقم ٣

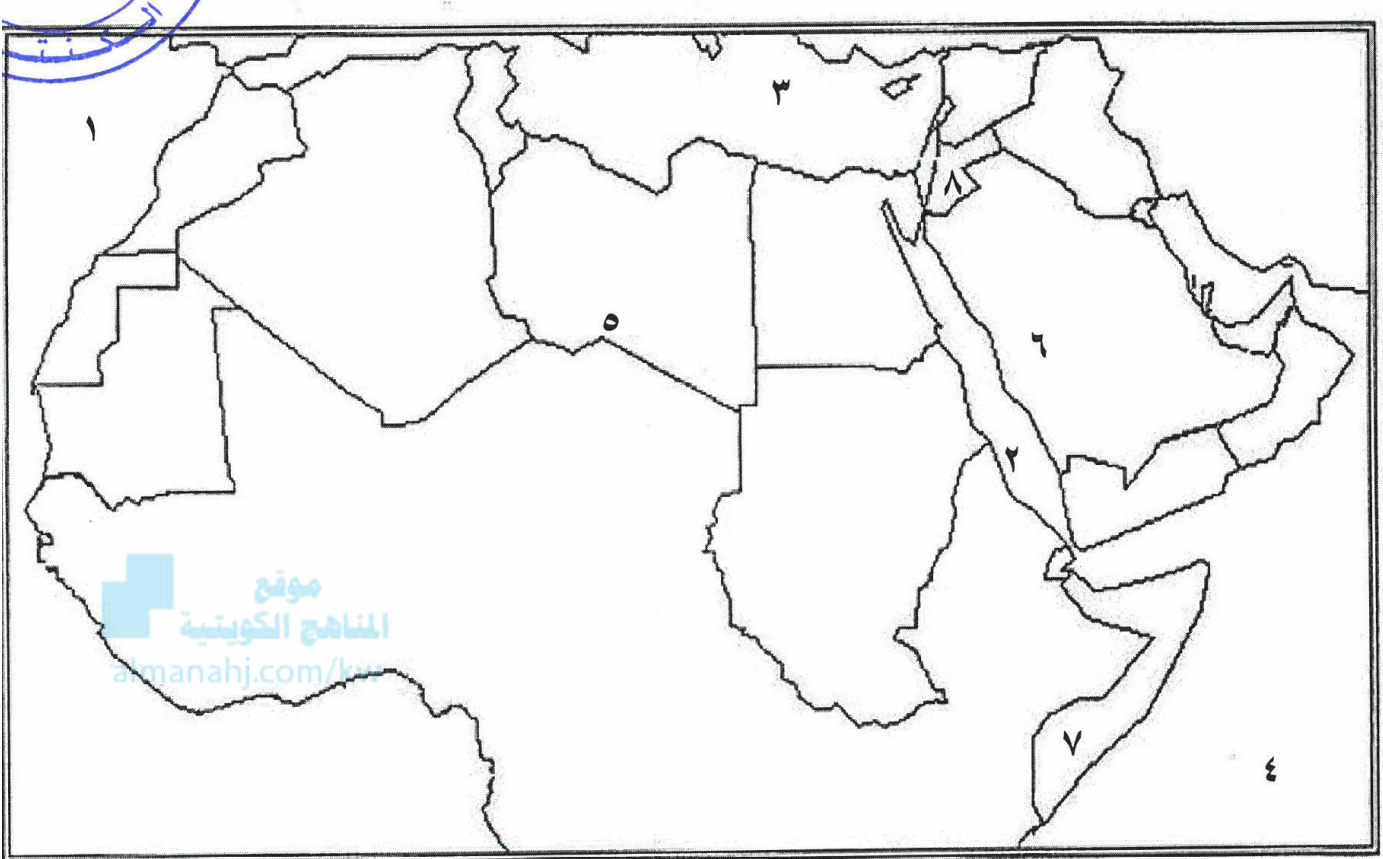
(٤) الأمبراطورية الفارسية يمثله على الخريطة الرقم ١

(٥) دولة أسبوية تحتل المركز الثاني على مستوى العالم في الإنتاج البحري عام ٢٠١٤ م يمثله

الخريطة الرقم ٧

مكتبات أحمد هدارة

س: لاحظ خريطة الوطن العربي التي أمامك ثم أجب عما يلي



- ⊖ تقع جبال الحجاز في دولة عربية تحمل على الخريطة الرقم ٦
- ⊖ الدولة العربية التي يمر عليها خط الإستواء تحمل على الخريطة الرقم ٧
- ⊖ يحد بلاد المغرب من جهة الغرب مسطح مائي يحمل الرقم ١
- ⊖ البحر المتوسط على الخريطة يحمل الرقم ٣
- ⊖ هضبة الصحراء الكبرى على الخريطة يحمل الرقم ٥
- ⊖ تعتبر بلاد الشام مركز إشعاع الحضارة الإسلامية إلى أوروبا وتحمل على الخريطة الرقم ٨

مذكرات أحمد حدارة

(أجب على جميع الأسئلة)

السؤال الأول: موضوعي ويتكون من (أ - ب) : لكل نقطة درجة واحدة فقط

أ (ظلل الخيار الصحيح من بين البدائل التي تلي كل عبارة :

١ - المنصب الإداري الذي استحدثه الخليفة عمر بن الخطاب منصب : ص ٢٥

الحاجب	المحتسب	الوالي	الوزير
--------	---------	--------	--------

٢- قام المسلمون ببناء جامع عمرو بن العاص في مدينة : ص ٣٣

اسطنبول	دومة الجندل	القسطاظ	دمشق
---------	-------------	---------	------

٣- أولى دول العالم الإسلامي في إنتاج معدن اليورانيوم : ص ٧٠

السعودية	باكستان	النيجر	كازاخستان
----------	---------	--------	-----------

٤- القرن الميلادي الذي امتدت به الحضارة الإسلامية عبر قارات العالم القديم : ص ١٧

الثامن	السابع	السادس	الخامس
--------	--------	--------	--------

٥- لقب الشيخ صباح الأحمد الجابر الصباح من قبل الأمم المتحدة بقائد العمل الإنساني في عام : ص ٢٤

٢٠١١ م	٢٠١٢ م	٢٠١٣ م	٢٠١٤ م
--------	--------	--------	--------

ب (أكمل العبارات التالية بما يناسبها فيما درست :

١. يبلغ إنتاج العالم الإسلامي من الحبوب ----- ١٤ % ----- ص ٧٢

٢. محاصيل تزرع من أجل التصدير تسمى ----- الغلات النقدية ----- ص ٧٣

٣. الخليفة العباسي الذي شجع على العلم و حركة الترجمة هو --- المأمون --- ص ٣٧

٤. اشتهرت الصناعات الخشبية في الدولة الإسلامية باسم ----- الأرابيسك / Arabisk ----- ص ٢٧

٥. استفاد الأوروبيون من طريقة المسلمين في نقل الرسائل جواً عن طريق --- الحمام الزاجل --- ص ٤٣

(اختر من المجموعة (أ) ما يناسبها من المجموعة (ب) بكتابة الرقم المناسب :

م	أسماء العلماء	الرقم	أشهر مؤلفاتهم
١	الكندي ص ٤٢	--	الصيدلة في الطب
٢	الجاحظ ص ٤٠	٥	الجبر و المقابلة
٣	الرازي ص ٤٠	٤	نزهة المشتاق في اختراق الأفاق
٤	الإدريسي ص ٤٢	١	الهندسة
٥	الخوارزمي ص ٣٩	٢	الحيوان
٦		٣	الحاوي في الطب

١ / اختر من المجموعة (أ) ما يناسبها من المجموعة (ب) بكتابة الرقم المناسب : ص ٣٣

م	المجموعة (أ)	الرقم	المجموعة (ب)
١	المسجد النبوي	٣	إسطنبول
٢	المسجد الأقصى	٥	القاهرة
٣	مسجد السلطان احمد	٤	تونس
٤	جامع الزيتونة	١	المدينة المنورة
٥	جامع الأزهر	٦	دمشق
٦	المسجد الأموي	----	الكويت
		٢	القدس

مع تمنياتنا لكم بالنجاح والتوفيق

مدرسة أم محمد

السؤال الأول و يتكون من (أ - ب - ج - د - هـ) : ($30 = 1 \times 30$ درجة)

أ) أكمل العبارات التالية بما يناسبها مما درست : ($6 = 1 \times 6$ درجات)

١- الصورة المقابلة لإحدى أنواع الصناعات الخشبية في الدولة الإسلامية تسمى الأرابيسك ص ٢٧

٢- مجموعة من مكعبات الزجاج الملون والشفاف وقطع من الحجر الأبيض والأسود تثبت فوق طبقة من الجص أو الإسمنت بشكل منظم لتعطي منظراً جميلاً يسمى الفسيفساء.
ص ٣٠

٣- الخليفة الذي اجتمع المسلمون على اختياره كأول حاكم للمسلمين بعد وفاة الرسول- ص- اسمه أبو بكر الصديق ص ٢٥

٤- انشأ ديوان الماء في مدينة تسمى مرو

٥- الصدقة التي يوقفها المرء في حياته لوجه الخير ، ويكون أجرها ونفعها حتى بعد وفاته يسمى الوقف الإسلامي ص ٢٩

٦- ضريبة الأرض الزراعية التي تخرج مبلغاً معيناً من ناتج المحصول الزراعي يسمى الخراج ص ٢٨

ب) صوب ما تحته خط في العبارات التالية : ($6 = 1 \times 6$ درجات)

التصويب	العبارة
المسجد الأقصى	١- المسجد الذي يعد أكبر مساجد العالم ، وأول القبلتين يسمى <u>المسجد النبوي</u> . ص ٣٣
١٤%	٢- يبلغ نسبة إنتاج العالم الإسلامي من الحبوب حوالي <u>٢٠%</u> . ص ٧٢
إسبانيا	٣- مجريط هي مدريد الحالية عاصمة <u>إيطاليا</u> . ص ٤٣
إندونيسيا	٤- الدولة الإسلامية التي احتلت المركز الثاني على مستوى العالم في الإنتاج البحري عام <u>٢٠١٤ م ماليزيا</u> . ص ٧٤
المالديف	٥- أصغر دول العالم الإسلامي مساحة جمهورية <u>اوزباكستان</u> . ص ٥٢
٢٧ دولة	٦- عدد الدول الإسلامية في قارة آسيا <u>٢٦ دولة</u> . ص ٥١

تابع إجابة امتحان نهاية الفترة الدراسية الأولى / لمقرر دولة الكويت والعالم الإسلامي / الصف الثامن المتوسط – العام الدراسي ٢٠٢١ / ٢٠٢٢
تابع السؤال الأول :

ج) ضع خطأً تحت الخيار الصحيح الذي يلي كل عبارة : (٦ × ١ = ٦ درجات)

١ - حاكم دولة الكويت الذي لقب بقائد العمل الإنساني : ص ٢٤

عبدالله السالم	صباح السالم	صباح الأحمد	جابر الأحمد
----------------	-------------	-------------	-------------

٢ - الدولة الإسلامية الوحيدة في قارة أمريكا الجنوبية . ص ٥١

سورينام	البوسنة والهرسك	ألبانيا	جزر القمر
---------	-----------------	---------	-----------

٣ - العالم المسلم الذي ألف كتاب (الحيوان) : ص ٤٠

الرازي	الجاحظ	البكري	الخوارزمي
--------	--------	--------	-----------

٤ - يقع المسجد الأموي في مدينة : ص ٣٣

القاهرة	الرياض	تونس	دمشق
---------	--------	------	------

٥ - المحاصيل التي تزرع من أجل التصدير : ص ٧٣

موارد معدنية	موارد صناعية	الغلات النقدية	فواكه وثمار
--------------	--------------	----------------	-------------

٦- المنصب الإداري الجديد الذي تم استحداثه في عهد الخليفة عمر بن الخطاب - رضي الله عنه - : ص ٢٥

الوزير	القاضي	المحتسب	الحاجب
--------	--------	---------	--------

د) ظلل الحرف (أ) إذا كانت العبارة صحيحة وظلل (ب) إذا كانت العبارة خاطئة: (٦ × ١ = ٦ درجات)

م	العبارات	(أ)	(ب)
١	يعتبر يوم ٢٥ فبراير من كل عام يوم الاحتفال باللغة العربية . ص ٢١	أ	ب
٢	المساجد تقام فيها الصلوات وخطبة الجمعة والتعليم الديني . ص ٣٢	أ	ب
٣	استخدم المسلمون قديماً الحمام الزاجل في نقل الرسائل . ص ٤٣	أ	ب
٤	يبلغ نسبة إنتاج العالم الإسلامي من النفط الخام ٢٠٪. ص ٦٧	أ	ب
٥	مراكز الإشعاع الحضاري تتمثل في بلاد الشام والأندلس وجزيرة صقلية . ص ٤١	أ	ب
٦	محطة الشجي (الشقايا حالياً) كانت استراحة قوافل الحجاج في العصر الإسلامي . ص ٢٨	أ	ب

