

نموذج الإجابة

اجب عن جميع الأسئلة التالية

السؤال الأول : يتكون من (أ - ب - ج)

(أ) اختر البديل المناسب من بين البدائل التي تلي كل عبارة: ($5 = 5 \times 1$)

- 1- الاستعمار الذي سيطر على الهند لمدة ثلاثة قرون متتالية : ص88
(البرتغالي - الهولندي - الانجليزي - الفرنسي)
- 2- الحاكم الذي في عهده أصبح الحكم وراثيا في ذريته : ص104
(صباح بن جابر - مبارك بن صباح - عبدالله بن صباح - جابر بن عبدالله)
- 3- القرن الذي بلغت فيه حركة الاستعمار الأوروبي ذروتها : ص115
(السادس عشر - السابع عشر - الثامن عشر - التاسع عشر)
- 4- العام الذي اخترعت فيه الكتابة: ص115
(6000 ق.م - 5000 ق.م - 4000 ق.م - 3000 ق.م)
- 5- المدينة التي اغتيل فيها ولي عهد النمسا سنة 1914 , هي : ص117
(كييف - سراييفو - نيويورك - فيينا)

(ب) اكتب المفاهيم او المصطلحات الدالة على العبارات التالية : ($5 = 5 \times 1$)

المفهوم	العبارة
1-الاتحاد الفيدرالي	اتحاد مجموعة من الدول بمقتضى دستور في شكل اتحاد دائم لتسوده حكومة مركزية تمارس سلطتها بطريق مباشر على الولايات . ص 88
2-عصبة الأمم	منظمة دولية أسستها الدول المنتصرة في الحرب العالمية الأولى لحفظ السلام و الأمن العالميين سنة 1919م . ص127
3- الاحتباس الحراري	هو ارتفاع درجات حرارة الأرض عن معدلها الطبيعي . ص133
4- الايدز	مرض نقص المناعة المكتسبة . ص150
5-المنظمة الإقليمية	مجموعة من الدول تقع في منطقة جغرافية معينة من العالم تنشأ بينها علاقات تدعو إلى تكوين منظمة للتعاون فيما بينها في سبيل حل مشاكلها . ص143

(ج) صنف المظاهر التضاريسية التالية حسب القارات التي تقع فيها بالجدول التالي : ($5 = 5 \times 1$)

(هضبة التبت - الصحراء الكبرى - سهل اللانوس - جبال الابلاش - سهول سيبيريا) ص79-81

أمريكا الشمالية	آسيا	إفريقيا	أمريكا الجنوبية
جبال الابلاش	هضبة التبت سهول سيبيريا	الصحراء الكبرى	سهل اللانوس

السؤال الثاني : يتكون من (أ- ب - ج)

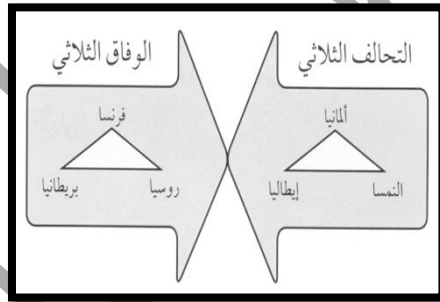
(أ) أكمل العبارات التالية بما يناسبها: ($6 = 6 \times 1$)

- 1- المنظمة الدولية التي أنشأت أعقاب الحرب العالمية الأولى لحفظ السلام و الأمن بين الدول تسمى عصبة الأمم.....ص126
- 2- الملاح الذي اثبت كروية الأرض يسمىماجلان ص116
- 3- الجهاز الرئيسي لهيئة الأمم المتحدة يسمى الجمعية العامة ص128
- 4- تعتمد المجتمعات المتقدمة على مصادر الطاقة المختلفة يسمى مصادر .. الوقود الحفري..ص130
- 5- العام الذي عقد فيه مؤتمر مجموعة الثمانية هو.....2005م ص135
- 6- يقع مقر محكمة العدل الدولية في مدينة تسمىلاهايص128

(ب) أكمل المخططات السهمية التالية: ($5 = 5 \times 1$)




(ج) أكتب العنوان المناسب للصور التالية : ($4 = 4 \times 1$)




التحالفات الدولية ص115



اكتشاف النار ص95



الآليات العسكرية التي استخدمت في الحرب العالمية الأولى ص119



القنبلة الذرية على مدينة هيروشيما اليابانية ص125

السؤال الثالث : يتكون من (أ- ب - ج) :

(أ) عرف ما يلي: (4 = 4×1)

- 1- الاتصال : هي عملية تبادل المعلومات بين الأفراد من خلال الرموز و السلوك المنقول بواسطة الرسائل الشفهية . ص 95
- 2- الضرائب: مبلغ من المال يدفعه الأفراد للدولة ليتمكنها من القيام بواجباتها . ص 107
- 3- الحركة الإنسانية : اهتمام المفكرين على دراسة الإنسان بمعزل عن كل ما يحيط به من أفكار و معتقدات . ص 115
- 4- طبقة الأوزون : هي طبقة في الغلاف الجوي تقوم بوظيفة امتصاص الأشعة الشمسية فوق البنفسجية بحيث لا يصل منها إلى الأرض سوى كميات قليلة تفيد الكائنات الحية و لا تؤذيها . ص 133

(ب) فرق بين كلا مما يلي: (6 = 3×2)

الدخل القومي	الدخل الفردي ص 108
دخل الدولة خلال عام من مختلف المصادر. (درجة)	نصيب الفرد من الدخل القومي (درجة)
تعريف منظمة الاوبك	تعريف منظمة الاوبك ص 132
منظمة الأقطار المصدرة للنفط . (درجة)	منظمة الأقطار العربية المصدرة للنفط . (درجة)
الصادرات	الواردات ص 88
السلع و الخدمات التي تباع للبلاد الأجنبية . (درجة)	السلع و الخدمات التي يشتريها البلد من العالم الخارجي (درجة)

(ج) اكتب ما تعرفه عن:

- 1- أنواع أنشطة الصندوق الكويتي للتنمية الاقتصادية . ص 144 (درجتان)
*تقديم القروض و الضمانات للدول النامية .
*تقديم المنح على سبيل المعونة الفنية .
- 2- قرار رقم 678 الخاص بمجلس الأمن التابع للأمم المتحدة . ص 147 (درجتان) - يكتفى بنقطتين .
*صدر في تاريخ 1990/11/29م . *أعطى العراق إنذارا نهائيا بضرورة تنفيذ القرارات السابقة و التي تقضي بانسحاب العراق فورا من أراضي الكويت .
*في حال رفض العراق الانسحاب من الكويت فإن الدول المتعاونة مع دولة الكويت لها (الحق في استخدام الوسائل اللازمة) التي تكفل إعادة الأمن و السلام في المنطقة .
- 3- لم تتأثر الولايات المتحدة في الحرب العالمية الأولى . ص 121 (درجة) - يكتفى بنقطة
*دخلت متأخرة الحرب .
*لم تعاني راضيتها الدمار .

السؤال الرابع : يتكون من (أ- ب) :
(أ) لاحظ خريطة العالم التي أمامك ثم اجب عن الأسئلة التالية :



1- **حول** مساحة أكثر ثلاث قارات من القارات الموضحة في الخريطة إلى جدول . ص 79
(3 درجات لكل نقطة في الجدول درجة)

اسم المحيط	المساحة / بالمليون كم ²
أمريكا الشمالية	24
أمريكا الجنوبية	18
أفريقيا	30
آسيا	44

2- **عرف :**

*الأوقيانوسيا : قارة استراليا و الجزر المحيطة بها . ص 85 (درجة)

3- ما اسم القارة القطبية الجنوبية . (أنتاركتيكا) (درجة)

4- **رتب تصاعديا :** مساحة المحيطات المائية في العالم بالشكل التالي. ص 79
(ثلاث درجات لكل نقطة درجة)

المحيط الهادي	المحيط الأطلسي	المحيط الهندي
---------------	----------------	---------------

(ب) **قارن بين كلا مما يلي: ص 122**

أوجه المقارنة	الحزب الشيوعي	الحزب النازي	الحزب الفاشي
الدولة	روسيا (درجة)	ألمانيا (درجة)	إيطاليا (درجة)
الهدف (يكتفى بهدف لكل حزب)	*حكم جديد في روسيا *وضع السلطة في يد الحزب	*تفوق العرق الألماني *الدعوة لقيام ألمانيا الكبرى *استعادة المستعمرات الألمانية.	*الحصول على مستعمرات *إعادة أمجاد الإمبراطورية الرومانية (إيطاليا) .
أوجه الشبه	1- الزعامة المطلقة 2- الحزب هو السلطة الوحيدة في الدولة . (يكتفى بنقطة واحدة) 3- استخدام وسائل بوليسية و إرهابية لفرض النظام الجديد . 4- التوسع في أوروبا .		