




كُون ٤ مجموعات متكافئة




عدد العناصر في المجموعة الواحدة ----- عناصر

WWW.KweduFiles.Com




$$----- = 12 \div 3$$

WWW.KweduFiles.Com



$$\underline{\quad\quad\quad} = 3 \div 12$$

WWW.KweduFiles.Com



$$\underline{\hspace{2cm}} = 3 \div 6$$

WWW.KweduFiles.Com

حوط كل ٢ قميص



عدد المجموعات المتكافئة----- مجموعات
WWW.KweduFiles.Com

حوظ كل ٤ سلاحف



عدد المجموعات ----- مجموعات

WWW.KweduFiles.Com



$$\underline{\hspace{2cm}} = 3 \div 12$$

$$\underline{\hspace{2cm}} = 4 \times 3$$

WWW.KweduFiles.Com

اكتب عبارات الضرب والقسمة للأعداد

١٤، ٧، ٢

$$\underline{\quad} = \underline{\quad} \div \underline{\quad}$$

$$\underline{\quad} = \underline{\quad} \times \underline{\quad}$$

$$\underline{\quad} = \underline{\quad} \div \underline{\quad}$$

$$\underline{\quad} = \underline{\quad} \times \underline{\quad}$$

WWW.KweduFiles.Com

اكتب عبارات الضرب والقسمة للأعداد

١٨، ٦، ٣

$$\underline{\quad} = \underline{\quad} \div \underline{\quad}$$

$$\underline{\quad} = \underline{\quad} \times \underline{\quad}$$

$$\underline{\quad} = \underline{\quad} \div \underline{\quad}$$

$$\underline{\quad} = \underline{\quad} \times \underline{\quad}$$

WWW.KweduFiles.Com

اكتب عبارات الضرب والقسمة للأعداد

١٥، ٥، ٣

$$\underline{\quad} = \underline{\quad} \div \underline{\quad}$$

$$\underline{\quad} = \underline{\quad} \times \underline{\quad}$$

$$\underline{\quad} = \underline{\quad} \div \underline{\quad}$$

$$\underline{\quad} = \underline{\quad} \times \underline{\quad}$$


WWW.KweduFiles.Com

قسم إلى مجموعات متساوية



www.KweduFiles.Com

قسم الى مجموعات متساوية . أكمل



$$\underline{\hspace{2cm}} = \underline{\hspace{2cm}} \div \underline{\hspace{2cm}}$$

WWW.KweduFiles.Com