



وزارة التربية
الإدارة العامة لمنطقة الأحمدية التعليمية
مدرسة هدية الابتدائية بنين



الوحدة الخامسة عشر

www.KweduFiles.Com



للمصف الرابع



• أ. شيمه صقر المطيري

رئيسة القسم

• استكشاف الأجزاء من نظيرة

www.kwedufiles.com



بند (1-1)



اكتب الكسر الاعتيادي و الكسر العشري

الداال على الأجزاء المظلمة

www.KweduFiles.Com



اكتب الكسر الاعتيادي و الكسر العشري

الداال على الأجزاء المظلمة

WWW.KweduFiles.Com



اكتب الكسر الاعتيادي و الكسر العشري

الداال على الأجزاء المظلمة

WWW.KweduFiles.Com



اكتب الكسر الاعتيادي و الكسر العشري

الذال على الأجزاء المظلمة


WWW.KweduFiles.Com



اكتب الكسر الاعتيادي و الكسر العشري

الداال على الأجزاء المظلمة

WWW.KweduFiles.Com





اكتب في الصورة العشرية

ثلاثة أجزاء من عشرة

WWW.KweduFiles.Com



اكتب في الصورة العشرية

ستة أجزاء من عشرة

www.KweduFiles.Com



اكتب في الصورة العشرية

أربعة صحيح و تسعة أجزاء

WWW.KweduFiles.Com

من عشرة



اكتب في الصورة العشرية

WWW.KweduFiles.Com



اكتب في الصورة العشرية



WWW.KweduFiles.Com



اكتب في الصورة العشرية



WWW.KweduFiles.Com

— ٣٢ — ١

اكتب الاسم اللفظي



WWW.KweduFiles.Com

اكتب الاسم اللفظي



١١,٢

WWW.KweduFiles.Com



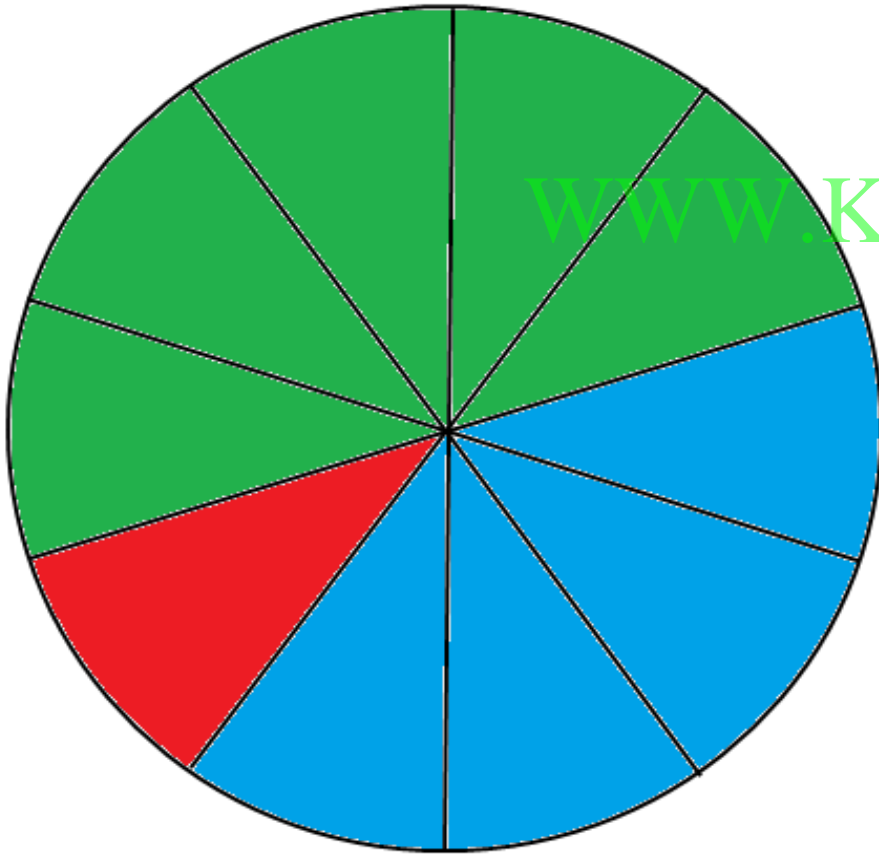
اكتب الاسم اللفظي

٩, ٦

WWW.KweduFiles.Com



اكتب ما تمثله الأجزاء الملونة بالدائرة



الكسر العشري	الكسر الاعتيادي	اللون
		أخضر
		أزرق
		أحمر

• استكشاف الأجزاء من وحدة

www.KweduFiles.Com



بند (۱۱ - ۲)



اكتب في الصورة العشرية



WWW.KweduFiles.Com

٢٧

١ ♦ ♦

اكتب في الصورة العشرية



WWW.KweduFiles.Com

_____ ١٨ ٤٢
_____ ١ ♦ ♦

اكتب في الصورة العشرية

WWW.KweduFiles.Com



— ١٥ $\frac{9}{1 \diamond \diamond}$

اكتب في الصورة العشرية

خمسة وعشرون جزء من مئة

WWW.KweduFiles.Com



اكتب في الصورة العشرية

سبعة أجزاء من مئة

WWW.KweduFiles.Com



اكتب في الصورة العشرية

ثلاثة صحيح وثمانية أجزاء

WWW.KweduFiles.Com

من مئة



اكتب الاسم اللفظي



www.KyeduFiles.Com

اكتب الاسم اللفظي



www.KweduFiles.Com

اكتب الاسم اللفظي



٧٩, ٢١

WWW.KweduFiles.Com



طول فيصل ١ متر و ٥٢ سم .

اكتب العدد الكسري و العدد

WWW.KweduFiles.Com

العشري الدال على طول

فيصل بالأمتار .

يقول مشعل :

$$9,4 = 9 \frac{4}{10}$$

WWW.KweduFiles.Com

هل توافقه الرأي ؟



وضح إجابتك .

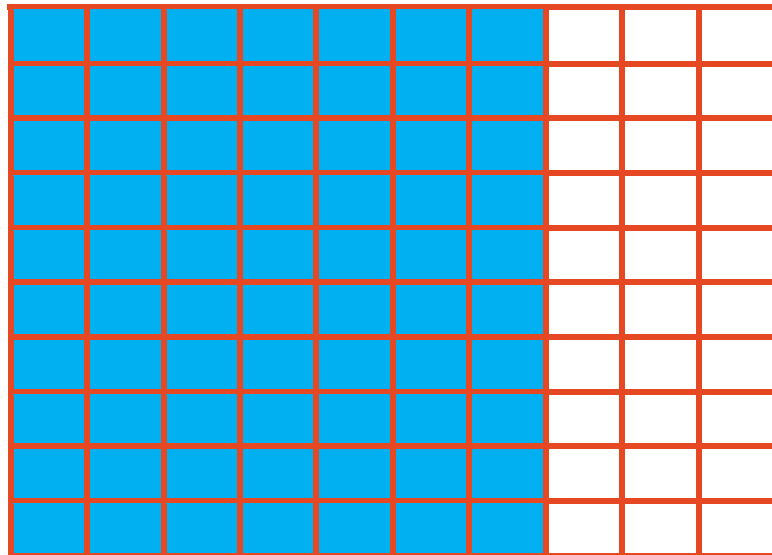

• استكشف علاقات القيم المكانية في
WWW.KweduFiles.Com
الأمثلة العددية



بند (١١-٣)



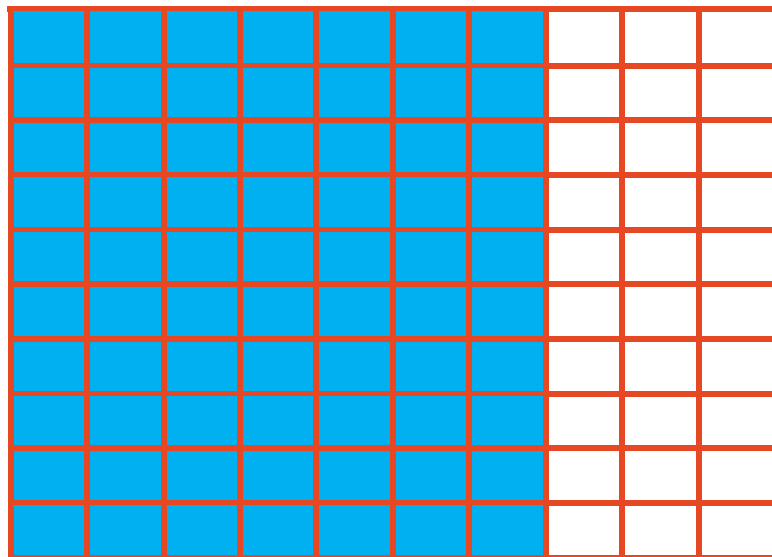

انظر إلى الشبكتين و أجب عما يلي:



ما الكسر الذي تمثله

شبكة الأجزاء من عشرة؟

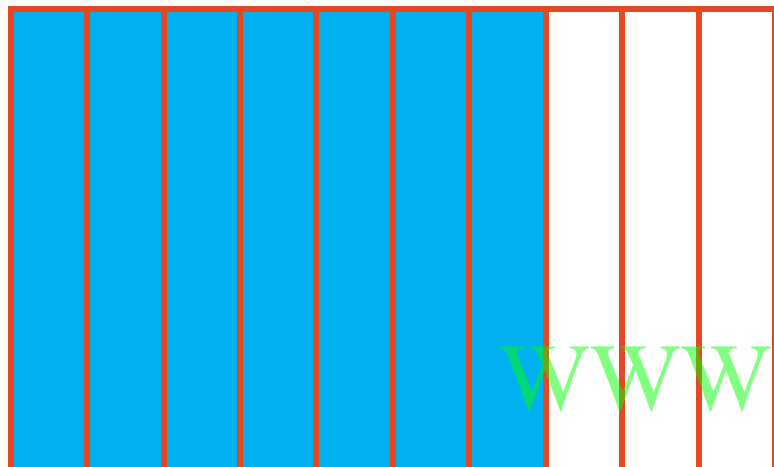
انظر إلى الشبكتين و أجب عما يلي:



ما الكسر الذي تمثله

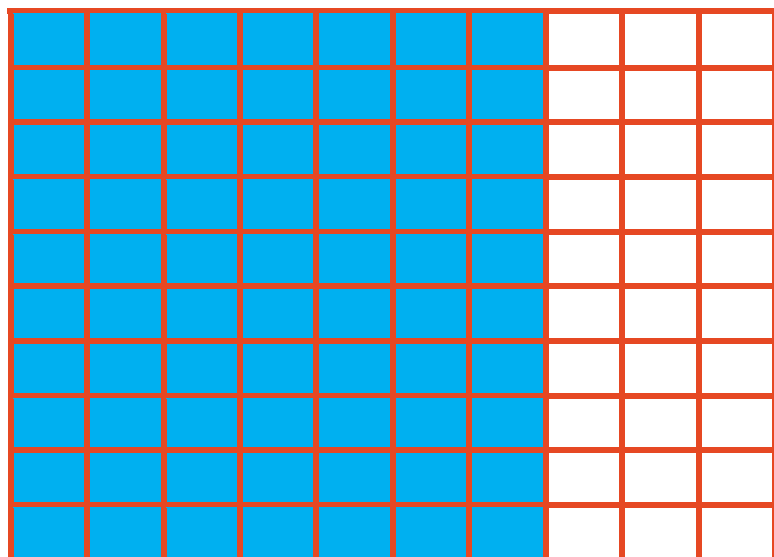
شبكة الأجزاء من حقه؟

انظر إلى الشبكتين و أجب عما يلي:



هل الكسران العشريان

متكافئان؟

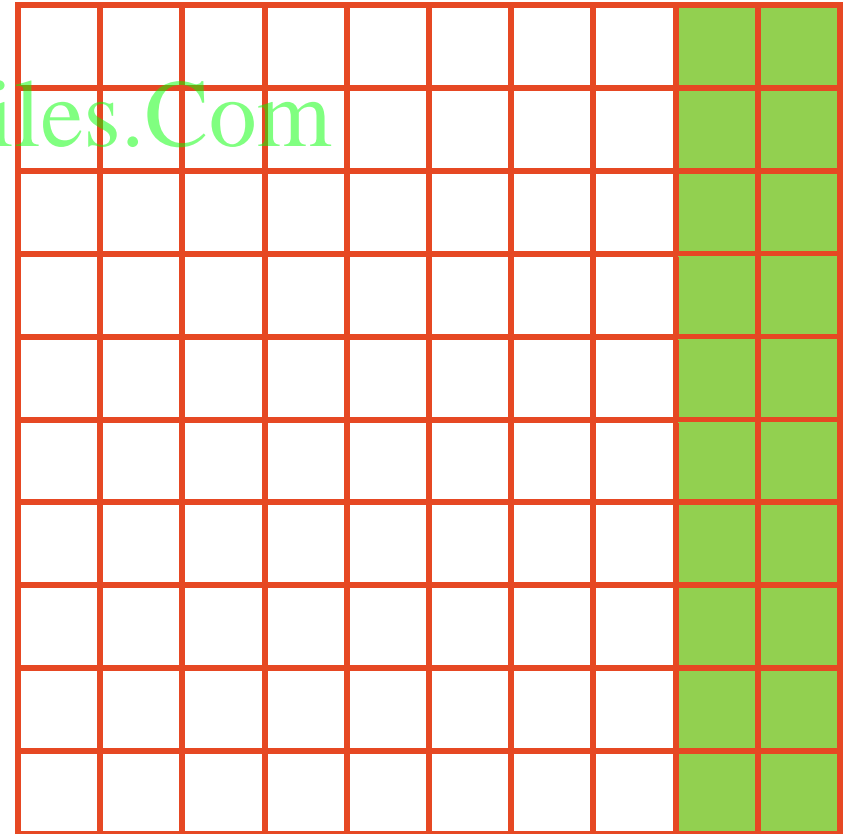


اكتب كسرين عشريين متكافئان

يعبران عن الجزء المظلل على الشبكة

WWW.KweduFiles.Com

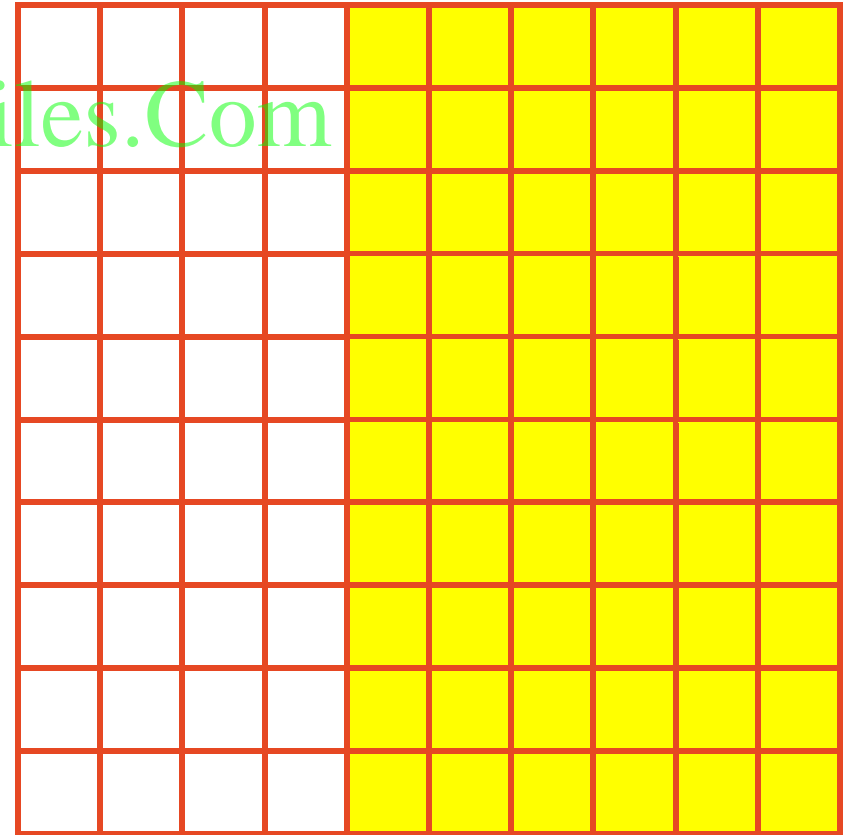
_____ 6 _____



اكتب كسرين عشريين متكافئان

يعبران عن الجزء المظلل على الشبكة

WWW.KweduFiles.Com



_____ 6 _____

اكتب في صورة أجزاء من مئة

WWW.KweduFiles.Com



اكتب في صورة أجزاء من مئة

WWW.KweduFiles.Com

٦, ٧



اكتب في صورة أجزاء من مئة

سبعة أجزاء من عشرة

www.kwedufiles.com



اكتب في صورة أجزاء من عشرة

WWW.KweduFiles.Com

٦، ٣



اكتب في صورة أجزاء من عشرة

WWW.KweduFiles.Com

٤٠



اكتب في صورة أجزاء من عشرة

عشرون جزء من مئة



اكتب القيمة المكانية للرقم

الذي تحته خط

WWW.KweduFiles.Com

٢٩

اكتب القيمة المكانية للرقم

الذي تحته خط

WWW.KweduFiles.Com

٣٥
٠٫

اكتب القيمة المكانية للرقم

الذي تحته خط

WWW.KweduFiles.Com

٦,١٤

اكتب القيمة المكانية للرقم

الذي تحته خط

WWW.KweduFiles.Com

١٦,١

• مقارنة الكسور في الصورة العشرية

WWW.KweduFiles.Com

الترتيب



بند (١١-٤)




ضع رمز العلاقة المناسب (< أو > أو =)

♦ , ٤ , ٦ , ♦

٧ , ٥ , ٧ , ٥ , ♦

ضع رمز العلاقة المناسب (< أو > أو =)

♦ , ٥٢  ♦ , ٩

♦ , ٣٨  ♦ , ٢٥

ضع رمز العلاقة المناسب (< أو > أو =)

٨, ٨

www.KweduFiles.Com

١١





٢٤, ٩

٢, ٤٩

رتب تصاعدياً



www.KweduFiles.Com



رتب تنازلياً

٢, ٤, ١

,

٥, ١


,

١, ٨


,

٢, ٤


WWW.KweduFiles.Com




,



,



,





يقول فهد :

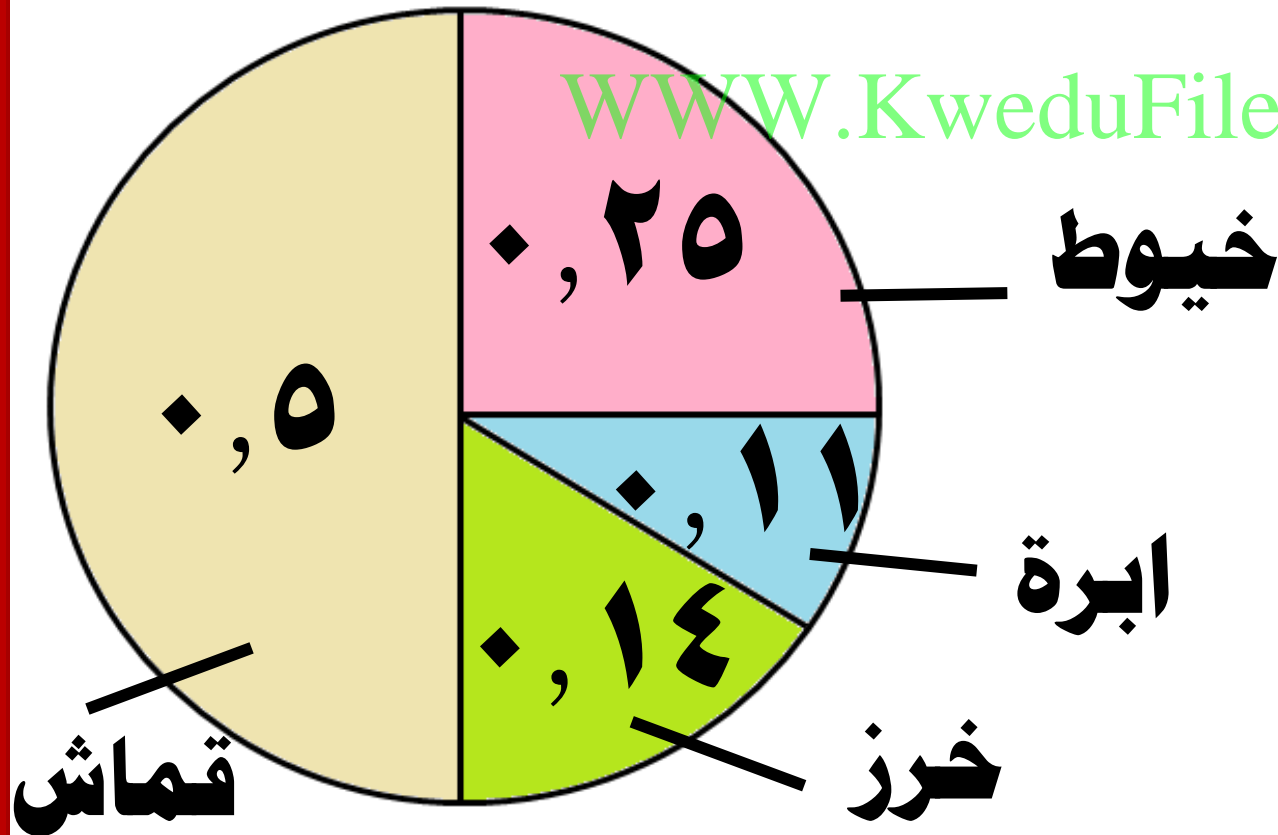
بما أن $٣ < ٣٠$

WWW.KweduFiles.Com

لذلك $٣٠ < ٣٠٠$ ،

هل توافقه الرأي ؟ وضح إجابتك .

يوضح التمثيل البياني بالدائرة أسعار أدوات أشغال يدوية بالدينار



تقريب الحسابات المثلثية

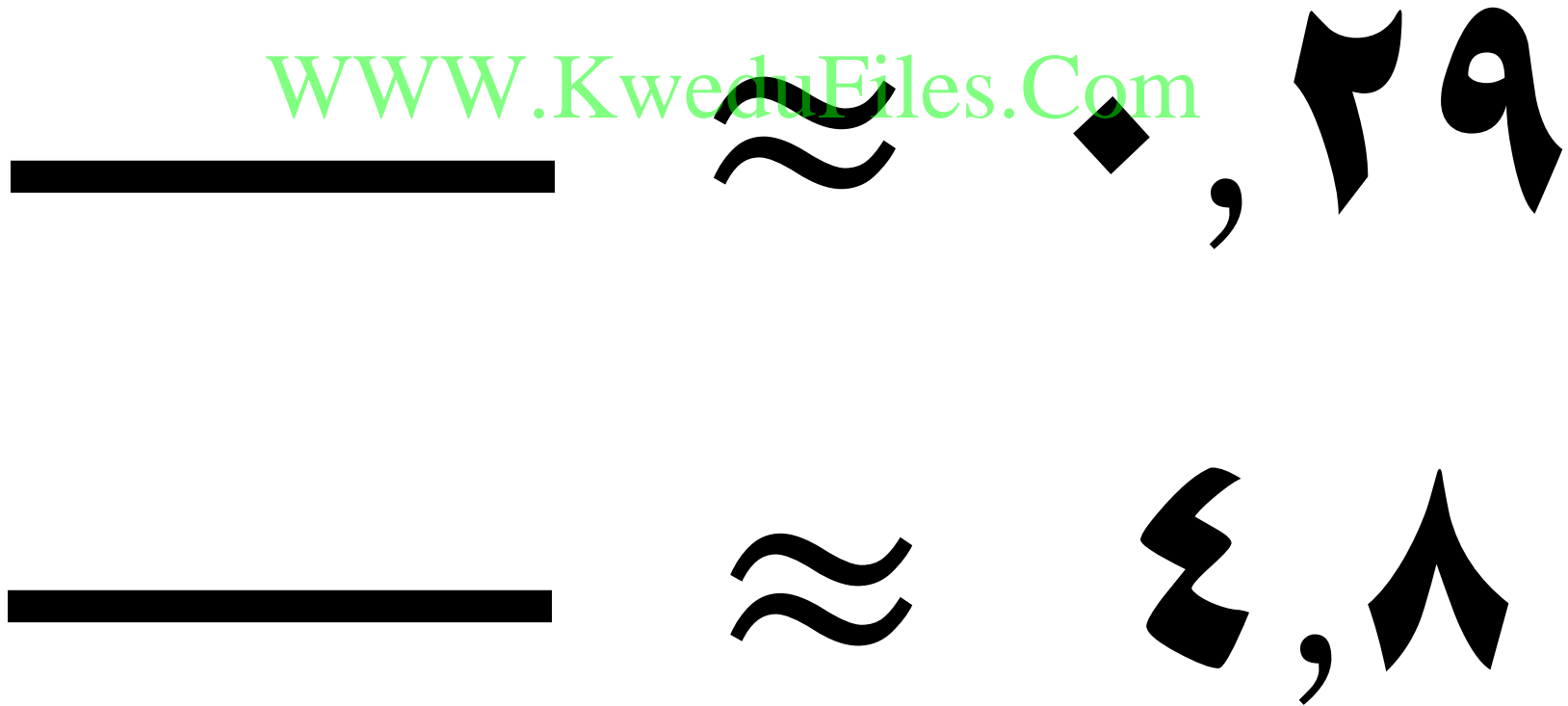


بند (۱۱-۵)



قرب إلى أقرب عدد كلي

مستخدماً خط الأعداد أو خطوات التقريب



قرب إلى أقرب عدد كلي

مستخدماً خط الأعداد أو خطوات التقريب

— ≈ ١٣, ٧

— ≈ ٢٩, ٣٢

قرب إلى أقرب عدد كلي

مستخدماً خط الأعداد أو خطوات التقريب

$\underline{\hspace{2cm}} \approx 1,64$

$\underline{\hspace{2cm}} \approx 5,5$

WWW.KweduFiles.Com

قرب إلى أقرب عدد كلي

مستخدماً خط الأعداد أو خطوات التقريب

سنة صحيح وأربعة وثمانون جزءاً

WWW.KweduFiles.Com

من مئة ≈



قرب إلى أقرب عدد كلي

مستخدماً خط الأعداد أو خطوات التقريب

سبعة و عشرون صحيح و ثلاثة

WWW.KweduFiles.Com

أجزاء من عشرة ≈



في الاختبار الإلكتروني حصل

نواف على درجة

WWW.KweduFiles.Com

٨٢,٧٣

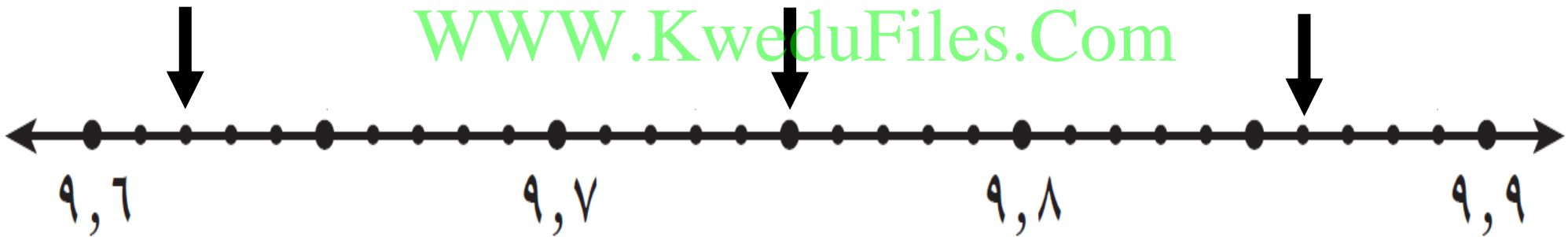


قرب هذا العدد إلى أقرب عدد كلي

أَكْمَلْ



WWW.KweduFiles.Com



تقريب العدد ٤,٠٦ إلى أقرب

عدد كلي لا يعطي الإجابة نفسها

WWW.KweduFiles.Com

عندما نقرب العدد ٤,٦٠ إلى

أقرب عدد كلي . وضح ذلك ؟

ما أكبر عدد عشري يحتوي على

منزلة عشرية واحدة عند تقريبه

WWW.KweduFiles.Com

إلى أقرب عدد كلي يساوي تقريباً



١٠ ؟ _____



اختر الإجابة الصحيحة بوضع

العدد الأقرب إلى ٧٠ هو :

WWW.KweduFiles.Com

٦٩,٥٥ 

٦٩,٢ 

٧٠,٧١ 

٧٠,٦ 

جميع الامتحانات الشهرية



بند (١-٦)



أوجد الناتج

WWW.KweduFiles.Com

♦ , ٤ +

أوجد الناتج

$$28, 28$$

WWW.KweduFiles.Com

$$16 +$$

أوجد الناتج

WWW.KweduFiles.Com

$$\begin{array}{r} \diamond, 92 + \\ \hline \end{array}$$

أوجد الناتج

$$2,0$$

WWW.KweduFiles.Com

$$1,0 +$$

أوجد الناتج

٨, ٢٤

WWW.KweduFiles.Com

٢, ٧٦ +

أوجد الناتج

WWW.KweduFiles.Com

$$\begin{array}{r} \blacklozenge, ٢٨ \\ \blacklozenge, ١٣ + \\ \hline \end{array}$$

أوجد الناتج

WWW.KweduFiles.Com

$$\begin{array}{r} 7 \\ \hline \end{array} +$$

أوجد الناتج

١,٥١

٤,٢٢

٠,٦

+

WWW.KweduFiles.Com

أوجد الناتج

$$= \text{♦}, 5 + \text{♦}, 4$$

WWW.KweduFiles.Com

$$= \text{♦}, 6 + \text{♦}, 75$$

أوجد الناتج

$$= \diamond, ٢٤ + \diamond, ١٢$$

WWW.KweduFiles.Com

$$= ٦, ٦ + ٢, ٨ + ٥$$

ما مجموع ما لدى حمد و علي و

سعد من النقود ؟

نقود حمد : ١,٦٠٠ دينار

نقود علي : ٣,٤٠٠ دينار

نقود سعد ٤,٢٠٠ دينار

سحب خالد بطاقتين وجمع العددين المكتوبين

أجب بكلمة (مستحيل - على الأرجح - مؤكد)



www.kawedufiles.com

حصل خالد على مجموع

يساوي ١

سحب خالد بطاقتين وجمع العددين المكتوبين

أجب بكلمة (مستحيل - على الأرجح - مؤكد)



www.kwedufiles.com

حصل خالد على مجموع

أصغر من ١

• طرح الكسور العشرية



بند (١١ - ٧)



أوجد الناتج

WWW.KweduFiles.Com

٧
١
١

أوجد الناتج

WWW.KweduFiles.Com

٢٣ -
٢٣
—

أوجد الناتج

٩
WWW.KweduFiles.Com

١٥-
٠٠,

أوجد الناتج

٤, ٣٢

WWW.KweduFiles.Com

١, ٧٨ -

أوجد الناتج

٦ - ٨
= ٦ - ٨
WWW.KweduFiles.Com

٤ - ١٧
= ٤ - ١٧

ما الفرق بين طول محمد و



طول عمر؟

WWW.KweduFiles.Com

طول محمد : ١,٨٤ متر

طول عمر : ١,٥٣ متر

احك مسألة لفظية تستخدم

فيها

WWW.KweduFiles.Com

٦ - ١,٥



ثم حلها .