

تم تحميل هذا الملف من موقع المناهج الكويتية



منطقة الجهراء التعليمية

الملف نموذج أسئلة منطقة الجهراء التعليمية

[موقع المناهج](#) ← [المناهج الكويتية](#) ← [الصف السادس](#) ← [اجتماعيات](#) ← [الفصل الأول](#)

روابط مواقع التواصل الاجتماعي بحسب الصف السادس



روابط مواد الصف السادس على تلغرام

[الرياضيات](#)

[اللغة الانجليزية](#)

[اللغة العربية](#)

[التربية الاسلامية](#)

المزيد من الملفات بحسب الصف السادس والمادة اجتماعيات في الفصل الأول

<a href="#">نموذج احابة اختبار لمنطقة مبارك الكبير عام 2016</a>	1
<a href="#">اوراق عمل مهمة في مادة الاجتماعيات</a>	2
<a href="#">بنك اسئلة ممتاز في مادة الاجتماعيات</a>	3
<a href="#">بنك معلومات مهم في مادة الاجتماعيات</a>	4
<a href="#">تلخيص اجتماعيات بشكل مبسط</a>	5

تابع / السؤال الأول ( الموضوعي ):

ز- أمامك خريطة شبه الجزيرة العربية الصماء نفذ المطلوب مما يليها:

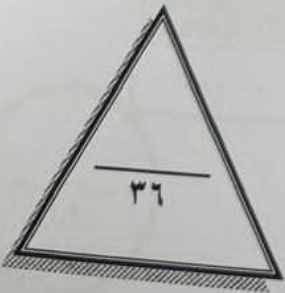


١ - أكتب الرقم الدال على العبارات التالية:

- خليج عُمان يمثله على الخريطة الرقم.....
- الدولة الخليجية التي توجد فيها الحضارة الهلينستية يمثّلها على الخريطة الرقم.....
- الدولة الخليجية التي هاجر إليها المعاصيد يمثّلها على الخريطة الرقم.....

٢ - حدد كل مما يلي على الخريطة باستخدام الأشكال التالية:

- الدولة الخليجية التي يوجد فيها الجبل الأخضر باستخدام الشكل ■
- بحر العرب باستخدام الشكل ▲



( مجموع السؤال الأول بالحروف..... )

سؤال الثالث/ (مقالى): يتكون من ( أ ، ب ، ج )

أ- فرق بين كل مما يلي من حيث التعريف:

الموقع النسبي	الموقع الفلكي
الاستقلال	الاستعمار



ب- لاحظ الصورة التي أمامك ثم أجب عن الأسئلة التالية:

١- ماذا يمثل هذا الشعار؟

.....\*

٢- كم عدد الدول في هذا التنظيم السياسي؟

.....\*

ج- عدد لكل مما يلي:

١- مظاهر الحضارة الإسلامية.

.....\*

.....\*

٢- الصفات المشتركة بين دول مجلس التعاون لدول الخليج العربية.

.....\*

.....\*

٣- أهداف مجلس التعاون لدول الخليج العربية.

.....\*

.....\*

( مجموع السؤال الثالث بالحروف ..... )

" انتهت الأسئلة "

نرجو لكم النجاح والتوفيق،،،

~ ٦ ~

حان الفترة الدراسية الأولى - الصف السادس المتوسط - لمقرر الكويت ودول الخليج العربية - العام الدراسي ٢٠٢٤/٢٠٢٥ م

يع / السؤال الأول ( الموضوعي ):

ج- أكتب المفاهيم أو المصطلحات الدالة على العبارات التالية:

م	المفهوم / المصطلح	التعريف
١	.....	ذراع مائي لبحر العرب يمتد من خليج عمان جنوباً حتى شط العرب شمالاً.
٢	.....	خطوط وهمية أي غير موجودة على سطح الأرض ترسم على الكرة الأرضية، وتقسّم الكرة الأرضية إلى قسمين شمالي وجنوبي وعددها ١٨٠ دائرة.
٣	.....	حالة الجو في مكان ما، خلال فترات زمنية طويلة.
٤	.....	منطقة تقع في الصحراء فيها مياه عذبة صالحة للزراعة.
٥	.....	نهاية موسم الغوص.

موقع  
المناهج الكويتية  
almanahj.com/kw

د- ظلل الخيار الصحيح من بين الخيارات التي تلي كل عبارة مما يلي:

١- يبلغ عدد خطوط الطول التي تمتد خلالها منطقة الخليج العربية شرق خط جرينتش:

٢٤ خط	٢٥ خط	٢٦ خط	٢٧ خط
-------	-------	-------	-------

٢- من الغلات الزراعية التي تم إنتاجها في منطقة الخليج العربية:

الفراولة	الموز	الزيتون	التمور
----------	-------	---------	--------

٣- الاسم الذي يُطلق على مطرب السفينة:

النهام	القلاف	الغواص	السيب
--------	--------	--------	-------

٤- القرن الميلادي الذي ظهر فيه الاسلام:

الخامس الميلادي	السادس الميلادي	السابع الميلادي	الثامن الميلادي
-----------------	-----------------	-----------------	-----------------

٥- العام الذي أعلن فيه قيام المملكة العربية السعودية:

١٩٣١ م	١٩٣٢ م	١٩٣٣ م	١٩٣٤ م
--------	--------	--------	--------

رقم السؤال
السؤال ١
السؤال ٢
السؤال ٣
السؤال ٤
السؤال ٥
السؤال ٦
السؤال ٧
السؤال ٨
السؤال ٩
السؤال ١٠
المجموع
الدرجة بالحر

وزارة

الإدارة

\* السؤال الثاني/ (مقالى): يتكون من ( أ ، ب ، ج )

أ- قارن بين كل من حسب المطلوب منك في الجدول التالي:

نبات حولي	نبات مُعمر	أوجه المقارنة
		التعريف
		مثال

ب- علل لما يلي :

١- أهمية موقع منطقة الخليج العربية.



٢- حياة السكان في البيئة الصحراوية لمنطقة الخليج العربية قاسية وخشنة.

٣- سفينة البغلة تعتبر من أفضل أنواع السفن المستعملة في رحلة السفر.

ج- لاحظ الصورة التي أمامك ثم أكتب اسم الحرفة اليدوية التي تمثلها:



( مجموع السؤال الثاني بالحروف..... )

امتحان الفترة الدراسية الأولى - الصف السادس المتوسط - لمقرر الكويت ودول الخليج العربية - العام الدراسي ٢٠٢٤/٢٠٢٥ م

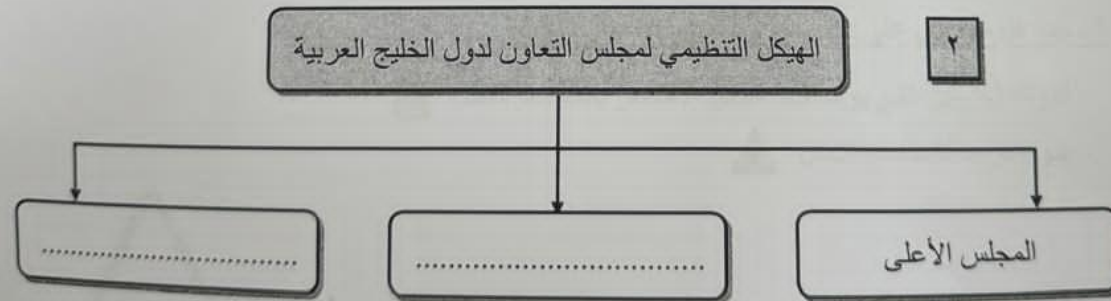
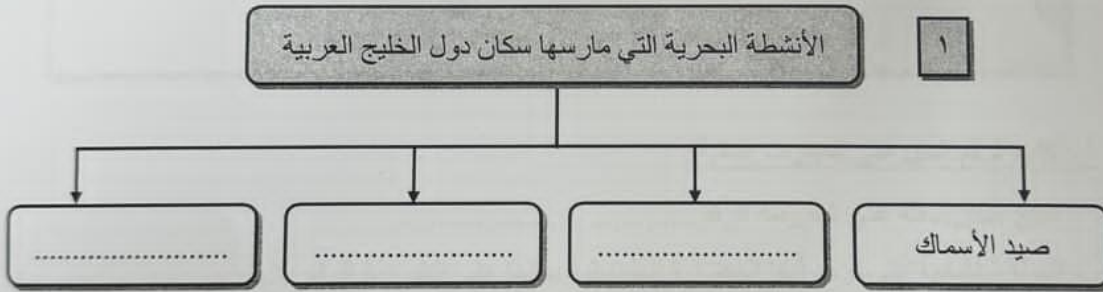
تابع / السؤال الأول ( الموضوعي ):

هـ - ظلل الحرف ( أ ) إذا كانت العبارة صحيحة وظلل الحرف ( ب ) إذا كانت العبارة خاطئة:

م	العبارة	( أ )	( ب )
١	يتصف مناخ منطقة الخليج العربي بأنه صحراوي قاري.	أ	ب
٢	أشتهرت حضارة مجان بأفران صهر المعادن.	أ	ب
٣	العام الذي حصلت فيه مملكة البحرين على استقلالها ١٩٥١ م	أ	ب
٤	المدينة التي اتخذت مقراً لمجلس التعاون لدول الخليج العربية اسمها الرياض.	أ	ب
٥	القمة السابعة والعشرون لمجلس التعاون الخليجي تسمى قمة الشيخ صباح الأحمد الصباح.	أ	ب

المنهج الكويتي  
almanahj.com/kw

و- أكمل المخططات السهمية التالية:



رقم السؤال  
السؤال الأول  
السؤال الثاني  
السؤال الثالث  
السؤال الرابع  
السؤال الخامس  
السؤال السادس  
السؤال السابع  
السؤال الثامن  
السؤال التاسع  
السؤال العاشر  
المجموع  
الدرجة بالحد

وز  
الإ