

تم تحميل هذا الملف من موقع المناهج الكويتية



منطقة الفروانية التعليمية

الملف نموذج إجابة منطقة الفروانية التعليمية

موقع المناهج ← المناهج الكويتية ← الصف التاسع ← اجتماعيات ← الفصل الأول

روابط مواقع التواصل الاجتماعي بحسب الصف التاسع



روابط مواد الصف التاسع على تلغرام

[الرياضيات](#)

[اللغة الانجليزية](#)

[اللغة العربية](#)

[التربية الاسلامية](#)

المزيد من الملفات بحسب الصف التاسع والمادة اجتماعيات في الفصل الأول

مسودة كتاب الطالب اجتماعيات لعام 2018	1
نموذج اجابة اختبار لعام 2017تعليم خاص	2
نموذج اجابة اختبار لمنطقة العاصمة لعام 2016 في مادة الاجتماعيات	3
مراجعة رائعة للفصل الاول في مادة الاجتماعيات	4
حل تقويم الكورس الاول في مادة الاجتماعيات	5

تم التحميل من شبكة ياكويت التعليمية



Telegram:
ykuwait_net_home

موقع
المنهج الكويتية
amanahj.com/kw

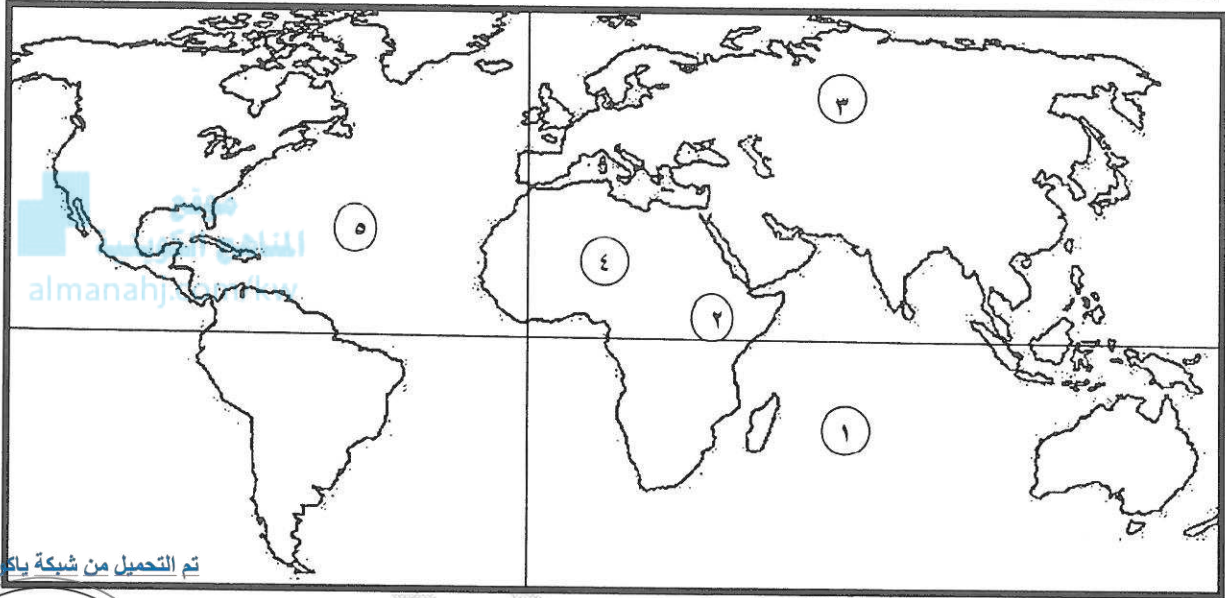




أجب عن جميع الأسئلة التالية :

السؤال الأول : ويتكون من (أ - ب - ج) :- (٤ × ١)

(أ) أمامك خريطة العالم (صماء) ، اكتب الرقم الدال على العبارات التالية:-



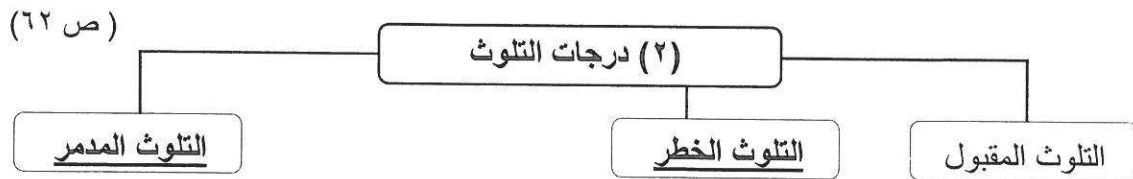
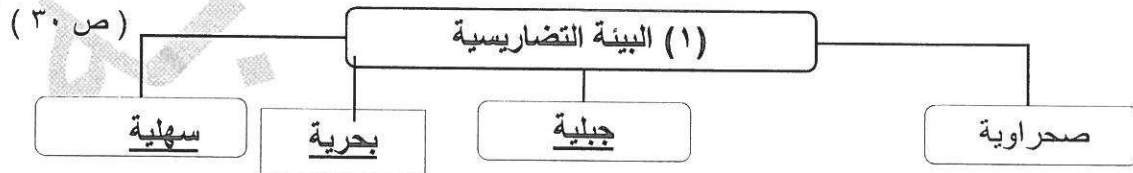
تم التحميل من شبكة ياكويت التعليمية



Telegram:
ykuwait_net_home

- هضبة أثيوبيا يمثلها على الخريطة الرقم (٢) ص ١٩
- سهول سيبيريا يمثلها على الخريطة الرقم (٣) ص ٢٥
- المحيط الهندي يمثلها على الخريطة الرقم (١) ص ٢٠
- قارة افريقيا يمثلها على الخريطة الرقم (٤) ص ٢٠

(ج) اكمل المخططات السهمية التالية:- (٥ × ١)



تابع: (السؤال الأول):

(أ) صوب ما تحته خط في العبارات التالية :- (٦×١)

- ١- موقع الدولة بالنسبة لخطوط الطول و دوائر العرض هو الموقع النسبي . (الموقع الفلكي) ص ١٨
- ٢- تغطي البحار و المحيطات من مساحة الكرة الأرضية حوالي ٨١% . (٧١%) ص ٣٠
- ٣- العناصر التي تضم المقومات الأساسية لاستمرار الحياة و تشمل الماء و الهواء و الغازات و أشعة الشمس و الصخور و المعادن المختلفة و التربة هي العناصر الحية المستهلكة . (العناصر غير حية) ص ٥٠
- ٤- آلات المصانع أثناء تشغيلها و أصوات وسائل النقل و أصوات الآلات المنزلية الحديثة هي مصادر التلوث المائي . (التلوث الضوضائي) ص ٦٩
- ٥- الزيادة في متوسط حرارة الأرض و الذي نتج عن التغيرات المناخية و اضطراب الأنظمة البيئية بسبب زيادة كمية غاز ثاني أكسيد الكربون و الميثان هو مفهوم التلوث . (الاحتباس الحراري) ص ٨٠
- ٦- ارسال الدولة رسائل التهنية و التعزية لمختلف دول العالم و تقديم المساعدات المالية شكل من أشكال العلاقات الاقتصادية بين الدول . (العلاقات الاجتماعية) ص ١٠٤

السؤال الثاني : ويتكون من (أ - ب - ج) :-

(أ) صنّف المقومات الآتية حسب المطلوب في الجدول التالي :- (٥×١)

((الغاز الطبيعي - توفر أيدي عاملة - أرضها زراعية خصبة - التصنيع و الابتكار - النفط))

مقومات الدول المتقدمة ص ٩٧	مقومات الدول النامية ص ٩٧
<u>الغاز الطبيعي - التصنيع و الابتكار - النفط</u>	<u>توفر أيدي عاملة - أرضها زراعية خصبة</u>

تم التحميل من شبكة ياكويت التعليمية



Telegram:
ykuwait_net_home

تابع: (السؤال الثاني):


(ب) اختر البديل المناسب من بين البدائل التي تلي كل عبارة وضع تحته خط :- (٧×١)

- ١- الصورة المقابلة تمثل أحد أدوات تنفيذ السياسة الخارجية وهي:
(المعونات الخارجية - الدبلوماسية - استخدام وسائل الاعلام - المقاطعة الاقتصادية)
(ص ٩٥)



- ٢- بدأ الانسان يستخدم قدراته الخلقية و العقلية في دراسة حركات الحيوانات اليومية و الموسمية هي مرحلة :
(مرحلة التصنيع - مرحلة الجمع و الالتقاط - مرحلة الزراعة و الاستقرار - مرحلة الصيد و القنص) . ص ٤٦

- ٣- الشعار الذي أمامك يمثل :
(حركة الحزام الأخضر - منظمة الأغذية و الزراعة للأمم المتحدة - اليوم الدولي للغابات - التنمية المستدامة)
(ص ٥٢)



- ٤- مصدر من المصادر الميكانيكية لتلوث التربة :
(آفة زراعية - الأسمدة الكيماوية - الرعي الجائر - المبيدات الحشرية) . ص ٦٧

- ٥- العام الذي تم فيه إطفاء آخر بئر نفطي كويتي:

(١٩٩٠م - ١٩٩١م - ١٩٩٢م - ١٩٩٣م) . ص ٦٣

- ٦- القوانين و الأنظمة التي تعمل على تنظيم العلاقات الاجتماعية بين الأفراد ، و النشاطات الممارسة من الانسان داخل البيئة :

(البيئة الاجتماعية - البيئة الطبيعية - البيئة الاقتصادية - البيئة غير طبيعية) . ص ٤٤

- ٧- تقع دولة الكويت بالنسبة لقارة آسيا في جهة:

(شمال شرقي - شمال غربي - جنوب شرقي - جنوب غربي) . ص ٢٠

تابع: (السؤال الثاني):

(ج) اكتب المفاهيم أو المصطلحات الدالة على العبارات التالية :- (٣×١)

المفهوم أو المصطلح	العبرة
١ <u>التضاريس</u>	الملاح الرئيسية لشكل سطح الأرض من مرتفعات و منخفضات و أودية و سهول. ص ٢٣
٢ <u>ندرة المياه</u>	عدم وجود ما يكفي من الموارد المائية المتاحة لتلبية مطالب استخدام المياه داخل المنطقة . ص ٧٦
٣ <u>السياسة الدولية</u>	هي علاقات الدول مع بعضها بعضا على شكل وحدات أو تنظيمات دولية لتحقيق المصالح السياسية بأكبر قدر من الفاعلية و بأقل الخسائر الممكنة . ص ٩٤

السؤال الثالث :- ويتكون من (أ - ب - ج) :-

(أ) فرق بين كل مما يلي : (٨×١)

مميزات البيئة الجبلية ص ٣٠ (يكتفي بنقطتين)	مميزات البيئة البحرية ص ٣٠ (يكتفي بنقطتين)
- <u>تخزين المياه الطبيعية و الثروات المعدنية المهمة .</u> - <u>تعتبر بيئة طبيعية للحياة البرية .</u> - <u>بيئة للسياحة .</u>	- <u>الحفاظ على التوازن البيئي للكرة الأرضية .</u> - <u>توفير الثروات المعدنية و النباتية و السمكية</u> <u>المختلفة للإنسان</u> - <u>توفير طرق المواصلات و مجال للترفيه و السياحة</u> :

مميزات التجارة الدولية ص ٩٩ (يكتفي بنقطتين)	عيوب التجارة الدولية ص ٩٩ (يكتفي بنقطتين)
<u>المساهمة في دعم النمو الاقتصادي - استغلال الموارد العالمية بشكل أفضل - تساعد على تعزيز العلاقات بين الدول - اشباع رغبات المستهلكين نظرا لتنوع الخدمات و السلع - مؤشر قوي على زيادة القدرة الإنتاجية للدولة و قدرتها على التنافس في الأسواق العالمية - توافر فرص العمل .</u>	<u>التبادل التجاري يتم عبر مسافات طويلة مما يسبب ارتفاع تكاليف النقل و الشحن فيؤثر على ثمن السلعة . - اختلاف العملات يؤدي الى صعوبة التعامل بين البائع و المشتري - اختلاف اللغة و العادات يؤدي الى صعوبة التبادل - التجارة الدولية لها تأثير مباشر في انتشار التلوث البيئي - وجود حدود سياسيات و قوانين اقتصادية مختلفة - تتبع الدول المتقدمة نظام الاحتكار مما يخلق مشكلة التبادل غير المتكافئ.</u>

(تابع) السؤال الثالث:-

(ب) علل لما يأتي :- (٤×١)

- ١- البيئات المعتدلة من أفضل البيئات للعيش على وجه الكرة الأرضية . (يكتفى بإجابتين) ص ٣١
* ممارسة العديد من الأنشطة / تنوع الحياة النباتية و الحيوانية أكثر من البيئات الأخرى / ازدياد البناء و الاستقرار عن غيرها من البيئات / إمكانية إقامة النشاط الزراعي و الصناعي فيها .
- ٢- التلوث الضوضائي في ازدياد مستمر . (يكتفى بإجابتين) ص ٦٩
* التقدم التكنولوجي / النمو السكاني / الاعتماد المتزايد على استخدام الآلة في شتى نواحي الحياة .

ج- اكتب في ما يلي :-

موقع
المنهج الكويتية
www.almandj.com

- ١- العوامل المؤثرة في العلاقات الاقتصادية الدولية . (يكتفى بإجابتين) (٢×١) ص ١٠٠-١٠١
* التقدم العلمي و التكنولوجي * المشكلات البيئية * مشكلات الهجرة الدولية * مشكلات الغذاء في العالم
* مشكلات الطاقة في العلم

٢- أنواع السهول . (يكتفى بنقطة) (١×١) ص ٢٤

*الساحلية . *الفيضية(النهرية)

السؤال الرابع:- ويتكون من (أ - ب - ج - د) :-

(أ) اقرأ الفقرة التالية ثم أجب عما يليها من أسئلة :

((تعد مشكلة التصحّر من الظاهر التي أصبحت لها آثار سلبية على مساحة كبيرة من العالم خاصة قارة أفريقيا التي نتج عنها قلة انتاج المحاصيل الزراعية ، من مسببات مشكلة التصحر طبيعية و بشرية و للأمم متحدة دور كبير في مكافحة هذه المشكلة من خلال تخصيص يوم من كل عام ليحتفل العالم باليوم العالمي لمكافحة الجفاف و التصحر .)).

١- عرف ما تحته خط في الفقرة السابقة . (١×١) ص ٧٢

* هو تناقص في قدرة الإنتاج البيولوجي للأرض أو تدهور خصوبة الأراضي المنتجة بالمعدل الذي يكسبها ظروف تشبه الأحوال المناخية الصحراوية .

٢- عدد أسباب التصحر البشرية . (٢×١) ص ٧٢

*الرعي الجائر / الري غير المتقن / الإفراط في قطع الأشجار / زراعة المناطق الهامشية .

٣- ما هي مقترحاتك حول حلول لعلاج مشكلة التصحر . (يكتفى بأي إجابة يراها المصحح مناسبة) (١×١) ص ٧٣

*

تم التحميل من شبكة باكويت التعليمية



Telegram:
ykuwait_net_home

(تابع) السؤال الرابع :-

(ب) عرف ما يلي : (٣×١)

١- المناخ : هو حالة الجو خلال فترة زمنية طويلة. ص ٢٧

٢- الاقتصاد البيئي : هو التوزيع الأمثل للموارد الطبيعية التي توفرها البيئة لعملية التنمية المستدامة . ص ٤٣

٣- التلوث الهوائي : هو حدوث أي تغيير في تركيب الهواء سواء كان عن طريق الغازات أو الأدخنة أو الرماد أو الأتربة

أو الاشعاعات أو غير ذلك . ص ٦٣

(ج) قارن بين كل مما يلي :- (٤×١)

أوجه المقارنة	*خطوط الطول ص ١٨	دوائر العرض ص ١٩
خط الأساس	خط جرينيتش	خط الاستواء.
الأهمية	تعيين الزمن بين الأماكن على سطح الأرض	تقسيم الكرة الأرضية الى أقاليم مناخية

(د) أجب عن الأسئلة الآتية :-

٢- عدد طرق الحفاظ على الغابات و الأشجار. (٢×١) ص ٥٢/٥٣

* منع كافة الأعمال التي تلحق الضرر بالغابات مثل الرعي الجائر و الاحتطاب و رمي النفايات / تفعيل القوانين الدولية التي تمنع الضرر بالغابات / نقل كافة المشاريع الصناعية الملوثة و القريبة من مناطق الغابات الى مناطق بعيدة / وضع مراقبين فنيين زراعيين لمراقبة الحياة البرية في الغابة / نشر الوعي الثقافي الذي يبين أهمية و فوائد الغابات لصحة الانسان و البيئة و ذلك في كافة وسائل الاعلام/اشراك المجتمعات المحلية في حماية البيئة المحيطة

٣- اكتب عن مسببات ندرة المياه بدول مجلس التعاون لدول الخليج العربية . (٢×١) ص ٧٨

* النمو السكاني / التوسع العمراني و التنموي / الموقع الجغرافي ذو المناخ الصحراوي / عدم وجود أنهار دائمة / قلة سقوط الأمطار / ارتفاع نسبة الملوحة بالمياه الجوفية .

انتهت الأسئلة