

تم تحميل هذا الملف من موقع المناهج الكويتية



أحمد حضارة

الملف مذكرة إثرائية للوحدة الأولى

[موقع المناهج](#) ← [المناهج الكويتية](#) ← [الصف السابع](#) ← [اجتماعيات](#) ← [الفصل الأول](#)

روابط مواقع التواصل الاجتماعي بحسب الصف السابع



روابط مواد الصف السابع على تلغرام

[الرياضيات](#)

[اللغة الانجليزية](#)

[اللغة العربية](#)

[التربية الاسلامية](#)

المزيد من الملفات بحسب الصف السابع والمادة اجتماعيات في الفصل الأول

<a href="#">كتاب الطالب في مادة الاجتماعيات للعام الدراسي 2018</a>	1
<a href="#">حل الوحدة الاولى في مادة الاجتماعيات</a>	2
<a href="#">تلخيص رائع في مادة الاجتماعيات</a>	3
<a href="#">حل الوحدة الثانية في مادة الاجتماعيات</a>	4
<a href="#">تلخيص ممتاز في مادة الاجتماعيات</a>	5

الفترة الدراسية الأولى / ٢٠٢٤م / ٢٠٢٥م



# الإجتماعيات

موقع  
المنهج الكويتية  
almanahj.com/kw

للمرحلة  
المتوسطة و الثانوية

إجتماعيات

المادة /

السابع

الصف /

مذكرات

# أحمد همدان

97764949

اطلبها مجاناً

## الوحدة الاولى



س: عرف الوطن العربي

هو مجموعة الدول العربية التي يجمعها عدد من السمات المشتركة (اللغة والدين) ويمتد ضمن قارتين من أكبر قارات العالم مساحة

س: ماهي مقومات الهوية العربية **مهم**

- (١) الدين
- (٢) التراث
- (٣) اللغة
- (٤) الأهداف المشتركة

س: عرف الموقع الإستراتيجي

هو أي موقع ذي مكانة مهمة بين دول العالم

س: عرف المسطحات المائية

هي جميع أشكال المياه على سطح الأرض مثل (المحيطات والخلجان)

موقع  
المناهج الكويتية  
almanahj.com/kw

☆ **القناة** : هي مجرى مائي صناعي ضيق يشق لأغراض الري أو النقل

☆ **المضيق** : هو ممر مائي ضيق يصل بين بحرين أو محيطين

س: **حلل**: يتمتع الوطن العربي بموقع إستراتيجي **مهم**

(١) لأنه يقع وسط العالم

(٢) يشرف على أهم المضائق والقنوات البحرية مثل ( مضيق هرمز - ومضيق باب المندب )

<b>مضيق</b> <b>هرمز</b>	<b>مضيق</b> <b>باب المندب</b>	<b>قناة</b> <b>السويس</b>	<b>مضيق</b> <b>جبل طارق</b>
يصل بين الخليج العربي وخليج عمان	يصل بين خليج عدن والبحر الأحمر	تصل بين البحر الأحمر والبحر المتوسط	يصل بين البحر المتوسط والمحيط الأطلسي

<b>بحار</b>	<b>خلجان</b>	<b>محيطات</b>
البحر المتوسط البحر الأحمر - بحر العرب	الخليج العربي خليج عمان - خليج عدن	المحيط الأطلسي المحيط الهندي

س: عرف الموقع الفلكي : هو الموقع بالنسبة لخطوط الطول ودوائر العرض

س: **وضح** حدود الوطن العربي

✦ **غربا** : يمتد الوطن العربي من المحيط الأطلسي

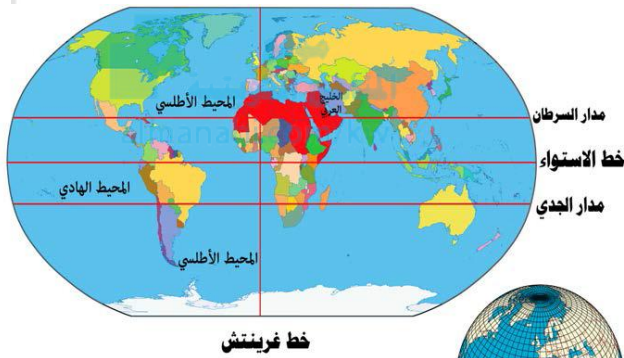
✦ **شرقا** : يمتد إلى بحر العرب والخليج العربي

✦ **جنوبا** : يمتد من خط الأستواء

✦ **شمالا** : يمتد إلى البحر المتوسط



دوائر العرض	خطوط الطول	
هي خطوط وهمية وليست حقيقية ترسم على الكرة الأرضية وتقسّم الكرة الأرضية إلى قسمين شمالي وجنوبي	هي خطوط وهمية وليست حقيقية ترسم على الكرة الأرضية وتقسّم الكرة الأرضية إلى قسمين شرقي وغربي	التعريف
١٨٠	٣٦٠	العدد
خط الإستواء	خط جرينتش	الخط الرئيسي
تساعد في معرفة أحوال المناخ في العالم	تساعد في تحديد الوقت في أنحاء العالم	مميزاته



س: عرف الموقع النسبي

هو موقع الدولة بالنسبة لليابسة والماء

س: **حلل**: الأهمية الجغرافية

للوطن العربي مهم جدا

(١) لأنه يتمتع بموقع إستراتيجي

(٢) يشغل الوطن العربي مكانا وسطا

بين قارات العالم الثلاث (٣) يطل على مسطحات مائية

ذات أهمية للملاحة والتجارة العالمية

س: **حلل**: تنافس الدول الإستعمارية في الإستيلاء على الوطن العربي منذ القرن ١٨ الميلادي مهم

(١) بسبب أهمية موقع الوطن العربي الجغرافي (٢) للإستيلاء عليه والإستفادة من الموارد الموجودة به

س: **حلل**: مالتائج المترتبة على الأهمية الجغرافية ( الإستراتيجية ) للوطن العربي

تنافس الدول الإستعمارية للإستيلاء عليه منذ القرن ١٨ الميلادي

الأهمية الحضارية والثقافية للوطن العربي مهم	الأهمية الإقتصادية للوطن العربي مهم
(١) قامت على أرضه حضارات عديدة (٢) على أرضه هبطت الديانات السماوية التي إنتشرت في أنحاء العالم	<ul style="list-style-type: none"> <li>★ لأنه يمثل منطقة عبور لحركة الملاحة والتجارة العالمية</li> <li>★ لأنه الجسر الذي يربط قارات العالم الثلاث</li> <li>★ ظهور النفط</li> </ul>



الإسلامية

المسيحية

اليهودية

س: اذكر الديانات السماوية الثلاث

س: ارسم مخطط سهى يوضح التضاريس بالوطن العربي

هضاب

وديان

سهول

جبال

س: عرف مايلي

هوكل مرتفع له قمة لاتقل إرتفاعه عن ١٠٠٠ متر تقريبا	الجبل
هي أرض مرتفعة سطحها مستوى وتمتد لمساحة كبيرة	الهضاب
هي أجزاء فسيحة من سطح الأرض تتميز بإستوائها وقلة إرتفاعها	السهول
هو حوض أو منخفض طبيعي على سطح الأرض وتمتد الأودية بين السهول والهضاب والجبال	الوديان

جبال الجناح الأسيوي	جبال الجناح الأفريقي
جبال عسير والحجاز	جبال البحر الأحمر - جبل مرة
قاسيون	جبال أطلس - جبل الأحجار

الدولة	الجبل	الدولة	الجبل
السودان	مرة	العراق	كردستان
الجزائر	الأحجار	عمان - ليبيا	الأخضر
ليبيا	تبستي	سوريا ولبنان	جبال بلاد الشام
الجزائر - المغرب	أطلس	السعودية واليمن	جبال البحر الأحمر الشرقية
اليمن - السعودية	عسير	مصر والسودان	جبال البحر الأحمر الغربية

س: اذكر هضاب الوطن العربي  
﴿ الجناح الأسيوي ﴾ هضبة بادية الشام - هضبة هضبة نجد

السهول الساحلية	السهول الفيضية النهرية
هي الأراضي المنبسطة التي تجاور سواحل البحار والمحيطات	هي الأراضي المنخفضة التي تكونت من التربة التي حملتها مياه الأنهار
السهول الساحلية الشرقية للخليج العربي السهول الساحلية للبحر الأحمر	نهر دجلة والفرات - نهر الأردن نهر النيل - نهر جوبا

﴿ الجناح الأفريقي ﴾ هضبة: أفريقيا الشمالية ( الصحراء الكبرى ) هضبة الشطوط

س: أذكر الخصائص المميزة للسهول الفيضية ج : تتميز بإستوائها وخصوبتها

مكتبات أحمد هدار

٩٧٧٦٤٩٤٩

٣

Ahmed Hdara  
Philosophy & psychology

س: **حلل**: تعتبر تربة السهول الفيضية من أكثر أنواع التربة الخصبة **مهم**

لأنها تكونت من التربة التي حملتها مياه الأنهار

س: **حلل**: تركز السكان في مناطق السهول الفيضية في الوطن العربي **مهم**


بسبب القرب من الأنهار - وسهولة الحركة - وخصوبة التربة

س: اذكر السهول الفيضية في الوطن العربي

الجنح الأفريقي	سهول نهر النيل في مصر والسودان - سهول نهر المجردة في تونس سهول نهر الشليف في الجزائر
الجنح الآسيوي	سهول نهر دجلة والفرات في سوريا ولبنان - سهل نهر الأردن في الأردن سهول نهر العاصي في سوريا ولبنان

س: عرف مايلي **مهم**

الضغط الجوي	الطقس	المناخ
هو وزن الهواء فوق أى مكان	هو حالة الجو خلال فترة زمنية قصيرة	هو حالة الجو خلال فترة زمنية طويلة



س: أذكر عناصر المناخ والطقس **مهم جدا**

- ✦ درجة الحرارة
- ✦ الرطوبة
- ✦ الأمطار
- ✦ الرياح
- ✦ الضغط الجوي

س: أذكر العوامل المؤثرة في مناخ الوطن العربي

- (١) الموقع بالنسبة لدوائر العرض
- (٢) القرب أو البعد عن المسطحات المائية
- (٣) التضاريس **مهم جدا**
- (٤) الرياح

علل	التعليل <b>مهم</b>
يؤثر القرب أو البعد عن خط الإستواء في مناخ الإقليم	الأماكن القريبة من خط الإستواء تتميز بارتفاع درجة حرارتها على مدار أيام السنة وهي أكثر اعتدالا في المناخ
يؤثر القرب أو البعد عن المسطحات المائية في المناخ	المدن الساحلية أكثر اعتدالا في المناخ صيفا وأدفاً نسبياً شتاءاً لأن البحر يلطف من درجة حرارتها
تؤثر التضاريس في المناخ	لأن لها تأثير على درجة الحرارة وتوزيع كمية الأمطار
تؤثر الرياح في مناخ الدول العربية	لأن لها تأثير على إرتفاع وإنخفاض درجة الحرارة وكمية الأمطار ونسبة الرطوبة
الأماكن القريبة من خط الإستواء تتميز بارتفاع درجة حرارتها على مدار أيام السنة	لأن أشعة الشمس تسقط عامودية عليها

س: **محلل** : المدن الساحلية تكون أكثر اعتدالا في المناخ من المدن الداخلية

لأن البحر يلطف من درجة حرارتها

س: **محلل** : الرياح التي تهب من منطقة جافة لا تسقط مطرا

بسبب توفر الرطوبة اللازمة لسقوط المطر

س: **صنف أنواع الرياح في الوطن العربي**

الدولة	الرياح	الدولة	الرياح
السودان	الهبوب	العراق	الشرقية
ليبيا	القبلي	الكويت - السعودية	الطوز
الجزائر	السيروكو والسيلانوا	السعودية	السموم
		مصر	الخماسين

س: **أكتب فيما يلي** : المناخ في الوطن العربي في فصل الصيف

موقع المناخ الكويتية

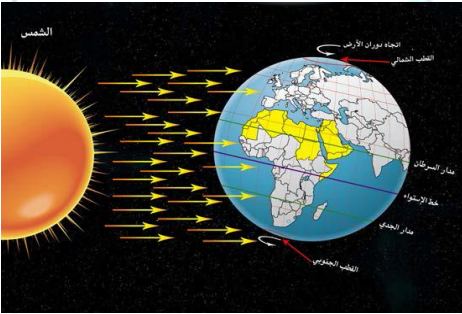
almanahj.com/ky

- تكون الشمس عمودية على المنطقة الواقعة بين خط الإستواء ومدار السرطان
- ترتفع الحرارة أكثر في وسط الوطن العربي وتكون معتدلة على سواحل البحر المتوسط وشمال

الوطن العربي

س: **مالنتائج المترتبة على**

( **تعامد الشمس على المنطقة الواقعة بين خط الإستواء ومدار السرطان في فصل الصيف** )



١) إرتفاع درجة الحرارة ( أكثر ) وسط الوطن العربي ( الصحراء )

٢) تعتدل الحرارة على سواحل البحر المتوسط وشمال الوطن العربي

س: **أكتب فيما يلي** : المناخ في الوطن العربي في فصل الشتاء

✓ تكون الشمس عمودية على المنطقة الواقعة بين خط

الإستواء ومدار الجدى

✓ ترتفع الحرارة في جنوب الوطن العربي وتقل كلما إتجهنا شمالا

س: **دلل على صحة العبارة** : للمسطحات المائية تأثير على المناخ

المدن الساحلية أكثر اعتدالا في المناخ صيفا وأدفاً نسبيا شتاء لأن البحر يلطف من درجة حرارتها

س: **عرف النبات الطبيعي**

هو النبات الذي ينمو تلقائيا عقب سقوط المطر دون تدخل من الإنسان

س: **عدد العوامل الرئيسية المؤثرة في تنوع النبات الطبيعي في الوطن العربي مهم**

٢) المناخ

١) نوع التربة

س: **أذكر خصائص النباتات الصحراوية المقاومة للجفاف بالوطن العربي مهم**

١) تقاوم الجفاف من خلال الجذور الطويلة ( النخيل )

٢) القدرة على تخزين المياه ( التين الشوكي )

٣) تحمي نفسها بلحاء سميك وأوراق إبرية



س: ماهي أنواع النبات الطبيعي بالوطن العربي نبات النخيل «: نبات الصبار

س: ارسم مخطط سهلي لمظاهر الحياه النباتية في الوطن العربي

### الحياه النباتية



س: قارن بين كلامن

المقارنة	الغابات المدارية الحارة	الغابات المعتدلة
<b>المميزات</b> <b>الخصائص</b>	(١) أشجارها وجذوعها ضخمة (٢) أوراقها عريضة تشابك أغصانها (٣) إرتفاعها كبير	(١) تمتاز بعدم كثافتها (٢) بعضها يكون دائم الخضرة وبعضها يتساقط اوراقها بالشتاء
<b>الأشجار</b>	الأبنوس - السدر - التاك الاثل - السنط	الأرز - العرعر - البلوط - الزيتون الحمضيات
<b>الإستخدام</b> <b>الأهمية الإقتصادية</b>	(١) تستخدم في البناء (٢) تستخدم في صناعة الأثاث	(١) يستخدم لحاء البلوط والسندبان في صناعة الفلين
		

س: قارن بين كلامن

وجه المقارنة	الحشائش الحارة السافانا	الحشائش المعتدلة الإستبس
<b>التعريف</b> <b>الخصائص</b>	هي حشائش طويلة يختلف نوعها حسب كمية المطر	هي حشائش قصيرة تنمو في الشتاء خلال موسم سقوط الأمطار
<b>الإستخدام الأهمية</b> <b>الإقتصادية ( الحيوانات )</b>	تتربي عليها الماشية	تتربي عليها الأغنام - الابل - الخيول
<b>مناطق إنتشارها</b>	جنوب ووسط السودان والصومال - جيبوتي	المغرب - تونس - الجزائر ليبيا × سوريا
		



س: ما هي أهم الوسائل (أساليب) التي يقاوم بها النبات الصحراوي للجفاف **مهم جدا**

Ω جذورها طويلة - القدرة على تخزين المياه

Ω تحمي نفسها بلحاء سميك وأوراق إبرية

❖ الحياة الحيوانية في الصحراء

حيوانات	الطيور	الحشرات	الزواحف	الحيوانات القارضة
الأبل - الماعز الأرانب البرية	الصقور - البوم الجبارة	الجراد - العقارب الخنفس	الأفاعي	الفئران

س: ما أهمية المياه في حياة الإنسان **مهم جدا**

☀ نقطة مياه تساوي حياة : « وجعلنا من الماء كل شيء حي »

س: عدد مصادر المياه في الوطن العربي **مهم جدا**

☀ الأنهار : « الأمطار »

☀ المياه الجوفية : « البحيرات »

س: عرف النهر

هو مجرى مائي عذب ينحدر على الدوام لينتهي إلى بحر أو نهر آخر أو ينتهي تدريجياً في الصحراء

س: ما الصفات التي تتصف بها الأمطار في الوطن العربي **مهم جدا**

( ١ ) تذبذب كمية الأمطار من عام لآخر

( ٢ ) تقتصر على الأطراف الشمالية والجنوبية ( ٣ ) قليلة بصفة عامة

س: عدد أشكال المياه الجوفية

الينابيع

العيون

الأبار

س: عرف مايلي

❖ المياه الجوفية : هي المياه التي توجد في باطن الأرض

❖ الأفلاج : هي الماء الجاري ( مجرى صغير مائي في الأرض )

❖ البحيرة : هي مسطح مائي تحيط به اليابسة من جميع الإتجاهات

س: **حلل** : تعتمد دولة الكويت على تحلية مياه البحر اعتماداً كاملاً

بسبب ندرة المياه العذبة

س: **بم تفسر** : إتجاه عدد من الدول العربية على البحار لتأمين حاجتها من المياه العذبة

لأن هذه الدول تقل فيها مصادر المياه العذبة مثل دول الخليج العربي وليبيا

س: عدد أهم محطات تحلية المياه في دولة الكويت

∇ محطة الشويخ : « محطة الدوحة : « محطة الصبية : « محطة الزور

س: **أى مصدر** : من مصادر المياه تعتمد عليه دولة الكويت ولماذا

المياه المحلاة من البحر - لعدم وجود مصدر آخر

س: عدد طرق ترشيد استخدام المياه **مهم جدا**

✦ ترشيد استخدام المياه والحد من التبذير

✦ استخدام وسائل الري الحديثة كالرش : « إقامة البحيرات والسدود

س: **محلل** : قامت الحكومات بإنشاء السدود على الأنهار والأودية

لتنظيم جريان مياه الأنهار والحفاظ على الموارد المائية

س: لاحظ الجدول جيدا ثم إستعن به للإجابة على مايلي

✎ إستخرج من الجدول الدولة الأولى في إستخدام المياه المحلاة

الدولة	النسبة
الكويت	٥٥%
ليبيا	٥%
الإمارات	٢٧%
قطر	٣٨%

**الكويت**

✎ رتب الدول العربية في الجدول الذي أمامك ترتيبا تنازليا حسب

إستخدامها للمياه المحلاة

**ليبيا**

**الإمارات**

**قطر**

**الكويت**

✎ مالمسطحات المائية التي تعتمد عليها دول الخليج العربية

في تحلية المياه

**البحر الأحمر**

**الخليج العربي**

## الوحدة الثانية

س: عرف الحضارة

هي كل ما يطرأ على المجتمع من تقدم وتطور ورفق في جميع نواحي الحياه الدينية والسياسية والإقتصادية

س: عدد الحضارات في الوطن العربي

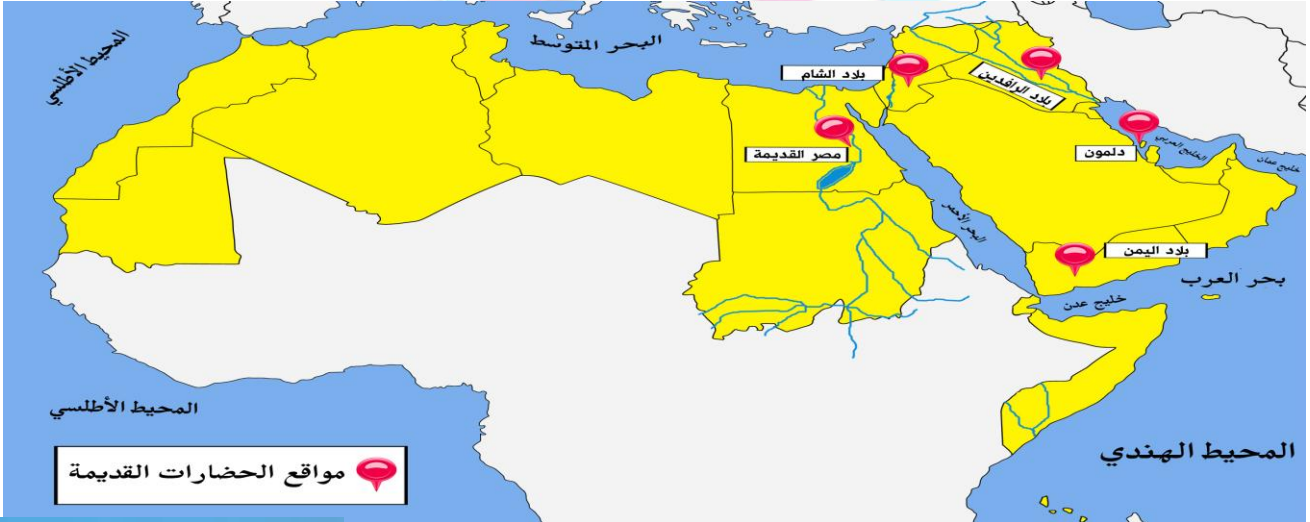
✦ حضارة مصر القديمة : الأهرامات في مصر

✦ حضارة بلاد الشام : أثار تدمر في بلاد الشام

✦ حضارة بلاد الرافدين : بابل في العراق

✦ حضارة دلمون : معبد باربار في البحرين

✦ حضارة بلاد اليمن : سد مأرب في اليمن



س: عدد المقومات الأساسية لقيام الحضارة **مهم**

(١) الموقع الإستراتيجي (٣) إمتداد الصحراء (٥) العنصر البشري

(٢) توفر الثروات الطبيعية (٤) إعتدال المناخ وجفافه

س: ماهي العوامل التي ساعدت على قيام الحضارة المصرية القديمة **مهم**

Ω تنوع الصخور والمعادن : « توفر الثروات الطبيعية : « وفرة المياه ( نهر النيل )

Ω إمتداد الصحراء : « توفر العنصر البشري



س: أذكر أهم الصناعات التي برع فيها المصريون

صناعة الأواني الفخارية والمعدنية - الملابس الكتانية - السفن - الورق

س: أذكر أهم المحاصيل الزراعية في مصر القديمة

القمح - البقول - الفواكه - الكتان - تربية الماشية

س: **حلل**: كان للعوامل الطبيعية دورهم في قيام الحضارة المصرية القديمة وتطورها وحمايتها من الغزوات

(١) لسهولة الدفاع عنها

(٢) إستقرار سكانها وممارستهم لأنشطة مختلفة

س: أذكر أهم الآثار المصرية: الأهرام: المومياة: معبد ابوسمبل

س: **حلل**: إهتمام المصريون بتحنيط جثث موتاهم وبناء المقابر **مهم**

لإعتقادهم أن الحياة تعود إلى الجسم بعد الموت البعث والخلود

س: عرف البعث و الخلود: هو عودة الروح للجسد بعد الموت

س: عدد العلوم والفنون التي برع فيها المصريون القدماء

**الفلك** **الكيمياء** **التحنيط** **النحت** **البناء** **الكتابة**

س: عرف بلاد الرافدين

تعنى بلاد ما بين النهرين ويطلق عليها حاليا إسم العراق

س: **حلل**: كانت بلاد الرافدين موطننا للعديد من الحضارات القديمة

س: **حلل**: ماهى عوامل قيام حضارة بلاد الرافدين **مهم**

بسبب موقعها الممتاز وخصوبة تربتها وتوفر المياه العذبة

س: أهم الحضارات التي قامت في بلاد الرافدين

∇ السومريون ∷ البابليون والأشوريون

∇ الأكاديون ∷ الكلدانيين

س: عدد عوامل أسباب ازدهار الزراعة ببلاد الرافدين **مهم**

بسبب (١) خصوبة التربة (٢) سعة السهول (٣) وفرة المياه

س: صنف المنتجات التجارية الواردة

والصادرة من وإلى بلاد الرافدين

**الصادرات**: المنتجات الزراعية والمنسوجات

**الواردات**: المعادن: الأحجار: الأخشاب


س: ماهى أهم الصناعات في بلاد الرافدين: صناعة الحلى والأواني الفخارية

س: ماهى العلوم والفنون التي برع فيها سكان بلاد الرافدين

الهندسة - الحساب - الفلك - الطب - النحت

والبناء والرسم - الأواني الفخارية

أ	ب	ج	د
هـ	و	ز	ح
ط	ي	ك	ل
م	ن	س	ع
ف	ق	ص	غ
ط	ق	ح	ك
ر	ز	ح	ك



س: **دلل على صحة العبارة** : تطورت العلوم لدى سكان بلاد الرافدين  
برعوا في الهندسة والحساب والفلك والطب

س: **تكلم عن الحياة الفكرية في حضارة بلاد الرافدين**  
✦ اخترعوا السومريون نوعاً من الكتابة عرفت باسم الكتابة المسمارية  
✦ التي تعد من أقدم أنواع الكتابة في العالم وعددها ٦٠٠ حرف



### حمورابي

هو ملك بابل وصاحب شريعة قانونية التي إحتوت على ٢٨٢ مادة قانونية

✦ ما أهم ما إشتهر به وما عددها : شرائع حمورابي ٢٨٢ مادة قانونية

✦ ما لبداً الذي إعتد عليه ( السن بالسن والعين بالعين )

✦ ما اثر تطبيق الشرائع ( إنتشار الأمن والأمان في البلاد )

✦ ما إسم الحضارة التي ظهر بها ( دلمون )

س: **حلل** : إنتشار الأمن والأمان في بلاد الرافدين

لأن شرائع حمورابي إعتمدت على مبدأ السن بالسن والعين بالعين

س: **حلل** : تعد منطقة جنوب غرب شبه الجزيرة العربية ملائمة لقيام الحضارة

بسبب (١) توفر المياه العذبة (٢) المناخ المناسب (٣) الموقع المتميز

س: **أذكر حضارات بلاد الرافدين**

✦ معين وعاصمتها ← **فرناو**

✦ سبأ وعاصمتها **مأرب** « حمير وعاصمتها **ريدان** »

س: **أين تقع حضارة معين** « تقع شمال اليمن وعاصمتها فرناو »

س: **أين تقع حضارة سبأ** « في وسط اليمن وعاصمتها مأرب »

س: **أين تقع حضارة حمير** « تقع جنوب بلاد اليمن وعاصمتها ريدان »

س: **حلل** : تشتهر حضارات بلاد اليمن بالمشاريع الصغيرة **مهم**

بسبب توفر المياه العذبة والمناخ المناسب لقيام الزراعة وتميزها بالموقع الذي يسمح لقيام النشاط التجاري

س: **أذكر المظاهر الحضارية لحضارات بلاد اليمن**

✦ إشتهر سكانها بالمشاريع الزراعية

✦ تنظيم عمليات الري : « بناء السدود »

س: **دلل على صحة العبارة** : كان أهل اليمن أسياة التجارة العربية

✦ سيطروا على الطرق التجارية وإمتدت تجارتهم بين الشمال والجنوب

✦ التبادل التجاري مع الحضارات المجاورة مثل الحضارة المصرية وحضارة بلاد الرافدين

س: **حلل** : أهل اليمن هم أسياة التجارة العربية **مهم** **جدا**

(١) بسبب سيطرتهم على الطرق التجارية

(٢) لإمتداد تجارتهم بين شمال و جنوب شبه الجزيرة العربية

(٣) بسبب التبادل التجاري مع حضارات بلاد مصر القديمة وبلاد الرافدين

الدولة	معين	سبأ	حمير
العاصمة	قرناو	مأرب	ريدان
الموقع	شمال اليمن	وسط اليمن	جنوب اليمن
المعالم	مدينة يثل الدينية	نقش سبأ	مائدة قرابين

س: عرف أو ال

إسم أطلق على البحرين في مرحلة النفوذ الفارسي نسبة إلى ضم إسمه أو ال كانت تعبده  
قبيلة وائل التي حكمت البحرين آنذاك

س: أذكر الأنشطة الاقتصادية لسكان حضارة دلمون

الزراعة صيد الأسماك الغوص على اللؤلؤ

س: أين تقع حضارة دلمون: وسط حضارات الشرق القديم

س: **حلل**: تعتبر حضارة دلمون مركزاً مهماً للمواصلات البحرية **مهم**

(١) بحكم موقعها وسط الخليج العربي

(٢) بسبب إتصالها بالحضارات المجاورة لها

س: أذكر الديانات التي هبطت في الوطن العربي **مهم**

الديانة	الكتاب	النبي
الإسلام	القرآن الكريم	محمد ﷺ
المسيحية	الإنجيل	عيسى عليه السلام
اليهودية	التوراة	موسى عليه السلام

س: عرف مايلي

الديانة اليهودية	هي التي نزلت على سيدنا موسى عليه السلام وكتابه التوراه
الديانة المسيحية	هي التي نزلت على سيدنا عيسى عليه السلام وكتابه الإنجيل
الديانة الإسلامية	هي التي نزلت على سيدنا محمد وكتابه القرآن الكريم

س: متى ولد سيدنا عيسى عليه السلام: ١ ميلادي في بيت لحم بفلسطين

س: متى نزل الوحي على الرسول عليه السلام وأين: عام ٦١٠ م في مكة

س: **حلل**: للوطن العربي مكانة روحية مقدسة **مهم**

لأنه مهبط الديانات السماوية الثلاث وتوجد به الاماكن المقدسة

س: وضع أثر الحضارة العربية الإسلامية في الحضارة الأوروبية

أثارت الحضارة الإسلامية أرجاء العالم حيث كانت أوروبا تعيش في عصور الظلام بسبب سيطرة الكنيسة على عقول

الناس وانتقلت الحضارة الإسلامية إلى أوروبا بفضل مراكز الإشعاع مثل بلاد الأندلس وصقلية وبلاد الشام

س: **خلل** : كانت أوروبا تعيش في عصور ظلام أثناء ازدهار الحضارة الإسلامية

بسبب سيطرة الكنيسة على عقول الناس

س: حدد مراكز إنتقال الحضارة العربية الإسلامية إلى أوروبا **مهم**



➤ بلاد الأندلس **مسجد قرطبة**

➤ صقلية **قصر الحمراء**

➤ بلاد الشام **جامع المنصور**

➤ الإحتلال الصليبي لبلاد الشام

س: أذكر الأسس التي قامت عليها الحضارة العربية الإسلامية **مهم**

الإسلام

اللغة العربية




أ	ب	ت	ث
ج	د	ذ	ر
س	ش	ص	ض
ط	ظ	ع	ف
ق	ك	خ	د
ر	ز	ح	ط
ي	ق	ظ	ن

( الحضارة الفرعونية القديمة )

الهيروغليفية



حضارة بلاد اليمن



حمورابي حضارة بلاد الرافدين

مذكرات أحمد حدارة

٩٧٧٦٤٩٤٩

١٢

Ahmed Hdara  
Philosophy & psychology

## تعريفات

هو مجموعة الدول العربية التي يجمعها عدد من السمات المشتركة (اللغة والدين) ويمتد ضمن قارتين من أكبر قارات العالم مساحة	الوطن العربي	
هو أى موقع ذى مكانة مهمة بين دول العالم	الموقع الإستراتيجى	
هى جميع أشكال المياه على سطح الأرض مثل والمحيطات والخلجان	المسطحات المائية	
هى مجرى مائى صناعى ضيق يشق لأغراض الرى أوالنقل	القناة	
هو ممر مائى ضيق يصل بين بحرين أو محيطين	المضيق	
هو الموقع بالنسبة لخطوط الطول ودوائر العرض	الموقع الفلكى	
هى خطوط وهمية وليست حقيقية ترسم على الكرة الأرضية وتقسّم الكرة الأرضية إلى قسمين <b>شرقى وغربى</b>	خطوط الطول	
هى خطوط وهمية وليست حقيقية ترسم على الكرة الأرضية وتقسّم الكرة الأرضية إلى قسمين <b>شمالى وجنوبى</b>	دوائر العرض	
هو موقع الدولة بالنسبة لليابسة والماء	الموقع النسبى	
هوكل مرتفع له قمة لاتقل إرتفاعه عن ١٠٠٠ متر تقريبا	الجبل	
هى أرض مرتفعة سطحها مستوى وتمتد لمساحة كبيرة	الهضاب	
هى أجزاء فسيحة من سطح الارض تتميز بإستوائها وقلة إرتفاعها	السهول	
هو حوض أو منخفض طبيعى على سطح الأرض وتمتد الأودية بين السهول والهضاب والجبال	الوديان	
هى الاراضى المنخفضة التى تكونت من التربة التى حملتها مياه الأنهار	السهول الفيضية النهرية	
هى الاراضى المنبسطة التى تجاور سواحل البحار والمحيطات	السهول الساحلية	
الضغط الجوى	الطقس	المناخ
هو وزن الهواء فوق أى مكان	هو حالة الجو خلال فترة زمنية قصيرة	هو حالة الجو خلال فترة زمنية طويلة

مذكرات أحمد حدارة

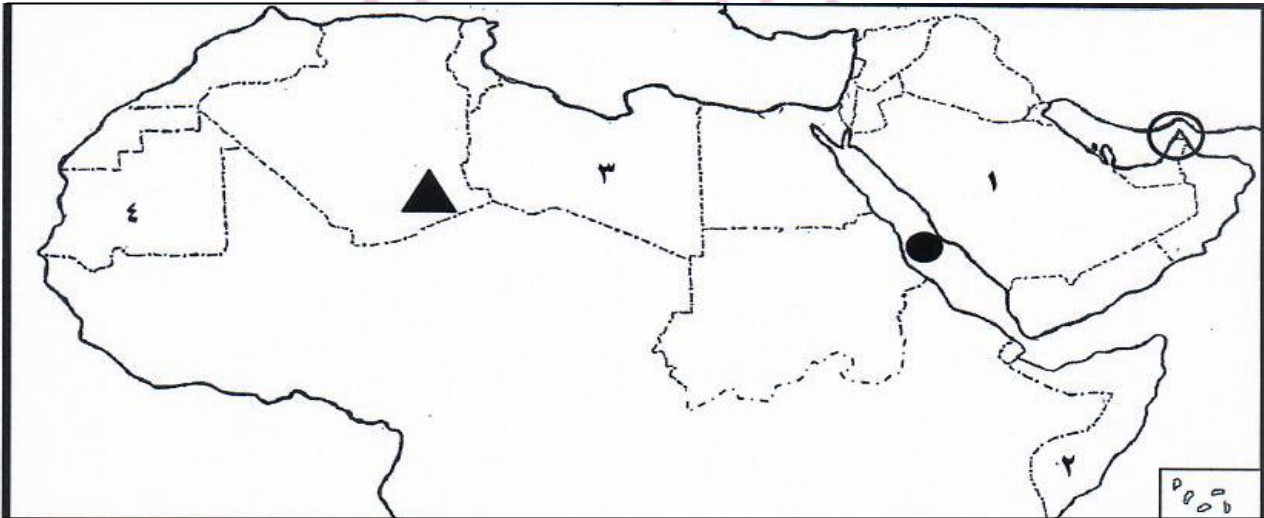
٩٧٧٦٤٩٤٩

١٣

Ahmed Hdara  
Philosophy & psychology

هو النبات الذي ينمو تلقائياً عقب سقوط المطردون تدخل من الإنسان	النبات الطبيعي
هو مجرى مائي عذب ينحدر على الدوام لينتهي إلى بحر أو نهر آخر أو ينتهي تدريجياً في الصحراء	النهر
هي المياه التي توجد في باطن الأرض	المياه الجوفية
هي الماء الجارى ( مجرى صغير مائي في الأرض )	الأفلاج
هي مسطح مائي تحيط به اليابسة من جميع الإتجاهات	البحيرة
هي كل ما يطرأ على المجتمع من تقدم وتطور ورقي في جميع نواحي الحياه الدينية والسياسية والإقتصادية	الحضارة
تعني بلاد ما بين النهرين ويطلق عليها حالياً اسم العراق	بلاد الرافدين
هو ملك بابل وصاحب شريعة قانونية التي إحتوت على ٢٨٢ مادة قانونية	حمورابي
إسم أطلق على البحرين في مرحلة النفوذ الفارسي نسبة إلى ضم إسمه أوال كانت تعبده قبيلة وائل التي حكمت البحرين آنذاك	أوال
نزلت على سيدنا موسى عليه السلام وكتابه التوراه	الديانة اليهودية
نزلت على سيدنا عيسى عليه السلام وكتابه الإنجيل	الديانة المسيحية
نزلت على سيدنا محمد وكتابه القرآن الكريم	الديانة الإسلامية

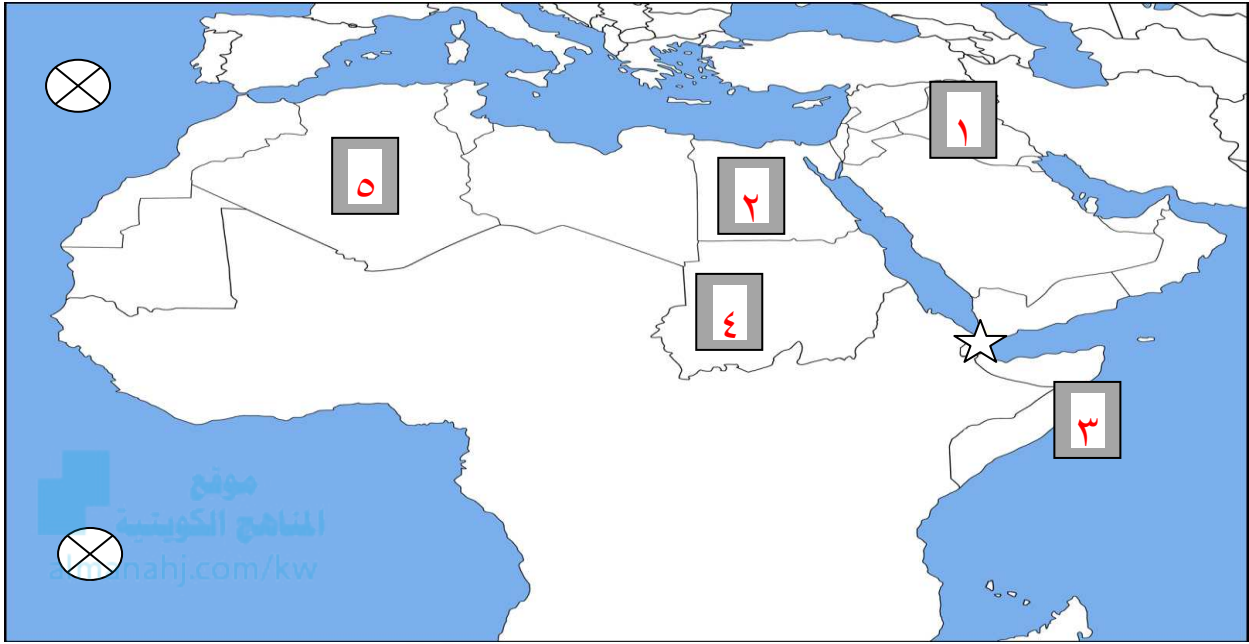
س: لاحظ خريطة الوطن العربي ثم أجب عن الأسئلة التي تليها



- ☆ الشكل ▲ يرمز إلى جبال تسمى الأحجار
- ☆ الرمز ● يرمز إلى مسطح مائي يسمى البحر الأحمر
- ☆ الرقم ١ على الخريطة يمثل دولة عربية تسمى السعودية
- ☆ الدولة العربية التي يمر بها خط الإستواء يمثلها على الخريطة رقم ٢
- ☆ الشكل ○ يمثل مضيق يسمى هرمز



س: بعد دراسة خريطة الوطن العربي الصماء ثم نفذ عليها مايلي



عين على الخريطة بالرموز التالية مايلي

- المحيط الأطلسي ⊗
- مضيق باب المندب ☆
- الدولة التي يمر بها خط جرينتش على الخريطة يمثلها الرقم ٥
- جبل مرة يمثل على الخريطة الرقم ٤
- سهول نهر دجلة والفرات على الخريطة يمثلها الرقم ١

مع تمنياتنا لكم بالنجاح والتوفيق

أحمد حضاره



٩٧٧٦٤٩٤٩

١٥

Ahmed Hdara  
Philosophy & psychology