

تم تحميل هذا الملف من موقع المناهج الكويتية



الملف بنك أسئلة

[موقع المناهج](#) ⇐ [المناهج الكويتية](#) ⇐ [الصف الرابع](#) ⇐ [اجتماعيات](#) ⇐ [الفصل الأول](#)

روابط مواقع التواصل الاجتماعي بحسب الصف الرابع



روابط مواد الصف الرابع على تلغرام

[الرياضيات](#)

[اللغة الانجليزية](#)

[اللغة العربية](#)

[التربية الاسلامية](#)

المزيد من الملفات بحسب الصف الرابع والمادة اجتماعيات في الفصل الأول

مسودة كتاب الطالب في مادة الاجتماعيات	1
الوحدة الاولى في مادة الاجتماعيات لعام	2
مراجعة عامة في مادة الاجتماعيات	3
تدريبات مهمة في مادة الاجتماعيات لعام	4
اوراق عمل مهمة في مادة الاجتماعيات	5



منطقة مبارك الكبير التعليمية
التوجيه الفني للاجتماعيات



وزارة التربية
الإدارة العامة لمنطقة مبارك الكبير التعليمية
التوجيه الفني للاجتماعيات

موقع
المنهاج الكويتية
almanahj.com/kw



بنك أسئلة كتاب الصف الرابع بلادي الكويت

من صفحة ١٦ إلى صفحة ١٨

إعداد

أ.ع. علي ماضي / أ.ع. يوسف جمال

الموجه الفني الأول

أ.ع. محمد علي العتيبي




وزارة التربية
الإدارة العامة لمنطقة مبارك الكبير التعليمية
التوجيه الفني للاجتماعيات

الموجه الأول للاجتماعيات
محمد علي العتيبي

عرف المفاهيم والمصطلحات التالية

- **الدولة:** مجموعه من الافراد يعيشون على قطعة ارض محده وتنظمهم سلطة. ص ١٦
- **الخور:** لسان بحري ممتد داخل الأرض. ص ٢٢
- **الخيران:** هي جمع كلمة خور وتعني لسان من الماء يمتد داخل الأرض. ص ٢٢
- **شبه الجزيرة:** مساحة من اليابس يحيط بها الماء من ثلاث جهات. ص ٢٧
- **الجزيرة:** قطعه من اليابس تحيط بها المياه من جميع الاتجاهات. ص ٢٧
- **الرأس:** لسان من اليابس يمتد داخل الماء. ص ٢٨
- **التضاريس:** اشكال سطح الأرض من مرتفعات ومنخفضات. ص ٣٠
- **السهل:** أرض مستويه المساحة وواسعه. ص ٣٠
- **الوادي:** منخفض طولي بين منطقتين مرتفعتين. ص ٣٠
- **التل:** ارض مرتفعة قليلا عن مستوى الأراضي المحيطة بها. ص ٣٠
- **الطقس:** حالة الجو خلال فترة قصيرة من يوم الى اسبوع. ص ٣٣
- **المناخ:** حالة الجو خلال فترة زمنية طويلة لا تقل عن ثلاثين عام. ص ٣٣
- **الكوت:** الحصن الصغير الذي يستخدم لتخزين الأسلحة والمؤن. ص ٣٩
- **القرين:** اسم دولة الكويت قديما والذي يعني تصغير القرن. ص ٣٩
- **الاستقلال:** مسؤولية الدولة بصورة مباشرة عن إدارة شؤونها الداخلية والخارجية. ص ٤٩
- **الزيادة الطبيعية:** عدد المواليد - عدد الوفيات. ص ٥٧
- **الزيادة غير الطبيعية:** الزيادة الناتجة الهجرة. ص ٥٧
- **الكثافة السكانية:** هي عدد السكان ÷ مساحة الدولة. ص ٥٧
- **الحرف القديمة:** هي عمل يحتاج الى مهارة وصناعة يدوية. ص ٧٠
- **القلاف:** هو صانع السفن الصغيرة والكبيرة مثل البوم والسنبوك وغيرها من السفن. ص ٧٠



الكوت (الحصن الصغير)



المدرسة المباركية ١٩١١م



سور الكويت الثالث ١٩٢٠م



موقع
الكويتية
almanahj.com/kw

المصنفات الزراعية

- **النقعة** : هو مكان صناعة وإصلاح السفن. ص ٧٠
- **الصايغ** : صانع المجوهرات والحلي. ص ٧٠
- **النكاس** : مصلح الرحى التي تطحن القمح. ص ٧٠
- **الخراز** : صانع المشغولات الجلدية. ص ٧٠
- **الغواص** : هو الشخص الذي يستخرج اللؤلؤ من أعماق البحار. ص ٧٣
- **الطواش** : هو تاجر اللؤلؤ قديما. ص ٧٣
- **الفرضة** : سوق الخضار. ص ٧٥
- **المخيول**: دمية توضع في المزارع لإبعاد الطيور عن المحاصيل الزراعية . ص ٧٦
- **القصص** : الصيد البري. ص ٧٩
- **الأمثال** : هو كلام موزون واضح المعنى موجز اللفظ يتناوله الناس ليعبر عن حادث ما. ص ٨٥



غواص



المخيول



القلاف

ضع خطا تحت الخيار الصحيح من بين الخيارات التي تلي كل عبارة

- عدد أعضاء مجلس الأمة الحالي هو : ص ١٨

أ- <u>٥٠ عضو</u>	ب- ٥٥ عضو	ج- ٦٠ عضو	د- ٦٥ عضو
------------------	-----------	-----------	-----------

- يتم انتخاب أعضاء مجلس الأمة لدولة الكويت خلال مدة زمنية تقدر بـ : ص ١٨

أ- سنتان	ب- ثلاث سنوات	ج- <u>أربع سنوات</u>	د- خمس سنوات
----------	---------------	----------------------	--------------

- الجهة الواقعة بين جهة الشمال وجهة الغرب هي.....:ص ٢٠

أ- الجنوب الغربي	ب- <u>الشمال الغربي</u>	ج- الشمال الشرقي	د- الجنوب الشرقي
------------------	-------------------------	------------------	------------------

- تشرق الشمس من جهة:ص ٢١

أ- <u>الشرق</u>	ب- الغرب	ج- الشمال	د- الجنوب
-----------------	----------	-----------	-----------

- الدولة التي تحد دولة الكويت من جهة الشمال والشمال الغربي:ص ٢٢

أ- البحرين	ب- <u>العراق</u>	ج- السعودية	د- قطر
------------	------------------	-------------	--------

- الدولة التي تحد دولة الكويت من جهة الجنوب والجنوب الغربي:ص ٢٢

أ- البحرين	ب- العراق	ج- <u>السعودية</u>	د- قطر
------------	-----------	--------------------	--------

- تبلغ مساحة دولة الكويت:ص ٢٢

أ- ١٥,٨١٨ كم ^٢	ب- ١٦,٨١٨ كم ^٢	ج- <u>١٧,٨١٨ كم^٢</u>	د- ١٨,٨١٨ كم ^٢
---------------------------	---------------------------	---------------------------------	---------------------------

- المسطح المائي الذي يحده دولة الكويت من جهة الشرق يسمى.....:ص ٢٣

أ- بحر العرب	ب- <u>الخليج العربي</u>	ج- البحر الأحمر	د- خليج عمان
--------------	-------------------------	-----------------	--------------

- يبلغ عدد جزر دولة الكويت.....:ص ٢٧

أ- ٦ جزر	ب- ٧ جزر	ج- ٨ جزر	د- <u>٩ جزر</u>
----------	----------	----------	-----------------

- الجزيرة الكويتية التي تقع داخل جون الكويت.....:ص ٢٨

أ- <u>أم النمل</u>	ب- فيلكا	ج- بوبيان	د- قاروه
--------------------	----------	-----------	----------

- الاسم الذي كان يطلق على دولة الكويت قديماً.....ص:٣٩

أ- <u>القرين</u>	ب- الحصن	ج- الجهراء	د- الشامية
------------------	----------	------------	------------

- المدرسة التي افتتحت في عهد الشيخ مبارك الصباح عام ١٩١١م هي:ص:٤٥

أ- الأحمديّة	ب- الشرقية	ج- <u>المباركية</u>	د- القبليّة
--------------	------------	---------------------	-------------

- تحررت دولة الكويت في عهد الشيخ جابر الأحمد الصباح في عام.....ص:٤٥

أ- ١٩٩٠ م	ب- <u>١٩٩١ م</u>	ج- ١٩٩٢ م	د- ١٩٩٣ م
-----------	------------------	-----------	-----------

- تحررت دولة الكويت في عهد الشيخ.....ص:٤٥

أ- <u>جابر الأحمد الصباح</u>	ب- صباح الأحمد الصباح	ج- سعد العبدالله الصباح	د- نواف الأحمد الصباح
------------------------------	-----------------------	-------------------------	-----------------------

- أمير دولة الكويت الذي تم اختياره من قبل الأمم المتحدة قائد للعمل الإنساني عام ٢٠١٤م الشيخ...ص:٤٥

أ- صباح السالم	ب- <u>صباح الأحمد الصباح</u>	ج- جابر الأحمد الصباح	د- عبدالله السالم
----------------	------------------------------	-----------------------	-------------------

- أمير دولة الكويت الذي لقب بأمير القلوب الشيخ.....ص:٤٥

أ- <u>جابر الأحمد الصباح</u>	ب- نواف الأحمد الصباح	ج- صباح الأحمد الصباح	د- عبدالله السالم
------------------------------	-----------------------	-----------------------	-------------------

- افتتحت المدرسة الاحمدية في عهد الشيخ.....ص:٤٥

أ- صباح السالم	ب- <u>أحمد الجابر الصباح</u>	ج- عبدالله السالم	د- صباح الأحمد
----------------	------------------------------	-------------------	----------------

- بدأ استخدام النشيد الوطني الحالي لدولة الكويت في عهده الشيخ.....ص:٥٢

أ- <u>جابر الأحمد الصباح</u>	ب- صباح الأحمد الصباح	ج- عبدالله السالم الصباح	د- صباح السالم الصباح
------------------------------	-----------------------	--------------------------	-----------------------

- العام الذي رفعه فيه العلم الحالي لدولة الكويت.....ص:٥٢

أ- ١٩٦٠	ب- <u>١٩٦١</u>	ج- ١٩٦٢	د- ١٩٦٣
---------	----------------	---------	---------

- مؤلف النشيد الوطني لدولة الكويت هو الشاعر.....ص:٥٤

أ- <u>أحمد العدواني</u>	ب- إبراهيم الصولة	ج- فهد العسكر	د- بدر بورسلي
-------------------------	-------------------	---------------	---------------

- التعداد السكاني في دولة الكويت يتم كل:ص ٥٦

أ- ٣ سنوات	ب- ٤ سنوات	ج- ٥ سنوات	د- ٦ سنوات
------------	------------	------------	------------

- أول تعداد سكاني تم إجراءه في دولة الكويت عام:ص ٥٦

أ- ١٩٥٤	ب- ١٩٥٥	ج- ١٩٥٦	د- ١٩٥٧
---------	---------	---------	---------

- أكبر محافظات دولة الكويت من حيث المساحة محافظة:ص ٥٨

أ- <u>الجهراء</u>	ب- حولي	ج- مبارك الكبير	د- الأحمدية
-------------------	---------	-----------------	-------------

- أصغر المحافظات مساحة في دولة الكويت:ص ٥٨

أ- الجهراء	ب- <u>حولي</u>	ج- مبارك الكبير	د- العاصمة
------------	----------------	-----------------	------------

- أكثر المحافظات كثافة في دولة الكويت:ص ٥٨

أ- الجهراء	ب- حولي	ج- <u>الفروانية</u>	د- العاصمة
------------	---------	---------------------	------------

- محافظة يتركز بها الكويتيون:ص ٥٨

أ- الجهراء	ب- حولي	ج- <u>الأحمدية</u>	د- العاصمة
------------	---------	--------------------	------------

- تتبع الجزر الكويتية إداريا محافظة:ص ٥٨

أ- الجهراء	ب- حولي	ج- مبارك الكبير	د- <u>العاصمة</u>
------------	---------	-----------------	-------------------

- الفصل الذي يرتدي فيه الرجل الكويتي دشداشة لونها فاتح هو:ص ٦٨

أ- <u>الصيف</u>	ب- الشتاء	ج- الخريف	د- الربيع
-----------------	-----------	-----------	-----------

- صانع السفن الصغيرة والكبيرة في دولة الكويت قديما هو:ص ٧٠

أ- الصايغ	ب- <u>القلاب</u>	ج- الخراز	د- الطواش
-----------	------------------	-----------	-----------

- صانع المجوهرات والحلي في دولة الكويت قديما هو:ص ٧٠

أ- <u>الصايغ</u>	ب- القلاف	ج- الخراز	د- الغواص
------------------	-----------	-----------	-----------

ضع علامة (v) أمام العبارة الصحيحة وعلامة (x) أمام العبارة الخاطئة

- سطح دولة الكويت ينحدر تدريجاً من الشرق الى الغرب. (x) ص ٢٢
- جزيرة فيلكا كانت مأهولة بالسكان. (v) ص ٢٧
- حاكم الكويت الأول هو الشيخ عبد الله بن صباح. (x) ص ٤٣
- أول تعداد سكاني لدولة الكويت في عام ١٩٥٧. (v) ص ٥٦
- أحدث المحافظات تأسيساً هي محافظة حولي. (x) ص ٥٨
- اسم الكويت قديماً القرين . (v) ص ٣٩
- سكنت أسرة الصباح قصر صباحا في منطقة الاحساء . (x) ص ٤١
- شيد سور الكويت الثالث في عام ١٩١١ م. (x) ص ٤٣
- القصر الأحمر يقع في محافظة الجهراء . (v) ص ٤٣
- الشيخ صباح السالم الحاكم ١٢ لدولة الكويت . (v) ص ٤٤
- لقب الشيخ جابر الأحمد الصباح بأمير القلوب . (v) ص ٤٥
- تم توقيع اتفاقية الحماية مع بريطانيا في عهد الشيخ أحمد الجابر . (x) ص ٤٧
- انضمت الكويت الى جامعة الدول العربية بعد الاستقلال . (v) ص ٤٩
- استخدم النشيد الوطني في ٢٥ فبراير . (v) ص ٥٢
- أول عملة صكت في عهد الشيخ عبدالله بن صباح (v) ص ٥٤
- تم تصدير النفط في عام ١٩٣٦ م. (x) ص ٥٦
- تخرج سفن الغوص إلى البحر في بداية فصل الربيع . (x) ص ٧٣
- اعتمد قديماً في ري المزروعات على الآبار . (v) ص ٧٥
- شجرة النخيل ذات فوائد كثيرة . (v) ص ٧٦
- ساعدت الظروف المناخية على انتشار هواية القنص قديماً . (v) ص ٧٩
- الصقر من الأدوات التي تساعد على ممارسة هواية القنص. (v) ص ٧٩
- من أنواع الحيوانات التي تعيش في بيئة الكويت الصحراوية الثعبان والفيل . (x) ص ٨٠

أكتب المثال المناسب لكل من العبارات التالية (ص ٨٦-٨٧)



ما يعينك إلا يمينك

يقال لحث الانسان على الاعتماد على نفسه

اسفرت وانورت

يقال للترحيب بالضيف القادم بعد غياب

الخيرة فيما اختاره
الله

عدم الحزن والرضا بقضاء الله وقدره

اللي ماله أول
ماله تالي

الاعتزاز بالماضي أساس المستقبل

الجمعة معزة

دعوة للتآلف الأرحام ومحبتهم وتعاونهم

الناس للناس
والكل بالله واحد

الحث على مساعدة الآخرين



أكتب فيما يلي :

● **مميزات سطح بلادي الكويت . ص ٢٢**

- سطح مستوي.
- يتكون سطحها من سهول رملية يتخللها بعض التلال.
- ساحل رملي منبسط قليل التعاريج.
- ينحدر السطح تدريجياً من الغرب إلى الشرق.

● **أهمية موقع دولة الكويت بالنسبة للعالم . ص ٢٤**

- تحتل موقع متوسط بالنسبة للعالم .
- تقع في الشرق للوطن العربي .
- تقع شمال غرب للخليج العربي .
- منفذ شمال شرق لشبه الجزيرة العربية.
- معبر تجاري لخطوط الملاحة البحرية والبرية قديماً.



● **جزر دولة الكويت . ص ٢٧+٢٨**

- تسع جزر كويتية - ج. بوبيان أكبر الجزر - ج. فيلكا مأهولة بالسكان .
- ج. أم النمل تقع داخل جون الكويت وبالقرب من رأس عشيرج .

● **بنود اتفاقية الحماية البريطانية لدولة الكويت . ص ٤٧**

- التزام بريطانيا بحماية الكويت .
- عدم تنازل الشيخ مبارك وورثته عن بيع أو ايجار أو رهن أي جزء من إقليمه دون موافقة الحكومة البريطانية .



● **الإنجازات الداخلية للشيخ عبدالله السالم الصباح . ص ٤٩**



• الإنجازات الخارجية للشيخ عبدالله السالم . ص ٤٩



انضمام دولة الكويت لجامعة الدول العربية
عام ١٩٦١ م

انضمام دولة الكويت للأمم المتحدة
عام ١٩٦٣ م

• الإنجازات في عهد الشيخ مبارك الصباح. ص ٤٧

- التطور في كافة الجوانب الاقتصادية والاجتماعية والسياسية فأصبحت للكويت مكانة كبيرة

- توقيع اتفاقية الحماية مع بريطانيا عام ١٨٩٩م ببنود حافظت على سيادة الكويت.

موقع
المناهج الكويتية
almanahj.com/kw

تنوع الأزياء الشعبية لكل من الرجال والنساء في دولة الكويت . ص ٦٧

- الرجال : البشت / الغنرة / العقال / الدشداشة
- النساء : الثوب الدراعة العباية -البخنق - البرقع




أنواع الدشداشة الكويتية . ص ٦٨

- الشد
- الفاط
- الشلاح

تنوع الحرف القديمة في الكويت واختلافها بالنسبة للرجال والنساء. ص ٧٠-٧١

- الرجال : القلاف - الصايغ - النكاس - الخراز - النجار - الخواص - الحداد - البناي - الصفار - القفاص
- النساء : حياكة السدو - صناعة منتجات الألبان



أدوات الخواص . ص ٧٤

- الفطام
- الدين

أدوات الطواش . ص ٧٤

- الطوس
- الميزان

أكمل العبارات التالية بما يناسبها فيما درست

- أكبر الجزر الكويتية مساحة هي جزيرةبوبيان.... ص ٢٧
- عدد الجزر الكويتية٩.... جزر. ص ٢٧
- الجزيرة الكويتية التي تقع داخل الجون هي جزيرةام النمل.... ص ٢٨
- سهل يقع في جهة الغرب من دولة الكويت يسمىسهل الدبدبة.... ص ٣٠
- مناخ دولة الكويت مناخصحراوي.... . ص ٣٣
- الفترة الزمنية التي استقر بها آل صباح في شبة جزيرة قطر ٥٠ عام.... ص ٤١
- انتقل آل الصباح من منطقة الهدار إلى شبة جزيرة قطر بواسطةالجمال.... ص ٤١
- انتقل آل الصباح من شبة جزيرة قطر إلى الكويت بواسطةالسفن.... . ص ٤١
- دارت معركة الجهراء عام ١٩٢٠ م في .. القصر الأحمر .. . ص ٤٣
- شيد سور الكويت الثالث في عام .. ١٩٢٠ م .. . ص ٤٣
- المعركة البحرية التي حدثت في عهد الشيخ عبدالله بن صباح الرقة ص ٤٥
- الشيخ الذي حدثت في عهد معركة الجهراء هو سالم المبارك .. . ص ٤٥
- تم توقيع اتفاقيه الحماية لدولة الكويت مع بريطانيا عام .. ١٨٩٩ م .. . ص ٤٧
- الشيخ الذي استقلت دولة الكويت في عهده هوعبدالله السالم.... . ص ٤٩
- الاتفاقية التي حصلت بموجبها دولة الكويت على استقلالها .. الصداقة والتشاور .. . ص ٤٩
- العملة الكويتية التي أصدرت في عهد الشيخ عبدالله السالم هي .. الدينار .. . ص ٥٤
- أول تعداد سكاني تم إجراؤه في دولة الكويت كان في عام .. ١٩٥٧ م .. . ص ٥٦
- تزايد عدد السكان في دولة الكويت عام ١٩٤٦م بعد ظهور النفط ص ٥٦
- صانع السفن الصغيرة والكبيرة يسمى القلاف ص ٧٠
- يتم صناعة السفن في مكان يسمى النقعة ص ٧٠
- حياكة السدو وصناعة منتجات الألبان من حرف أهل البادية الخاصة .. بالنساء .. . ص ٧١
- رعي الأغنام من حرف أهل البادية الخاصة بالرجال .. . ص ٧١
- تاجر اللؤلؤ قديماً وله أدوات خاصة مثل الطوس والميزان يسمى الطواش ص ٧٣
- اعتمد المزارعون قديماً في ري مزروعاتهم على .. الآبار .. . ص ٧٥

- الشجرة الأكثر انتشاراً في الكويت قديماً تسمى **.. النخيل** .. ص ٧٦
- دمية توضع في المزارع لإبعاد الطيور عن المحاصيل الزراعية تسمى **.. المخيول** .. ص ٧٦
- أكثر المناطق لزراعة النخيل قديماً في الكويت منطقة **.. الجهراء** .. ص ٧٦
- الفخ والصلابة من الأدوات التي تستخدم في هواية **.. القنص** .. ص ٧٩
- لعبة شعبية تلعبها البنات باستخدام حجارا(ربازة) في مربعات ترسم على الأرض تسمى **.. الحجلة** .. ص ٨٢
- كلام موزون واضح المعنى يتداوله الناس ليعب عن حادث ما يسمى **.. المثل** .. ص ٨٥

عدد ما يلي :

عناصر الدولة. ص ١٦



الأرض - السلطة - الشعب -

• الاتجاهات الأصلية الأربعة . ص ٢٠

الجنوب - الغرب - الشرق - الشمال

• عناصر الخريطة . ص ٢١

عنوان الخريطة - مقاييس الخريطة - مفتاح الخريطة - اتجاه الشمال



• الألقاب التي حصل عليها الشيخ مبارك الصباح . ص ٤٧

- مبارك الكبير - أسد الجزيرة



• المحافظات الكويتية . ص ٥٨

العاصمة - حولي - الفروانية - مبارك الكبير - الجهراء - الاحمدي



• المناطق الزراعية في دولة الكويت قديما . ص ٧٥

- قرية الجهراء - جزيرة فيلكا - الفنتاس - الصبيحية

المناخ	الطقس
حالة الجو خلال فترة زمنية طويلة لا تقل عن ثلاثين عاماً. ص ٣٣	حالة الجو خلال فترة قصيرة من يوم الى أسبوع. ص ٣٣

الرأس	الخور
لسان من اليابس داخل الماء. ص ٢٨	لسان بحري ممتد داخل الأرض . ص ٢٢

الطواش	القلاف
تاجر اللؤلؤ قديماً وله أدوات خاصة به مثل (الطوس والميزان) . ص ٧٣	صانع السفن الصغيرة والكبيرة مثل البوم والسنبوك في النقعة . ص ٧٠

الزيادة غير الطبيعية	الزيادة الطبيعية
الزيادة الناتجة عن الهجرة. ص ٥٧	عدد المواليد – عدد الوفيات. ص ٥٧

ظلل أدوات صيد الطيور في الشكل التالي ص ٧٩



ظلل الأزياء الشعبية للرجال في الشكل التالي ص ٦٧




ظلل الحرف القديمة الخاصة بالنساء في الشكل التالي ص ٧١



صنف العبارات التالية إلى مكانها المناسب في الجدول الذي يليها



(الطوس – الفطام – الدينين – الميزان) ص ٧٤



أدوات الطواش	أدوات الغوص
- الطوس - الميزان	- الفطام - الدينين

موقع
المنهج الكويتية
almanahj.com/kw

- الإنجازات الداخلية والخارجية في عهد الشيخ عبدالله السالم الصباح .
(التصديق على الدستور – انضمام دولة الكويت لجامعة الدول العربية – انشاء ثانوية شويخ –
انضمام دولة الكويت لهيئة الأمم المتحدة) ص ٤٩

الأعمال الخارجية	الأعمال الداخلية
-انضمام دولة الكويت لجامعة الدول العربية - انضمام دولة الكويت لهيئة الأمم المتحدة	- التصديق على الدستور - انشاء ثانوية شويخ

(البشت – العباية – العقال – الثوب – البرقع – الدشداشة – البخنق) ص ٦٧

الملابس النسائية	الملابس الرجالية
- العباية - البخنق - الثوب	- البشت - العقال - الدشداشة



- أهمية موقع دولة الكويت. ص ٢٤
 - تحتل موقع متوسط بالنسبة للعالم
 - تقع بالجزء الشرقي للوطن العربي
 - المنفذ الشمالي الشرقي لشبه الجزيرة العربية
- هجرة العتوب من منطقة الهدار. ص ٤١
 - بسبب الجفاف والقحط.
- اختيار الشيخ صباح بن جابر أول حاكم لدولة الكويت. ص ٤٣
 - لأنه يتمتع بصفات قيادية
 - يمتاز بالحكمة والنظرة الثاقبة
- لقب الشيخ عبدالله السالم ب(أبو الاستقلال) . ص ٤٩
 - لأن في عهده حصلت الكويت على الاستقلال
- زراعة شجرة النخيل تنشر في دولة الكويت قديماً . ص ٧٦
 - يستفاد من سعفها في بناء سقوف المنازل
 - يستفاد من جذوعها في مواد النجارة والبناء
 - يستفاد من ثمارها (مصدر للغذاء)
- تصنع المخيول في المناطق الزراعية . ص ٧٦
 - لإبعاد الطيور عن المحاصيل الزراعية .

أكمل المخططات السهمية التالية

الفصول الأربعة ص 34

.. الصيف ..

.. الربيع ..

الشتاء

الخريف

السلطات في دولة الكويت ص 18

القضائية

.. التنفيذية ..

التشريعية

انجازات الشيخ عبدالله السالم الداخلية ص 49

افتتاح مجلس
الامة

وضع الدستور

بناء مستشفى
الصباح

افتتاح ثانوية
الشيوخ

محافظات الكويت ص 58

حولي

العاصمة

مبارك
الكبير

الفروانية

الأحمدي

الجهراء

أكتب طرق الصيد البري قديماً ص ٧٩



الصلابة



الفخ



الساليه

لاحظ الصور المقابلة ثم أجب على الأسئلة التالية

- ما ذا تتضمن الصورة ؟ النؤلؤ ص ٧٣
- في أي فصل تخرج سفن الغوص ؟ الصيد ص ٧٣
- عدد أدوات الغوص :
- القطام / الدين / الحجر الرصاص ص ٧٣
- أذكر طاقم العمل على السفينة :
- النوخذه / المجدمي / السيب / الطواش ص ٧٣



لاحظ الخريطة ثم أجب عن ما يليها من أسئلة ص ٢٣

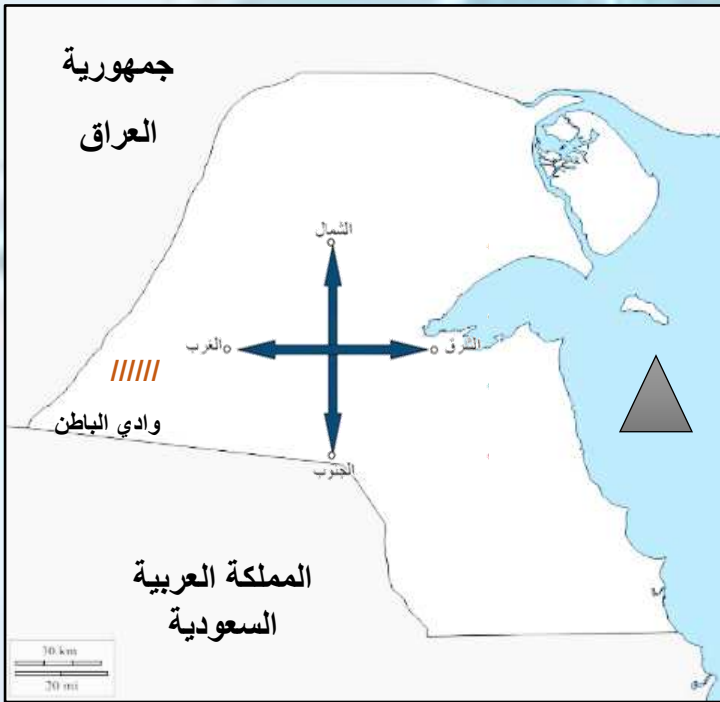


-مسطح مائي يحد دولة الكويت من جهة الشرق يسمى .. الخليج العربي ..

-دولة تقع في جهة الشمال والشمال الغربي لدولة الكويت .. العراق ..

-دولة تقع في جهة الجنوب والجنوب الغربي لدولة الكويت . المملكة العربية السعودية ..

أمامك خريطة دولة الكويت أكتب عليها ما يلي ص ٢١-٢٣



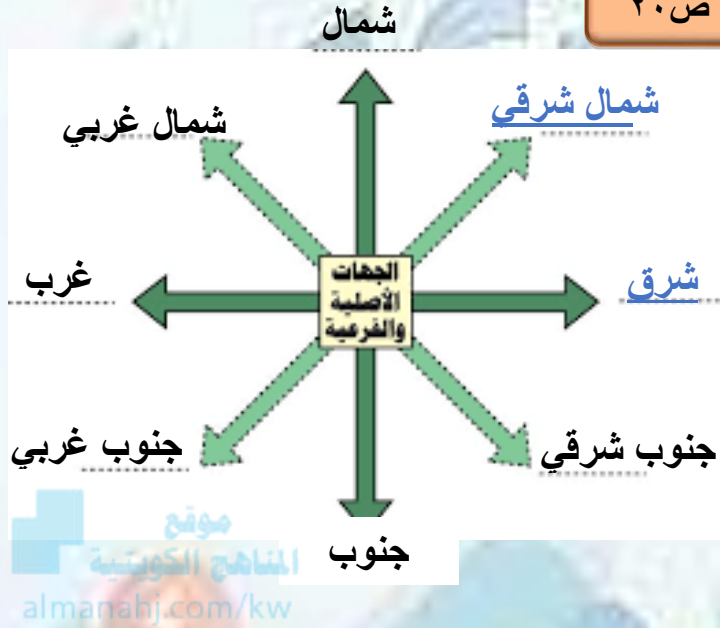
-الاتجاهات الرئيسية الأربعة على وطنك الكويت .

-ضع علامة ▲ على مياه الخليج العربي

-اكتب أسماء الدول المجاورة لدولة الكويت على الخريطة.

-ضع على الخريطة باستخدام الرمز /// وادي الباطن


لاحظ الشكل المقابل ثم أكمل المطلوب ص ٢٠



اختر من المجموعة (ب) ما يرتبط بالمجموعة (أ) بوضع الرقم ص ٥

م	المجموعة (أ)	الرقم المناسب	المجموعة (ب)
١	الشعار الأول لدولة الكويت	٢	
٢	الشعار الثاني لدولة الكويت	١	
٣	الشعار الثالث لدولة الكويت		
		٣	

أكمل المخطط الزمني التالي



أكتب العامل المشترك لمدلولات الصور التالية في المكان المناسب

ألعاب شعبية
ص ٨١ - ٨٣



حرف شعبية
ص ٧١




حيوانات بلادي
ص ٨٠



صنف الكلمات التالية إلى مكانها المناسب في الجدول الذي يليها بوضع الرقم فقط

أكتب أبرز الأحداث في عهد كل حاكم في الجدول الذي يليه ص ٤٥ + ص ٤٧ + ص ٤٩


١/ تحرير دولة الكويت ١٩٩١م / ٢/ قائد العمل الإنساني ٢٠١٤م / ٣/ اتفاقية مع بريطانيا ١٨٩٩م / ٤/ استقلال الكويت ١٩٦١م



٢	١	٣	٤
---	---	---	---

أكتب أسماء العملات المتداولة في دولة الكويت منذ النشأة في الجدول الذي يليه ص ٥٤

١/ الروبية الهندية - ٢/ البيزة - ٣/ أول عملة كويتية الدينار - ٤/ الإصدار السادس للدينار



٣	١	٤	٢
---	---	---	---

أكتب أسماء الألعاب الشعبية قديماً في دولة الكويت في الجدول الذي يليه ص ٨٢-٨٣



عماكور ص ٨٢	لعبة الذيب والغنم ص ٨٣	لعبة الحجلة ص ٨٢	لعبة الدرباحة ص ٨٢
-------------	------------------------	------------------	--------------------

من أنا ؟



تقلدت حكم البلاد وأصبحت الحاكم الحادي عشر
وحققت عدداً من الإنجازات الداخلية منها بناء
مستشفى الصباح وصدقت على الدستور ؟

الشيخ عبدالله السالم الصباح ص ٤٩ ، ٥٠

المطبخ الكويتية
almanahi.com/kw

أمارس هذه الحرفة قديماً
وأصنع المشغولات الجلدية ؟

الخراز ... ص ٧٠



أمارس هذه الحرفة قديماً وكنت
خير معين في إصلاح الرحي التي
تستخدم في طحن الحبوب ؟

النكاس ... ص ٧٠



أصبحت الحاكم السابع للبلاد وتطورت
الكويت في عهدي ووقعت اتفاقية الحماية في
عام ١٨٩٩م لصد الأعداء حتى لقبت بأسد
الجزيرة ص ٤٧

الشيخ مبارك الصباح ...



من أنا